



Jindal Vidya Mandir, Hill side Township

Periodic Test-1 Examination 2024-25

Set-A

Class:III/Sec: _____

Max Marks: 40M

Subject: English

Duration: 1hr 30min

Name: _____

Roll No: _____

Invigilator Sign: _____

Date: _____

General Instructions: This question paper contains 5 pages and 10 questions.

- It is divided into 4 Sections:
- All the questions are compulsory.

Section A - Reading

Section B- Writing

Section C - Grammar

Section D- Literature

SECTION A- READING

I. Read the following passage and answer the given questions: - 5X1=5M

An Airplane is a mode of transport. It takes people from one city or country to another. It is faster than any other form of transport. A pilot flies an Airplane. They control the plane from a cockpit. There are many stewards and air hostesses on a plane. They take care of all passengers. They give us food, drinks and snacks during the flight. Before takeoff, they give us instructions. This makes sure that we are all safe. Taking a flight is a great experience!

1. What does an airplane do?

2. What do the stewards and air hostesses do?

3. What happens before takeoff?

a. they give us instructions

b. they give us snacks

c. they give us clothes

d. they give us things

4. A pilot flies an Airplane. True/False
5. Write the opposite word of a. safe X _____

II. Read the poem and answer the questions:

5X1=5M

Autumn is the time of year
When changes start to happen here.
The days grow short. It's cold outside.
The birds fly south. The squirrels hide
The leaves fall off of all the trees.
The garden pond begins to freeze.
Another summer's left behind.
It's winter soon, But I don't mind.
For autumn is the time when I
Begin to dream of pumpkin pie.

1. What happens to the garden pond?

2. Where do the birds fly?

3. Which animal hides?

- | | |
|-------------|----------|
| a. squirrel | b. ant |
| c. dog | d. horse |

4. What falls off of the trees?

- | | |
|------------|-----------|
| a. flowers | b. seeds |
| c. fruits | d. leaves |

5. Which season comes before autumn?

- | | |
|-----------|-----------|
| a. rainy | b. winter |
| c. summer | d. spring |

SECTION B- WRITING

III. Write 5-6 sentence about your favourite season.

5M

IV. Complete the story with the words given in the box:

5X1=5M

victim	poison	tree	snake	dove
--------	--------	------	-------	------

A hunter saw a dove sitting among the branches of a _____. He wanted to kill the _____. So, he raised his bow and aim at the bird. He wanted to take a better aim. So, he stepped back a little. But unknowingly, he stepped on a snake. The _____ bit him in the leg. Soon the _____ spread in the whole body and he died. The dove as saved. It is true that if a person plans mischief to others, and he himself falls a _____ to it.

SECTION C – GRAMMAR

V. Fill in the blanks with the correct abstract noun form of the words in brackets.

3x1=3M

1. We must never tell lies or cheat anyone. _____ (honest) is the best policy.
2. _____ (proud) is one of the seven deadly sins.
3. My uncle has a lot of experience in life. I respect him for his _____ (wise).

VI. Write the plural form of the nouns for the given words:

6X1/2=3M

- a. baby _____ b. spoon _____ c. friend _____
d. glass _____ e. dress _____ f. fly _____

VII. Fill in the blanks with the correct plural forms of the words given in the box.

4X1=4M

deer	news	sheep	advice
------	------	-------	--------

1. The shepherd has lost all his _____ in the mountains.
2. The newspapers contain a lot of good and bad _____.
3. My father advised me to be honest. He always gives me a lot of _____.
4. There were many _____ in the park.

SECTION D – LITERATURE

VIII. Answer the following:

3X2=6M

1. Who appeared in the dark room one day?

2. Where did the pedlar live?

3. What stopped him from doing what he meant to do?

IX. Tick the correct option to complete the sentences:


4X1/2=2M

1. King Midas was a very rich man because he had
 - a. Many friends.
 - b. lots of gold.
 - c. good health.
 - d. an intelligent mind.
2. The gold was kept
 - a. in a safe.
 - b. in a shed.
 - c. in the king's cupboard.
 - d. in the dark room in the king's palace.
3. One day the pedlar told his wife, Last night, I had a
 - a. dream.
 - b. food.
 - c. trip.
 - d. news.
4. Every day, King Midas would
 - a. go for a walk.
 - b. look at his gold.
 - c. read to his daughter
 - d. meet the people of the kingdom.

X. Write true or false:

2X1=2M

1. 1. King Midas went on to become a wise and noble king. ()
2. 2. The pedlar went from one place to another, selling things. ()



Jindal Vidya Mandir, JSW Hill Side Township
Periodic Test -I (2024-25)

Set-A

Class: III / Sec: ____

Subject: Kannada

Student Name: _____

Invigilator's Sign: _____

Maximum Marks: 40

Duration: 1Hr 30min.

Date: _____

Roll No : _____

* ಸೂಚನೆ:-ಪತ್ರಿಕೆಯು A ಮತ್ತು B ಎಂಬ ಎರಡು ಭಾಗಗಳನ್ನು ಒಳಗೊಂಡಿರುತ್ತದೆ.

* ಪ್ರಶ್ನೆ ಪತ್ರಿಕೆಯಲ್ಲಿ ಒಟ್ಟು 12 ಮುಖ್ಯ ಪ್ರಶ್ನೆಗಳಿವೆ ಮತ್ತು 6 ಪುಟಗಳನ್ನೊಳಗೊಂಡಿದೆ.

* ಎಲ್ಲಾ ಪ್ರಶ್ನೆಗಳಿಗೂ ಕಡ್ಡಾಯವಾಗಿ ಉತ್ತರಿಸಿ.

ವಿಭಾಗ -A

I. ಈ ಕೆಳಗಿನ ಪಠ್ಯೇತರ ಗದ್ಯಭಾಗವನ್ನು ಓದಿ, ಈ ಕೆಳಗಿನ ಪ್ರಶ್ನೆಗಳಿಗೆ ಬಹು ಆಯ್ಕೆ ಉತ್ತರಗಳ ಸಹಾಯದಿಂದ ಉತ್ತರಿಸಿ: 3X1=3
ಅದು ಒಂದು ಸರಕಾರಿ ಶಾಲೆ, ಆ ದಿನ ನವೆಂಬರ್ 14, ಜವಹರಲಾಲ್ ನೆಹರು ರವರ ಜನಮ ದಿನದ ಆಚರಣೆ. ಶಾಲೆಯ ತುಂಬ ಆ ದಿನ ಸಡಗರವೋ ಸಡಗರ. ರಹೀಮನು ಹೂವು ತಂದನು. ರಾಜನು ಮಾಲೆ ಮಾಡಿದನು. ನೆಹರು ಅವರ ಪಟವು ಹೂಮಾಲೆಯಿಂದ ಕಂಗೊಳಿಸಿತು. ಶಾಂತಾರಾಮನು ದೇವರನಾಮ ಹಾಡಿದನು. ನಾರಾಯಣ ಗುರುಗಳು ದೀಪ ಬೆಳಗಿದರು. ರೂಪ, ದೀಪ, ಫಾತಿಮಾ, ನಿಸಾರ್ ಹಾಗೂ ಸೀತಾ ಆ ದಿನದ ಆಚರಣೆ ಕುರಿತು ಭಾಷಣ ಮಾಡಿದರು. ಸಹನಾ ಕಥೆ ಹೇಳಿದಳು. ರಜನಿ ತಾನೇ ಬರೆದ ಕವಿತೆ ಓದಿದಳು. ಗುರುಗಳಾದ ನಾರಾಯಣ ಅವರು "ನೆಹರು ಅವರು ಭಾರತದ ಕೀರುತಿ ಪುರುಷರು. ಬಡವರ ಬಂಧು. ದೇಶದ ನೇತಾರರು, ಪುಟಾಣಿಗಳ ಮಮತೆಯ ಚಾಚಾ, ಅವರಿಗೆ ಗುಲಾಬಿ ಎಂದರೆ ತುಂಬಾ ಸೊಗಸು" ಎಂದು ಪಂಡಿತ್ ಜವಹರಲಾಲ್ ನೆಹರೂ ರವರ ಗುಣಗಾನ ಮಾಡಿದರು. ಪೀಟರ್ ವಂದಿಸಿದನು. ಮಾನಸ ಸಿಹಿ ತಿಂಡಿ ಹಂಚಿದಳು.

ಪ್ರಶ್ನೆಗಳು:

1. ಆ ದಿನ _____, ಜವಹರಲಾಲ್ ನೆಹರು ರವರ ಜನಮ ದಿನದ ಆಚರಣೆ.

(i) ನವೆಂಬರ್ 12 (ii) ನವೆಂಬರ್ 14 (iii) ಅಕ್ಟೋಬರ್ 2 (iv) ಸೆಪ್ಟೆಂಬರ್ 14

2. ನೆಹರು ಅವರ ಪಟವು _____ ಕಂಗೊಳಿಸಿತು.

(i) ಕನ್ನಡಿಯಂತೆ (ii) ಹೂದಾನಿಯಂತೆ (iii) ಹೂಮಾಲೆಯಿಂದ (iv) ಹೂ ಮಳೆಯಂತೆ

3. ಜವಹರಲಾಲ್ ನೆಹರೂ ರವರನ್ನು ಪುಟಾಣಿಗಳು _____ ಎಂದು ಕರೆಯುತ್ತಿದ್ದರು.

(i) ಚೆನ್ನ (ii) ಚಂಪ (iii) ಚೆನ್ನ (iv) ಚಾಚಾ

II. ಈ ಕೆಳಗಿನ ಪಠ್ಯದಲ್ಲಿನ ಪರಿಚಿತ ಗದ್ಯಭಾಗವನ್ನು ಓದಿ, ಕೊಟ್ಟಿರುವ ಪ್ರಶ್ನೆಗಳಿಗೆ ಬಹು ಆಯ್ಕೆ ಉತ್ತರಗಳ ಸಹಾಯದಿಂದ

ಉತ್ತರಿಸಿ:

4X1=4

ಬೀರೂರಿನಲ್ಲಿ ರಾಮಣ್ಣ ಎಂಬ ಕಟ್ಟಿಗೆ ವ್ಯಾಪಾರಿಯು ವಾಸಿಸುತ್ತಿದ್ದನು. ಅವನು ತುಂಬಾ ಬಡವನಾಗಿದ್ದನು. ಅವನು ಪ್ರತಿ ದಿನ ಬೆಳಗ್ಗೆ ಕಾಡಿಗೆ ಹೋಗಿ ಒಣ ಮರವನ್ನು ಕಡಿದು ತರುತ್ತಿದ್ದನು. ಪೇಟೆಯಲ್ಲಿ ಮಾರಿ ಜೀವನ ನಡೆಸುತ್ತಿದ್ದನು. ಅವನು ಎಂದೂ ಹಸಿ ಮರವನ್ನು ಕಡಿದವನಲ್ಲ. ಇದಕ್ಕಾಗಿ ಇವನಿಗೆ ವನದೇವತೆಯು ಅಕ್ಷಯ ಪಾತ್ರೆಯನ್ನು ನೀಡಿದಳು. ಇದರಿಂದ ರಾಮಣ್ಣ ಶ್ರೀಮಂತನಾದನು.

* ಪ್ರಶ್ನೆಗಳು:

1. ರಾಮಣ್ಣ _____.

(i) ಕಟ್ಟಿಗೆ ವ್ಯಾಪಾರಿ (ii) ಬಣ್ಣದ ವ್ಯಾಪಾರಿ (iii) ಕನಕಾಂಬರ ವ್ಯಾಪಾರಿ (iv) ಖರ್ಜೂರ ವ್ಯಾಪಾರಿ

2. ರಾಮಣ್ಣ _____ ವಾಸಿಸುತ್ತಿದ್ದನು.

(i) ಕಡೂರು (ii) ಬೀರೂರು (iii) ಮಂಗಳೂರು (iv) ಚಿಕ್ಕಮಗಳೂರು

3. ರಾಮಣ್ಣ _____ ಕಾಡಿಗೆ ಹೋಗುತ್ತಿದ್ದನು.

(i) ರಾತ್ರಿ (ii) ಮಧ್ಯಾಹ್ನ (iii) ಸಂಜೆ (iv) ಬೆಳಿಗ್ಗೆ

4. ವನದೇವತೆ ರಾಮಣ್ಣನಿಗೆ _____ ನೀಡಿದಳು.

(i) ಅಕ್ಷರ ಪಾತ್ರೆ (ii) ಅಮರ ಪಾತ್ರೆ (iii) ಅಕ್ಷಯ ಪಾತ್ರೆ (iv) ಬಂಗಾರ

III. ಈ ಕೆಳಗಿನ ಪಠ್ಯಾಧಾರಿತ ಗದ್ಯಭಾಗವನ್ನು ಓದಿ, ಈ ಕೆಳಗಿನ ಪ್ರಶ್ನೆಗಳಿಗೆ ಬಹು ಆಯ್ಕೆ ಉತ್ತರಗಳ ಸಹಾಯದಿಂದ ಉತ್ತರಿಸಿ. 3X1=3

ಹಿಂದೆ ನಮ್ಮ ದೇಶವನ್ನು ಬ್ರಿಟಿಷರು ಆಳುತ್ತಿದ್ದರು. ದೇಶದ ಸ್ವಾಭಿಮಾನಿ ಜನರು ಗಾಂಧೀಜಿಯವರ ನೇತೃತ್ವದಲ್ಲಿ ಅವರ ವಿರುದ್ಧ ಹೋರಾಡಿ ಸ್ವಾತಂತ್ರ್ಯ ತಂದುಕೊಟ್ಟರು. ಅವರ ದೇಶಾಭಿಮಾನ, ತ್ಯಾಗ ಹಾಗೂ ಬಲಿದಾನದಿಂದ ೧೯೪೭ ಆಗಸ್ಟ್ ೧೫ ರಂದು ನಮ್ಮ ದೇಶ ಸ್ವತಂತ್ರವಾದ ಸವಿ ನೆನಪಿಗೆ ಪ್ರತಿ ವರ್ಷ ದೇಶಾದ್ಯಂತ ಆಚರಿಸುವ ಹಬ್ಬವೇ ಸ್ವಾತಂತ್ರ್ಯ ದಿನಾಚರಣೆ. ಇದು ನಮ್ಮ ರಾಷ್ಟ್ರೀಯ ಹಬ್ಬವು ಹೌದು.

ಪ್ರಶ್ನೆಗಳು:

1. ಸ್ವಾತಂತ್ರ್ಯ ದಿನಾಚರಣೆಯು _____ ಹಬ್ಬ.

(i) ಬ್ರಿಟಿಷರ (ii) ಊರ (iii) ನಾಡ (iv) ರಾಷ್ಟ್ರೀಯ

2. _____ ನೇತೃತ್ವದಲ್ಲಿ ಬ್ರಿಟಿಷರ ವಿರುದ್ಧ ಹೋರಾಡಿದರು.

(i) ಬ್ರಿಟಿಷರು (ii) ಗಾಂಧೀಜಿ (iii) ಜನರ (iv) ಸ್ವಾಭಿಮಾನದ

3. ನಮ್ಮ ದೇಶ ಸ್ವಾತಂತ್ರ್ಯವಾದ ವರ್ಷ _____.

(i) ೧೮೪೭ (ii) ೧೭೪೭ (iii) ೧೯೭೪ (iv) ೧೯೭೪

IV. ಈ ಕೆಳಗಿನ ಚಿತ್ರವನ್ನು ಗಮನಿಸಿ ,ನಾಲ್ಕೈದು ವಾಕ್ಯಗಳನ್ನು ಬರೆಯಿರಿ:

1X3=3



V.ಈ ಕೆಳಗಿನ ಪದಗಳನ್ನು ಅನುಕ್ರಮವಾಗಿ ಜೋಡಿಸಿ ವಾಕ್ಯವನ್ನು ರಚಿಸಿರಿ :

3X1=3

1) ಕೈತೋಟದಲ್ಲಿ / ಶಾಲೆಯ/ ಹೂ/ ಗಿಡಗಳಿವೆ

ಉತ್ತರ _____.

2) ಸಮವಸ್ತ್ರ /ಮಕ್ಕಳು/ ಧರಿಸಿ/ಬಂದರು/ ಶಾಲೆಗೆ

ಉತ್ತರ _____.

3) ಮಕ್ಕಳು/ ಸಾಂಸ್ಕೃತಿಕ /ನಡೆಸಿಕೊಟ್ಟರು / ಕಾರ್ಯಕ್ರಮ

ಉತ್ತರ _____.

1X4=4

- [illegible]

VII. ವಸ್ತುನಿಷ್ಠ ಪ್ರಶ್ನೆಗಳು:-

$$6 \times 1 = 6$$

- Page 4 of 6

4. ಧ್ವಜ _____ (ಈ ಪದದ ಸಮಾನಾರ್ಥಕ ಪದ)

(i) ಪತಾಕೆ (ii) ಪ್ರಗತಿ (iii) ಪೆಟ್ಟು (iv) ದಿಜ

5. ಅತಿವೃಷ್ಟಿ : _____ (ಈ ಪದದ ಅರ್ಥ)

(i)ಮಿತಿಮೀರಿದ ಮಳೆ (ii) ಮಿತಿಮೀರಿದ ಬಿಸಿಲು (iii) ಮಿತಿಮೀರಿದ ಹೊಗೆ (iv)ಮಿತಿಮೀರಿದ ಧೂಳು

6. ಬೋಳು + ಆಯ್ತು = _____ (ಕೂಡಿಸಿ ಬರೆಯಿರಿ) .

(i) ಬೇಲಾಯ್ತು (ii) ಬೋಲಾಯ್ತು (iii) ಬೀಲಾಯತು (iv) ಬೋಳಾಯ್ತು

VIII. ಈ ಕೆಳಗಿನ ಪದಗಳನ್ನು ಬಳಸಿ ಸ್ವಂತ ವಾಕ್ಯ ರಚಿಸಿ:

2X1=2

1. ತೋರಣ = _____.

2. ಸಮವಸ್ತ್ರ = _____.

IX. ಈ ಕೆಳಗಿನ ಪದಗಳಲ್ಲಿ ಸಜಾತಿ ಒತ್ತಕ್ಷರ ಹಾಗೂ ವಿಜಾತಿ ಒತ್ತಕ್ಷರ ಪದಗಳನ್ನು ಗುರುತಿಸಿ, ಹೆಸರಿಸಿ:

2X1=2

1. ಪ್ರಾಣ: _____.

2. ಕಟ್ಟಿಗೆ: _____.

X. ಈ ಕೆಳಗಿನ ಪ್ರಶ್ನೆಗಳಿಗೆ ಒಂದು ವಾಕ್ಯದಲ್ಲಿ ಉತ್ತರಿಸಿ:

4X1=4

1. ಮಾನವ ಯಾರನ್ನು ಅಂಜುಬುರುಕ ಪ್ರಾಣಿ ಎಂದು ಹೇಳಿದನು?

ಉತ್ತರ: _____

2. ಜಂಭದ ಕೋಳಿ ಯಾರು?

ಉತ್ತರ: _____

3. ಕಸ್ತೂರಿಯು ಏನನ್ನು ಕೊಂಡನು?

ಉತ್ತರ:_____

4. ಯಾರು ಕ್ಷಮೆ ಕೋರಿದರು?

ಉತ್ತರ:_____

XI . ಈ ಕೆಳಗಿನ ಮಾತನ್ನು ಯಾರು - ಯಾರಿಗೆ ಹೇಳಿದರು?

1X2=2

1. "ನಮ್ಮ ಶಾಲೆಯಲ್ಲೂ ಆಚರಿಸುತ್ತೇವಲ್ಲ ಸರ್"

ಉತ್ತರ:_____

XII. ಈ ಕೆಳಗಿನ ಪ್ರಶ್ನೆಗಳಿಗೆ ಎರಡು-ಮೂರು ವಾಕ್ಯಗಳಲ್ಲಿ ಉತ್ತರಿಸಿ:

2X2=4.

1. ಮೊಲವು ಮಾನವನನ್ನು ಅವಿವೇಕಿ ಎಂದು ಹೇಳಿದ್ದು ಏಕೆ?

ಉತ್ತರ:_____

2. ಮಂತ್ರಿ ಮಂಡಲದ ಸಭೆಯಲ್ಲಿ ಯಾವುದರ ಬಗ್ಗೆ ಚರ್ಚಿಸುತ್ತಿದ್ದರು?

ಉತ್ತರ:_____



Jindal Vidya Mandir, JSW Hill Side Township

Periodic Test-I (2024-25)

Class/Sec : III---

Max. Marks : 40

Sub : Hindi (III Lang)

Duration : 1:30Hrs

Name :-----

Roll No. :

Date :

Set-A

Invigilator's Sign. :

General Instructions:

- सभी प्रश्न अनिवार्य हैं।
- प्रश्नों की कुल संख्या छह है।
- यह प्रश्न - पत्र चार खंड में बाँटा हुआ है क, ख, ग और घ

खंड - क (अपठित गद्यांश)

1 दिए गए गद्यांश के पूछे गए प्रश्नों के लिए उचित उत्तर छाँटकर लिखिए- 5x1=5

अमित की राशन की दुकान थी। उसकी दुकान पर दालें, चावल और आटे से लेकर नमकीन, बिस्कुट आदि सब कुछ मिलता था। ऐसी कोई चीज न होगी जो उसकी दुकान पर न मिलती हो। एक बार दुकान पर रखी शहद की बोतल उलट गई। चारों ओर से कई मक्खियाँ उस बिखरे शहद पर टूट पड़ीं। सब कुछ भूलकर वे शहर चाटने लगीं। वे शहद चाटने में इतनी मगन हो गईं कि उन्हें पता ही नहीं चला कि कब उनके पैर शहद में चिपक गए। अब उनके लिए उड़ना मुश्किल हो गया। उन्हें अपने लालच पर पछतावा होने लगा।

प्रश्न 1 अमित की किस चीज की दुकान थी ?

क) कपड़े की

ख) राशन की

उत्तर -----

प्रश्न 2 अमित की दुकान पर मिलने वाली कोई दो चीजों के नाम लिखे ?

क) दालें, चावल

ख) साइकिल, पंखे

उत्तर -----

प्रश्न 3 अमित की दुकान में किस चीज की बोतल उलट गई थी ?

क) नींबू पानी की

ख) शहद की

उत्तर-----

प्रश्न 4 किस को लालच का पछतावा होने लगा ?

क) मक्खियों को

ख) अमित को

उत्तर-----

प्रश्न 5 शहद में मक्खियों का क्या चिपक गया था?

क) पैर

ख) पंख

उत्तर-----

खंड - ख (व्याकरण भाग)

2 निम्नलिखित व्याकरण के प्रश्नों के उत्तर दीजिए:

(15 M)

प्रश्न 1 नीचे लिखी भाषाओं को सही प्रांत के साथ मिलान करें-

1

क) गुजरात

तमिल

ख) तमिलनाडु

गुजराती

प्रश्न 2 नीचे दिए गए संज्ञा शब्दों को सही स्थान पर लिखिए-

2

(मेज, लड़का, शेर, कार)

क) वस्तु का नाम -----

ख) प्राणी का नाम-----

प्रश्न 3 नीचे दिए गए शब्दों को उचित लिंग शब्द से मिलान करें-

1

- | | |
|--------|------|
| 1 बेटा | रानी |
| 2 राजा | दादी |
| 3 दादा | पिता |
| 4 माता | बेटी |

प्रश्न 4 नीचे दिए गए शब्दों के उचित वचन शब्द पर सही का निशान लगाए-

1

क) मेला = मेले / माली

ख) पुस्तक = पुस्तिकाएं / पुस्तकें

प्रश्न 5 संयुक्त व्यंजन पहचानकर लिखे-

1

(क्ष , त्र , य , र)

उत्तर -----

प्रश्न 6 नीचे दिए गए शब्दों के लिए उचित विलोम शब्द छाँटकर लिखिए-

2

क) जीत = _____ (हार \ मना)

ख) नया = _____ (फटा \ पुराना)

प्रश्न 7 नीचे दिए गए पर्यायवाची शब्दों के लिए उचित शब्द छाँटकर लिखिए-

2

(दिवस , जल , वार , नीर)

क) पानी = -----

ख) दिन = -----

प्रश्न 8 नीचे दी गई मात्रा के दो-दो शब्द लिखे-

2

क) ई (ी) = _____

ख) ए (े) = _____

प्रश्न 9 शब्दों को सही क्रम में लगाकर वाक्य बनाइए-

1

रहा है मोर नाच | = _____

प्रश्न 10 शब्दों को शुद्ध करके लिखे

2

क) तबला = _____ ख) मकल = _____

खंड - ग (पठित भाग)

3 नीचे लिखे प्रश्नों के उत्तर लिखिए-

2x2=4

क) मक्खी ने शेर से क्या कहा ?

उत्तर _____

ख) कक्कू कौन है ? ठिठोली करने पर वह क्या करता है ?

उत्तर _____

4 नीचे दिए प्रश्नों के लिए दो से तीन वाक्यों में उत्तर लिखें-

2x3=6

क) हाथी ने मक्खी को प्रणाम क्यों किया ?

उत्तर _____

ख) बच्चे कक्कू को झक्कू क्यों कहते हैं ?

उत्तर -----

खंड - घ (लिखित भाग)

5 नीचे लिखे विषय पर पाँच - छह वाक्य पर अनुच्छेद लिखें-

5

मेरी प्रिय पुस्तक अथवा मेरा परिचय

उत्तर -----

6 नीचे दिए गए चित्र का वर्णन पाँच - छह वाक्य में वर्णन करें-

5



उत्तर -----



Jindal Vidya Mandir, JSW Hill Side Township

Periodic Test-I (2024-25)

Class/Sec: III/

Set-A

Max. Marks: 40

Sub: Mathematics

Duration: 1 hr 30 min

Name : _____

Roll No. : _____

Date : _____

Invigilator's Sign. : _____

General Instructions:

- This Question paper consists of two sections A and B. Section A is objective type and section B is subjective type.
- All questions are compulsory.

Part A

A) Choose the correct option.

(5 x 1M=5M)

1. 4869 when rounded off to the nearest 100's becomes:
i) 4870 ii) 4900 iii) 4100 iv) 5000
2. 12 more than 4709?
i) 4710 ii) 4721 iii) 4821 iv) 4700
3. Compare using the correct symbol. 7554 _____ 7754.
4. $4645 + \underline{\quad} = 4645$
i) 0 ii) 4645 iii) 1 iv) 4642
5. Find the face value of 8 in the number 2684.
i) 8 ii) 80 iii) 800 iv) 8000.

B) Match the following:

(5x 1M=5M)

S.no	Column A	Column B	Answer
6	Even numbers	1310	
7	Just before of 5056	1000	
8	When zero added to a number, the sum is	Ends with 2,4,6,8,0	
9	Smallest 4 digit number	5055	
10	One thousand three hundred ten	The Number itself	

C) Solve the following:

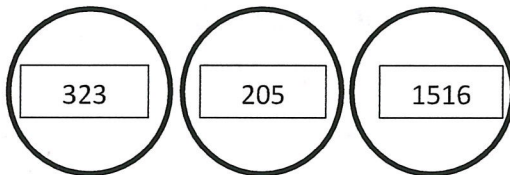
(5x 2M=14M)

11. Fill the missing number.

i. 1249 _____, _____, 1252, 1253.

ii. Colour the correct answer.

101 added to 222



12. Write the predecessor of the following numbers.

i. 9315= _____

ii. 1767= _____

13. Write in numerals/ number name of the following:

i. One thousand four hundred sixty-seven _____.

ii. 2153 _____.

14. Find the place value and face value of the underlined numbers.

S no	number	Place value	Face value
i.	6 <u>1</u> 56		
ii.	<u>2</u> 685		

15. Round off the number 1108 to the

i. nearest 10's _____.

ii. nearest 100's _____.

Part B

D) Solve the following:

(7x 2M=10M)

16. Rewrite the following numbers in descending order.

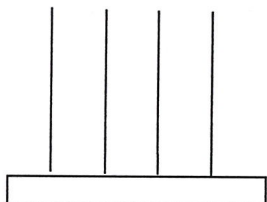
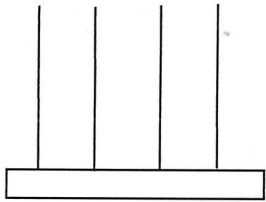
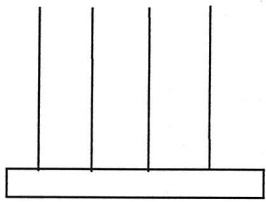
i. 1759, 1638, 1854, 1010

E) Solve the following:

(2x 3M=6M)

23. 3221 men, 2571 women and 565 children live in HST township. What is the population of township? Write your answer in words also.

4. Show the following numbers on the abacus by drawing beads. Use a different colour for each place value.

<p>i. 6709</p> 	<p>ii. 9761</p> 	<p>iii. 5610</p> 
--	---	--

ii. 5196, 5438, 5695, 5565

17. Add- 2 thousands 4 hundreds 5 tens 7 ones and 3 thousands 5 hundreds 2 tens 8 ones.

18. Add 1023 and 2551 horizontally.

19. Count forward and write the next five numbers.

i. 8996 _____.

ii. 1228 _____.

20. List down all even numbers from 6000 to 6020.

21. Write an expanded form of given numbers.


i. 4703 _____

ii. 2465 _____

22. Write the missing digits in the box.

+	Th	H	T	o
	4		3	5
	2	6		2
		7	8	7

+	Th	H	T	o
	1	6	2	
	7			2
		9	6	7



Jindal Vidya Mandir, JSW Hill Side Township
Periodic Test-I (2024-25)

Class/Sec: III/_____

SET-A

Max.Marks: 40

Sub: EVS

Duration: 1 hr 30 min

Name: _____

Date: _____

Roll No: _____

Invigilator's sign : _____

General instructions:

- This question paper contains 5 pages and 29 questions.
 - It has two sections, A and B. Section A has objective questions and section B has subjective questions.
 - All the questions are compulsory.
-

SECTION-A

I. Choose the correct option from the following:

5X1M=5M

1. Two children born together to the same mother are called _____.

i. twins

ii. cousins

iii. siblings

2. A type of work people do to earn money for their living is called _____ .

i. an occupation

ii. a hobby

iii. training

3. _____ is used by visually impaired people to read.

i. sign language

ii. braille

iii. prosthetics

4. Which of the following determines the kind of work people do?

i. needs

ii. skills

iii. both of these

5. NGO stands for

i. Non-Governmental Organization

ii. New-Governmental Organization

iii. Non-Governmental Office

II. Fill in the blanks:

5X1M=5M

6. A family in which only parents and their children live together is called a _____ family.
7. A person who treats sick people is called a _____.
8. I am a boy. I am my father's _____.
9. A natural ability to do something is called _____.
10. Each type of occupation requires specific _____ and training.

III. Match the following :

5X1M=5M

Column – A	Column – B	
11. Carrrom	a) free time	()
12. Leisure	b) electronic games	()
13. Picnic	c) indoor games	()
14. Computer games	d) outdoor games	()
15. Badminton	e) outdoor recreation	()

IV. Write true or false against the following sentences:

5X1M=5M

16. Children of our aunts and uncle are our siblings. ()
17. Twins are always identical. ()
18. An ophthalmologist is a doctor who treats problems of the eyes. ()
19. Visually impaired people take the help of a scribe to write exams. ()

20. Olympic games are organized once in every four years. (_____)

SECTION-B

V. Answer the following questions in two sentences:

4X2M=8M

21. Name two different kinds of families.

22. Mention any two recreational activities of your family?

23. What does a guide dog do?

24. How sign language is useful?

VI. Give reasons for the following statements:

3X2M=6M

25. It is very important to help elderly people.

26. Active recreation participation is important in everyone's life.

27. Government is providing free mid-day meals for children.

VII. Answer the following questions:

2X3M=6M

28. Give the full forms of the following abbreviation:

a. ILO

b. SSA

c. UNICEF

29. Draw your paternal family tree diagram.

