



Jindal Vidya Mandir, JSW Hill Side Township
Periodic Test-I 2024-25

Set - A

Class: II/Sec: _____

Sub: English

Name: _____

Invigilator's Signature: _____

Max Marks:20

Duration: 1 hour

Roll no: _____

Date: _____

General Instructions:

- This question paper is printed in 5 pages.
- It has 8 main questions.
- Section A – Reading, Section B- Writing, Section C – Grammar, Section D- Literature
- All the questions are compulsory.

Section-A (Reading)

I. Read the given passage and answer the questions.

1X3=3

Rohit likes to play in the rain. When it rains, he put on his raincoat and boots. He goes outside. Rohit splashes in the puddles. He uses his umbrella and jumps in the rain. Rohit assumes that he is a duck and pretends to swim.

1. Rohit assumes he is a _____

[duck / frog]

2. Rohit likes to _____

[play in rain / run after the dog]

3. Write opposite word for inside X _____

Section-B (Writing)

II. Look at the picture and complete the composition.

$\frac{1}{2} \times 6 = 3$

happy, food, father, family, shining, picnic



1. This is Sharma's _____.
2. They have come for a _____.
3. The sun is _____ in the sky.
4. The elder brother is sitting beside to his _____.
5. They are enjoying their _____.
6. All of them are _____.

Section-C (Grammar)

III. Underline the "Common nouns" and circle the "Proper nouns". $\frac{1}{2} \times 4 = 2$

1. My sister is studying in Germany.
2. Ranjan is sitting under a tree.
3. Mumbai is one of the biggest city in my country.
4. Rahul is my best friend.

IV. Write the Common and Proper nouns given in the box on the correct side.

$\frac{1}{2} \times 4 = 2$

Common Nouns

Jackal

Italy

Govind

mango

Proper Nouns

V. Segregate the "Countable" and "Uncountable" nouns from the box and write in the correct column.

$\frac{1}{2} \times 6 = 3$

cocount, oil, milk, chair, sugar, cake

Countable Nouns	Uncountable Nouns

Section-D (Literature)

VI. Read the extract and answer the questions.

1X3=3

Little birds stand on one leg and tuck their heads away;
Chickens do the same, standing on their perch;
Little mice lie soft and still, as if they were in church;
Kittens curl up close in such a funny ball;

A. Tick the right options to answer these questions.

1. These stand on one leg and sleep.

- a. kittens b. little birds c. dogs d. cats

2. These curl up in a heap.

- a. kittens b. cows c. dogs d. cats

B. Write a pair of rhyming words from the poem extract

Ans: _____

VII. Write "True" or "False" for the given below:

1X2=2

1. The trader is very cruel. _____
2. Bukka breaks off branches with nests. _____

VIII. Answer the following questions.

1X2=2

1. Why does the camel put its head inside the tent?

Ans: _____

2. What do you learn from the lesson "Bukka learns a lesson"?

Ans: _____

Periodic Test- 1 (2024-25)

Class : II /Sec:

Max. Marks : 20

Sub :Hindi (II Lang.)

Duration : 1 hr .

Name : _____

Roll No. : _____

Date : _____

Set-A

Invigilator's Sign:_____

General Instructions:

- 1) सभी प्रश्नों को हल करना अनिवार्य है।
- 2) कुल प्रश्न संख्या 8 है।

प्रश्न 1) अपठित गद्यांश को पढ़कर सही उत्तर लिखो -

3X1=3

एक बंदर बहुत शरारती था । वह लोगों के घरों में जा कर बहुत उधम मचाता था । कभी किसी का मुँह नोच लेता था तो कभी किसी को काट जाता था । एक दिन उसने पानी से भरा बर्तन देखा ।

(1) बंदर कैसा था ?

- (क) अच्छा (ख) बड़ा
(ग) शरारती (घ) गुलाबी

(2) एक दिन बंदर ने बर्तन में क्या देखा ?

- (क) पानी (ख) घड़ी
(ग) खिलौना (घ) किताब

(3) बंदर लोगों के घरों में जा कर क्या करता था ?

- (क) खाता (ख) उधम मचाता
(ग) बैठ (घ) नाचता

प्रश्न II) दिए गए शब्दों के समानलय वाले शब्द लिखिए-

4X1=4

क) लाते ----- ख) फूली -----

ग) आला ----- घ) जाती -----

प्रश्न III) दिए गए शब्दों के सही विलोम शब्द चुनकर लिखिए -

2X1=2

क) छोटा x _____ (घर / बड़ा)

ख) लड़का x _____ (लड़की / नीचे)

प्रश्न IV) वाक्यों को पढ़ कर जवाब दें, किसने कहा -

2X1=2

1) हम पर तो जैसे धूल ही जम गयी है ?

क) मनु ख) किताब

2) चलो, क्यों न मीठे-मीठे आम खाए जाएँ ?

क) मीठू ख) मनु

प्रश्न V) नीचे दिए गए प्रश्नों के उत्तर एक वाक्य में दीजिये-

2X1=2

क) कौरा कहाँ रहता था ?

उ.

ख) साँवरी का मनपसंद खाना क्या था ?

उ.

प्रश्न VI) वर्ग पहेली में से ढूँढ कर कोई तीन पंछी के नाम लिखिए -

3X1=3

तो	च	मै	ना
ता	कौ	स	ला
ब	आ	म	ब
ल	चि	ड़ि	या

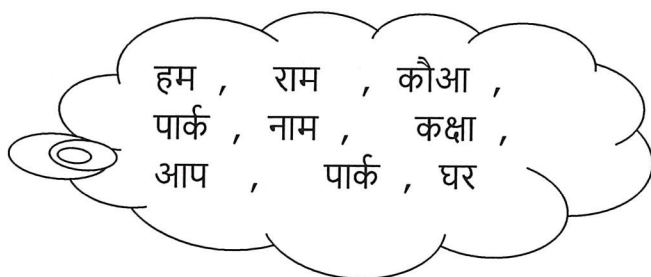
1) _____

2) _____

3) _____

प्रश्न VII) संज्ञा शब्दों को छोट कर लिखिए -

2X1=2



1) _____ 3) _____

2) _____ 4) _____

प्रश्न VIII) नीचे दिए गए चित्र को देख कर 2 वाक्यों में वर्णन करें-

2X1=2





Jindal Vidya Mandir, JSW Hill Side Township

Periodic Test- 1 (2024-25)

SET-A

Class : II/ Sec : _____

Subject : Kannada

Name : _____

Invigilator's Sign : _____

Duration: 1Hr

Max. Marks :20

Roll No. : _____

Date : _____

ಸೂಚನೆಗಳು

- ಈ ಪತ್ರಿಕೆಯು A ಮತ್ತು B ಎಂಬ ಎರಡು ಭಾಗಗಳನ್ನು ಒಳಗೊಂಡಿರುತ್ತದೆ .
- ಪ್ರಶ್ನೆ ಪತ್ರಿಕೆಯು ಒಟ್ಟು ಎಂಟು ಮುಖ್ಯ ಪ್ರಶ್ನೆಗಳು ಹಾಗೂ ನಾಲ್ಕು ಪುಟಗಳನ್ನು ಒಳಗೊಂಡಿರುತ್ತದೆ .
- ಪ್ರತಿಯೊಂದು ಪ್ರಶ್ನೆಗಳ ಸೂಚನೆಗಳನ್ನು ಸರಿಯಾಗಿ ಓದಿಕೊಂಡು ಉತ್ತರಿಸಿ.

ಭಾಗ-A

I. ಈ ಕೆಳಗಿನ ಪಠ್ಯೇತರ ಗದ್ಯಭಾಗವನ್ನು ಓದಿಕೊಂಡು, ಅದರ ಕೆಳಗೆ ಕೊಟ್ಟಿರುವ ಪ್ರಶ್ನೆಗಳಿಗೆ ಉತ್ತರಿಸಿರಿ.

2X1=2M

ಒಂದೂರಲ್ಲಿ ಕುಂಟ ಕಾಗೆ ಇತ್ತು. ಅದರ ಮೈಯಲ್ಲ ಕಪ್ಪಾಗಿತ್ತು. ಅದು ಬಾಯಾರಿಕೆಯಿಂದ ನೀರನ್ನು ಹುಡುಕುತ್ತಿದ್ದಾಗ ಅದಕ್ಕೆ ಅರ್ಧದಷ್ಟು ನೀರು ತುಂಬಿದ ಮಡಿಕೆ ಕಂಡಿತು. ಆದರೆ ಕಾಗೆಗೆ ನೀರು ಕುಡಿಯಲು ಆಗಲಿಲ್ಲ, ಕಾಗೆ ನೀರೊಳಗೆ ಐವತ್ತು ಕಲ್ಲುಗಳನ್ನು ಹಾಕಿತು. ಐವತ್ತೊಂದನೆಯ ಕಲ್ಲನ್ನು ಹಾಕಿದಾಗ ನೀರು ಮೇಲೆ ಬಂದಿತು. ಆಗ ನೀರನ್ನು ಕುಡಿದು , ತನ್ನ ಬಳಗವನ್ನು ಕರೆಯಿತು. ನಂತರ ಕಾಗೆಗಳೆಲ್ಲ ಬಂದು ನೀರನ್ನು ಕುಡಿದವು.

ವಸ್ತುನಿಷ್ಠ ಪ್ರಶ್ನೆಗಳು:

1. _____ ಗೆ ಬಾಯಾರಿಕೆಯಾಗಿತ್ತು.

(i) ಗುಬ್ಬಿ

(ii) ಗಿಳಿ

(iii) ಕಾಗೆ

(iv) ನವಿಲು

2. ಕಾಗೆ _____ ಕಲ್ಲನ್ನು ಹಾಕಿದಾಗ ನೀರು ಮೇಲೆ ಬಂದಿತು.

(i) ಹತ್ತನೇಯ

(ii) ನೂರನೇಯ

(iii) ಐವತ್ತೊಂದನೆಯ

(iv) ಐವತ್ತನೇಯ

II. ಈ ಕೆಳಗಿನ ಪಠ್ಯಗದ್ಯಭಾಗವನ್ನು ಓದಿಕೊಂಡು, ಅದರ ಕೆಳಗೆ ಕೊಟ್ಟಿರುವ ಪ್ರಶ್ನೆಗಳಿಗೆ ಉತ್ತರಿಸಿರಿ.

3X1=3M

ಕೆಂಪೇಗೌಡರು ಯಲಹಂಕ ನಾಡಿನ ದೊರೆ. ಯಲಹಂಕ ವಿಜಯನಗರ ಸಾಮ್ರಾಜ್ಯದ ಒಂದು ಭಾಗವಾಗಿತ್ತು. ಅದು ಬೆಂಗಳೂರಿನ ಉತ್ತರಭಾಗದಲ್ಲಿತ್ತು. ಈ ಊರೇ ಕೆಂಪೇಗೌಡರ ಮೊದಲಿನ ರಾಜಧಾನಿಯಾಗಿತ್ತು. ಕೆಂಪೇಗೌಡರು ಶೂರರು ದಯಾಳವು ದೇವರಲ್ಲಿ ಭಕ್ತಿ ಉಳ್ಳವರೂ ಆಗಿದ್ದರು. ಕೆಂಪೇಗೌಡರು ಪ್ರಜೆಗಳನ್ನು ತನ್ನ ಮಕ್ಕಳಂತೆ ಪ್ರೀತಿಸುತ್ತಿದ್ದರು. ಪ್ರಜೆಗಳು ಅವರನ್ನು ತಂದೆಯಂತೆ ಗೌರವಿಸುತ್ತಿದ್ದರು.

ವಸ್ತುನಿಷ್ಠ ಪ್ರಶ್ನೆಗಳು:

1. _____ ಎಂಬುವರು ಯಲಹಂಕ ನಾಡಿನ ದೊರೆ.

(i) ಬೋರೇಗೌಡ (ii) ಬಚ್ಚೇಗೌಡ (iii) ಕೆಂಪೇಗೌಡ (iv) ಚಿನ್ನೇಗೌಡ

2. ಕೆಂಪೇಗೌಡರ ಮೊದಲಿನ ರಾಜಧಾನಿಯ ಹೆಸರು _____.


(i) ಯಲಹಂಕ (ii) ಬೆಂಗಳೂರು (iii) ವಿಜಯನಗರ (iv) ಉತ್ತರ ಭಾಗ

3. ಪ್ರಜೆಗಳು ಅವರನ್ನು _____ ಗೌರವಿಸುತ್ತಿದ್ದರು.

(i) ಅರಸನಂತೆ (ii) ಮಕ್ಕಳಂತೆ (iii) ತಂದೆಯಂತೆ (iv) ತಾಯಿಯಂತೆ

III. ಈ ಕೆಳಗಿನ ಚಿತ್ರವನ್ನು ಸರಿಯಾಗಿ ಗಮನಿಸಿ, ಅದರಲ್ಲಿರುವ ಆರು ವಸ್ತುಗಳ ಹೆಸರುಗಳನ್ನು ಬರೆಯಿರಿ.

1X3=3M



1. _____

2. _____

3. _____

4. _____

5. _____

6. _____

IV. ಈ ಕೆಳಗಿನ ಯಾವುದಾದರೂ ಒಂದು ವಿಷಯವನ್ನು ಕುರಿತು, ಎರಡು ವಾಕ್ಯಗಳನ್ನು ಬರೆಯಿರಿ. 1x2=2M

ನನ್ನ ನೆಚ್ಚಿನ ಪ್ರಾಣಿ / ನನ್ನ ನೆಚ್ಚಿನ ಪಕ್ಷಿ

1. _____
2. _____

ಭಾಗ-B

V. ಈ ಕೆಳಗೆ ಕೊಟ್ಟಿರುವ ಗಾದೆ ಮಾತುಗಳನ್ನು ಪೂರ್ಣಗೊಳಿಸಿರಿ. 3x1=3M

(ಗೆಲೆತನ, ರುಚಿಯಿಲ್ಲ, ಹಾಲು, ಮೊಸರು)

1. ತಾಯಿಗಿಂತ ಬಂಧುವಿಲ್ಲ, ಉಪ್ಪಿಗಿಂತ _____
2. ಆಕಳು ಕಪ್ಪಾದರೆ _____ ಕಪ್ಪೇ?
3. ಗುಣ ನೋಡಿ _____ ಮಾಡು.

VI. ಈ ಕೆಳಗೆ ಕೊಟ್ಟಿರುವ ಪದಗಳಿಗೆ ಪ್ರಾಸ ಪದಗಳನ್ನು ಬರೆಯಿರಿ. 2x1=2M

1. ಹಾಡುತ - _____
2. ಹಚ್ಚು - _____

VII. ಕೆಳಗಿನ ಪ್ರಶ್ನೆಗಳಿಗೆ ಒಂದು ವಾಕ್ಯಗಳಲ್ಲಿ ಉತ್ತರಿಸಿರಿ. 3x1=3M

1. ಅವ್ವ ಎಲ್ಲಿಗೆ ಹೋಗಿಹಳು?

ಉ: _____

2. ಅಂಗಿಯ ಗುಂಡಿಯನ್ನು ಹೊಲೆಯಲು ಯಾರನ್ನು ಕರೆಸಿದರು?

ಉ: _____


3. ಓಟದ ಸ್ಪರ್ಧೆಯಲ್ಲಿ ಯಾರು ತೀರ್ಪುಗಾರರಾಗಿದ್ದರು?

ಉ: _____

VIII. ಈ ಕೆಳಗಿನ ಬಿಟ್ಟ ಸ್ಥಳಗಳನ್ನು ಸೂಕ್ತ ಪದಗಳಿಂದ ಪೂರ್ಣಗೊಳಿಸಿರಿ.

2x1=2M

1. ರಾಜಗೊಬ್ಬ ಮಂತ್ರಿಯಂತೆ, ಮಂತ್ರಿಗೊಬ್ಬ _____ .
2. ಕುದುರೆ ಮತ್ತು _____ ಒಳ್ಳೆಯ ಗೆಲೆಯರಾಗಿದ್ದರು.



Jindal Vidya Mandir, JSW Hill Side Township

Periodic Test-I 2024-25

Set A

Class: II / Sec: ____

Sub: Mathematics

Name: _____

Invigilator's Signature: _____

Duration: 1hr

Max Marks: 20

Roll no: _____

Date: _____

General Instructions:

- This question paper contains 6 main questions in 3 pages.
- All questions are compulsory.

Section A

I) Choose the correct option and write the answer in the blanks. 4X1M=4M

1) The place value of 0 is always ____.

- a) 1 b) 2 c) 0 d) 9

2) The sum of even and odd number will be always an ____ number.

- a) even b) 0 c) odd d) ordinal

3) 63 is also shown as ____

- a) 6 + 3 b) 60 + 3 c) 60 + 13 d) 10 + 3

4) $15 + 6 =$ ____.

- a) 21 b) 19 c) 18 d) 20

II) Use >, < or = sign to compare.

3X1M= 3M

a) 22 ____ 55

b) 49 ____ 47

c) 60 ____ 6 tens

III) Fill in the blanks.

2X1M=2M

1) $7 + 9 =$ ____ $+ 7 = 16$

2) $3 +$ ____ $= 32 +$ ____

IV) Write in standard form.

1M

$$40 + 6 = \underline{\hspace{2cm}}$$

Section B

V) Do as directed.

1) Write the place value of the given number.

2X1/2M=1M

a) Place value of 6 in 68 =

b) Place value of 0 in 90 =

2) Write the face value of the underlined digit in the number.

2X1/2M=1M

a) Face value of 0 in 60 =

b) Face value of 2 in 25 =

3) Fill the missing even numbers.

1M

10 , 12 , 14 , , , , 22 ,

4) Add

2X1.5M= 3M

a) T O

 6 6

+ 2 3

--

b) T O

 7 9

+ 1 4

--

5) Write the number names


2X1M=2M

a) 59 = _____

b) 40 = _____

VI) 56 parrots were sitting on a tree. 14 more parrots came to join them. How many parrots are sitting in all? 2M

Ans - _____



Jindal Vidya Mandir, JSW Hill Side Township
Periodic Test-I (2024-25)
Set-A

Class: II / Sec: _____

Max Marks: 20

Sub: EVS

Duration: 1Hr

Name: _____

Roll No: _____

Date: _____

Invigilator's Signature: _____

General Instructions:

- This question paper has 3 pages and 14 questions.
- It consists of two sections A and B. Section A has objective type questions and section B has subjective type questions.
- All the questions are compulsory.

Section-A

I. Choose the correct word from the box to fill in the blanks.

5X1=5M

stale	loud	safety	sharp	posture
-------	------	--------	-------	---------

1. We should avoid listening to _____ music.
2. We should not play with _____ objects such as scissors, blades and knives.
3. Keeping away from danger is called _____.
4. Eating _____ food can make us fall ill.
5. The way in which someone holds his or her body while standing, sitting or walking is called _____.

II. Write True (T) or False (F) for the following sentences.

5X1=5M

6. The heart pumps blood inside our body. ()
7. Rinse your mouth after eating ()
8. We should not stand in a queue while boarding the school bus. ()
9. We should take care of our sense organs. ()
10. Proper rest and exercise keep us fit. ()

Section-B

III. Answer the following questions in two sentences.

3X2=6M

11. Write any two safety rules while riding a bicycle?

12. Write any two good habits we can follow to keep clean?

13. How do limbs help us?

14. Draw any two road signs and name them.

2x2= 4M

--	--

