



**Jindal Vidya Mandir, JSW Hill Side Township**  
**Periodic Test-II (2024-25)**

**Class/Sec: III/\_\_\_\_\_**

**SET-A**

**Max.Marks: 40**

**Sub: EVS**

**Duration: 1 hr 30 min**

**Name: \_\_\_\_\_**

**Roll No: \_\_\_\_\_**

**Invigilator's sign: \_\_\_\_\_**

**Date : \_\_\_\_\_**

---

**General instructions:**

- This question paper contains 6 pages and 29 questions.
  - It has two sections, A and B. Section A has objective questions and section B has subjective questions.
  - All the questions are compulsory.
- 

**SECTION-A**

**I. Choose the correct option from the following:**

**5X1M=5M**

1. Native Americans used to live in \_\_\_\_\_.

i. bungalows

ii. teepees

iii.apartments

2. A place in desert where some water is found is \_\_\_\_\_ .

i. an oasis

ii. a river

iii. a stream

3. The gas that is passed through water to kill bacteria is \_\_\_\_\_.

i. oxygen

ii. chlorine

iii.fluorine

4. Which of the following houses are found in Alaska?

i. igloo

ii. tents

iii. houseboats

5. Which of the following is NOT a cardinal direction?

i.right

ii. south

iii.east

**II. Fill in the blanks:****5X1M=5M**

6. Houses on wheels are called as \_\_\_\_\_ .
7. A \_\_\_\_\_ is a person who works on boat or ship.
8. Plants that live in water are called \_\_\_\_\_ plants.
9. Water which is fit for drinking is called \_\_\_\_\_ water.
10. The process of making a map is called \_\_\_\_\_.

**III. Match the following :****5X1M=5M****Column – A****Column – B**

- |                    |   |         |
|--------------------|---|---------|
| 11. ambulance      | a) below the earth's surface            | (     ) |
| 12. petroleum      | b) three-fourths of the earth's surface | (     ) |
| 13. water on earth | c) grow in desert                       | (     ) |
| 14. camel          | d) road transport                       | (     ) |
| 15. date palm      | e) ship of the desert                   | (     ) |

**IV. Write true or false against the following sentences:****5X1M=5M**

16. Herbs like mint can be easily grown on terrace gardens. (         )
17. If you are facing the rising sun, you are facing east. (         )
18. A stem of cactus plant is thin. (         )

19. Rain is the main source of fresh water on the earth. (\_\_\_\_\_)

20. Helicopters are often used during rescue missions. (\_\_\_\_\_)

**SECTION-B**

**V. Answer the following questions in two sentences:**

**4X2M=8M**

21. Name the states in which water exists naturally on the earth.

---

---

---

---

22. Why do we need different means of transport to travel different places?

---

---

---

---

23. What is a nautical chart?

---

---

---

---

24. Give the full forms of the following abbreviation:

a. MRTS

---

b. CNG

---

**VI. Give reasons for the following statements:**

**3X2M=6M**

25. Animals are important means of transport.

---

---

---

---

26. We must boil and filter water before drinking.

---

---

---

---



27. Animals need water for their survival.

---

---

---

---

**VII. Answer the following questions:**

**2X3M=6M**

28. Imagine JVM, HST has planned to conduct 'save water' project and you are a part of this project.

Write any three actions you personally take to avoid water wastage. **1X3M=3M**

---

---

---

---


---

---

29. Draw, colour and label the diagram of water cycle.

1X3M=3M





**Jindal Vidya Mandir, Hill Side Township**  
**Periodic test -II (2024-25)**  
**Set-A**

**Class: III/Sec:\_\_\_\_\_**

**Max.Marks: 40**

**Subject: Mathematics**

**Duration : 1hr 30 mins**

**Student Name:\_\_\_\_\_**

**Roll No: \_\_\_\_\_**

**Invigilator's Signature:\_\_\_\_\_**

**Date : \_\_\_\_\_**

---

**General Instructions: This question paper has 5 pages and it has 28 questions.**

**All questions are compulsory.**

---

**PART-A**

**I.Fill in the blanks.**

**5X1M=5M**

- 1.In a leap year, there are \_\_\_\_\_ days in the month of February.
- 2.Quarter of an hour is \_\_\_\_\_ minutes.
3. ₹ 56.20 + ₹ 11.49 = ₹ \_\_\_\_\_
4. \_\_\_\_\_ is the line joining the centre to any point on the circumference of a circle.
- 5.A \_\_\_\_\_ is an arrangement of shapes or figures in a particular order.

**II.Choose the correct answer .**

**6X1M=6M**

6. How many meters are there in 19 Km?

- i) 190m      ii) 1900 m      iii) 19000m      iv) 2000m

7.A piece of paper is divided into 7 equal parts. 2 parts are taken. This is written in fraction as:

- i)  $\frac{7}{2}$       ii)  $\frac{2}{7}$       iii)  $\frac{1}{7}$       iv)  $\frac{1}{2}$

8.Every face of a cube is \_\_\_\_\_

- i) Square      ii) Rectangle      iii) Circle      iv) Triangle

9. How many lines of symmetry are there in letter X ?

- i) 2                      ii) 4                      iii) 6                      iv) 8

10. The amount of water that the overhead tank at your house holds is closest to:

- i) 30 ml                  ii) 80 ml                  iii) 500 l                  iv) 1 l

11. How many big divisions are there on the clock's face ?

- i) 5                      ii) 10                      iii) 12                      iv) 15


III. Match the following.

5X1M=5M

Column-A

Column-B

12.



1000g                  ( )

13. 1kg

Five-eighths ( )


14. Ray

₹ 300.05                  ( )

15. ₹ 300 and 5 paise

Cuboid                  ( )

16.  $\frac{5}{8}$

 ( )

IV. Complete the patterns.

4X1M=4M

17.



18. 26, 31, 36, \_\_\_\_\_, \_\_\_\_\_

19. A13, B26, C39, \_\_\_\_\_, \_\_\_\_\_

20. 187, 164, 141, \_\_\_\_\_, \_\_\_\_\_

**PART –B**

**IV.Do as directed.**


**5X2M=10M**

21. Write the following in words.

a) ₹ 95.05 = \_\_\_\_\_

b) ₹ 509.29 = \_\_\_\_\_

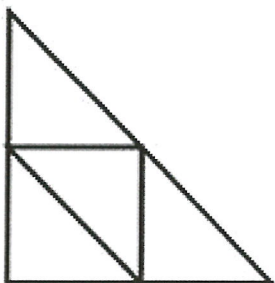
22. Write the time in two different ways.



\_\_\_\_\_  
\_\_\_\_\_

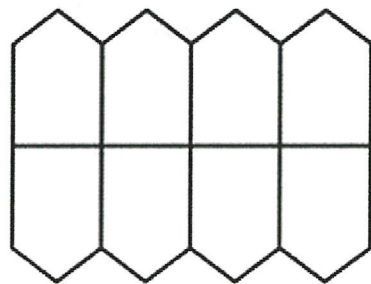
23. Colour the correct fraction of each shape.

a)



$\frac{2}{4}$

b)



$\frac{6}{8}$

24. Subtract ₹ 142.80 from ₹ 365.50.

25. Complete the following pictures so that the right and the left side look symmetrical.

a.



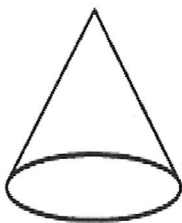
b.



V. Answer the following.

3X2M=6M

26. Find the number of faces, edges & corners of the given picture .



Faces

Edges

corners

27.a. Convert into meters.

5 km 300 m

b. Convert into litres and millilitres.

2025 ml

**VI. Answer the following.**

**1X4M=4M**

28. Priya needs 5 l 750 ml of cooking oil. She had only 3 l 156 ml in her house. How much should she buy so that she has enough oil?



Manjula

Manick



## Jindal Vidya Mandir, JSW Hill side Township

### Periodic Test-II (2024-25)

SET-A

Class: III / Sec: \_\_\_\_\_

Subject: English

Student Name: \_\_\_\_\_

Invigilator's Sign: \_\_\_\_\_

Max. Marks: 40

Duration: 1hr 30mins

Roll No: \_\_\_\_\_

Date: \_\_\_\_\_

- 
- Instructions: This question paper contains 6 pages and has 5 questions.
  - It is divided into 4 Sections:
  - All the questions are compulsory.

Section A - Reading

Section C - Grammar

Section B- Writing

Section D- Literature

---

### SECTION A- READING

I. Read the following passage and answer the given questions: - 5X1=5M

Maria and her family spent their summer vacation at the beach. One sunny morning, Maria went for a walk along the shore. She saw seagulls flying overhead and sandcastles being built. As she walked further, Maria noticed a strange object buried in the sand. She carefully dug it out and found an old glass bottle. Inside, she discovered a rolled-up map. Maria showed her parents the map, and they decided to explore. They followed the map to a hidden cove, where they found beautiful shells and colorful rocks. Maria was thrilled with her discovery and couldn't wait to explore more.

a. Where did Maria go on vacation?

\_\_\_\_\_

b. What did Maria find buried in the sand?

\_\_\_\_\_

c. What was inside the bottle?

---

d. Where did the map lead Maria's family?

---

e. How did Maria feel about her discovery?

---

**II. Read the poem carefully.**

**5X1=5M**

The rainbow appears in the sky,  
A colourful sight, passing by.  
Red, orange, yellow, green and blue,  
A beautiful arc, for me and you.

The clouds disappear, the sun shines bright,  
A lovely day, a wonderful sight.  
The rainbow's colors, vibrant and bold,  
A treasure to behold.

**Based on your understanding of the poem answer the questions given below:**

a. What appears in the sky?

---

b. What happens to the clouds?

---

c. What does the poem describe as "a wonderful sight"?

---

d. Pick out adjectives from the given poem a. \_\_\_\_\_ b. \_\_\_\_\_

## **SECTION B- WRITING**

**IIIA. Write a dialogue writing between a teacher and student about exam preparations. 3M**

---

---

---

---

---

---

---

---

---

---

**B. Write a paragraph on your favourite hobby. 3M**

---

---

---

---

---

---

---

---

---

---

4M

This image shows a single sheet of white paper with horizontal blue or grey ruling lines. The lines are evenly spaced and run across the width of the page. There are approximately 20 lines visible. The paper has a slight shadow on the right side, suggesting it's resting on a surface.

**IVA. Fill in the blanks by choosing the correct form of the verbs given in the brackets: 4X1=4M**

- 4X1=4M**

**B. Underline the adverbs of time and circle the adverbs of manner in these sentences:** **6X1/2=3M**

- a. We cannot go late to school.
- b. The firefighters put out the fire bravely.
- c. I will read a story to my sister today.
- d. She keeps her books tidily.
- e. We waited for the bus patiently.
- f. The train has already left.

**C. Choose the correct pronoun to fill in the blanks:** **3X1=3M**

- a. \_\_\_\_\_ (They/Them) ate all the sweets before dad could stop  
\_\_\_\_\_ (they/them).
- b. \_\_\_\_\_ (Me/I) cannot say the same thing about \_\_\_\_\_ (they/them).
- c. \_\_\_\_\_ (She/Her) taught \_\_\_\_\_ (I/me) Spanish.

### **SECTION D – LITERATURE**

**VA. Read the given extract from the poem and answer the following questions.**

Good books are friendly things to own.

If you are busy they will wait.

They will not call you on the phone

Or wake you if the hour is late.

a. Name the poem and the poet. **2M**

\_\_\_\_\_

b. Pick out the adverb from the given poem a. \_\_\_\_\_ **1M**

c. Write any one pair of rhyming words from the given poem a. \_\_\_\_\_ **1M**

**B. Answer the following in 2-3 Sentences:**

**3X2=6M**

a. Why did she find the Galapagos Islands the best place to swim in?

---

---

---

b. Why was Meena annoyed at the sight of books?

---

---

---

c. What began to happen when the books fell down?

---

---

---





Jindal Vidya Mandir, JSW Hill Side Township

Periodic Test-II (2024-25)

SET-A

Class: III / Sec: \_\_\_\_\_

Subject: Hindi ( II Language)

Name: \_\_\_\_\_

Invigilator's Signature: \_\_\_\_\_

Maximum Marks: 40

Duration: 1 Hour 30 min

Roll No: \_\_\_\_\_

Date: \_\_\_\_\_

सामान्य निर्देश:

- प्रश्न-पत्र के 2 खंड हैं - वस्तुनिष्ठ और विवरणात्मक ।
- दोनों खंडों के प्रश्नों के उत्तर देना अनिवार्य है।

खंड 'क' - वस्तुनिष्ठ प्रश्न (20 अंक)

प्रश्न 1. निम्नलिखित अपठित गद्यांश को ध्यानपूर्वक पढ़कर नीचे दिए गए प्रश्नों के उत्तर चुनकर लिखिए - (5×1=5)

ऊटी शहर नीलगिरी की पहाड़ियों पर बसा है। नीलगिरी की पहाड़ियाँ बहुत ही खूबसूरत हैं। इसकी सुंदरता के कारण ही इसे पहाड़ों की रानी कहा जाता है। यहाँ पूरे साल मौसम सुहावना रहता है। कहीं जंगली पशु-पक्षी, फूल और कल-कल बहते झरने बहुत सुंदर लगते हैं तो कहीं दूर-दूर तक फैला हरियाली, चाय के बागान और तरह-तरह की वनस्पतियाँ इसकी सुंदरता में चार चाँद लगा देते हैं। यहाँ चलने वाली टॉय ट्रेन 13 गुफाओं से होकर गुजरती है। इस ट्रेन की सैर करके सचमुच हमें बहुत आनंद आया। ऊटी में घोड़े की सवारी, माउंटेन बाइकिंग और ट्रेकिंग भी की। ऊटी में प्राकृतिक रूप से बनी झील भी है। जो 2.5 किलोमीटर तक फैली है। इस झील का निर्माण जॉन सुविलिअन ने 1825 में करवाया था। यह झील रंग-बिरंगे फूलों से घिरी है। इस झील में बोटिंग भी की जाती है।

(i) पहाड़ों की रानी किसे कहा गया है ?

- (क) नैनीताल (ख) चेन्नई (ग) मैसूर (घ) नीलगिरी

उत्तर-----

(ii) टॉय ट्रेन कितनी गुफाओं से होकर गुजरती है ?

- (क) 15 गुफाओं से (ख) 13 गुफाओं से  
(ग) 12 गुफाओं से (घ) किसी भी गुफा से नहीं

उत्तर-----

(iii) ऊटी झील का निर्माण किसने करवाया ?

(क) जॉन सुविलियन ने

(ख) जॉन विलियन ने

(ग) जॉन विलियन ने

(घ) इनमें से कुछ नहीं

उत्तर-----

(iv) ऊटी की सुंदरता में चार चाँद किससे लगता है ?

(क) हरियाली और चाय के बागान ।

(ख) आसमान के सितारे ।

(ग) यहाँ के भवन ।

(घ) यहाँ के बाज़ार ।

उत्तर-----

(v). नीलगिरी की पहाड़ियों पर कौन-सा शहर बसा हुआ है ?

(क) नीलगिरी शहर

(ख) प्रतापगढ़

(ग) ऊटी शहर

(घ) जयपुर शहर

उत्तर-----

प्रश्न 2. व्याकरण भाग से लिए गए निम्नलिखित प्रश्नों के सही उत्तर विकल्पों में से चुनकर लिखिए-

(1×15=15)

(i) भाषा को लिखने का ढंग \_\_\_\_\_ कहलाता है ?

(क) सांकेतिक भाषा

(ख) लिखित भाषा

(ग) मौखिक भाषा

(घ) वैदिक भाषा

उत्तर -----

(ii) उर्दू भाषा की लिपि है-

(क) फारसी

(ख) गुरुमुखी

(ग) देवनागरी

(घ) रोमन

उत्तर -----

(iii) सेना के समूह को \_\_\_\_\_ कहते हैं ?

(क) दल

(ख) टुकड़ी

(ग) झुंड

(घ) भीड़

उत्तर -----

(iv) नीचे दिए गए वाक्य को सही क्रिया भरकर पूरा करें -

किसान अपनी फ़सल \_\_\_\_\_ । ( काट )

(क) काट रहा है

(ख) कटवाएगा

उत्तर -----

(v) शब्दों को सही क्रम में लिखो-

दाना चिड़िया चुग रही है ।

उत्तर -----

(vi) शब्दों को सही क्रम में लिखो-

है खो-खो रहे बच्चे खेल ।

उत्तर -----

(vii) चित्र से संबंधित एक मुहावरा लिखो -



उत्तर -----

(viii) 'हिमालय' शब्द कौन-सी संज्ञा का उदाहरण है -

(क) व्यक्तिवाचक संज्ञा      (ख) भाववाचक संज्ञा      (ग) जातिवाचक संज्ञा      (घ) स्थानवाचक संज्ञा

उत्तर -----

(ix) 'मंदिर में ----- आरती कर रहा है ।' रिक्त स्थान में उचित लिंग शब्द भरिए-

(क) वीर      (ख) पुजारी      (ग) पूजा करने वाला      (घ) पुल्लिंग

उत्तर -----

(x) निम्नलिखित शब्दों में से कौन-सा शब्द पुल्लिंग शब्द है-

(क) बैल      (ख) बिल्ली      (ग) घड़ी      (घ) सुराही

उत्तर -----

(xi) 'कल माला ने ----- की पुस्तक खरीदी।' रिक्त स्थान में उचित शब्द भरिए-

(क) कहानी      (ख) कहानियाँ      (ग) कहानिँ      (घ) कहानियों

उत्तर -----

(xii) 'माँ ने बाजार से ताजी ----- खरीदी।' रिक्त स्थान में उचित शब्द भरिए-

(क) सब्जियों

(ख) सब्जी

(ग) सब्जियाँ

(घ) सब्जिएँ

उत्तर -----

(xiii) 'पाठशाला' शब्द का पर्यायवाची है-

(क) आदित्य

(ख) विद्यालय

(ग) जलज

(घ) जलद

उत्तर -----

(xiv) 'वर्षा' शब्द का पर्यायवाची नहीं है-

(क) बरसात

(ख) बारिश

(ग) जलज

(घ) बरखा

उत्तर -----

(xv) फूलों के समूह को \_\_\_\_\_ कहते हैं।

(क) समूह

(ख) गुलदस्ता

(ग) लच्छा

(घ) पंजा

### खंड 'क' - विवरणात्मक प्रश्न (20 अंक)

प्रश्न 4. निम्नलिखित प्रश्नों के उत्तर (20 से 30) शब्दों में दीजिए-

(2×2=4)

(क) दोनों बिल्लियों के बीच झगड़े की जड़ क्या थी ? उनके झगड़े का हल कैसे निकला गया ?

उत्तर-----

-----

-----

-----

-----

-----

(ख) अवंती ने कपड़ा कहाँ रख दिया ? क्यों ?

उत्तर-----

प्रश्न 5. निम्नलिखित प्रश्न का उत्तर (50 से 60) शब्दों में अपने विचारों के अनुरूप लिखिए-

(2×3=6)

(क) बाघ को पकड़ने के लिए क्या योजना बनाई गई? बाघ पकड़ में क्यों नहीं आया ?

उत्तर-----

(ख) बंदर ने रोटी का बँटवारा कैसे किया ? अंत में रोटी किसके हाथ आई ?

उत्तर-----

प्रश्न 6. 'राष्ट्रीय पशु बाघ' विषय पर दिए गए संकेत बिंदु के आधार पर बनाकर लगभग 70-80 शब्दों में एक अनुच्छेद लिखिए।

(1×5=5)

संकेत बिंदु -

- जंगल का राजा , मांसाहारी ,बिल्ली की प्रजाति का जानवर
- काली धारीदार शरीर, पानी में भी तैरता है
- शक्तिशाली व फुर्तीला पशु ,सूंघने -सुनने की तेज़ क्षमता

उत्तर-----



प्रश्न 7. अपनी मौसी की शादी में जाने के लिए प्रधानाचार्य को पाँच दिन के अवकाश हेतु पत्र लिखिए ।

(1×5=5)

-----  
-----  
-----  
-----

-----  
-----  
-----  
-----  
-----  
-----  
-----

-----  
-----  
-----

\*\*\*\*\*







**Jindal Vidya Mandir, JSW Hill Side Township**  
**Periodic Test -II (2024-25)**

**Set-A**

**Class: III / Sec: \_\_\_\_\_**

**Subject: Kannada ( II Language)**

**Student Name: \_\_\_\_\_**

**Invigilator's Sign: \_\_\_\_\_**

**Maximum Marks: 40**

**Duration: 1Hr 30min.**

**Date: \_\_\_\_\_**

**Roll No : \_\_\_\_\_**

**ಸೂಚನೆಗಳು:-**

- ಈ ಪ್ರಶ್ನೆ ಪತ್ರಿಕೆಯು A ಮತ್ತು B ಎಂಬ ಎರಡು ಭಾಗಗಳನ್ನು ಒಳಗೊಂಡಿರುತ್ತದೆ.
- ಈ ಪ್ರಶ್ನೆ ಪತ್ರಿಕೆಯಲ್ಲಿ ಒಟ್ಟು 12 ಮುಖ್ಯ ಪ್ರಶ್ನೆಗಳು ಮತ್ತು 7 ಪುಟಗಳು ಇರುತ್ತವೆ.
- ಪ್ರತಿಯೊಂದು ಸೂಚನೆಗಳನ್ನು ಸರಿಯಾಗಿ ಓದಿಕೊಂಡು ಉತ್ತರಿಸಿರಿ.

**I.ಈ ಕೆಳಗೆ ಕೊಟ್ಟಿರುವ ಪಠ್ಯೇತರ ಗದ್ಯಭಾಗವನ್ನು ಓದಿ, ಈ ಕೆಳಗಿನ ಪ್ರಶ್ನೆಗಳಿಗೆ ಬಹು ಆಯ್ಕೆ ಉತ್ತರಗಳ ಸಹಾಯದಿಂದ**

**ಉತ್ತರಿಸಿ:**

**4X1=4**

ಭಾರತಮಾತೆಯ ಬಿಡುಗಡೆಗಾಗಿ ಬ್ರಿಟಿಷರ ವಿರುದ್ಧ ಹೋರಾಟ ಮಾಡಿ ಅನೇಕ ಜನ ಪ್ರಾಣಾರ್ಪಣೆ ಮಾಡಿದ್ದಾರೆ.ಅಂತಹ ಮಹಾನ್ ತ್ಯಾಗ ಮಾಡಿದವರಲ್ಲಿ ಹುಬ್ಬಳ್ಳಿಯ ಲ್ಯಾಮಿಂಗ್ ಟನ್ ಪ್ರೌಢಶಾಲೆಯ ೧೩ ವರ್ಷದ ವಿದ್ಯಾರ್ಥಿ ನಾರಾಯಣ ಮಹಾದೇವ ಧೋನಿಯು ಒಬ್ಬ.೧೯೪೨ ಆಗಸ್ಟ್ ೯ ರಂದು ಗಾಂಧೀಜಿಯವರು ಬ್ರಿಟಿಷರಿಗೆ ಭಾರತವನ್ನು ಬಿಟ್ಟು ತೊಲಗುವಂತೆ ಅಂತಿಮ ಎಚ್ಚರಿಕೆಯನ್ನು ಕೊಟ್ಟಿದ್ದರು.ಇಡೀ ದೇಶವು ಬ್ರಿಟಿಷರ ನಿರಂಕುಶ ಆಡಳಿತದ ವಿರುದ್ಧ ಕುದಿಯುವ ಜ್ವಾಲಾಮುಖಿಯಂತೆ ಸಿಡಿದೆದ್ದಿತ್ತು. ಬ್ರಿಟಿಷರು ಗಾಂಧೀಜಿಯವರ ಅಹಿಂಸೆಯ ತತ್ವವನ್ನು ಹೇಡಿತನವೆಂದು ತಪ್ಪಾಗಿ ತಿಳಿದಿದ್ದರು.೧೯೪೨ ಆಗಸ್ಟ್ ೧೫ ಹುಬ್ಬಳ್ಳಿಯ ಜನತೆಗೆ ಒಂದು ಅತ್ಯಂತ ಪ್ರಮುಖ ದಿನವಾಗಿತ್ತು.ಸಾಮರಸ್ಯದ ಋಂತ್ರ "ವಂದೇ ಮಾತರಂ" ಎಲ್ಲರ ಬಾಯಲ್ಲೂ ಹರಿದಾಡುತಿತ್ತು.ಸಾವಿರಾರು ಜನರು ಹುಬ್ಬಳ್ಳಿಯ ಹೃದಯ ಭಾಗದಂತಿರುವ ದುರ್ಗದ ಬಯಲು ಚೌಕದಲ್ಲಿ ಸೇರಿದ್ದರು.

**ಪ್ರಶ್ನೆಗಳು:**

1. ಭಾರತವನ್ನು ಬಿಟ್ಟು ತೊಲಗಿ ಎಂದವರು \_\_\_\_\_  
(i) ರಾಯಣ್ಣ (ii) ಚೆನ್ನಮ್ಮ (iii) ಸುಧಾಮೂರ್ತಿ (iv) ಗಾಂಧೀಜಿ
2. ಬ್ರಿಟಿಷರು ಗಾಂಧೀಜಿಯವರ \_\_\_\_\_ ತತ್ವವನ್ನು ಹೇಡಿತನವೆಂದು ತಪ್ಪಾಗಿ ತಿಳಿದಿದ್ದರು.  
(i) ಶಾಂತಿ (ii) ಸತ್ಯ (iii) ಅಹಿಂಸೆ (iv) ಸಮಾನತೆ
3. \_\_\_\_\_ ಹುಬ್ಬಳ್ಳಿಗೆ ಪ್ರಮುಖ ದಿನವಾಗಿತ್ತು.  
(i) ೧೯೪೨ ಆಗಸ್ಟ್ ೧೫ (ii) ೧೯೪೨ ಆಗಸ್ಟ್ ೧೫ (iii) ೧೯೪೨ ಆಗಸ್ಟ್ ೧೫ (iv) ೧೯೪೫ ಆಗಸ್ಟ್ ೧೫
4. \_\_\_\_\_ ಹುಬ್ಬಳ್ಳಿಯ ಹೃದಯ ಭಾಗದಂತಿದೆ.  
(i) ದುರ್ಗದ ಬಯಲು (ii) ದುರ್ಗಿಗುಡಿ (iii) ದುರ್ಗದ ಹಳ್ಳಿ (iv) ಬಯಲುದುರ್ಗ

II. ಈ ಕೆಳಗೆ ಕೊಟ್ಟಿರುವ ಜಾತ್ರೆ ಗದ್ಯಭಾಗವನ್ನು ಓದಿ, ಕೊಟ್ಟಿರುವ ಪ್ರಶ್ನೆಗಳಿಗೆ ಉತ್ತರಿಸಿ:

3X1=3

ಮಕ್ಕಳೇ, ನಾನು ನಿಮಗೆ ಪುರಾಣ ಕಥೆಗಳನ್ನು ಹೇಳಿದ್ದೆನಲ್ಲವೇ? ಅಂಥ ಪುರಾಣ ಕಥೆಗಳನ್ನು ವೇಷ, ಕುಣಿತ,ಮಾತು ಹಾಗೂ ಹಿಮ್ಮೇಳದೊಂದಿಗೆ ಆಡಿ ತೋರಿಸುವ ಕಲೆಯೇ ಯಕ್ಷಗಾನ ಬಯಲಾಟ. ಇದರಲ್ಲಿ ರಂಗಸ್ಥಳ,ಹಿಮ್ಮೇಳ,ಮುಮ್ಮೇಳ ಮತ್ತು ಪ್ರಸಂಗ ಮುಖ್ಯ. ಬಣ್ಣದ ನಾಲ್ಕು ಕಂಬಗಳಿಂದ ಸಿಂಗರಿಸಿರುವ ಎತ್ತರವಾದ ಜಾಗವೇ ರಂಗಸ್ಥಳ.ರಂಗಸ್ಥಳದ ಹಿಂಭಾಗದಲ್ಲಿ ಬಿಳಿ ಅಂಗಿ, ಬಿಳಿ ಪಂಚೆ, ಕೆಂಪು ಮುಂಡಾಸು ಧರಿಸಿ ಕುಳಿತಿರುವವರು ಹಿಮ್ಮೇಳದವರು. ಜಾಗಟೆ ಹಿಡಿದು ದನಿಯೆತ್ತಿ ಹಾಡುವವರು ಭಾಗವತರು. ಭಾಗವತ ಯಕ್ಷಗಾನ ಬಯಲಾಟದ ಸೂತ್ರಧಾರ. ಯಕ್ಷಗಾನದ ಮೂಲಕ ಹೇಳುವ ಕಥಾ ಭಾಗವೇ ಪ್ರಸಂಗ. ಪ್ರಸಂಗದಲ್ಲಿ ಬರುವ ಪಾತ್ರಗಳನ್ನು ವೇಷ ಹಾಕಿ ಅಭಿನಯಿಸುವವರೇ ಮುಮ್ಮೇಳದವರು. ಈ ಕಲೆ ಕರಾವಳಿ,ಜಿಲ್ಲೆಗಳಾದ ದಕ್ಷಿಣ ಕನ್ನಡ, ಉಡುಪಿ ಹಾಗೂ ಉತ್ತರ ಕನ್ನಡ ಜಿಲ್ಲೆಗಳಲ್ಲಿ ಕಂಡುಬರುತ್ತದೆ.

\* ಪ್ರಶ್ನೆಗಳು:

1. ಯಕ್ಷಗಾನ ಬಯಲಾಟ ಎಂದರೇನು?

---

---

2. ರಂಗಸ್ಥಳ ಎಂದರೇನು?

---

---

3. ಹಿಮ್ಮೇಳದವರು ಎಂದರೆ ಯಾರು?

---

---

III. ಈ ಕೆಳಗೆ ಕೊಟ್ಟಿರುವ ಹೊಯ್ಸಳ ಗದ್ಯಭಾಗವನ್ನು ಓದಿ, ಈ ಕೆಳಗಿನ ಪ್ರಶ್ನೆಗಳಿಗೆ ಉತ್ತರಿಸಿ.

3X1=3

ಒಂದು ದಿನ ಗುರುಗಳು ಪಾಠ ಮಾಡುತ್ತಿರುವಾಗ ಒಂದು ಹೆಬ್ಬಲಿಯು ಆರ್ಭಟಿಸುತ್ತಾ ಅಲ್ಲಿಗೆ ಬಂತು. ಗುಡಿಯೊಳಗಿದ್ದ ಶಿಷ್ಯರು ಹೊರಗೊಡಿದರು. ಹೆದರಿ ಹೊರಗೋಡಿದರು.ಶಿಷ್ಯರಲ್ಲಿ ಒಬ್ಬನಾದ ಸಳನು ಗುರುಗಳ ರಕ್ಷಣೆಗೆ ನಿಂತನು. ಗುರುಗಳು ಅವನ ಕೈಗೆ ಒಂದು ಕಬ್ಬಿಣದ ಸಲಾಕೆಯನ್ನು ಕೊಟ್ಟು 'ಹೊಯ್ ಸಳ' 'ಹೊಯ್ ಸಳ' ಎಂದು ಕೂಗಿ ಹೇಳಿದರು. ಕಲಿಯೂ, ಬಲಶಾಲಿಯೂ ಆದ ಸಳನು ಸ್ವಲ್ಪವೂ ಹೆದರದೆ ಸಲಾಕೆಯಿಂದ ಹುಲಿಯನ್ನು ಕೊಂದನು. ನಂತರ ಜನರು ಸಂತೋಷದಿಂದ ಇಂದಿನಿಂದ " ಈತನೇ ನಮಗೆ ದೊರೆ " ಎಂದು ಹೇಳಿ ಜಯಕಾರ ಹಾಕಿದರು. ಮುಂದೆ ಸಳನ ದೊರೆತನದಲ್ಲಿ ರಾಜ್ಯ ಸ್ಥಾಪನೆಯಾಯಿತು. ಅವನು ಹುಲಿಯನ್ನು ಮಣಿಸಿದ ಘಟನೆಯೇ ಆ ವಂಶದ ಲಾಂಛನವಾಯಿತು, ಹಾಗೂ ಗುರುಗಳು ಹೇಳಿದ 'ಹೊಯ್ಸಳ' ಎಂಬ ನುಡಿಯಿಂದಲೇ ಅವನ ವಂಶವು ಪ್ರಸಿದ್ಧವಾಯಿತು.

ಪ್ರಶ್ನೆಗಳು:

1. ಶಿಷ್ಯರು ಹೆದರಿ ಹೊರಗೋಡಿದ್ದು ಏಕೆ?

---

---

2. ಗುರುಗಳ ರಕ್ಷಣೆಗೆ ನಿಂತವರು ಯಾರು?

---

---

3. ಜನರು ಏನೆಂದು ಜಯಕಾರ ಹಾಕಿದರು?

IV. ಈ ಕೆಳಗೆ ಕೊಟ್ಟಿರುವ ಪ್ರತಿಯೊಂದು ಪ್ರಶ್ನೆಗಳಿಗೆ ನಾಲ್ಕು ಉತ್ತರವನ್ನು ಕೊಡಲಾಗಿದೆ. ಅವುಗಳಲ್ಲಿ ಸರಿಯಾದ ಪದವನ್ನು ಆರಿಸಿ ಬರೆಯಿರಿ. 6X1=6

1. 'ಒಳಗೆ' ಈ ಪದದ ವಿರುದ್ಧ ಪದ \_\_\_\_\_

- (i) ಆಳ (ii) ಎತ್ತರ (iii) ಓರಗ (iv) ಹೊರಗೆ

2. ಅಲ್ಲಿ ನೋಡಿ " ಮೃಗಾಲಯಕ್ಕೆ ದಾರಿ" ಎಂದು ಬರೆದಿದೆ. ಈ ವಾಕ್ಯದಲ್ಲಿರುವ ಲೇಖನ ಚಿಹ್ನೆ \_\_\_\_\_

- (i) ಉದ್ಧರಣ (ii) ಆವರಣ (iii) ಭಾವಸೂಚಕ (iv) ಪ್ರಶ್ನಾರ್ಥಕ

3. 'ಪಕ್ಷಿ' ಈ ಪದದ ಬಹುವಚನ ರೂಪ \_\_\_\_\_

- (i) ಪಕ್ಷಿಯು (ii) ಪಕ್ಷಿಗಳು (iii) ಪಕ್ಷಿಯ (iv) ಪಕ್ಷಿಯರು

4. ಕಾಯಿಲೆ \_\_\_\_\_ ( ಈ ಪದದ ಸಮಾನಾರ್ಥಕ ಪದ)

- (i) ರೋಗ (ii) ಪ್ರಗತಿ (iii) ಕತ್ತಿ (iv) ಖಜಾನೆ

5. ತೊಯ್ಯ : \_\_\_\_\_ ( ಈ ಪದದ ಅರ್ಥ)

- (i) ಹಸಿ (ii) ಬಿಸಿಲು (iii) ಮಳೆ (iv) ಒದ್ದೆಯಾಗು

6. ಕಿಟಕಿ + ಅನ್ನು = \_\_\_\_\_ ( ಕೂಡಿಸಿ ಬರೆಯಿರಿ) .

- (i) ಕಿಟಕಿಅನು (ii) ಕಿಟಕಿಅನ್ನು (iii) ಕಿಟಕಿಯನ್ನು (iv) ಕಿಟಕಿವನ್ನು

V. ಈ ಕೆಳಗೆ ಕೊಟ್ಟಿರುವ ಪದಗಳನ್ನು ಬಳಸಿ ಸ್ವಂತ ವಾಕ್ಯ ರಚಿಸಿ: 2X1=2

1. ಗಮನ = \_\_\_\_\_

2. ಎಳ್ಳಷ್ಟು = \_\_\_\_\_

VI. ಈ ಕೆಳಗೆ ಕೊಟ್ಟಿರುವ ಅಕ್ಷರಗಳನ್ನು ಸರಿಯಾದ ಕ್ರಮದಲ್ಲಿ ಜೋಡಿಸಿ ಅರ್ಥಪೂರ್ಣ ಪದ ರಚಿಸಿರಿ: 2X1=2

1. ತ , ರಿ , ಹಾ , ಸ್ಯ , ಭ : \_\_\_\_\_

2. ಯ , ವ , ಶಾ , ಲ , ಲಾ : \_\_\_\_\_

VII. ನಿಮ್ಮ ಚಿಕ್ಕಪ್ಪನ ಮದುವೆ ಕಾರಣ ನೀಡಿ, 4 ದಿನಗಳ ರಜೆ ಕೋರಿ, ನಿಮ್ಮ ಶಾಲೆಯ ಪ್ರಾಂಶುಪಾಲರಿಗೆ ಒಂದು ಪತ್ರ ಬರೆಯಿರಿ.

ಅಥವಾ


1x4=4

ಅನಾರೋಗ್ಯದ ಕಾರಣ ನೀಡಿ 1 ದಿನಗಳ ಕಾಲ ರಜೆ ಕೋರಿ, ನಿಮ್ಮ ತರಗತಿ ಶಿಕ್ಷಕರಿಗೆ ಒಂದು ಪತ್ರ ಬರೆಯಿರಿ.



VIII. ಈ ಕೆಳಗೆ ಕೊಟ್ಟಿರುವ ಚಿತ್ರವನ್ನು ಗಮನಿಸಿ ,ನಾಲ್ಕೈದು ವಾಕ್ಯಗಳನ್ನು ಬರೆಯಿರಿ:

1X3=3



IX. ಈ ಕೆಳಗೆ ಕೊಟ್ಟಿರುವ ಯಾವುದಾದರೂ ಒಂದು ವಿಷಯವನ್ನು ಕುರಿತು ಕಿರು ಪ್ರಬಂಧ ಬರೆಯಿರಿ:

1X3=3

1.ನಮ್ಮೂರ ಜಾತ್ರೆ

ಅಥವಾ

2. ಕಂಸಾಳೆ

X. ಈ ಕೆಳಗೆ ಕೊಟ್ಟಿರುವ ಪ್ರಶ್ನೆಗಳಿಗೆ ಒಂದು ವಾಕ್ಯದಲ್ಲಿ ಉತ್ತರಿಸಿ:

4X1=4

1. ಗಂಗೆ ಭಗೀರಥನಿಗೆ ಏನೆಂದು ಹೇಳಿದಳು?

ಉತ್ತರ: \_\_\_\_\_

2. ಸೂಚನಾ ಫಲಕಗಳೆಂದರೇನು?

ಉತ್ತರ: \_\_\_\_\_

3. ಕಾಡಿನ ರಾಜ ಸಿಂಹಕ್ಕೆ ಏನಾಯಿತು?

ಉತ್ತರ: \_\_\_\_\_



4. ಮೃಗಾಲಯ ಎಂದರೇನು?

ಉತ್ತರ: \_\_\_\_\_  
\_\_\_\_\_

XI . ಈ ಕೆಳಗೆ ಕೊಟ್ಟಿರುವ ಮಾತನ್ನು ಯಾರು - ಯಾರಿಗೆ ಹೇಳಿದರು?

1X2=2

1. "ಗಂಗೆಯನ್ನು ನಾನು ಶಿರದಲ್ಲಿ ಧರಿಸುತ್ತೇನೆ"

ಉತ್ತರ: \_\_\_\_\_  
\_\_\_\_\_

XII. ಈ ಕೆಳಗೆ ಕೊಟ್ಟಿರುವ ಪ್ರಶ್ನೆಗಳಿಗೆ ಎರಡು-ಮೂರು ವಾಕ್ಯಗಳಲ್ಲಿ ಉತ್ತರಿಸಿ:

2X2=4.

1. ಡಾ. ಜೀಬ್ರಾಕಾಯಿಲೆ ಬಿದ್ದ ಕಾಡಿನರಾಜ ಸಿಂಹವನ್ನು ಹೇಗೆ ಪರೀಕ್ಷಿಸಿತು? ಸಿಂಹವು ಏನು ಮಾಡಿತು?

ಉತ್ತರ: \_\_\_\_\_  
\_\_\_\_\_  
\_\_\_\_\_  
\_\_\_\_\_

2. ಮೃಗಾಲಯದಲ್ಲಿ ನಾವು ಪ್ರಾಣಿಗಳಿಗೆ ಏಕೆ ತಿಂಡಿ ತಿನಿಸು ಕೊಡಬಾರದು?

ಉತ್ತರ: \_\_\_\_\_  
\_\_\_\_\_  
\_\_\_\_\_  
\_\_\_\_\_

\*\*\*\*\*

