



Jindal Vidya Mandir, JSW Hill Side Township

Periodic Test-II (2024- 25)

Class/Sec: IV/_____

Max. Marks: 40

Sub: Mathematics

Duration: 1 Hour 30 mins

Name : _____

Roll No. : _____

Date : _____

Set-A

Invigilator's Sign. : _____

General Instructions:

- This question paper is printed on 5 pages and has 29 questions.
 - It consists of two sections A and B . Section A is objective type and section B is subjective type.
 - All questions are compulsory.
-

Section A

A. Fill in the blank:

(7X1M=7M)

- 1) The radius is _____ of the diameter.
- 2) The line that divides each figure into two equal parts is called _____.
- 3) 1 liter = _____ ml.
- 4) Leap year comes after every _____ year.
- 5) A piece of paper on which the money need to pay is written is called _____.
- 6) a.m. stands for _____.
- 7) A cuboid has _____ faces and _____ edges.

B. Write T for true and F for false.

(7X1M=7M)

- 8) A quadrilateral has five sides. ()
- 9) 4:30pm can be written as 16:30 hours in 24-hour time format. ()
- 10) The distance between any two locations is measured in km. ()

- 11) A photo of Subhash Chandra Bose is printed on an Indian currency. ()
- 12) A line segment is a straight path between two fixed points.
- 13) The clock completes two full rotations in a day. ()
- 14) ₹202.50 can be expressed as 202 rupees and 50 paise. ()

C. Match the following:

(6X1M=6M)

S.no	Column A	Column B
15)	If a circle has a radius of 3.5 cm, its diameter will be	Ray
16)	Identical halves of Symmetrical Shapes	0.06 paise
17)	2kg 350g can be expressed in grams as	7cm
18)	Quarter to 10 at night	Exactly overlap each other.
19)	A line segment extended indefinitely in one direction is called	2350g
20)	6 paise can be expressed in decimal	9:45p.m.

Section B

D. Solve the following:

(7X2M=14M)

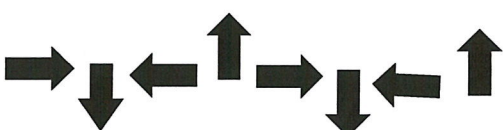
21) Add: 7Kg 366g and 6Kg 789g

22) Find time duration between 10 a.m. to 2:30 p.m.

23) Solve: ₹759.50 X ₹ 32.

24) Identify the pattern rule in each sequence and list the next three terms.

i. 2, 4, 6, 8, _____, _____, _____.

ii.  _____, _____, _____.


25) Define line segment and draw one-line segment with a length of 3 cm.

26) Convert the following:

i. 2089m into kilometer and meter.

ii. 26kg 304 g into gram.

27) Express the time in two different formats.



i. _____

ii. _____

E. Solve the following:

(2X3M=6M)

28) Bobby has ₹ 3455 with him. He buys two chairs for ₹ 735.50 each and two corner tables for ₹ 516.00 each. How much did he spend? How much money was he left with him?

29) A train left Torangallu railway station at 16:30 hours on Sunday for Indore. It reached Indore station after 28 hours. At what time did it reach Indore?

David

Michael



Jindal Vidya Mandir, JSW Hill Side Township
Periodic Test-II (2024-25)

Class/Sec: IV_____

Set-A

Max. Marks: 40

Sub: Hindi (II Language)

Duration: 1:30 Minutes

Student Name:_____

Date:_____

Invigilator's Sign:_____

Roll No:_____

सामान्य निर्देश: प्रश्न-पत्र के 4 खंड हैं - क, ख, ग, घ।

सारे खंडों के प्रश्नों के उत्तर देना अनिवार्य है।

खंड-क (अपठित गद्यांश-अंक 5)

प्रश्न-1. दिए गए अपठित गद्यांश को पढ़कर निम्नलिखित प्रश्नों के सही उत्तर विकल्पों से चुनकर लिखिए-

अमित की राशन की दुकान थी। उसकी दुकान पर दालें, चावल और आटे से लेकर नमकीन, बिस्कुट आदि सब कुछ मिलता था। ऐसी कोई चीज़ न होगी जो उसकी दुकान पर न मिलती हो। एक बार दुकान पर रखी शहद की बोतल उलट गई। चारों ओर से कई मक्खियाँ उस बिखरे शहद पर टूट पड़ीं। सब कुछ भूलकर वे शहद चाटने लगीं। वे शहद चाटने में इतनी मगन हो गईं कि उन्हें पता ही नहीं चला कि कब उनके पैर शहद में चिपक गए। अब उनके लिए उड़ना मुश्किल हो गया। उन्हें अपने लालच पर पछतावा होने लगा।

5x1=5

1) अमित की किस चीज़ की दुकान थी ?

(क) राशन की

(ख) दूध की

(ग) सब्जी की

(घ) मिठाई की

उत्तर: _____

2) एक बार दुकान पर रखी _____की बोतल उलट गई।

(क) जूस की

(ख) दूध की

(ग) शहद

(घ) रस की

उत्तर: _____

3) शहद के चारों ओर कौन टूट पड़ा ?

(क) जानवर

(ख) तोता

(ग) मक्खियाँ

(घ) चीटियाँ

उत्तर: -----

4) अब किनके लिए उड़ना मुश्किल हो गया ?

(क) जानवर के लिए

(ख) तोता के लिए

(ग) मक्खियों के लिए

(घ) चीटियाँ

उत्तर: -----

5) शहद में मक्खियों का क्या चिपक गया था ?

(क) हाथ

(ख) पैर

(ग) पंख

(घ) इनमें से कोई नहीं

उत्तर: -----

खंड-ख (व्याकरण भाग-अंक 15)

प्रश्न II. प्रश्नों को ध्यान पूर्वक पढ़कर दिए गए विकल्पों में से सही विकल्प चुनकर लिखिए-

12X1=12

(1) 'समान और सामान' शब्द का अर्थ है -

(क) असमान और समान

(ख) चीज और सामान

(ग) एक जैसे और वस्तुएँ

(घ) इनमें से कोई नहीं

उत्तर- -----

(2) 'दिन और दीन' शब्द का अर्थ है -

(क) अमीर और गरीब

(ख) अमीर और धनवान

(ग) दिवस और गरीब

(घ) दिन और रात

उत्तर- -----

(3) 'चूहा' शब्द का स्त्रीलिंग है -

(क) चूहे

(ख) चूजे

(ग) चुहिया

(घ) चूहा

उत्तर- -----

(4) 'बिल्ली' शब्द का पुलिंग है -

(क) बिलाव

(ख) बिलाऊ

(ग) कुत्ता

(घ) बिल्ली

उत्तर- _____

(5) 'बच्चा' शब्द का बहुवचन बताइए -

(क) बच्चों

(ख) बच्चओ

(ग) बच्चएँ

(घ) बच्चे

उत्तर- _____

(6) 'भाषाएँ' शब्द का एकवचन बताइए -

(क) भाषाओ

(ख) भाषा

(ग) आवाज

(घ) वाणी

उत्तर- _____

(7) 'वर्ण' शब्द का अनेकार्थी शब्द नहीं है -

(क) अक्षर

(ख) रंग

(ग) समूह

(घ) जाति

उत्तर- _____

(8) 'मत' शब्द के दो अर्थ बताइए

(क) समान और नहीं

(ख) वोट और नहीं

(ग) पूर्व और उत्तर

(घ) रंग और वोट

उत्तर- _____

(9) 'जिराफ की गर्दन लंबी है' इस वाक्य में विशेषण शब्द बताइए -

(क) लंबी

(ख) जिराफ

(ग) गर्दन

(घ) की

उत्तर- _____

(10) 'यह घड़ी सुंदर है' इस वाक्य में विशेषण शब्द बताइए -

(क) है

(ख) यह

(ग) घड़ी

(घ) सुंदर

उत्तर- _____

(11) 'आप विद्यालय जा रहे हैं' इस वाक्य में काल का भेद बताइए -

- (क) भूतकाल (ख) भविष्य काल (ग) वर्तमान काल (घ) इनमें से कोई नहीं

उत्तर- _____

(12) 'हम कल शिमला गए थे' इस वाक्य में काल का भेद बताइए -

- (क) भूतकाल (ख) भविष्य काल (ग) वर्तमान काल (घ) इनमें से कोई नहीं

उत्तर- _____

प्रश्न III नीचे दिए गए वाक्यों में सही विरामचिन्ह लगाकर वाक्यों को पुनःलिखिए -

3X1=3

(। , ? " ")

(क) तुम धरती के कौन से भाग से आई हो

उत्तर- _____

(ख) अंकुर नेहा सोनू और प्रिया खेल रहे हैं।

उत्तर- _____

(ग) महात्मा गांधी 2 अक्टूबर को पैदा हुए थे

उत्तर- _____

खंड-'ग'(पठित भाग-10 अंक)

प्रश्न IV. निम्नलिखित प्रश्नों के उत्तर (10 से 20) शब्दों में दीजिए -

2X2=4

(1) बच्चों ने खाने-पीने की चीजें छींके में क्यों रखीं ?

उत्तर- _____

(2) 'कौन ?' कविता में शरारती जीव कौन था ?

उत्तर- _____

प्रश्न V. निम्नलिखित प्रश्नों के उत्तर (20 से 30) शब्दों में दीजिए -

2X3=6

(1) संन्यासी ने सीधे-सीधे शब्दों में भिक्षा क्यों नहीं माँग ली ?

उत्तर- _____

(2) 'स्वतंत्रता की ओर' इस कहानी को पढ़कर तुम्हें बापू के बारे में कई बातें पता चली होंगी।
उनमें से कोई तीन बातें यहाँ लिखो।

उत्तर- _____

खंड-घ (लिखित भाग अंक-10)

प्रश्न VI. नीचे दिए गए विषयों में से किसी एक विषय पर 50 से 60 वाक्य का अनुच्छेद -
लिखिए -


1X5=5

(क) मेरा प्रिय खेल

(ख) दीपावली

उत्तर- _____

प्रश्न VII) ग्राहक और सब्जी विक्रेता के बीच होने वाले संवाद को 30 से 40 शब्दों में लिखिए - 1X5=5
उत्तर-



Jindal Vidya Mandir, JSW Hill Side Township
Periodic Test - II (2024-25)
Set-A

Class: IV / Sec: ____

Subject: Kannada(II Language)

Student Name: _____

Invigilator's Sign: _____

Maximum Marks: 40

Duration: 1Hr 30min.

Date: _____

Roll No : _____

ಸೂಚನೆಗಳು:-* ಪತ್ರಿಕೆಯು A ಮತ್ತು B ಎಂಬ ಎರಡು ಭಾಗಗಳನ್ನು ಒಳಗೊಂಡಿರುತ್ತದೆ.

* ಪ್ರಶ್ನೆ ಪತ್ರಿಕೆಯಲ್ಲಿ ಒಟ್ಟು 12 ಮುಖ್ಯ ಪ್ರಶ್ನೆಗಳಿವೆ ಮತ್ತು 7 ಪುಟಗಳನ್ನೊಳಗೊಂಡಿದೆ.

* ಎಲ್ಲಾ ಪ್ರಶ್ನೆಗಳಿಗೂ ಕಡ್ಡಾಯವಾಗಿ ಉತ್ತರಿಸಿ.

I. ಈ ಕೆಳಗೆ ಕೊಟ್ಟಿರುವ ಪಠ್ಯೇತರ ಗದ್ಯಭಾಗವನ್ನು ಓದಿ, ಈ ಕೆಳಗಿನ ಪ್ರಶ್ನೆಗಳಿಗೆ ಬಹು ಆಯ್ಕೆ ಉತ್ತರಗಳ ಸಹಾಯದಿಂದ ಉತ್ತರಿಸಿ:

4X1=4

ಎಪಿಜೆ ಅಬ್ದುಲ್ ಕಲಾಂ ಇವರು 1931 ರ ಅಕ್ಟೋಬರ್ 15 ರಂದು ತಮಿಳುನಾಡಿನ ರಾಮೇಶ್ವರಂನಲ್ಲಿ ತಂದೆ ಜೈನುಲಾಬ್ದೀನ್ ಮರಕಯಾರ್, ತಾಯಿ ಆಶಿಯಮ್ಮ ಎಂಬುವವರ ಮಗನಾಗಿ ಜನಿಸಿದರು. ಇವರ ಪೂರ್ಣ ಹೆಸರು ಪಕೀರ್ ಜೈನುಲಾಬ್ದೀನ್ ಅಬ್ದುಲ್ ಕಲಾಂ. ಇವರು 11 ನೇ ರಾಷ್ಟ್ರಪತಿ ಆಗಿ ಸೇವೆ ಸಲ್ಲಿಸಿದ ಅತ್ಯಂತ ಪ್ರೀತಿಪಾತ್ರ ಹಾಗೂ ಗೌರವಾನ್ವಿತ ವ್ಯಕ್ತಿ. ಇವರು “ಭಾರತದ ಕ್ಷಿಪಣಿ ಮನುಷ್ಯ” ಮತ್ತು “ಜನರ ರಾಷ್ಟ್ರಪತಿ” ಎಂದು ಖ್ಯಾತರಾಗಿದ್ದರು. ಇವರು ದೇಶದ ಕ್ಷಿಪಣಿ ಅಭಿವೃದ್ಧಿ ಕಾರ್ಯಕ್ರಮದಲ್ಲಿ ಪ್ರಮುಖ ಪಾತ್ರವಹಿಸಿದ್ದರು. ಅಗ್ನಿ ಮತ್ತು ಪೃಥ್ವಿ ಕ್ಷಿಪಣಿಗಳನ್ನು ಅಭಿವೃದ್ಧಿಪಡಿಸುವುದರಲ್ಲಿ ಇವರ ಕೊಡುಗೆ ಅಪಾರವಿದೆ. ಅವರ ಜೀವನವು ಸ್ವಪ್ನಗಳನ್ನು ಬೆಳೆಸುವ, ಶ್ರಮಕ್ಕೆ ಮಹತ್ವ ನೀಡುವ, ಮತ್ತು ದೇಶ ಸೇವೆಗೆ ಪ್ರೇರಣೆ ನೀಡುವ ಒಂದು ಪ್ರಬಲ ಸಂಕೇತವಾಗಿದೆ.

ಪ್ರಶ್ನೆಗಳು.

1. ಎಪಿಜೆ ಅಬ್ದುಲ್ ಕಲಾಂರವರ ತಂದೆ _____

(i) ಪಕೀರ್ (ii) ಜೈನುಲಾಬ್ದೀನ್ ಮರಕಯಾರ್ (iii) ಜೈನುಲಾಬ್ದೀನ್ (iv) ಆಶಿಯಮ್ಮ

2. ಕಲಾಂರವರು _____ ಮನುಷ್ಯ ಎಂದು ಖ್ಯಾತಿ ಪಡೆದಿದ್ದರು.

(i) ಭಾರತದ ಉಕ್ಕಿನ (ii) ಭಾರತದ ಬಲಿಷ್ಠ (iii) ಭಾರತದ ಕ್ಷಿಪಣಿ (iv) ಭಾರತದ ಭದ್ರತೆ

3. _____ ಕಾರ್ಯಕ್ರಮದಲ್ಲಿ ಪ್ರಮುಖ ಪಾತ್ರವಹಿಸಿದ್ದಾರೆ.

(i) ದೇಶದ ಮಹಿಳೆಯರ ಅಭಿವೃದ್ಧಿ (ii) ದೇಶದ ಮಕ್ಕಳ ಅಭಿವೃದ್ಧಿ
 (iii) ದೇಶದ ಅಲ್ಪಸಂಖ್ಯಾತರ ಅಭಿವೃದ್ಧಿ (iv) ದೇಶದ ಕ್ಷಿಪಣಿ ಅಭಿವೃದ್ಧಿ

4. ಕಲಾಂರವರು ತಮಿಳುನಾಡಿನ _____ನಲ್ಲಿ ಜನಿಸಿದರು.

(i) ತಂಬೂರು (ii) ರಾಮೇಶ್ವರಂ (iii) ತೀರ್ಥಪ್ಪೇರ (iv) ನಲ್ಲೂರು

II. ಈ ಕೆಳಗೆ ಕೊಟ್ಟಿರುವ “ಬಾವಿಯಲ್ಲಿ ಚಂದ್ರ” ಪಠ್ಯದಲ್ಲಿನ ಪರಿಚಿತ ಪದ್ಯಭಾಗವನ್ನು ಓದಿ, ಕೊಟ್ಟಿರುವ ಪ್ರಶ್ನೆಗಳಿಗೆ ಉತ್ತರಿಸಿ. 3X1=3

ತಿಂಗಳು ಬೆಳಕಿನ ಇರುಳಿನಲಂದು
ಅಮ್ಮನು ಕೆಲಸದೊಳಿರುತಿರೆ ಕಂಡು
ಗೋಪಿಯು ಪುಟ್ಟುವು ಹೊರಗಡೆ ಬಂದು
ಬಾವಿಗೆ ಇಣುಕಿದರು.

ಬಾವಿಲಿ ಚಂದ್ರನ ಬಿಂಬವ ಕಂಡು
ಚಂದ್ರನು ಬಾವಿಗೆ ಬಿದ್ದನು ಎಂದು
ಅಯ್ಯೋ! ಪಾಪವೆ! ಎನ್ನುತಲೊಂದು
ಕೊಕ್ಕೆಯ ಹುಡುಕಿದರು.

ಚಂದ್ರನ ಮೇಲಕ್ಕೆ ಎತ್ತಲಿಕೆಂದು
ಬಾವಿಯ ಹಗ್ಗಕ್ಕೆ ಕೊಕ್ಕೆಯ ಬಿಗಿದು
ದೂರದಿ ಗೋಪಿಯ ನಿಲ್ಲಿಸಿ ಪುಟ್ಟು
ಹಗ್ಗವನಿಳಿಸಿದನು.

* ಪ್ರಶ್ನೆಗಳು:

1. ಕೊಕ್ಕೆಯನ್ನು ಏಕೆ ತಂದರು?

2. ಗೋಪಿ, ಪುಟ್ಟು ಏನನ್ನು ಇಣುಕಿ ನೋಡಿದರು?

3. ಚಂದ್ರನು ಬಿಂಬ ಎಲ್ಲಿತ್ತು?

III. ಈ ಕೆಳಗೆ ಕೊಟ್ಟಿರುವ ಮಹಿಳಾ ದಿನಾಚರಣೆ ಗದ್ಯಭಾಗವನ್ನು ಓದಿ, ಈ ಕೆಳಗಿನ ಪ್ರಶ್ನೆಗಳಿಗೆ ಉತ್ತರಿಸಿ:

3X1=3

ಜಾಗತಿಕವಾಗಿ ವಿವಿಧ ಕ್ಷೇತ್ರಗಳ ಮಹಿಳೆಯರ ಸಾಧನೆಗಳನ್ನು ಗೌರವಿಸಲು ಪ್ರತಿವರ್ಷ ಮಾರ್ಚ್ ೮ ರಂದು ಅಂತಾರಾಷ್ಟ್ರೀಯ ಮಹಿಳಾ ದಿನವನ್ನು ಆಚರಣೆ ಮಾಡಲಾಗುತ್ತದೆ. ಈ ಆಚರಣೆಯು ವಿವಿಧ ಕ್ಷೇತ್ರಗಳಲ್ಲಿ ಉತ್ತಮ ಸಾಧನೆ ಮಾಡಿದ ಮಹಿಳೆಯರಿಗೆ ಮನ್ನಣೆ ನೀಡುತ್ತದೆ. ಸಮಾಜ ಮತ್ತು ದೇಶದ ಕಲ್ಯಾಣಕ್ಕೆ ಮಹಿಳೆಯರು ಗಣನೀಯ ಕೊಡುಗೆ ನೀಡುತ್ತಿದ್ದಾರೆ. ಮಹಿಳಾ ದಿನಾಚರಣೆಯು ಪ್ರತಿಯೊಬ್ಬರ ಜೀವನದಲ್ಲಿ ಮತ್ತು ಸಮಾಜದಲ್ಲಿ ಮಹಿಳೆಯರ ಬಗ್ಗೆ ಮೆಚ್ಚುಗೆ, ಗೌರವ, ಪ್ರೀತಿ ಮತ್ತು ಕಾಳಜಿಯ ಸಂಕೇತವಾಗಿದೆ. ಹಿಂದೆ ಮಹಿಳೆಯರು ಮನೆಗಳಲ್ಲಿ ನಿರ್ಬಂಧವನ್ನು ಹೊಂದಿದ್ದರು ಮತ್ತು ಕೆಲಸ ನಿಮಿತ್ತ ಮನೆಯಿಂದ ಹೊರಗೆ ಕಾಲಿಡುವಂತಿರಲಿಲ್ಲ. ಆದರೆ ಆಧುನಿಕ ಮಹಿಳೆಯರು ಕೆಲಸದಲ್ಲಿ ಸಮಾನ ಅವಕಾಶ ಪಡೆದುಕೊಂಡಿದ್ದಾರೆ.

ಪ್ರಶ್ನೆಗಳು:

1. ಮಹಿಳಾ ದಿನಾಚರಣೆ ಎಂದರೇನು?.

2. ಮಹಿಳಾ ದಿನಾಚರಣೆಯು ಯಾವುದರ ಸಂಕೇತವಾಗಿದೆ?

3. ಮಹಿಳಾ ದಿನಾಚರಣೆ ಯಾವುದಕ್ಕೆ ಮನ್ನಣೆ ನೀಡುತ್ತದೆ?

IV. ಈ ಕೆಳಗೆ ಕೊಟ್ಟಿರುವ ಪ್ರತಿಯೊಂದು ಪ್ರಶ್ನೆಗಳಿಗೆ ನಾಲ್ಕು ಉತ್ತರವನ್ನು ಕೊಡಲಾಗಿದೆ. ಅವುಗಳಲ್ಲಿ ಸರಿಯಾದ ಪದವನ್ನು ಆರಿಸಿ ಬರೆಯಿರಿ.

6X1=6

1. 'ಅಂಗಡಿ' ಪದದ ಬಹುವಚನ ರೂಪ _____

(i) ಅಂಗಡಿಯು (ii) ಅಂಗಡಿರು (iii) ಅಂಗಡಿಗಳು (iv) ಅಂಗಡಿಯಿಂದ

2. 'ವಿದ್ಯಾರ್ಥಿ' ಪದದ ಸ್ತ್ರೀಲಿಂಗ ರೂಪ _____

(i) ವಿದ್ಯಾರ್ಥಿಗಳು (ii) ವಿದ್ಯಾರ್ಥಿನಿ (iii) ವಿದ್ಯಾರ್ಥಿನಯು (iv) ವಿದ್ಯಾರ್ಥಿನಿಯು

3. ಅಬ್ಬಾ ! ಜೋಗಜಲಪಾತ ಎಷ್ಟು ಸುಂದರವಾಗಿದೆ. ಈ ವಾಕ್ಯದಲ್ಲಿರುವ ಲೇಖನಚಿಹ್ನೆ _____

(i) ಭಾವಸೂಚಕ (ii) ಪ್ರಶ್ನಾರ್ಥಕ (iii) ವಿವರಣೆ (iv) ಅರ್ಥವಿರಾಮ

4. ಮುಕ್ತಾಯ x _____ (ಈ ಪದದ ವಿರುದ್ಧ ಪದ)

(i) ಆರಂಭ (ii) ಕೊನೆ (iii) ಅನ್ಯಾಯ (iv) ಆಮುಕ್ತಾಯ

5. ಹೇಡಿ: _____ (ಈ ಪದದ ಅರ್ಥ)

(i) ಅಂಜುಬರುಕ (ii) ಉಪಾಯ (iii) ದಕ್ಷತೆ (iv) ದಾಸ್ಯ

6. . ನಾವು + ಏಕೆ = _____ (ಕೂಡಿಸಿ ಬರೆಯಿರಿ) .

(i) ನಾವುಗಳು (ii) ನಾವುಹಳು. (iii) ನಾವೇಕೆ (iv) ನೀವೇಕೆ

V. ಈ ಕೆಳಗೆ ಕೊಟ್ಟಿರುವ ಪದಗಳನ್ನು ಬಳಸಿ ಸ್ವಂತ ವಾಕ್ಯ ರಚಿಸಿರಿ:

2X1=2

1. ಸಂದೇಹ= _____.

2. ಪ್ರವಾಸ= _____.

VI. ಈ ಕೆಳಗೆ ಕೊಟ್ಟಿರುವ ವಾಕ್ಯಗಳನ್ನು ಸರಿಪಡಿಸಿ ಪುನಃ ಬರೆಯಿರಿ.

2X1=2

1. ಮೇರಿಕೋಮ್ ಸಂಗೀತ ಕ್ಷೇತ್ರದಲ್ಲಿ ಸಾಧನೆ ಮಾಡಿದ್ದಾರೆ.

_____.

2. ಪುರುಷರ ಭಾವಚಿತ್ರಗಳಿಗೆ ಹೂಮಾಲೆ ಹಾಕಿ ಸಿಂಗರಿಸಿದರು.

_____.

VII. ಈ ಕೆಳಗೆ ಕೊಟ್ಟಿರುವ ಚಿತ್ರವನ್ನು ಗಮನಿಸಿ, ನಾಲ್ಕೈದು ವಾಕ್ಯಗಳನ್ನು ಬರೆಯಿರಿ:

1X3=3



VIII. ನಿಮ್ಮ ಚಿಕ್ಕಪ್ಪನ ಮದುವೆಯ ಕಾರಣ ನೀಡಿ ೨ ದಿನಗಳ ರಜೆ ಕೋರಿ, ನಿಮ್ಮ ತರಗತಿ ಶಿಕ್ಷಕರಿಗೆ ಒಂದು ಪತ್ರ ಬರೆಯಿರಿ.

ಅಥವಾ

1X4=4

ನಿಮ್ಮ ಅನಾರೋಗ್ಯದ ಕಾರಣ ನೀಡಿ ೪ ದಿನಗಳ ರಜೆ ಕೋರಿ, ನಿಮ್ಮ ಶಾಲೆಯ ಮುಖ್ಯೋಪಾಧ್ಯಾಯರಿಗೆ ಒಂದು ಪತ್ರ ಬರೆಯಿರಿ

$$1 \times 3 = 3$$

2. ಸಾಧಕಿ ಕಲ್ಪನಾ ಚಾವ್ಲ

This image shows a single sheet of white paper with horizontal blue or grey ruling lines. The lines are evenly spaced and run across the width of the page. On the right side, there is a small, light-colored circular mark, possibly a punch hole or a smudge. The paper appears to be a standard notebook page.

 $4 \times 1 = 4$

භාෂ්‍ය:_____

ಉತ್ತರ: _____

3. 'ಫ್ಲಾಟ್ ಫಾರಂ' ಎಂದರೇನು?

ಉತ್ತರ: _____

4. ಮಕ್ಕಳೆಲ್ಲರು ಎಲ್ಲಿಗೆ ಪ್ರವಾಸ ಹೋಗಲು ಸಿದ್ಧರಾದರು?

ಉತ್ತರ: _____

XI . ಈ ಕೆಳಗೆ ಕೊಟ್ಟಿರುವ ಮಾತನ್ನು ಯಾರು - ಯಾರಿಗೆ ಹೇಳಿದರು? ಸಂದರ್ಭ ಸಹಿತ ವಿವರಿಸಿ.

1X2=2

1. "ನಿನ್ನನ್ನು ಪಡೆದ ನಾವೇ ಧನ್ಯರು"

XII. ಈ ಕೆಳಗೆ ಕೊಟ್ಟಿರುವ ಪ್ರಶ್ನೆಗಳಿಗೆ ಎರಡು-ಮೂರು ವಾಕ್ಯಗಳಲ್ಲಿ ಉತ್ತರಿಸಿ:

2X2=4

1. ಬೆಳಗೋಳ ಬೆಟ್ಟದಲ್ಲಿ ಮೂರ್ತಿಗಳನ್ನು ನೋಡುತ್ತಿದ್ದರೆ ಭಕ್ತಿ ಏಕೆ ಉಕ್ಕಿ ಬರುತ್ತದೆ?

ಉತ್ತರ: _____

2. ಸುಭದ್ರೆ ಅಭಿಮನ್ಯುವನ್ನು ಏನೆಂದು ಹರಸಿದಳು?

ಉತ್ತರ: _____



Jindal Vidya Mandir, JSW Hill Side Township
Periodic Test-II (2024-25)
SET A

Class: IV

Sub: EVS

Name: _____

Invigilator's Signature: _____

Max Marks: 40

Duration:

Roll no: _____

Date: _____

General Instructions:

-
- This question paper consists of 5 pages and 29 questions .
 - The question paper is divided into 2 sections - section A and section B
 - All the questions are compulsory.
-

Section A

I) Choose the correct option

3 X 1 = 3

1. Which of the following is a stem.

(a)beetroot (b)raddish (c)ginger (d)cabbage

Ans : _____.

2. What is a house with lots of flats in a single building called?

(a)banglow (b)penthouse (c)builder flat (d)multistorey building

Ans : _____.

3. The seat on a horse carriage is called a/an

(a)pouff (b)stool (c)ottoman (d)saddle

Ans : _____.

II) Fill in the blanks**5 X 1 = 5**

4. _____ is an example of pulses.
5. Drinking water is also called _____ water.
6. _____ are U - shaped pieces of metal which protect the feet of horses.
7. _____ animals help to carry heavy loads .
8. The symbol of Indian currency is _____ .

III) Match the following**5 X 1 = 5****Column A****Column B**

- | | | |
|----------------------|------------------------|---------|
| 9. Aestivation | (a) Collection of maps | - _____ |
| 10. Streamlined body | (b) Hills/Mountains | - _____ |
| 11. Relief map | (c) Frog | - _____ |
| 12. Atlas | (d) To find direction | - _____ |
| 13. Compass | (e) Fish | - _____ |

IV) Write True (T) or False (F)**3 X 1 = 3**

14. Houses in cities are made of long lasting materials. - _____
15. Water is made germ free by adding chlorine tablets - _____
16. None of the countries has its own currency notes and coins - _____

V) Answer in one word**4 X 1 = 4**

17. Night shelters for homeless people in Delhi are called - _____
18. Animals that live both on land and water - _____
19. Process of removing salt and other minerals from water- _____
20. A piece of land surrounded by water is called - _____

Section B

VI) Answer the following in two to three sentences.

7 X 2 = 14

21. Why should growing children be given a protein rich diet .

Ans-

22. What is the utility of ships and boats?

Ans-

23. Describe the houses in olden times.

Ans-

24. Give an example of master builder animals. Explain briefly.

Ans-

25. Write a short note on keys and scales.

Ans-

26. Name four waterborne diseases.

Ans-

27. What are islands and mountains? How are they different from each other?

Ans-


VII) Answer the following in brief

2 x 3 = 6

28. How do animals survive in different environmental conditions? Give examples.

Ans-

29. Draw a neat labelled diagram of water cycle.





Jindal Vidya Mandir,JSW Hill side Township

Periodic Test-II (2024-25)

Class: IV/ Sec: _____

SET-A

Max. Marks: 40

Subject: English

Duration: 1hr30mins

Student Name: _____

Roll No: _____

Invigilator's Sign: _____

Date: _____

- Instructions: This question paper contains 6 pages and has 5 questions.
- It is divided into 4 Sections.
- All the questions are compulsory.

Section A - Reading

Section B- Writing

Section C - Grammar

Section D- Literature

SECTION A- READING

IA.Read the following passage and answer the given questions: - 5X1=5M

We can never be alone if we make books our friends. Books entertain us when we are bored. They motivate us when we have no hope. They cheer us up when we feel sad. We gain knowledge about different cultures, human relationships and emotions by reading books. We also learn about faraway places without actually going there. Stories describe different characters and their problems, and show how they deal with these problems. We learn to sympathize with other people and how to face difficulties in our own lives. Books give us knowledge and wisdom. Reading increases our vocabulary and communication skills.

a. What are the benefits of reading books?

b. How do books help us understand other people?

c. How does reading improve our lives?

d. Why can books be considered our friends?

e. How can reading books affect our personal growth?

B. Read the poem carefully.

5X1=5M

The clouds float high, across the sky,
Soft and white, they drift on by.
Their shadows dance, upon the ground,
A gentle breeze, all around.

The clouds grow dark, with thunder's roar,
Heavy with rain, they pour and pour.
The storm subsides, the sun shines bright,
A beautiful rainbow, in sight.

Based on your understanding of the poem answer the questions given below:

a. What appears after the storm?

b. What happens to the clouds in the second stanza?

c. What does the poem describe as "gentle"?

d. Write past form of (i). pour _____ (ii). dance _____

SECTION B- WRITING

IIIA. Write a paragraph on ' The importance of technology'.

5X1=5M

This image shows a blank sheet of white paper with horizontal ruling lines. The lines are evenly spaced and run across the width of the page. There are no margins, text, or other markings on the paper.

B. Write a letter to your class teacher requesting her to grant you leave for two days to participate in cricket tournament. 5x1=5M

C. Complete these sentences with the correct possessives form of the pronouns given in brackets:

3X1=3M

- a. I did not have my textbook in class, so Anu gave me _____(she).
- b. I like this box. It is _____(you)?
- c. Those mango trees over there belongs to the Chawals. Who said they are _____(we)

SECTION D – LITERATURE

VA. Read the given extract from the poem and answer the following questions.

And when a moon floats on the sky
They hum a drowsy lullaby
Of sleepy children long ago-
Trees are the kindest things I Know.

- a. Name the poem and the poet. **2M**

- b. Write the meaning of (i). drowsy **1M**

- c. Why does the speaker say that trees are kind? **1M**

B. Answer the following in 2-3 sentences :

3X2=6M

- a. What kind of effort did Irah put in to fulfil her dream?

b. What is the Olympic motto and what does it imply?

c. Why was Irah grateful to her friends?
