



JINDAL VIDYA MANDIR, JSW HILL SIDE TOWNSHIP
Periodic Test-II (2024-2025)

SET-A

Class: VIII
Subject: English

Max. Marks: 40
Duration: 1 hr.30 min

General Instructions:

- The question paper consists of 5 pages and 4 main questions. It is divided into three sections A, B & C.
- All questions are compulsory. Mention correct serial numbers of the questions.
- Write neatly and legibly in the answer sheet.

SECTION-A (READING-10M)

I. A. Read the passage and answer the questions: (10x1=10M)

1. Experts say that what customers buy in the name of herbal cosmetics is often the same synthetic cosmetic with a herb or two added, which works to lure customers. A product that says it is 100% natural may be misleading in the sense that it's difficult to stabilize a fully natural base and is always quite expensive, requiring advanced technology. The desired shelf life of a product is expected to be at least two years, but that of a purely herbal product would be restricted to about six months. Also, the product won't be aesthetically appealing as the synthetic product. Hence, manufacturers of herbal products have to include synthetic base ingredients to balance the formula.

2. Herbal ingredients might also cause allergies as they may contain a large number of constituents which may be allergic to that user. Thus the concept of using 'total extracts' may be harmful, because there are several other ingredients going into the product. Also, things like pH need to be considered before using it.

3. According to the law experts, customers suing someone is considered extreme. Given the legal system in India and the long-drawn litigation process, consumers tend to pursue legal action against manufacturers/distributors in the event of any problem. However, with the dawn of consumer forums and more effective laws protecting the interests of the consumers, the trend is slowly moving towards this direction.

4. At times it is not just manipulative manufacturers and passive consumers but sometimes weak and absent rules regarding the process of manufacturing can also get fake production licenses. Also one cannot make a generalization that synthetics are safe while naturals are harmful. I would say that the difference is that if one is a known devil (synthetics) the other is unknown. Unlike the case of synthetic cosmetic, herbal cosmetics are still in

a *nascent* stage. You don't have well-defined standards for the use of raw materials in the production of herbal cosmetics.

5. Finally, customers can also check out their cosmetics by using the 'Cosmetics ingredient dictionary', a database of 19,000 ingredients. It claims to help users check out what chemical compounds they use daily. This App lets you feed the names of the ingredients written on the container into the app and then get the reading about it.

On the basis of your understanding of the passage, answer the questions.

a. What does often appear as the same synthetic cosmetic with a herb or two added, which works to lure customers? (Paragraph 1)

- (i) Natural cosmetics (ii) Artificial cosmetics
(ii) Herbal cosmetics (iv) Home-made cosmetics

b. Select the option that displays what the writer projects, with reference to the following. Herbal ingredients might also cause allergies as they may contain a large number of constituents which may be allergic to that user. (Paragraph 2)

- (i) doubt (ii) caution (iii) conviction (d) denial

c. Choose the correct option that suits best according to the passage.

- (i) A product that says it is 100% natural may be misleading.
(ii) A product that says it is 100% natural may be illegal.
(iii) A product that says it is 100% natural may be good.
(iv) A product that says it is 100% natural may be wonderful.

d. Complete the following with a phrase from paragraph (4)

| Opinion | Reason |
|---------|------------------|
| | Developing stage |

e. Evaluate the INAPPROPRIATE reason for the concept of harmfulness of 'total extracts'.

- (i) Proper use of natural extracts (ii) Use of artificial ingredients
(iii) Use of various ingredients is harmful (iv) Use of various ingredients in proportion

f. Complete the following analogy correctly with a word/phrase from paragraph 3.
modern: advance: :: steadily

g. What do consumers do if any problem arises?

h. Apart from manipulative manufacturers and passive consumers, how can fake production licenses be got?

i. What do the manufacturers of herbal products do to balance formula? Mention one point.

j. What does the Cosmetics ingredient dictionary claim?

SECTION- B (WRITING & GRAMMAR 10 M)

WRITING: 5 Marks

II. Answer any one of the following:

II. A. Write a short story in 100- 120 words, with the help of the cues given below. Give a suitable title to the story. (1x5=5M)

The boat capsized but I managed to survive. I walked on and on...

Outline: searched for men or houses.....completely exhausted..... collapsed..... I woke up.....arms and legs found tied down..... thousands of strings..... heard noises around.....forty tiny men climbed on me..... each 3 inches tall..... didn't understand what they wanted..... felt a thousand needles pricking my hand..... shooting an arrow..... protected eyes..... soon the ladder came..... sent hundreds of men up to my face..... I got milk and food.....

(OR)

II. B. Jindal Vidya Mandir, HST organized CCA Events Round 5 by arranging cookery contests, painting and poster making competitions etc., there was an overwhelming response from students and parents. Prepare a report in 100-125 words to be published in your school newsletter. You are Arjun/Anita, School Pupil Leader. (1x5=5M)

(OR)

II. C. You are Keerthan/Kriti, of Lal Bahadur Nagar, Chennai, you bought a new washing machine "BRP" from Radha Electronics, MG Road Chennai last week. Now you find the machine makes an unbearable noise and the motor tears delicate fabrics. Write a letter to the dealer complaining about the same and requesting him to change the machine as early as possible. (1x5=5M)

III. GRAMMAR: 5 Marks

III. Do as directed (5x1=5M)

1. Learning is my desire (dance). (Use the infinitive form of the verbs in the bracket at the correct place)
2. The teacher called me. She asked my father's name. (Join these sentences by using the infinitive form of the verbs)
3. I have been watching the birds for 20 minutes. (Change into past perfect continuous tense)
4. Had you saved the program before you powered the computer off? (Change into simple past tense)
5. You ought to be sleeping now. (Write the negative form of the modal)

SECTION C- (LITERATURE- 20 M)

IV. A. Read the extract and answer the questions.

(3X1=3M)

1. "But to go to school in a summer morn,
O' it drives all joy away,
under a cruel eye outworn,
The little ones spend the day,
In sighing and dismay."

1. What drives away all the joy?
2. What does 'cruel eye outworn' refer to?
3. Name the rhyme scheme of the stanza.

IV. B. Read the extract and answer the questions.

(3X1=3M)

1. "The experience of having climbed to the summit changes you completely. There is another summit. It is within yourself. It is in your own mind. Each man carries within himself his own mountain peak. He must climb it to reach a fuller knowledge of himself. It is fearful and unscalable."

1. Name the mountain that the writer had climbed.
a. Mount Everest (b) Kanchenjunga (c) Nanda Devi (d) Gangotri
2. Which is the other?
a. The summit of the Mount Everest b. The summit of the Mind
c. The summit of Kanchenjunga d. The summit of Desires
3. Choose two adjectives from the extract.

IV. C. Answer all the questions in about 15-20 words.

(4X2=8M)

1. In the architect's office, Hafeez Contractor was advised to drop everything and join architecture. Why?
2. Why does Jody want to bring the fawn home?
3. What was Mrs. Gupta's advice to Hafeez Contractor? What made her advise him so?
4. How did the deer drink the milk from the gourd?

IV. D. Answer any 2 of the following in about 30-40 words.

(2x3=6M)

1. What was it about Mount Everest that the author found irresistible?
2. How did Jody bring the fawn back home?
3. What are the three qualities that played a major role in the author's climb?
Why is adventure, which is risky, also pleasurable?

Class : VIII

Max. Marks : 40

Sub : Science

Set-A

Duration : 1 Hr 30 min

General Instructions:

- This question paper is divided into FIVE sections section A,B,C,D and E
 - In section-A , question number 1 to 10 are Multiple Choice Questions(MCQs) in which question number 9 and 10 are assertion and reason type questions carrying one mark each. In Section B - question number 11 to 13 are very short answer type questions carrying 2 marks each. In Section C - question number 14 and 15 are short answer type questions carrying 3 marks each. Section D - question number 16 and 17 are long answer type questions carrying 5 marks each. In Section E - question number 18 and 19 are of source based /case based units of assessment carrying 4 marks each with sub parts.
 - All questions are compulsory.
-

Section A

I. Choose the correct answer for the following:

8 X 1 = 8 M

1. Two students are playing musical instruments: one on a drum and the other on a flute. The drum produces a low-pitched sound, while the flute produces a high-pitched sound. Which statement best explains the difference?
 - a. The drum creates sound with a higher frequency, and the flute has a lower frequency.
 - b. The drum's vibrations are faster than the flute's.
 - c. The flute produces sound with a higher frequency, while the drum produces sound with a lower frequency.
 - d. The drum and flute have the same frequency but different amplitudes.
2. In an experiment, a student finds that lemon juice can conduct electricity. What property of lemon juice enables this?
 - a. It contains acids, which have free ions.
 - b. It contains sugar, which conducts electricity.
 - c. It is thick, which increases conductivity.
 - d. It has a high boiling point.

3. Which of the following best explains why sound cannot travel through space?
- a. Space is too large for sound to travel.
 - b. Space has no particles for sound to travel through.
 - c. Sound waves are blocked by stars and planets.
 - d. Sound waves are too weak to reach space.
4. An object is vibrating at 50 Hz. What is its time period?
- a. 0.02 sec
 - b. 2 sec
 - c. 0.2 sec
 - d. 20 sec
5. What does the movement of the earth's plates causes?
- a. Cyclones
 - b. Thunderstorms
 - c. Earthquake
 - d. Lightning
6. When Priyal touched a charged body, the charges flow through her into the earth. What is this process called?
- a. Induction
 - b. Conduction
 - c. Capacitance
 - d. Earthing
7. What happens when an ebonite rod rubbed with fur and a glass rod rubbed with silk are brought near each other?
- a. They attract each other.
 - b. They repel each other.
 - c. They acquire heat.
 - d. Nothing happens to them.
8. Which of the following cannot be charged easily by friction?
- a. A plastic scale.
 - b. A copper rod.
 - c. An inflated balloon.
 - d. A woollen cloth.

II. The question below consists of an assertion and a Reason. Use the following key to choose the appropriate answer. 2 X 1 = 2 M

- (a) Both A and R are true and R is the correct explanation of A.
- (b) Both A and R are true but R is not the correct explanation of A.
- (c) A is true but R is false.
- (d) A is false but R is true.

9. Assertion (A) : One of the most reliable method to prevent metal objects from rust is electroplating.

Reason : Electroplating is the process of depositing a layer of metal on to another with the help of electricity.

10. Assertion : Electrical charges can be transferred from a charged object to another through a metal conductor.

Reason : Metal is a bad conductor of electricity.

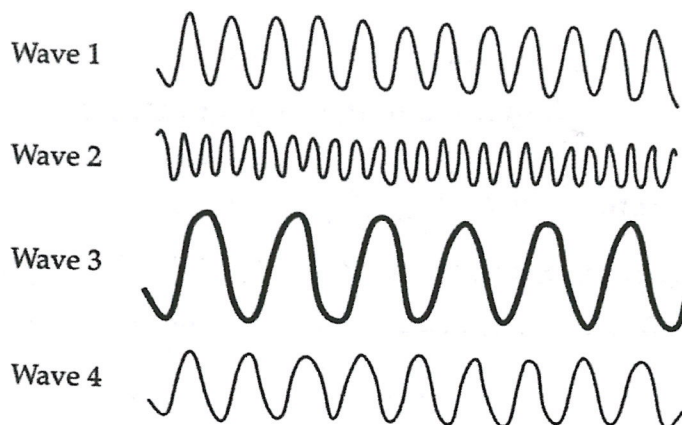
Section B

III. Answer the following questions .

3 X 2 = 6 M

11. A child staying in a coastal region test the drinking water and also sea water with his tester. He finds that the compass needle deflects more in the case of seawater. Explain the reason.

12. Observe the picture given here and answer the following questions.



a) Which sound has the highest pitch and why?

b) Which wave will produce the loudest sound and why?

13. Plastic straws A and B are rubbed with a dry cotton cloth. What will happen if they are brought near to each other and why?

Section - C

IV. Answer the following questions .

2 X 3 = 6 M

14. During the construction of the building the lightning conductor was left hanging in the air by mistake. Would the lightning conductor be still effective? Explain.
15. An electric current is passed through a conducting solution. List any three possible observations.

Section D

V. Answer the following questions .

2 X 5 = 10 M

16. You are provided with a magnetic compass, an empty matchbox, a battery of two cells and connecting wires. Using these objects, how will you make a tester for testing an electric circuit? Draw the necessary circuit diagram and explain.
17. Differentiate between noise and music? Suggest three measures to limit the noise pollution in your locality.

Section E

VI. Read the given passage and answer the following questions.

2 X 4 = 8M


18. An earthquake of magnitude 6.2 struck a city at night. Power lines were damaged, roads cracked, and there was chaos as people rushed out of their homes. Emergency services struggled to reach affected areas due to blocked roads.

Questions:

- a. What does the magnitude of 6.2 indicate about the earthquake? 1 M
- b. Why were emergency services delayed in reaching affected areas? 1 M
- c. Suggest two steps authorities can take to manage such disasters more effectively. 1 M
- d. What should individuals do if they are inside a building during such an earthquake? 1 M
19. A factory worker uses copper electrodes and a copper sulphate solution to coat a key with copper. He connects the key to the negative terminal of a battery and the copper electrode to the positive terminal.

Question:

- a. Explain how the process of electroplating occurs in this setup. 2 M
- b. Why is the key connected to the negative terminal? 2 M



Jindal Vidya Mandir, JSW Hill Side Township
Periodic Test-II (2024 – 25)

SET-A

Class: VIII

MAX.MARKS:40

Sub: Mathematics

Duration: 1 hr 30 Minutes

General instructions:

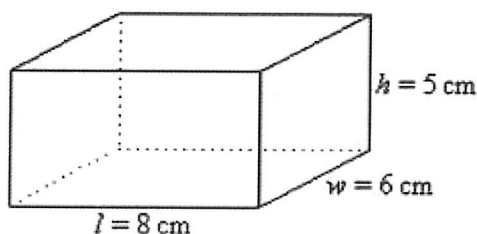
- This question paper consists of 3 pages and VII main questions.
 - It contains 27 questions.
 - This question paper consists of two sections, A and B. Section A is objective type and section B is subjective type.
 - All questions are compulsory.
-

Section A

I) Choose the correct option from the following.

5X1M=5 M

1. The percentage form of 3:4 is _____.
a.25% b.20% c.75% d.50%
2. The ratio of speed of a cycle 15 km per hour to the speed of scooter 30 km per hour is _____.
a.1:2 b. 2:1 c. 1:2000 d.2000:1
3. The area of a rectangle with length and breadth of $4ab$ and $5bc$ is _____.
a. $15abc$ b. $20ab^2c$ c. $9abc$ d. $15a^2b^2c^2$
4. The volume of the cube with a side 4 cm is _____.
a.30 cm b.15cm c. 64cm^3 d.45cm
5. The volume of the cuboid given is _____.



- a. 240cm^3 b. 250 cm^3 c. 36 cm^3 d. 160 cm^3

II) Fill in the blanks**5X1M=5 M**

6. Amount of region occupied by a solid is called its _____
7. _____ is the extra money paid by institutions like banks or post offices on the money deposited with them.
8. An _____ is formed from variables and constants.
9. Terms having same variables with same powers are known as _____.
10. VAT stands for _____.

III) Match the following**5X1M=5 M**

| | Column A | | Column B |
|-----|--|----|---|
| 11. | 1cm^3 | a. | 36cm^3 |
| 12. | Add $7x^2-4x+5, 9x-10$ | b. | 1mL |
| 13. | Volume of cuboid with sides 12 cm, 3cm, 1 cm | c. | Tax % of bill amount |
| 14. | The product $(x-y)$ and $(3x+5y)$ | d. | $7x^2+5x-5$ |
| 15. | Compound interest | e. | $3x^2-5y^2+2xy$ |
| | | f. | Interest calculated on previous year's amount |

IV) Very Short Answer Questions**5X1M=5 M**

16. A table marked at ₹ 15,000 is available for ₹ 14,400. Find the discount given and discount percent.
17. Simplify the expression and evaluate $3x(2x - 7) - 3(x - 4) - 63$ for $x = -2$
18. The area of a rhombus is 320cm^2 and one of the diagonals is 16cm. Find the other diagonal
19. Subtract $5x^2 - 4y^2 + 6y - 3$ from $7x^2 - 4xy + 8y^2 + 5x - 3y$
20. Find the height of a cuboid whose base area is 180cm^2 and volume is 900cm^3 ?

Section B

V) Solve the following

3X2M=6 M

21 i. Simplify $a(a^2 + a + 1) + 5$ find its value for $a = 1$

ii. Add. $p(p - q)$, $q(q - r)$ and $r(r - p)$


22. KMF was supplying milk in a cylindrical tank whose radius is 1.5m and length is 7m. Find the quantity of milk that can be stored in the tank?

23. Aryan bought an air cooler for ₹ 3300 including a VAT of 10%. Find the price of the air cooler before VAT was added?

VI) Do as directed

2X3M=6 M

24. A rectangular piece of paper 11 cm x 4 cm is folded without overlapping to make a cylinder of height 4cm. Find the lateral surface area and volume of the cylinder.

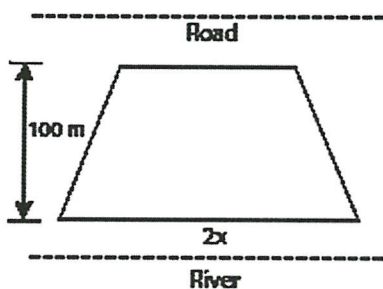


25. If 40% of people in a HST township like cricket, 30% like football and the remaining like other games, then what percent of people like other games? If the total number of people is 5 lakh, find the exact number who like each type of game?

VII) Evaluate the following

2X4M=8M

26. Ayush wants to buy a trapezium shaped field. Its side along the river is parallel to and twice the side along the road. If the area of this field is $10,500\text{m}^2$ and the perpendicular distance between the two parallel sides is 100m, find the length of the side along the river?



27. Ananth deposited ₹ 12600 in Bank of Baroda which will be compounded annually at a rate of 10% per annum. Find the compound interest he will get at the end of 3 years.

DL
13/12/24 *DL*

DL
13/12/24

ಸೂಚನೆಗಳು:-

ಈ ಪ್ರಶ್ನೆ ಪತ್ರಿಕೆಯಲ್ಲಿ ಒಟ್ಟು 11 ಮುಖ್ಯ ಪ್ರಶ್ನೆಗಳು ಮತ್ತು 5 ಪುಟಗಳು ಇರುತ್ತವೆ.
ಈ ಪ್ರಶ್ನೆ ಪತ್ರಿಕೆಯು ಭಾಗ ಏ ಮತ್ತು ಭಾಗ ಬಿ ಎಂಬ ಎರಡು ಭಾಗಗಳನ್ನು ಮತ್ತು ಎ ಬಿ ಸಿ ಡಿ ಎಂಬ ನಾಲ್ಕು ವಿಭಾಗಗಳನ್ನು ಒಳಗೊಂಡಿರುತ್ತದೆ.
ವಿಭಾಗ ಎ ನಲ್ಲಿ ನಾಲ್ಕು ಮುಖ್ಯ ಪ್ರಶ್ನೆಗಳು ನಾಲ್ಕು ಬಹು ಆಯ್ಕೆಯ ಉಪ ಪ್ರಶ್ನೆಗಳು ಮತ್ತು ಬರವಣಿಗೆಯ ಆರು ಪ್ರಶ್ನೆಗಳಿರುತ್ತವೆ.
ಭಾಗ ಎ ಅನ್ವಯಿಕ ವ್ಯಾಕರಣದಲ್ಲಿ ಐದು ಬಹು ಆಯ್ಕೆಯ ಪ್ರಶ್ನೆಗಳು ಮೂರು ಬರವಣಿಗೆಯ ಪ್ರಶ್ನೆಗಳು ಮತ್ತು ಪಠ್ಯಪೂರಕದ ಎರಡು ಬಹು ಆಯ್ಕೆ ಪ್ರಶ್ನೆಗಳಿಗೆ ಉತ್ತರಿಸಬೇಕು.
ಭಾಗ ಬಿ ಬರವಣಿಗೆ ಕೌಶಲ್ಯ ವಿಭಾಗ ಸಿ ನ ಎಲ್ಲಾ ಪ್ರಶ್ನೆಗಳಿಗೆ ಉತ್ತರಿಸಬೇಕು.
ಭಾಗ ಬಿ ಪಠ್ಯಗಳ ಅಧ್ಯಯನ ಅಲ್ಲಿನ ವಿಭಾಗ ಡಿ ಯಲ್ಲಿನ ಎಂಟರಿಂದ 11 ಮುಖ್ಯ ಪ್ರಶ್ನೆಗಳಿಗೆ ಅಲ್ಲಿ ಕೊಟ್ಟಿರುವ ಸೂಚನೆಯಂತೆ ಉತ್ತರಿಸಬೇಕು.

| | | |
|----------------------|---------------------------------|-----------|
| ಭಾಗ A (20 ಅಂಕಗಳು) | ವಾಚನ ಮತ್ತು ಗ್ರಹಿಕಾ ಕೌಶಲ್ಯ | 10 ಅಂಕಗಳು |
| | ಅನ್ವಯಿಕ ವ್ಯಾಕರಣ | 08 ಅಂಕಗಳು |
| | ಬಹು ಆಯ್ಕೆ ಪ್ರಶ್ನೆ ಪಠ್ಯಗಳ ಅಧ್ಯಯನ | 02 ಅಂಕಗಳು |
| ಭಾಗ B (20 ಅಂಕಗಳು) | ಬರವಣಿಗೆ ಕೌಶಲ್ಯ | 08 ಅಂಕಗಳು |
| | ಪಠ್ಯಗಳ ಅಧ್ಯಯನ | 12 ಅಂಕಗಳು |
| | ಒಟ್ಟು ಅಂಕಗಳು | 40 ಅಂಕಗಳು |

I. ಈ ಕೆಳಗಿನ ಪರೀತರ ಗದ್ಯಭಾಗವನ್ನು ಓದಿ, ಕೊಟ್ಟಿರುವ ಪ್ರಶ್ನೆಗಳಿಗೆ ಉತ್ತರಿಸಿರಿ.

4x1=4

ನವಂಬರ್ ಒಂದರಂದು ವಿಶ್ವವೇಗನ್ ದಿನವನ್ನಾಗಿ ಆಚರಿಸಲಾಗುತ್ತದೆ. ವೇಗನ್ ಎಂದರೇನು? ಗೊತ್ತೇ? ಸಸ್ಯಹಾರ ಎಂದರೆ ಎಲ್ಲರಿಗೂ ಗೊತ್ತು. ಸಸ್ಯ ಮೂಲಗಳಿಂದ ಬರುವ ಆಹಾರವೇ ಸಸ್ಯಹಾರ. ಆದರೆ ಬಹುತೇಕ ಭಾರತೀಯರು ಸಸ್ಯಹಾರದಲ್ಲಿ ಪ್ರಾಣಿಗಳಿಗಿಂತ ಸಿಗುವ ಉತ್ಪನ್ನಗಳಾದ ಹಾಲು, ಮೊಸರು, ತುಪ್ಪಗಳನ್ನು ಸೇರಿಸುತ್ತಾರೆ. ಜೈನ ಧರ್ಮದ ಕಟ್ಟಾ ಸಸ್ಯಹಾರಿಗಳು ತೇನುತುಪ್ಪ, ಈರುಳ್ಳಿ, ಬೆಳ್ಳುಳ್ಳಿಗಳನ್ನು ಮುಟ್ಟುವುದಿಲ್ಲ. ಆದರೆ ಇನ್ನೊಂದೆಡೆ ಬಂಗಾಳದ ಸಸ್ಯಹಾರಿಗಳಿಗೆ ಮೀನು ಮೆಚ್ಚಿನ ಆಹಾರ. ಪಾಶ್ಚಾತ್ಯ ದೇಶಗಳಲ್ಲಿ ಸಸ್ಯಹಾರ ಎಂದರೆ ಅದರಲ್ಲಿ ಹಾಲು ಮಾತ್ರವೇ ಅಲ್ಲ ಮೊಟ್ಟೆ ಕೂಡ ಸೇರಿರುತ್ತದೆ.

ಇಂಗ್ಲೆಂಡಿನ ಡೊನಾಲ್ಡ್ ವಾಟ್ ಸನ್ ಗೆ ಕಟ್ಟಾ ಸಸ್ಯಹಾರದಲ್ಲಿ ವಿಶೇಷ ಆಸಕ್ತಿ ಇತ್ತು. ಇವರು 1944 ರಲ್ಲಿ ಶ್ರಿಂಗಲೀ ಎಂಬುವರ ಜೊತೆ ಸೇರಿ ಇಂಗ್ಲೆಂಡಿನಲ್ಲಿ ವಿಶ್ವದ ಪ್ರಪ್ರಥಮ ಕಟ್ಟಾ ಸಸ್ಯಹಾರಿ ವೇಗನ್ ಸೊಸೈಟಿಯನ್ನು ಸ್ಥಾಪಿಸಿದರು. ವೇಗನ್ ಎಂಬುದು ವೆಜಿಟೇರಿಯನ್ ಸಸ್ಯಹಾರ ಎಂಬ ಶಬ್ದದಿಂದ ಬಂದಿತು. ಈ ಸಂಘಟನೆಯ ಸದಸ್ಯರು ಹೇಳುವಂತೆ ವೇಗನ್ ಎಂದರೆ ಸಸ್ಯಹಾರ ಬಿಟ್ಟು ಬೇರೇನೂ ಇಲ್ಲ. ಅವರು ಪ್ರಾಣಿಮೂಲಗಳಿಂದ ಬರುವ ಯಾವುದೇ ವಸ್ತುವನ್ನು ತಿನ್ನುವುದಿಲ್ಲ, ಉಡುವುದಿಲ್ಲ, ಬಳಸುವುದಿಲ್ಲ. ಮಾಂಸ, ಕೋಳಿ, ಮೀನು, ಚಿಪ್ಪು, ಮೊಟ್ಟೆ, ಹಾಲು, ತುಪ್ಪ, ಮೊಸರು, ಜೇನುತುಪ್ಪ ಮೊದಲಾದ ಪ್ರಾಣಿಜನ್ಯ ವಸ್ತುಗಳನ್ನು ಇವರು ಸೇವಿಸುವುದಿಲ್ಲ. ಚರ್ಮ ತುಪ್ಪಳ, ಉಣ್ಣೆ, ರೇಷ್ಮೆ ಮುಂತಾದ ವಸ್ತುಗಳನ್ನು ತೊಡುವುದಿಲ್ಲ. ಇಂದು ವಿಶ್ವದಾದ್ಯಂತ ಅಸಂಖ್ಯ ವೇಗನ್ ಸಂಘಟನೆಗಳಿವೆ. ಕ್ಲಿಂಟ್, ಈಸ್ಟ್, ಕೇಸಿ ಎಫೆಕ್ಟ್ ಮುಂತಾದ ಪ್ರಖ್ಯಾತ ಚಿತ್ರನಟರು ಬ್ರಿಯಾನ್,

ಆಡಮ್ಸ್ ಪಾಲ್ ಮೆಕ್ ಕಾರ್ಟ್ ಮೊದಲಾದ ಸಂಗೀತಗಾರರು, ಖ್ಯಾತ ಕ್ರೀಡಾಪಟು ಕಾರ್ಲ್ ಲೂಯಿಸ್, ರಾಜಕಾರಣಿ ಮೇನಕಾಗಾಂಧಿ ಇವರೆಲ್ಲರೂ ಖ್ಯಾತ ವೇಗನ್ ಸದಸ್ಯರಾಗಿದ್ದಾರೆ.

ಪ್ರಶ್ನೆಗಳು:-

1.ವೇಗನ್ ಎಂಬುದು -----ಶಬ್ದದಿಂದ ಆರಿಸಿಕೊಳ್ಳಲಾಗಿದೆ.

- (i) ವಚನ್ (ii) ವಜನ್ (iii) ವೆಜಿಟೇರಿಯನ್ (iv) ವಾಯುಭಾರ

2.ನವಂಬರ್ 1----- ದಿನಾಚರಣೆ.

- (i) ಬೇಡ (ii) ಕ್ರೀಡಾ (iii) ಪರಿಸರ ಸಂರಕ್ಷಣಾ (vi) ವಿಶ್ವ ವೇಗನ್

3.ಬಂಗಾಳದ ಸಸ್ಯಹಾರಿಗಳಿಗೆ ಮೆಚ್ಚಿನ ಆಹಾರ-----

- (i) ಕೋಳಿ (ii) ಕುರಿ (iii) ಮೀನು (iv) ಎಲ್ಲವು

4. ಇಂಗ್ಲೆಂಡಿನ -----ಗೆ ಕಟ್ಟಾ ಸಸ್ಯಹಾರದಲ್ಲಿ ವಿಶೇಷ ಆಸಕ್ತಿ ಇತ್ತು.

- (i) ಡೊನಾಲ್ಡ್ ವ್ಯಾಟ್ಸನ್ (ii) ಡಿಯೋ ಡಾನ್ (iii) ಲೆನಿನ್ (iv) ನ್ಯೂಟನ್

II.ಈ ಕೆಳಗಿನ ಪಠ್ಯ ಅಮ್ಮ ಗದ್ಯಭಾಗವನ್ನು ಓದಿಕೊಂಡು ಈ ಕೆಳಗಿನ ಪ್ರಶ್ನೆಗಳಿಗೆ ಉತ್ತರ ಬರೆಯಿರಿ.

3x1=3

ಈ ಊರಿನಲ್ಲಿ ಹುಲಿಗಳ ಕಾಟ ಬಹಳ ಇತ್ತು. ನಮ್ಮಮ್ಮನಿಗೆ ದೂರದಲ್ಲಿ ಹುಲಿ ಕೂಗುತ್ತಿದ್ದರೆ ತಿಳಿದುಬಿಡುತ್ತಿತ್ತು. ಹುಲಿಗಳ ಶಬ್ದಕ್ಕೆ ತುಂಬಾ ಸೂಕ್ಷ್ಮವಾಗಿದ್ದ ಜೀವಿಗಳೆಂದರೆ ಕೊಟ್ಟಿಗೆಯ ದನಗಳು. ಅವು ಗಡಗಡ ನಡುಗಲು ಶುರು ಮಾಡುತ್ತಿದ್ದವು. ಕೊರಳಿನ ಗಂಟೆ ಜೋರು ಶಬ್ದ ಮಾಡುತ್ತಿತ್ತು. ನಾನು ನಮ್ಮಮ್ಮ ನಮ್ಮಜ್ಜ ಚಿಮಣಿ ದೀಪದ ಬೆಳಕಿನಲ್ಲಿ ಒಳಗಡೆ ಕೂತು ಎಲ್ಲಿ ಹುಲಿ ನಮ್ಮ ಕೊಟ್ಟಿಗೆಗೂ ನುಗ್ಗಿಬಿಡುತ್ತದೆಯೋ ಎಂದು ಕಾಯುತ್ತಿದ್ದೆವು. ಮನೆಗೆ ನಿತ್ಯ ಆಳುಗಳು ಬಂದಾಗ ಮಾತು ಶುರುವಾಗುತ್ತಿದ್ದುದು ಯಾವುದೋ ಹುಲಿ ಯಾವುದೋ ದನವನ್ನು ಕಾಡಿನಲ್ಲಿ ಹಿಡಿತು ,ಅವರ ಮನೆ ದನ ಹೋಯ್ತು. ಇವರ ಮನೆಯ ದನ ಹೋಯ್ತು- ಹೀಗೆ .ಮಲೆನಾಡಿನಲ್ಲಿ ಹುಲಿ ಆಗ ನಿಜವಾದ ಹಸಿದ ಕಣ್ಣುಗಳ ಕೋರದಾಡೆಯ ಮುಖವಾಗಿತ್ತು. ನಮಗೆ ತುಂಬಾ ಭಯವಾದಾಗ ಹೇಳಿಕೊಳ್ಳಲು ಅರ್ಜುನ ಮಂತ್ರವಿತ್ತು. "ಅರ್ಜುನ ಫಲ್ಗುಣೋ ಪಾರ್ಥ: ಕಿರೀಟೇ ಶ್ವೇತ ವಾಹನ: ಇದು ನಮ್ಮಜ್ಜ ಹೇಳಿಕೊಟ್ಟಿದ್ದು .ಅದನ್ನು ಹೇಳಿಬಿಟ್ಟರೆ ಭಯ ನಿವಾರಣೆ ಆಗುತ್ತೆ ಅಂತ ಹೇಳಿದ್ದರು. ಅದನ್ನು ಹೇಳುತ್ತ ಹೇಳುತ್ತ ನಾವು ನಿದ್ರೆ ಹೋಗುತ್ತಿದ್ದೆವು. ಅಮ್ಮ ಮಾತ್ರ ನಿದ್ರೆ ಮಾಡುತ್ತಿರಲಿಲ್ಲ. ಬೆಳಗ್ಗೆ ಎದ್ದು ಕೊಟ್ಟಿಗೆಯಲ್ಲಿ ಎಲ್ಲಾ ದನಗಳಿವೆ ಎಂದು ಗೊತ್ತಾದಾಗ ಮನಸ್ಸಿಗೆ ಸಮಾಧಾನ . ನನ್ನ ಮೊದಲ ವಿದ್ಯಾ ಗುರು ನನ್ನ ಅಮ್ಮ. ಸ್ಕೂಲಿಗೆ ಹೋಗಿ ಸ್ವಲ್ಪ ಓದಿ ಬರೆಯಲು ಕಲಿತಿದ್ದಳು. ಸ್ಕೂಲಿನಲ್ಲಿ ಅವಳು ಎಸ್.ವಿ ಪರಮೇಶ್ವರ ಭಟ್ಟರ ಸಹಪಾಠಿಯಾಗಿದ್ದವಳು. ಕೆರೆಕೊಪ್ಪದ ಮನೆಯಲ್ಲಿದ್ದಾಗಲೇ ನನಗೆ ಅಕ್ಷರ ಅಭ್ಯಾಸ ಪ್ರಾರಂಭವಾಗಿದ್ದು. ಆಗ ಸ್ಕೂಲ್ ಹತ್ತಿರ ಇರಲಿಲ್ಲ. ಹಬ್ಬದ ದಿನ ಅದು. "ಸರಸ್ವತೀ ನಮಸ್ತುಭ್ಯಂ ವರದೇ ಕಾಮರೂಪಿಣೀ ವಿದ್ಯಾರಂಭಂ ಕರಿಷ್ಯಾಮಿ ಸಿದ್ಧಿಭವತು ಮೇ ಸದಾ" ಎಂದು ಹೇಳಿ ಅಮ್ಮ ನೆಲದಲ್ಲಿ ಮರಳು ಹರಡಿ ಕೂರಿಸಿ ನನ್ನ ಬೆರಳನ್ನು ಹಿಡಿದುಕೊಂಡು ಅ ಎಂಬ ಅಕ್ಷರವನ್ನು ಬರೆಯಿಸಿದ್ದಳು. ಅಮ್ಮ ನಿತ್ಯ ಹೀಗೆ ಮಾಡಿಸುತ್ತಿದ್ದುದರಿಂದ ನಾನು ಶಾಲೆಯಲ್ಲಿ ಅಕ್ಷರ ಕಲಿಯುವುದಕ್ಕೆ ಆರಂಭಿಸುವ ಹೊತ್ತಿಗೆ ಅನೇಕ ಅಕ್ಷರಗಳನ್ನು ಕಲಿತುಬಿಟ್ಟಿದ್ದೆ.

ಪ್ರಶ್ನೆಗಳು:-

1. ಹುಲಿಗಳ ಶಬ್ದಕ್ಕೆ ತುಂಬಾ ಸೂಕ್ಷ್ಮವಾಗಿದ್ದ ಜೀವಿಗಳು ಯಾವುವು?
2. ಸ್ಕೂಲಿನಲ್ಲಿ ಲೇಖಕರ ಅಮ್ಮ ಯಾರ ಸಹಪಾಠಿಯಾಗಿದ್ದವಳು?
3. ಬಾಲ್ಯದಲ್ಲಿ ಲೇಖಕರಿಗೆ ಭಯವಾದಾಗ ಲೇಖಕರ ಅಜ್ಜ ಹೇಳಿ ಕೊಟ್ಟಂತಹ ಅರ್ಜುನನ ಮಂತ್ರ ಯಾವುದು?

III..ಈ ಕೆಳಗಿನ ಪಠ್ಯ ವಚನಾಮೃತ ಪದ್ಯ ಭಾಗವನ್ನು ಓದಿ ಕೊಟ್ಟಿರುವ ಪ್ರಶ್ನೆಗಳಿಗೆ ಉತ್ತರ ಬರೆಯಿರಿ.

ಕೃತ ಯುಗದಲ್ಲಿ ಶ್ರೀ ಗುರು ಶಿಷ್ಯಂಗೆ ಬಡಿದು ಬುದ್ಧಿಯ
ಕಲಿಸಿದರೆ, ಆಗಲಿ ಮಹಾಪ್ರಸಾದ ವೆಂದೆನಯ್ಯ
ತ್ರೇತಾಯುಗದಲ್ಲಿ ಶ್ರೀ ಗುರು ಶಿಷ್ಯಂಗೆ ಬೈದು ಬುದ್ಧಿಯ
ಕಲಿಸಿದರೆ ಆಗಲಿ ಮಹಾಪ್ರಸಾದ ವೆಂದೆನಯ್ಯ
ದ್ವಾಪರ ಯುಗದಲ್ಲಿ ಶ್ರೀ ಗುರು ಶಿಷ್ಯಂಗೆ ಝಂಕಿಸಿ ಬುದ್ಧಿಯ
ಕಲಿಸಿದರೆ ,ಆಗಲಿ ಮಹಾಪ್ರಸಾದ ವೆಂದೆ ನಯ್ಯ
ಕಲಿಯುಗದಲ್ಲಿ ಶ್ರೀ ಗುರು ಶಿಷ್ಯಂಗೆ ವಂದಿಸಿ ಬುದ್ಧಿಯ
ಕಲಿಸಿದರೆ, ಆಗಲಿ ಮಹಾ ಪ್ರಸಾದ ವೆಂದೆನಯ್ಯ
ಗುಹೇಶ್ವರ ನಿಮ್ಮ ಕಾಲದ ಕಟ್ಟಳೆಯ ಕಲಿತನಕ್ಕೆ ನಾ ಬೆರಗಾದೆನು.

ಅಲ್ಲಮಪ್ರಭು

ಕಾಯಕದಲ್ಲಿ ನಿರತನಾಡೆ
ಗುರುದರ್ಶನವಾದಡೂ ಮರೆಯಬೇಕು
ಲಿಂಗಪೂಜೆಯಾದಡೂ ಮರೆಯಬೇಕು
ಜಂಗಮ ಮುಂದೆ ನಿಂದಿದ್ದಡೂ ಹಂಗ ಹರಿಯಬೇಕು
ನಾಯಕವೇ ಕೈಲಾಸವಾದ ಕಾರಣ
ಅಮರೇಶ್ವರ ಲಿಂಗವಾಯಿತ್ತಾದಡೂ ಕಾಯಕದೊಳಗು

ಆಯ್ದಕ್ಕಿ ಮಾರಯ್ಯ

ಪ್ರಶ್ನೆಗಳು:

3x1=3

1. ಆಯ್ದಕ್ಕಿ ಮಾರಯ್ಯನ ಪ್ರಕಾರ ಕೈಲಾಸ ಯಾವುದು?
2. ಕಲಿಯುಗದಲ್ಲಿ ಗುರುವು ಶಿಷ್ಯನಿಗೆ ಹೇಗೆ ಬುದ್ಧಿಯನ್ನು ಹೇಳಬೇಕಿದೆ?
3. ಕಾಯಕದಲ್ಲಿ ನಿರತನಾದವನು ಯಾವುದನ್ನು ಮರೆಯಬೇಕು?

IV. ಈ ಕೆಳಗಿನ ಪ್ರತಿಯೊಂದು ಬಹುಆಯ್ಕೆ ಪ್ರಶ್ನೆಗಳಿಗೆ ನಾಲ್ಕು ಉತ್ತರಗಳನ್ನು ಕೊಡಲಾಗಿದೆ. ಅವುಗಳಲ್ಲಿ ಸರಿಯಾದ ಉತ್ತರವನ್ನು ಆರಿಸಿ ಬರೆಯಿರಿ.

8x1=8

1. ಈ ಕೆಳಗಿನ ಪದಗಳಲ್ಲಿ ಗುಂಪಿಗೆ ಸೇರದ ಪದ ಆರಿಸಿ ಬರೆಯಿರಿ
ಸಾಹಿತ್ಯಾವಲೋಕನ, ಭಕ್ತಿ ಭಂಡಾರಿ ಬಸವಣ್ಣ, ಹಿರೇಮಲ್ಲಾರು. ವಚನಧರ್ಮ ಸಾರ
(i) ಸಾಹಿತ್ಯಾವಲೋಕನ (ii) ಭಕ್ತಿ ಭಂಡಾರಿ ಬಸವಣ್ಣ (iii) ಹಿರೇಮಲ್ಲಾರು (iv) ವಚನಧರ್ಮ ಸಾರ
2. ವಸ್ತು ಮತ್ತು ಕ್ರಿಯೆಗಳ ಭಾವವನ್ನು ತಿಳಿಸುವ ಪದಗಳೇ-----
(i) ಕ್ರಿಯಾಪದ (ii) ನಾಮ ಪ್ರಕೃತಿ (iii) ಧಾತು (iv) ಭಾವನಾಮ
3. ನಮ್ಮ ಮನೆಯ ಉದ್ಯಾನವನದಲ್ಲಿ ಕೆಲವು ಹೂಗಳು ಮಾತ್ರ ಅರಳಿದ್ದವು. ಈ ವಾಕ್ಯದಲ್ಲಿ ಕೆಲವು ಎಂಬ ಪದವು -----ಸೂಚಕಪದವಾಗಿದೆ.
(i) ಸಂಖ್ಯಾ ವಾಚಕ (ii) ಪರಿಮಾಣ ವಾಚಕ (iii) ಸಂಖ್ಯೇಯ ವಾಚಕ (iv) ದಿಗ್ವಾಚಕ
4. ನಮ್ಮ ದೇಹದಲ್ಲಿ ಪಂಚೇಂದ್ರಿಯಗಳು ಇವೆ. ಈ ವಾಕ್ಯದಲ್ಲಿ ಪಂಚೇಂದ್ರಿಯ ಎಂಬ ಪದವು ಯಾವ ಸಮಾಸಕ್ಕೆ ಉದಾಹರಣೆಯಾಗಿದೆ.
(i) ಕರ್ಮಧಾರೆಯ ಸಮಾಸ (ii) ದ್ವಿಗು ಸಮಾಸ (iii) ತತ್ಪುರುಷ ಸಮಾಸ (iv) ಎಲ್ಲವೂ
5. ತಾಸಾಗಿದೆ : ಲೋಪ ಸಂಧಿ : : ಚರಿತ್ರೆಯಿದೆ :-----
(i) ಆದೇಶ ಸಂಧಿ (ii) ಲೋಪ ಸಂಧಿ (iii) ಆಗಮ ಸಂಧಿ (iv) ಯಾವುದು ಅಲ್ಲ
6. ಕೊಟ್ಟಿರುವ ವಾಕ್ಯವನ್ನು ಗ್ರಾಂಥಿಕ ರೂಪದಲ್ಲಿ ಬರೆಯಿರಿ.
“ ನೀನು ಹೂ ತಕ್ಕೊಂಡು ಹೋಗಿ ಮಾರ್ಕೊಂಡು ಬಂದಿದ್ದೀ”
7. ಈ ಕೆಳಗಿನ ಪದವನ್ನು ನಿಮ್ಮ ಸ್ವಂತ ವಾಕ್ಯದಲ್ಲಿ ಬಳಸಿ ಬರೆಯಿರಿ.
ಧ್ಯಾನ ಮಾಡು
8. ಈ ಕೆಳಗಿನ ಸಮಾಸಪದವನ್ನು ಬಿಡಿಸಿ ಬರೆದು ಸಮಾಸದ ಹೆಸರನ್ನು ಬರೆಯಿರಿ.
ಮೆಲ್ಲುಡಿ

V. ಈ ಕೆಳಗಿನ ಪ್ರತಿಯೊಂದು ಪ್ರಶ್ನೆಗಳಿಗೆ ನಾಲ್ಕು ಉತ್ತರವನ್ನು ಕೊಡಲಾಗಿದೆ. ಅವುಗಳಲ್ಲಿ ಸರಿಯಾದ ಪದವನ್ನು ಆರಿಸಿ ಬರೆಯಿರಿ.

2x1=2

1. ನಮ್ಮದೆಯ ಕಾಮಧೇನು-----
(i). ಕವಿತೆಗಳೇ (ii). ಕಥೆಗಳೇ (iii). ಕನಸುಗಳೇ (iv) ನಾಟಕಗಳೇ
2. ದೇಹಕ್ಕೆಲ್ಲಾ ನಟ್ಟು ಬೋಲ್ವ ಹಾಕಿಸಿಕೊಳ್ಳುವದಕ್ಕಿಂತ ಭಗವಂತನ -----ವನ್ನು ಸೇರುವುದೇ ಲೇಸು.
(i) ವಿರೋಧ (ii) ಇಹಲೋಕ (iii) ಪಾದಾರವಿಂದ (iv) ಮೃತ್ಯುಲೋಕ

VI.ನಿಮ್ಮ ಪಟ್ಟಣದ ಮುಖ್ಯರಸ್ತೆಯ ಎರಡು ಬದಿಗಳ ಪಾದಾಚಾರಿ ಮಾರ್ಗದಲ್ಲಿ ಅನಧಿಕೃತ ಅಂಗಡಗಳಿದ್ದು ಸಂಚಾರಕ್ಕೆ ಅಡ್ಡಿ ಉಂಟಾಗುವುದರ ಬಗ್ಗೆ ಜಿಲ್ಲಾಧಿಕಾರಿಗಳಿಗೆ ದೂರಿನ ಪತ್ರ ಬರೆಯಿರಿ.

1x4=4

ಅಥವಾ

ನಿಮ್ಮ ಶಾಲೆಯಲ್ಲಿ ನಡೆದ ಕ್ರೀಡಾ ದಿನಾಚರಣೆಯ ವರದಿಯನ್ನು ಪ್ರಕಟಿಸುವಂತೆ ಕೋರಿ ಹಾಸನದ ಪ್ರಜಾವಾಣಿ ದಿನಪತ್ರಿಕೆಯ ಸಂಪಾದಕರಿಗೆ ಒಂದು ಮನವಿ ಪತ್ರವನ್ನು ಬರೆಯಿರಿ.

VII.ಈ ಕೆಳಗಿನ ವಿಷಯಗಳಲ್ಲಿ ಯಾವುದಾದರೂ ಒಂದು ವಿಷಯಕ್ಕೆ ಸಂಬಂಧಿಸಿದಂತೆ ಪ್ರಬಂಧ ಬರೆಯಿರಿ .

1.ಗೆಲೆತನದ ಮಹತ್ವ

1x3=3

2. ವೃತ್ತ ಪತ್ರಿಕೆಗಳ ಮಹತ್ವ

3. ಮಕ್ಕಳ ದಿನಾಚರಣೆ

VIII.ಈ ಕೆಳಗಿನ ಪ್ರಶ್ನೆಗೆ ಎರಡು ವಾಕ್ಯಗಳಲ್ಲಿ ಉತ್ತರ ಬರೆಯಿರಿ.

1x2=2

1.ಆಟೋ ಚಾಲಕರಲ್ಲಿಯೂ ಮಾನವೀಯತೆಯನ್ನರಿತ ಪ್ರಸಂಗದ ಬಗ್ಗೆ ತಿಳಿಸಿರಿ.

IX.ಈ ಕೆಳಗಿನ ಪ್ರಶ್ನೆಗೆ 4-5 ವಾಕ್ಯಗಳಲ್ಲಿ ಉತ್ತರ ಬರೆಯಿರಿ.

1x3=3

1.ಗೆಲೆತನ ಇಹ ಲೋಕಕ್ಕಿರುವ ಅಮೃತ ಹೇಗೆ? ತಿಳಿಸಿರಿ.
ಅಥವಾ

ವೈದ್ಯೇಶ್ವರ ದೇವಾಲಯದ ನಿರ್ಮಾಣದ ಕಾಲ ನಿರ್ಣಯಕ್ಕೆ ಸಹಕಾರಿಯಾಗುವ ಅಂಶಗಳಾವುವು? ವಿವರಿಸಿರಿ.

X.ಈ ಕೆಳಗಿನ ವಾಕ್ಯವನ್ನು ಓದಿ ಸಂದರ್ಭ ಸಹಿತ ಸ್ವಾರಸ್ಯವನ್ನು ವಿವರಿಸಿರಿ.

1x3=3

1."ಭಾವ ಶುದ್ಧ ಸ್ವಟಿಕ ಬೆಳದಿಂಗಳು"

ಅಥವಾ

"ಅದು ಕಲಾ ಶ್ರೀ ವಿಹರಿಸುವ ನಂದನವನ"

XI.ಈ ಕೆಳಗಿನ ಪ್ರಶ್ನೆಗೆ ಎಂಟು ಹತ್ತು ವಾಕ್ಯಗಳಲ್ಲಿ ಉತ್ತರ ಬರೆಯಿರಿ.

1x4=4

1.ದೊರೆಯ ಕಿರಿಯ ಮಗಳು ತನ್ನ ಅತ್ತಿಗೆಗೆ ಮಾಡಿದ ದ್ರೋಹವೇನು? ಎಂಬುದನ್ನು ನಿಮ್ಮದೇ

ಆದ ವಾಕ್ಯಗಳಲ್ಲಿ ವಿವರವಾಗಿ ಬರೆಯಿರಿ.

ಅಥವಾ



Jindal Vidya Mandir, JSW Hill Side Township
Periodic Test- II (2024-25)

Set - A

Class: VIII

Max.Marks: 40

Subject: Hindi (II Language)

Duration: 1 Hour 30 min

सामान्य निर्देश:

- निम्नलिखित निर्देशों को बहुत सावधानी से पढ़ते हुए उनका दृढ़ता से पालन कीजिए।
- इस प्रश्न पत्र में कुल 11 प्रश्न हैं। सभी प्रश्नों के उत्तर देना अनिवार्य हैं।
- इस प्रश्न पत्र में चार खंड हैं, खंड-क, ख, ग तथा घ।
- खंड 'क' में बहुविकल्पी प्रश्न पूछे गए हैं। खंड 'ख' में उपप्रश्नों सहित बहुविकल्पी / वस्तुपरक प्रश्न पूछे गए हैं।
- प्रश्नों में दिए गए शब्द सीमा का विशेष ध्यान दें-
- प्रश्न संख्या स्पष्ट रूप से लिखें-

खंड 'क' - अपठित बोध

I. निम्नलिखित अपठित गद्यांश को पढ़कर प्रश्नों के नीचे दिए गए विकल्पों से सही विकल्प चुनकर लिखिए-

5×1=5

विज्ञान ने मनुष्य को मशीन बना दिया है, यह कहना उचित नहीं है। मशीनों का आविष्कार मनुष्य ने अपनी सुख-सुविधा के लिए किया है। यदि मशीनें नहीं होतीं, तो मनुष्य इतनी तेजी से प्रगति नहीं कर पाता एवं उसका जीवन तमाम तरह के झंझटों के बीच ही गुम होकर रह जाता। मशीनों से मनुष्य को लाभ हुआ है, यदि उसे भौतिक सुख-सुविधाएँ प्राप्त हो रही हैं, तो उसमें मशीनों का योगदान प्रमुख है। मशीनों को कार्यान्वित करने के लिए मनुष्य को उन्हें परिचालित करना पड़ता है जिससे कार्य करने में उसे अधिक परिश्रम नहीं करना पड़ता।

यदि कोई व्यक्ति मशीन के बिना कार्य करें, तो उसे अधिक परिश्रम करने की आवश्यकता पड़ेगी। इस दृष्टि से देखा जाए, तो मशीनों के कारण मनुष्य का जीवन यंत्रवत् नहीं हुआ है, बल्कि उसके लिए हर प्रकार का कार्य करना सरल हो गया है। यह विज्ञान का ही वरदान है कि अब डेबिट-क्रेडिट कार्ड के रूप में लोगों के पर्स में प्लास्टिक मनी आ गई है और वे जब भी चाहें, रुपये निकाल सकते हैं। रुपये निकालने के लिए अब बैंकों में घंटों लाइन में लगने की जरूरत ही नहीं।

पहले लंबी दूरी की यात्रा करना मनुष्य के लिए अत्यंत कष्टदायी होता था। अब विज्ञान ने मनुष्य की हर प्रकार की यात्रा को सुखमय बना दिया है। सड़कों पर दौड़ती मोटर गाड़ियाँ एवं एयरपोर्ट पर लोगों की भीड़ इसका उदाहरण हैं।

पहले मनुष्य के पास मनोरंजन के लिए विशेष साधन उपलब्ध नहीं थे। अब उसके पास मनोरंजन के हर प्रकार के साधन उपलब्ध हैं। रेडियो, टेपरेकर्डर से आगे बढ़कर अब एलईडी, डीवीडी एवं डीटीएच, कंप्यूटर, इंटरनेट, मोबाइल का जमाना आ गया है। यही नहीं मनुष्य विज्ञान की सहायता से शारीरिक कमजोरियों एवं स्वास्थ्य संबंधी समस्याओं से छुटकारा (निजात) पाने में अब पहले से कहीं अधिक सक्षम हो गया है और यह सब संभव हुआ चिकित्सा क्षेत्र में आई वैज्ञानिक प्रगति से।

1. विज्ञान ने मनुष्यों को क्या दिया है ?

- (क) परिश्रम (ख) सुख-सुविधाएँ (ग) मशीनें (घ) असुविधाएँ

2. मशीनें नहीं होती तो क्या होता ?

(क) मनुष्य खुश रहता

(ख) मनुष्य तेजी से प्रगति नहीं कर पाता

(ग) मनुष्य झंझावातों से निकल जाता

(घ) मनुष्य तेजी से प्रगति कर पाता

3. मशीनों से मनुष्य के जीवन पर क्या प्रभाव पड़ा है ?

(क) उसका प्रत्येक कार्य सरल हो गया है

(ख) उसका जीवन यंत्रवत् हो गया है

(ग) उसका प्रत्येक कार्य कठिन हो गया है

(घ) उसे अधिक परिश्रम करना पड़ता है

4. गद्यांश के अनुसार, विज्ञान का वरदान क्या है ?

(क) अब रुपये निकालने के लिए बैंकों में घंटों तक लाइन में नहीं लगना पड़ता।

(ख) डेबिट-क्रेडिट कार्ड के रूप में लोगों के पर्स में प्लास्टिक मनी आ गई है।

(ग) लोग जब चाहें रुपये निकाल सकते हैं।

(घ) सभी।

5. विज्ञान से मनुष्य के लिए लंबी दूरी की यात्रा करना कैसा हो गया है ?

(क) अत्यंत कष्टदायी

(ख) समस्यात्मक

(ग) सुखदायक

(घ) परिश्रमदायक

खंड 'ख' - व्यवहारिक व्याकरण

II. निम्नलिखित उपसर्ग और प्रत्यय पर आधारित प्रश्नों के उत्तर दीजिए-

2×1=2

1. 'प्राचार्य' शब्द में प्रयुक्त उपसर्ग है ?

(क) प्राः

(ख) प्रा

(ग) प्रः

(घ) प्र

2. प्रत्यय के योग से बना शब्द कौन सा है ?

(क) सुगंध

(ख) अपमान

(ग) मालिन

(घ) अनुकूल

III. निम्नलिखित विराम चिह्न पर आधारित प्रश्नों के उत्तर दीजिए-

2×1=2

3. किसी विषय की व्याख्या के लिए किस चिह्न का प्रयोग किया जाता है?

(क) उपविराम

(ख) अल्पविराम

(ग) विवरण चिह्न

(घ) उद्धरण चिह्न

4. वाक्य के बीच में आए शब्दों तथा पदों का अर्थ स्पष्ट करने के लिए कौन-से विराम चिह्न का प्रयोग किया जाता है ?

(क) विवरण चिह्न

(ख) कोष्ठक

(ग) उपविराम

(घ) पूर्ण विराम चिह्न

IV. निम्नलिखित संधि पर आधारित प्रश्नों के उत्तर दीजिए-

2×1=2

5. 'प्रति + आरोपण' की संधि होगी-

6. 'पृथ्वीश' कौन-सी स्वर संधि का उदाहरण है ?

V. निम्नलिखित अलंकार पर आधारित प्रश्नों के उत्तर दीजिए-

2×1=2

7. जब वाक्य में एक शब्द केवल एक बार आए और उस शब्द के दो या दो से अधिक अर्थ निकले, वह कौन सा अलंकार होगा ?

8. यमक अलंकार का अर्थ है-----।

VI. निम्नलिखित वर्ण विचार में शब्द विचार पर आधारित प्रश्नों के उत्तर दीजिए-

4×1=4

9. 'पंचांग' शब्द का वर्ण विच्छेद कीजिए-

10. 'बलि-बली' युग्म का अर्थ है-

11. 'पवित्र' शब्द के दो पर्यायवाची शब्द लिखिए-

12. 'पगड़ी उछालना' दिए गए मुहावरे का अर्थ लिखिए-

खंड 'ग' - पाठ्य पुस्तक पर आधारित

VII. निम्नलिखित प्रश्नों में से कोई दो प्रश्नों का उत्तर (30 से 35) शब्दों में लिखिए-

2×2=4

1. "पानी परात को हाथ छुयो नहीं, नैनन के जल सों पग धोए।" पंक्ति में वर्णित भाव का वर्णन अपने शब्दों में कीजिए।
2. 'साइकिल आंदोलन' से पुडुकोट्टई की महिलाओं के जीवन में कौन-कौन से बदलाव आए हैं ?
3. अंग्रेज़ के सामने बिलवासी जी ने झाऊलाल को पहचानने तक से क्यों इनकार कर दिया था? आपके विचार से बिलवासी जी ऐसा अजीब व्यवहार क्यों कर रहे थे ? स्पष्ट कीजिए।

VIII. निम्नलिखित प्रश्नों में से कोई दो प्रश्नों का उत्तर (50 से 60) शब्दों में लिखिए-

2×3=6

1. प्रारंभ में साइकिल आंदोलन को चलाने में कौन-कौन सी बाधा आई ? 'जहाँ पहिया है' पाठ के आधार पर उत्तर लिखिए।
2. द्वारका से खाली हाथ लौटते समय सुदामा मार्ग में क्या-क्या सोचते जा रहे थे ? वह कृष्ण के व्यवहार से क्यों खीझ रहे थे ? सुदामा के मन की दुविधा को अपने शब्दों में प्रकट कीजिए।
3. "...उन जंजीरों को तोड़ने का जिनमें वे जकड़े हुए हैं, कोई-न-कोई तरीका लोग निकाल ही लेते हैं.." क्या आप लेखक की इस बात से सहमत हैं? अपने उत्तर का कारण भी बताइए।

IX. निम्नलिखित प्रश्नों में से कोई एक प्रश्न का उत्तर (50 से 60) शब्दों में 'भारत की खोज' पुस्तक के आधार पर लिखिए-

1×3=3

1. चौदहवीं शताब्दी में किसी बर्बर शासक ने भारत पर आक्रमण किया उसका क्या परिणाम हुआ ?
2. पंजाब के शासक रणजीत सिंह के शासन काल की क्या विशेषता थी ?

खंड 'घ' - रचनात्मक लेखन

X. आपके विद्यालय का पुस्तकालय विभिन्न प्रकार की पुस्तकों से भरा हुआ है परंतु हिंदी पत्र-पत्रिकाओं का अभाव है।

हिंदी की पत्र-पत्रिकाओं में उच्च कोटि का साहित्य मँगवाने के लिए विद्यालय के प्राचार्य को पत्र लिखिए।

1×5=5

XI. निम्नलिखित विषय पर दिए गए संकेत बिंदुओं के आधार पर 100 से 120 शब्दों में एक अनुच्छेद लिखिए-

1×5=5

➤ सत्यमेव जयते

संकेत बिंदु –

- सत्य का अर्थ
- सत्य की विजय
- झूठ की कम समय सीमा
- सत्य परम धर्म



Jindal Vidya Mandir, JSW Hill Side Township

Periodic Test-2 2024-25

Set-A

Class: VIII/ Sec: _____

Max Marks:40

Sub: Social Science

Duration:1hr.30 Mints

General Instructions:

- Question paper comprises five Sections – A, B, C, D, and E . There are 27 questions in the question paper. All questions are compulsory.
- Section A – From question 1 to 20 are 1 mark each.
- Section B – Question no. 21 to 23 are very short answer type questions, carrying 2 marks each. (Do not exceed 40 words).
- Section C contains Q.24 to Q.25 are short answer type questions, carrying 3 marks each. (Do not exceed 60 words).
- Section D – Question no. 26 long answer type questions, carrying 4 marks each. (Do not exceed 120 words).
- Section-E - Question no. 27 is map based, carrying 4 marks.

SECTION A

Choose the correct option from the following.

1 X 12 = 12

- What do you mean by violation?
 - Violation means to amend the Constitution.
 - Violation means creating a new law by the Parliament.
 - Violation means breaking a law or encroaching someone's Fundamental Rights.
 - Violation means to impose a new order by the government.
- Who is the present Chief Justice of Supreme Court?
 - KG Balakrishnan
 - Ranjan Gogoi
 - D.Y. Chandracud
 - Sanjiv Khanna
- Keeping the Sudha Goel case in mind, pick the correct statement.
 - The accused took the case to the High Court because they were unhappy with the decision of the trial court.
 - The accused took the case to the Supreme Court because they were unhappy with the decision of the trial court.
 - The accused took the case to the Trial Court because they were unhappy with the decision of the Supreme court.
 - The accused took the case to the Sessions Court because they were unhappy with the decision of the High court.

4. **Assertion (A):** Civil law deals with conduct or acts that the law defines as offences. For example, theft, harassing a woman to bring more dowry, murder.
Reason (R): If any citizen believes that their rights are being violated, then they can approach the court for justice to be done.
- Both A and R are true and R is the correct explanation of A.
 - Both A and R are true but R is not the correct explanation of A
 - A is true but R is false.
 - A is false but R is true
5. What was the new amendment in the law in 1856 passed by the East India Company?
- Every new person who took up employment in the Company's army had to agree to serve overseas if required.
 - Every new person who took up employment in the Company's army will be paid only a low salary.
 - Every new person who took up employment in the Company's army had to collect the revenues set by the British.
 - Every new person who took up employment in the Company's army had to pay a tax.
6. _____ continued to fight a guerrilla war against British.
- Rani Lakshmibai
 - Tantia Tope
 - Nana Saheb
 - Peshwa Baji Rao II.
7. **Assertion (A):** After 1830, the company allowed Christian Missionaries to function freely in its domain and own land and property.
Reason (R): In 1850, a new law was passed to make conversion to Christianity easier.
- Both A and R are true and R is the correct explanation of A.
 - Both A and R are true but R is not the correct explanation of A
 - A is true but R is false.
 - A is false but R is true
8. Who wrote the book Majhe Pravaas?
- Lalu Bakshi
 - Bayjabai Shinde
 - Vishnubhatt Godse
 - Moropant Tambe
9. In 1824, when the sepoys were asked to go to Burma by sea route to fight for the Company, they refused to follow the order. Why?
- It was widely believed that if they crossed the sea they would lose their religion and caste.
 - There was a belief that the sepoys will not be paid if they go to Burma.

c. It was believed that Burma was a non- friendly country and hence did not welcome foreigners.

d. It was widely believed that they were taken as prisoners and will be put in a jail there.

10. High level committee on marginalisation in 2005, was chaired by :-

- a. Hakkim shekh b. Ram Gopal c. Rajinder Sanchar d. None of these

11. About _____ % of India's population is Adivasi.

- a. 8 b. 11 c. 10 d. 25

12. Choose the correct option:

Which communities experience marginalization in India?

- a. Adivasis, Dalits and Muslims experience marginalisation in India.
b. Adivasis, Dalits and Hindus experience marginalisation in India.
c. Adivasis, Dalits and Christians experience marginalisation in India.
d. Muslims, Hindus and Christians experience marginalisation in India.

13. India has _____ national parks and _____ wildlife sanctuaries.

- a. 54 & 734 b. 106 & 372 c. 16 & 272 d. 54 & 373

14. **Assertion (A):** Safeguards for minorities is needed in India.

Reason (R): Constitution is committed to protect India's cultural diversity and promoting equality as well as justice.

- a. Both A and R are true and R is the correct explanation of A.
b. Both A and R are true but R is not the correct explanation of A
c. A is true but R is false.
d. A is false but R is true

15. Hierarchy means: -

- a. A graded system or arrangement of person or thing c. Major group
b. Minor group d. None of these

16. The caste system is a hierarchical system and Dalits are considered to be

- a. at the lowest end c. at the top end
b. no where d. at the middle end

17. Marine-based industries are based on

- a. Minerals b. Forest products
c. Agricultural products d. Oceanic products

18. Pick the correct option: Two examples for Cooperatives

- a. Amul, Sudha Dairy
- b. Amul, Reliance
- c. Amul, Jio
- d. Tata steel, Amul

19. **Assertion (A):** Forest based industries utilize forest produce as raw materials.

Reason (R): The industries associated with forests are pulp and paper, pharmaceuticals, furniture and buildings.

- a. Both A and R are true and R is the correct explanation of A.
- b. Both A and R are true but R is not the correct explanation of A
- c. A is true but R is false.
- d. A is false but R is true

20. The leading industries of Birla Group, Reliance, Tata Group of industries belong to the private sector. What are the characteristic features of these industries?

- a. Jointly owned, they are owned, managed and controlled by a group of individuals and government agencies. Prices of products are fixed through planning.
- b. Operated mainly for the benefit of the public rather than profits, they are owned, managed and controlled by a group of individuals. Prices of products are determined by market forces
- c. Operated mainly for Profits, they are owned, managed and controlled by a group of individuals. Prices of products are determined by market forces
- d. Members of the cooperative society produce the raw material and add value to earn profit. Generally operates with the motive of community welfare.

SECTION B (Do not exceed 40 words)

2 X 3 = 6

21. What efforts were made by the British to win back the loyalty of the people?

22. Which are the factors influencing the location of an industries?

23. India has an integrated judicial system. Explain?

or

How are the Adivasi's portrayed today?

SECTION C (Do not exceed 60 words)

3 X 2 = 6

24. Why were the Indian sepoy's unhappy with the British rule?

25. TISCO company has greater advantages than the Pittsburgh iron and steel company. Justify the statement with comparisons.

or

'Muslims are a marginalised community'. Justify the statement with examples.

SECTION D (Do not exceed 120 words)

4 X 1 = 4

26. In what ways did the British change their policies as a result of the rebellion of 1857?

or

Do you think the introduction of Public Interest Litigation (PIL) in the 1980s is a significant step in ensuring access to justice for all? Give reasons.

SECTION-E (Map skill-based question)

1 + 3 = 4

27.

27a. Two place i & ii has been marked on the given outline map of India.

Identify and write their correct names on the lines drawn near them.

- i. Name the place, where was the 1857 revolt outbreak.
- ii. In which place Rani Lakshmibai took an active part in organizing the uprising against the British?

27b. On the same outline map of India locate and label any two of the following.

- i. Lucknow
- ii. Awadh
- iii. Jhemshedpur



JINDAL VIDYA MANDIR, HILL SIDE TOWNSHIP

Periodic Test-2 2024-25

Set- A

Class: VIII/ Sec: _____

Subject: Social Science

Name of the student: _____

Roll No: _____

