

**Jindal Vidya Mandir, JSW Hill Side Township****Periodic Test – II (2024-25)****Set A****Class I/Sec: _____****Duration: 1 Hour****Subject: Mathematics****Max Marks: 20****Name: _____****Roll No: _____****Invigilator's signature: _____****Date: _____**

General Instructions:

- i) This question paper contains 3 main questions in 3 pages.
 - ii) All questions are compulsory.
-

Section- A**I. Choose the correct answer.****5X1M=5M**

- 1) 10 more than 90 is _____
A) 10 B) 99 C) 90 D) 100
- 2) On subtracting 19 from 49, we get _____
A) 30 B) 20 C) 68 D) 40
- 3) The greatest 2-digit number is _____
A) 90 B) 9 C) 10 D) 99
- 4) The multiplication sentence for $5 + 5$ is _____
A) 2×5 B) 3×5 C) 2×3 D) $2 + 5$
- 5) Eleven + Sixty seven _____
A) Sixty seven B) Seventy seven C) Seventy eight D) Seventy one

II. Match the following.

5X1M=5M

Column A			Column B	Answers
1.	Smallest 2-digit number	a.	Cubit	
2.	Eighty two + six	b.	10	
3.	Study table	c.	Eighty eight	
4.	$42 - 7$	d.	3 times 4	
5.	3×4 can also read as	e.	35	

Section-B

III. Do as directed.

4X1M=4M

1) Which of the following is the correct increasing order of length of pins?



A



B



C

1. A, B, C

2. B, C, A



3. B, A, C

2) Circle the object having more capacity.



3) Put '+' or '-' sign in the circle to make the equation correct.

$$55 \quad \square \quad 10 = 65$$

4) If  = tens and  = ones, then compare the following numbers using >, < or = sign.




5) Subtract.

$$3 \times 2 \text{M} = 6 \text{M}$$

$$\begin{array}{r} 82 \\ - 42 \\ \hline \\ \hline \end{array}$$

$$\begin{array}{r} 68 \\ + 31 \\ \hline \\ \hline \end{array}$$

6) Write the repeated addition and multiplication sentence.

One  has 2 wings. How many wings do 4 birds have?

$$\bigcirc + \bigcirc + \bigcirc + \bigcirc = \bigcirc$$

$$\bigcirc \times \bigcirc = \bigcirc$$

7) There were 55 juice packs. 44 packs were distributed among children. How many juice packs were left?

12/12/24

Priyanka Mahanty
12/12

Jindal Vidya Mandir, JSW Hill Side Township

Periodic Test-II (2024-25)

Class : I /Sec:

Set-A

Max. Marks : 20

Sub : Hindi (II Language.)

Duration : 1 hr

Name : _____

Roll No. : _____

Invigilator's Sign: _____

Date : _____

General Instructions:

- 1) सभी प्रश्नों को हल करना अनिवार्य है।
- 2) कुल प्रश्न संख्या 5 है।

प्रश्न I) दिए गए शब्दों को छाँट कर सही जगह पर लिखो ।

3X1=3

[कक्षा , आज्ञा , चित्र , ज्ञान , क्षमा , त्रिशूल]



ज्ञ = _____

क्ष = _____




त्र = _____

प्रश्न II) चित्र को देखकर रंग भरिये और रंगों के नाम लिखिए ।

4X1=4



VectorStock



प्रश्न III) चित्र को देखकर सही नाम के साथ मिलान कीजिए।

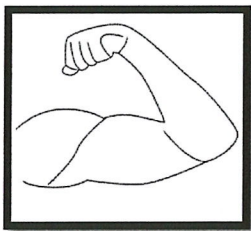
4X1=4M



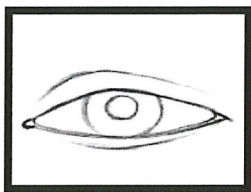
आँख



बाँह



नाक



हाथ

प्रश्न IV) नीचे दिए गए शब्दों में से फल और सब्जियों के नाम छाँट कर लिखें ।

6X1=6

(आलू , केला , अनार , गोभी , सेब , मटर)

फल	सब्जियाँ
1 _____	1 _____
2 _____	2 _____
3 _____	3 _____

प्रश्न V) नीचे दिए गए प्रश्नों के सही उत्तर चुनकर लिखिए ।

3X1=3

- 1) पेड़ पर बहुत से _____ बैठे थे । (नारंगी , बंदर)
- 2) मेला _____ में लगा था । (घर , चाँदनी चौक)
- 3) छोटा बंदर बहुत _____ था । (मोटा , चंचल)

Shangri



Jindal Vidya Mandir, JSW Hill Side Township

Periodic Test – II (2024-25)

Set - A

Class/Sec : I/

Subject : Kannada (II Language)

Name : _____

Invigilator's Sign : _____

Max. Marks : 20

Duration: 1 hour

Roll No. : _____

Date : _____

ಸೂಚನೆಗಳು :

- * ಈ ಪ್ರಶ್ನೆಪತ್ರಿಕೆಯು A ಮತ್ತು B ಎಂಬ ಭಾಗಗಳನ್ನು ಒಳಗೊಂಡಿರುತ್ತದೆ.
- * ಈ ಪ್ರಶ್ನೆಪತ್ರಿಕೆಯು ಒಟ್ಟು 8 ಮುಖ್ಯ ಪ್ರಶ್ನೆಗಳಿಂದ ಕೂಡಿದ್ದು, 4 ಪುಟಗಳನ್ನು ಹೊಂದಿದೆ.
- * ಪ್ರತಿಯೊಂದು ಪ್ರಶ್ನೆಗಳ ಸೂಚನೆಗಳನ್ನು ಸರಿಯಾಗಿ ಓದಿಕೊಂಡು ಉತ್ತರಿಸಿರಿ.

ಭಾಗ - A (10 ಅಂಕಗಳು)

(ವಾಚನ ಮತ್ತು ಗ್ರಹಿಕಾ ಕೌಶಲ್ಯ)

I. ಈ ಕೆಳಗಿನ ಪಠ್ಯೇತರ ಗದ್ಯ ಭಾಗವನ್ನು ಓದಿಕೊಂಡು, ಕೊಟ್ಟಿರುವ ಪ್ರಶ್ನೆಗಳಿಗೆ ಸೂಕ್ತ ಉತ್ತರವನ್ನು ಆರಿಸಿ ಬರೆಯಿರಿ. 3X1=3

ಅಂದು ಭಾನುವಾರ. ಶಾಲೆಗೆ ರಜೆ. ರಾಜು ಹಾಗೂ ರವಿ ತಂದೆ, ತಾಯಿಯೊಂದಿಗೆ ಹೂದೋಟಕ್ಕೆ ಬಂದರು. ಮೊದಲು ಅವರು ಹಸಿರು, ಹಳದಿ ಹಾಗೂ ನೀಲಿ ಬಣ್ಣದ ಹೂವುಗಳನ್ನು ನೋಡಿದರು. ನಂತರ ರಾಜು ಮತ್ತು ರವಿ ಜೋಕಾಲಿ ಆಡಿದರು. ತಂದೆ, ತಾಯಿ ನಡೆದಾಡಿದರು. ಸ್ವಲ್ಪ ಸಮಯದ ನಂತರ ಮನೆಗೆ ಹೋದರು.

ಪ್ರಶ್ನೆಗಳು:

1. ಮಕ್ಕಳು ತಂದೆ, ತಾಯಿಯೊಂದಿಗೆ _____ಕ್ಕೆ ಬಂದರು.

(i) ನದಿ (ii) ಹೂದೋಟ (iii) ಬೆಟ್ಟ (iv) ಗುಡ್ಡ

2. ಹಸಿರು, ಹಳದಿ ಹಾಗೂ ನೀಲಿ ಬಣ್ಣದ _____ಗಳನ್ನು ನೋಡಿದರು.

(i) ಹೂವು (ii) ಹಣ್ಣು (iii) ಎಲೆ (iv) ಕಲ್ಲು

3. ರಾಜು ಮತ್ತು ರವಿ _____ ಆಡಿದರು.

(i) ಓಟದ ಆಟ (ii) ಕುಂಟೆಬಿಲ್ಲೆ (iii) ಜೋಕಾಲಿ (iv) ಹಗ್ಗದ ಆಟ

II. ಈ ಕೆಳಗಿನ ಪಠ್ಯ ಗದ್ಯ ಭಾಗವನ್ನು ಓದಿಕೊಂಡು, ಕೊಟ್ಟಿರುವ ಪ್ರಶ್ನೆಗಳಿಗೆ ಸೂಕ್ತ ಉತ್ತರವನ್ನು ಆರಿಸಿ ಬರೆಯಿರಿ.

2x1=2

ಒಂದು ಕೋತಿ ಮರದ ಮೇಲೆ ಕುಳಿತಿತ್ತು. ಆ ಕೋತಿಯ ಬಾಲ ತುಂಬಾ ಉದ್ದವಿತ್ತು. ಅದು ನೆಲದವರೆಗೆ ನೇತಾಡುತ್ತಿತ್ತು. ಒಂದು ಅಳಿಲು ಕುಣಿದಾಡುತ್ತಾ ಅಲ್ಲಿಗೆ ಬಂದಿತು. ಅದು ಕೋತಿಯ ಬಾಲ ನೋಡಿತು. “ಈ ಜೋಕಾಲಿ ಎಷ್ಟು ಚಂದ!” ಎಂದು ಯೋಚಿಸಿತು. ಕೋತಿಯ ಬಾಲ ಹಿಡಿದು ಜೀಕ ತೊಡಗಿತು.

ಪ್ರಶ್ನೆಗಳು:

1. ಆ ಕೋತಿಯ _____ ತುಂಬಾ ಉದ್ದವಿತ್ತು.

(i) ಬಾಲ (ii) ತಲೆ (iii) ಕಿವಿ (iv) ಮುಖ

2. ಒಂದು ಅಳಿಲು _____ ಅಲ್ಲಿಗೆ ಬಂದಿತು.

(i) ನಡೆಯುತ್ತಾ (ii) ಕುಣಿದಾಡುತ್ತಾ (iii) ಜಾರುತ್ತಾ (iv) ಓಡುತ್ತಾ

(ಅನ್ವಯಿಕ ವ್ಯಾಕರಣ)

III. ಈ ಕೆಳಗಿನ ವ್ಯಾಕರಣಾಂಶ ಪ್ರಶ್ನೆಗಳಿಗೆ ಸೂಕ್ತ ಉತ್ತರವನ್ನು ಆರಿಸಿ ಬರೆಯಿರಿ.

4X1=4

1. ವಚನಗಳಲ್ಲಿ _____ ವಿಧಗಳಿವೆ.

i) ೪ ii) ೯ iii) ೫ iv) ೨

2. ‘ಮರ’ ಈ ಪದದ ಬಹುವಚನ ರೂಪ _____

i) ಮರಗಳು ii) ಮರ iii) ಮರದ iv) ಮನೆಯ

3. ‘ಪುಸ್ತಕಗಳು’ ಈ ಪದದ ಏಕವಚನ ರೂಪ _____

i) ಮಗು ii) ಪುಸ್ತಕ iii) ಪಸ್ತಕದ iv) ಕಾಗದಗಳು

4. ‘ಹೆದರಿಹನೇ’ ಇದರ ಪ್ರಾಸಪದ _____

i) ಆಡುವನು ii) ಬೆದರಿಹನೇ iii) ಕಂದ iv) ಓಡುವನು

IV. ಈ ಕೆಳಗೆ ಖಾಲಿ ಬಿಟ್ಟಿರುವ ಜಾಗದಲ್ಲಿ ಸರಿಯಾದ ಪದ ಬರೆಯಿರಿ.

1x1=1

1. ಅಪ್ಪನ ಜೊತೆ ನಾ _____ ಹೋಗುವೆನು.

ಭಾಗ-B (10 ಅಂಕಗಳು)



(ಬರವಣಿಗೆ ಕೌಶಲ್ಯ)

V. ಈ ಕೆಳಗಿನ ಚಿತ್ರಗಳನ್ನು ಗುರುತಿಸಿ, ಅವುಗಳ ಹೆಸರನ್ನು ಬರೆಯಿರಿ.

2x1=2

1.

2.



VI. ಈ ಕೆಳಗೆ ಕೊಟ್ಟಿರುವ ವಿಷಯವನ್ನು ಕುರಿತು 2 ವಾಕ್ಯಗಳನ್ನು ಬರೆಯಿರಿ.

1x2=2

ಕೋತಿ

1. _____

2. _____

(ಪಠ್ಯಗಳ ಅಧ್ಯಯನ)

VII. ಈ ಕೆಳಗೆ ಕೊಟ್ಟಿರುವ ಪ್ರಶ್ನೆಗಳಿಗೆ ಉತ್ತರ ಬರೆಯಿರಿ.

4x1=4

1. ಸಿಹಿ ತಿಂಡಿ ಯಾರು ಹಂಚಿದರು?

ಉ: _____

2. ಕೋತಿಯ ಬಾಲ ಹಿಡಿದು ಯಾವುದು ಜೀಕತೊಡಗಿತು?

ಉ: _____

3. ನಾರಾಯಣ ಗುರುಗಳು ಏನನ್ನು ಬೆಳಗಿದರು ?

ಉ: _____

4. ಕೌತುಕ ವಿಷಯ ಎಲ್ಲಿ ನಡೆದಿದೆ?

ಉ: _____

VIII. ಈ ಕೆಳಗಿನ ಅವರಣದಲ್ಲಿ ಕೊಟ್ಟಿರುವ ಮಾಸಗಳನ್ನು ಅನುಕ್ರಮವಾಗಿ ಬರೆಯಿರಿ.

1x2=2

1. (ಜನವರಿ, ಮಾರ್ಚ್, ಏಪ್ರಿಲ್, ಫೆಬ್ರವರಿ, ಮೇ, ಜುಲೈ, ಜೂನ್, ಆಗಸ್ಟ್,

ಸೆಪ್ಟೆಂಬರ್, ನವೆಂಬರ್, ಅಕ್ಟೋಬರ್, ಡಿಸೆಂಬರ್)



Jindal Vidya Mandir, JSW Hill Side Township
Periodic Test-II (2024-25)

Set- A

Class: I/ Sec: _____

Max Marks: 20

Sub: EVS

Duration: 1 Hr.

Name: _____

Roll No: _____

Invigilator's Signature: _____

Date: _____

General Instructions:

- This question paper is printed in 3 pages and 14 questions.
- It consists of two sections A and B. Section A has objective type questions and section B has subjective type questions.
- All the questions are compulsory.

Section-A

I. Choose the correct word from the box to fill in the blanks.

5X1=5M

live	sloping	breakfast	shape	flesh
------	---------	-----------	-------	-------

1. Lions are _____ eating animals.
2. We eat _____ in the morning.
3. House in a rainy places have a _____ roof.
4. Plants and animals need air to _____.
5. Air gives _____ to things.

II. Match the following.

5X1=5M

- | | |
|----------------|------------------|
| 6. ant | a. strong |
| 7. curd | b. insect |
| 8. strong wind | c. dairy product |
| 9. pucca house | d. storm |
| 10. moving air | e. boats to sail |

Section-B

III. Answer the following questions.

3X2=6M

11. Write any two good eating habits.

12. Write any two ways in which we can take care of our house.


13. Give two examples for each of the following.

a. Land animals: _____, _____

b. Water animals: _____, _____

14. Draw, name and colour any two types of woollen clothes.

2X2= 4M

A large rectangular box divided into two horizontal sections. The top section is intended for drawing, and the bottom section is intended for writing the names and colors of the two types of woollen clothes.

~~19/12/24~~



Jindal Vidya Mandir, JSW Hill Side Township

Periodic Test-II (2024-25)

Set-A

Class: I/ Sec: _____

Sub: English

Name: _____

Invigilator's Signature: _____

Duration: 1Hr

Max Marks: 20

Roll no: _____

Date: _____

General Instructions:

This paper consists of 4 pages and has 4 main questions. It is divided in 4 sections

Section: A(Reading), Section: B(Writing), Section: C (Grammar), Section: D (Literature)

All the questions are compulsory.

Section: A (Reading)

I. Read the passage and answer the following questions.

3X1=3



Birds have wings to fly. They live on the tree. They love to spread their wings and fly in the sky. Birds eat insects and seeds. Penguin is the only bird that can swim.

A. Choose the correct answer.

1. Birds eat _____.

a. seeds

b. popcorn

2. They live on the _____

a. tree

b. house

B. Answer the following question.


Q1. Name the bird that can swim.

Ans. _____

Section- B (Writing)

II-A. Look at the picture and answer the questions given in a sentence.

3X1=3



Q1. What does the picture show?

Ans. _____

Q2. How many colors does it have?

Ans. _____

Q3. Can we see this at night?

Ans. _____

II-B. Write four sentences about your best friend.

4X½ =2

1. _____

2. _____

3. _____

4. _____

Section – C (Grammar)

III-A. Read the sentences and circle the action words.

2X½=1

1. She runs every morning before work.

2. I love to eat pizza.

III-B. Complete the sentences using 'is', 'am', 'are'.

4X½=2

1. I _____ writing a story.

2. They _____ my cousins.

3. She _____ a nurse.

4. We _____ a family.

III-C. Fill in the blanks by forming adverbs to the word given in the bracket. 4X½=2

1. The artist presented his art _____. (proud)

2. He spoke _____ (polite) to the women.

3. The stars twinkled _____. (bright)

4. The teacher explained _____. (loud)

III.D. Complete the sentences by choosing the correct option.

2X½=1

1. The dog _____ (bark/barks) at the stranger.

2. We _____ (live/lives) in India.

Section- D (Literature)

IV-A. Answer the following questions.

2X1=2

Q1. What did the tree have on it?

Ans. _____

Q2. What did Manu forget when it started to rain?

Ans. _____


IV-B. Write any two magic words in the tree.

2X½=1



IV-C. Read the poem and answer the given questions.

2X1=2



Thank you for our singing birds

And for our family's gentle words

Thank you for friend's kind and true

Help me be a good friend too.

Q1. What does the child want to be?

Ans. _____

Q2. Find and write the opposite word of 'Cruel' X _____

IV-D. Who said these words?

2X½=1

Q1. "May I wear it now?"

Ans. _____

Q2. "You forgot your raincoat!"

Ans. _____