



**Jindal Vidya Mandir, JSW Hill Side Township**  
**Weekly Test-1, (2024-25)**

**Class: II/ Sec: \_\_\_\_\_**

**Sub: Kannada (II Lang)**

**Name: \_\_\_\_\_**

**Invigilator's Signature: \_\_\_\_\_**

**Duration: 45 Minutes**

**Max Marks: 20**

**Roll no: \_\_\_\_\_**

**Date: \_\_\_\_\_**

- ಪ್ರತಿಯೊಂದು ಪ್ರಶ್ನೆಗಳನ್ನು ಸರಿಯಾಗಿ ಓದಿಕೊಂಡು ಉತ್ತರಿಸಿರಿ.
- ಈ ಪ್ರಶ್ನೆ ಪತ್ರಿಕೆಯು ಎರಡು ಪುಟಗಳನ್ನು ಒಳಗೊಂಡಿದೆ.

**I. ಕೆಳಗಿನ ಕನ್ನಡ ವರ್ಣಮಾಲೆಯ ಅಕ್ಷರಗಳನ್ನು ಹ್ರಸ್ವಸ್ವರಗಳು ಹಾಗೂ ದೀರ್ಘ ಸ್ವರಗಳು ಎಂದು ವಿಂಗಡಿಸಿ ಬರೆಯಿರಿ.**

**5x1=5**

( ಅ, ಆ, ಇ, ಈ, ಉ, ಊ, ಋ, ಎ, ಏ, ಐ, ಒ, ಓ, ಔ )

**ಹ್ರಸ್ವಸ್ವರ- \_\_\_\_\_**

**ದೀರ್ಘಸ್ವರ- \_\_\_\_\_**

**II. ಕೆಳಗಿನ ಬಿಟ್ಟ ಸ್ಥಳಗಳನ್ನು ಸೂಕ್ತ ಪದಗಳಿಂದ ತುಂಬಿರಿ.**

**5x1=5**

(ಅಂ ಅಃ, ಏ, ಅವರ್ಗೀಯ, ಮೂರು, ಇಳ)

1. ಕನ್ನಡ ವರ್ಣಮಾಲೆಯಲ್ಲಿ ಒಟ್ಟು \_\_\_\_\_ ಅಕ್ಷರಗಳಿವೆ.
2. ವರ್ಣಮಾಲೆಯಲ್ಲಿ ಒಟ್ಟು \_\_\_\_\_ ವಿಧಗಳಿವೆ.
3. ವರ್ಗೀಯ ವ್ಯಂಜನಗಳ ಸಂಖ್ಯೆ \_\_\_\_\_ .
4. 'ಯ' ಇದು \_\_\_\_\_ ವ್ಯಂಜನಕ್ಕೆ ಉದಾಹರಣೆಯಾಗಿದೆ.
5. \_\_\_\_\_ ಇವು ಯೋಗವಾಹಗಳು.

III. ಕೆಳಗಿನ ಗುಣಿತಾಕ್ಷರಗಳನ್ನು ಪೂರ್ಣಗೊಳಿಸಿರಿ.

5x1=5

1. ಖ, \_\_\_\_\_, ಖಿ, ಖೀ, ಖು, ಖೂ, \_\_\_\_\_ ಖೆ, ಖೇ, ಖೈ, \_\_\_\_\_ ಖೋ, ಖೌ ಖಂ \_\_\_\_\_
2. \_\_\_\_\_, ನಾ, ನಿ, ನೀ, \_\_\_\_\_, ನೂ, ನೈ, ನೆ, ನೇ, \_\_\_\_\_, ನೊ, ನೋ, ನೌ, ನಂ, \_\_\_\_\_
3. ಬ, ಬಾ, ಬಿ, \_\_\_\_\_ ಬು, ಬೂ, ಬೈ, \_\_\_\_\_ ಬೋ, ಬೋ, ಬೌ, ಬಂ, ಬಃ
4. \_\_\_\_\_, ಪಾ, ಪಿ, \_\_\_\_\_, \_\_\_\_\_, ಪೂ, ಪೈ, ಪೆ, ಪೇ, ಪೈ, ಪೂ, ಪೋ, ಪೌ, \_\_\_\_\_, ಪಃ
5. ಯ, ಯಾ, ಯಿ, ಯೀ, \_\_\_\_\_, ಯೂ, \_\_\_\_\_, ಯೆ, ಯೇ, ಯೈ, \_\_\_\_\_ ಯೋ, ಯೌ, ಯಂ, \_\_\_\_\_

IV. ಕೆಳಗಿನ ಒತ್ತಕ್ಷರಗಳನ್ನು ಸಜಾತಿ ಒತ್ತಕ್ಷರಗಳು ಹಾಗೂ ವಿಜಾತಿ ಒತ್ತಕ್ಷರಗಳು ಎಂದು ವಿಂಗಡಿಸಿ ಬರೆಯಿರಿ.

1X5=5

ಅಕ್ಷರ, ಕಲ್ಲು, ಅಜ್ಜ, ಹಬ್ಬ, ಅಕ್ಕರೆ, ಉತ್ಸಾಹ, ಅರ್ಪಣೆ, ಪಲ್ಲವಿ, ಶಕ್ತಿ, ಪ್ರೀತಿ

- ಸಜಾತಿ ಒತ್ತಕ್ಷರಗಳು : \_\_\_\_\_
- ವಿಜಾತಿ ಒತ್ತಕ್ಷರಗಳು : \_\_\_\_\_



Jindal Vidya Mandir, Jsw Hillside Township

Weekly Test 1 (2024-2025)

Class: II / Sec: \_\_\_\_\_

Duration: 45 min

Subject: Hindi

M Marks: 20M

Date: \_\_\_\_\_

आवश्यक निर्देश : 1) सभी प्रश्नों को हल करना अनिवार्य है।  
2) प्रश्नों की कुल संख्या 5 है।

प्रश्न 1 सही वर्ण चुनकर खाली -स्थान भरिए-

5×1=5

( श , न , द , म , ह , र , ट , ढ , प )

----- ठ ड ----- ण

त थ ----- ध -----

----- फ़ ब भ -----

य ----- ल -----

----- ष स -----

प्रश्न 2 नीचे दिए गए वर्णों को जोड़कर शब्द लिखिए-

3×1=3

क) अ + द + र + क = -----

ख) अ + ख + बा + र = -----

ग) ध + र + ती = -----

प्रश्न 3 खाली -स्थान भरिये।

3×1=3

क ----- कि ----- कू ----- कै -----

-----

श शा ----- शु शू शे ----- शौ शं शः -----

प्रश्न 4 नीचे दिए गए शब्दों में से नाम वाले (संज्ञा) शब्द छाँटकर लिखिए- 5×1=5

( राहुल ,आप ,शेर ,मुझे ,तोता ,केला ,नाचना,भारत )

संज्ञा शब्द

-----

प्रश्न 5 नीचे दिए गए चित्रों को देखकर सही शब्द पर गोला लगाइए-

4×1=4




जल घर फल



दीपक सीटी केला



फल खीरा गीता



गाजर अनार मूली



**Jindal Vidya Mandir, JSW Hill Side Township**  
**Weekly Test-2 (2024-25)**

**Class: II**  
**Sub: EVS**

**Duration: 45 minutes**  
**Max .Marks: 20**

**General Instructions:**

- This question paper consists of 2 pages and 14 questions.
- All the questions are compulsory.

**I. Fill in the blanks from the help box.**

**5X1=5M**

Tongue	heart	smell	skin	limbs
--------	-------	-------	------	-------

1. Nose helps us to \_\_\_\_\_ things.
2. \_\_\_\_\_ is the largest organ in our body.
3. I use my \_\_\_\_\_ to taste food.
4. Arms and legs are called \_\_\_\_\_.
5. The \_\_\_\_\_ pumps blood inside our body.

**II. Match the following.**

**5X1=5M**

- |               |                      |     |
|---------------|----------------------|-----|
| 6. Eyes, ears | a. internal organ    | ( ) |
| 7. Stomach    | b. helps us to think | ( ) |
| 8. Brain      | c. sense organs      | ( ) |
| 9. Head       | d. digestion         | ( ) |
| 10. Lungs     | e. external organ    | ( ) |

**III. Answer the following questions.**

**3X2=6M**

**11. Write any two uses of skin.**

---

---

12. What is digestion?

---

13. What does the brain do?

---


---

14. Draw any four sense organs.

(4M)

--	--	--	--

\*\*\*\*\*



**Jindal Vidya Mandir, Hill Side Township**

**Weekly Test -3 (2024-25)**

**Class II/Sec:\_\_\_\_\_**

**Duration: 45 minutes**

**Subject: Mathematics**

**M. Marks: 20**

**Name:\_\_\_\_\_**

**Roll No: \_\_\_\_\_**

**Invigilator's signature:\_\_\_\_\_**

**Date: 21/06/2024**

---

**General Instructions: This question paper contains 8 main questions in 2 pages.**

**All questions are compulsory.**

---

**Part A**

**1.Choose the correct option.**

**4X1M=4M**

1. \_\_\_\_\_ comes just before 67.

- a) 45                      b) 68                      c) 66                      d) 60

2. \_\_\_\_\_ number has 7 in the tens place and 0 in the ones place.

- a) 70                      b) 07                      c) 23                      d) 7

3. Number name of 40 is \_\_\_\_\_

- a) fourty                      b) forty                      c) far                      d) one

4. The sum of 2 odd number is always an \_\_\_\_\_ number.

- a) even                      b) 0                      c) odd                      d) ordinal

**2.Fill in the blanks.**

**4X1M=4M**

a) The face value of 9 in 90 is \_\_\_\_\_.

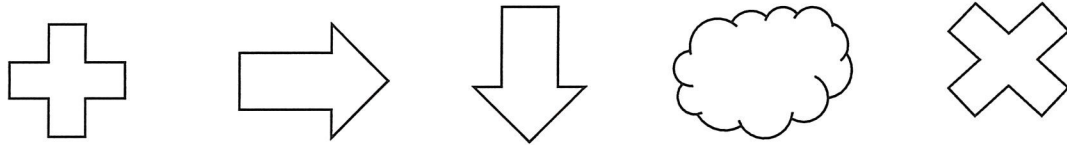
b) Arrangement from smallest to biggest is also called as \_\_\_\_\_ order.

c) Write any two examples of even numbers \_\_\_\_\_ , \_\_\_\_\_

d) 77 is an \_\_\_\_\_ number.

3. Colour the second object red and the last object yellow from left.

2X1M=2M



Part -B

4. Ring the even number red and odd number green.

1X2M=2M

10 ,	5 ,	9 ,	65 ,	44 ,	30 ,
0 ,	1 ,	32 ,		2 ,	99

5. Write the place of given digits.

2X1M=2M

a) 4 in 42 = \_\_\_\_\_

b) 8 in 8 = \_\_\_\_\_

6. Write in expanded form.

2X1M=2M

a) 56 = \_\_\_\_\_

b) 13 = \_\_\_\_\_


7. Arrange the number in descending order.

2M

40 , 99 , 12 , 78 = \_\_\_\_\_ , \_\_\_\_\_ , \_\_\_\_\_ , \_\_\_\_\_

8. Draw an abacus to show the given number. Also write its number name.

2M



Number = 20

Number name =

\_\_\_\_\_



**Jindal Vidya Mandir, Hill Side Township**  
**Weekly Test-4 (2024-25)**

**Class: II/ Sec: \_\_\_\_\_**

**Sub: English**

**Name: \_\_\_\_\_**

**Invigilator's Signature: \_\_\_\_\_**

**Duration: 45mins**

**Max Marks: 20**

**Roll no: \_\_\_\_\_**

**Date: 28 /06/2024**

**General Instructions:**

- This paper consists of 2 pages.
- All the questions are compulsory.

**I. Read the passage and answer the questions given below.**

**1X3=3**

My family lives in a house. Our house is very nice. It has two bedrooms. We cook and eat in the kitchen. We watch TV in the living room. My favorite room is my bedroom. I like to read books and do my homework in my bedroom.

1. Our house has two \_\_\_\_\_.
2. We watch TV in the \_\_\_\_\_.
3. The opposite of fast is \_\_\_\_\_.

**II. Underline the "common nouns" and circle the "proper nouns".**

**1X5=5**

1. The beautiful girl was called Mary.
2. The Red fort a famous monument.
3. My birthday is on the month of May.
4. Sunil is my best friend.
5. My friend lives in Delhi.

III. Sort out the “common nouns” and “proper nouns” and write in the given box.

2X4=8

milk January bank Delhi flower Sunday Christmas mobile

Common Nouns	Proper Nouns

IV. Answer the following questions.

2X2=4

1. What does the camel put inside the tent next?

Ans: \_\_\_\_\_  
\_\_\_\_\_  
\_\_\_\_\_

1. Why does the camel put its head inside the tent?

Ans: \_\_\_\_\_  
\_\_\_\_\_  
\_\_\_\_\_



**Jindal Vidya Mandir, Hill Side Township**  
**Weekly Test-5 (2024-2025)**

**Class: II/ Sec\_\_\_**

**Subject: Kannada (III Lang)**

**Name: \_\_\_\_\_**

**Duration: 45 mins.**

**Maximum Marks: 20**

**Date: \_\_\_\_\_**

**ಸೂಚನೆಗಳು:**

- ಈ ಪ್ರಶ್ನೆ ಪತ್ರಿಕೆಯು 2 ಪುಟಗಳನ್ನು ಹೊಂದಿದೆ. (This question paper contains 2 pages)
- ಎಲ್ಲಾ ಪ್ರಶ್ನೆಗಳು ಕಡ್ಡಾಯವಾಗಿವೆ. (All questions are Compulsory)

**I. ಈ ಕೆಳಗಿನ ಚಿತ್ರಗಳನ್ನು ಕೊಟ್ಟಿರುವ ಪದಗಳೊಂದಿಗೆ ಹೊಂದಿಸಿ ಬರೆಯಿರಿ. 5X1=5**  
**(Match the pictures with the given words)**

1.



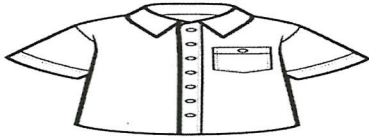
i) ಅಂಗಿ

2.




ii) ಅರಸ

3.



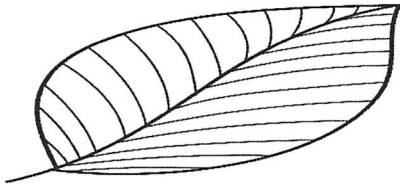
iii) ಐದಳ

4.



iv) ಎಲೆ

5.



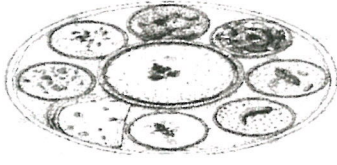
v) ಈಶ

II. ಈ ಕೆಳಗಿನ ಚಿತ್ರಗಳ ಮೊದಲ ಅಕ್ಷರವನ್ನು ಬರೆಯಿರಿ.  
(Write first letter of these picture)

5X1=5

( ಓ, ಆ, ಇ, ಉ, ಊ )

1.



\_\_\_\_\_ ಟ

2.



\_\_\_\_\_ ಲ

3.



\_\_\_\_\_ ದು

4.



\_\_\_\_\_ ನ

5.



\_\_\_\_\_ ರಗ

III. ಈ ಕೆಳಗಿನ ಅಕ್ಷರಗಳ ಹಿಂದಿನ ಅಕ್ಷರವನ್ನು ಬರೆಯಿರಿ.

5X1=5

( Write the letter that comes before the given letter)

1. \_\_\_\_\_ ಎ

2. \_\_\_\_\_ ಈ

3. \_\_\_\_\_ ಇ

4. \_\_\_\_\_ ಓ

5. \_\_\_\_\_ ಐ

IV. ಕೊಟ್ಟಿರುವ ಅಕ್ಷರಗಳನ್ನು ಅವುಗಳಿಂದ ಆರಂಭವಾಗುವ ಮೊದಲ ಅಕ್ಷರದೊಂದಿಗೆ ಹೊಂದಿಸಿ ಬರೆಯಿರಿ.

5X1=5

(Match the words that begin with the given letters )

1. ಇ

i) ಔತಣ ( )

2. ಈ

ii) ಇರುವೆ ( )

3. ಔ

iii) ಏಣಿ ( )

4. ಋ

iv) ಈಚಲ ( )

5. ಈ

v) ಋಷಿ ( )



**Jindal Vidya Mandir, JSW Hill Side Township**  
**Weekly Test-5 (2024-25)**

**Class: II**

**Sub: Hindi (III lang)**

**Duration: 45 min**

**Max Marks: 20M**

**General instructions:**

- सभी प्रश्न अनिवार्य हैं।
- कुल 5 प्रश्न हैं।

1) रिक्त स्थान भरें। (5 X1M=5M)

(fill in the blanks)

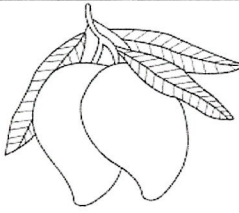
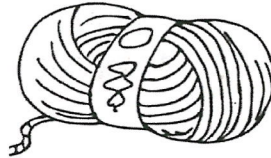
अ आ \_\_\_\_\_ इ \_\_\_\_\_ उ \_\_\_\_\_ ए

ऐ \_\_\_\_\_ औ, अं \_\_\_\_\_

2) चित्रों को पहचान कर उनके नाम का पहल अक्षर लिखिए। (5 X1M=5M)

(Identify pictures and write first letter of their names.)

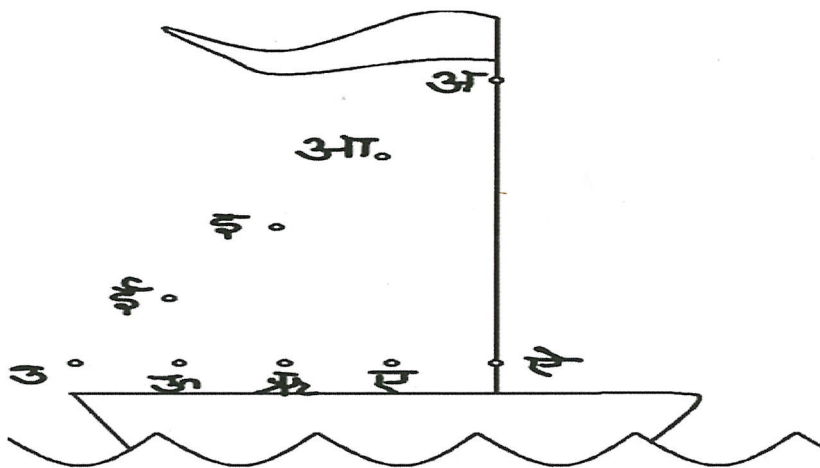
क्रमांक	चित्र	स्वर
1		
2		
3		

4		
5		

3) स्वरों को मिलाकर चित्र को पूरा करके रंग भरिए।

( 5 X1M=5M)

(Join the vowels to complete picture also colour it neatly.)



4) दिए गए स्वरों के एक-एक उदाहरण दीजिए ।

( 5 X1M=5M)

(Write one word for given vowels)

- आ
- उ
- ए
- ऊ
- ऋ

---



---



---



---



---

## Weekly Test 6 (2024-25)

Class: II / Sec: \_\_\_\_\_

Marks: 20M

Subject: Hindi( II Lang.)

Duration: 45 min

Name: \_\_\_\_\_

Roll No. : \_\_\_\_\_

Date: \_\_\_\_\_

Invigilator's sign: \_\_\_\_\_

---

आवश्यक निर्देश : 1) सभी प्रश्नों को हल करना अनिवार्य है।

2) प्रश्नों की कुल संख्या 6 है।

---

प्रश्न 1 नीचे दिए गए गद्यांश को पढ़कर निम्नलिखित प्रश्नों के उत्तर दीजिये। 5X1=5

एक काला कौआ कोयल के जैसा मीठा बोलना चाहता था। उसने फूलों का मधुर रस पिया मधुमक्खी के छत्ते से शहद पिया; फिर उड़कर आम के बगीचे में गया और पेट भरकर मीठे पीले आम खाए। घर की ओर जाते हुए हलवाई की स्वादिष्ट मिठाई चोंच में दबाई और डाल पर बैठकर सारी खा गया। अब उसने अपना गाना शुरू किया- "काँव-काँव-काँव।" तभी एक पत्थर उसकी डाल से आकर टकराया। वह समझ गया कि उसने तो "कुहू-कुहू" कहना चाहा था, पर स्वर "काँव-काँव" ही निकला।

क) कोयल के जैसा कौन मीठा बोलना चाहता था ?

उत्तर \_\_\_\_\_

ख) बगीचे में जा कर कौआ ने क्या खाया ?

उत्तर \_\_\_\_\_

ग) कौआ ने मिठाई कहाँ खाई ?

उत्तर \_\_\_\_\_

घ) विलोम शब्द लिखो मधुर X \_\_\_\_\_

ङ) वचन बदलो लिखो बगीचा X \_\_\_\_\_

प्रश्न 2 ) दी गई पंक्तियों को पूरा करो ।

4X1=4

कभी नाक \_\_\_\_\_

मलते \_\_\_\_\_

\_\_\_\_\_ पड़ा

उनके \_\_\_\_\_

प्रश्न 3 ) निम्नलिखित प्रश्नों के उत्तर दीजिये ।

3X1=3

क) जूता पहनकर कौन निकल पड़ा ?

उत्तर \_\_\_\_\_

ख) जूता उड़ता उड़ता कहाँ जा पहुँचा ?

उत्तर \_\_\_\_\_

ग) इबंत्तुता कहाँ खड़े रह गए ?

उत्तर \_\_\_\_\_

प्रश्न 4 समान अर्थवाले शब्द लिखो ।

2X1=2

1) हवा = \_\_\_\_\_

2) पैर = \_\_\_\_\_

प्रश्न 5 ) दी गई मात्रा के एक – एक शब्द लिखो ।

2X1=2

क )

— = —

ख )

— = —

प्रश्न 6 ) ' मेरा परिचय ' पर अनुच्छेद लेखन 4 पंक्तियों में लिखें ।

4X1=4

---

---

---

\*\*\*\*\*





## Jindal Vidya Mandir, JSW Hill Side Township

### Weekly Test – 6 (2024-25)

Class : II / Sec : \_\_\_\_\_

Subject : Kannada

Name : \_\_\_\_\_

Invigilator's Sign : \_\_\_\_\_

Duration: 45 minutes

Max. Marks : 20

Roll No. : \_\_\_\_\_

Date : 26/07/2024

ಸೂಚನೆಗಳು :

- \*ಈ ಕೆಳಗಿನ ಪ್ರಶ್ನೆಪತ್ರಿಕೆಯು ಒಟ್ಟು 7 ಮುಖ್ಯ ಪ್ರಶ್ನೆಗಳಿಂದ ಕೂಡಿದ್ದು, 2 ಪುಟಗಳನ್ನು ಹೊಂದಿದೆ.
- \*ಪ್ರತಿಯೊಂದು ಪ್ರಶ್ನೆಗಳ ಸೂಚನೆಗಳನ್ನು ಸರಿಯಾಗಿ ಓದಿಕೊಂಡು ಉತ್ತರಿಸಿ.

I. ಈ ಕೆಳಗಿನ ಗದ್ಯಭಾಗವನ್ನು ಓದಿ, ಈ ಕೆಳಗಿನ ಪ್ರಶ್ನೆಗಳಿಗೆ ಉತ್ತರಿಸಿರಿ.

4x1=4

ಶಾಲೆಯ ಗಂಟೆ ಬಾರಿಸಿತು. ಶಾಲೆಯಿಂದ ಹೊರಬಂದ ಮಕ್ಕಳೆಲ್ಲ ಮನೆಯತ್ತ ಹೊರಟರು. ದಾರಿಯ ಬದಿಯ ಮಾವಿನ ತೋಟದಲ್ಲಿ ಬೆಳೆದು ಪಕ್ವವಾಗಿದ್ದ ಮಾವಿನ ಹಣ್ಣುಗಳು ಮಕ್ಕಳನ್ನು ಆಕರ್ಷಿಸಿದವು. ಹಣ್ಣು ತಿನ್ನುವ ಆಸೆಯಿಂದ ಮಕ್ಕಳು ತೋಟವನ್ನು ಪ್ರವೇಶಿಸಿದರು. ಕೆಲವರು ಮರವನ್ನೇರಿದರೆ ಮತ್ತೆ ಕೆಲವರು ಕಲ್ಲು ಬೀಸಿದರು. ಸಿಕ್ಕ ಹಣ್ಣುಗಳನ್ನು ಖುಷಿಯಿಂದ ಹಂಚಿಕೊಂಡು ತಿನ್ನತೊಡಗಿದರು.

ಪ್ರಶ್ನೆಗಳು:

1. ಶಾಲೆಯಿಂದ ಹೊರಬಂದ ಮಕ್ಕಳೆಲ್ಲ \_\_\_\_\_ ಹೊರಟರು.

(i) ಮನೆಯತ್ತ (ii) ಊರಿನತ್ತ (iii) ಹೊಲದತ್ತ (iv) ಕಾಡಿನತ್ತ

2. \_\_\_\_\_ ಹಣ್ಣುಗಳು ಮಕ್ಕಳನ್ನು ಆಕರ್ಷಿಸಿದವು.

(i) ಬಾಳೆ (ii) ಸೇಬು (iii) ಮಾವಿನ (iv) ನೇರಳೆ

3. ಹಣ್ಣು ತಿನ್ನುವ ಆಸೆಯಿಂದ ಮಕ್ಕಳು \_\_\_\_\_ ಪ್ರವೇಶಿಸಿದರು.

(i) ಊರನ್ನು (ii) ತೋಟವನ್ನು (iii) ಶಾಲೆಯನ್ನು (iv) ಹೊಲವನ್ನು

4. ಕೆಲವರು ಮರವನ್ನೇರಿದರೆ ಮತ್ತೆ ಕೆಲವರು \_\_\_\_\_ ಬೀಸಿದರು.

(i) ದೊಣ್ಣೆ (ii) ಕಲ್ಲು (iii) ಮಣ್ಣು (iv) ಕಟ್ಟಿಗೆ

II. ಈ ಕೆಳಗಿನ ಪದಗಳಿಗೆ ಪ್ರಾಸ ಪದಗಳನ್ನು ಬರೆಯಿರಿ.

2X1=2

1. ಸೆಳೆದಿತ್ತು - \_\_\_\_\_

2. ತಾಕತ್ತು - \_\_\_\_\_

III. ಆವರಣದಲ್ಲಿ ಕೊಟ್ಟಿರುವ ಪದಗಳಲ್ಲಿ ಸೂಕ್ತ ಪದವನ್ನು ಆರಿಸಿ, ಖಾಲಿ ಬಿಟ್ಟ ಸ್ಥಳದಲ್ಲಿ ಬರೆಯಿರಿ. 4X1=4

(ಕೈಗಾರಿಕೆಗಳು, ನೀರನು, ಉಪಕಾರವು, ಪ್ರಜೆ )

1. ಕೆಂಪೇಗೌಡರು \_\_\_\_\_ಗಳನ್ನು ತನ್ನ ಮಕ್ಕಳಂತೆ ಪ್ರೀತಿಸುತ್ತಿದ್ದರು.
2. ಬಾಯಲಿ \_\_\_\_\_ ತಂದಿತ್ತು.
3. ಮರವೊಂದಾದರು \_\_\_\_\_ ನೂರು.
4. ಕಸುಬುದಾರರಿಂದ \_\_\_\_\_ ಬೆಳೆದವು.

IV. ಈ ಕೆಳಗಿನ ವಾಕ್ಯಗಳು ಸರಿ ಅಥವಾ ತಪ್ಪು ಎಂಬುದನ್ನು ಗುರುತಿಸಿ ಬರೆಯಿರಿ.

3X1=3

1. ವಿಜಯನಗರವು ಕೆಂಪೇಗೌಡರ ರಾಜಧಾನಿಯಾಗಿತ್ತು. (\_\_\_\_\_)
2. ಹೊಸ ನಗರವನ್ನು ಕಟ್ಟಲು ಪ್ರೇರಣೆ ಸಿಕ್ಕಿದ್ದು ಒಂದು ಕನಸಿನಿಂದ. (\_\_\_\_\_)
3. ಕೆಂಪಾಂಬುಧಿ ಕೆರೆಯನ್ನು ಅಚ್ಯುತರಾಯರು ಕಟ್ಟಿಸಿದರು. (\_\_\_\_\_)

V. ಈ ಕೆಳಗಿನ ಪದಗಳಿಗೆ ಬಹುವಚನ ರೂಪವನ್ನು ಬರೆಯಿರಿ.

2X1=2

1. ಕಾಡು - \_\_\_\_\_
2. ಶಿಲ್ಪಿ - \_\_\_\_\_

VI. ಈ ಕೆಳಗಿನ ಪ್ರಶ್ನೆಗಳಿಗೆ ಒಂದು ವಾಕ್ಯದಲ್ಲಿ ಉತ್ತರಿಸಿರಿ.

2X1=2

1. ಹಕ್ಕಿಯ ಮರಿಗಳು ಏನೆಂದು ಹಾಡಿದವು?

ಉ: \_\_\_\_\_

2. ಯಾವುದು ಜನರ ಮನವನ್ನು ಸೆಳೆದಿತ್ತು?

ಉ: \_\_\_\_\_

VII. ಈ ಕೆಳಗಿನ ಪದ್ಯದ ಸಾಲುಗಳನ್ನು ಪೂರ್ಣಗೊಳಿಸಿರಿ.

3X1=3

ಹಳ್ಳಿಯ \_\_\_\_\_

\_\_\_\_\_

\_\_\_\_\_

ತಣ್ಣೆಳಲನು ಹರಡಿತ್ತು

\*\*\*\*\*



**Jindal Vidya Mandir, JSW Hill Side Township**  
**Weekly Test-7 (2024-25)**

**Class: II/Sec: \_\_\_\_\_**

**Sub: EVS**

**Name: \_\_\_\_\_**

**Invigilator's signature: \_\_\_\_\_**

**Max.Marks:20**

**Duration: 45 minutes**

**Roll no: \_\_\_\_\_**

**Date: \_\_\_\_\_**

**General Instructions:**

- This question paper consists of 2 pages and 14 questions.
- All the questions are compulsory.

**I. Fill in the blanks from the helpbox.**

**5X1=5M**

chemist's	single parent	neighbours	hospital	standing
-----------	---------------	------------	----------	----------

1. People who live in our neighbourhood are called our \_\_\_\_\_.
2. A family where children live with one of their parents is called \_\_\_\_\_ family.
3. Mosquitoes breeding in \_\_\_\_\_ water.
4. We buy medicines at a \_\_\_\_\_ shop.
5. Doctors and nurses work in a \_\_\_\_\_.

**II. Match the following .**

**5X1=5M**

- |                           |                      |     |
|---------------------------|----------------------|-----|
| 6. Mother's sister        | a. uncle             | ( ) |
| 7. Father's brother       | b. mother's parents  | ( ) |
| 8. Paternal grandparents  | c. children of aunt. | ( ) |
| 9. Cousins                | d. aunt              | ( ) |
| 10. Maternal grandparents | e. father's parents  | ( ) |

**III. Answer the following questions.**

**3X2=6M**

11. How does the police help the people?

---

---

**12. Define a family. What kind of family do you live in?**

---

---

---

**13. Why do people go to places of worship?**

---

---

---

**14. Draw and name any two neighbourhood places.**

**(4M)**

--	--



**Jindal VidyaMandir, JSW Hill Side Township**  
**Weekly Test-8 (2024-25)**

**Class: II/ Sec: \_\_\_\_**  
**Sub: Mathematics**  
**Name: \_\_\_\_\_**  
**Invigilator's signature \_\_\_\_\_**

**Duration: 45 min**  
**Max Marks: 20**  
**Roll No: \_\_\_\_\_**  
**Date : \_\_\_\_\_**

**I.Fill in the blanks.**

**4X1M=4M**

- 1) The number which is to be subtracted is known as \_\_\_\_\_.
- 2) Standard form of  $400 + 30 + 6 =$  \_\_\_\_\_.
- 3) Place value of 7 in 972 is \_\_\_\_\_.
- 4)  $78 - 36 =$  \_\_\_\_\_

**II.Match the following columns.**

**4X1M=4M**

**Column A**

**Column B**

- |                |           |     |
|----------------|-----------|-----|
| 1) $94 - 94$   | 63        | [ ] |
| 2) Subtraction | 45        | [ ] |
| 3) $63 - 0$    | 0         | [ ] |
| 4) $46 - 1$    | Take away | [ ] |

**III.Compare the numbers by using sign  $<$  ,  $>$  or  $=$**

**2X1M=2M**

- 1) 121  207
- 2) 767  514



#### IV. Answer the following.

5X2M=10M

1) Subtract.

$$\begin{array}{r} \text{a) } \begin{array}{cc} \text{T} & \text{O} \\ 8 & 7 \\ - & 5 & 3 \\ \hline \end{array} \end{array}$$

$$\begin{array}{r} \text{b) } \begin{array}{cc} \text{T} & \text{O} \\ 9 & 1 \\ - & 3 & 8 \\ \hline \end{array} \end{array}$$

2) Write the following numbers in expanded form.

a) 580 =

b) 786 =

3) Subtract and check your answer.

Subtraction

T	O
6	5
3	9

Check

T	O

4)a) Arrange in ascending order.

369 , 742 , 556 , 108

b) Arrange in descending order.

74 , 141 , 482 , 837

5) In a sports shop, there were 86 balls. If 57 balls were sold, how many balls were left in the shop?

---



---



---



---



---





**Jindal Vidya Mandir, Hill Side Township**  
**Weekly Test-9 (2024-25)**

**Class: II/ Sec: \_\_\_\_\_**

**Sub: English**

**Name: \_\_\_\_\_**

**Invigilator's Signature: \_\_\_\_\_**

**Duration: 45 mins.**

**Max Marks: 20**

**Roll no: \_\_\_\_\_**

**Date: 23/08/2024**

**General Instructions:**

- This paper consists of 3 pages.
- All the questions are compulsory.

**I. Read the passage and answer the questions given below.**

**1X4=4**

Mani and Anand are friends. Last Sunday, they went to a park. They flew their kites. Mani's kite looked like a butterfly. Anand's kite looked like a star. The kites went high up in the sky. They looked so beautiful. All the children clapped to see the kites.

**a. Choose the correct answer and fill in the blanks.**

**1. Mani and Anand are \_\_\_\_\_**

(a) brothers      (b) friends      (c) neighbours

**2. They went to a \_\_\_\_\_**

(a) park      (b) garden      (c) street

**3. Mani's kite looked like a \_\_\_\_\_**

(a) star      (b) flag      (c) butterfly

**4. Write the adjectives from the passage.**

**Ans: \_\_\_\_\_**

**II. Complete the sentences by writing the plural form of the nouns in brackets.**      **1X5=5M**

**1. The \_\_\_\_\_ (knife) are very sharp.**

**2. Rohan has visited several \_\_\_\_\_ (city).**

**3. You are not allowed to take \_\_\_\_\_ (photo).**

4. The \_\_\_\_\_(daisy) are looking so beautiful.

5. All the \_\_\_\_\_(potato) are ripe.

III. Circle the nouns in the common gender.

1X5=5M

1. niece      uncle      cousin      father

2. doctor      man      parent      lady

3. cricketer      actor      sister      boy

4. rooster      bird      goose      dog

5. nurse      chalk      tiger      singer

IV. Read the extract and answer the questions from it.

1X2=2M

Up in the air and over the wall,  
Till I can see so wide,  
River and trees and cattle and all  
Over the countryside

1. What can the child see as he goes up in the air?

Ans: \_\_\_\_\_  
\_\_\_\_\_

2. Write a pair of rhyming word from the poem.

Ans: \_\_\_\_\_

V ) Answer the following questions in one word.

2X2=4M

1. Why was Polly excited about the race?

Ans: \_\_\_\_\_  
\_\_\_\_\_  
\_\_\_\_\_

2. What did Ruth give Polly as a birthday gift?

Ans: \_\_\_\_\_  
\_\_\_\_\_



**Jindal Vidya Mandir, JSW Hill Side Township**  
**Weekly Test-10 (2024-25)**

**Class: II / Sec: \_\_\_\_\_**

**Sub: GK**

**Name: \_\_\_\_\_**

**Invigilator's Signature: \_\_\_\_\_**

**Max Marks: 20**

**Duration: 45 min**

**Roll no: \_\_\_\_\_**

**Date: 02/09/2024**

**General Instructions:**

- This question paper consists of 2 pages and 4 questions.
- All the questions are compulsory.

**I. Fill in the blanks from the help box.**

**5X1=5M**

Madurai	continent	evaporation	water cycle	independent
---------	-----------	-------------	-------------	-------------

1. Europe is the second smallest \_\_\_\_\_ in the world.
2. The continuous movement of water from land to sky and back again is called \_\_\_\_\_.
3. The sun causes water to turn to vapour or gas. This process is called \_\_\_\_\_.
4. Jawaharlal Nehru is the first Prime Minister of \_\_\_\_\_ India.
5. Meenakshi Temple is situated in \_\_\_\_\_.

**II. Match the following.**

**5X1=5M**

- |                     |                            |     |
|---------------------|----------------------------|-----|
| 1. Rakesh Sharma    | a. Australia               | ( ) |
| 2. Independence Day | b. first Indian in space   | ( ) |
| 3. meat pie         | c. 15 <sup>th</sup> August | ( ) |
| 4. reed boat        | d. natural source of light | ( ) |
| 5. sunlight         | e. mode of transport       | ( ) |

**III. Give any two examples of each of the following.**

**6X1=6M**

**1. States:** \_\_\_\_\_, \_\_\_\_\_

**2. Directions:** \_\_\_\_\_, \_\_\_\_\_

**3. Wonders of the world:** \_\_\_\_\_, \_\_\_\_\_

**4. Healthy Foods:** \_\_\_\_\_, \_\_\_\_\_

**5. Freedom Fighters:** \_\_\_\_\_, \_\_\_\_\_

**6. Indian Monuments:** \_\_\_\_\_, \_\_\_\_\_

**IV. Answer the following questions.**

**2X2=4M**

**1. What is ground water?**

**Ans.** \_\_\_\_\_  
\_\_\_\_\_  
\_\_\_\_\_

**2. What are sense organs?**

**Ans.** \_\_\_\_\_  
\_\_\_\_\_  
\_\_\_\_\_

**Jindal Vidya Mandir, Hill Side Township**  
**Weekly Test-11 (2024-25)**

**Class: II/ Sec: \_\_\_\_\_**

**Duration: 45mins**

**Sub: Information Technology**

**Max Marks: 20**

**Name: \_\_\_\_\_**

**Roll no: \_\_\_\_\_**

**Invigilator's Signature: \_\_\_\_\_**

**Date: 9/9 /2024**

**General Instructions:**

- This paper consists of 2 pages.
- All the questions are compulsory.

**I. Choose the correct answer.**

**5X1=5**

1. Computers helps \_\_\_\_\_ to design bikes, cars and other machines.

- (a) engineers                      (b) doctors                      (c) scientists                      (d) architects

2. \_\_\_\_\_ looks like a television.

- (a) keyboard                      (b) Web camera                      (c) DVD                      (d) monitor

3. \_\_\_\_\_ can make decisions and drive safely on their own.

- (a) Roomba                      (b) Alexa                      (c) Self-driving car                      (d) smartphones

4. \_\_\_\_\_ is used to take live photos and videos.

- (a) scanner                      (b) web camera                      (c) microphone                      (d) printer

5. \_\_\_\_\_ is used to listen music when you do not want to disturb others.

- (a) Headphone                      (b) Microphone                      (c) speakers                      (d) Pendrive

**III. State whether given statements are true or false.**

**5x1=5**

1. An intelligent machine can be happy or sad.

\_\_\_\_\_

2. Computers help shopkeepers to print bills.

\_\_\_\_\_

3. Human may get bored of doing the same things again and again.

\_\_\_\_\_

4. A touch screen is a special pen like tool.

\_\_\_\_\_

5. Voice assistants can listen to our voice and understand what we say. \_\_\_\_\_

**IV. Answer the following questions.**

**3x2=6**

1. Write three uses of computers in schools.


Ans: \_\_\_\_\_  
\_\_\_\_\_  
\_\_\_\_\_

2. Write three features of a computer.

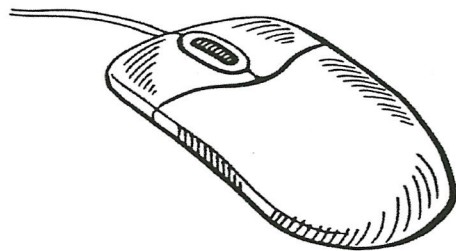
Ans: \_\_\_\_\_  
\_\_\_\_\_  
\_\_\_\_\_

**V. Identify the following pictures.**

**4X1=4**



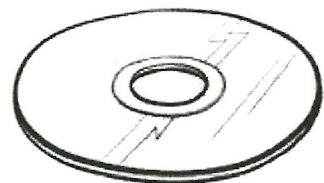
\_\_\_\_\_



\_\_\_\_\_



\_\_\_\_\_



\_\_\_\_\_

Weekly Test – 12 (2024-25)

Class : II / Sec : \_\_\_\_\_

Subject : Kannada

Name : \_\_\_\_\_

Invigilator's Sign : \_\_\_\_\_

Max. Marks: 20

Duration: 45 minutes

Roll No. : \_\_\_\_\_

Date : 13/09/2024

ಸೂಚನೆಗಳು :

\*ಈ ಕೆಳಗಿನ ಪ್ರಶ್ನೆಪತ್ರಿಕೆಯು ಒಟ್ಟು 6 ಮುಖ್ಯ ಪ್ರಶ್ನೆಗಳಿಂದ ಕೂಡಿದ್ದು, 2 ಪುಟಗಳನ್ನು ಹೊಂದಿದೆ.

\*ಪ್ರತಿಯೊಂದು ಪ್ರಶ್ನೆಗಳ ಸೂಚನೆಗಳನ್ನು ಸರಿಯಾಗಿ ಓದಿಕೊಂಡು ಉತ್ತರಿಸಿ.

I. ಈ ಕೆಳಗಿನ ಗದ್ಯಭಾಗವನ್ನು ಓದಿಕೊಂಡು, ಕೊಟ್ಟಿರುವ ಪ್ರಶ್ನೆಗಳಿಗೆ ಉತ್ತರಿಸಿರಿ.

4x1=4

ಒಂದು ಊರಿನಲ್ಲಿ ಒಬ್ಬ ರೈತನಿದ್ದನು. ಅವನ ಬಳಿ ಬಹಳಷ್ಟು ದನ ಕರುಗಳಿದ್ದವು. ಹಸುಗಳ ಹಾಲನ್ನು ಮಾರಿ ಧನ ಸಂಪಾದಿಸಿದ್ದನು. ಅವನು ಅನ್ನ ಮಾಡಲು ಅಕ್ಕಿ ತರುವುದಕ್ಕಾಗಿ ಪೇಟೆಗೆ ಹೊರಟನು. ದಾರಿಯಲ್ಲಿ ಹಕ್ಕಿಯೊಂದು ಹಾರಿ ಬಂದು ಅವನ ಮುಂದೆ ಕುಳಿತಿತು. ಅವನು ಹಕ್ಕಿಯನ್ನು ಹಿಡಿದು ತಂದು ಕಡಿಮೆ ಬೆಲೆಗೆ ಮಾರಿದನು. ರೈತನು ಮನೆಗೆ ಬಂದು ಬಾಗಿಲು ತೆರೆದನು. ಅಲ್ಲಿಯೇ ಇದ್ದ ಹಲ್ಲಿಯೊಂದು ಅವನ ತಲೆಯ ಮೇಲೆ ಬಿದ್ದಿತು.

ಪ್ರಶ್ನೆಗಳು:

1. ರೈತನು ಹಸುಗಳ ಹಾಲನ್ನು ಮಾರಿ \_\_\_\_\_ ಸಂಪಾದಿಸಿದ್ದನು.

(i) ದನ (ii) ದವಸ (iii) ಧನ (iv) ದಾನ

2. ರೈತನು ಅನ್ನ ಮಾಡಲು \_\_\_\_\_ ತರಲು ಪೇಟೆಗೆ ಹೊರಟನು.

(i) ಅಕ್ಕಿ (ii) ಹಕ್ಕಿ (iii) ಹಣ್ಣು (iv) ನೀರು

3. ದಾರಿಯಲ್ಲಿ ಹಕ್ಕಿಯೊಂದು \_\_\_\_\_ ಬಂದಿತು.

(i) ಓಡಿ (ii) ದಾರಿ (iii) ಹಾರಿ (iv) ಜಾರಿ

4. \_\_\_\_\_ಯೊಂದು ರೈತನ ಮೇಲೆ ಬಿದ್ದಿತು.

(i) ಹಲ್ಲಿ (ii) ಅಲ್ಲಿ (iii) ಗಾಲಿ (iv) ಇಲಿ

II. ಈ ಕೆಳಗಿನ ಪದಗಳ ಲಿಂಗವನ್ನು ಬದಲಿಸಿ ಬರೆಯಿರಿ.

4X1=4

1. ಅಪ್ಪ - \_\_\_\_\_

2. ಮಾವ - \_\_\_\_\_

3. ಚಿಕ್ಕಮ್ಮ - \_\_\_\_\_

4. ಅಕ್ಕ - \_\_\_\_\_

III. ಆವರಣದಲ್ಲಿ ಕೊಟ್ಟಿರುವ ಪದಗಳಲ್ಲಿ ಸೂಕ್ತ ಪದವನ್ನು ಆರಿಸಿ, ಖಾಲಿ ಬಿಟ್ಟ ಸ್ಥಳದಲ್ಲಿ ಬರೆಯಿರಿ.

3X1=3


(ಹಗಲುವೇಷ, ಮನೆಯೊಂದು, ಹಿಗ್ಗಿತು)

1. ಕೋಳಿಗಳನ್ನು ಕಂಡು ನರಿಯ ಮರಿಯು ಮನದಲ್ಲೇ \_\_\_\_\_
2. ಸಂತೆಯಲ್ಲಿ \_\_\_\_\_ ಆಟ ಆಡುತ್ತಿದ್ದರು.
3. ನರಿಗೆ ದೂರದಲ್ಲಿ ತೋಟದ \_\_\_\_\_ ಕಾಣಿಸಿತು.

IV. ಈ ಕೆಳಗಿನ ಚಿತ್ರವನ್ನು ಗಮನಿಸಿ, ಸುಳಿವುಗಳ ಸಹಾಯದಿಂದ 4 ವಾಕ್ಯಗಳನ್ನು ಬರೆಯಿರಿ.

1X4=4

( ಮರ, ರವಿ, ಹಳ್ಳ, ಪರಿಸರ, ಹೂ )



---

---

---

---

V. ಈ ಕೆಳಗಿನ ಪ್ರಶ್ನೆಗಳಿಗೆ ಒಂದು ವಾಕ್ಯದಲ್ಲಿ ಉತ್ತರಿಸಿ.

3X1=3

1. ನರಿಯ ಮರಿ ಎಲ್ಲಿ ಸಿಕ್ಕಿಕೊಂಡಿತು?

ಉ: \_\_\_\_\_

2. ಮಕ್ಕಳು ಬಾಳೆಹಣ್ಣಿನ ಸಿಪ್ಪೆಯನ್ನು ಎಲ್ಲಿ ಹಾಕಿದರು?

ಉ: \_\_\_\_\_

3. ಗೆಲೆಯರೆಲ್ಲ ಕೂಡಿ ಎಲ್ಲಿ ಹೋದರು?

ಉ: \_\_\_\_\_

VI. ಈ ಕೆಳಗಿನ ಮಾತನ್ನು ಯಾರು ಯಾರಿಗೆ ಹೇಳಿದರು? ಬರೆಯಿರಿ.

1X2=2

1. “ನಿಮ್ಮ ಹಲ್ಲುಗಳು ಬಲಹೀನವಾಗಿವೆಯಲ್ಲವೇ?”

ಯಾರು ಹೇಳಿದರು? \_\_\_\_\_ ಯಾರಿಗೆ ಹೇಳಿದರು? \_\_\_\_\_



**Jindal Vidya Mandir, JSW Hill Side Township**  
**Weekly Test-12 (2024-25)**

**Class: II / Sec: \_\_\_\_\_**  
**Sub: Hindi (II Lang.)**  
**Name: \_\_\_\_\_**

**Duration: 45 min.**  
**Max Marks: 20**  
**Roll: \_\_\_\_\_**

**प्रश्न 1 उल्टे अर्थ वाले शब्दों के जोड़े बनाओ -**

**1×5=5**

- |         |        |
|---------|--------|
| 1 दूर   | बाहर   |
| 2 साहसी | पुराना |
| 3 भीतर  | पास    |
| 4 नया   | नीचे   |
| 5 ऊपर   | कायर   |

**प्रश्न 3 दिए गए शब्दों के समान अर्थ वाले शब्द लिखो -**

**1×2=2**

- अ) उपहार ----- ( हार , तोहफ़ा )  
ब) माँ ----- ( माता , पानी )

**प्रश्न 4 दिए गए शब्दों के सही वचन चुनकर लिखो -**

**1×3 =3**

- अ) झूला- ----- ( झूले , झूल )  
ब) खंभा - ----- ( अंदर, खंभे )  
स) किताब - ----- ( पन्ने , किताबें )

प्रश्न 5 दिए गए प्रश्नों के उत्तर लिखिए-

3x2=6

क) सांता क्लॉज कैसे आते हैं ?

उत्तर-----

ख) पायल ने भाई की मदद कैसे की ?

उत्तर-----

ग) बच्चों के लिए सांता क्लॉज कौन बनाते हैं ?

उत्तर-----

प्रश्न 6 नीचे लिखे गए विषय पर चार वाक्यों का अनुच्छेद लिखो-

1x4 =4

1 ) मेरा बगीचा

-----

-----

-----

-----

-----

\*\*\*\*\*



Jindal Vidya Mandir, JSW Hill side township

Weekly test – 13 (2024-25)

Class II/Sec : \_\_\_\_\_

Subject: Mathematics

Name : \_\_\_\_\_

Invigilator's signature : \_\_\_\_\_

Duration: 45 min

Max. Marks: 20

Roll No: \_\_\_\_\_

Date: \_\_\_\_\_

General Instructions: This question paper contains 6 main questions in 2 pages.

All questions are compulsory.

1. Divide using tables.

3X1M=3M

a)  $49 \div 7 =$

b)  $72 \div 8 =$

c)  $16 \div 4 =$

2. Divide the following using repeated subtraction.

2X2M=4M

a)  $30 \div 10 =$

b)  $12 \div 4 =$

3. Write two multiplication facts and division facts for the following.

2X2M=4M



Multiplication facts

Division facts

4. Divide using number strip.


3X1M=3M

18  $\div$  6 =



5. Solve the following.

3X1M=3M



a) How many triangles are there altogether ? \_\_\_\_\_

b) How many groups are there ? \_\_\_\_\_

c) How many triangles are there in each group ? \_\_\_\_\_

6. Divide the following using long division method.

3X1M=3M

a)  $63 \div 9$

Quotient =

Remainder =



**Jindal Vidya Mandir, Hill Side Township**  
**Weekly Test-14 (2024-25)**

**Class: II/ Sec: \_\_\_\_\_**

**Sub: English**

**Name: \_\_\_\_\_**

**Invigilator's Signature: \_\_\_\_\_**

**Duration: 45mins**

**Max Marks: 20**

**Roll no: \_\_\_\_\_**

**Date: 25 /10/2024**

- 
- General Instructions:
  - This paper consists of 2 pages.
  - All the questions are compulsory.
- 

**I. Read the extract and answer the questions given below.**

**1X3=3**

At first the river's very small,  
And can't float anything at all;  
But later, as it journeys on,  
It's large enough to float a swan.

**A. Tick the correct options.**

**1. What is the first thing mentioned that can float on it?**

a. swan

b. boat

**2. How is the river at first?**

a. It is very deep.

b. It is very small

**B. What happens to the river as it flows on?**

**Ans: \_\_\_\_\_**

**II. Fill in the blanks with "am, is, are, was or were".**

**1X5=5**

**1. Mr. Ratan Naval Tata \_\_\_\_\_ born in Mumbai.**

**2. Radhika \_\_\_\_\_ an honest person.**

**3. We \_\_\_\_\_ late yesterday.**

**4. They all \_\_\_\_\_ going to the zoo today.**

**5. Ravi says, "I \_\_\_\_\_ scared of it".**

III. Match the words in the column A with suitable main verbs in column B and the words in column C to make meaningful sentences. 2X4=8

A	B	C
I	are	Lovely.
They	is	absent yesterday.
The roses	am	going to the park.
Amit	was	singing.
The old man	were	very hungry.

1. \_\_\_\_\_
2. \_\_\_\_\_
3. \_\_\_\_\_
4. \_\_\_\_\_

IV. Answer the following questions.

2X2=4

1. Why do people sit under a tree on a sunny afternoon?

Ans: \_\_\_\_\_  
 \_\_\_\_\_  
 \_\_\_\_\_

1. When did the seed wake up from its sleep?

Ans: \_\_\_\_\_  
 \_\_\_\_\_  
 \_\_\_\_\_