

Weekly Test – 1 (2024-25)

Class : III
Subject: EVS

Max.Marks : 20
Duration: 45 Min

Instructions:

This question paper contains 4 main questions. All the questions are compulsory.
Answers to be written separately in a notebook.

I . Fill in the blanks:

5 X 1= 5 M

- 1) People who are related to us are called our_____
- 2) People who are related to our mother are called our_____.
- 3) Our aunts, uncles, and cousins are our_____ family.
- 4) A family in which either of the parents live with their children is called a_____ .
- 5) A_____ consists of a group of people who are related to each other.

II . State the following statements whether True or False.

6 X 1 = 6 M

- 6) If I am a boy, I am my parent's daughter .
- 7) The children of my aunt and uncle are my cousins.
- 8) My father's sister is my paternal aunt.
- 9) My parents' parents are called as my grandparents.
- 10) My mother's sister is my aunt.
- 11) A family in which many members live together is called a joint family.

III . Solve the riddles

3 X 1 = 3 M

- 12) He is the son of my father . He is my _____
- 13) She is the daughter of my grandfather and wife of my father .She is my _____.
- 14) Rita is my father's daughter. She is my_____.

IV . Answer the following:

3X 2 =6 M

- 15)What is a nuclear family?
- 16) Who are our immediate family members?
- 17) How can you help your parents?



Jindal Vidya Mandir, JSW Hill Side Township
Weekly Test-2 (2024-25)

Class: III
Sub: Mathematics

Duration: 45 min
Max Marks: 20M

General Instructions:

- All questions are compulsory.

Q1.Fill in the blanks :

(1X5M=5M)

- a) $401 = \underline{\hspace{1cm}}$ hundreds + $\underline{\hspace{1cm}}$ tens + $\underline{\hspace{1cm}}$ one.
- b) Write in word form of $245 = \underline{\hspace{2cm}}$.
- c) $10 \times 5 \underline{\hspace{1cm}} 40 + 10$ compare and put correct sign. ($>$, $<$, $=$)
- d) $542, 552, 562, \underline{\hspace{1cm}}, \underline{\hspace{1cm}}$. write next two numbers.
- e) Make a 3 digits greatest number using the digits 6, 3, 2.

Q2.Write the expanded form.

(1X5M=5M)

- a) $930 = \underline{\hspace{1cm}} + \underline{\hspace{1cm}} + \underline{\hspace{1cm}}$.
- b) Rewrite in increasing order:
 $346, 425, 600, 742, 88 \underline{\hspace{1cm}}, \underline{\hspace{1cm}}, \underline{\hspace{1cm}}, \underline{\hspace{1cm}}, \underline{\hspace{1cm}}$.
- c) Circle the greatest number .
 $91, 1021, 275, 688$.
- d) Cross out the smallest numbers.
 $735, 2022, 760, 546$
- E) Write the place value and face value of 6 in the number 568.

Q3. solve the following :

(2X2.5M=5M)

- a) Find and write even numbers between 81 to 100.
- b) Represent the following numbers on an abacus beads.
- i) 456 ii) 782

Q4. Solve the following:

(1X5M=5M)

a) HT 0

2 3 6

+ 1 4 2

b) HT 0

1 2 3

X 22

c) HT 0

4 3 5

- 6 3

d) HT 0

4 0 5


2 3 3

+ 1 1

e) HT 0

2 3 6

- 1 4 2



Jindal Vidya Mandir, JSW Hill Side Township
Weekly Test-3 (2024-25)

Class: III
Sub: English

Duration:45min.
Max Marks: 20

I. Circle the abstract noun in each pair.

4X ½ =2

1. hunger

burger

2. water

thirst

3. tears

sadness

4. rain

fear

II. Make sentences by using any two abstract nouns of your own.

2X1=2

1. _____

2. _____

III. Fill in the blanks with the abstract noun form of the words in brackets.

4X ½ =2

1. _____ (Kind) is the best weapon for arrogant people.


2. These stories offer a plenty of _____ (wise) to readers.

3. The _____ (bitter) which he felt appeared in his writings.

4. They felt a glow of _____ (proud) as they watched their daughter collect the award.

IV. Identify each picture and write the collective noun.

3X1=3







V. Answer the following.

4X2=8

Q1. What was the king's wish?

Q2. How did the shopkeeper 's words help the pedlar fulfil his dream?

Q3. Why did the pedlar finally decide to go to London?

Q4. Was there a change in king Midas by the end of the story?

VI. Write 5 lines on the topic "My big dream."

3X1=3



Jindal Vidya Mandir, Hill Side Township
Weekly Test-4 (2024-2025)

Class: III Sec_____

Subject: Kannada

Name:_____

Duration: 45 mins.

Maximum Marks:20

Date: _____

ಸೂಚನೆಗಳು:

- ಈ ಪ್ರಶ್ನೆ ಪತ್ರಿಕೆಯು ಎರಡು ಪುಟಗಳನ್ನು ಹೊಂದಿದೆ.
- ಎಲ್ಲಾ ಪ್ರಶ್ನೆಗಳು ಕಡ್ಡಾಯವಾಗಿದ್ದು, ಪ್ರಶ್ನೆ ಹಾಗೂ ಉಪ ಪ್ರಶ್ನೆಗಳ ಸಂಖ್ಯೆಗಳನ್ನು ಸರಿಯಾಗಿ ಬರೆಯಿರಿ.

1. ಕೆಳಗೆ ಕೊಟ್ಟಿರುವ ಗದ್ಯಭಾಗವನ್ನು ಓದಿಕೊಂಡು ಪ್ರಶ್ನೆಗಳಿಗೆ ಉತ್ತರಿಸಿರಿ. 5X1=5

ರಾಜಸ್ಥಾನವು ಅಶ್ವದಳಕ್ಕೆ ಪ್ರಸಿದ್ಧವಾದ ಒಂದು ನಗರ. ರಜಪೂತರ ತ್ಯಾಗ ಹಾಗೂ ಬಲಿದಾನಗಳಿಗೆ ನೂರಾರು ಕಥೆಗಳು ಪ್ರಸಿದ್ಧವಾಗಿವೆ. ರಾಣಾಸಿಂಗನು ಮೇವಾರಿಗಳ ಒಬ್ಬ ಪ್ರಸಿದ್ಧ ಅರಸನಾಗಿದ್ದನು. ರಾಣಾ ಸಿಂಗನ ನಂತರ ವಿಕ್ರಮ ಸಿಂಗನು ಅಧಿಕಾರ ವಹಿಸಿಕೊಂಡನು. ಆದರೆ ಅವನದ್ದು ಮುಳ್ಳಿನ ಹಾದಿಯಾಗಿತ್ತು. ಜನರು ವಿಕ್ರಮ ಸಿಂಗನ ಆಡಳಿತಕ್ಕೆ ಸಂತೋಷವಾಗಿರಲಿಲ್ಲ. ರಣಧೀರ ಎಂಬಾತನು ಬಹಳ ಮೋಸಗಾರನಾಗಿದ್ದನು. ಆತ ವಿಕ್ರಮ ಸಿಂಗನ ಮಂತ್ರಿಯಾಗಿದ್ದು, ಅವನು ತನ್ನ ಕೈಯಲ್ಲಿ ಆಡಳಿತವನ್ನು ತೆಗೆದುಕೊಂಡು, ಜನರಿಗೆ ಮೋಸ ಮಾಡತೊಡಗಿದನು. ಇದರಿಂದ ಜನರು ವಿಕ್ರಮ ಸಿಂಗನ ವಿರುದ್ಧ ನಿಲ್ಲುವಂತಾಯಿತು. ರಜಪೂತರ ಕೀರ್ತಿ ನಾಡಿನ ಉದ್ದಗಲಕ್ಕೂ ಹರಡಿದೆ. ಇದಕ್ಕೆ ಮುಖ್ಯ ಕಾರಣ ರಾಜ ಪ್ರತಾಪ್ ಸಿಂಗ್. ಇವನು ಶತ್ರುಗಳ ಸಂಹಾರವನ್ನು ಮಾಡಿ, ರಜಪೂತರ ಕೀರ್ತಿಪತಾಕೆಯನ್ನು ನಾಡಿನ ಉದ್ದಗಲಕ್ಕೂ ಹಾರಿಸಿದನು.

ವಸ್ತುನಿಷ್ಠ ಪ್ರಶ್ನೆಗಳು:

1. ರಾಜಸ್ಥಾನವು _____ ದಳಕ್ಕೆ ಪ್ರಸಿದ್ಧವಾಗಿತ್ತು .
(i) ಗಜ (ii) ಅಶ್ವ (iii) ಭೂ (iv) ಸೇನಾ
2. ರಾಣಾ ಸಿಂಗನು _____ ಪ್ರಸಿದ್ಧ ದೊರೆಯಾಗಿದ್ದನು.
(i) ಮೇವಾರಿ (ii) ರಜಪೂತ (iii) ಸಿಂಗ್ (iv) ಕಾಶ್ಮೀರಿ
3. ವಿಕ್ರಮ ಸಿಂಗನದು _____ ಹಾದಿಯಾಗಿತ್ತು.
(i) ಹೂವಿನ (ii) ಮುಳ್ಳಿನ (iii) ಹಣ್ಣಿನ (iv) ಸುಖದ
4. _____ ಎಂಬಾತನು ಬಹಳ ಮೋಸಗಾರನಾಗಿದ್ದನು.
(i) ರಣವೀರ (ii) ರಣಧೀರ (iii) ರಾಣಸಿಂಗ್ (iv) ವಿಕ್ರಂ ಸಿಂಗ್
5. _____ ಎಂಬಾತನು ರಜಪೂತರ ಕೀರ್ತಿ ಪತಾಕೆಯನ್ನು ನಾಡಿನ ಉದ್ದಗಲಕ್ಕೂ ಹಾರಿಸಿದನು.
(i) ಪ್ರತಾಪ್ ಸಿಂಗ್ (ii) ವಿಕ್ರಮ ಸಿಂಗ್ (iii) ರಣಧೀರ ಸಿಂಗ್ (iv) ರಣವೀರ್ ಸಿಂಗ್

II. ಕೆಳಗಿನ ಪದಗಳಿಗೆ ಪ್ರಾಸ ಪದಗಳನ್ನು ಬರೆಯಿರಿ.

4X1/2=2

1. ತುತ್ತೂರಿ - _____
2. ಬೀದಿಯಲಿ- _____
3. ಪಾಲಾಯ್ತು- _____
4. ಹಾಳಾಯ್ತು- _____

III. ಕೆಳಗಿನ ಪದಗಳಿಗೆ ವಿರುದ್ಧಾರ್ಥಕ ಪದಗಳನ್ನು ಬರೆಯಿರಿ.

4X1=4

1. ಅಂಜುಬುರುಕ - _____
2. ಮೊದಲು - _____
3. ಉಳಿವು - _____
4. ಅತಿವೃಷ್ಟಿ - _____

IV. ಕೆಳಗಿನ ಪ್ರಶ್ನೆಗಳಿಗೆ ಒಂದು ವಾಕ್ಯದಲ್ಲಿ ಉತ್ತರಿಸಿರಿ.

5X1=5

1. ಜಂಭದ ಕೋಳಿ ಯಾರು?
2. ಕಸ್ತೂರಿ ಎಲ್ಲಿ ತುತ್ತೂರಿಯನ್ನು ಊದಿದನು?
3. ತುತ್ತೂರಿ ಏನಾಯ್ತು?
4. ಕಾಡಿಗೆ ಮರ ಕಡಿಯಲು ಬಂದವರು ಯಾರು?
5. ಕೋತಿ ಮಾನವನನ್ನು ಏನೆಂದು ಪ್ರಶ್ನಿಸಿತು?

V. ಕೆಳಗಿನ ಪ್ರಶ್ನೆಗಳಿಗೆ ಎರಡು - ಮೂರು ವಾಕ್ಯಗಳಲ್ಲಿ ಉತ್ತರಿಸಿರಿ.

2X2=4

1. ಮೊಲವು ಮಾನವನನ್ನು ಅವಿವೇಕ ಎಂದು ಹೇಳಿದ್ದು ಏಕೆ?
2. ಮಾನವನ ಸವಾಲಿಗೆ ಕಾಗೆಯ ಉತ್ತರವೇನು?



Jindal Vidya Mandir, JSW Hill Side Township
Weekly Test-4(2024-25)

Class: III (II language)
Sub: Hindi

Duration:45min.
Max Marks: 20

प्रश्न 1. निम्नलिखित अपठित गद्यांश को पढ़कर प्रश्नों के उत्तर लिखिए। 5x1=5

आज रानी पिकनिक पर जा रही है। वह चिड़ियाघर घूमने जा रही है। वह सभी जानवरों को देखने के लिए उत्साहित है। रानी का पसंदीदा जानवर जिराफ़ है। वह उसकी लंबी गर्दन और धब्बों से प्यार करती है। रानी को उम्मीद है कि वह आज जिराफ़ों को खाना खिला पाएगी। वह तस्वीरें लेने के लिए अपना कैमरा साथ लेकर जा रही है।

प्रश्न i) आज रानी कहाँ जा रही है?

क) पिकनिक ख) पार्क

प्रश्न ii) रानी कहाँ घूमने जा रही है ?

क) बाज़ार ख) चिड़ियाघर

प्रश्न iii) रानी का पसंदीदा जानवर कौन सा है?

क) हाथी ख) जिराफ़

प्रश्न iv) रानी को जिराफ़ के बारे में क्या पसंद है?

क) लंबी गर्दन और धब्बे ख) उसकी पूँछ

प्रश्न v) रानी चिड़ियाघर में तस्वीरें लेने के लिए क्या ले कर जा रही है?

क) कैमरा ख) मोबाइल

प्रश्न 2. नीचे लिखे शब्दों में से संज्ञा शब्द छाँटकर लिखे-
(कोयल, कड़वी, आम, उड़ना)

1x1=1

प्रश्न 3. नीचे लिखे शब्दों के लिए विलोम शब्द लिखे -

2x1=2

i) मीठी ii) रोना iii) दिन iv) अंदर

प्रश्न 4. नीचे लिखे शब्दों का लिंग बदल कर लिखे-

2x1=2

i) हाथी ii) राजा iii) शेरनी iv) मोरनी

प्रश्न 5. नीचे लिखे प्रश्नों के उत्तर लिखे -

5x2=10

- i) शेर ने मक्खी से हार क्यों मान ली ?
- ii) अंत में मक्खी का क्या हाल हुआ ?
- iii) कक्कू कौन है और वह दिन भर क्या करता रहता है?
- iv) बच्चे कक्कू को क्या-क्या कहकर चिढ़ाते हैं ?
- v) कक्कू का स्वभाव कैसा है ?



Jindal Vidya Mandir, Hill Side Township
Weekly Test - 5 (2024-25)

Class: - III/Sec: - _____

Subject: - Kannada (III Language)

Student Name: - _____

Max. Marks: - 20

Duration: - 45 minutes

Roll No: - _____

General Instruction: -This question paper contains 2 pages and 4 main questions.

I. ಈ ಕೆಳಗಿನ ಬಿಟ್ಟ ಸ್ಥಳಗಳಲ್ಲಿ ಸರಿಯಾದ ಅಕ್ಷರಗಳನ್ನು ತುಂಬಿರಿ:

(Choose the correct letter and fill in the blanks)

5X1=5

{ ಐ, ಓ, ಈ, ಔ, ಉ }

ಅ	ಆ	ಇ		ಉ		ಋ
ಎ	ಏ		ಒ			ಌ ಳ

II. ಈ ಕೆಳಗೆ ಕೊಟ್ಟಿರುವ ಸುಳಿವಿನ ಸಹಾಯದಿಂದ ಸರಿಯಾದ ಅಕ್ಷರವನ್ನು ಆರಿಸಿ ಪದಗಳನ್ನು ಪೂರ್ಣಗೊಳಿಸಿ.

5X1=5

(Choose the correct letter from the bracket and frame a meaningful word)

- i) ಕ _____ ಲ (ನ, ಮ, ಬ)
 ii) _____ ರಸ (ಅ, ಸ, ಲ)
 iii) ಬಸ _____ (ಸ, ವ, ರ)
 iv) ನ _____ ರ (ಮ, ರ, ಗ)
 v) ಗ _____ ಗ ಸ (ಸ, ದ, ರ)

III. ಈ ಕೆಳಗಿನ ವ್ಯಂಜನಾಕ್ಷರಗಳನ್ನು ಸರಿಯಾದ ಕ್ರಮದಲ್ಲಿ ಜೋಡಿಸಿ ಬರೆಯಿರಿ:

(Rearrange and write the following consonants in order)

5X1=5

i) ಖ , ಕ , ಘ , ಜ , ಗ =

--	--	--	--	--

ii) ಛ, ಝ, ಜ, ಚ, ಞ =

--	--	--	--	--

iii) ಡ, ಳ, ಠ, ಱ, ಠ =

--	--	--	--	--

iv) ಡ, ತ, ಡ, ದ, ನ =

--	--	--	--	--

v) ಮ, ಪ, ಫ, ಬ, ಭ =

--	--	--	--	--


IV. ಈ ಕೆಳಗಿನ ಚಿತ್ರಗಳನ್ನು ಗಮನಿಸಿ, ಸರಿಯಾದ ಪದವನ್ನು ಆರಿಸಿ ಬರೆಯಿರಿ:

(Observe the following pictures, identify the correct word, and write it)

5X1=5

ಪಟ, ಚಮಚ, ತಬಲ, ಮರ, ನಳ


i)



ii)



iii)



iv)



v)



Jindal Vidya Mandir, JSW Hill Side Township

Weekly Test 5 (2024-25)

Class: III / Sec: _____
Subject: Hindi(III Lang.)
Name: _____

Duration: 45 min
Marks: 20M
Invigilator's sign: _____
Date: _____

आवश्यक निर्देश : 1) सभी प्रश्नों को हल करना अनिवार्य है।
2) प्रश्नों की कुल संख्या 5 है।

1) प्रश्न: सही क्रम में लिखिए ।

4X1=4

Write in correct order.

घ क ख ड ग

प भ ब फ म

र व य ल श

छ ज झ च ज

2) प्रश्न: दिए गए वर्ण का अगला वर्ण लिखिए ।

4X1=4

Write the next letter of given letter.

ख _____, छ _____, फ _____, ट _____

3) प्रश्न: चित्र पहचान कर सही स्वर से मिलान कीजिये ।

4X1=4

Match the following pictures with correct letter



उ



अ



ए



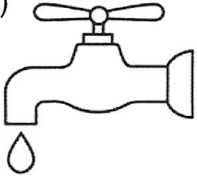
आ

4) प्रश्न: दिए गए चित्रों का पहला वर्ण लिखिए ।


6X1=6

Write the first letter of given pictures.

1)



2)



3)



4)



5)



6)




5) प्रश्न: दिए गए वर्ण से चित्र बना कर रंग भरें ।


2X1=2

Draw and colour the picture that start with given letter.

अं



त





Jindal VidyaMandir, JSW Hill Side Township
Weekly Test-6 (2024-25)

Class: III/ Sec: ____
Sub: Mathematics

Duration: 45 min
Max Marks: 20

I.Match the following columns.

4X1M=4M

Column A

Column B

1) $734 - 734$

465 []

2) $465 - 0$

260 []

3) $980 - 720$

898 []

4) $899 - 1$

0 []

II.Fill in the blanks.

4X1M=4M

1) The bigger number from which the smaller number is subtracted is called _____.

2)When a number is subtracted from itself,the answer is _____.

3) $5600 - \underline{\hspace{2cm}} = 5999$.

4) The difference between the greatest 3-digit number and the smallest 4-digit number is _____

III. Answer the following.

3X2M=6M

1) Subtract.

a)
$$\begin{array}{r} \text{H} \quad \text{T} \quad \text{O} \\ 4 \quad 5 \quad 1 \\ - 2 \quad 3 \quad 9 \\ \hline \end{array}$$

b)
$$\begin{array}{r} \text{Th} \quad \text{H} \quad \text{T} \quad \text{O} \\ 8 \quad 7 \quad 9 \quad 1 \\ - 5 \quad 9 \quad 3 \quad 8 \\ \hline \end{array}$$

2) Arrange in columns and subtract.

$$4851 - 2493$$

3) Solve: $6642 + 1729 - 3875$

IV. Answer the following.

2X3M=6M

1) Subtract and check your answer.

$$7659 - 3235$$

2) Add 3724 to 5173 and then subtract from the total. Find the answer.



Jindal Vidya Mandir, JSW Hill Side Township
Weekly Test-7 (2024-25)

Class: III/ Sec: _____

Duration: 45mins

Sub: English

Max Marks: 20

General Instructions:

-
- This question paper consists of 2 pages and 5 main questions.
 - All the questions are compulsory.
-

I. Read the passage and answer the following questions.

5X1=5

Once upon a time, in a green meadow, there was a happy bunny named Fluffy. Fluffy had soft fur like a cloud and loved to hop around under the bright sun. One day, Fluffy found a shiny marble near a bubbling brook. The marble sparked like a star in the sky, making Fluffy's eyes widen with wonder. Fluffy hopped back to the burrow, feeling excited to show the marble to friends. They all gathered around, admiring the marble's beauty, and spent the day playing games in the meadow, their laughter filling the air. At sunset, Fluffy nestled in the cozy burrow, the marble safely tucked beside, dreaming of more adventures in the meadow.

Questions.

Q1. What did Fluffy find near the brook?

Q2. How did the marble look like?


Q3. Where did Fluffy show the marble to friends?

Q4. What did Fluffy and friends do after finding the marble?

Q5. Where did Fluffy dream of more adventures at the end of the day?

II. Look at the picture carefully. Write a short paragraph describing what you see in the picture.

3X1=3



III. Answer the following questions.

4X1=4

Q1. What was the trouble faced by all the animals?

Q2. Where did the evil spirits hide the Sun?

Q3. Who was sent finally to bring back the Sun? Say why?

Q4. What happened to the evil spirits once the Sun was back in the sky?

IV. Fill in the blanks with the demonstrative adjectives- this, that, these, those as directed.

5X1=5

1. _____ red apple looks delicious. (near)

2. _____ colorful birds are chirping happily. (far)

3. _____ big tree stands tall in the picture. (far)

4. _____ fluffy clouds look like a cotton candy in the sky. (far)

5. _____ vibrant flowers in the garden add a pop of color.

V. Circle the correct possessive adjectives.

3X1=3

1. (My/ I) favourite book is on the table.

2. (Your/ You) adorable puppy is playing in the park.

3. This is not (mine/ my) pen.



Jindal Vidya Mandir, JSW, Hill Side Township

Weekly Test-8 (2024-25)

Class: III / Sec:

Sub: EVS

Duration: 45 minutes

Max Marks: 20

General Instructions:

- This question paper consists of 1 page.
 - All the questions are compulsory.
-

I. Choose the correct options.

3X1M=3M

1. The leaves of which of the following trees change their colour in autumn.
a. Maple b. Banyan c. Birch
2. Which of the following animals are vertebrates?
a. Insects b. Worms c. Birds
3. Which of the following animals is a mammal?
a. Fish b. Whale c. Duck

II. Fill in the blanks.

2X1M=2M


4. During photosynthesis, plants give out _____ gas.
5. The green coloured substance present in leaves is _____.

III. Answer the following questions.

6. Name two amphibians. **2M**
7. What do you mean by photosynthesis? **2M**
8. What is adaptation? **2M**
9. Differentiate between herbivores, carnivores and omnivores animals. **3M**
10. Write three ways in which we use leaves of a plant. **3M**

IV. Draw the structure of a leaf and label the parts.

3M



Jindal Vidya Mandir, JSW Hill Side Township
Weekly Test - 9 (2024-25)

Class: III

Duration: 45 Min

Sub: Kannada (II language)

Max Marks: 20

ಸೂಚನೆಗಳು: * ಈ ಪ್ರಶ್ನೆಪತ್ರಿಕೆಯು ಎರಡು ಪುಟಗಳನ್ನು ಹೊಂದಿದ್ದು, ಆರು ಮುಖ್ಯ ಪ್ರಶ್ನೆಗಳನ್ನು ಒಳಗೊಂಡಿದೆ.

* ಎಲ್ಲಾ ಪ್ರಶ್ನೆಗಳು ಕಡ್ಡಾಯವಾಗಿದ್ದು, ಸೂಚನೆಗಳಿಗೆ ತಕ್ಕಂತೆ ಉತ್ತರಿಸಿರಿ.

I. ಈ ಕೆಳಗೆ ಕೊಟ್ಟಿರುವ ಪಠ್ಯೇತರ ಗದ್ಯ ಭಾಗವನ್ನು ಓದಿಕೊಂಡು, ಕೆಳಗಿನ ಪ್ರಶ್ನೆಗಳಿಗೆ ಉತ್ತರಿಸಿರಿ : 4x1=4

ಒಂದು ಊರಿನಲ್ಲಿ ಒಬ್ಬ ರೈತನು ವಾಸಿಸುತ್ತಿದ್ದನು. ಅವನಿಗೆ ಮೂರು ಜನ ಗಂಡು ಮಕ್ಕಳಿದ್ದರು. ಅವರು ಪರಸ್ಪರ ಯಾವಾಗಲೂ ಜಗಳವಾಡುತ್ತಿದ್ದರು. ಒಮ್ಮೆ ರೈತನು ತೀವ್ರ ಅನಾರೋಗ್ಯಕ್ಕೆ ಒಳಗಾದನು. ರೈತನು ತನ್ನ ಮಕ್ಕಳ ವರ್ತನೆಯಿಂದ ತುಂಬಾ ನೊಂದುಕೊಂಡನು. ಅವನು ಒಂದು ದಿನ ತನ್ನ ಮಕ್ಕಳಿಗೆ ಒಂದು ಕಟ್ಟು ಕಡ್ಡಿಗಳನ್ನು ತೆಗೆದುಕೊಂಡು ಬರಲು ಹೇಳಿದನು. ಅವುಗಳನ್ನು ಮುರಿಯುವಂತೆ ಹೇಳಿದನು. ಮಕ್ಕಳು ಎಷ್ಟೇ ಪ್ರಯತ್ನ ಪಟ್ಟರೂ ಅವುಗಳನ್ನು ಮುರಿಯಲು ಸಾಧ್ಯವಾಗಲಿಲ್ಲ. ರೈತನು ಕಟ್ಟನ್ನು ಬಿಚ್ಚಿ ಒಂದೊಂದೇ ಕಡ್ಡಿಗಳನ್ನು ತುಂಡು ಮಾಡುವಂತೆ ತಿಳಿಸಿದನು.

ಆಗ ಮಕ್ಕಳೆಲ್ಲ ಸುಲಭವಾಗಿ ಕಡ್ಡಿಗಳನ್ನು ತುಂಡು ತುಂಡಾಗಿ ಮಾಡಿ ಎಸೆದರು. ಆಗ ರೈತನು ಮಕ್ಕಳಿಗೆ "ನೋಡಿದಿರಾ ಮಕ್ಕಳೇ! ನೀವು ಈ ಕಡ್ಡಿಗಳಂತೆ ಇದ್ದೀರಿ, ದಿನಾಲೂ ಜಗಳವಾಡುತ್ತಿದ್ದರೆ ಇದರ ಲಾಭವನ್ನು ಬೇರೆಯವರು ಪಡೆದುಕೊಳ್ಳುತ್ತಾರೆ. ಆದ್ದರಿಂದ ನೀವೆಲ್ಲ ಜಗಳವಾಡದೇ ಒಗ್ಗಟ್ಟಾಗಿರಬೇಕು, ಆಗ ನಿಮ್ಮನ್ನು ಯಾರೂ ಏನೂ ಮಾಡಲು ಸಾಧ್ಯವಿಲ್ಲ." ಎಂದು ಹೇಳಿದನು. ಇದರಿಂದ ಮಕ್ಕಳು ಒಳ್ಳೆಯ ಬುದ್ಧಿಯನ್ನು ಕಲಿತು, ಒಗ್ಗಟ್ಟಾಗಿರಲು ಪ್ರಾರಂಭಿಸಿದರು. 'ಒಗ್ಗಟ್ಟಿನಲ್ಲಿ ಬಲವಿದೆ' ಎಂಬ ನೀತಿಯನ್ನು ಅರಿತರು.

ಪ್ರಶ್ನೆಗಳು:-

1. ರೈತನಿಗೆ ಎಷ್ಟು ಜನ ಗಂಡು ಮಕ್ಕಳಿದ್ದರು?
2. ಯಾರು ಅನಾರೋಗ್ಯಕ್ಕೆ ಒಳಗಾಗಿದ್ದರು ?
3. ರೈತನು ಮಕ್ಕಳಿಗೆ ಏನನ್ನು ತರಲು ಹೇಳಿದನು?
4. ಈ ಮೇಲಿನ ಗದ್ಯಭಾಗದಲ್ಲಿರುವ ನೀತಿ ಏನು?

II. ಈ ಕೆಳಗೆ ಕೊಟ್ಟಿರುವ ಪ್ರಶ್ನೆಗಳಿಗೆ ಒಂದು ವಾಕ್ಯಗಳಲ್ಲಿ ಉತ್ತರಿಸಿರಿ:

4x1=4

1. ಶಾಲಾ ಪತ್ರಿಕೆಯ ಹೆಸರೇನು?
2. ಜೋಗ ಜಲಪಾತ ಎಲ್ಲಿದೆ?
3. ಗಾಂಧೀಜಿಯವರು ಆರಂಭಿಸಿದ ಚಳುವಳಿ ಯಾವುದು?
4. ಈಸೂರು ಜನರ ಘೋಷಣೆ ಏನು ?

III. ಈ ಕೆಳಗೆ ಕೊಟ್ಟಿರುವ ಪದಗಳಿಗೆ ಬಹುವಚನ ಪದಗಳನ್ನು ಬರೆಯಿರಿ:

4x1=4

- | | |
|---------------------|-------------------|
| 1. ಚಿಕ್ಕಮ್ಮ - _____ | 3. ಮಾವ - _____ |
| 2. ಗಿಳಿ - _____ | 4. ಕುದುರೆ - _____ |

IV . ಈ ಕೆಳಗೆ ಕೊಟ್ಟಿರುವ ಗಾದೆ ಮಾತುಗಳನ್ನು ಪೂರ್ಣಗೊಳಿಸಿರಿ :

2x1=2

1. ಶಕ್ತಿಗಿಂತ _____ ಮೇಲು.
2. ಹೊಟ್ಟೆಗೆ ಹಿಟ್ಟಿಲ್ಲ _____ ಮಲ್ಲಿಗೆ ಹೂ.

V. ಈ ಕೆಳಗೆ ಕೊಟ್ಟಿರುವ ವಾಕ್ಯಗಳನ್ನು ಅನುಕ್ರಮವಾಗಿ, ಅರ್ಥಪೂರ್ಣವಾಗಿ ಜೋಡಿಸಿ ಬರೆಯಿರಿ.


2X1=2

1. ಸ್ವಾತಂತ್ರ್ಯ ಈಸೂರಿನವರು ಪ್ರೇಮಿಗಳು.
2. ಮಾತು ಜಗಳವಿಲ್ಲ ಬಲ್ಲವನಿಗೆ.

VI. ಈ ಕೆಳಗೆ ಕೊಟ್ಟಿರುವ ಪ್ರಶ್ನೆಗಳಿಗೆ ಎರಡು-ಮೂರು ವಾಕ್ಯಗಳಲ್ಲಿ ಉತ್ತರಿಸಿರಿ.

2X2=4

1. ಈಸೂರು ಶಿವಮೊಗ್ಗ ಜಿಲ್ಲೆಗೆ ಹೆಸರು ತರಲು ಕಾರಣವೇನು ?
2. ಹೊಸ ಸರ್ಕಾರದಲ್ಲಿ ಮಕ್ಕಳನ್ನು ಅಧಿಕಾರಿಗಳನ್ನಾಗಿ ಏಕೆ ಮಾಡಲಾಯಿತು?



Jindal Vidya Mandir, JSW Hill Side Township
Weekly Test-9 (2024-25)

Class: III / Sec: ____
Sub: Hindi (II Lang.)

Duration: 1hr
Max Marks: 20

प्रश्न 1 नीचे दिए गए पठित गद्यांश को पढ़कर प्रश्नों के उत्तर लिखो-

1×5=5

एक किसान था। उसकी बीबी का नाम था -वित्तो। एक दिन किसान ने वित्तो से कहा -सुबह जब मैं खेत में हल चला रहा था तो एक शेर ने आकर कहा - किसान अपना बैल मुझे दे दे वरना मैं तुझे खा जाऊँगा। वित्तो ने पूछा तूने क्या जवाब दिया? किसान ने कहा मैंने कहा तू यहीं रुक मैं घर जाकर अपनी गाय ले आता हूँ। अगर तू बैल खा लेगा तो हम लोग भूखे मर जाएंगे।

क) किसान क्या कर रहा था?

अ) हल चला रहा था ब) घूम रहा था

ख) किसान की बीबी का क्या नाम था?

अ) सुमन ब) वित्तो

ग) किसान के पास कौन आया?

अ) बाघ ब) शेर

घ) किसान बैल के बदले क्या देने वाला था?

अ) गाय ब) बकरी

ड) यह गद्यांश किस पाठ से लिया गया था?

अ) बहादुर वित्तो ब) हमसे सब कहते हैं

प्रश्न-2 सही उत्तर पर सही का निशान लगाइए-

1x1 =1

क) छटपटाना मुहावरे का अर्थ है -

अ) भाग जाना ब) बहुत भूख लगना

प्रश्न 3 दिए गए शब्दों का सही पर्यायवाची लिखो -

1x2=2

अ) सूर्य (चाँद , सूरज)

ब) हवा (वायु , पानी)

प्रश्न 4 सही विलोम शब्द लिखो -

1x2=2

अ) धूप (छाँव , रात)

ब) बाहर (उठना , अंदर)

प्रश्न 5 दिए गए प्रश्नों के उत्तर लिखिए-

3x2=6

क) अम्मा बच्चे को क्यों डाँटती है?

ख) शेर ने वित्तो को राक्षसी क्यों समझ लिया?

ग) भेड़िए ने शेर को भोले महाराज क्यों कहा? क्या शेर सचमुच भोला था?

प्रश्न 6 नीचे लिखे गए विषय पर चार वाक्यों का अनुच्छेद लिखो-

1x4=4

1) मेरा परिचय



Jindal Vidya Mandir, JSW Hill Side Township
Weekly Test- 10 (2024-25)

Class: III
Sub: GK

Max.Marks:20
Duration: 45 minutes

General Instructions:

- This question paper consists of 2 pages and 4 main questions.
- All the questions are compulsory.

I. Match the following:

6X1=6M

Column A

Column B

- | | | |
|--------------------|-------------------------|-----|
| 1. Clove | a) boost memory | () |
| 2. Brahmi | b) source of vitamin C. | () |
| 3. Tulsi | c) smallest bird | () |
| 4. Amla | d) treat cough | () |
| 5. Ostrich | e) dried flower bud | () |
| 6. Bee hummingbird | f) largest bird | () |

II. Write the true or false:

5X1=5M

- | | |
|---|-----|
| 1. Honeybees are good pollinating insects. | () |
| 2. Dragonfly increases the mosquito population in the garden. | () |
| 3. Ants have two stomachs. | () |
| 4. Sound is measured in ampere. | () |
| 5. The fastest flying bird is the Peregrine Falcon. | () |

III. Fill in the blanks:

6X1=6M

1. The _____ help in removing toxic waste from our body.
2. _____ birds can fly backward.
3. The gurgling sound produced in your abdomen is called _____.
4. The air we breathe is a mixture of _____.
5. Aircrafts use _____ to move air over a wing that enables them to fly.
6. Planet _____ is known to have more than 60 moons.

IV. Answer the following:

3X1=3M

1. Who discovered the Raman Effect and won a Nobel Prize for Physics in 1930?
2. Name the internal organ that helps the body to take in oxygen from the air.
3. Name the small rocky body orbiting the sun.



Jindal Vidya Mandir, JSW Hill Side Township
Weekly Test – 11(2024-2025)

Class: III / _____

Duration: 45 minutes

Subject: Information Technology

Max Marks: 20

General Instructions:

- This question paper consists of 1 page and 17 questions.
- All the questions are compulsory.

Section- A

I. Choose the correct answer.

5X1=5M

1. It is also known as a flash drive.
(a) CD drive (b) DVD drive (c) pen drive (d) USB
2. _____ is used to record sounds on the computer.
(a) speaker (b) web camera (c) micro phone (d) scanner
3. Which device is used to copy an image into a computer?
(a) scanner (b) microphone (c) web camera (d) speaker
4. This device used to type text and numbers into a computer.
(a) scanner (b) keyboard (c) mouse (d) speaker
5. What are the little pictures of programs displayed on the desktop called?
(a) bullets (b) icons (c) wallpaper (d) desktop

II. Fill in the blanks with suitable word or phrase.

6X1=6M

6. _____ option turns off your computer completely.
7. _____ provides information about the task being done.
8. _____ stores all your deleted files and folders.
9. _____ refers to the set of instructions given to a computer.
10. Microsoft Windows is an example of an _____ system.
11. IPO stands for _____.

III. State whether the following statements are True or False.

4 X 1=4M

12. Micro phone is used to record sound.
13. Printer is used to play games.
14. Ribbon appears below the title bar and consists of tabs and groups.
15. Windows 10 was launched in 2018.

Section- B

IV. Answer the following long question.

2X2 ½ =5M

16. Compare single user and multi user operating systems.
17. What are the functions of CPU?



Jindal Vidya Mandir, JSW Hill Side Township
Weekly Test-12 (2024-25)

Class: III

Duration: 45mins

Sub: English

Max Marks: 20

General Instructions:

-
- This paper consists of 2 pages and has 7 questions.
 - All the questions are compulsory.
-

I. Write a letter to your best friend telling him/her about a fun day you had recently.

3X1=3

II. Imagine you have helped a needy person today. Write a diary entry describing how did it made you feel.

3X1=3

III. Fill in the blanks with the correct adjectives formed using the nouns in the bracket.

3X1=3

1. Take off those _____(dirt) slippers and wash them.
2. These are delicate and _____(comfort) pillows.
3. My grandfather is very _____(knowledge) professor.

IV. Fill in the blanks with adjectives formed using the verbs in brackets.

3X1=3

1. Artistry requires a _____(care) hand.
2. The assistant was a _____(help) person.
3. All the players worked hard to win. It was a _____(collect) effort.

V. Complete the following sentences using appropriate articles.

4X½=2

1. There is _____ ant on _____ blue tin can.
2. I have borrowed _____ book from _____ school library.

VI. Answer the following questions.

2X1=2

1. Why do you think the Wolf pack decided to keep Mowgli?
2. Describe the Man-cub.

VII. Read the poem and answer the following questions.

4X1=4

I might have been a tiny bird
And lived inside a nest.
But oh! I'm glad I'm just a child
I think my home is best.

1. Who is referred as "I"?
2. What is a nest?
3. Which word in the poem rhymes with 'had'?
4. What according to the poet is the best?

Jindal Vidya Mandir, JSW Hill Side Township
Weekly Test-13(2024-2025)

Class: III/Sec:
Sub: General Knowledge

Duration: 45 min
Max Marks: 20M

General Instructions:

-
- All questions are compulsory.
 - Write neat and legible handwriting.
-

I Match the famous personalities with their names.

1x 5=5



M.F.Hussain




R.K. Laxman



Leonardo da Vinci



Michelangelo



Pablo Picasso

II. Identify the dance form and write its name.

1x 5=5











III. Fill in the blanks.

1x5=5

1. An account of a person's life written by someone is called _____.

2. _____ are the songs, stories which are passed on through oral traditions.

3. A _____ is written by the person where life is being talked about.


4. A _____ is a story based on a famous event or a persona .

5. Story involving interaction between humans and gods is called _____.

IV. Answer the following questions.

1x5=5

1. Name the famous singer and music composer who is awarded the Padma Shri and the Padma Bhushan.
2. Name any two string instruments.
3. Who is credited with giving her voice to thousands of songs in 20 different Indian languages?
4. Name two woodwind instruments.
5. Who wrote the book Hogsmeade- a wizarding village made a tiny cottages and shops?



Jindal Vidya Mandir, JSW Hill Side Township
Weekly Test- 14 (2024-25)

Class: III
Sub: EVS

Max.Marks:20
Duration: 45 minutes

General Instructions:

- This question paper consists of 1 page and III main questions.
- All the questions are compulsory.

I. Fill in the blanks:

6X1=6M

1. Inuits live in _____.
2. Caravans are houses on _____.
3. Houses in places where it rains have _____ roofs.
4. Tents are found in _____ areas.
5. Igloos are made of big blocks of _____.
6. A bungalow is usually a one storey house with a front _____.

II. Answer the following:

6X2=12M

1. Define pesticides. Give any two examples of pests.
2. What is ventilation? Why is it needed?
3. Who are nomads?
4. Differentiate between the pucca houses and kutcha houses.
5. Explain the houses of olden times.
6. Why do some houses have flat roofs while some have sloping roofs?

III. Draw and colour the following house.

1X2=2M

1. A multistorey building

