

## Jindal Vidya Mandir, Hill Side Township

### Weekly Test 1 – (2024-25)

Class: VI /Sec.: \_\_\_\_\_

Subject :Kannada (II Lang)

Student Name : \_\_\_\_\_

Roll No : \_\_\_\_\_

Max Marks :20

Duration : 1 Hr

Date : 16.04.2024

ಸೂಚನೆ: \* ಪ್ರಶ್ನೆ ಪತ್ರಿಕೆ ಒಟ್ಟು 6 ಪ್ರಶ್ನೆಗಳಿವೆ. \* ಎಲ್ಲಾ ಪ್ರಶ್ನೆಗಳಿಗೂ ಕಡ್ಡಾಯವಾಗಿ ಉತ್ತರಿಸಿ.

1 ಈ ಕೆಳಗಿನ ಗದ್ಯಭಾಗವನ್ನು ಓದಿ, ಕೊಟ್ಟಿರುವ ಪ್ರಶ್ನೆಗಳಿಗೆ ಉತ್ತರಿಸಿರಿ:

5X1=5

ಬೆ.ಗೋ ರಮೇಶ ಅವರು 1945 ರ ಆಗಸ್ಟ್ 22 ರಂದು ಮೈಸೂರು ಜಿಲ್ಲೆಯ ಕೃಷ್ಣರಾಜನಗರ ತಾಲ್ಲೂಕಿನ ದೊಡ್ಡಹನಸೋಗೆ ಗ್ರಾಮದಲ್ಲಿ ಜನಿಸಿದರು. ತಂದೆ ಬಿ. ಎಸ್ ಗೋವಿಂದರಾಜು, ತಾಯಿ ರಾಧಮ್ಮ. ಇವರು ಬಿ. ಇ. ಪದವೀಧರರಾಗಿ ಕರ್ನಾಟಕ ವಿದ್ಯುತ್ ನಿಗಮದಲ್ಲಿ ಕಾರ್ಯನಿರ್ವಾಹಕ ಅಭಿಯಂತರರಾಗಿ ಸೇವೆಸಲ್ಲಿಸಿ ನಿವೃತ್ತರಾಗಿರುವರು. ಪ್ರವೃತ್ತಿಯಿಂದ ಸಾಹಿತಿಗಳಾಗಿರುವ ಇವರು ಉತ್ತಮ ಗಮಕಿಗಳು ಹಾಗೂ ಭಾಷಾಂತರಕಾರರೂ ಆಗಿರುವರು. ಇವರು ಸುಮಾರು ಐನೂರು ಪುಸ್ತಕಗಳನ್ನು ರಚಿಸಿರುವರು. ವಿಶ್ವವಿಖ್ಯಾತ ಮಹಿಳೆಯರು, ನಮ್ಮ ಗಮಕಿಗಳು, ಕನ್ನಡ ಕವಿರತ್ನತ್ರಯರು, ವಿಜ್ಞಾನಿಗಳ ಹಾಗೂ ದೇಶಭಕ್ತರ ಜೀವನ ಚರಿತ್ರೆಗಳು ಇವರ ಗಮನಾರ್ಹ ಕೃತಿಗಳು. ಇವರ 'ವಚನಸಾಗರ' ಕೃತಿಗೆ ವಚನ ಸಾಹಿತ್ಯ ಅಕಾಡೆಮಿ ಪ್ರಶಸ್ತಿ ಬಂದಿರುತ್ತದೆ. ಸರ್. ಎಂ.ವಿ ನವರತ್ನ ಪ್ರಶಸ್ತಿ, ಡೆಪ್ಯುಟಿ ಚನ್ನಬಸಪ್ಪ ರಾಜ್ಯ ಪ್ರಶಸ್ತಿ ಮೊದಲಾದ ಪ್ರಶಸ್ತಿಗಳು ಸಂದಿವೆ.

ಪ್ರಶ್ನೆಗಳು:

1. ಬೆ.ಗೋ ರಮೇಶ ಅವರು 1945 ರ \_\_\_\_\_ ರಂದು ಜನಿಸಿದರು.
2. ಮೈಸೂರು ಜಿಲ್ಲೆಯ ಕೃಷ್ಣರಾಜನಗರ ತಾಲ್ಲೂಕಿನ \_\_\_\_\_ ದಲ್ಲಿ ಜನಿಸಿದರು.
3. ಕರ್ನಾಟಕ ವಿದ್ಯುತ್ ನಿಗಮದಲ್ಲಿ ಕಾರ್ಯನಿರ್ವಾಹಕ \_\_\_\_\_ ರಾಗಿ ಸೇವೆಸಲ್ಲಿಸಿ ನಿವೃತ್ತರಾಗಿರುವರು.
4. ಇವರ \_\_\_\_\_ ಕೃತಿಗೆ ವಚನ ಸಾಹಿತ್ಯ ಅಕಾಡೆಮಿ ಪ್ರಶಸ್ತಿ ಬಂದಿರುತ್ತದೆ.
5. ಇವರು ಪ್ರವೃತ್ತಿಯಿಂದ \_\_\_\_\_ ಗಳಾಗಿರುವ ಇವರು ಉತ್ತಮ ಗಮಕಿಗಳು ಆಗಿರುವರು.

ဤကဲ့သို့ ငါတို့အတွက် နေရာတစ်နေရာမှာ နေထိုင်ရန် နေရာတစ်နေရာမှာ နေထိုင်ရန်

II. ಈ ಕೆಳಗಿನ ಸ್ಪರ್ಶಾಂಶಗಳನ್ನು ಹ್ರಸ್ವಸ್ಥಿರ ಹಾಗೂ ದೀರ್ಘಸ್ವರಾಂಶಗಳಾಗಿ ವಿಂಗಡಿಸಿ ಬರೆಯಿರಿ. 2X1=2

III. ಕೆಳಗಿನ ಪದಗಳಲ್ಲಿನ ಅನುಪ್ರಾಸವನ್ನು ಗುರುತಿಸಿ.

1. ಸ್ವರಗಳು- \_\_\_\_\_  
2. ಸ್ವರೈ- \_\_\_\_\_  
3. ಹಬ್ಬ- \_\_\_\_\_  
4. ರಸ್ತೆ- \_\_\_\_\_

IV. ಈ ಕೆಳಗಿನ ವಾಕ್ಯಗಳಲ್ಲಿನ ಬಿಟ್ಟಿರುವ ಸ್ಥಾನಗಳನ್ನು : 3X1=3

1. ಎರಡು ಪಾತ್ರಾಕಾರರಲ್ಲಿ ಉಚ್ಚೇರಿತನಾಗುವ ಅಕ್ಷರಗಳಿಗೆ \_\_\_\_\_ ಸ್ಪರ್ಶಾಕ್ಷರ ಎನ್ನುವರು.

2. ಮೂಗಿನ ಸಹಾಯದಿಂದ ಉಚ್ಚೇರಿತನಾಗುವ ಅಕ್ಷರಗಳಿಗೆ \_\_\_\_\_ ಎನ್ನುವರು.

3. ಅವಗ್ರಹಯ ವ್ಯಂಜನಾಕ್ಷರಗಳಲ್ಲಿ ಒಟ್ಟು \_\_\_\_\_ ಅಕ್ಷರಗಳಿವೆ.

3X2=6

1. ಸ್ವರ್ಗಗಳು ಎಂದರೇನು? ಯಾವುವು?
2. ಪರ್ಗೇಯ ಪೊಂಜನಗಳ ಐಪ್ಪೆ ವಿಧಗಳು? ಯಾವುವು?
3. ಲುಹಾಪ್ರಾಣ ಎಂದರೇನು ? ಉದಾಹರಣೆ ಕೊಡಿ.



**Jindal Vidya Mandir, JSW Hill Side Township**  
**Weekly Test-1 (2024-25)**

**Class: VI (II language)**  
**Sub: Hindi**

**Duration:45min.**  
**Max Marks: 20**

प्रश्न 1 दिए गए शब्दों का वर्ण-विच्छेद करें -

2x1=2

1 शक्ति 2 प्रथम

प्रश्न 2 नीचे लिखे प्रश्नों के उत्तर लिखें

8x1=8

क) जो शब्द अपनी संपूर्ण जाति का बोध कराए, वह कौन-सी संज्ञा है?

ख) भाषा के क्षेत्रीय रूप को क्या कहते हैं ?

ग) य,र,ल,व व्यंजन क्या कहलाते हैं

घ) भाषा को लिखने का ढंग क्या कहलाता है ?

ङ) भारतीय संविधान में कितनी भाषाओं को मान्यता मिली है ?

च) संयुक्त व्यंजन कितने प्रकार के हैं ?

छ) स्वर किसे कहते हैं ?

ज) हिन्दी को राजभाषा दर्जा कब दिया गया ?

प्रश्न 5 नीचे दिए गए विषय पर (80-100)शब्दों में अनुच्छेद लिखें-

5

प्रकृति और हम अथवा जब मैंने प्रथम स्थान पाया

प्रश्न 6 दिए गए अपठित गद्यांश को पढ़कर पूछे गए प्रश्नों के उत्तर लिखें-

5

पुस्तकालय का अर्थ है पुस्तकें रखने का कक्ष। हर स्कूल और कॉलेज में पुस्तकालय होता है। पुस्तकालय में न केवल किताबें होती हैं, बल्कि अखबार, पत्र-पत्रिकाएँ, चार्ट आदि भी होते हैं। लोग पुस्तकालय में बैठकर मन-पसंद किताबें, अखबार और पत्र-पत्रिकाएँ पढ़ते हैं। हमारे स्कूल में एक बड़ा पुस्तकालय है। उसमें हिंदी, अंग्रेजी, संस्कृत आदि भाषाओं की हजारों पुस्तकें, शब्दकोष, मानचित्र आदि हैं। बीच में एक बड़ी मेज़ है। हम वहीं बैठकर किताबें और पत्र-पत्रिकाएँ पढ़ते हैं। बुधवार को हमारी पुस्तकालय की कक्षा होती है। हमारे अध्यापक भी हमारे साथ आते हैं। हमें तस्वीरों वाली कहानी की किताबें पढ़ने में मजा आता है।

प्रश्न i) पुस्तकालय में क्या-क्या चीजें होती हैं?

क) पुस्तकें    ख) बाल्टी    ग) फल    घ) कपड़े

प्रश्न ii) पुस्तकालय की कक्षा कब होती है ?

क) बुधवार को    ख) शनिवार को    ग) सोमवार को    घ) मंगलवार को

प्रश्न iii) बच्चे कहाँ बैठकर पढ़ते हैं ?

क) चार्ट पर    ख) फर्श पर    ग) मेज़ पर    घ) चटाई पर

प्रश्न iv) बच्चों को कैसी पुस्तकें पढ़ने में मज़े आते हैं ?

क) चित्र वाली कहानी की पुस्तकें    ख) बिना चित्र वाली

ग) बिना कहानी वाली    घ) पक्षियों की किताबें

प्रश्न v) पुस्तकालय का अर्थ क्या है ?

क) पुस्तक- प्रदर्शनी    ख) पुस्तक रखने का स्थान

ग) पुस्तक मेला    घ) पुस्तक की दुकान

\*\*\*\*\*





**Jindal Vidya Mandir, JSW Hill Side Township**

**Weekly Test - 2 2024 - 25**

**Class: VI/Section \_\_\_\_\_**

**Duration: 45 minutes.**

**Subject: Social Science**

**Max. Marks: 20**

**General Instructions:**

- This question paper consists of 1 page.
- All questions are compulsory.

**I. Choose the correct answer from the following.**

**3X1=3M**

1. Which is the nearest star to the Earth?

- (a) Mercury      (b) Moon      (c) Venus      (d) Sun

2. Where are the Pashmina shawls woven?

- (a) Kashmir      (b) Tamil Nadu      (c) Haryana      (d) Himachal Pradesh

3. Which is the brightest planet in the universe?

- (a) Mercury      (b) Venus      (c) Earth      (d) Saturn

**II. Fill in the blanks with the suitable words.**

**2X1=2 M**

4. All the planets move around the sun in a \_\_\_\_\_ path.

5. The "Discovery of India" is written by \_\_\_\_\_.

**III. Answer the following questions.**

**3X1=3M**

6. Name the two celestial bodies that are visible only in the night sky.

7. Which planet is called the "Earth's twin" and why?

8. Why Ladakh is called "Little Tibet"?

**IV. Answer the following questions in 40 words.**

**2X2=4M**

9. Define the following:

- a) Galaxy      b) Constellations

10. How can you say that the history of Kerala and Ladakh has similar in cultural influences?

**V. Answer the following questions in 80 words.**

**2X4=8M**


11. Earth is called a unique planet. Justify the statement.

or

What do you mean by Universe?

12. How is the climate of Ladakh suitable for agriculture? Explain.





**Jindal Vidya Mandir, JSW, Hill Side Township**  
**Weekly Test-3 (2024-25)**

**Class: VI / Sec:**

**Duration: 45 minutes**

**Sub: Science**

**Max Marks: 20**

**General Instructions:**

---

- This question paper consists of 1 page and 11 questions.
  - All the questions are compulsory.
- 

**I. Fill in the blanks.**

**5X1M=5M**

1. \_\_\_\_\_ is caused by deficiency of vitamin D.
2. Deficiency of \_\_\_\_\_ causes goiter.
3. The chemical substance present in the food is called \_\_\_\_\_.
4. Rice is a \_\_\_\_\_ source of food.
5. \_\_\_\_\_ helps our food to fight against diseases.

**II. Give reasons for the following statements.**

**2X3M=6M**

6. It is advised not to consume too much junk food.
7. Water ~~is~~ plays an important role in our diet.

**III. Answer the following questions.**

8. Discuss the importance of roughage in our diet?. **2M**
9. What do you mean by balanced diet? **2M**
10. How do you test the presence of protein in food? **2M**
11. What are deficiency diseases? Name any two diseases, symptoms and preventive measures. **3M**





**Jindal Vidya Mandir, JSW Hill Side Township**  
**Weekly Test-4(2024-25)**

**Class: VI**  
**Sub: Mathematics**

**Duration: 45 min**  
**Max Marks: 20M**

**General Instructions:**

- **All questions are compulsory**

**SECTION-A**

**I. Fill in the blanks.**

**5X1=5M**

1. 7 millions = \_\_\_\_\_ lakhs.
2. \_\_\_\_\_ is the smallest whole number.
3. 9 Nine Crore ninety-nine lakh forty is written in International System of Numeration as \_\_\_\_\_
4. 500 is the predecessor of \_\_\_\_\_.
5. Set of counting numbers which starts from 1 are known as \_\_\_\_\_.

**Section B**

**II. Solve:**

**5X1=5M**

6. State which of the following numbers lies on the right of the other number on a number line  
i. 86456, 86452      ii. 5895632, 589563
7. Write the next three natural numbers just after 10,999.
8. How many milligrams make 1 kilogram?
9. How many whole numbers are there between 32 and 53?
10. Write 78921092 according to Indian System of Numeration by inserting commas suitably.

**III. Do as directed:**

**5X2=10M**

11. Find  $3+7$  using the number line.
12. A box contains 2,00,000 medicine tablets each weighing 20 mg. What is the total weight of all the tablets in the box in grams and in kilograms?
13. A vessel 4 litres and 500 ml of curd. In how many glasses, each of 25 ml capacity can it be filled?
14. In a state the number of cars sold in the year 2010-2011 was 8,53,000. In the year 2011-2012, the number of cars sold was 9,00,100. In which year were more cars sold and by how much?
15. A student multiplied 123 by 54 instead of 45. By how much was his answer greater than the correct answer?







**Jindal Vidya Mandir, JSW Hill Side Township**  
**Weekly Test-5(2024-25)**

**Class: VI / Sec:**

**Duration: 45 min**

**Sub: English**

**Max Marks: 20M**

**General Instructions:**

- All questions are compulsory
- Write neatly and legible handwriting

**I Read the following extracts and answer the following questions:1x5=5M**

a. They walked on and soon saw a herd of cows, but just as they were about to come up to it, they were stopped by a terrible noise. The cows were mooing loudly and running in a panic in all directions. The bear looked out from behind a tree, and then he too ran hastily deeper into the forest.

- a. Who does 'they' refer to?
- b. Why did they stop?
- c. How did the cows react on seeing a lion?
- d. Pick out words from the passage which means: a large group, lowing, fast.
- e. Name the lesson and the author of the above given extract.

**II You are the head girl or head boy of Blue Bells Primary School. The watchman of your school has found a blazer and a lunch box in the cycle stand. Draft a notice in about 50 words**

**1X5=5M**

**III Fill in the blanks with the articles a, an or the.**

**2M**

1.You must plan \_\_\_\_\_ trip to \_\_\_\_\_ museum. It offers \_\_\_\_\_ different kind of entertainment along with \_\_\_\_\_ opportunity for learning.

**IV Use at least three adjectives in the correct order to complete these sentences.**

**2M**

1.I like vegetables because it is \_\_\_\_\_

2.I like my parents because they are \_\_\_\_\_.

**V Answer the following questions.**

**2x3=6M**

- 1.Why did the dog find man the strongest?
- 2.What was the farmer's comment on his wife's fear?
- 3.The dog decided to serve someone. Why?





**Jindal Vidya Mandir, JSW Hill Side Township**  
**Weekly Test-6 (2024-25)**

**Class: VI**  
**Sub: Hindi (II Lang)**

**Duration: 45 min.**  
**Max Marks: 20**

**सामान्य निर्देश:-**

- सभी प्रश्नों के उत्तर देना अनिवार्य है-
- प्रश्नों में दिए गए शब्द सीमा का विशेष ध्यान दें-

**प्रश्न I. निम्नलिखित व्याकरण पर आधारित वस्तुनिष्ठ प्रश्नों के उचित उत्तर चुनकर लिखिए -**

**5×1=5**

1. 'श्याम इस ओर चलो।' वाक्य में रेखांकित शब्द, कौन-से क्रियाविशेषण भेद का उदाहरण है ?  
(क) रीतिवाचक (ख) स्थानवाचक (ग) कालवाचक (घ) परिमाणवाचक
2. 'कविता आजकल पढ़ती है।' वाक्य में रेखांकित शब्द, कौन-से क्रियाविशेषण भेद का उदाहरण है ?  
(क) रीतिवाचक (ख) स्थानवाचक (ग) कालवाचक (घ) परिमाणवाचक
3. 'कविता थोड़ा पढ़ भी लिया करो।' वाक्य में रेखांकित शब्द क्या है ?  
(क) विशेषण (ख) संज्ञा (ग) क्रिया विशेषण (घ) इनमें कोई नहीं
4. निम्नलिखित वाक्यों में से रीतिवाचक क्रियाविशेषण का उदाहरण कौन-सा है ?  
(क) राज कम खाओ। (ख) राज अक्सर आता है। (ग) राज भीतर सोता है। (घ) राज जल्दी आया।
5. निम्नलिखित वाक्यों में से कौन-से वाक्य में क्रिया विशेषण शब्द का प्रयोग हुआ है ?  
(क) थोड़े लोग आए हैं। (ख) राम अच्छा लड़का है। (ग) राज अच्छा गाता है। (घ) बच्चे दौड़ते हैं।

**प्रश्न II. निम्नलिखित पाठ्य पुस्तक पर आधारित प्रश्नों के उत्तर (50-60 शब्द) लिखिए -**

**3×3=9**

1. अंडों के बारे में केशव और श्यामा के मन में किस तरह के सवाल उठते थे ? वे आपस ही में सवाल-जवाब करके अपने दिल को तसल्ली क्यों दे दिया करते थे ?
2. केशव और श्यामा ने चिड़िया के अंडों की रक्षा की या नादानी ?
3. केशव ने श्यामा से चिथड़े, टोकरी और दाना-पानी मँगाकर कार्निंस पर क्यों रखे थे ?

**प्रश्न III. अपने-अपने जीवन लक्ष्य के बारे में बहन-भाई की बातचीत को संवाद रूप में (70-80 शब्द) लिखिए। 6**

\*\*\*\*\*



**Jindal Vidya Mandir, JSW Hill Side Township**  
**Weekly Test- 6 (2024 - 25)**

**Class;VI**  
**Subject: Kannada II Lang**

**M.Marks;20**  
**Duration:45 min**

**I.ಈ ಕೆಳಗೆ ಕೊಟ್ಟಿರುವ ಗದ್ಯ ಭಾಗವನ್ನು ಓದಿ, ಕೆಳಗಿನ ಪ್ರಶ್ನೆಗಳಿಗೆ ಸರಿಯಾದ ಉತ್ತರ ಆರಿಸಿ ಬರೆಯಿರಿ.**

**5X1=5**

ಜಾರ್ಲ್ಸ್ ಡಾರ್ವಿನ್‌ನ ಮೊಮ್ಮಕ್ಕಳು ಒಂದು ಸಲ ತಮ್ಮ ತಾತನನ್ನು ಕೀಟಲೆ ಮಾಡುವುದಕ್ಕಾಗಿ ಒಂದು ಯೋಚನೆ ಮಾಡಿದರು. ಒಂದು ಜೀರುಂಡೆಯನ್ನು ಹಿಡಿದು ತಂದು ಅದರ ರೆಕ್ಕೆಗಳನ್ನು ಕಿತ್ತು ಹಾಕಿದರು. ಅದಕ್ಕೆ ಚಿಟ್ಟೆಯೊಂದರ ರೆಕ್ಕೆ ಗಳನ್ನು ಅಂಟಿಸಿದರು. ಅಂಟಿಸುವಿಕೆಯನ್ನು ಬಹಳ ಚತುರತೆಯಿಂದ ಮಾಡಿದ್ದರಿಂದ ಅದು ಒಂದು ನೈಜವಾದ ಆದರೆ ಅಪರೂಪವಾದ ಕೀಟದಂತೆ ಕಾಣುತ್ತಿತ್ತು. ಅದನ್ನು ಇವರು ಡಾರ್ವಿನ್‌ನ ಬಳಿಗೆ ತೆಗೆದುಕೊಂಡು "ತಾತ ಇದು ಯಾವ ಜಾತಿಯ ಕೀಟ?" ಎಂದು ಕೇಳಿದರು. ಡಾರ್ವಿನ್‌ನು ಅದನ್ನು ಒಂದು ನಿಮಿಷ ಪರೀಕ್ಷಿಸಿ ನೋಡಿ "ಒಂದು ಹೊಸ ಕೀಟ ಜಾತಿಯನ್ನೇ ಪತ್ತೆ ಮಾಡಿ ಬಿಟ್ಟಿದ್ದೀರಲ್ಲ, ತುಂಬಾ ಸಂತೋಷ. ಇದು ನಿಮಗೆ ಎಲ್ಲಿ ಸಿಕ್ಕಿತು? ನೀವು ನೋಡಿದಾಗ ಇದು ಏನು ಮಾಡುತ್ತಿತ್ತು?" ಎಂದು ಕೇಳಿದರು. ತಾತ ನಮ್ಮ ಬಲಗೆ ಬಿದ್ದರೆಂದು ಬಹು ಸಂತೋಷ ಪಟ್ಟ ಆ ಮೊಮ್ಮಕ್ಕಳು "ನಮ್ಮ ಮನೆಯ ಹಿತ್ತಲ ತೋಟದಲ್ಲಿ ಸಿಕ್ಕಿತು. ಗಿಡದ ಎಲೆಯ ಮೇಲೆ ಕುಳಿತಿತ್ತು. ನಾವು ನೋಡಿದಾಗ ಇದು ಹಮ್ ಮಾಡುತ್ತಿತ್ತು. (ಗುಂಯ್ ಗುಡು)" ಎಂದರು. ಅದಕ್ಕೆ ಡಾರ್ವಿನ್‌ನು ಓಹೋ ಸರಿ ಮತ್ತೆ ಹಾಗಾದರೆ ಇದು ಹಮ್ ಬಗ್(ಹಮ್ ಬಗ್= ಗುಂಯ್ ಗುಡುವ ಹುಳು) ಎಂದರು.

**ಪ್ರಶ್ನೆಗಳು :-**

- 1) "ಡಾರ್ವಿನ್‌ನು" ಹೊಸ ಕೀಟವನ್ನು \_\_\_\_\_ ಎಂದು ಕರೆದರು.  
(i) ಗಾಳಿ (ii) ಬೆಳಕು (iii) ನೀರು (iv) ಹಮ್ ಬಗ್
- 2) ಮಕ್ಕಳು ಚಿಟ್ಟೆಯ ರೆಕ್ಕೆಯನ್ನು \_\_\_\_\_ ಗೆ ಅಂಟಿಸಿದರು.  
(i) ಬಟ್ಟೆ (ii) ಪಾತ್ರೆ (iii) ಜೀರುಂಡೆ (iv) ಹಣ
- 3) \_\_\_\_\_ ಯಿಂದ ಮಾಡಿದ್ದರಿಂದ ಅದು ಒಂದು ನೈಜವಾದ ಆದರೆ ಅಪರೂಪವಾದ ಕೀಟದಂತೆ ಕಾಣುತ್ತಿತ್ತು.  
(i) ಚಿತ್ರ (ii) ಜಲ (iii) ಚತುರತೆ (iv) ಪೋಲು
- 4) ತಾತ ನಮ್ಮ ಬಲಗೆ ಬಿದ್ದರೆಂದು ಬಹು ಸಂತೋಷ ಪಟ್ಟ ಆ \_\_\_\_\_  
(i) ಮೊಮ್ಮಕ್ಕಳು (ii) ದತ್ತಿ (iii) ಹನಿ (iv) ಮಕ್ಕಳು
- 5) 'ಹಮ್ ಬಗ್' ಎಂದರೆ \_\_\_\_\_.  
(i) ಗುಂಯ್ ಗುಡುವ ಹುಳು (ii) ಕರೆ (iii) ವಿದ್ಯಾ (iv) ನೀರು

**II. ಬಿಟ್ಟ ಸ್ಥಳಗಳನ್ನು ಪೂರ್ಣ ಮಾಡಿ**

**6X1=6**

1. "ಶಾಲೆಯಿಂದ" ಇದು \_\_\_\_\_ ವಿಭಕ್ತಿ ಪ್ರತ್ಯಯ ಸೇರಿದ ಪದ.
2. ಈ ವಾಕ್ಯದಲ್ಲಿ ಸಂಖ್ಯಾ ವಾಚಕವನ್ನು ಗುರುತಿಸಿ "ಪೂರ್ಣಚಂದ್ರನು ಬೆಳಿಗ್ಗೆ ಐದು ಗಂಟೆಗೆ ಹೇಳುತ್ತಾನೆ" \_\_\_\_\_.
3. ಈ ವಾಕ್ಯದಲ್ಲಿರುವ ಗುಣವಾಚಕ ಪದವನ್ನು ಗುರುತಿಸಿ, "ಅವಳಿಗೆ ಹಸಿರು ಬಣ್ಣ ಇಷ್ಟ" \_\_\_\_\_.
4. "ಗುಡ್ಡಗಳಲ್ಲಿ ದೊಡ್ಡ ದೊಡ್ಡ ಕಲ್ಲುಗಳು ಇವೆ". ಈ ವಾಕ್ಯದಲ್ಲಿರುವ ದ್ವಿರುಕ್ತಿ ಪದವನ್ನು ಗುರುತಿಸಿ ಬರೆಯಿರಿ \_\_\_\_\_.



5. "ಚಿಕ್ಕ ಮಕ್ಕಳಿಗೆ ನಾವು ಸ್ವಾತಂತ್ರ್ಯ ದಿನಾಚರಣೆಯಂದು ವೇಷ ಭೂಷಣಗಳನ್ನು ತೋರಿಸಿಕೊಂಡು ಶಾಲೆಗೆ ಬರುತ್ತೇವೆ" ಈ ವಾಕ್ಯದಲ್ಲಿ ಇರುವ ಜೋಡುನುಡಿ ಪದವನ್ನು ಗುರುತಿಸಿ ಬರೆಯಿರಿ\_\_\_\_\_

6. "ಮಳೆಯ ಹನಿಗಳು ಪಟಪಟನೆ ಬಿದ್ದವು" ಈ ವಾಕ್ಯದಲ್ಲಿರುವ ಅನುಕರಣ ಅವ್ಯಯ ಪದವನ್ನು ಗುರುತಿಸಿ ಬರೆಯಿರಿ\_\_\_\_\_

**III. ಈ ಕೆಳಗಿನ ಪ್ರಶ್ನೆಗಳಿಗೆ ಒಂದು ವಾಕ್ಯದಲ್ಲಿ ಉತ್ತರಿಸಿರಿ.**

**3X1=3**

1. ಪುಟ್ಟಿಗೆ ಯಾರ ಹಾಗೆ ಹಾರುವ ಮನಸ್ಸಿತ್ತು ?
2. ಪುಟ್ಟಿ ಜನರಲ್ಲಿ ಏನನ್ನು ಉಳಿಸಲು ಬೇಡಿದಳು?
3. ಚಂದ್ರನ ಬಿಟ್ಟು ಮೇಲಕ್ಕೆ ಹಾರಿದ ಪುಟ್ಟಿ ಎಲ್ಲಿಗೆ ಸೇರಿದಳು?

**IV. ಈ ಕೆಳಗಿನ ಪ್ರಶ್ನೆಗಳಿಗೆ 3-4 ವಾಕ್ಯಗಳಲ್ಲಿ ಉತ್ತರಿಸಿರಿ ?**

**3x2=6**

1. ಕವಿ "ಸಿಂಹ ಗೋವಿಂದ ರೆಡ್ಡಿ" ಅವರ ಕವಿ ಪರಿಚಯವನ್ನು ಬರೆಯಿರಿ.
2. "ಮಂಗಳ ಗ್ರಹದಲ್ಲಿ ಪುಟ್ಟಿ" ಈ ಪದ್ಯದ ಸಾರಾಂಶವನ್ನು ನಿಮ್ಮ ಮಾತುಗಳಲ್ಲಿ ಬರೆಯಿರಿ.





**Jindal Vidya Mandir, JSW Hill Side Township**  
**Weekly Test - 7 (2024 – 25)**

**Class: VI**

**Duration: 45 minutes.**

**Subject: Social Science**

**Max. Marks: 20**

**General Instructions:**

- This question paper consists of 1 page.
- All questions are compulsory.

**I. Choose the correct answer from the following.**

**3X1=3M**

1 Who had fought for the rights of Dalits?

- (a) Mahatma Gandhi (b) Pt. Jawaharlal Nehru (c) Dr.BR. Ambedkar (d) none of these

2. In which period, the major changes in the climate of the world had been noticed?

- (a) Paleolithic (b) Mesolithic (c) Neolithic (d) Microlithic

3. The first animal to be tamed was the wild ancestor of the \_\_\_\_\_.

- (a) dog (b) cattle (c) sheep (d) goat

**II. Fill in the blanks with the suitable word.**

**2X1=2 M**

4. When we fix people into one image we create a \_\_\_\_\_.

5. Traces of ash have been found in \_\_\_\_\_.

**III. Answer the following questions.**

**3X1=3M**

6. When does discrimination happen?

7. What do you mean by the term 'factory sites'?

8. Why did Dr.B.R Ambedkar encourage 'Dalits' to send their children to schools and colleges?

**IV. Answer the following questions in 40 words.**

**2X2=4M**

9. Briefly discuss the term domestication.

10. Write a short note on the constitution.

**V. Answer the following questions in 80 words.**

**2X4=8M**

11. Why did hunter-gatherers move from place to place? Give four reasons.

Or

Briefly describe the three stages of stone age.

12. What does the constitution say with regard to equality? Why do you think it is important for all people to be treated equal?





**Jindal Vidya Mandir, JSW Hill Side Township**  
**Weekly Test-8 (2024-25)**

**Class: VI**  
**Sub: Science**

**Max.Marks:20**  
**Duration: 45 minutes**

**General Instructions:**

- This question paper consists of 2 pages and 11 questions.
- All the questions are compulsory.

**I. Choose the correct option from the following.**

**5X1=5M**

1. Which of the following can dissolve in water?  
i. solids, liquids and gases.      ii. only solids      iii. only solids and liquids
2. The property used to separate a mixture of two solids by winnowing is the difference in \_\_\_\_\_.  
i. size      ii. solubility in water      iii. weight
3. Which of these is NOT a mixture?  
i. sea water      ii. milk      iii. water
4. Which of these is NOT a periodic motion?  
i. stone dropped from a height  
ii. movement of a pendulum clock  
iii. motion of a child on a swing
5. The height of a girl is 150 cm. This is equal to \_\_\_\_\_.  
i. 0.15 m      ii. 1.50 m      iii. 15 m

**II. Give reasons for the following.**

**2X2=4M**

6. Why have scientists all over the world adopted a common set of standard units of measurement?
7. Why are objects at a distance seen more clearly after rain?

**III. Answer the following questions.**

- 8. Describe how would you measure the length of a curved line with a thread. (2M)**
- 9. Differentiate between an unsaturated and saturated solution. (2M)**
- 10. 'A sewing machine shows both circular and periodic motion'. Explain. (3M)**
- 11. Name the method involved in separation of a mixture of clay and water and explain it with a labelled diagram. (4M)**

\*\*\*\*\*



**Jindal Vidya Mandir, JSW Hill Side Township**  
**Weekly Test-9 (2024-25)**

**Class: VI**  
**Sub: Hindi(III Lang)**

**Duration:45min.**  
**Max Marks: 20**

प्रश्न १ नीचे दिए शब्दों की सहायता से कविता को पूरा करें -  
(फूल, बनाना, न्यारे-न्यारे, मुसकाना, भौरे)

1x5=5

काम हमारा है ————,  
सुंदर आस-पड़ोस ————।  
——— गान सुना सुना जाते हैं,  
जहाँ हमें फूला पाते हैं।  
——— जगत के हैं हम प्यारे,  
रूप-रंग में ————।

प्रश्न २ नीचे लिखे प्रश्नों के उत्तर दीजिए-

1x5=5

- क) फूल किसे दूर भगाते हैं ?
- ख) भौरे कहाँ गान सुनाते हैं ?
- ग) मीठू कहाँ रहता था ?
- घ) गुब्बारा देखकर कौए ने क्या समझा ?
- ड) कौरा कहाँ रहता था ?

प्रश्न ३ नीचे लिखे शब्दों के विलोम शब्द लिखें-  
दुख, बड़ा

1x2=2

प्रश्न ४ पाठ में आए नाम शब्द लिखो-  
फल का नाम ———, पक्षी का नाम ———

1x2=2

प्रश्न ५ नीचे दिए शब्दों को एक अनेक करें-  
गुब्बारा, आवाज़

1x2=2

प्रश्न ६ नीचे दी गई मात्रा के एक-एक शब्द लिखें-

1x2=2

ौ, े

प्रश्न ७ सही उत्तर चुनकर लिखें-

1x2=2

१) मीठू ने पेड़ पर क्या देखा ?

क) तोता

ख) संतरा

ग) पका आम

२) हर हाल में कौन मुसकाता है ?

क) फूल

ख) तितली

ग) भौंरा

\*\*\*\*\*





Jindal Vidya Mandir, JSW Hill Side Township  
Weekly Test -9 (2024-25)

Class: - VI/Sec: - \_\_\_\_\_  
Subject: - Kannada (III Language)

Max. Marks: - 20  
Duration: - 45 Minutes

**General Instruction: -This question paper contains 2 pages and 5 questions.**

I. ಈ ಕೆಳಗಿನ ಆವರಣದಲ್ಲಿ ಇರುವ ಪದಗಳಲ್ಲಿ ಸೂಕ್ತ ಪದ ಆರಿಸಿ, ಬಿಟ್ಟ ಸ್ಥಳದಲ್ಲಿ ಬರೆಯಿರಿ. 4x1=4  
( ಎರಡು, ಪೇಟೆಗೆ, ಹಾಡಲು , ಹಾರುವ)

1. ನನಗೂ \_\_\_\_\_ ರೆಕ್ಕೆಯ ಹಚ್ಚು.
2. ಬಾ ಬಾ ನನಗೂ \_\_\_\_\_ ಕಲಿಸು.
3. ಅವನು \_\_\_\_\_ ಹೋಗಿಹನು.
4. ಮುಗಿಲಿನ ಕಡೆಗೆ \_\_\_\_\_ ಬಾ.

II. ಈ ಕೆಳಗೆ ಕೊಟ್ಟಿರುವ ಒತ್ತಕ್ಷರ ಪದಗಳನ್ನು ಗಮನಿಸಿ, ಸಜಾತಿ ಮತ್ತು ವಿಜಾತಿ ಒತ್ತಕ್ಷರ ಪದಗಳನ್ನು ವಿಂಗಡಿಸಿ ಬರೆಯಿರಿ. 4x1=4

ಅವ್ವ , ಮಧ್ಯ , ಅವ್ವ , ಪ್ರಶ್ನೆ , ಪುಕ್ಕ , ಪ್ರಾಸ , ಹಚ್ಚು , ಪದ್ಯ

III. ಈ ಕೆಳಗಿನ ಪದ್ಯವನ್ನು ಓದಿ, ಕೊಟ್ಟಿರುವ ಪದಗಳಿಗೆ ಪ್ರಾಸಪದಗಳನ್ನು ಬರೆಯಿರಿ. 3X1=3

ಬಾ ಬಾ ನನಗೂ ಹಾಡಲು ಕಲಿಸು

ಬಾ ಬಾ ನನಗೂ ಹಾರಲು ಕಲಿಸು

ನನಗೂ ಎರಡು ರೆಕ್ಕೆಯ ಹಚ್ಚು

ಹಿಂಗಡೆ ಬಣ್ಣದ ಪುಚ್ಚವ ಚುಚ್ಚು

ಅಲ್ಲಿಂದಿತ್ತ ಇಲ್ಲಿಂದತ್ತ

ಹಾರುತ ಹಾಡುತ ನಲಿಯುವ ಬಾ

- 1.ಹಾಡಲು- \_\_\_\_\_ 2.ಹಚ್ಚು- \_\_\_\_\_ 3.ಅಲ್ಲಿಂದಿತ್ತ- \_\_\_\_\_



IV. ಈ ಕೆಳಗಿನ ಸಂಖ್ಯೆಗಳನ್ನು ಓದಿ, ಕನ್ನಡ ಅಂಕಿಗಳಲ್ಲಿ ಬರೆಯಿರಿ.

5X1=5

1. 6 - \_\_\_\_\_

2. 8- \_\_\_\_\_

3.10- \_\_\_\_\_

4.12 - \_\_\_\_\_

5. 15- \_\_\_\_\_

V. ಈ ಕೆಳಗಿನ ಪ್ರಶ್ನೆಗಳಿಗೆ ಒಂದು ವಾಕ್ಯದಲ್ಲಿ ಉತ್ತರಿಸಿರಿ.

4X1=4

1. ಮಗು ಯಾವ ಹಕ್ಕಿಯನ್ನು ಕರೆಯುತ್ತಿದೆ?
2. ಅವಳ ಎಲ್ಲಿಗೆ ಹೋಗಿಹಳು?
3. ವರ್ಣಮಾಲೆಯಲ್ಲಿ ಎಷ್ಟು ಅಕ್ಷರಗಳಿವೆ?
4. ಮಗು ತಿನ್ನಲು ಏನನ್ನು ಕೊಡಿಸುವೆನು ಎಂದಿತು?





**Jindal Vidya Mandir, JSW, Hill Side Township**

**Weekly Test-10 (2024-25)**

**Class: VI / Sec:**

**Sub: GK**

**General Instructions:**

**Duration: 45 minutes**

**Max Marks: 20**

- This question paper consists of 2 pages .
- All the questions are compulsory.

**I. Choose the correct options.**

**5X1M=5M**

1. The yellow oily liquid present in tobacco is ?  
a.morphine                      b.digitalin                      c.solanine                      d.nicotine
2. Which of the following monument is located in Bijapur?  
a. Gol Gumbaz                      b.Akbar Tomb                      c.Tower of victory  
d. Statue of unity
3. Which of the following garden is in New Delhi?  
a. Brindavan garden                      b.Mughal garden                      c.Lotus garden  
d. Rose garden
4. The astronomer who showed that sun is at the center of solar system is?  
a.Isaac Newton                      b.Edwin Hubble                      c.Nicholaus Copernicus  
d.James Watt
5. Christopher Columbus explored which of the following country?  
a.India                      b.Italy                      c.Africa                      d.America

**II. Fill in the blanks.**

**5X1M=5M**

6. The first European to reach India by sea was\_\_\_\_\_ .
7. David Livingstone was one of the first Europeans to explore \_\_\_\_\_ .
8. Government by small group of people is called as \_\_\_\_\_ .
9. Rashtrapati Bhawan is located in \_\_\_\_\_ state.
10. The green coloured poisonous substance present in potato is\_\_\_\_\_ .

**III. Answer the following questions.**

**5X2M=10M**

11. Name any two harmful plants.
12. What do you mean by autocracy?
13. Name two explorers who reached very close to north pole.
14. Differentiate between meritocracy and aristocracy .
15. What are the contributions of Sir Isaac Newton?



**Jindal Vidya Mandir, JSW Hill Side Township**  
**Weekly Test-11 (2024-2025)**

**Class: VI /Sec \_\_\_\_\_**

**Max.Marks:20**

**Name of student: \_\_\_\_\_**

**Roll No: \_\_\_\_\_.**

**Subject: Information Technology**

**Duration: 45mins.**

**General Instructions:**

**\* This question paper consists of 2 pages with IV main headings.**

**\*All questions are compulsory.**

**I. Fill in the blanks.**

**4 X 1=4M**

1. \_\_\_\_\_ language consists of binary numbers, i.e., 0 and 1.
2. \_\_\_\_\_ language uses simple English words and mathematical operators.
3. Different styles of writing characters in a specific style are known as \_\_\_\_\_.
4. \_\_\_\_\_ allows you to change windows 10 into a touch-friendly interface called Tablet Mode.

**II. State whether the following statements are True or False.**

**4X 1=4M**

1. You can drag and drop an app from one desktop to another in the Task View pane. ☐
2. Windows Hello enables you to perform quick actions, such as adjusting the screen brightness. ☐
3. Programming is the process of writing programs in a computer language. ☐
4. A compiler converts a high-level language program into machine language, line-by-line. ☐

**III. Choose the correct answer.**

**4 X 1=4M**

1. C, C++, and Java are some of the very popular examples of \_\_\_\_\_ language.  
a. machine                      b. high-level                      c. low-level

2. A program written in a high-level language is called a \_\_\_\_\_ program.  
a. assembler                      b. source                      c. object
3. You can customise the mouse settings by selecting the \_\_\_\_\_ option in the control panel.  
a. File Explorer                      b. mouse                      c. devices and printers
4. The \_\_\_\_\_ is a new feature in windows 10, which enables you to organise the applications running on your computer.  
a. task view                      b. action center                      c. cortana

**IV. Answer these questions.**

**4 X 2=8M**

1. Differentiate between ripping and burning.

---

---

---

---

---

2. What is the use of the Windows Media Player?

---

---

---

---

3. What is machine language.

---

---

---


4. Differentiate between an interpreter and a compiler.

---

---

---

---



**Jindal Vidya Mandir, JSW Hill Side Township**  
**Weekly Test-12 (2024 -25)**

**Class: VI**  
**Sub: Mathematics**

**Duration: 45 Min**  
**Max Marks: 20**

General Instructions:

- This question paper is printed in 2 pages. It consists of 3 main questions.
- All questions are compulsory.

**I. Do as directed**

**5 X1M=5M.**

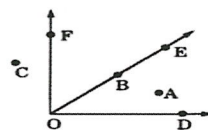
1. Write any one example for a line segment and ray.
2. Draw a rough diagram which illustrates a closed curve that is not a polygon.
3. What is the disadvantage in comparing line segment by mere observation?
4. What part of a revolution have you turned through if you stand facing, east and turn clockwise to face north?
5. Define scalene triangle.

**II. Solve the following:**

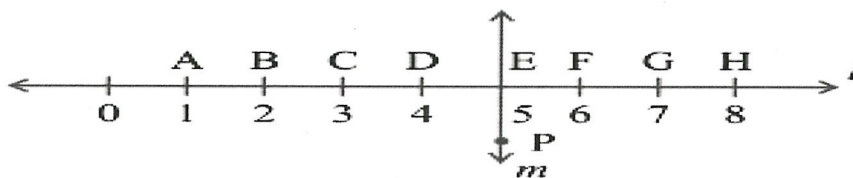
**3X2M=6M.**

6. In the adjoining figure, name the point(s)

- i) In the interior of  $\angle DOE$
- ii) In the exterior of  $\angle EOF$ .



7. Study the diagram. The line ' $l$ ' is perpendicular to line ' $m$ '.



- (a) Is  $CE = EG$ ?
- (b) Does PE bisect CG?

8. How many lines can pass through a) one given point? b) Two given points?

### III. Solve the Following

3 × 3M = 9M.

9. Define the following by using rough diagrams

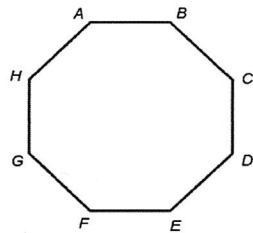
- a) Obtuse angle
- b) Isosceles Triangle

10. Give reasons

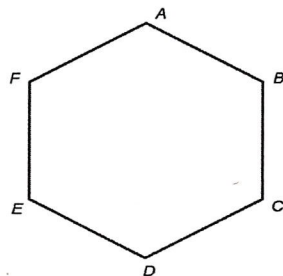
- a) A square can be thought as a special rectangle.
- b) Square is also a parallelogram.
- c) A rectangle can be thought as a special parallelogram.

11. Draw diagonal for each figure given below and name the shape obtained after drawing diagonal in the figure.

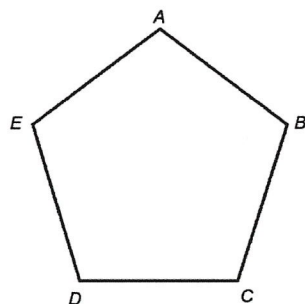
i)




ii)



iii)





**Jindal Vidya Mandir, JSW Hill Side Township**  
**Weekly Test-13(2024-25)**

**Class: VI**  
**Sub: English**

**Duration: 45 min**  
**Max Marks: 20M**

**General Instructions:**

- 
- All questions are compulsory
- 

**I. Read the following extract and answer the questions.**

**1x4=4**

"I did come here in search of food for myself and my wife. Nice of you to offer me fruit".

1. Who is 'I' in the above line?
2. Who is 'you' in the above line?
3. What was offered to him?
4. Write the opposite of search.

**II. Fill in the blanks with the adverb form of adjectives given in the brackets.**

**1x3=3**

5. The red dress fits me \_\_\_\_\_ (perfect)
6. The package was wrapped \_\_\_\_\_ (nice) before delivery.
7. The magazine is delivered \_\_\_\_\_ (month) at our doorstep.

**III. Fill in the blanks with words formed by adding suffixes –wise/ ward/wards**

**1x3=3**

8. The map directed us \_\_\_\_\_ (south) to reach the hotel.
9. The tailor cut the cloth \_\_\_\_\_ (length)
10. Let us progress and not move \_\_\_\_\_ (back) by being lazy.

**IV. Answer these questions.**

**5x2=10**

11. What did the two friends generally talk about?
12. Why do you think the writer visited Miss Beam's school?
13. What was done to make children appreciate and understand misfortune?
14. How did Miss Beam look like?
15. Why is the author/writer pained?

