



Jindal VidyaMandir, JSW Hill Side Township
Term -I Examination (2024-25)
Set-A

Class: III/ Sec: _____

Sub: EVS

Name: _____

Invigilator's signature: _____

Max.Marks: 80

Duration: 3Hrs

Roll no: _____

Date: _____

General Instructions:

- This question paper contains 8 pages and 55 questions.
- It consists of two sections A and B. Section A has objective type questions and section B has subjective type questions.
- All the questions are compulsory.

Section-A

I. Choose the appropriate answer from the following.

5X1=5M

1. Two children born together to the same mother are called _____.
a) twins b) cousins c) relatives
2. Which of the following systems is used by visually impaired people to read?
a) braille b) sign language c) prosthetics
3. Which of the following is **NOT** an outdoor game?
a) cricket b) football c) chess
4. A type of work people do to earn money for their living is called _____.
a) qualification b) training c) an occupation
5. Which of the following plants grows in the coastal region?
a) pine tree b) coconut trees c) banyan tree

II. Fill in the blanks.

5X1=5M

6. During photosynthesis, plants give out _____.
7. Harmful microbes are referred to as _____.
8. Honeybees live in _____.
9. Food items rich in vitamins and minerals are called _____ food.
10. Things that produce heat on burning are called _____.

III. Match the following.

5X1=5M

Column - A

Column - B

- | | |
|-------------|-------------------|
| 11. Goats | a. hutches () |
| 12. Horses | b. pens () |
| 13. Hens | c. kennels () |
| 14. Dogs | d. coops () |
| 15. Rabbits | e. stables () |

IV. Give one example for the following.

10X1=10M

16. Camouflaging animals: _____
17. Wading birds: _____
18. Arboreal animals: _____
19. Body-building foods: _____
20. Food items prepared by steaming: _____
21. Stoves for cooking: _____
22. Edible part of plant: _____
23. Reptiles: _____
24. Recreational activities: _____
25. Spices: _____

V. State whether the following statements are true or false. 5X1=5M

26. Spending too much time looking at a screen is not good for the eyes. ()
27. The Hibiscus plant is an example of a shrub. ()
28. Mammals lay eggs. ()
29. Sunlight helps in the formation of Vitamin D in our body. ()
30. Milk does **NOT** contain proteins, minerals, fats and vitamins. ()

VI. Circle the odd one out.


5X1=5M

- 31. A blender, an egg beater, a grinding stone, an oven
- 32. Spinach, potato, mint, coriander
- 33. Pulses, cereals, fruits, meat
- 34. Goat, rabbit, bear, cow
- 35. Cockroach, mosquito, ants, earthworm

VII. Identify and name the following pictures.

5X1=5M

36.



37.



38.



39.



40.



Section-B

VIII. Answer the following questions.

5X2=10M

41. What are hereditary traits?

42. How can we help the elderly?

43. What do you understand by child labour?

44. Write any two uses of leaves.

45. How do flight feathers help a bird?

IX. Give reasons for the following.

5X2=10M

46. All living things depend on plants.

47. Why is recreation important?

48. Vultures and eagles have sharp beaks and claws.

49. The head of an insect contains two feelers.

50. The tortoises and snails have a shell.

X. Answer the question in brief.

2X3=6M

51. Write the importance of water and roughage.

52. Differentiate between cooking methods of baking and frying.

XI. Read the concept carefully and answer the following questions. 2X3=6M

53. Insects have six legs, three body parts, and usually two wings. They have compound eyes that help them see in many directions. Insects like bees and butterflies are important and helpful in pollination.

a) Write one main characteristic feature of insects? (1M)

b) What is the role of compound eyes in insects? (1M)

c) Give one example of helpful insects. (1M)

54. "Some animals are carnivores, which mean they eat meat. Others are herbivores, which means they eat plants. Omnivores eat both plants and animals. Animals also need shelter, water, and air to survive."

a) What do herbivores eat? (1M)

b) Write one thing that helps animals to survive.

(1M)

c) Give any one example of carnivores.


(1M)

XII. Draw and label the following.


2X4=8M

55. a) Structure of a leaf.

(4M)



b) Body of the bird (4M)





JINDAL VIDYA MANDIR, JSW HILL SIDE TOWNSHIP

Term-I Examination:(2024-25)

Set-A

Class III/Sec: _____

Subject: Information Technology

Student Name: _____

Invigilator's Signature: _____

Duration: 1 Hr

Max.Marks: 25

Roll No: _____

Date: _____

General Instructions:

- ❖ This question paper consists of 4 pages with VI main headings.
- ❖ All questions are compulsory.

I. Fill in the blanks with the help of the given words.

5 X 1=5M

(Print , Single user , Software, Shapes , Gridlines)

1. _____ refers to a set of instruction given to a computer.
2. _____ operating system allows only one user to log on to the computer at a time.
3. You can press Ctrl+ P to _____ a picture.
4. To select an irregular shape the picture, choose _____ selection.
5. _____ make the screen look like a graph sheet.

II. State whether the following statements are True or False.

4 X 1=4M

1. GUI stand for Graphical User Interface
2. Ribbons appears below the title bar and consists of tabs and groups
3. You cannot make changes to pictures in full screen view.
4. On the view tab, in the display group, click full screen to view the picture in full screen.

III. Choose the correct answer.

5x1=5M

1. It looks like a television and it is also known as a VDU
a. printer b. monitor c. scanner d. microphone
2. Which of the following shows the live preview of open Windows?
a. sneak peek b. sneek peak c. nick peak d. aero peek
3. What is the full form of PNG?
a. Printable Network Graphics b. Portable Network Graphics
c. Pixelated Network Graphics d. Pilot Network Graphics
4. What is the function of magnifier tool?
a. To rotate a picture b. To flip a picture
c. To cut a picture d. To zoom a picture
5. What are the little pictures of programs displayed on the desktop called?
a. bullets b. icons c. middle section d. calendar

IV. Match the columns.

4 X 1=4M

1. Scanner

a.



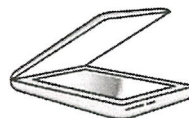
2. Web camera

b.




3. CPU

c.



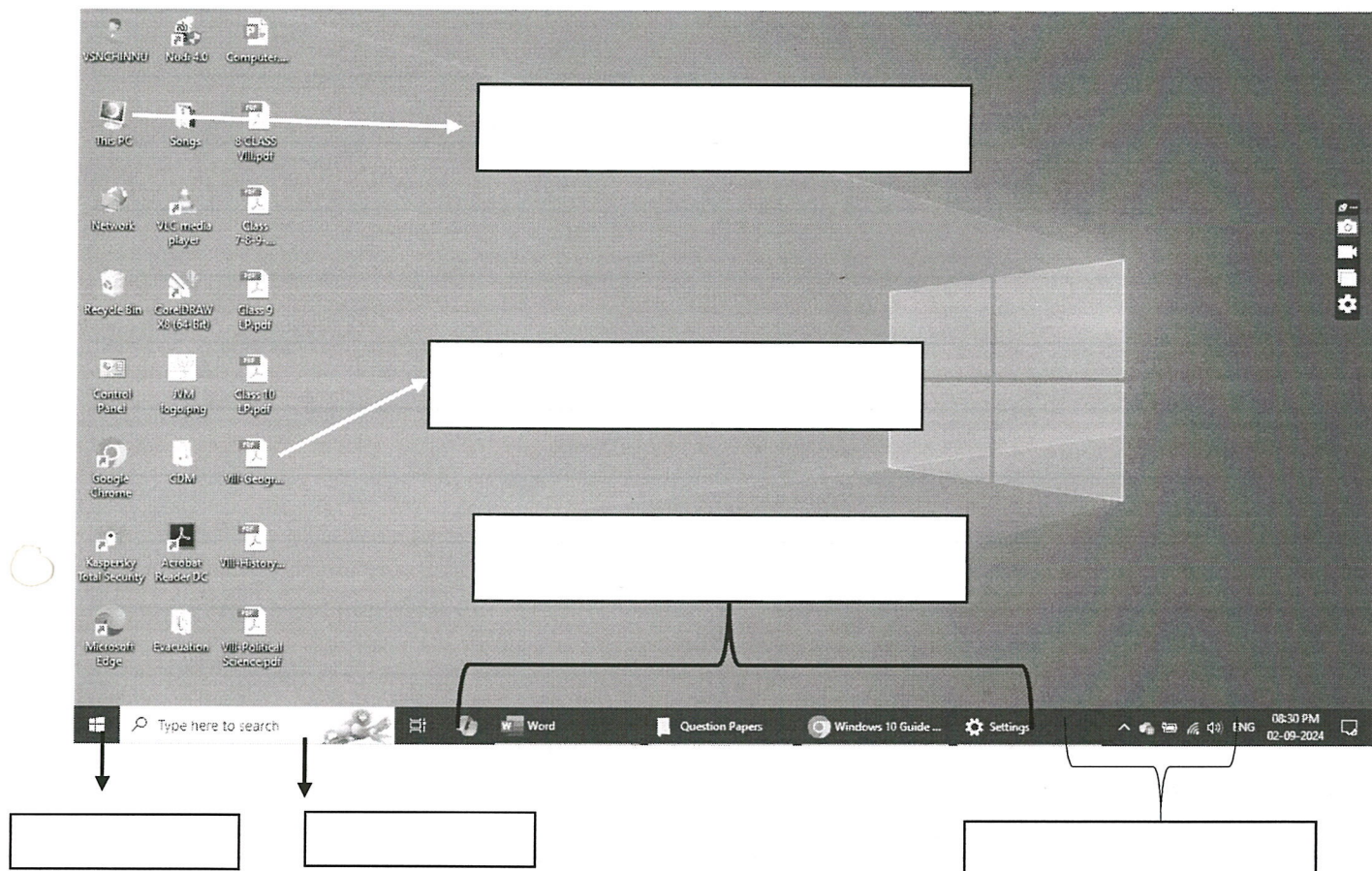
4. Projector

d.



V. Label the following diagram

6 X ½ = 3M



VI. Answer these questions(Any two)

2 X 2=4M

1. Describe the functions of input devices.

Ans: _____

2. Do you think Recycle Bin is an important icon? Why.

Ans: _____

3. Explain steps to draw callout in paint.

Ans: _____



Jindal Vidya Mandir, JSW Hill Side Township
Term-I Examination (2024-25)
Set-A

Class: - III/Sec: - _____

Max. Marks: - 25

Subject: - Kannada (III Language)

Duration: - 1Hr

Student Name: - _____

Roll No: - _____

Invigilator's Sign: _____

Date: - _____

General Instruction: -This question paper contains 4 pages and 5 main questions.

I. ಈ ಕೆಳಗೆ ಕೊಟ್ಟಿರುವ ವ್ಯಂಜನಾಕ್ಷರಗಳಲ್ಲಿ ಬಿಟ್ಟಿರುವ ಅಕ್ಷರಗಳನ್ನು ಪೂರ್ಣಗೊಳಿಸಿರಿ.

1x5=5

(Complete the missing letters in the consonants given below)

ಕ	ಖ		ಘ	ಙ				
ಚ	ಛ		ಝ					
ಟ	ಠ		ಡ	ಣ				
ತ	ಥ	ದ		ನ				
ಪ		ಬ		ಮ				
ಯ	ರ	ಲ						
					ಋ		ೠ	ಈ

II. ಈ ಕೆಳಗೆ ಕೊಟ್ಟಿರುವ ಸುಳಿವಿನ ಸಹಾಯದಿಂದ ಸರಿಯಾದ ಅಕ್ಷರವನ್ನು ಆರಿಸಿ ಪದವನ್ನು ಪೂರ್ಣಗೊಳಿಸಿರಿ. (Choose the correct letter and complete the word) 5X1=5

i) ಅ____ನ (ಜ, ಗ, ನ)

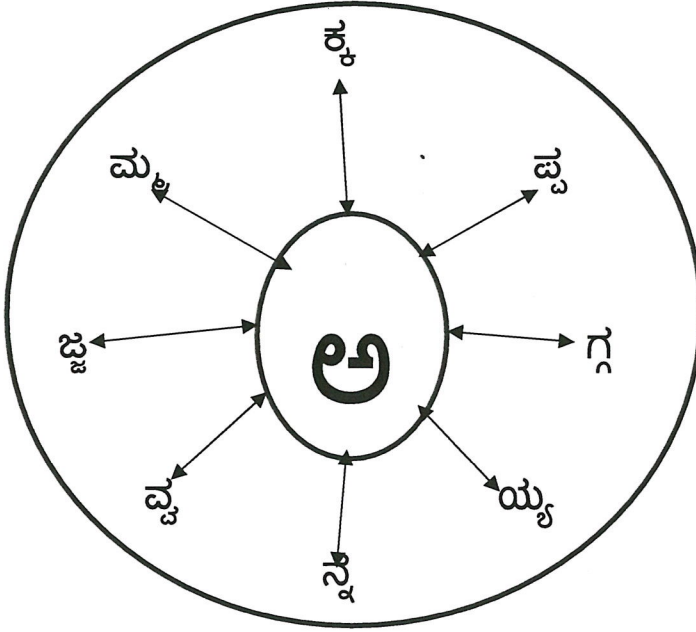
ii) ಸ____ಯ (ಮ, ನ, ವ)

iii) ಬನ____ (ನ, ವ, ರ)

iv) ಬ____ಪ (ಪ, ರ, ಳ)

v) ಹ____ಳ (ನ, ದ, ವ)

III. ಈ ಕೆಳಗಿನ ವೃತ್ತದಲ್ಲಿರುವ ಅಕ್ಷರಗಳ ಸಹಾಯದಿಂದ ೫ ಒತ್ತಕ್ಷರ ಪದಗಳನ್ನು ರಚಿಸಿರಿ:
(Make 5 words using the letters in the circle below) 5x1=5



i) _____

ii) _____

iii) _____

iv) _____

v) _____

IV. ಈ ಕೆಳಗಿನ ಪದಹುಡುಕು ಕೋಷ್ಟಕದಲ್ಲಿರುವ ಯಾವುದಾದರೂ ೫ ಪದಗಳನ್ನು ಗುರುತಿಸಿ,

ಬರೆಯಿರಿ: (Identify any 5 words in the following word search table) 5x1=5

ಅ	ಗ	ಸ	ವ	ನ
ರ	ರ	ಮ	ಚ	ಳ
ಗ	ಗ	ಗ	ನ	ಯ
ದ	ಸ	ರ	ಗ	ಮ
ಗ	ಮ	ನ	ರ	ಉ
ಜ	ರ	ಜ	ಪ	ಟ

i) _____

ii) _____

iii) _____

iv) _____

v) _____

v. ಈ ಕೆಳಗೆ ಕೊಟ್ಟಿರುವ ಚಿತ್ರಗಳನ್ನು ಗಮನಿಸಿ, ಸೂಕ್ತ ಪದವನ್ನು ಆರಿಸಿ ಬರೆಯಿರಿ.

5x1=5

(Identify the pictures given below, choose the appropriate word and write it.)


ಅರಸ, ನಯನ, ಗಜ, ಘಟ, ಕಮಲ



i)



ii)



iii)



iv)



v)

Jindal Vidya Mandir, JSW Hill Side Township

Term – I Examination (2024-25)

Class : III /Sec :

Set-A

Max. Marks : 25

Sub : Hindi (III Language)

Duration : 1 hr.

Name : _____

Roll No. : _____

Invigilator's Sign. : _____

Date : _____

General Instructions:

- 1) सभी प्रश्नों को हल करना अनिवार्य है।
- 2) कुल प्रश्न संख्या 6 है।

प्रश्न I दिए गए व्यंजन का अगला व्यंजन लिखें ।

5X1=5M

(Write the next consonant from the given consonant.)



च _____ ल _____ प _____


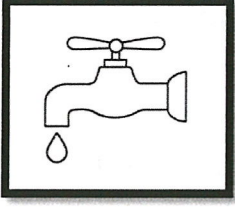
य _____ अ _____

प्रश्न II चित्र पहचान कर पहला वर्ण लिखो ।

4X1=4M

(Identify the picture and write the word.)






प्रश्न III चित्र पहचान कर सही व्यंजन पर गोला लगाओ ।

4X1=4M

(Identify the picture and circle the correct consonant.)

1) आ र स




2) ऐ अ उ



3) ओ ग च



4) च ट म



प्रश्न IV दिए गए अंको को हिंदी अक्षरों में लिखिए।

5X1=5M

(Write the hindi number name of numbers given below.)

1)

5

2)

11

3)

20

4)

17

5)

9

प्रश्न V नीचे दिए गए वर्णों को जोड़कर शब्द बना कर लिखिए।

5X1=5M

(Write words by joining the letters given below.)

1) अ + ग + र = _____

2) अ + म + न = _____

3) ब + र + त + न = _____

4) भ + व + न = _____


5) क + म + र = _____

प्रश्न VI दिए गए व्यंजनों को सही क्रम में लिखिए।

2X1=2M

(Write the given consonants in correct order.)

य ल र व



Jindal VidyaMandir, Hill Side Township
Term-I Examination (2024-25)
Set-A

Class: III/Sec: _____

Max.Marks:25

Subject: General Knowledge

Duration:1 hr

Student Name: _____

Roll no: _____

Invigilator's Signature: _____

Date: _____

General Instructions:

- This question paper consists 3 pages and 5 main questions.
- All the questions are compulsory.

I. Match the following:

5X1=5M

Column A

Column B

- | | | |
|--------------------|--------------------|-----|
| 1. Scientist | 22 April | () |
| 2. National flower | Giraffe | () |
| 3. Golden Temple | Lotus | () |
| 4. Earth Day | A P J Abdual Kalam | () |
| 5. Tallest animal | India | () |

II. Fill in the blanks:

6X1=6M

1. _____ leader from south Africa fought for equal rights of every person in his country.
2. The rupee symbol ₹ designed by _____ in 2010.
3. The first person to set foot on the moon is _____.
4. The air we breathe is a mixture of _____.
5. _____ birds can fly backward.
6. The steel city of India is _____.


III. State whether the following sentences are true or false:

5X1=5M

1. The horn of a rhinoceros is made up of flash. ()
2. Ants have two stomachs. ()
3. When an octopus gets angry, it shoots a stream of black 'ink' ()
4. Brahmi herb is used to treat nervous disorders, relieve stress and boost memory. ()
5. Tiger is the fastest animal on land. ()

IV. Identify the Famous Indian Special Achievers and write their names. 4X1=4M


1.



2.



3.



4.



V. Answer the following in one word.

5X1=5M

- 1.The smallest planet in the solar system - _____
- 2.Sound is measured in - _____
- 3.The Queen of Hills - _____
- 4.It is a good pollinating insect and also provides us honey - _____
- 5.A naturalist, also known as the birdman of India - _____



Jindal Vidya Mandir, JSW Hill Side Township
Term-I Examination (2024-25)

SET-A

Class: III/ Sec: _____

Max Marks:80

Sub: English

Duration: 3 Hrs

Name: _____

Roll no: _____

Invigilator's Signature: _____

Date: _____

General Instructions:

This paper consists of 12 pages and has 6 main questions. It is divided in 4 sections

Section: A(Reading), Section: B(Writing), Section: C (Grammar), Section: D (Literature)

All the questions are compulsory.

Section: A (Reading)

I. Read the passage and answer the following questions.

8X1=8

Smile is the best tonic for our mind and body. It takes thirteen muscles to smile, but forty-three to be angry. So, it is easier to smile and difficult to be angry. To be cheerful, we have to create positive thoughts. On the other hand, if we constantly think about negative things, we feel unhappy. So, the best way to avoid a negative idea is to replace it with a positive one. When we are relaxed in bed, we should practice putting some cheerful thoughts.



A. Answer the following questions.

1. What is the best tonic for our mind and body?

Ans. _____

2. What should we do to be cheerful?

Ans. _____

3. What is the best way to replace a negative idea?

Ans. _____

4. What should we practice when we are relaxed in bed?

Ans. _____

B. Find the synonyms of the given words from the above passage.

1. all the time: _____ 2. joyful: _____

C. Pick the antonyms for the given words from the above passage.

1. positive X _____ 2. calm X _____

II. Read the passage and answer the following questions.

6X1=6

Once upon a time in a small town, two best friends, Lily and Rose, were very close. Lily loved adventures, and Rose was always calm. One sunny day, they decided to have a picnic in the magical forest nearby. They were excited to explore and have fun together. As the sun began to set, Lily and Rose sat beside a calm stream, reflecting on their day of laughter, discovery, and friendship. With hearts full of joy they made their way back home cherishing the magical moments they shared.



Questions:

1. Who were the two best friends in the story?

Ans. _____

2. What did Lily like to do?

Ans. _____

3. What was Rose's personality like?

Ans. _____

4. Where did the friends decide to go for their picnic?

Ans. _____

5. What was special about the forest they visited?

Ans. _____

6. How did the friends feel at the end of their adventure?

Ans. _____

III. Read the poem and answer the questions.

6X1=6

In a cozy corner of the yard,
a tiny kitten played,
with eyes so bright and whiskers sharp,
in sunshine, she often stayed.

She chased a butterfly one day,
through meadows green and wide,
but when the moon began to rise,
she scampered back to hide.



1. Where did the kitten play in the yard?

Ans. _____

2. What were the characteristics of the kitten described in the poem?

Ans. _____

3. What did the kitten chase through the meadows?

Ans. _____

4. Why did the kitten hide when the moon rose?

Ans. _____

5. Find the past form of the given word from the above poem:

a. begin - _____

6. Give a suitable title to the poem.

Ans. _____

Section: B (Writing)

IV- A. Rearrange and write the correct numbers in the box beside the sentences.

5X1=5

1. When the streetlights came on, Sarah knew it was time to go to home.

2. Sarah had a delicious breakfast of pancakes with maple syrup.

3. Sarah woke up early in the morning feeling excited.

4. Sarah rode her bicycle around the neighborhood feeling the warm sun on her face.

5. Sarah put on her favorite blue dress and ran outside to play.

This image shows a single sheet of white paper with horizontal ruling lines. The lines are evenly spaced and run across the width of the page. There are no margins, text, or other markings on the paper.

$$5 \times 1 = 5$$
This image shows a single sheet of white paper with horizontal ruling lines. The lines are evenly spaced and run across the width of the page. There are no margins, text, or other markings on the paper.

Section: C (Grammar)

V-A. Identify each picture and write the collective noun.

2X1=2





V-B. Fill in the blanks in these sentences with the correct plural form of the words given in the bracket.

4X ½ =2

1. The historic _____ (church) in the town are a sight to behold.
2. The cunning _____ (thief) managed to evade the police yet again.
3. _____ (fly) are annoying.
4. The _____ (public) park is a great place for families to relax and enjoy.

V-C. Fill in the blank spaces in this conversation with 'this', 'that', 'these', 'those'.

6X ½ =3

Stan: Hey, check out _____ cool new book I got. (near)

John: Oh, _____ book looks interesting. Where did you find it? (far)

Stan: I found it at _____ bookstore downtown. They have a great collection. (far)

John: Nice! Are there any other books like _____ that you have? (near)

Stan: Yes. _____ mystery novels over there are really good. (far)

John: Thanks for the recommendation. I'll grab one of _____ books next time I'm there. (far)

V-D. Circle the correct possessive adjectives.

3X1=3

1. _____ (Your/You) phone is ringing.
2. This restaurant is famous for _____ (its/it) pizza.
3. Their house is next to _____ (mine/my) .

V-E. Fill in the blanks by forming the correct adjectives from the nouns or verbs given in the bracket.

4X1=4

1. She wiped her hands on her _____ (oil) apron.
2. We had an _____ (enjoy) time at our friend's birthday party.
3. He hid his _____ (child) drawings under his bed.
4. He flaunted his _____ (attract) car.

V-F. Complete the paragraph with the suitable articles 'a', 'an' 'the'.

4X½ =2

Sudha Chandran, _____ famous Bharatnatyam dancer met with _____ accident. Her leg was amputated which left her bedridden for _____ long time. But she did not give up. Once she recovered, Sudha trained herself again and became one of _____ finest classical dancers of India.

V-G.Circle the main verbs and underline the helping verbs in these sentences. 4X1=4

1. Ishan is playing basketball.
2. He was reading a fascinating book.
3. Three boys were selected for the team.
4. I am painting the walls of my room.

Section: D (Literature)

VI-A. Read the questions and tick the correct answer.

5X1=5

1. What is the song of the engine sing while going downhill?

- | | |
|--------------------|----------------------|
| a. I think I can | c. I thought I could |
| b. I think I could | d. I thought I can |

2. When are all the cubs taken to the Council Rock?

- | | |
|-----------------------------|------------------|
| a. at the time of new moon | c. every evening |
| b. at the time of full moon | d. at sunset |

3. The idea that the hare should be sent came from

- | | |
|-------------------|-------------------|
| a. the raven | c. the polar bear |
| b. the tiny mouse | d. the owl |

4. Why did the pedlar feel like a fool in London?

- | | |
|--|-------------------------------------|
| a. everyone laughed at him | c. he was worried about money |
| b. he was waiting for something to happen, but it didn't | d. his wife used to make fun of him |

5. Jeet had an idea of building a

- | | |
|-----------------|----------------|
| a. model plane | c. house model |
| b. school model | d. park model |

VI-B. Answer the following questions.

5X2=10

Q1. How did Jeet hit upon the idea for his project?

Ans. _____

Q2. Why had Shere Khan decided to change his hunting grounds?

Ans. _____

Q3. What did the animals have to decide at the grand meeting?

Ans. _____

Q4. Why do you think the pedlar had a statue made of him?

Ans. _____

Q5. Was there any change in King Midas by the end of the story? Give reason for your answer.

Ans. _____


VI-C. Read the poem and answer the following questions.

5X1=5

When you travel on a railway,

And the line goes up a hill,

Just listen to the engine



As it pulls you with a will.

Though it goes so very slowly

It sings this little song,

"I think I can, I think I can,"

And so it goes along,

Q1. What is the speed of the train when it goes uphill?

Ans. _____

Q2. What is the song of the engine when it goes up the hill?

Ans. _____

Q3. What does the word "it" refers to?

Ans. _____

Q4. What does 'I think I can' mean?

Ans. _____

Q5. Write two pair of rhyming words from the above lines.

Ans. _____

VI-D. Read these sentences and answer the questions that follow.

5X1=5

1." I might have lived in a shell"

a. Where is the line taken from?

Ans. _____

b. Who is referred to as 'I'?

Ans. _____

c. What is a shell?

Ans. _____

2. "But we don't have all these in the toolbox," he cried.

a. Who said this to and to whom?

Ans. _____

b. Why did the speaker need the toolbox?

Ans. _____



Jindal Vidya Mandir,JSW Hill Side Township
Term 1 Examination (2024-2025)

Set-A

Class:III / Sec _____

Subject:Kannada(II Language)

Name: _____

Invigilator's sign: _____

Max.Marks :80

Duration:3Hours

Roll.No _____

Date: _____

ಸೂಚನೆಗಳು:

- * ಈ ಪ್ರಶ್ನೆ ಪತ್ರಿಕೆಯು ಎ, ಬಿ, ಸಿ ಮತ್ತು ಡಿ ಎಂಬ ಭಾಗಗಳನ್ನು ಒಳಗೊಂಡಿರುತ್ತದೆ.
- * ಈ ಪ್ರಶ್ನೆ ಪತ್ರಿಕೆಯು ಒಟ್ಟು 21 ಮುಖ್ಯ ಪ್ರಶ್ನೆಗಳನ್ನು ಹಾಗೂ 10 ಪುಟಗಳನ್ನು ಒಳಗೊಂಡಿದೆ.
- * ಪ್ರತಿಯೊಂದು ಪ್ರಶ್ನೆಗಳು ಕಡ್ಡಾಯವಾಗಿದ್ದು, ಸೂಚನೆಗಳನ್ನು ಸರಿಯಾಗಿ ಓದಿಕೊಂಡು ಉತ್ತರಿಸಿರಿ.

ಭಾಗ-A	ವಾಚನ ಗ್ರಹಿಕ ಕೌಶಲ್ಯ	20 ಅಂಕಗಳು
ಭಾಗ-B	ಬರವಣಿಗೆ ಕೌಶಲ್ಯ	20 ಅಂಕಗಳು
ಭಾಗ-C	ಅನ್ವಯಿಕ ವ್ಯಾಕರಣ	20 ಅಂಕಗಳು
ಭಾಗ-D	ಪಠ್ಯಗಳ ಅಧ್ಯಯನ	20 ಅಂಕಗಳು
	ಒಟ್ಟು ಅಂಕಗಳು	80 ಒಟ್ಟು ಅಂಕಗಳು

(ಭಾಗ- A ವಾಚನ ಗ್ರಹಿಕ ಕೌಶಲ್ಯ)

I.ಈ ಕೆಳಗೆ ಕೊಟ್ಟಿರುವ ಪಠ್ಯೇತರ ಗದ್ಯ ಭಾಗವನ್ನು ಓದಿಕೊಂಡು, ಕೆಳಗಿನ ಪ್ರಶ್ನೆಗಳಿಗೆ ಉತ್ತರಿಸಿರಿ. 5X1=5

ಒಂದು ಕಾಡಿನಲ್ಲಿ ನಾಲ್ಕು ಹಸುಗಳಿದ್ದವು. ಅವು ಒಳ್ಳೆಯ ಸ್ನೇಹಿತರಾಗಿದ್ದು, ತುಂಬಾ ಒಗ್ಗಟ್ಟಿನಿಂದ ಕೂಡಿದ್ದವು. ಯಾರೂ ಈ ಹಸುಗಳೊಂದಿಗೆ ಹೊಡೆದಾಡಲು ಬಯಸುತ್ತಿದ್ದಿಲ್ಲ. ಸಿಂಹವು ಕೂಡ ಇವುಗಳಿಗೆ ಭಯಪಡುತ್ತಿತ್ತು. ಏಕೆಂದರೆ ಒಂದು ಹಸುವಿಗೆ ಏನಾದರೂ ಆದರೆ ಉಳಿದ ಮೂರು ಹಸುಗಳು ಅದರ ಸಹಾಯಕ್ಕೆ ಬರುತ್ತಿದ್ದವು. ಆದ್ದರಿಂದ ಯಾವುದೇ ಪ್ರಾಣಿಯೂ ಕೂಡ ಈ ಹಸುಗಳ ಸುದ್ದಿಗೆ ಹೋಗುತ್ತಿರಲಿಲ್ಲ. ಹೀಗಿರುವಾಗ ಸಿಂಹವು ಉಪಾಯ ಒಂದನ್ನು ಮಾಡಿತು. ಒಂದು ದಿನ ನಾಲ್ಕು ಹಸುಗಳನ್ನು ಬೇರೆ ಬೇರೆಯಾಗಿ ಕರೆದು, "ನಿಮ್ಮಲ್ಲಿ ಒಬ್ಬರು ಹುಲ್ಲನ್ನು ಹೆಚ್ಚಾಗಿ ತಿಂದಿದ್ದಾರೆ." ಎಂದು ಸುಳ್ಳು ಸುದ್ದಿಯನ್ನು ಹಬ್ಬಿಸಿತು. ಇದರಿಂದ ನಾಲ್ಕು ಹಸುಗಳು ಒಂದನ್ನೊಂದು ಅನುಮಾನದಿಂದ ನೋಡ ತೊಡಗಿದವು. ಒಟ್ಟಾಗಿದ್ದ ಹಸುಗಳು ಒಂದಕ್ಕೊಂದು ಸಹಾಯ ಮಾಡದಂತಹ ಸ್ಥಿತಿಗೆ ಬಂದವು. ಇದರ ಲಾಭ ಪಡೆದ ಸಿಂಹವು ಒಂದೊಂದೇ ಹಸುವನ್ನು ಪಕ್ಕಕ್ಕೆ ಕರೆದು ತಿನ್ನುತ್ತೊಡಗಿತು. ಉಳಿದ ಹಸುಗಳು ತಲೆಯನ್ನು ಕೆಡಿಸಿಕೊಳ್ಳದಾಗಿದ್ದವು. ಹೀಗೆ ಒಂದೊಂದೇ ಹಸುವನ್ನು ಸಿಂಹವು ತಿಂದು ಮುಗಿಸಿ ಬಿಟ್ಟಿತು. ಈ ಕಥೆಯ ನೀತಿ ಏನೆಂದರೆ ಸುಳ್ಳು ಸುದ್ದಿಗಳನ್ನು ನಂಬದೇ "ಪ್ರತ್ಯಕ್ಷ ಕಂಡರೂ ಪ್ರಾಮಾಣಿಸಿ ನೋಡು" ಎಂಬುದಾಗಿದೆ.

ಪ್ರಶ್ನೆಗಳು :

- ಒಂದು _____ ಹಸುಗಳಿದ್ದವು.
(i) ಕಾಡಿನಲ್ಲಿ (ii) ನಾಡಿನಲ್ಲಿ (iii) ಊರಿನಲ್ಲಿ (iv) ಹೊಲದಲ್ಲಿ
- _____ ಹಸುಗಳು ಒಗ್ಗಟ್ಟಿನಿಂದ ಇದ್ದವು.
(i) ಒಂದು (ii) ನಾಲ್ಕು (iii) ಆರು (iv) ಎರಡು
- _____ ಕೂಡ ಹಸುಗಳಿಗೆ ಭಯಪಡುತ್ತಿತ್ತು.
(i) ಹುಲಿ (ii) ಆನೆ (iii) ಸಿಂಹ (iv) ಚಿರತೆ

4. ಹಸುಗಳು ಒಂದನ್ನೊಂದು _____ ನೋಡತೊಡಗಿದವು.

(i) ಪ್ರೀತಿಯಿಂದ (ii) ಕನಿಕರದಿಂದ (iii) ಅನುಮಾನದಿಂದ (iv) ಮರ್ಯಾದೆಯಿಂದ

5. ಪ್ರತ್ಯಕ್ಷ ಕಂಡರೂ _____ ನೋಡು.

(i) ಅಳಿದು (ii) ತೂಗಿ (iii) ಪ್ರಾಮಾಣಿಸಿ (iv) ಪರೀಕ್ಷಿಸಿ

II. ಈ ಕೆಳಗೆ ಕೊಟ್ಟಿರುವ ಪರ್ಯಾಯ ಗದ್ಯಭಾಗವನ್ನು ಓದಿಕೊಂಡು, ಕೆಳಗಿನ ಪ್ರಶ್ನೆಗಳಿಗೆ ಉತ್ತರಿಸಿರಿ. 5X1=5

ಡಾಕ್ಟರ್ ರಾಜೇಂದ್ರ ಪ್ರಸಾದ್ ಅವರು ಭಾರತದ ಪ್ರಥಮ ರಾಷ್ಟ್ರಪತಿಗಳು. ಅತ್ಯಂತ ಉನ್ನತ ಸ್ಥಾನಕ್ಕೇರಿದರು ಸರಳ ಜೀವನ ನಡೆಸಿದವರು. ಜನಕ ಮಹಾರಾಜನಂತೆ ಅವರದು ಋಷಿ ಸದೃಶ ಜೀವನ. ಅವರು ಕೋಪವನ್ನು ತಡೆಯಬಲ್ಲವರಾಗಿದ್ದರು. ಬಾಳಿನಲ್ಲಿ ಶಿಸ್ತು, ಸಂಯಮ, ಸಮಯ ಪಾಲನೆ ಇವುಗಳಿಗೆ ಹೆಚ್ಚು ಮಹತ್ವವನ್ನು ನೀಡುತ್ತಿದ್ದರು. ತಾವು ಜನರ ಸೇವಕ ಎಂದು ಹೇಳಿಕೊಳ್ಳುತ್ತಿದ್ದರು. ಒಂದು ದಿನ ಕಚೇರಿಯ ಕೆಲಸ ಮುಗಿಸಿ ರಾಜೇಂದ್ರ ಪ್ರಸಾದರು ಮನೆಗೆ ಬಂದಾಗ ಅವರ ಒಂದು ಪುಸ್ತಕದ ಪುಟಗಳು ಹರಿದು ಚೆಲ್ಲಾಪಿಲ್ಲಿಯಾಗಿ ಬಿದ್ದಿರುವುದನ್ನು ನೋಡಿದರು. ಇದೆಲ್ಲಾ ಮಕ್ಕಳದ್ದೇ ಕೆಲಸ ಎಂದು ತಿಳಿಯಲು ಅವರಿಗೆ ಹೆಚ್ಚು ಸಮಯ ಬೇಕಾಗಲಿಲ್ಲ.

ಪ್ರಶ್ನೆಗಳು :

1. ರಾಜೇಂದ್ರ ಪ್ರಸಾದರು ಭಾರತದ ಮೊದಲ _____

(i) ರಾಷ್ಟ್ರಪತಿಗಳು (ii) ಪ್ರಧಾನಮಂತ್ರಿಗಳು (iii) ಸಭಾಪತಿಗಳು (iv) ರಕ್ಷಣಾ ಮಂತ್ರಿಗಳು

2. _____ ಮಹಾರಾಜನಂತೆ ಅವರದು ಋಷಿ ಸದೃಶ ಜೀವನ.

(i) ದಶರಥ (ii) ಹರಿಶ್ಚಂದ್ರ (iii) ಅಶೋಕ (iv) ಜನಕ

3. ಅವರು ತಮ್ಮನ್ನು ಜನರ _____ ಎಂದು ಹೇಳಿಕೊಳ್ಳುತ್ತಿದ್ದರು.

(i) ರಾಜ (ii) ಮಂತ್ರಿ (iii) ಸೇವಕ (iv) ಅಧಿಪತಿ

4. ಶಿಸ್ತು, _____ ಸಮಯ ಪಾಲನೆಗೆ ಹೆಚ್ಚು ಮಹತ್ವ ನೀಡುತ್ತಿದ್ದರು.

(i) ಪ್ರೀತಿ (ii) ವಿಶ್ವಾಸ (iii) ಸಂಯಮ (iv) ಸಂತೋಷ

5. ಇದೆಲ್ಲಾ _____ ಕೆಲಸವೆಂದು ತಿಳಿಯಿತು.

(i) ವಿದ್ಯಾರ್ಥಿಗಳ (ii) ಮಕ್ಕಳ (iii) ಶಿಕ್ಷಕರ (iv) ಸ್ನೇಹಿತರ

III. ಈ ಕೆಳಗೆ ಕೊಟ್ಟಿರುವ 'ನನ್ನ ಕನಸು' ಪಠ್ಯ ಗದ್ಯ ಭಾಗವನ್ನು, ಕೊಟ್ಟಿರುವ ಸುಳಿವುಗಳ ಸಹಾಯದಿಂದ ಪೂರ್ಣಗೊಳಿಸಿರಿ. 5X1=5

(ಕಾಡು, ಬಳ್ಳಿಗಳು, ಕೋಗಿಲೆಯ, ನಿನಾದ, ಆಶ್ರಯ)

ಒಂದು ದಟ್ಟವಾದ _____ ವಿಶಾಲ ಪ್ರದೇಶದಲ್ಲಿ ಬೆಳೆದಿರುವ ಎತ್ತರವಾದ ಮರ ಗಿಡಗಳು, ಮರಗಳನ್ನು ಬಳಸಿ ಮುಗಿಲೆತ್ತರಕ್ಕೆ ಹಬ್ಬುತ್ತಿರುವ _____, ಹಸಿರಿನ ನಡುವೆ ಬಣ್ಣದ ಚಿತ್ತಾರ ಮೂಡಿಸಿರುವ ಹೂ, ಹಣ್ಣುಗಳು, ದುಂಬಿಯ ಝೇಂಕಾರ, ಪಕ್ಷಿಗಳ ಕಲರವ, ನಡುವೆ ತೇಲಿ ಬರುತ್ತಿರುವ _____ ಧ್ವನಿ, ಜುಳು ಜುಳು ಹರಿಯುತ್ತಿರುವ ಝರಿಯು _____ . ಇಂತಹ ಸುಂದರ ಪರಿಸರವು ಪ್ರಾಣಿ ಪಕ್ಷಿಗಳಿಗೆ ನೆಮ್ಮದಿಯ _____ ತಾಣವಾಗಿತ್ತು.

IV. ಈ ಕೆಳಗೆ ಕೊಟ್ಟಿರುವ 'ತುತ್ತೂರಿ' ಪರಿಚಿತ ಪದ್ಯ ಭಾಗವನ್ನು ಓದಿಕೊಂಡು, ಕೆಳಗಿನ ಪ್ರಶ್ನೆಗಳಿಗೆ ಉತ್ತರಿಸಿರಿ.

5X1=5

ಬಣ್ಣದ ತಗಡಿನ ತುತ್ತೂರಿ
ಕಾಸಿಗೆ ಕೊಂಡನು ಕಸ್ತೂರಿ ||
ಸರಿಗಮಪದನಿಸ ಊದಿದನು
ಸನಿದಪಮಗರಿಸ ಊದಿದನು ||

ತನಗೇ ತುತ್ತೂರಿ ಇದೆಯೆಂದ
ಬೇರಾರಿಗೂ ಅದು ಇಲ್ಲೆಂದ||
ಕಸ್ತೂರಿ ನಡೆದನು ಬೀದಿಯಲಿ
ಜಂಭದ ಕೋಳಿಯ ರೀತಿಯಲಿ||

ಪ್ರಶ್ನೆಗಳು :

1. ಕಸ್ತೂರಿ _____ ಯನ್ನು ಕೊಂಡನು.
2. ಕಸ್ತೂರಿ _____ ಊದಿದನು.
3. ಕಸ್ತೂರಿ _____ ಯಲಿ ನಡೆದನು.
4. ಬಣ್ಣದ _____ ತುತ್ತೂರಿ.
5. ಕಸ್ತೂರಿ _____ ಕೋಳಿ.

(ಭಾಗ-B ಬರವಣಿಗೆ ಕೌಶಲ್ಯ)

V. ಈ ಕೆಳಗೆ ಕೊಟ್ಟಿರುವ ಘಟನಾವಳಿಗಳನ್ನು ಅನುಕ್ರಮವಾಗಿ ಜೋಡಿಸಿ ಬರೆಯಿರಿ.

3X1=3

1. ಎತ್ತು ಹಸು ಕರುಗಳನ್ನು ಕೊಂಬು ಹೆರೆದು ಬಣ್ಣವ ಬಳಿದು ಶೃಂಗಾರ ಮಾಡಿದರು.
2. ಪುಟಾಣಿ ತಂಗಿ ತನ್ನ ಗೆಳತಿ ಜೊತೆ ಎಳ್ಳು ಬೆಲ್ಲ ಬೀರಲು ಹೊರಟಳು.
3. ತಂಗಿಯು ಕರಿಮುರಿ ಜರತಾರಿ ಲಂಗವನ್ನು ಹಾಕಿಕೊಂಡಳು.

1. _____
2. _____
3. _____

VI. ಈ ಕೆಳಗೆ ಕೊಟ್ಟಿರುವ ಪದಗಳನ್ನು ಬಳಸಿ, ಸ್ವಂತ ವಾಕ್ಯಗಳನ್ನು ಬರೆಯಿರಿ.

2X1=2

1. ಮನೆ ಮಾತಾಗು : _____
2. ಬಹುಮಾನ : _____

VII. ಈ ಕೆಳಗೆ ಕೊಟ್ಟಿರುವ ಯಾವುದಾದರೂ ಒಬ್ಬ ವ್ಯಕ್ತಿಯನ್ನು ಕುರಿತು ಕಿರುಪರಿಚಯವನ್ನು ಬರೆಯಿರಿ.

$$1 \times 5 = 5$$


ಲಾಲ್ ಬಹದ್ದೂರ್ ಶಾಸ್ತ್ರಿ, ಅಥವಾ ಎಚ್‌ಎಸ್ ವೆಂಕಟೇಶಮೂರ್ತಿ

This image shows a single sheet of white paper with horizontal ruling lines. The lines are evenly spaced and run across the width of the page. There are no margins, text, or other markings on the paper.

IX. ಈ ಕೆಳಗೆ ಕೊಟ್ಟಿರುವ ಚಿತ್ರವನ್ನು ಗಮನಿಸಿ, ಕೊಟ್ಟಿರುವ ಪದಗಳನ್ನು ಬಳಸಿ ಐದು ವಾಕ್ಯಗಳನ್ನು ರಚಿಸಿರಿ.

1X5=5

(ಹಬ್ಬ, ರಂಗೋಲಿ, ಪಟಾಕಿ, ಅಮ್ಮ, ದೀಪಗಳು)



(ಭಾಗ-C ಅನ್ವಯಿಕ ವ್ಯಾಕರಣ)

X. ಈ ಕೆಳಗೆ ಕೊಟ್ಟಿರುವ ಲಿಂಗಗಳನ್ನು ಬದಲಿಸಿ ಬರೆಯಿರಿ.

2X1=2

1. ರಾಣಿ : _____ 2. ಸಹೋದರ : _____

XI. ಈ ಕೆಳಗೆ ಕೊಟ್ಟಿರುವ ವಚನಗಳನ್ನು ಬದಲಿಸಿ ಬರೆಯಿರಿ.

2X1=2

1. ಅಣ್ಣ : _____ 2. ಮಾವ : _____

XII. ಈ ಕೆಳಗೆ ಕೊಟ್ಟಿರುವ ಪದಗಳಿಗೆ ವಿರುದ್ಧಾರ್ಥಕ ಪದಗಳನ್ನು ಬರೆಯಿರಿ.

3X1=3

1. ಅಂಜುಬುರುಕ X _____ 2. ಉಳಿವು X _____

3. ಪ್ರವೇಶ X _____

XIII. ಈ ಕೆಳಗೆ ಕೊಟ್ಟಿರುವ ಪದಗಳಿಗೆ ಜೋಡು ನುಡಿಗಳನ್ನು ಬರೆಯಿರಿ.

2X1=2

1. ನೋವು : _____ 2. ಬೆಟ್ಟ : _____

XIV. ಈ ಕೆಳಗೆ ಕೊಟ್ಟಿರುವ ಪದಗಳಿಗೆ ಸಮಾನಾರ್ಥಕ ಪದಗಳನ್ನು ಬರೆಯಿರಿ.

2X1=2

1. ಧ್ವಜ : _____ , _____

2. ನಸುಕು : _____ , _____

XV. ಈ ಕೆಳಗೆ ಕೊಟ್ಟಿರುವ ಗಾದೆ ಮಾತುಗಳನ್ನು ಪೂರ್ಣಗೊಳಿಸಿರಿ.

2X1=2

1. ಶಕ್ತಿಗಿಂತ ಯುಕ್ತಿ _____

3. ಮಾತು ಬೆಳ್ಳಿ _____

XVI. ಈ ಕೆಳಗೆ ಕೊಟ್ಟಿರುವ ನುಡಿಗಟ್ಟುಗಳ ಅರ್ಥವನ್ನು ಬರೆಯಿರಿ.

2X1=2

1. ಕಬ್ಬಿಣದ ಕಡಲೆ : _____ 2. ತಲೆ ಹಾಕು : _____

XVII. ಈ ಕೆಳಗೆ ಕೊಟ್ಟಿರುವ ಪದಗಳನ್ನು ಹೊಂದಿಸಿ ಬರೆಯಿರಿ.

3X1=3

1. ನವಿಲು (i) ಗಾದೆಮಾ ()

2. ಬೇಗಂ (ii) ನಿಮಗಿದು ತಿಳಿದಿರಲಿ ()

3. ಮಾಲ (iii) ಆಕರ್ಷಕ ನಡಿಗೆ ()

XVIII. ಈ ಕೆಳಗೆ ಕೊಟ್ಟಿರುವ ಪದಗಳನ್ನು ಅನುಕ್ರಮವಾಗಿ ಅರ್ಥಪೂರ್ಣವಾಗಿ ಜೋಡಿಸಿ, ವಾಕ್ಯಗಳನ್ನು ರಚಿಸಿರಿ.

2X1=2

1. ನಾಡ ನಮ್ಮ ಹಬ್ಬ ದಸರ

2. ಆಳುತ್ತಿದ್ದರು ಹಿಂದೆ ಬ್ರಿಟಿಷರು ಭಾರತವನ್ನು

(ಭಾಗ-D ಪಠ್ಯಗಳ ಅಧ್ಯಯನ)

XIX. ಈ ಕೆಳಗೆ ಕೊಟ್ಟಿರುವ ಪ್ರಶ್ನೆಗಳಿಗೆ ಒಂದು ವಾಕ್ಯಗಳಲ್ಲಿ ಉತ್ತರಿಸಿರಿ.

6X1=6

1. ತಾಯಿಯು ಕಂದನ ಅಂಗಾಲನ್ನು ಯಾವುದರಿಂದ ತೊಳೆಯುವುದಾಗಿ ಹೇಳುತ್ತಾಳೆ?

ಉ: _____

2. ಕಸ್ತೂರಿಯು ಏನನ್ನು ಕೊಂಡನು?

ಉ: _____

3. ವಿವೇಕಾನಂದರ ಬಾಲ್ಯದ ಹೆಸರೇನು?

ಉ: _____

4. ಅಳುವ ಕಂದನ ಕಣ್ಣೊಟ ಹೇಗಿರುತ್ತದೆ?

ಉ: _____

5. ಹಣ್ಣುಗಳ ರಾಜ ಯಾರು?

ಉ: _____

6. ಈಸೂರು ಯಾವ ಜಿಲ್ಲೆಯಲ್ಲಿದೆ?

ಉ: _____

XX. ಈ ಕೆಳಗೆ ಕೊಟ್ಟಿರುವ ಮಾತುಗಳನ್ನು ಯಾರು- ಯಾರಿಗೆ ಹೇಳಿದರು?

3X2=6

1. "ನಮ್ಮ ಶಾಲೆಯಲ್ಲೂ ಆಚರಿಸುತ್ತೇವಲ್ಲ ಸರ್ ? "

• ಯಾರು ಹೇಳಿದರು ? _____

• ಯಾರಿಗೆ ಹೇಳಿದರು ? _____

3. "ಇನ್ನೆಂದೂ ಇಂತಹ ತಪ್ಪನ್ನು ಮಾಡುವುದಿಲ್ಲ."

ಯಾರು ಹೇಳಿದರು ? _____

ಯಾರಿಗೆ ಹೇಳಿದರು ? _____

XXI. ಈ ಕೆಳಗೆ ಕೊಟ್ಟಿರುವ ಪ್ರಶ್ನೆಗಳಿಗೆ ಎರಡು-ಮೂರು ವಾಕ್ಯಗಳಲ್ಲಿ ಉತ್ತರಿಸಿರಿ.

4X2=8

1. ಬಾಲಕ ಮಾಲೀಕನಿಗೆ ಏನೆಂದು ಹೇಳಿದನು?

ಉ: _____

2. ಈಸೂರು ಶಿವಮೊಗ್ಗ ಜಿಲ್ಲೆಗೆ ಹೆಸರು ತರಲು ಕಾರಣವೇನು?

ಉ: _____

3. ಕೂಸು ಇದ್ದ ಮನೆಗೆ ಬೀಸಣಿಕೆ ಬೇಡ. ಏಕೆ ?

ಉ: _____

4. ಸ್ವಾತಂತ್ರ್ಯ ದಿನಾಚರಣೆ ಎಂದರೇನು?

ಉ:



Jindal Vidya Mandir, JSW Hill Side Township
Term - I Examination (2024-25)

SET-A

Class: III/ Sec: _____

Subject: Hindi (II Language)

Name: _____

Invigilator's Signature: _____

Maximum Marks: 80

Duration: 3 Hrs

Roll No: _____

Date: _____

सामान्य निर्देश:

- प्रश्न-पत्र के 2 खंड हैं - वस्तुनिष्ठ और विवरणात्मक ।
- दोनों खंडों के प्रश्नों के उत्तर देना अनिवार्य है।

खंड 'क' - वस्तुनिष्ठ प्रश्न (20 अंक)

प्रश्न 1. निम्नलिखित अपठित गद्यांश को ध्यानपूर्वक पढ़कर नीचे दिए गए प्रश्नों के उत्तर लिखिए- 5×2=10

(क) अगले दिन जैसे ही सूरज निकला, धनी बिस्तर छोड़कर गांधी जी को ढूँढ़ने निकला। वे गौशाला में गायों को देख रहे थे। फिर वह सब्जी के बगीचे में मटर और बंदगोभी देखते हुए बिंदा से बात करने लगे। धनी और बिन्नी लगातार उनके पीछे-पीछे चल रहे थे। अंत में, गांधी जी अपनी झोंपड़ी की ओर चले। बरामदे में चरखे के पास बैठकर उन्होंने धनी को पुकारा, "यहाँ आओ, बेटा!"

(१) अगले दिन धनी किसे ढूँढ़ने निकला ?

क) सूरज को ख) गांधी को ग) गाय को घ) बिन्नी को

उत्तर = _____

(२) गांधी जी कहाँ थे और क्या कर रहे थे ?

क) चरखा चला रहे थे ख) रसोई में खाना खा रहे थे
ग) गौशाला में गाय देख रहे थे घ) खेत में सब्जी देख रहे थे

उत्तर = _____

(३) सब्जी के बगीचे में क्या लगा था ?

क) मटर और बंदगोभी ख) आलू-गोभी ग) आलू और मटर घ) टमाटर और प्याज़

उत्तर = _____

(४) गांधी जी किसके पास बैठ गए ?

क) बिन्नी के पास ख) धनी के पास। ग) चरखे के पास। घ) झोंपड़ी के पास

उत्तर=-----

(५) गांधी जी ने किसे पुकारा ?

क) बिन्नी को। ख) बिंदा को। ग) धनी को। घ) किसी को भी नहीं

उत्तर=-----

(ख) सड़क पार करते समय सुनीता को फ़रीदा फिर नज़र आई। इस बार फ़रीदा ने कोई सवाल नहीं पूछा। अमित झट से सुनीता की पहिया कुर्सी के पीछे चढ़ गया। फिर दोनों पहिया-कुर्सी पर सवार होकर तेज़ी से सड़क पर आगे बढ़े। फ़रीदा भी उनके साथ-साथ दौड़ी। इस बार भी लोगों ने उन्हें घूरा, परंतु अब सुनीता को उनकी परवाह नहीं थी।

(१) सड़क पार करते समय सुनीता को कौन नज़र आया ?

क) अमित नज़र आया। ख) फ़रीदा नज़र आई। ग) लोग नज़र आये। घ) लाल बत्ती नज़र आई

उत्तर = -----

(२) सुनीता की पहिया-कुर्सी पर कौन चढ़ गया ?

क) बंदर चढ़ गया। ख) अमित गया। ग) फ़रीदा चढ़ गई। घ) सुनीता चढ़ गई।

उत्तर =-----

(३) उनके साथ कौन दौड़ा ?

क) मोहन दौड़ा। ख) अमित दौड़ा। ग) सुनीता दौड़ी। घ) फ़रीदा दौड़ी।

उत्तर=-----

(४) सुनीता को अब किसकी परवाह नहीं थी ?

क) लोगों की। ख) अपनी परवाह नहीं थी। ग) फ़रीदा की। घ) अमित की।

उत्तर=-----

(५) इस बार फ़रीदा ने क्या नहीं पूछा ?

क) कोई भी सवाल। ख) अमित को नहीं पूछा। ग) दौड़ने के बारे में। घ) पहिया-कुर्सी के बारे में।

उत्तर=-----

प्रश्न 2. व्याकरण भाग से लिए गए निम्नलिखित प्रश्नों के सही उत्तर विकल्पों में से चुनकर लिखिए-

16x1=16

(i) बोलकर भाव एवं विचार व्यक्त करने वाली भाषा को ____ कहते हैं ?

(क) सांकेतिक भाषा (ख) लिखित भाषा (ग) मौखिक भाषा (घ) कोई भी नहीं

उत्तर -----

(ii) अंग्रेज़ी भाषा की लिपि है-

(क) फारसी (ख) गुरुमुखी (ग) देवनागरी (घ) रोमन

उत्तर -----

(iii) इनमें से कौन-सा व्यंजन नहीं है

(क) त (ख) ट (ग) ए (घ) प

उत्तर -----

(iv) 'लौमड़ी' शब्द में मात्रा को सही कर लिखो-

उत्तर-----

(v) नीचे लिखे शब्दों में से संयुक्त व्यंजन से बने शब्द चुनकर लिखें-

(क) अक्ल (ख) चम्मच (ग) परिश्रम (घ) औरत

उत्तर -----

(vi) नीचे लिखे शब्दों में से संज्ञा शब्द छाँटकर लिखें-

(क) मच्छर (ख) दौड़ना (ग) हमारा (घ) इनमें से कोई नहीं

उत्तर -----

(vii) वाक्य को सही क्रम में लिखें-

लदा पेड़ है पके आम से ।

उत्तर-----

(viii) 'दर्जी कपड़े सिल रहा है, -----नाप ले रही है।' रिक्त स्थान में उचित लिंग शब्द भरिए-

(क) दर्ज़िन (ख) वीरांगना (ग) पंडिताइन (घ) धोबिन

उत्तर -----

(ix) नवम्बर के बाद ————— महीना आता है-

(क) सितंबर

(ख) अक्टूबर

(ग) दिसंबर

(घ) जुलाई

उत्तर -----

(x) 'कल सुंदर ने मेरे लिए पुस्तक खरीदी।' रेखांकित शब्द को अनुस्वार/अनुनासिक लगाकर वाक्य दोबारा लिखें-

(क) ँ

(ख) ँ

(ग) ँ,ँ

(घ) कोई नहीं

उत्तर -----

(xi) 'डॉक्टर ने रोगी को ----- दीं।' रिक्त स्थान में उचित वचन भरिए-

(क) दवाईयां

(ख) सब्जी

(ग) सब्जियाँ

(घ) दवाईयाँ

उत्तर -----

(xii) '----- दिल्ली में रहती हूँ।' उचित सर्वनाम द्वारा वाक्य पूरा कीजिए-

(क) मैं

(ख) उन्हें

(ग) हमें

(घ) तुम

(xiii) 'रिया ने अपने जन्मदिन पर बुलाया है।' वाक्य में क्रिया है -

(क) जन्मदिन

(ख) बुलाया है

(ग) है

(घ) अपने

(xiv) 'जीवन' शब्द का विलोम शब्द होगा -

(क) जिंदगी

(ख) जिंदादिल

(ग) मरण

(घ) जिंदगानी

उत्तर -----

(xv) 'तालाब' शब्द का पर्यायवाची है-

(क) पोखर

(ख) दिवस

(ग) जलज

(घ) जलद

उत्तर -----

(xvi) सप्ताह का पहला दिन ----- है

(क) सोमवार

(ख) रविवार।

(ग) मंगलवार।

(घ) शनिवार

उत्तर -----

प्रश्न 3. पठित गद्यांश को ध्यानपूर्वक पढ़कर पूछे गए प्रश्नों के उचित उत्तर लिखें-

5+2=7

क) आज तूने बहुत परेशान किया है। मार-मारकर मैं तेरा कचूमर निकाल दूँगा-ऐसा कहकर धोबी ने बाघ का कान पकड़ा और उसे खींचता हुआ घर की तरफ़ चल दिया। बाघ बिना चूँ-चपड़ किए भीगी बिल्ली बना धोबी के पीछे-पीछे चल दिया। घर पहुँचकर धोबी ने बाघ को खूँटे से बाँध दिया और सो गया।

(१) किसने किससे कहा कि- “आज तूने बहुत परेशान किया है ?”

(क) धोबी ने बाघ से (ख) धोबी ने गधे से (ग) धोबिन ने धोबी से (घ) सभी ने एक दूसरे से

उत्तर -----

(ख) धोबी ने किसका कान पकड़ा ?

(क) गधे का (ख) बाघ का (ग) पंडित का (घ) शेर का

उत्तर -----

(ग) धोबी बाघ को कहाँ ले गया ?

(क) जंगल (ख) सर्कस (ग) घर (घ) पोखर

उत्तर -----

(घ) भीगी बिल्ली कौन बन गया ?

(क) धोबी (ख) गधा (ग) गाँव वाले (घ) बाघ

उत्तर -----

(ड) धोबी ने बाघ को कहाँ बाँधा ?

(क) पेड़ के नीचे (ख) खूँटे से (ग) दरवाज़े पर (घ) कहीं भी नहीं

उत्तर -----

ख) धन्य हो मक्खी रानी, धन्य हो ! धन्य हैं आपका जीवन और धन्य हैं आपके माता-पिता। लेकिन मक्खी रानी, उधर वह मकड़ी दिखाई दे रही है न, वह आपको गाली दे रही थी। उसकी ज़रा खबर लो न!

(क) यह बात मक्खी को कौन कह रहा है ?

(क) लोमड़ी (ख) मकड़ी। (ग) हाथी। (घ) शेर

उत्तर -----

(ख) मक्खी को किसके द्वारा गाली देने की बात की जा रही है ?

(क) शेर (ख) लोमड़ी। (ग) मकड़ी। (घ) सभी कह रहे हैं

उत्तर -----

प्रश्न 3. पठित पद्यांश को ध्यानपूर्वक पढ़कर पूछे गए प्रश्नों के उचित उत्तर लिखें-

5+2=7

क) पापा कहते बाहर खेलो,
खबरदार जो अंदर आए,
हम पर ही सबका बस चलता
जो चाहे वह डाँट बताए।

(१) पापा कहाँ खेलने को कहते हैं ?

(क) घर में (ख) मैदान में। (ग) बाहर (घ) स्कूल में

उत्तर -----

(२) पापा कहाँ आने के लिए मना कर रहे हैं ?

(क) अंदर आने के लिए। (ख) बाहर आने के लिए (ग) बगीचे में आने के लिए (घ) कहीं भी नहीं

उत्तर -----

(३) 'हम' शब्द किसके लिए आया है ?

(क) पापा के लिए। (ख) बच्चे के लिए। (ग) भैया के लिए। (घ) माँ के लिए

उत्तर -----

(४) बच्चों को घर में कौन डाँटता है ?

(क) पापा (ख) माँ। (ग) भैया। (घ) सभी

उत्तर -----

(५) 'खबरदार' शब्द का अर्थ बताइए।

(क) डर। (ख) सावधान। (ग) घबराहट। (घ) ये सभी

उत्तर -----

ख) मन करता है बाबा बनकर
घर में सब पर धौंस जमाऊँ।
मन करता है पापा बनकर
मैं भी अपनी मूँछ बढ़ाऊँ।
मन करता है तितली बनकर
दूर-दूर उड़ता जाऊँ।
मन करता है कोयल बनकर
मीठे-मीठे बोल सुनाऊँ।

(१) बच्चा ————— बनकर मूँछ बढ़ाना चाहता है।

(क) दादा बनकर

(ख) बाबा बनकर

(ग) पापा बनकर

(घ) बच्चा बनकर

उत्तर -----

(२) 'दूर-दूर' तक कौन उड़ता है ?

(क) मच्छर

(ख) तितली

(ग) तोता

(घ) पतंग

उत्तर -----

खंड 'ख' - विवरणात्मक प्रश्न (20 अंक)

प्रश्न 5. नीचे दिए गए प्रश्न का उत्तर एक वाक्य में लिखें-

1x1=1

(१) कक्कू दिनभर क्या करता रहता है ?

उत्तर -----

प्रश्न 6. निम्नलिखित प्रश्नों के उत्तर (20 से 30) शब्दों में दीजिए-

2x3=6

(क) कविता में बच्चे का मन क्या - क्या बनने को करता है ?

उत्तर-----

(ख) बित्तो ने किसान को गाय ले जाने की बात पर क्यों डाँटा ?

उत्तर-----

(ग) शेर ने मक्खी से हार क्यों मानी ?

उत्तर-----

प्रश्न 7 . निम्नलिखित प्रश्न का उत्तर (30 से 40) शब्दों में अपने विचारों के अनुरूप लिखिए-

3x3=9

(क) मक्खी जंगल का राजा किसे कहती थी ? अंत में मक्खी का क्या हुआ ?

उत्तर-----

(ख) भेड़िए ने शेर को 'भोले महाराज' क्यों कहा ? क्या शेर सचमुच भोला था ?

उत्तर-----

(ग) दादी ने पोते को 'टिपटीपवा' के बारे में क्या बताया ?

उत्तर-----

प्रश्न 8. निम्नलिखित प्रश्न का उत्तर (40 से 50) शब्दों में अपने विचारों के अनुरूप लिखिए-

1x4=4

प्रश्न- धोबी क्यों परेशान था ? वह पंडित जी के पास किसकी सलाह पर गया ?

उत्तर-----

प्रश्न 9. 'मेरा प्रिय खेल' विषय पर दिए गए संकेत बिंदु के आधार पर लगभग 70-80 शब्दों में अन्च्छेद लिखिए।

$$1 \times 5 = 5$$

[संकेत बिंदु - प्रिय खेल क्रिकेट, अपनी इच्छा, खेलने का अभ्यास, टीम की जानकारी ,ग्यारह-ग्यारह खिलाड़ी।]

उत्तर-----

=====

प्रश्न 10. दिए गए संकेत बिंदु की सहायता से पत्र को पूरा कीजिए-

1×5=5

(अवकाश , निवेदन , बुखार , आराम , जिंदल विद्या मंदिर)

प्रधानाचार्य जी

बल्लारी

दिनांक : ---सितंबर, 20...

विषय: दो दिन के अवकाश के लिए प्रार्थना - पत्र ।

महोदय,

सविनय -----है कि कल विद्यालय से आने के बाद मुझे तेज -----हो गया है जिसके कारण मैं विद्यालय आने में असमर्थ हूँ। डॉक्टर ने मुझे दो दिन तक -----करने की सलाह दी है। अतः आप मुझे दो दिन का -----देने की कृपा करें। आपकी अति कृपा होगी। धन्यवाद

आपका आज्ञाकारी शिष्य

नाम -----

कक्षा-----

प्रश्न 11. निम्नलिखित शब्दों के द्वारा कहानी को पूरा कीजिए -

1×5=5

(पास , मधुमक्खी, गिर गई, सामने, बैठा, दर्द, पत्ता, गीले, मधुमक्खी, चढ़, उड़ गई)

नदी के ----- पेड़ पर एक कबूतर ----- था। एक दिन एक मधुमक्खी

नदी में -----। उसके पंख ----- हो गए। वह उड़ नहीं पा रही थी।

कबूतर ने ----- को ----- में छटपटाते देखा। उसने पेड़ से एक

----- तोड़ा और मधुमक्खी के ----- फेंक दिया। ----- पत्ते पर

----- गई और कबूतर को धन्यवाद देकर -----।

प्रश्न-12. नीचे दिए गए दृश्य को देखकर चित्र वर्णन करें-

1x5=5



उत्तर-----



Jindal Vidya Mandir, Hill Side Township
Term-I Examination (2024-25)
Set-A

Class: III/Sec: _____

Max.Marks :80

Subject: Mathematics

Duration: 3 Hrs

Student Name: _____

Roll no : _____

Invigilator's Signature: _____

Date: _____

General Instructions: This question paper has 8 pages and it has 46 questions.

All questions are compulsory.

PART-A

I.Fill in the blanks.

5X1M=5M

1. $7000 + \underline{\hspace{2cm}} = 7555$

2. $\text{Dividend} = \underline{\hspace{2cm}} \times \text{Divisor} + \text{Remainder}$

3 .The Successor of 4119 is _____

4. $2465 + 5158 = 5158 + \underline{\hspace{2cm}}$

5.The product of a number and 1 is the _____

II.Choose the correct answers.

8X1M=8M

6. $3845 - 3845$ is _____.

i) 1 ii) 0 iii) 2 iv) 3845

7. Which of the numbers is 160 more than 5125 ?

i) 5645 ii) 5745 iii) 5285 iv) 5145

8.The face value of 2in 9325 is _____

i) 2 ii) 20 iii) 200 iv) 2000

9. 0 divided by 2782 , gives _____

- i) 2782 ii) 1 iii) 0 iv) 7282

10.6923 rounded to the nearest 100 is _____

- i) 6000 ii) 6900 iii) 7000 iv) 6700

11.If 8679 is multiplied by 1 and the product is multiplied by 0 we get.

- i) 8679 ii) 1 iii) 0 iv) 8671

12.Distribute 32 chocolates among 8 children each child gets _____

- i) 4 ii) 5 iii) 6 iv) 7

13.The number by which the multiplicand is multiplied is called _____

- i) Multiplicand ii) Product iii) Multiplier iv) Difference

III. Match the following.

5X1M=5M

Column-A	Column-B
14. Largest 4-digit number	5935 ()
15. $5435 + 500$	3679 ()
16. $650 \div 10$	2694 ()
17. $3698 - 19$	9999 ()
18. Even	65 ()

IV.Compare the following numbers using the correct sign (< , > or =) 4X1/2M=2M

- | | | |
|--------------------|----------------------|------|
| 19. 7025 | <input type="text"/> | 7205 |
| 20. $5395 - 32$ | <input type="text"/> | 5935 |
| 21. 35×86 | <input type="text"/> | 385 |
| 22. $23 + 86$ | <input type="text"/> | 108 |

V. Complete the following.

$$4 \times 1 \text{M} = 4 \text{M}$$

23. 6 thousands + 7 hundreds + 9 tens + 3 Ones = _____

24. How many hundreds make a thousand? _____

25. Write the place value of the underline digit 1308 _____

26. What place is just to the left of the hundreds place? _____

PART -B

VI. Do as directed.

$$9 \times 2 \text{M} = 18 \text{M}$$

27.a) Arrange the numbers in ascending order.

3200, 3020, 3002, 3202

b) Arrange the numbers in descending order.

6428, 4139, 8172, 4193

28. Write the predecessor of the following numbers.

a) 1300 _____

b) 9461 _____

29. Add

a) 4789

+3463

b) 5036

+ 1895

30. Arrange in columns and subtract 3143 from 5368.

31. Multiply: 647

X 32

32. Divide by using repeated subtraction method.

$$28 \div 7$$

33. Write the following expressions in the standard form.

a) $4000 + 200 + 80 + 9 = \underline{\hspace{2cm}}$

b) $9000 + 50 + 3 = \underline{\hspace{2cm}}$

34. Divide $\begin{array}{r} 5 \overline{) 657} \end{array}$

35. The sum of two numbers is 598. If one of the numbers is 347, find the other number.

VII. Answer the following.

6x3M=18M

36. Represent 9045 on an abacus and write its number name.

Number name : _____

37. Find the sum

5 thousands 1 hundreds 5 tens 7 ones and 2 thousands 5 hundreds 2 tens 9 ones

38. Estimate the difference by rounding off the number to the nearest 100's.

$$5214 - 1265$$

39. Arrange and add.

$$4621 + 3121 + 1351$$

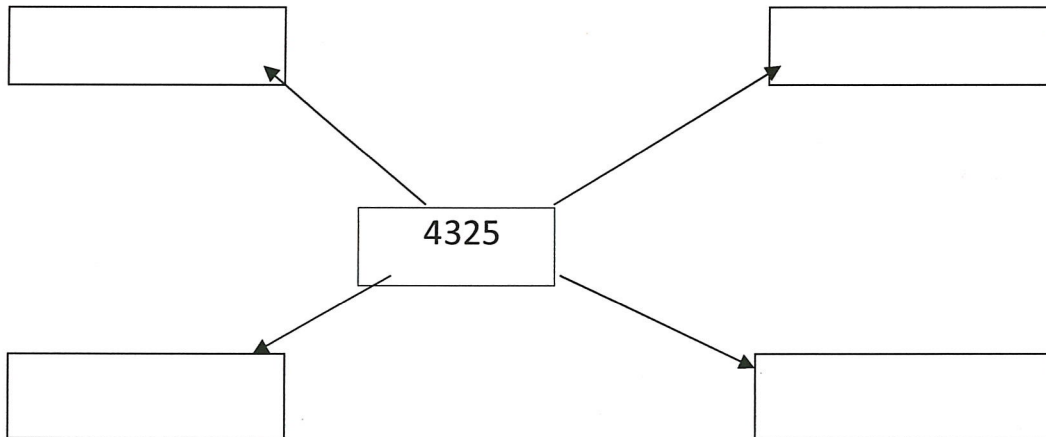
40. Add 3724 to 5173 and then subtract 4029 from total. Find the answer.

41. There are 3 sections in class 3. Each section has 45 students. How many students are there in class 3 altogether?

VIII. Answer the following.

5x4M=20M

42. Write the number given in the centre as the sum of two or three numbers in different ways.



43. Find the product.

a. $35 \times 0 =$ _____

b. $164 \times 1 =$ _____

c. $28 \times 10 =$ _____

d. $13 \times 500 =$ _____

44. Divide and check your answer.

$$9221 \div 6$$

45. There are 3875 balloons in a bag. Deepak added 243 more balloons to it and then gave away 105 balloons to Smita. How many balloons are left in Deepak's bag?

46. 125 toffees are to be distributed equally among 5 children. Find the number of toffees each child will receive.