



Jindal Vidya Mandir, JSW Hill Side Township

Term-I Examination (2024- 25)

Class/Sec: IV/_____

Max. Marks: 80

Sub: Mathematics

Duration: 3 Hours

Name : _____

Roll No. : _____

Date : _____

Set-A

Invigilator's Sign. : _____

General Instructions:

- This question paper is printed on 10 pages and has 57 questions.
- This question paper consists of three sections A, B and C. Section A is objective type and section B and C are subjective type.
- All questions are compulsory.

Section A

A. Choose the correct option.

(10X1M=10M)

1. What is the Roman numeral for 100?

- i. C ii. VICX iii. VXX iv. CXX

2. What is 4000 less than 27000?

- i. 25900 ii. 26800 iii. 23000 iv. 21600

3. $430 \times 2 =$ _____.

- i. 830 ii. 730 iii. 860 iv. 740

4. Four packets contain 92 candies, how many candies are there in each packet?

- i. 24 ii. 23 iii. 22 iv. 21

5. Except 5, all multiples of 5 are _____.

- i. Composite number ii. Prime numbers iii. Co-prime numbers iv. Even numbers

6. $\frac{3}{4} = \frac{\square}{24}$

- i. 18 ii. 3 iii. 4 iv. 20

7. In $\frac{5}{7}$, 7 is the _____

- i. Numerator ii. Denominator iii. Improper fraction iv. None of these

8. Which of the following is the smallest factor of 81?

- i. 3 ii. 9 iii. 6 iv. 1

9. Which of these is a perfect number?

- i. 26 ii. 27 iii. 28 iv. 29

10. Twelve point zero six written in numerals as _____

- i. 12.06 ii. 1.26 iii. 12.60 iv. 120.6

B. Match the following.

(6 X 1M=6M)

S no.	Column A	Column B	Answer
11.	Factors of 9 are	The product remains same even if order is changed.	
12.	Unit fraction	1,3 and 9	
13.	Order property	The fraction in which only one part is selected out of many.	
14.	$\frac{2}{3}$, $\frac{4}{3}$ and $\frac{1}{3}$ are	50764	
15.	50764 – 0	9089	
16.	8947+142	Like fractions	

C. Fill in the blanks.

(7x 1M=7M)

17. $0.671 =$ ____ones ____tenth ____hundredth ____thousandth.

18. The successor of 38231 is _____.

19. Fraction that represents the same part are known as _____.

20. Dividend= Divisor X Quotient + _____.

21. Numbers that have only two factors are called _____.

22. The number you subtract from is called _____.

23. 5 is a _____ of 30.

D. State whether the statements are true or false.

(7x 1M=7M)

24. 2 is the only even prime number. ()

25. The value of proper fraction is always more than 1. ()

26. $3\frac{4}{7}$ and $3 \times \frac{4}{7}$ are same. ()

27. If a number is divisible by 9, it is also divisible by 3. ()

28. The addition of zero to any number, the result is always number itself. ()

29. $(10 \div 100)$ is not equal to $(100 \div 10)$. ()

30. A number has infinite factors. ()

E. Solve the following:

(10x 1M=10M)

31. What is the place value of 5 in 6,75,473?

32. What is XVIII in Hindu-Arabic numerals?

33. What are the first four multiples of 8?

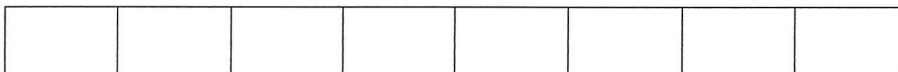
34. Multiply 79×1000 .

35. What are the prime numbers between 10 and 20?

36. Write an equivalent fraction of $\frac{2}{3}$.

37. Convert improper fraction $\frac{13}{3}$ to mixed fraction.

38. Look at diagram and colour $\frac{3}{8}$ of the total part.



39. Convert $\frac{5}{100}$ into decimal form.

40. $250171 + (31271 + 12000) = (\underline{\hspace{2cm}} + 31271) + 12000$

Section B

F. Do as directed:

(11X 2M=22M)

41. Form smallest and the greatest 5-digit number using 7,9,4,6,1 without repetition.

Smallest number _____

Greatest number _____

42. Arrange the numbers in column and add.

i. $56534 + 21654 + 534$

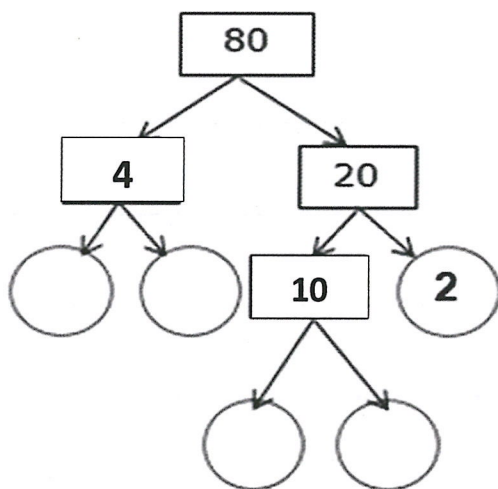
43. Estimate the product to the nearest to 100's.

236 X 56

44. Find the quotient and remainder by long division method and check your answer.

$$666 \div 18$$

45. Complete the factor tree.



46. Check divisibility by 3 and 4. put a tick (✓) for divisible and (X) for not divisible.

Number	Divisible by 3	Divisible by 4
7,06,230		

47. Find:

i. $\frac{8}{12} - \frac{3}{12}$

ii. $\frac{3}{5} + \frac{1}{5}$

48. Find:

i. Two common multiples of 15 and 30.

ii. All the common factors of 36 and 40.

49. There were 57896 people in stadium. 34507 more people joined them. What is the total number of people in the stadium?

50. What number should be added to the number 504825 so that it becomes divisible by 4.

51. My sister is 5 years younger than me. If I am 20-year-old, how old is my sister? Write the answer in Roman numerals.

Section C

G. Solve the following: (6X 3M=18M)

52.The area of some states of India are given below.

S no.	States	Area in Square km
1	Rajasthan	3,42,239
2	Uttar Pradesh	2,43,286
3	Madhya Pradesh	3,08,245
4	Gujarat	1,96,024
5	Maharashtra	3,07,713

i. Arrange the states in descending order according to their areas.

ii. Area of the largest state is _____

iii. Area of the smallest state is _____

53. Radhika collected 24 stamps. If she used 4 out of them, what fraction of the stamp are still with her?

54. In a garden, there are 2198 trees. If they are equally arranged in 14 rows, how many trees are arranged in each row?

55. Alisha counted the matchsticks in a match box and found the number of matchsticks to be 225. What is approximate number of matchsticks in such 15 boxes by rounding off to nearest 10's?

56. Temperatures recorded in some cities as given below.

S no.	States	Temperatures
1	Ahmedabad	27°C
2	Bengaluru	24°C
3	Hyderabad	31°C
4	New Delhi	29°C
5	Dehradun	20°C
6	Srinagar	9°C

i. Are the temperature of Ahmedabad and Bengaluru in multiples of 3?

ii. Is sum of temperatures of Srinagar and Hyderabad a common multiple of 5 and 10?

iii. Among the cities mentioned above, which city would you like to visit and why?

57. Ramesh walks $\frac{7}{13}$ km of the distance and jogs $\frac{3}{13}$ km of the distance in a day. Find how much distance Ramesh travels in a day?



Jindal Vidya Mandir, JSW Hill Side Township

Term- I Examination 2024-25

Set -A

Class IV/Sec:_____

Maximum Marks:80

Subject: EVS

Duration:3 hrs

Student Name: _____

Roll No: _____

Invigilator's Signature:_____

Date : _____

General instructions:

- This question paper is printed in 8 pages and 10 main questions.
 - It consists of two sections A, and B. Section A is the objective type, Section B has questions carrying 2 marks, Section 3 marks, 5 marks (diagrams) and 4 marks case-based questions.
 - All questions are compulsory.
-

SECTION-A

I . Choose the correct option from the following.

10X1=10 M

1 . Stomach in our body produces _____.

- a) nitric acid b) acetic acid c) hydrochloric acid

2 . The _____ describes the point where two bones join.

- a) vertebra b) joint c) muscle

3. _____ is the control centre of our body.

- a) heart b) brain c) finger

4. _____ is a tonic for better digestion.

- a) triphala b) gorakhmundi c) guggul

5. _____ is not a function of a root.

- a) absorption of water b) synthesis of food c) storage of food

6. _____ is an example of a flightless bird.

- a) swan b) stork c) emu

7. A _____ is responsible to look after passengers in the aeroplane.

- a) flight attendant b) pilot c) driver

8. The extended family members are called _____.

- a) paternal granpa b) maternal grandpa c) relatives

9. _____ is a person who watches a game closely and makes sure the rules are not broken.

- a) vocalist b) acrobat c) referee

10. The ability of a living thing to produce more of its kind is called _____.

- a) breathing b) reproduction c) digestion

II. Fill in the blanks:

9X1= 9 M

1. The process in which the parent animal sits on the eggs to keep the egg warm is called _____.

2. A group of people who are related to each other is called a _____.

3. In human _____ teeth grow after the age of 18 years.

4. The colourless and sticky mass of food particles, bacteria and saliva deposited on the teeth is called _____.

5. A _____ weaves clothes on a loom.

6. A _____ is an ability to do a task or a job well.

7. A/An _____ makes design plans for building.

8. A person who entertains people is called a _____.

9. _____ is a form of performance that uses puppets.

III. Write True or False for the given statements.

6X1=6M

1 . Bile juice is secreted by pancreas . _____

2. In humans, the upper jaw moves, while the lower jaw is fixed. _____

3. A substance that can cause an allergy is called an allergen. _____

4 . Family members do not guide or support us . _____

5 . Fair play is not necessary while playing games. _____

6.Hopscotch is an indoor game. _____

IV. Unjumble the words given in the column B , rewrite them in column C and match them with column A

5X1=5M

Column A

Column B

Column C

1) Porcupine	a) oowl	()
2) Sheep	b) ssepin	()
3) Dog	c) scslae	()
4) Lizard	d) llesh	()
5) Snail	e) rfu	()

V. Give an example for each of the following.

5X1=5 M

1. An animal that lays egg : _____

2. A wild plant : _____

3. A sense organ : _____

4. A value you learnt from your family : _____

5. A family occasion that you like : _____

VI. Name the following:

5X1=5M

- 1 .An organ system which provides the framework of bones in human body-_____
2. The main part of shoot - _____
3. A sharp nail on the foot of a bird that it uses while hunting animals - _____
4. An area where animals live naturally - _____
5. A regular job that a person does to earn money - _____

SECTION-B

VII. Answer the following.

5 X2=10 M

1. Differentiate between domestic plants and wild plants. Mention an example for each.

Ans: _____

2. Why did women stay at home in earlier times ? What changes have helped to bring gender equality at work over the years?

Ans: _____

3. How nuclear family is different from a joint family?Name a friend who lives in joint family and who lives in nuclear family.

Ans: _____

4. Differentiate between a good touch and a bad touch. Give one example for each .

Ans: _____

5. How canines differ from molars in their functions ?

Ans: _____

VIII. Answer the following in two to three sentences:

4X3 =12 M

1. What is adoption? Why do people choose to adopt children, and how does it help the children who are adopted?

Ans: _____

- 2) State how animals help each other by listing any three examples.

Ans: _____

3) Differentiate between breathing root and prop roots and give an example for each.

Ans: _____


4) How can you help in saving trees ? Mention any two ways how forests are protected by forest department .

Ans: _____


IX. Draw a neat labelled diagram for the following:

2X5 =10 M

1) Draw a neat labelled diagram of a flower.



2) Draw a neat labelled diagram of the excretory system in humans.



X. Think and answer.

4 X2= 8 M

- 1) Different animals have special coverings on their bodies that help them in various ways. Let's look at three animals and how their body coverings are important for them.
- **Camouflage Chameleons:** Chameleons have skin that can change colour to blend in with their surroundings, helping them hide from predators.
 - **Tigers:** Tigers have thick fur with stripes that help them blend into the tall grass and bushes while they hunt. The fur also keeps them warm in cool weather.
 - **Sea Turtles:** Sea turtles have hard shells that protect them from predators and rough ocean waves. The shell is also waterproof to keep them dry inside.
 - **Penguins:** Penguins have waterproof feathers that keep them warm and dry while swimming in cold water.

i) How does the body covering of the sea turtle help in its survival?

Ans: _____

ii) What type of body covering do penguins have?

Ans: _____

iii) Which animal can change the colour to camouflage with its surrounding?

Ans: _____

iv) Why do you think it's important for animals to adapt their coverings to their environments?

Ans: _____

2) Emma went to the park and got excited to see many birds . One bird had a long, slender beak that it used to reach into flowers for nectar, a parrot trying to a nut , and another was a woodpecker tapping on a tree. She felt sad when her mother told her the pond beside the park is getting polluted, affecting the fish population. This pollution is making it harder for the fish-eating bird to find food.

Questions and Answers:

i) Name a bird that has long and slender beak.

Ans: _____

ii) What do you think the woodpecker was doing with its beak?

Ans: _____

iii) How might the parrot's beak be different from the fish eating birds' beak?

Ans: _____

iv) Why do you feel it is important to clean up the pond ?

Ans: _____



JINDAL VIDYA MANDIR, JSW HILL SIDE TOWNSHIP

Term-I Examination :(2024-25)

Set-A

Class IV/Sec: _____

Subject: Information Technology

Student Name: _____

Invigilator's Signature: _____

Duration: 1 Hr

Max.Marks: 25

Roll No: _____

Date: _____

General Instructions:

❖ This question paper consists of 4 pages with VI main headings.

❖ All questions are compulsory.

I. Fill in the blanks with the help of the given words.

5 X 1=5M

(file explorer, regular , wallpaper, CPU box, sub folder)

1. Computer peripherals are connected to the _____.
2. A _____ polygon has all its sides and angles equal.
3. The background picture of your Desktop is known as the _____.
4. _____ manages your files and folders.
5. A folder within a folder is called _____.

II. State whether the following statements are True or False.

4 X 1=4M

1. Joystick is an example of an output peripheral.
2. The REPEAT command is used to draw closed figures only.
3. The Quick Access folder contains five folders by default
4. You can select the screen saver of your choice from the Screen Saver Setting dialogue box.

III. Choose the correct answer.

5x1=5M

1. The process of converting photographs into digital images is called _____.
a. printing b. scanning c. recording d. programming.
2. The command REPEAT 360 [FD 1 RT 90] will draw a _____.
a. circle b. square c. rectangle d. triangle
3. The view buttons are on the _____ right of the window.
a. bottom b. up c. corner d. side
4. _____ provides options to customize the appearance and functionality of the computer.
a. Customize button b. Desktop button
c. Settings d. Navigation Button.
5. What do you call the image that you see on the computer when it is left idle?
a. Inactive window b. Screen saver
c. Preview d. Navigation button

IV. Match the columns

4 X 1=4M

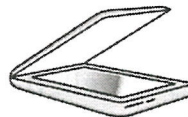
1. Hexagon shape

a.



2. Barcode scanner

b.



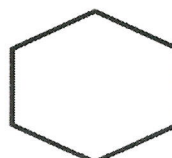
3. Folder

c.



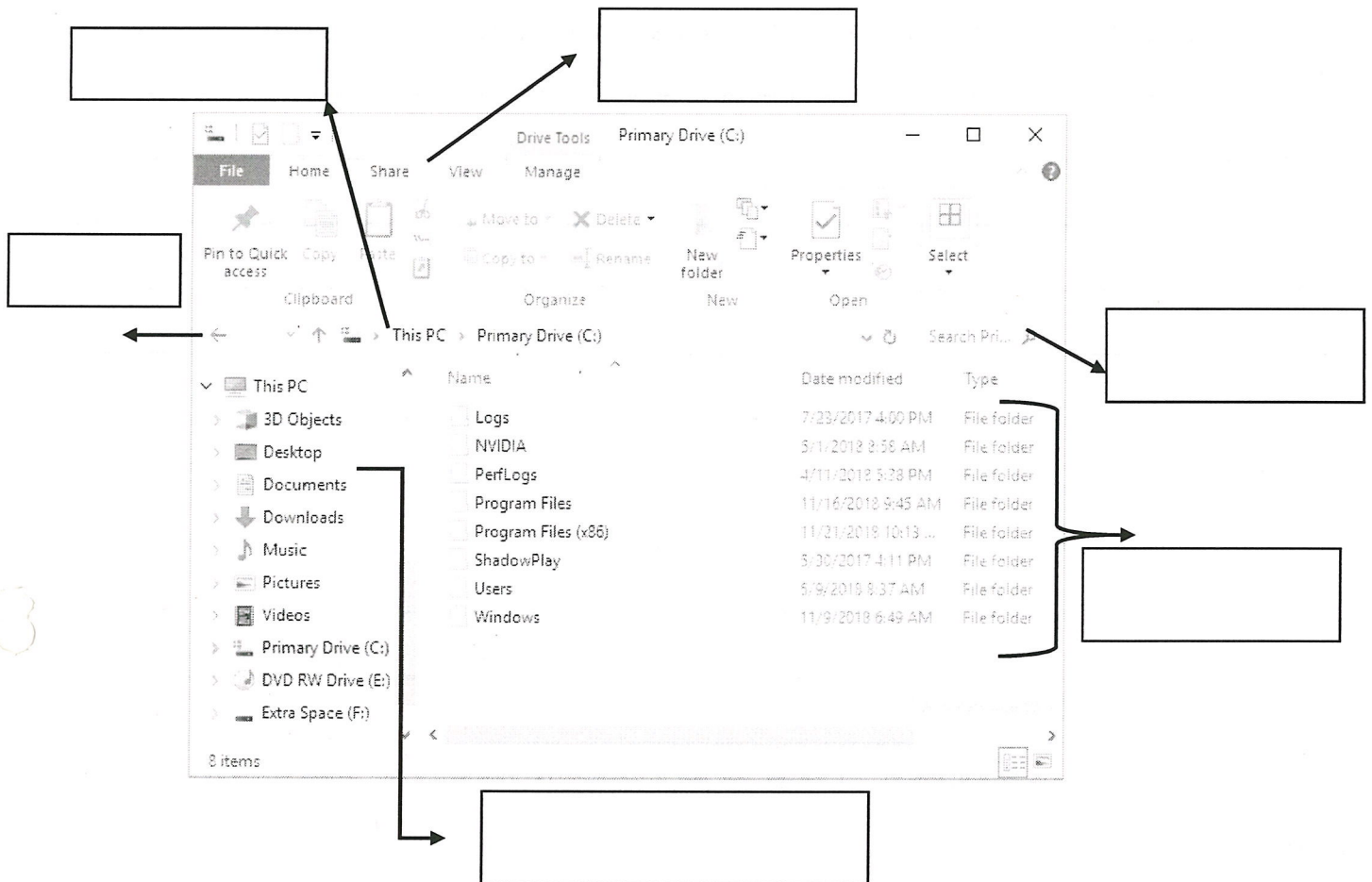
4. Flatbed scanner

d.



V. Label the following diagram

6 X ½ = 3M



VI. Answer these questions (Any two)

2 X 2 = 4M

1. Which tab contains the different view options? List all the available view options.

Ans: _____

2. Differentiate between a wall paper and a screen saver.

Ans: _____

3. Explain the function of nested REPEAT command.

Ans: _____



Jindal Vidya Mandir, JSW Hill Side Township

Term-I Examination (2024-25)

Set-A

Class: - IV/Sec: - _____

Max. Marks: - 25

Subject: - Kannada (III Language)

Duration: - 1Hr

Student Name: - _____

Roll No: - _____

Invigilator's Sign: _____

Date: - _____

General Instruction: -This question paper contains 4 pages and 5 main questions.

I. ಈ ಕೆಳಗೆ ಕೊಟ್ಟಿರುವ ಸುಳಿವಿನ ಸಹಾಯದಿಂದ ಸರಿಯಾದ ಅಕ್ಷರವನ್ನು ಆರಿಸಿ ಪದವನ್ನು ಪೂರ್ಣಗೊಳಿಸಿರಿ.

(Choose the correct letter and complete the word)

5X1=5

i) ತ _____ ಲ

(ಜ, ಬ, ಪ)

ii) ಆ _____

(ಪ, ನ, ಟ)

iii) ನ _____ ನ

(ಮ, ಯ, ರ)

iv) ವ _____

(ಮ, ನ, ಲ)

v) ದ _____ ರ

(ಸ, ದ, ವ)

II. ಈ ಕೆಳಗೆ ಕೊಟ್ಟಿರುವ ವ್ಯಂಜನ ಹಾಗೂ ಸ್ವರ ಸಹಿತ ಉಂಟಾಗುವ ಗುಣಿತಾಕ್ಷರಗಳನ್ನು ಬರೆಯಿರಿ : 5x1=5

(Complete the Gunitakshara given below)

i) ಕ್ + ಅ = _____

ii) ಚ್ + ಆ = _____

iii) ಡ್ + ಎ = _____

iv) ನ್ + ಒ = _____

v) ರ್ + ಔ = _____

III. ಈ ಕೆಳಗಿನ ಪದಗಳಲ್ಲಿ ಸಜಾತೀಯ ಒತ್ತಕ್ಷರ ಪದ ಹಾಗೂ ವಿಜಾತೀಯ ಒತ್ತಕ್ಷರ ಪದಗಳನ್ನು ಗುರುತಿಸಿ, ವಿಂಗಡಿಸಿ ಬರೆಯಿರಿ: (Identify the Sajaati Ottakshara and Vijaati Ottakshara words and sort)

6x1=6



i) ಸಜಾತೀಯ ಒತ್ತಕ್ಷರಗಳು: _____, _____, _____.

ii) ವಿಜಾತೀಯ ಒತ್ತಕ್ಷರಗಳು: _____, _____, _____.

IV. ಈ ಕೆಳಗೆ ಕೊಟ್ಟಿರುವ ಚಿತ್ರಗಳನ್ನು ಗಮನಿಸಿ, ಸೂಕ್ತ ಪದವನ್ನು ಆರಿಸಿ ಬರೆಯಿರಿ.

5x1=5

(Identify the pictures given below, choose the appropriate word and write it.)

ಅಮ್ಮ, ನಗರ, ಗಣಪ, ಅಜ್ಜ, ಉದಯ



i)




ii)



iii)



iv)




v)

v) ಈ ಕೆಳಗೆ ಕೊಟ್ಟಿರುವ ಚಿತ್ರಗಳಿಗೆ ಸರಿಯಾದ ಬಣ್ಣವನ್ನು ತುಂಬಿ, ಬಣ್ಣದ ಹೆಸರನ್ನು ಬರೆಯಿರಿ.


2x2=4

(Colour the pictures and name the colours)

i)



ii)



Jindal Vidya Mandir, JSW Hill Side Township

Term – I Examination (2024-25)

Class : IV /Sec :

Set-A

Max. Marks : 25

Sub : Hindi (III Language)

Duration : 1 hr.

Name : _____

Roll No. : _____

Invigilator's Sign. : _____

Date : _____

General Instructions:

- 1) सभी प्रश्नों को हल करना अनिवार्य है।
- 2) कुल प्रश्न संख्या 6 है।

प्रश्न। दी गई वर्णमाला को पूरा करो ।

5X1=5M

(complete the lines given below)

अ _____ इ _____ उ _____ ऋ

ए _____ ओ _____ अं अः

प _____ म

य _____ व

प्रश्न III चित्र पहचान कर सही वर्ण से मिलान करो ।


4X1=4M

(Identify the picture and match the letters with correct picture.)


1) आ



2) ब



3) क




4) घो





प्रश्न II चित्र पहचान कर शब्द लिखो ।

4X1=4M

(Identify the picture and write the name.)









प्रश्न IV दिए गए अंको को हिंदी अक्षरों में लिखिए।

5X1=5M

(Write in hindi numbers names Of numbers given below.)

1)

41

2)

6

3)

22

4)

36

5)

18

प्रश्न V नीचे दिए गए वर्णों को जोड़कर शब्द बना कर लिखिए।

5X1=5M

(Write words by joining the letters given below.)

1) म + ट + र = _____

2) अ + ट + ल = _____

3) झ + ट + प + ट = _____

4) च + म + न = _____


5) क + स + र = _____

प्रश्न VI दिए गए व्यंजनों को सही क्रम में लिखिए।

2X1=2M

(Write the given consonants in correct order.)

च झ छ ज



Jindal Vidya Mandir, JSW Hill Side Township
Term –I Examination (2024-25)
Set-A

Class: IV/ Sec: _____

Sub: GK

Name: _____

Invigilator's signature: _____.

Max.Marks:25

Duration:1Hr

Roll no: _____

Date: _____

General Instructions:

- This question paper contains 2 pages and 24 questions.
- All the questions are compulsory.

I. Unscramble the letters to find the answers.

5X1=5M

1. The largest gland in the human body _____. (ILREV)
2. The only part of the body that has no blood supply. _____ (OCAREN)
3. Works on the individual shots to turn them into a complete story
_____. (ETIDRO)
4. An adventure sport exercise done with the help of a foot - launched glider
aircraft _____. (ARAP DIGLIGN)
5. Works with actors to bring the story to life on screen _____.
(RDIETCRO)

II. Name the following.

5X1=5M

6. He laid the foundation of the Mauryan empire and his name makes a reference to the moon. _____
7. He supported the expansion of Buddhism and his name meant 'one without sorrow'. _____
8. He was a scholar and had many works on poetry, medicine, science and yoga. His name meant 'a grand feast'. _____
9. She became the first woman in the world to score a double hundred in test cricket. _____.
10. She was the first woman to become the President of India.

III. Match the following.

5X1=5M

Column - A

Column - B

- | | | |
|------------------------|-------------------------|-----|
| 11. Maiden queen | a. Napoleon Bonaparte | () |
| 12. Lady with the lamp | b. Lata Mangeshkar | () |
| 13. Little Corporal | c. Florence Nightingale | () |
| 14. Flying Sikh | d. Queen Elizabeth | () |
| 15. Swar Kokila | e. Milka Singh | () |

IV. State whether the following statements are true or false.

5X1=5M

16. The oldest currency in the world is Britain's Pound Sterling. ()
17. Monorails feature dual rail and are often elevated above ground. ()
18. The underground public transit system in London's is called the Tube. ()
19. Michael Jordan is also known as a US basketball legend. ()
20. Margaret Thatcher is the first Indian woman to win the title of Miss Universe. ()

V. Answer the following questions.

5X1=5M

21. Who invented the vaccines for rabies and anthrax?

22. Who is the father of modern physics?

23. Write the title of the first animated Disney film directed by a woman.

24. Write the difference between the following.

a) Mule and Donkey

1M

b) Alligator and Crocodile

1M



Jindal Vidya Mandir, JSW Hill Side Township
Term –I Examination (2024-25)

Class: IV / Sec: _____

SET-A

Max. Marks: 80

Subject: English

Duration: 3hrs

Student Name: _____

Roll No: _____

Invigilator's Sign: _____

Date: _____

Instructions:

- This question paper contains 8 pages and has 6 questions.
- It is divided into 4 Sections:

Section A - Reading

Section C- Writing

Section B- Grammar

Section D- Literature

SECTION A - Reading

I . Read the following passage and answer the given questions: 7X1=7M

Munnar is a famous hill station in Kerala, the southern most state of India. Munnar is located in the Western Ghats. This beautiful hill station is noted for its cool climate and tea plantation. This little town has many bungalows, tea factories, wildlife sanctuaries and lakes. Munnar literally means 'three rivers'. Munnar is situated on the confluence of three rivers - Madhurapuzha, Nallathanni and Kundaly. This place is 1,600 metres above sea level. This hill station was once the summer resort of the British government in South India. Among the exotic plants found in the forests and grasslands here is the Neelakurinji flower blooms every twelve years. It bathes the hills in blue. Munnar also has the highest peak in South India, Anamudi, which towers over 2,695 metres.

1. Munnar is a _____.

a. river

b. hill station

c. lake

d. climate

2. Munnar literally means _____.

a. three seas

b. three rivers

c. three lakes

d. three hill stations

3. Munnar is 1,600 metre _____ sea level.
a. below b. above d. under c. near
4. This hill station was once the _____ of the British government in South India.
a. winter resort b. summer resort c. autumn resort d. rainy resort
5. _____ is the highest peak in South India.
a. Anamudi b. Munnar c. Kerala d. TamilNadu
6. What is Munnar famous for?

7. Which are the three rivers on the confluence of which Munnar is situated?

II. Read the following poem and answer the following questions given below:

The moon is a sphere big and white.
It loves to reflect the sun's bright light.
It goes on a journey every 28 th day
Around the Earth, hide and seek game it will play.
In the beginning it is new
out of site from me and you
Then it waxes in white
As it goes in its right
Waxing crescent and quarter, then gibbous too
When full the phrases are half way through!
Now it flips to the left and starts to wane
As it fades away in its orbit lane.
Waning gibbous and quarters then crescent too
It's completed its orbit and back to new!

6X1=6M

1. The above poem is about
a. sun and its uses b. moon and its different shapes
c. beautiful flowers d. pollution
2. According to the poem, the moon reflects
a. the bright light of the sun b. the light of the planets
c. the light of the Earth d. the light of torch

SECTION B – WRITING

IVA. Write a letter to your friend congratulating him for his excellent result.

Hint: Include his/ her specific hard work and achievement. 5X1=5M

This image shows a single sheet of white paper with horizontal ruling lines. The lines are evenly spaced and run across the width of the page. There are no margins, text, or other markings on the paper.

B. You went to a national park for Nature Study, where you saw peers throwing stones at the animals. You immediately complained to the authorities. Write a diary entry in 80 – 100 words. **5X**

5X1=5M

C. Write a Paragraph on "A Day in summer without Electricity" 5X1=5M

SECTION C - GRAMMAR

VA. Fill in the blanks with correct plural form of the nouns given in the brackets:

4X1=4M

- a. I show my _____ (tooth) to a dentist regularly.
- b. All the _____ (sheep) were in the pen.
- c. Her _____ (child) love jam biscuits.
- d. Most of the _____ (leaf) fell from the trees.

B. Complete the sentences by choosing the correct abstract nouns form the box: **4X1=4M**

kindness curious freedom childhood respect
--

- a. Jane is very _____ about the result.
- b. _____ in behaviour is always my priority.
- c. We snatched our _____ from the British rules.
- d. Children must be allowed to enjoy their _____.

C. Rewrite these sentences by using the correct form of the adjectives:

- a. This is the busy street in the city. **2X1=2M**

- b. A gentlest breeze was blowing this morning.

D. Fill in the blanks with the simple past tense forms of the verbs given in brackets: **3X1=3M**

- a. Our school cricket team _____ (win) the match.
- b. Monali _____ (fall) on the stairs and injured her right foot.
- c. The child's mother _____ (buy) her several picture books.

E. Complete these sentences by writing the correct adjective form of the noun/verb in brackets: **4X1=4M**

- a. The _____ (fear) knight fought with the dragon.
- b. It is a _____ (fool) decision to discontinue studies.
- c. My aunt is a very _____ (act) person.
- d. Very few places are quite and _____ (peace) in big cities.

F. Fill in the blanks with the present continuous form of the verbs in brackets: **3X1=3M**

- a. Daniel _____ (bring) some fruits for us.
- b. They _____ (have) lunch now.
- c. We _____ (travel) to Malaysia on Sunday.

Section D -Literature

VIA. Answer the following in 2-3 sentences:

6X2=12

- a. How did the colt spend the day with his mother?

- b. How did Alice meet Humpty Dumpty?

- c. Where did the dragon go?

- d. When and where was Helen born?

- e. What do you learn about Stevie from the story?

- f. When do children go to school in Topsy-turvy Land? When do you think they sleep?

B. Read the given extract from the poem and answer the following questions.

4X1=4M

You're a nuisance, I declare;
You tease me so, it isn't fair;
You pounce on me from everywhere,
And seize my hat, and clutch my hair,
And tie my clothes in knots, and tear
The leaves and blossoms from the pear.

a. Name the poem and the poet.

b. What do you mean by "clutch"?

c. Pick and write any 1 rhyming word from the poem _____

C. Answer the following in 15 to 20 words:

3X3=9M

1. How does the poet describe Sootikin?

2. How did Miss Sullivan help Helen ?

3. What happened to the valley when the dragon sneezed?



Jindal Vidya Mandir, JSW Hill Side Township
Term-I Examination (2024-25)

Set- A

Class: IV/Sec_____

Max. Marks: 80

Subject: Kannada(II Language)

Duration: 3Hrs

Student Name: _____

Roll No. _____

Invigilator's Sign: _____

ಸೂಚನೆಗಳು:

- ಈ ಪ್ರಶ್ನೆ ಪತ್ರಿಕೆಯು A ಮತ್ತು B ಎಂಬ ಎರಡು ಭಾಗಗಳನ್ನು ಒಳಗೊಂಡಿರುತ್ತದೆ.
- ಈ ಪ್ರಶ್ನೆ ಪತ್ರಿಕೆಯಲ್ಲಿ ಒಟ್ಟು 15 ಮುಖ್ಯ ಪ್ರಶ್ನೆಗಳು ಮತ್ತು 12 ಪುಟಗಳು ಇರುತ್ತವೆ.
- ಪ್ರತಿಯೊಂದು ಸೂಚನೆಗಳನ್ನು ಸರಿಯಾಗಿ ಓದಿಕೊಂಡು ಉತ್ತರಿಸಿರಿ.

ಭಾಗ- A (40 ಅಂಕಗಳು)	(ವಾಚನ ಮತ್ತು ಗ್ರಹಿಕಾ ಕೌಶಲ್ಯ)	20 ಅಂಕಗಳು
	(ಅನ್ವಯಿಕ ವ್ಯಾಕರಣ)	15 ಅಂಕಗಳು
	(ಬಹುಅಯ್ಕೆ ಪ್ರಶ್ನೆ-ಪಠ್ಯಗಳ ಅಧ್ಯಯನ)	5 ಅಂಕಗಳು
ಭಾಗ- B (40 ಅಂಕಗಳು)	ಬರವಣಿಗೆ ಕೌಶಲ್ಯ	12 ಅಂಕಗಳು
	ಪಠ್ಯಗಳ ಅಧ್ಯಯನ	28 ಅಂಕಗಳು
	ಒಟ್ಟು ಅಂಕಗಳು	80 ಅಂಕಗಳು

ಭಾಗ -A (40 ಅಂಕಗಳು) -(ವಾಚನ ಮತ್ತು ಗ್ರಹಿಕಾ ಕೌಶಲ್ಯ)- 20 ಅಂಕಗಳು

I. ಈ ಕೆಳಗೆ ಕೊಟ್ಟಿರುವ ಪಠ್ಯೇತರ ಗದ್ಯಭಾಗವನ್ನು ಓದಿ, ಕೊಟ್ಟಿರುವ ಬಹುಅಯ್ಕೆ ಪ್ರಶ್ನೆಗಳಿಗೆ ಉತ್ತರಿಸಿರಿ: 5x1=5
ನಮ್ಮ ರಾಷ್ಟ್ರಪಕ್ಷಿ ನವಿಲು. ನವಿಲನ್ನು ಮಯೂರ, ಶಿಖಿ, ಸಹಸ್ರಾಕ್ಷ ಎಂದು ಕರೆಯುತ್ತಾರೆ. ಕವಿಗಳು ಅದರ ರೂಪ ಲಾವಣ್ಯಕ್ಕೆ ಮನಸೋತಿದ್ದಾರೆ. ಅನೇಕರು ಕವಿತೆ ರಚಿಸಿದ್ದಾರೆ.ಇದು ಸೌಂದರ್ಯದ ಸಂಕೇತ. ಆದ ಕಾರಣವೇ ಇದು ರಾಷ್ಟ್ರಪಕ್ಷಿ ಎಂಬ ಗೌರವ ಹೊಂದಿದೆ.ಇದನ್ನು ಹಿಂಸಿಸುವುದು, ಕೊಲ್ಲುವುದು ಅಪರಾಧವಾಗಿದೆ. ನವಿಲು ಷಣ್ಮುಖನ ವಾಹನ. ನವಿಲಿನ ಗರಿ ಮುರಳಿ ಜುಟ್ಟಿನ ಅಲಂಕಾರವು ಹೌದು. ನವಿಲಿನ ನೃತ್ಯ ಕಂಡ ಕಲಾವಿದರು, ನಾಟ್ಯ ಮಯೂರ ಎಂಬ ಕಲಾಪ್ರಕಾರವನ್ನೇ ಸೃಷ್ಟಿಸಿದ್ದಾರೆ. ಭಾರತ ಮತ್ತು ಶ್ರೀಲಂಕಾ ದೇಶಗಳಲ್ಲಿ ನವಿಲಿನ ಬಣ್ಣ ನೀಲಿ ಛಾಯೆ, ಜಾವ ಮತ್ತು ಮಯನ್ಮಾರ ದೇಶಗಳಲ್ಲಿ ಹಸಿರು ಛಾಯೆ ಹೊಂದಿರುತ್ತದೆ. ಇವು ೧೫ ವರ್ಷ ಜೀವಿಸಬಲ್ಲವು. ನವಿಲು ಇರುವ ಪ್ರದೇಶದಲ್ಲಿ ಹಾವುಗಳು ಸುಳಿಯಲಾರವು. ನವಿಲನ್ನು ಶಿಸ್ತಿನ ಸಿಪಾಯಿ ಮತ್ತು ರೈತನ ಮಿತ್ರ ಎಂದು ಕರೆಯುತ್ತಾರೆ.

ಪ್ರಶ್ನೆಗಳು:-

1) ಇವುಗಳಲ್ಲಿ ಯಾವುದು ನವಿಲಿಗೆ ಕರೆಯುವ ಹೆಸರು ಅಲ್ಲ_____

(i) ಮಯೂರ (ii) ಶಿಖಿ (iii) ಸಹಸ್ರಾಕ್ಷ (iv) ರೈತದ್ರೋಹಿ

2) ನವಿಲು _____ ಸಂಕೇತವಾಗಿದೆ.

(i) ಶಿಸ್ತಿನ (ii) ಸೈನ್ಯದ (iii) ಸೌಂದರ್ಯದ (iv) ರಕ್ಷಣೆಯ

3) ನವಿಲು _____ ವಾಹನ.

(i) ಶಿವನ (ii) ಪಾರ್ವತಿಯ (iii) ವಿಷ್ಣುವಿನ (iv) ಷಣ್ಮುಖನ

4) ನವಿಲಿನ ನೃತ್ಯ ಕಂಡ ಕಲಾವಿದರು _____ ಎಂಬ ಕಲಾಪ್ರಕಾರವನ್ನು ಸೃಷ್ಟಿಸಿದ್ದಾರೆ.

(i) ಯಕ್ಷಗಾನ (ii) ಶಿವತಾಂಡವ (iii) ನಾಟ್ಯ ಮಯೂರ (iv) ಭರತನಾಟ್ಯ

5) ನವಿಲು ಇರುವ ಪ್ರದೇಶದಲ್ಲಿ _____ ಸುಳಿಯಲಾರವು.

(i) ಮಾನವರು (ii) ಪ್ರಾಣಿಗಳು (iii) ಹಾವುಗಳು (iv) ಮಕ್ಕಳು

II. ಈ ಕೆಳಗೆ ಕೊಟ್ಟಿರುವ ಪರ್ಯಾಯ ಪದಗಳನ್ನು ಓದಿ, ಕೊಟ್ಟಿರುವ ಬಹುಆಯ್ಕೆ ಪ್ರಶ್ನೆಗಳಿಗೆ ಉತ್ತರಿಸಿರಿ: 5x1=5

ನಮ್ಮ ದೇಶ ಭಾರತ. ನಾವು ಭಾರತೀಯರು. ಇದೊಂದು ಉಪಖಂಡವು ಹೌದು. ಈ ದೇಶವನ್ನು ಭರತಖಂಡ, ಇಂಡಿಯಾ, ಹಿಂದೂಸ್ಥಾನ ಎಂದು ಕರೆಯುವರು. ನಮ್ಮ ದೇಶದ ವಿಸ್ತಾರ ೩೩ ಲಕ್ಷ ಚದರ ಕಿಲೋ ಮೀಟರ್. ಇದು ಕಾಶ್ಮೀರದಿಂದ ಕನ್ಯಾಕುಮಾರಿ, ಪಂಜಾಬ್‌ದಿಂದ ಮಣಿಪುರದವರೆಗೂ ಹಬ್ಬಿದೆ. ಇಲ್ಲಿಯ ಜನರು ವಿಶಾಲ ಮನೋಭಾವದವರು. ಶಾಂತಿಪ್ರಿಯರು, ಜಾತಿ-ಮತ-ಧರ್ಮ ಮೀರಿದವರು. 'ಜನಗಣಮನ' ಇದು ನಮ್ಮ ರಾಷ್ಟ್ರಗೀತೆ ಇದನ್ನು ಬರೆದವರು ರವೀಂದ್ರನಾಥ ಟಾಗೋರ್. 'ವಂದೇ ಮಾತರಂ' ನಮ್ಮ ದೇಶಭಕ್ತಿ ಗೀತೆ ಇದನ್ನು ಬರೆದವರು ಬಂಕಿಮಚಂದ್ರ ಚಟರ್ಜಿ. ನಮ್ಮ ದೇಶದ ಬಾವುಟ ಮೂರು ಬಣ್ಣಗಳಿಂದ ಕೂಡಿದೆ. ಕೇಸರಿ ತ್ಯಾಗದ ಸಂಕೇತ, ಬಿಳಿ ಶಾಂತಿಯ ಪ್ರತೀಕ ಮತ್ತು ಹಸಿರು ಸಮೃದ್ಧಿಯ ಸೂಚಕ ನಡುವೆ ಇರುವ ನೀಲಿ ಬಣ್ಣದ ಧರ್ಮಚಕ್ರ ಪ್ರಗತಿಯ ಸಂಕೇತ.

ಪ್ರಶ್ನೆಗಳು:-

1) ನಮ್ಮ ದೇಶ _____

(i) ಬರತ (ii) ಭಾರತ (iii) ಬಾರಥ (iv) ಭಾರತ್ತ

2) ನಮ್ಮ ದೇಶದ ವಿಸ್ತಾರ _____

(i) ೩೩ಅಡಿ (ii) ೩೩ ಮೊಳ (iii) ೩೩ ಅಗಲ (iv) ೩೩ ಲಕ್ಷ ಚದರ ಕಿಲೋಮೀಟರ್

3) ರವೀಂದ್ರನಾಥ ಟಾಗೋರ್ _____ ಬರೆದಿದ್ದಾರೆ

(i) ರಾಷ್ಟ್ರಗೀತೆ (ii) ಜಾನಪದ (iii) ಭಾವಗೀತೆ (iv) ನಾಡಗೀತೆ

4) ವಂದೇ ಮಾತರಂ ಗೀತೆ ಬರೆದವರು _____

(i) ಕುವೆಂಪು (ii) ತೇಜಸ್ವಿ (iii) ಬಂಕಿಮಚಂದ್ರ ಚಟರ್ಜಿ (iv) ಬೇಂದ್ರೆ

5) ನೀಲಿ ಬಣ್ಣದ ಧರ್ಮಚಕ್ರ _____ ಸಂಕೇತ.

(i) ತ್ಯಾಗದ (ii) ಶಾಂತಿಯ (iii) ಸಮೃದ್ಧಿ (iv) ಪ್ರಗತಿಯ

III. ಈ ಕೆಳಗೆ ಕೊಟ್ಟಿರುವ 'ವೀರಮಾತೆ ಜೀಜಾಬಾಯಿ' ಪಠ್ಯದಲ್ಲಿನ ಪರಿಚಿತ ಗದ್ಯಭಾಗವನ್ನು ಓದಿಕೊಂಡು,

ಕೊಟ್ಟಿರುವ ಪ್ರಶ್ನೆಗಳಿಗೆ ಉತ್ತರಿಸಿರಿ:

5x1=5

ಜೀಜಾಬಾಯಿ ಕ್ರಿ.ಶ. ೧೫೯೪ ರಲ್ಲಿ ಲಖೋಜಿ ಜಾಧವರಾವ್ ಅವರ ಮಗಳಾಗಿ ಜನಿಸಿದರು. ಕ್ರಿ.ಶ. ೧೬೦೩ ರಲ್ಲಿ ಷಹಾಜಿಯನ್ನು ವಿವಾಹವಾದಳು. ಕ್ರಿ.ಶ. ೧೬೨೭ ರಲ್ಲಿ ಶಿವನೇರಿ ದುರ್ಗದಲ್ಲಿ ಈ ದಂಪತಿಗಳ ಮಗನಾಗಿ ಶಿವಾಜಿಯು ಜನಿಸಿದನು. ಷಹಾಜಿಯು ಮಗ ಶಿವಾಜಿಯನ್ನು ಗುರುವಾದ ದಾದಾಜಿಕೊಂಡದೇವನಲ್ಲಿ ವಿದ್ಯಾಭ್ಯಾಸಕ್ಕಾಗಿ ಕಳುಹಿಸಿದನು.

ದಾದಾಜಿಕೊಂಡದೇವನು ಶಿವಾಜಿಗೆ ಕತ್ತಿವರಸೆ, ಕುದುರೆ ಸವಾರಿ, ಮುಂತಾದ ಯುದ್ಧಕಲೆಗಳನ್ನು ಕಲಿಸಿದನು. ಜೀಜಾಬಾಯಿಯು ಶಿವಾಜಿಗೆ ಪ್ರತಿನಿತ್ಯ ರಾಮಾಯಣ- ಮಹಾಭಾರತ ಮುಂತಾದ ಪುರಾಣ ಪುಣ್ಯ ಕಥೆಗಳನ್ನು ಹೇಳುತ್ತಿದ್ದಳು. ನ್ಯಾಯ-ನೀತಿ, ಸ್ತ್ರೀಯರಲ್ಲಿ ಗೌರವ, ಕಷ್ಟಸಹಿಷ್ಣುತೆ, ಇತ್ಯಾದಿ ಗುಣಗಳನ್ನು ಚಿಕ್ಕಂದಿನಲ್ಲೇ ಮಗನಲ್ಲಿ ಬೆಳೆಸಿದಳು.

ಪ್ರಶ್ನೆಗಳು:-

1) ಜೀಜಾಬಾಯಿಯ ತಂದೆಯ ಹೆಸರೇನು?

2) ಶಿವಾಜಿಯು ಯಾವಾಗ ಮತ್ತು ಎಲ್ಲಿ ಜನಿಸಿದನು?

3) ಶಿವಾಜಿಯ ಗುರುವಿನ ಹೆಸರೇನು?

4) ಶಿವಾಜಿಯು ಯಾವ-ಯಾವ ಯುದ್ಧಕಲೆಗಳನ್ನು ಕಲಿತಿದ್ದನು?

5) ಜೀಜಾಬಾಯಿಯು ಶಿವಾಜಿಗೆ ಪ್ರತಿನಿತ್ಯ ಯಾವ-ಯಾವ ಕಥೆಗಳನ್ನು ಹೇಳುತ್ತಿದ್ದಳು?

IV. ಈ ಕೆಳಗೆ ಕೊಟ್ಟಿರುವ 'ಮಳೆ' ಪಠ್ಯದಲ್ಲಿನ ಪರಿಚಿತ ಪದ್ಯಭಾಗವನ್ನು ಓದಿಕೊಂಡು, ಕೊಟ್ಟಿರುವ ಬಹುಆಯ್ಕೆ

ಪ್ರಶ್ನೆಗಳಿಗೆ ಉತ್ತರಿಸಿ:

5x1=5

ಬಿಸಿಲ ಝಳಕೆ ಕಡಲ ನೀರು
ಆವಿಯಾಯಿತು|
ಆವಿಯಾಗಿ ನೆಲದ ಕಡೆಗೆ
ಬೀಸಿ ಬಂದಿತು.
ನೆಲದ ಮೇಲೆ ಗುಡ್ಡಬೆಟ್ಟ
ಅಡ್ಡವಾಯಿತು|
ತಡೆದು ನಿಂತ ಮೋಡವೆಲ್ಲ
ಮೇಲಕೇರಿತು|

ಘಳಿಗೆಯೊಳಗೆ ಬಾನು ತುಂಬ
ಮೋಡ ಕವಿಯಿತು|
ಮಿಂಚು ಮಿಂಚಿ ಜಗವು ಬೆಳಗಿ
ಗುಡುಗು ಗುಡುಗಿತು.
ಮೋಡ ಮೇಲಕೇರಿದಾಗ
ತಂಪು ತಗುಲಿತು
ಆವಿ ತಣೆದು ಭಾರವಾಗಿ
ಕುಸಿಯತೊಡಗಿತು|

ಪ್ರಶ್ನೆಗಳು:-

1) ಬಿಸಿಲ ಝಳಕೆ ನೀರು ಏನಾಯಿತು?

2) ಮೋಡ ಯಾವಾಗ ಭಾರವಾಯಿತು?

3) ನೀರು ಆವಿಯಾಗಿ ಯಾವ ಕಡೆಗೆ ಬೀಸಿ ಬಂದಿತು?

4) ಘಳಿಗೆಯೊಳಗೆ ಬಾನು ತುಂಬ ಏನು ಕವಿತು?

5) ಮೋಡ ಮೇಲಕೇರಿದಾಗ ಏನು ತಗುಲಿತು?

(ಅನ್ವಯಿಕ ವ್ಯಾಕರಣ) - 15 ಅಂಕಗಳು

V. ಈ ಕೆಳಗೆ ಕೊಟ್ಟಿರುವ ಪ್ರತಿಯೊಂದು ಪ್ರಶ್ನೆಗಳಿಗೆ ನಾಲ್ಕು ಉತ್ತರವನ್ನು ಕೊಡಲಾಗಿದೆ. ಅವುಗಳಲ್ಲಿ ಸರಿಯಾದ ಪದವನ್ನು ಆರಿಸಿ ಬರೆಯಿರಿ.

10x1=10

1. 'ಅಯ್ಯೋ' ಎಂಬ ಪದ _____ ಸಂಯುಕ್ತಾಕ್ಷರವಾಗಿದೆ.

(i) ಸಜಾತಿ (ii) ವಿಜಾತಿ (iii) ವರ್ಣಮಾಲೆ (iv) ಸ್ವರ

2. 'ಕಟ್ಟಿಗೆಗಳು' ಈ ಪದವನ್ನು ಬಿಡಿಸಿ ಬರೆದಾಗ _____

(i) ಕಟ್ಟಿಗೆಗಳು+ಗಳು (ii) ಕಟ್ಟಿಗೆ +ಗಳು (iii) ಕಟ್ಟಿ +ಗಳು (iv) ಗಳು+ಕಟ್ಟಿಗೆ

3. ಇವುಗಳಲ್ಲಿ ವ್ಯಾಕರಣ ಶುದ್ಧ ಪದ _____

(i) ಆಲು (ii) ಹಪ್ಪುಗೆ (iii) ಹಯ್ಯೋ (iv) ಹೋರಾಡು

4. 'ಯುದ್ಧ' ಪದದ ಸಮಾನಾರ್ಥಕ ಪದ _____

(i) ಸಾಗರ (ii) ಸಮುದ್ರ (iii) ಸಮರ (iv) ದೊರೆ

5. 'ಪ್ರಣಾಮ' ಪದದ ಅರ್ಥ _____

(i) ನಮ್ರತೆ (ii) ವಿನಯ (iii) ಪಣ (iv) ನಮಸ್ಕಾರ

6. ತೆಂಗು, ಅಡಿಕೆ, ಬಾಳೆ, ಭತ್ತ. (ಗುಂಪಿಗೆ ಸೇರದ ಪದ) _____

(i) ತೆಂಗು (ii) ಅಡಿಕೆ (iii) ಬಾಳೆ (iv) ಭತ್ತ

7. ವರ್ಗೀಯ ವ್ಯಂಜನಾಕ್ಷರಗಳಲ್ಲಿ _____ ವಿಧಗಳಿವೆ.

(i) 1 (ii) 3 (iii) 5 (iv) 7

8. 'ದಮ್ಮಯ್ಯ' ಈ ಪದಕ್ಕೆ ಸರಿಹೊಂದುವ ಪ್ರಾಸಪದ _____

(i) ಮಾಡಿದರಂತೆ (ii) ಚಿನ್ನಾ (iii) ಕಂದಯ್ಯ (iv) ಬಾಳ್ಗೆ

9. 'ಹಗಲು' ಈ ಪದದ ವಿರುದ್ಧ ಪದ _____

- (i) ರಾತ್ರಿ (ii) ಬೆಳಗ್ಗೆ (iii) ಮುಂಜಾನೆ (iv) ಅರುಣ

10. 'ತಂದೆ' ಈ ಪದದ ಸ್ತ್ರೀಲಿಂಗ ರೂಪ _____

- (i) ಅಪ್ಪ (ii) ತಾಯಿ (iii) ತೀರ್ಥರೂಪ (iv) ತೀರ್ಥರೂಪ ಸಮಾನರಾದ

VI. ಈ ಕೆಳಗೆ ಕೊಟ್ಟಿರುವ ಪ್ರತಿಯೊಂದು ಪ್ರಶ್ನೆಗಳಿಗೆ ನಾಲ್ಕು ಉತ್ತರವನ್ನು ಕೊಡಲಾಗಿದೆ. ಅವುಗಳಲ್ಲಿ ಸರಿಯಾದ ಪದವನ್ನು ಆರಿಸಿ ಬರೆಯಿರಿ.

5x1=5

1. 'ಹೆಚ್ಚಾವು' ಈ ಪದದ ಗ್ರಾಂಥಿಕ ರೂಪ _____

- (i) ಹೆಚ್ಚಿದೆ (ii) ಹಚ್ಚಿದೆ (iii) ಹಂಚಿದೆ (iv) ಹೆಚ್ಚಾದವು

2. 'ಮರ' ಈ ಪದದ ಬಹುವಚನ ರೂಪ _____

- (i) ಮರವು (ii) ಮರಗಳು (iii) ಮರರು (iv) ಮರರಿಂದ

3. ಕೈ ಕೆಸರಾದರೆ _____ (ಗಾದೆ ಮಾತು ಪೂರ್ಣಗೊಳಿಸಿ)

- (i) ಬಾಯಿಗೆ ತುಪ್ಪ (ii) ಬಾಯಿಗೆ ಗಂಜಿ (iii) ಬಾಯಿಗೆ ಅನ್ನ (iv) ಬಾಯಿ ಮೊಸರು

4. 'ನೋಡು+ಅಂತೆ' ಈ ಪದವನ್ನು ಕೂಡಿಸಿ ಬರೆದಾಗ _____

- (i) ನೋಡುವಂತೆ (ii) ನಾಡುಅಂತೆ (iii) ನಾಡುಅಂತೆ (iv) ನಡಿಅಂತೆ

5. ಗೂಬೆ ಕೂಗುವುದು ಕೇಳಿದ್ದೀರಾ ? (ಈ ವಾಕ್ಯದಲ್ಲಿರುವ ಲೇಖನ ಚಿಹ್ನೆ) _____

- (i) ಭಾವಸೂಚಕ (ii) ಪ್ರಶ್ನಾರ್ಥಕ (iii) ಪೂರ್ಣವಿರಾಮ (iv) ಅಲ್ಪವಿರಾಮ

VII. ಈ ಕೆಳಗೆ ಕೊಟ್ಟಿರುವ ಬಿಟ್ಟು ಸ್ಥಳದಲ್ಲಿ ಸರಿಯಾದ ಪದವನ್ನು ಆರಿಸಿ ಬರೆಯಿರಿ.

5x1=5

1. ರಾಗಿ _____ ಉದುರುತ್ತದೆ.

- (i) ಬುಳುಬುಳುನೆ (ii) ಜಳಜಳನೆ (iii) ಜಲ್ಲಜಲ್ಲನೆ (iv) ಸರಸರನೆ

2. ಸಿಂಹದ _____ ನಮ್ಮ ಗಮನ ಸೆಳೆಯಿತು.

- (i) ದೇಹ (ii) ನಡೆದಾಡುವ ಶೈಲಿ (iii) ಘರ್ಜನೆ (iv) ಜಗಳ

3. ಕನ್ನಡಕೆ ಹೋರಾಡು ಕನ್ನಡದ _____

- (i) ವೀರ (ii) ಶೂರ (iii) ಧೀರ (iv) ಕಂದಾ

4. ಅಜ್ಜಿ ಎಲ್ಲರಿಗೂ _____ಹಂಚಿದರು.

- (i) ಪ್ರಸಾದ (ii) ಊಟ (iii) ಹೂವು (iv) ಗೋಡಂಬಿ

5. ಮೊಲೆಯ ಹಾಲೆಂತಂತೆ _____ಬಾಯ್ಗೆ.

- (i) ಹೆಜ್ಜೆನು (ii) ಸವಿಜೇನು (iii) ಕಿರುಜೇನು (iv) ಹಾಲ್ಜೇನು

ಭಾಗ- B (40 ಅಂಕಗಳು)

(ಬರವಣಿಗೆ ಕೌಶಲ್ಯ)- 12 ಅಂಕಗಳು

VIII. 1) ನೀವು ನವೋದಯ ಪರೀಕ್ಷೆಗೆ ಹಾಜರಾಗಲು ೪ ದಿನ ರಜೆ ಕೋರಿ, ನಿಮ್ಮ ಶಾಲೆಯ ಮುಖ್ಯಗುರುಗಳಿಗೆ ಒಂದು ಪತ್ರ ಬರೆಯಿರಿ.

ಅಥವಾ

1x4=4

ಅನಾರೋಗ್ಯದ ಕಾರಣ ನೀಡಿ ೨ ದಿನಗಳ ಕಾಲ ರಜೆ ಕೋರಿ, ನಿಮ್ಮ ತರಗತಿ ಶಿಕ್ಷಕರಿಗೆ ಒಂದು ಪತ್ರ ಬರೆಯಿರಿ.

IX. ಈ ಕೆಳಗೆ ಕೊಟ್ಟಿರುವ ಚಿತ್ರವನ್ನು ಗಮನಿಸಿ, ೫-೬ ವಾಕ್ಯಗಳನ್ನು ಬರೆಯಿರಿ:

1x4=4



X. ಈ ಕೆಳಗೆ ಕೊಟ್ಟಿರುವ ಯಾವುದಾದರೂ ಒಂದು ವಿಷಯವನ್ನು ಕುರಿತು ಪ್ರಬಂಧ ಬರೆಯಿರಿ.

1x4=4

1. ರೈತ

2 . ಜಲ ಸಂರಕ್ಷಣೆ

3. ಮೈಸೂರಿನ ದಸರಾ

(ಪಠ್ಯಗಳ ಅಧ್ಯಯನ)- (28 ಅಂಕಗಳು)

XI. ಈ ಕೆಳಗೆ ಕೊಟ್ಟಿರುವ ಪ್ರಶ್ನೆಗಳಿಗೆ 2-3 ವಾಕ್ಯಗಳಲ್ಲಿ ಉತ್ತರಿಸಿರಿ.

4x2=8

1. ಪ್ರಾಣಿ ಸಂಗ್ರಹಾಲಯದಲ್ಲಿ ಯಾವ ಯಾವ ಪ್ರಾಣಿಗಳು ಇದ್ದವು?

ಉ: _____

☐ 2. ಕಲ್ಲು ಕೊಟ್ಟಮ್ಮನನ್ನು ಏನೆಂದು ಹರಸುವಳು?

ಉ: _____

3. ಎರೆಗೊಬ್ಬರವನ್ನು ಯಾವುದರಿಂದ ತಯಾರಿಸುತ್ತಾರೆ? ಮತ್ತು ತೋಟದಲ್ಲಿ ಹೆಚ್ಚಾಗಿ ಯಾವ ಗೊಬ್ಬರ ಬಳಸುತ್ತಿದ್ದರು?

ಉ: _____

☐ 4. ಇಂಗು ಗುಂಡಿಯ ಪ್ರಯೋಜನಗಳೇನು?

ಉ: _____

XII. ಈ ಕೆಳಗೆ ಕೊಟ್ಟಿರುವ ಪ್ರಶ್ನೆಗಳಿಗೆ 4-5 ವಾಕ್ಯಗಳಲ್ಲಿ ಉತ್ತರಿಸಿರಿ.

2x3=6

1. ವಿದ್ಯಾಸಾಗರನು ಕೃಷ್ಣದೇವರಾಯನ ಆಸ್ಥಾನಕ್ಕೆ ಏಕೆ ಬಂದನು? ಮತ್ತು ಅವನ ಮುಖ ಏಕೆ ಅರಳಿತು?

ಉ: _____

2 . ಉಲ್ಲಾಸನಿಗೆ ಸಂತೋಷವಾಗಲು ಕಾರಣವೇನು?

ಉ: _____

XIII. ಈ ಕೆಳಗೆ ಕೊಟ್ಟಿರುವ ಮಾತನ್ನು ಯಾರು-ಯಾರಿಗೆ ಹೇಳಿದರು ? ವಿವರಿಸಿ.

2x3=6

1. "ಇದು ನಮ್ಮೊರಿಸ ದನ ಕಾಯುವ ಹುಡುಗರಿಗೂ ಗೊತ್ತು"

ಅಥವಾ

"ಮಾತಾಜಿಯವರಿಗೆ ನನ್ನ ಪ್ರಣಾಮಗಳು"

ಉ: _____

2. "ಮಹಾಪ್ರಭು ಏಕೋ ನನ್ನ ದೇಹಾರೋಗ್ಯ ಸರಿಯಿಲ್ಲ"

ಅಥವಾ

"ನೀನು ಗೆದ್ದು ನನಗೆ ಬಹುಮಾನವಾಗಿ ಕೊಡಬೇಕು"

ಉ: _____

XIV. ಈ ಕೆಳಗೆ ಕೊಟ್ಟಿರುವ ಪ್ರಶ್ನೆಗಳಿಗೆ 5-6 ವಾಕ್ಯಗಳಲ್ಲಿ ಉತ್ತರಿಸಿ.

1x4=4

1. ಉಳುಮೆಯ ಬಗ್ಗೆ ಗುರುಗಳು ನೀಡಿದ ವಿವರಣೆ ಏನು?

ಅಥವಾ

ಮಳೆ ಹೆಚ್ಚಾಗುವುದರಿಂದ ಆಗುವ ಪರಿಣಾಮಗಳಾವುವು?

ಉ: _____

XV. ಈ ಕೆಳಗೆ ಕೊಟ್ಟಿರುವ ಪ್ರಶ್ನೆಗಳಿಗೆ 5-6 ವಾಕ್ಯಗಳಲ್ಲಿ ಉತ್ತರಿಸಿ.

1x4=4

1. ಕನ್ನಡಮ್ಮನ ಹರಕೆ ಪದ್ಯದಲ್ಲಿ ಕವಿ ಯಾವ ರೀತಿ ಕನ್ನಡವನ್ನು ವರ್ಣಿಸಿದ್ದಾರೆ?

ಅಥವಾ

ಬೀಸೋಕಲ್ಲಿನ ಪದ್ಯದ ಸಾರಾಂಶವನ್ನು ನಿಮ್ಮ ಮಾತುಗಳಲ್ಲಿ ಬರೆಯಿರಿ?

ಉ:

Jindal Vidya Mandir, JSW Hill Side Township
Term-I Examination:2024-25

Class/sec: IV__

Max Marks:80

Subject: Hindi (II Language)

Duration-3Hr

Student Name:_____

Date:_____

Invigilator's Sign: _____

Set-A

Roll No:_____

- आवश्यक निर्देश-> 1) सभी प्रश्नों को हल करना अनिवार्य है।
2) प्रश्नों की कुल संख्या 10 है।
3) इस प्रश्नपत्र के दो खंड हैं (अ) और (ब)।
4) इस प्रश्नपत्र में कुल पृष्ठ 12 हैं।

खंड- अ (40 अंक)

प्रश्न (I) दिए गए अपठित गद्यांश को पढ़कर नीचे लिखे प्रश्नों के सही उत्तर विकल्पों में से चुनकर लिखिए-

क) संसार भर में सबसे ऊँचा पर्वत हिमालय है। इसका सबसे ऊँचा शिखर 'माउण्ट एवरेस्ट' के नाम से प्रसिद्ध है। इसका प्राचीन नाम गौरीशंकर है। कहा जाता है कि यहाँ महादेव और पार्वती का निवास था। इसका नाम 'माउण्ट एवरेस्ट' कर्नल एवरेस्ट के नाम से पड़ा है। क्योंकि उन्होंने सर्वप्रथम यहाँ पहुँचने का प्रयास किया था। 1x5=5

1) हिमालय के सबसे ऊँचे शिखर का नाम क्या है ?

क) एवरेस्ट

ख) कंचन जंघा

ग) माउण्ट एवरेस्ट

घ) माउण्ट

उत्तर: _____

2) माउण्ट एवरेस्ट का प्राचीन नाम क्या है ?

क) गौरीशंकर

ख) जय और शंकर

ग) पार्वती

घ) महादेव

उत्तर: _____

3) हिमालय किस का निवास स्थान है ?

क) गौरीशंकर

ख) जयशंकर

ग) पार्वती

घ) महादेव और पार्वती

उत्तर: _____

(P.T.O)

4) सर्वप्रथम माउण्ट एवरेस्ट पर जाने का किसने प्रयास किया ?

क) कर्नल एवरेस्ट

ख) जयशंकर

ग) शंकर

घ) महादेव और पार्वती

उत्तर: -----

5) इस अनुच्छेद का आप क्या शीर्षक देना चाहते हैं ?

क) 'माउण्ट एवरेस्ट'

ख) जयशंकर

ग) शंकर

घ) महादेव और पार्वती

उत्तर: -----

ख) दिए गए अपठित गद्यांश को पढ़कर नीचे लिखे प्रश्नों के सही उत्तर विकल्पों में से चुनकर लिखिए -

कार्टूनों की अपनी दुनिया है, ठीक मनुष्यों की दुनिया की तरह लुभावनी। कार्टून ऐसा चित्र होता है, जिसे देखकर मन खुश हो जाता है। आजकल तो कार्टूनों के माध्यम से अनेक तरह के रोचक कार्यक्रम दिखाए जाने लगे हैं। कार्टून बच्चों को ही नहीं बड़ों को भी अच्छे लगते हैं। नीरस और उबाऊ विषय भी कार्टून के द्वारा सरस व रोचक बन जाते हैं। इसलिए बच्चे कार्टून की किताब मिलते ही उस पर झपट पड़ते हैं और जब तक वह खत्म न हो जाए, पढ़ना, खेलना सोना यहाँ तक कि खाना भी भूल जाते हैं। जब ये कार्टून दूरदर्शन पर दिखाए जाते हैं तो इन जीते-जागते, हँसते-बोलते कार्टूनों में सब खो जाते हैं।

1×5=5

1) कार्टून क्या होते हैं ?

क) चित्र

ख) खेलना

ग) दूरदर्शन

घ) कार्यक्रम

उत्तर: -----

2) कार्टून की दुनिया कैसी होती है ?

क) चित्र

ख) लुभावनी

ग) सरस

घ) दुखदाई

उत्तर: -----

3) कार्टून बच्चों के अलावा किसे अच्छे लगते हैं ?

क) जानवरों को

ख) बंदरों को

ग) पक्षियों को

घ) बड़ों को

उत्तर: -----

4) कार्टून सबको इतने अच्छे क्यों लगते हैं ?

क) सरस व रोचक होते हैं

ख) नीरस होते हैं

ग) उबाऊ होते हैं

घ) दुखदाई होते हैं

उत्तर: -----

5) कार्टून की किताब मिलते ही उस पर कौन झपट पड़ते हैं ?

क) बच्चे

ख) बड़े

ग) बुजुर्ग

घ) जानवर

उत्तर: -----

प्रश्न (II) निम्नलिखित वस्तुनिष्ठ प्रश्नों के उत्तर विकल्पों में से छाँटकर लिखिए -

1x16=16

1) "सरल" शब्द का विलोम शब्द है -

क) आसान

ख) सीधा

ग) सत्य

घ) कठिन

उत्तर-----

2) "चुस्त" शब्द का विलोम शब्द है -

क) अस्त

ख) उदय

ग) सुस्त

घ) उत्तर

उत्तर-----

3) हिंदी भाषा की लिपि है ।

क) देवनागरी

ख) फारसी

ग) रोमन

घ) गुरुमुखी

उत्तर-----

4) "दिन" शब्द का पर्यायवाची है -

क) विद्यालय

ख) दिवस

ग) रात

घ) गुरु

उत्तर-----

5) "भगवान" शब्द का पर्यायवाची है -

क) महात्मा

ख) प्रभु

ग) आत्मा

घ) महात्मा

उत्तर-----

6) "पुत्र" शब्द का लिंग बदलिए -

क) बेटा

ख) बहन

ग) तनु

घ) पुत्री

उत्तर-----

7) "प्रतिभावान लड़की" इस वाक्यांश में विशेषण शब्द है -

क) लड़की

ख) वान

ग) प्रतिभावान

घ) इनमें से कोई नहीं

उत्तर-----

8) "सांस्कृतिक कार्यक्रम" इस वाक्यांश में विशेषण शब्द है -

क) सांस्कृतिक

ख) कार्यक्रम

ग) संस्कृत

घ) इनमें से कोई नहीं

उत्तर-----

9) "बच्चा" शब्द का वचन बदलिए -

क) बच्चा

ख) बच्चों

ग) बच्ची

घ) बच्चे

उत्तर-----

10) "कवि" शब्द का लिंग बदलिए -

क) कविता

ख) कवित्री

ग) कवयित्री

घ) दोहा

उत्तर-----

11) चीता तेज है । (दौड़) क्रिया का सही रूप लिखकर वाक्य पूरा करो -

उत्तर-----

12) किसान खेत में हल रहा है। (चल) क्रिया दौड़ का सही रूप लिखकर वाक्य पूरा करो -

उत्तर-----

13) "ताजमहल" शब्द में संज्ञा का कौन सा भेद है -

क) भाववाचक संज्ञा

ख) जातिवाचक संज्ञा

ग) व्यक्तिवाचक संज्ञा

घ) इनमें से कोई नहीं

उत्तर-----

14) "गुरुजी ने उन्हें बातें करते हुए देख लिया" इस वाक्य में सर्वनाम शब्द बताइए -

क) गुरुजी

ख) उन्हें

ग) बातें

घ) देख

उत्तर-----

15) "नाक में दम करना" इस मुहावरे का अर्थ बताइए -

क) जी चुराना

ख) बहुत मेहनत करना

ग) परेशान करना

घ) नाक में दर्द होना

उत्तर-----

16) "प+अ+र+आ+ग+अ" का वर्ण संयोजन कीजिए -

क) पराग

ख) पारग

ग) पोरग

घ) परग

उत्तर:-----

प्रश्न (III) निम्नलिखित पठित गद्यांश को पढ़कर प्रश्नों के उत्तर विकल्पों में से ढूँढकर लिखिए -

क) अकबर के एक खास दरबारी ख्वाजा सरा को अपनी विद्या और बुद्धि पर बहुत अभिमान था। बीरबल को तो वे अपने सामने निरा बालक और मूर्ख समझते थे। लेकिन अपने ही मानने से कुछ होता नहीं ! दरबार में बीरबल की ही तूती बोलती और ख्वाजा साहब की बात ऐसी लगती थी, जैसे नक्कारखाने में तूती की आवाज़। ख्वाजा साहब की चलती तो वे बीरबल को हिंदुस्तान से निकलवा देते लेकिन निकलवाते कैसे ? एक बार ख्वाजा सरा ने बीरबल को मूर्ख साबित करने के लिए बहुत सोच-विचार कर कुछ मुश्किल प्रश्न तैयार कर लिए।

5×1=5

1) अकबर के खास दरबारी कौन थे ?

क) ख्वाजा सरा

ख) शंकर

ग) लोकमान्य

घ) गंगाधर

उत्तर: -----

2) ख्वाजा को किस चीज पर अभिमान था ?

क) विद्या और बुद्धि

ख) सद्भावना और बुद्धि

ग) शिक्षा और सद्भावना

घ) समाज सेवा और बुद्धि

उत्तर: -----

3) ख्वाजा बीरबल को क्या समझते थे ?

क) बालक और जानी

ख) शिक्षक और जानी

ग) समाज सेवक और मूर्ख

घ) बालक और मूर्ख

उत्तर: -----

4) दरबार में किसकी तूती बोलती थी ?

क) ख्वाजा साहब

ख) गंगाधर

ग) दरबारी

घ) बीरबल

उत्तर: -----

5) ख्वाजा साहब ने बहुत सोच विचार कर क्या तैयार किए ?

क) निबंध

ख) पत्र

ग) उत्तर

घ) प्रश्न

उत्तर: -----

ख) दिनेश गेंद को हाथ में लिए हुए भीतर आ गया। ठंडे फर्श पर बिछी चटाई पर वह लेट गया और सोचने लगा- भले ही यह गेंद मोहल्ले में से किसी की न हो, परंतु ईमानदारी इसी में है कि एक बार सबसे पूछ लिया जाए। गर्मी की छुट्टियाँ थीं। बच्चों ने खेलने की सुविधा को ध्यान में रखते हुए एक क्लब बनाया हुआ था।

1) दिनेश कहाँ लेटकर सोचने लगा ?

2X1=2

क) बिस्तर

ख) ठंडे फर्श

ग) बगीचा

घ) कुर्सी

उत्तर: -----

2) क्लब किसने बनाया था ?

क) बच्चों ने

ख) दिनेश ने

ग) बीरबल ने

घ) अध्यापक ने

उत्तर: -----

प्रश्न (IV) दिए गए पठित पद्यांश को पढ़कर प्रश्नों के उत्तर विकल्पों में से चुनकर लिखिए -

5×1=5

क)

कुछ तो लगते हैं तूफानी
कुछ रह-रह करते शैतानी
कुछ अपने थैलों से चुपके
झर-झर-झर बरसाते पानी
नहीं किसी की सुनते कुछ भी
ढोलक-ढोल बजाते बादल।

1) कुछ बादल कैसे लगते हैं ?

क) तूफानी

ख) बिल्ली

ग) कुत्ता

घ) बंदर

उत्तर: -----

2) काले बादल आसमान में क्या करने लगे ?

क) बाजा बजाते हैं

ख) शैतानी करते हैं

ग) बरसाते पानी

घ) इनमें से कोई नहीं

उत्तर: -----

3) बादल कहाँ से निकाल कर पानी बरसाते हैं ?

क) थैलों से

ख) बर्तन से

ग) डब्बा से

घ) घड़ा से

उत्तर: -----

4) बादल क्या बजाते हैं ?

क) घंटा

ख) ढोलक-ढोल

ग) सितार

घ) तबला

उत्तर: -----

5) शैतानी कौन कर रहा है ?

क) भालू

ख) बादल

ग) बिजली

घ) मछली

उत्तर: -----

ख)

नाव बनाओ, नाव बनाओ।

1x2=2

भैया मेरे, जल्दी आओ।।

वह देखो, पानी आया है,

घिर-घिर कर बादल छाया है

सात समुंदर भर लाया है,

1) बच्चा किस को बुला रहा है ?

क) मम्मी को

ख) मित्र को

ग) बहन को

घ) भाई को

उत्तर: -----

2) बच्चा क्या बनाना चाहता है ?

क) हवाई जहाज

ख) पतंग

ग) नाव

घ) चित्र

उत्तर: -----

खंड- ब (40 अंक)

प्रश्न (V) निम्नलिखित प्रश्नों के उत्तर एक से दो वाक्य में लिखिए -

4x2=8

1) कवि को बादल किस-किस प्रकार के लग रहे हैं ?

उत्तर: -----

2) दिनेश दोपहर में बाहर की ओर क्यों भागा था ?

उत्तर: -----

3) किसकी गुल्लक भारी है और किसकी गुल्लक हल्की है ?

उत्तर: -----

4) आकाश में कितने तारे हैं ? ख्वाजा साहब के इस प्रश्न के उत्तर में बीरबल ने क्या कहा ?

उत्तर: -----

प्रश्न (VI) निम्नलिखित प्रश्नों के उत्तर तीन से चार वाक्यों में लिखिए -

4X3=12

1) आलसी प्रवृत्ति का व्यक्ति जीवन में कभी आगे क्यों नहीं बढ़ पाता है ?

उत्तर: -----

2) फौजी अफसर के व्यवहार से पापा को कौन-सी बात समझ में आ गई ?

उत्तर: -----

3) दिनेश को यह गेंद दीपक की क्यों नहीं लगी ?

उत्तर: -----

4) अंत में मिले पड़ोसी से नसरुद्दीन ने जमाल साहब की पोशाक के बारे में क्या कहा ?

उत्तर: -----

प्रश्न (VII) दो सहेलियों के बीच परीक्षा की तैयारी को लेकर होने वाले संवाद को 30 से 40 शब्दों में लिखिए -

1X5=5

उत्तर: -----

प्रश्न (VIII) नीचे लिखे गए किसी एक विषय पर 40 से 50 शब्दों में अनुच्छेद लिखिए -

1X5=5

क) स्वतंत्रता दिवस

सहायक बिंदु- 15 अगस्त, आजादी, गुलामी, अहिंसा, अंग्रेज, शोषण, तिरंगा
अथवा

ख) मेरा भारत महान

सहायक बिंदु- विविधता, एकता, भाईचारा, प्रेम, धर्म, तिरंगा, कृषिप्रधान, आजादी

उत्तर:-----

प्रश्न (IX) बीमार होने के कारण प्रधानाचार्य को दो दिन का अवकाश माँगने के लिए पत्र लिखिए- 1X5=5

विषय:-----

महोदय,

प्रश्न (X) नीचे दिए गए चित्र का वर्णन 40 से 50 शब्दों में कीजिए -

1X5=5

