



Jindal Vidya Mandir, JSW Hill side township
Weekly test – 10 (2025-26)

Class I/Sec : ____

Subject: Mathematics

Name : _____

Invigilator's signature : _____

Duration: 45 min

Max. Marks: 20

Roll No: _____

Date: _____

General Instructions: This question paper contains 7 main questions in 2 pages.

All questions are compulsory.

Section A

1. Complete the numbers from 41 – 50.

2M

41 , _____ , _____ , _____ , _____ , _____ , _____ , _____ , _____ , 50

2. Write the number names of the following.

3X1M=3M

a) 43 - _____

b) 39- _____

c) 50 - _____

3. Subtract by counting backward.

2X2M=4M

a. T O

1 8

- 5

b. T O

1 6

- 4

4. Subtract by counting backwards.


2M

a) $12 - 7 =$ _____

start from



and move backward



3X1M=3M

c) - 2 = 0

2X1.5M=3M

b) 26 , 6 , 19 , 3 - _____

How many children were left in the bus?

T O

a)			
b)			
c)			

Ans - _____



Jindal Vidya Mandir, Jsw Hill side Township

Weekly Test 10 (2025-2026)

Class: II / Sec: _____

Subject: Hindi

Name: _____

Duration: 45 min

M Marks: 20M

Date: _____

प्रश्न 1 गद्यांश को पढ़कर प्रश्नों के उत्तर लिखो -

5x1=5

कक्षा में पायल के बैठने के लिए दरी बिछाई गई, जिससे वह अपने पैरों से लिख सकें। उसने अन्य सभी बच्चों के साथ दौड़ का अभ्यास भी किया। उसकी इच्छाशक्ति और साहस को देखकर सभी शिक्षिकाएँ और उसके मित्र उसकी प्रशंसा कर रहे थे।

क) पायल के बैठने के लिए क्या बिछाया गया?

उत्तर-----

ख) पायल ने बच्चों के साथ किसका अभ्यास किया?

उत्तर-----

ग) शिक्षिकाओं ने पायल की किस बात की प्रशंसा की?

उत्तर-----

घ) पायल किससे लिखती थी?

उत्तर-----

ङ) यह गद्यांश किस पाठ से लिया गया है?

उत्तर-----

प्रश्न-2 दिए गए शब्दों के एक से अनेक लिखो-

4x1=4

i) दुकान- ----- ii) आँख - -----

iii) झुला- ----- iv) खंभा - -----

प्रश्न 3 दिए गए शब्दों के विलोम शब्द लिखो-

2x1=2

क) साहसी x ----- ख) भीतर x -----

प्रश्न 4 का, के, की लिखकर खाली-स्थान भरे-

3x1=3

क) पायल ----- हिम्मत।

ख) बिजली ----- खंभा।

ग) पायल ----- माता- पिता।

प्रश्न 5 दिए गए प्रश्नों के उत्तर लिखिए-

3x2=6

क) पायल विद्यालय क्यों जाना चाहती थी

उत्तर-----

ख) इब्रबतूता नाक और कान क्यों मल रहे थे ?

उत्तर -----

ग) पायल ने भाई की मदद कैसे की ?

उत्तर -----

Weekly Test – 10 (2025-26)

Class :II /Sec :_____

Subject : Kannada

Name : _____

Invigilator's sign : _____

Max. Marks: 20

Duration: 45 minutes

Roll No. : _____

Date : 07/08/2025

ಸೂಚನೆಗಳು :

*ಈ ಕೆಳಗಿನ ಪ್ರಶ್ನೆಪತ್ರಿಕೆಯು ಒಟ್ಟು 6 ಮುಖ್ಯ ಪ್ರಶ್ನೆಗಳಿಂದ ಕೂಡಿದ್ದು, 2 ಪುಟಗಳನ್ನು ಹೊಂದಿದೆ.

*ಪ್ರತಿಯೊಂದು ಪ್ರಶ್ನೆಗಳ ಸೂಚನೆಗಳನ್ನು ಸರಿಯಾಗಿ ಓದಿಕೊಂಡು ಉತ್ತರಿಸಿ.

I. ಈ ಕೆಳಗಿನ ಪಠ್ಯೇತರ ಗದ್ಯಭಾಗವನ್ನು ಓದಿಕೊಂಡು, ಕೊಟ್ಟಿರುವ ಪ್ರಶ್ನೆಗಳಿಗೆ ಬಹು ಆಯ್ಕೆ ಉತ್ತರಗಳ ಸಹಾಯದಿಂದ ಉತ್ತರಿಸಿರಿ.

4X1=4

ಒಂದು ಊರಿನಲ್ಲಿ ಒಬ್ಬ ರೈತನಿದ್ದನು. ಅವನ ಬಳಿ ಬಹಳಷ್ಟು ಹಸುಗಳಿದ್ದವು. ಅವನು ಹಸುಗಳ ಹಾಲನ್ನು ಮಾರಿ ಧನ ಸಂಪಾದಿಸಿದ್ದನು. ಒಂದು ದಿನ ಅವನು ಅನ್ನ ಮಾಡಲು ಅಕ್ಕಿ ತರುವುದಕ್ಕಾಗಿ ಪೇಟೆಗೆ ಹೊರಟನು. ದಾರಿಯಲ್ಲಿ ಹಕ್ಕಿಯೊಂದು ಹಾರಿ ಬಂದು ಅವನ ಮುಂದೆ ಕುಳಿತಿತು. ಅವನು ಹಕ್ಕಿಯನ್ನು ಹಿಡಿದು ತಂದು ಕಡಿಮೆ ಬೆಲೆಗೆ ಮಾರಿದನು. ರೈತನು ಮನೆಗೆ ಬಂದು ಬಾಗಿಲು ತೆರೆದನು. ಅಲ್ಲಿಯೇ ಇದ್ದ ಹಲ್ಲಿಯೊಂದು ಅವನ ತಲೆಯ ಮೇಲೆ ಬಿದ್ದಿತು.

ಪ್ರಶ್ನೆಗಳು:

1. ರೈತನು ಹಸುಗಳ ಹಾಲನ್ನು ಮಾರಿ _____ ಸಂಪಾದಿಸಿದ್ದನು.

(i) ದನ (ii) ದವಸ (iii) ಧನ (iv) ದಾನ

2. ರೈತನು ಅನ್ನ ಮಾಡಲು _____ ತರಲು ಪೇಟೆಗೆ ಹೊರಟನು.

(i) ಅಕ್ಕಿ (ii) ಹಕ್ಕಿ (iii) ಹಣ್ಣು (iv) ನೀರು

3. ದಾರಿಯಲ್ಲಿ ಹಕ್ಕಿಯೊಂದು _____ ಬಂದಿತು.

(i) ಓಡಿ (ii) ದಾರಿ (iii) ಹಾರಿ (iv) ಜಾರಿ

4. _____ಯೊಂದು ರೈತನ ಮೇಲೆ ಬಿದ್ದಿತು.

(i) ಹಲ್ಲಿ (ii) ಅಲ್ಲಿ (iii) ಗಾಲಿ (iv) ಇಲಿ

II. ಈ ಕೆಳಗಿನ ಪದಗಳ ಲಿಂಗವನ್ನು ಬದಲಿಸಿ ಬರೆಯಿರಿ.

2X1=2

1. ಮಾವ - _____ 2.. ಚಿಕ್ಕಮ್ಮ - _____

III. ಈ ಕೆಳಗಿನ ಆವರಣದಲ್ಲಿ ಕೊಟ್ಟಿರುವ ಪದಗಳಲ್ಲಿ ಸೂಕ್ತ ಪದವನ್ನು ಆರಿಸಿ, ಖಾಲಿ ಬಿಟ್ಟ ಸ್ಥಳಗಳಲ್ಲಿ ಬರೆಯಿರಿ.

(ಹಗಲುಫೇಷ, ಮನೆಯೊಂದು, ಹಿಗ್ಗಿತು)

3X1=3

1. ಕೋಳಿಗಳನ್ನು ಕಂಡು ನರಿಯ ಮರಿಯು ಮನದಲ್ಲೇ _____
2. ಸಂತೆಯಲ್ಲಿ _____ ಆಟ ಆಡುತ್ತಿದ್ದರು.
3. ನರಿಗೆದೂರದಲ್ಲಿತೋಟದ _____ ಕಾಣಿಸಿತು.

IV. ಈ ಕೆಳಗಿನ ಪ್ರಶ್ನೆಗಳಿಗೆ ಒಂದು ವಾಕ್ಯದಲ್ಲಿ ಉತ್ತರಿಸಿರಿ.

4X1=4

1. ನರಿಯ ಮರಿ ಎಲ್ಲಿ ಸಿಕ್ಕಿಕೊಂಡಿತು?

ಉ: _____

2. ಮಕ್ಕಳು ಬಾಳೆಹಣ್ಣಿನ ಸಿಪ್ಪೆಯನ್ನು ಎಲ್ಲಿ ಹಾಕಿದರು?

ಉ: _____

3. ಗೆಲೆಯರೆಲ್ಲ ಕೂಡಿ ಎಲ್ಲಿ ಹೋದರು?

ಉ: _____

4. ನರಿಗೆ ತೋಟದ ಕಡೆಯಿಂದ ಯಾವ ಸದ್ದು ಕೇಳಿಸಿತು?

ಉ: _____

V. ಈ ಕೆಳಗಿನ ಮಾತುಗಳನ್ನು ಯಾರು ಯಾರಿಗೆ ಹೇಳಿದರು? ಬರೆಯಿರಿ.

2X2=4

1. “ನಿಮ್ಮ ಹಲ್ಲುಗಳು ಬಲಹೀನವಾಗಿವೆಯಲ್ಲವೇ?”

ಯಾರು ಹೇಳಿದರು? _____

ಯಾರಿಗೆ ಹೇಳಿದರು? _____

2. “ಇಲ್ಲಿಗೆ ಇವೆಲ್ಲವನ್ನು ಎಲ್ಲಿಂದ ತರುತ್ತಾರೆ?”

ಯಾರು ಹೇಳಿದರು? _____

ಯಾರಿಗೆ ಹೇಳಿದರು? _____

VI. ಈ ಕೆಳಗೆ ನಿಮಗೆ ತಿಳಿದಿರುವ ಯಾವುದಾದರೂ 6 ಸಾಕು ಪ್ರಾಣಿಗಳ ಹೆಸರುಗಳನ್ನು ಬರೆಯಿರಿ.

1X3=3

1. _____ 2. _____ 3. _____

4. _____ 5. _____ 6. _____



Jindal Vidya Mandir, JSW Hill Side Township
Weekly Test-10(2024-25)

Class: III
Sub: English

Duration:45mins
Max Marks: 20

General Instructions:

- Read the questions properly.
 - Write neatly and legibly.
-

I. Fill in the blanks with the demonstrative adjectives-this, that, these and those.

1. _____ dresses are nice.(far) **5X½=2½M**
2. _____ pictures on the wall are colourful.(near)
3. Is _____ jar filled with juice.(far)
4. I like _____ guitar the best .It is from Germany.(near)
5. _____ mangoes are from our garden.(near)

II. Fill in the blanks with the correct possessives adjectives: **5X½=2½M**

1. _____ (he/his) dog playing in the play ground.
2. Kavita and Ruhi are doing _____ (their/its)homework.
- 3.Who is taking care of _____ (her/she)grandparents?
4. _____ (our/ours) neighbours are very helpful.
5. _____ (my/mine) clothes are kept in the cupboard.

III. Answer the following in 2-3 sentwnces: **5X2=10M**

- 1.What was the trouble faced by all the animals?
2. Where did the evil spirits live?

3. What was the Law of the Jungle?
4. Why do you think the Wolf Pack decided to keep Mowgli?
5. What did they have to decide at the grand meeting?

IV. Answer the following in 3-4 sentences: 2X2½=5M

1. Who was sent finally to bring back the Sun? Say why.
2. Why had Shere Khan decided to change his hunting grounds?



Jindal Vidya Mandir, JSW Hill Side Township
Weekly Test – 10 (2025-2026)

Class: IV / _____
Subject: G.K

Duration: 50 minutes
Max Marks: 20

Name of the Student: _____

Roll No: _____

General Instructions:

- This question paper consists of 2 pages and 20 questions.
 - All the questions are compulsory.
-

Section- A

I. Fill in the blanks with the help of the given words.

5 X 1=5M

(Amartya Sen, Pound, Beijing, Susmita Sen Copenhagen)

1. The capital of china is _____
2. The currency of U K is _____
3. The winner of the Nobel prize in economics in 1998 is _____
4. The first Indian women to win the title of Miss Universe is -
_____.
5. The capital of Denmark is _____.

II. Match the following

5 X 1=5M

- | | |
|----------------------|-----------------------|
| 6. Borra Caves | a. meteor crater |
| 7. Valley of Flowers | b. white waterfalls |
| 8. Hogenakkal Falls | c. cave formations |
| 9. Balancing Rock | d. hill flower valley |
| 10. Lonar Lake | e. balanced rock |

Section- B

III. Answer the following questions in a word or sentence

4 X 1=4M

- 11.Name the ocean that lies to the south of India.

12.What is the currency of the USA?

13.What is the capital of Germany?

14. Who developed the “theory of relativity”?

IV. Complete the following based on the clues given.

3 X 2=6M

15.Name two countries each from the continents:

a) Asia : _____, _____

b) Europe : _____, _____

16.Complete the table:

Country	Currency	Symbol
Switzerland		
Nigeria		

17.Fill in the blanks in the crossword puzzle for oceans of the world.

a. Smallest ocean:

A		T		C	-	O				N
---	--	---	--	---	---	---	--	--	--	---

b. Largest ocean:

P		C				C	-	O		E		N
---	--	---	--	--	--	---	---	---	--	---	--	---

c. Fourth largest ocean:

A		L		N			C	-	O		E		N
---	--	---	--	---	--	--	---	---	---	--	---	--	---



Jindal Vidya Mandir, JSW Hill Side Township
Weekly Test-10 (2025-26)

Class: V /Sec _____
Subject: Information Technology

Max.Marks:20
Duration: 45mins.

General Instructions:

*** This question paper consists of 2 pages with IV main headings.**

***All questions are compulsory.**

I. Fill in the blanks.

4X1=4M

1. _____ is an optical storage media that is circular in shape.
2. press _____ + _____ keys to go to the end of the column in a table.
3. _____ has a non-volatile memory.
4. A _____ is the horizontal series of cells in a table.

II. State whether the following statements are true or false.

4X1=4M

1. You can resize the table in Word 2016.
2. A collection of 4 bits is called a byte.
3. You cannot give borders around a table.
4. A memory card is very huge in size.

III. Choose the correct answer.

4X1=4M

1. Full form of EB is :
a. Exobyte b.Excelbyte c. Exabyte d. exitbyte

2. There are _____ ways to create tables in Word 2016.

- a. Two b. Three c. Four d. Five

3. Terabyte is smaller than _____ .

- a. Byte b. Megabyte c. Gigabyte d. Petabyte

4. Click on Table in _____ tab to insert a table in a document..

- a. Insert b. View c. Layout d. Format

IV. Answer these questions.

4X2=8M

1. List six computer memory units.

2. What is a table ? How is it useful ?

3. Who am I ?

a. I am the brain of the computer

b. I can transfer data from one computer to another.

4. Differentiate between CD and DVD.



Jindal Vidya Mandir, JSW Hill Side Township
Weekly Test-10 (2025-26)

Class: VI
Sub: Hindi(II Language)

Duration:45min.
Max Marks: 20

आवश्यक निर्देश: सभी प्रश्न अनिवार्य है।

1 नीचे दिए गए पठित पद्यांश के प्रश्नों के उत्तर छाँटकर लिखिए।

1x5=5M

जब खड्ग सिंह ने रात के अँधेरे में सुल्तान को बाबा भारती के आश्रम में चुपचाप बाँध दिया, तो वह न कोई क्षमा माँग सका और न ही कुछ कह सका। यह खामोशी उसके मन में चल रहे गहरे संघर्ष को दर्शाती है — अपराधबोध, पश्चाताप और परिवर्तन की शुरुआत। अगली सुबह जब बाबा भारती ने सुल्तान को देखा, तो उन्होंने ईश्वर को धन्यवाद दिया और मुस्कराकर कहा, “जो सच में हमारा होता है, वह लौट ही आता है।” यह कहानी हार की नहीं, आत्मिक विजय की है — जहाँ एक डाकू, एक संत की सहनशीलता से बदल जाता है।

क) खड्ग सिंह की चुप्पी किस भावना का प्रतीक थी ?

- i) भय का ii) क्रोध का iii) आत्मग्लानि और अंतर्मन के संघर्ष का iv) घमंड का

ख) बाबा भारती ने सुल्तान को देखकर क्या कहा ?

- i) “अब मत जाना।” ii) “मैंने तुझे बहुत याद किया।”
iii) “जो सच में हमारा होता है, वह लौट ही आता है।” iv) “इस बार बच गए।”

ग) खड्ग सिंह ने क्षमा क्यों नहीं माँगी ?

- i) वह डर गया था ii) उसे घोड़ा नहीं लौटाना था
iii) वह बोल नहीं सकता था iv) वह भीतर से इतना शर्मिदा था कि शब्द नहीं निकाल पाए

घ) इस पद्यांश में ‘आत्मिक विजय’ से क्या तात्पर्य है ?

- i) युद्ध में जीत ii) डाकू का मारा जाना
iii) गलत रास्ते पर चले व्यक्ति का नैतिक परिवर्तन iv) घोड़े की वापसी

ड) यह कहानी अंततः किस चीज़ की जीत को दर्शाती है ?

- | | |
|---------------------|---------------------------------|
| i) छल | ii) सच्चाई, सहनशीलता और नैतिकता |
| iii) शक्ति और बल का | iv) डर का |

2 नीचे दिए गए वाक्यों में विशेषण शब्द छाँटकर उनके भेद लिखे ।

1x3=3M

- क) रमेश ने आधी रोटी खाई।
ख) मेरा घर तुम्हारे घर से बड़ा है।
ग) पहली लड़की इनाम जीत गई।

3 नीचे लिखे मुहावरों के अर्थ लिखे।

2x1=2M

- i) लट्टू होना ii) हृदय पर साँप लोटना

4 नीचे दिए गए प्रश्नों के उत्तर लिखें-

2x3=6M

- i) रहिमान धागा प्रेम का, मत तोड़ो छिटकाय। टूटे से फिर ना मिले, मिले गाँठ परि जाय ।। इस कथन को स्पष्ट करे ।
ii) “खड्गसिंह केवल एक प्रार्थना करता हूँ, उसे अस्वीकार न करना, नहीं तो मेरा दिल टूट जाएगा ।” इस कथन को स्पष्ट करें ।

5 नीचे दिए गए प्रश्नों के उत्तर लिखें-

2x2=4M

- i) घोड़ा पाने के लिए डाकू खड्ग सिंह ने क्या किया ?
ii) जिह्वा के माध्यम से रहीम जी क्या संदेश देना चाहते हैं ?

Class; VI
Subject: Kannada (II Language)

M.Marks:20
Duration:45 min

I. ಈ ಕೆಳಗಿನ ಪ್ರಶ್ನೆಗಳಿಗೆ ಒಂದು ವಾಕ್ಯದಲ್ಲಿ ಉತ್ತರಿಸಿರಿ.

4X1=4

1. ರಾಜಕುಮಾರ್ ಅವರ ಮೊದಲ ಹೆಸರೇನು?
2. ತಾಯಿ ಮಗುವಿಗೆ ಏನನ್ನು ಕಲಿಸುತ್ತಾಳೆ?
3. ಯಾವ ಚಿತ್ರದ ಗಾಯನಕ್ಕೆ ರಾಜಕುಮಾರ್ ಅವರಿಗೆ ರಾಷ್ಟ್ರ ಪ್ರಶಸ್ತಿ ದೊರೆತಿದೆ?
4. ಜಗತ್ತಿನಲ್ಲಿ ಮಿಗಿಲಾದದ್ದು ಯಾವುದು?

II. ಈ ಕೆಳಗಿನ ಬಿಟ್ಟ ಸ್ಥಳವನ್ನು ಪೂರ್ಣಗೊಳಿಸಿರಿ.

5X1=5

1. “ಸವಿ ಗನ್ನಡ” ಈ ಪದವನ್ನು ಬಿಡಿಸಿ ಸಂಧಿಯನ್ನು ಹೆಸರಿಸಿ-----
2. ಕನ್ನಡ ಸಂಧಿಗಳಲ್ಲಿ-----ಪ್ರಕಾರಗಳಿವೆ.
3. “ ಸ್ವರದ ಮುಂದೆ ಸ್ವರವು ಬಂದು ಸಂಧಿಯಾಗುವಾಗ ಪೂರ್ವ ಪದದ ಕೊನೆಯಲ್ಲಿರುವ ಸ್ವರವು ಲೋಪವಾದರೆ ಅದನ್ನು-----ಸಂಧಿ ಎನ್ನುವರು.
4. “ಹೊಲ + ಅನ್ನು” =ಹೊಲವನ್ನು ಈ ಪದ----- ಸಂಧಿಗೆ ಉದಾಹರಣೆಯಾಗಿದೆ .
5. “ಮೇಲೆ + ಇಟ್ಟುಕೊಂಡು” ಪದವನ್ನು ಕೂಡಿಸಿ ಬರೆದಾಗ _____.

III. ಈ ಕೆಳಗಿನ ಗಾದೆ ಮಾತನ್ನು ವಿಸ್ತರಿಸಿ ಬರೆಯಿರಿ..

1X3=3

“ತಾಯಿಗಿಂತ ಬಂಧುವಿಲ್ಲ; ಉಪ್ಪಿಗಿಂತ ರುಚಿ ಇಲ್ಲ”

IV. ಈ ಕೆಳಗಿನ ಪ್ರಶ್ನೆಗಳಿಗೆ 3 - 4 ವಾಕ್ಯಗಳಲ್ಲಿ ಉತ್ತರಿಸಿರಿ.

2X2=4

1. ರಾಜಕುಮಾರ್ ಅವರು ಅಭಿನಯಿಸಿದ ಭಕ್ತಿ ಪ್ರಧಾನವಾದ ಚಿತ್ರಗಳು ಯಾವುವು?
2. ಮಗು ಬಿದ್ದಾಗ ತಾಯಿ ಹೇಗೆ ರಮಿಸುತ್ತಾಳೆ?

V. ಈ ಕೆಳಗಿನ ವಾಕ್ಯಗಳಿಗೆ ಸಂದರ್ಭ ಸಹಿತ ವಿವರಿಸಿ.

2X2=4

1. “ ಮುತ್ತುರಾಯ ಸ್ವಾಮಿಯ ಹೆಸರೇ ಮುತ್ತುರಾಜ ಆಯಿತು”
2. “ಶ್ರದ್ಧೆ ಇದ್ದರೆ ಯಾವುದು ತೊಡಕಲ್ಲ”



Jindal Vidya Mandir, JSW Hill Side Township
Weekly Test-10(2025-26)

Class: VII/Sec:
Sub: English

Duration: 45 min
Max Marks: 20M

General Instructions:

- All questions are compulsory
 - Write in neat and legible handwriting
-

I. Answer the following competency based question.

1x5=5M

1. Grown-ups say things like:

Speak up

Don't talk with your mouth full

Don't stare

Don't point

Don't pick your nose.

Q1. What does the phrase "Speak up" suggest?

Q2. Why do grown-ups often say, "Don't talk with your mouth full"?

Q3. What is the likely reason behind the instruction, "Don't stare"?

Q4. Why do adults tell children, "Don't point"?

Q5. What message does the command "Don't pick your nose" convey?

II. Write a story based on the given outline of the story in 100 to 150 words.

Once upon a time there was a giant apple tree. A little boy used to come to the tree to play. He will search for juicy apples. He used to play near the tree and rest in the shade. The tree was overjoyed to receive this little bundle of joy. One day the tree was surprised to see that boy coming towards it with a sad face... **5M**

III. Write these sentences with the Simple present tense of verbs in the brackets.

3x1=3M

- 1.The black car has a fake number plate.
- 2.The police have caught the culprit.
- 3.The students are unhappy with the new rules for leave.

IV.Complete these sentences by using the simple past tense form of the verb.

3×1=3M

- 1.My father and I _____(visit) the grocers for some juice and cereals.
- 2.Danny_____(drive) at a slow speed in the fog.
- 3.The teacher_____(speak) to us about punctuality and discipline.

V.Answer the following questions.

- 1.What did the dog do to lead the farmer to the hidden gold? **(1.5M)**
- 2.Why did Daimio reward the farmer and punish his neighbour for the same act?
(1.5M)
- 3.Write the characters from the lesson "The Ashes That Made Trees Bloom". **(1M)**



Jindal Vidya Mandir, JSW Hill Side Township
Weekly Test-10

Class: VIII

Duration: 45 minutes.

Subject: General Knowledge

Max. Marks: 20

General Instructions:

1. This question paper consists of 19 questions.
2. All questions are compulsory.

I. Choose the correct option for the below given multiple choice questions. 5x1=5

1. Which of these states is not a part of 'Namami Gange' programme?
a. Uttar Pradesh b. Kerala c. Jharkhand d. West Bengal
2. The famous Elliptical Amphitheatre is located in _____ city.
a. New York
b. London
c. Rome
d. New Delhi
3. Who established Bharata Ratna Award?
a. Rajendra Prasad b. Narendra Modi c. Jawaharlal Nehru d. None of these
4. Under _____ movement, foreign goods were burnt by Indians all over the nation in 1905.
a. Literacy b. Swadeshi c. Quit India d. Non Cooperation
5. 'The Lost City of Incas' is located in _____.
a. Brazil b. Peru c. Egypt d. Mexico

II. Answer the following questions in a word or sentence each. 6x1=6

6. Famous 'Neelakurinji' flowers blossom in which state of the India?
7. Where is the 'Kukulan' temple located?
8. Expand it: NMCG
9. Which plant is known as 'chanter stalk'?
10. Who is the present CJI of India?
11. Who was the first president of India?

III. Match the particulars in column A with column B. 5x1=5

- | A. | B. |
|-----------------------|-----------------------------|
| 12. Bharata Ratna | a. Non-Cooperation movement |
| 13. Rook | b. Jordan |
| 14. Bishop | c. Elephant |
| 15. Cleft in the rock | d. Jewel of India |
| 16. Gandhiji | e. Camel |
| | f. USA |

answer the following questions

IV. Rearrange the jumbled letters to identify the problems:

2x1=2


17. The _____ rate in India at the primary school level is about 35%. (DORPOTU)


18. *m* In more than 20 million households do not get pure drinking water, making _____ diseases very common in India. (NETBORERAW)

IV. Write a short note on the below given image.

2x1=2

19.





Jindal Vidya Mandir, JSW Hill Side Township
Weekly Test-10 (2025 -26)

Class: IX
Sub: Mathematics

Duration: 45 Min
Max Marks: 20

General Instructions:

- This question paper is printed in 1 page. It consists of 3 main questions.
 - All questions are compulsory.
-

I. Fill in the blanks

5X1M=5M

- 1.The point whose ordinate is 9 and which lies on y-axis is_____.
- 2.If a linear equation has solution $(-2,2)$, $(0,0)$ and $(2,2)$, then it is of the form_____.
3. According to Euclid's axiom, the things which are double to the same thing are_____.
- 4.Euclid stated that 'if equals are added to equals, the wholes are equal in the form of_____.
- 5.A linear equation in two variables has _____ solution.

II. Do as directed:

1X3M=3M

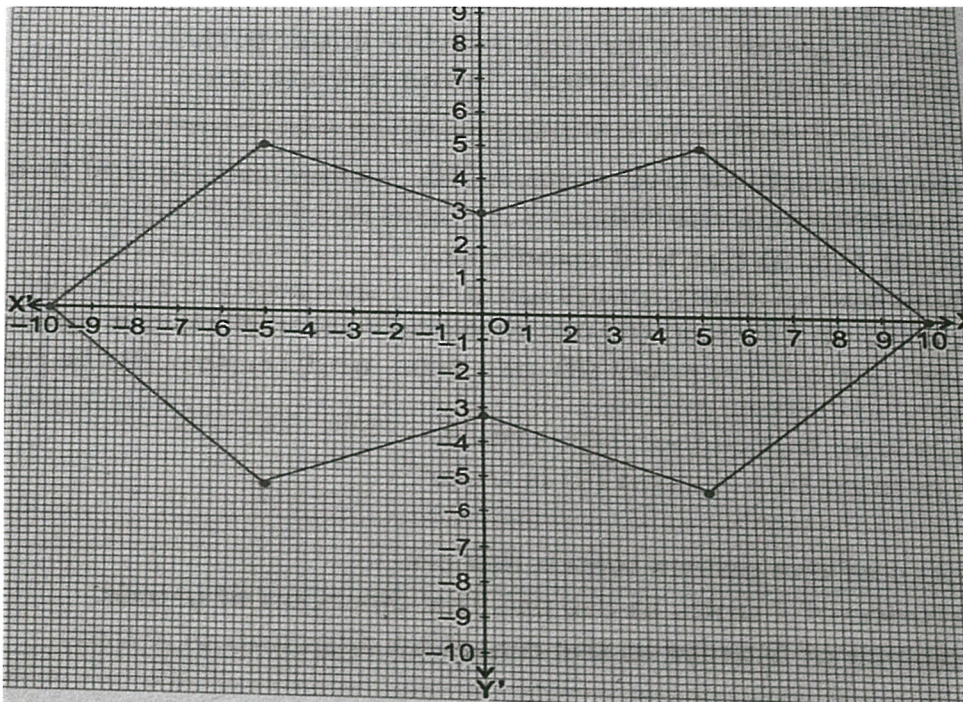
- 6.It is known that $a+b=10$ and $a=c$. Show that $c+b=10$.

III. Solve the following.

3X4M=12M

- 7.If the length of rectangle is decreased by 5 units and breadth increased by 3 units, then the area will increase by 15sq.units.
 - i. Represent this situation as a linear equation in two variables.
 - ii. Find two solutions for the situation

8. A mathematics teacher designed a special Board Game to teach coordinate geometry concepts to her class.



- Write the coordinates of two distinct point lying on the y-axis.
- Find the coordinates of the image of point (5,5) when reflected in the x-axis.
- Calculate the sum of abscissas of all the contours placed on the board.
- If the coordinates pair $(a+b, b)$ is equal to $(10,0)$ find the values of a and b .

9. If a point (4,5) lies on a line represented by a linear equation $(2k + 1)x - (4 - 3k)y = 10$, find the value of k . Also, express this equation in the form $ax + by + c = 0$ and indicate the values a , b and c . Find two different solutions of this linear equation.

Class; X
Subject: Kannada (II Language)

M.Marks:20
Duration:45 min

I . ಈ ಕೆಳಗಿನ ವ್ಯಾಕರಣಾಂಶದ ಪ್ರಶ್ನೆಗಳಿಗೆ ಸೂಚಿಸಿದಂತೆ ಉತ್ತರ ಬರೆಯಿರಿ.

1X5=5

1. ಈ ಪದಗಳ ಅರ್ಥ ವ್ಯತ್ಯಾಸವನ್ನು ಗುರುತಿಸಿ ಬರೆಯಿರಿ

ಭೂತಾಯಿ----- ಬೂತಾಯಿ_____

2. “ಹೆತ್ತ ತಾಯಿ ಹೊತ್ತ ನಾಡು ಸ್ವರ್ಗಕ್ಕಿಂತಲೂ ಮಿಗಿಲು” ಈ ಗಾದೆ ಮಾತಿನ ಅರ್ಥವನ್ನು ಬರೆಯಿರಿ. -----

3 “ ಕಕ್ಕಾಬಿಕ್ಕಿ” ಈ ಪದವನ್ನು ಸ್ವಂತ ವಾಕ್ಯದಲ್ಲಿ ಬಳಸಿ ಬರೆಯಿರಿ -----

4. “ಒಳಿತು “ ಈ ಪದದ ವಿರುದ್ಧಾರ್ಥಕ ಪದ_____

5. “ ಅಕ್ಷರ” ಈ ಪದದ ತದ್ಭವ ರೂಪ -----

II. ಈ ಕೆಳಗಿನ ಪ್ರಶ್ನೆಗಳಿಗೆ ಮೂರು ನಾಲ್ಕು ವಾಕ್ಯಗಳಲ್ಲಿ ಉತ್ತರಿಸಿರಿ.

2X3=6

1. ವಚನಕಾರರ ದೃಷ್ಟಿಯಲ್ಲಿ ಅರಿವು ಎಂದರೆ ಏನು? ವಿವರಿಸಿ.

2. ಭಗತ್ ಸಿಂಗ್ ಜಲಿಯನ್ ವಾಲಾಬಾಗ್ ಮಾರಣ ಹೋಮದಿಂದ ತೆಗೆದುಕೊಂಡ ನಿರ್ಧಾರವೇನು?

3. “ ಆನ್ ಟು ದಿಸ್ ಲಾಸ್ಟ್ “ಕೃತಿ ಗಾಂಧೀಜಿಯವರ ಮೇಲೆ ಯಾವ ಪರಿಣಾಮ ಬೀರಿತು?

III. ಈ ಕೆಳಗಿನ ವಾಕ್ಯಕ್ಕೆ ಸಂದರ್ಭ ಅನುಸಾರ ಸ್ವಾರಸ್ಯವನ್ನು ವಿವರಿಸಿ.

1x3=3

1. “ಹಾಗಾದರೆ ಎಲ್ಲರಿಗೂ ಮನೆ ಆಗುವವರೆಗೂ ನನಗೂ ಮನೆ ಬೇಡ”

IV. ಈ ಕೆಳಗಿನ ಪ್ರಶ್ನೆಗೆ 8-10 ವಾಕ್ಯದಲ್ಲಿ ಉತ್ತರಿಸಿ.

1x3=3

1. ಕವಿ ಸಿದ್ಧಲಿಂಗಯ್ಯ ಅವರು ಹೇಳಿದ ಕಥೆಯನ್ನು ಬರೆದು, ನಿಮ್ಮ ಮಾತುಗಳಲ್ಲಿ ವಿವರಿಸಿರಿ .

V. ಪತ್ರಲೇಖನ

1X3=3

1, ನಿಮ್ಮನ್ನು ಶಿವಮೊಗ್ಗದ ಸರ್ಕಾರಿ ಪ್ರೌಢಶಾಲೆಯ ಅಹಲ್ಯಾ ಎಂದು ಭಾವಿಸಿಕೊಂಡು ಗ್ರಂಥ ಸಪ್ತಾಹದ ಅಡಿಯಲ್ಲಿ ಹಮ್ಮಿಕೊಳ್ಳಲಾಗಿರುವ ಪುಸ್ತಕ ಪ್ರದರ್ಶನ ಕಾರ್ಯಕ್ರಮಕ್ಕೆ ಆಗಮಿಸುವಂತೆ ವಿನಂತಿಸಿ ಹಾಸನದ ವಿವೇಕಾನಂದ ನಗರದಲ್ಲಿ ವಾಸವಾಗಿರುವ ತನ್ವಿ (ಗೆಳತಿಗೆ) / ತರುಣ್ (ಗೆಳೆಯ) ಇವರಿಗೆ ಒಂದು ಪತ್ರವನ್ನು ಬರೆಯಿರಿ .

Class : X

Max. Marks : 20

Sub : Hindi (II Lang)

Duration : 45 min

सामान्य निर्देश :

- दिए गए निर्देशों का पालन करते हुए प्रश्नों के उत्तर दीजिए।
 - प्रश्न पत्र में कुल 4 प्रश्न हैं।
-

I. समास पर आधारित इन प्रश्नों के उत्तर दीजिए-

4x1=4

- 1) 'नीलकंठ' समस्त पद का समास विग्रह कीजिए।
- 2) 'तीन फलों का समूह' समास विग्रह के समस्तपद और भेद का नाम लिखिए।
- 3) 'महावीर' समस्त पद में कौन-सा समास है ?
- 4) 'यथाशक्ति' शब्द के सही समास विग्रह और भेद का नाम लिखिए।

II. इन मुहावरों के अर्थ लिखकर वाक्य में प्रयोग कीजिए-

2x2=4

- 1) रंग दिखाना
- 2) टूट जाना

III. निम्नलिखित प्रश्नों के उत्तर 25-30 शब्दों में लिखिए-

4x2=8

- 1) 26 जनवरी 1931 के दिन को अमर बनाने के लिए क्या-क्या तैयारियाँ की गई ?
- 2) पुलिस कमिश्नर के नोटिस और कौंसिल के नोटिस में क्या अंतर था ?
- 3) 'मनुष्य मात्र बंधु है' से आप क्या समझते हैं? स्पष्ट कीजिए।
- 4) 'मनुष्यता' कविता के माध्यम से कवि क्या संदेश देना चाहता है ?

IV. खादी ग्रामोद्योग कनॉट प्लेस में 2 अक्टूबर से दिवाली तक 20% की छूट का विज्ञापन तैयार कीजिए-

4x1=4
