



Jindal Vidya Mandir, JSW Hill Side Township
Weekly Test-12 Term-II (2025-26)

Class: I
Sub: Hindi (III Lang)

Duration: 45 min
Max Marks: 20M

General Instruction

- सभी प्रश्न अनिवार्य हैं।
- कुल 5 प्रश्न हैं।

प्रश्न 1) खाली स्थान भरो:

(4X1M=4M)





(Fill in the blanks)

- i. _____, थ, _____, ध, न
ii. प, _____, ब, _____, म

प्रश्न 2) चित्रों को गिनिए और संख्या लिखिए।

(4X1M=4M)

(Count the pictures and write the number.)

i.		
ii.		
iii.		
iv.		

प्रश्न 3) दिए गए अक्षरों के चित्र बनाइए और उनमें रंग भरिए।





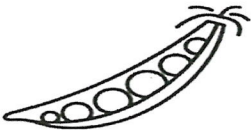
(1X2M=2M)

(Draw pictures for the given letters and colour them)

ब	ध

प्रश्न 4) चित्रों को पहचानिए और उनके नाम लिखिए।
(Identify the pictures to write their names.)

(5X1M=5M)

i.		_____
ii.		_____
iii.		_____
iv.		_____
v.		_____

प्रश्न 5) दिए गए अक्षरों को जोड़कर सही शब्द बनाइए।
(Join the given letters to make a correct word.)

(5X1M=5M)

i. ट + ब = _____

ii. क + ल + श = _____

iii. ह + व + न = _____

iv. न + भ = _____

v. श + ह + द = _____



Jindal Vidya Mandir, JSW Hill Side Township

Weekly Test-12 ,Term – II (2025-26)

Class : I/ Sec : _____

Subject : Kannada(III Language)

Name : _____

Invigilator's Sign : _____

Duration: 45 Minutes

Max Marks : 20

Roll No. : _____

Date : _____

General Instructions: *This question paper contains 2 pages and 4 mains.

*All questions are compulsory.

I. ಈ ಕೆಳಗೆ ಕೊಟ್ಟಿರುವ ಕನ್ನಡ ವರ್ಣಮಾಲೆಯನ್ನು ಪೂರ್ಣಗೊಳಿಸಿರಿ.
(Complete the given Kannada Varnamala)

1X5=5

ಅ		ಇ	ಈ	ಉ		ಋ	ಎ	ಏ		ಒ	ಓ		ಅಂ	ಅಃ
---	--	---	---	---	--	---	---	---	--	---	---	--	----	----

ಕ	ಖ	ಗ	ಘ	
---	---	---	---	--

ಚ	ಛ	ಜ		ಞ
---	---	---	--	---

ಟ	ಠ		ಡ	ಣ
---	---	--	---	---

ತ		ದ	ಧ	ನ
---	--	---	---	---

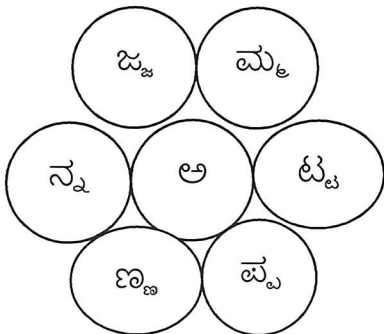
	ಫ	ಬ	ಭ	ಮ
--	---	---	---	---

ಯ	ರ	ಲ		ಶ	ಷ	ಸ	ಹ	ಳ
---	---	---	--	---	---	---	---	---

II. ಈ ಕೆಳಗಿನ ಒತ್ತಕ್ಷರಗಳನ್ನು ಬಳಸಿಕೊಂಡು ಐದು ಪದಗಳನ್ನು ರಚಿಸಿರಿ.

1X5=5

(Frame 5 words with the help of given Ottakshara)



1. _____

2. _____

3. _____

4. _____

5. _____

III. ಈ ಕೆಳಗೆ ಕೊಟ್ಟಿರುವ ಕನ್ನಡ ಅಂಕಿಗಳನ್ನು ಪೂರ್ಣಗೊಳಿಸಿರಿ.
(Complete the given Kannada numbers)

1X5=5

- ೧, ೨, _____, _____, ೫, _____, _____, ೮, _____, ೧೦.
- ೧೧ _____, ೧೨, _____, ೧೫, _____, ೧೭, _____, _____, ೨೦

IV. ಈ ಕೆಳಗಿನ ಅಕ್ಷರಗಳನ್ನು ಬಳಸಿ ಐದು ಪದಗಳನ್ನು ರಚಿಸಿರಿ.

5X1=5

(Frame 5 words by the help of given letters)

ಫ, ಲ, ರ, ನ, ಳ, ಣ, ಜ, ಆ
ಗ, ಓ, ಈ, ಶ, ಟ, ಮ, ಸ, ಕ

1. _____
2. _____
3. _____
4. _____
5. _____



Jindal Vidya Mandir, JSW Hill Side Township
Weekly Test-12 (Term-2) 2025-26

Class:II
Subject: EVS

Duration: 45 min
Max Marks: 20 M

General instructions:

- This paper consists of 6 main questions.
- All questions are compulsory.

I. Choose the correct option.

(2×1=2 M)

1. Which of the following is the path around which a planet moves around a star?

- a)orbit b) moon c)constellation d)planet.

2. Which of the following is a flat area of a land?

- a) plateau b) mountain c) plain d) hill

II. Name the following.

(4 ×1=4 M)

3. The mixture of gases that surrounds the Earth.: _____

4. V-shaped low land between Hills or mountains: _____

5. Planet farthest from the sun: _____

6. Planet closest to the sun.: _____

III. Fill in the blanks by choosing the right word from the bracket given: (3 ×1= 3M)

7. When none of the moon's surface is visible in the sky, this phase is called _____
(new/full) moon.

8. we get _____ (salty/ fresh) water from rain.

9. The tip of mountain is called its. _____(peak /plateau)

IV. Right T for true or F for false.

(4 ×1= 4 M)

10. Hills are higher than mountains. _____
11. The sun is the only star in the sky. _____
12. A group of planets is called a constellation. _____
13. The moon has its own light. _____

V. Answer the following questions.

(4 ×1= 4M)

14. Which planet is known as the 'Blue Planet'?

And: _____

15: Name any two sources of fresh water?

And: _____

16. Name any two rivers which are formed when snow melts on high mountains.

And: _____


17. Which plants grow in deserts?

Ans. _____

VI. Draw the following phases of the moon and label them.: full moon give us moon, and crescent moon.

(3 ×1= 3M)

--	--	--



Jindal Vidya Mandir, JSW Hill Side Township
Term-II Weekly Test – 12 (2024-25)

Class: III/ Sec: _____

Name : _____

Sub: Mathematics

Duration: 45 Minutes

Roll No. _____

Max Marks: 20

I. Fill in the blanks.

5X1M =5M

- a) There are _____ days in the month of February in a leap year.
- b) ₹ 52.75 X 5 = ₹ _____
- c) _____ months have 31 days in a calender.
- d) To convert rupees into paise,we _____ by 100.
- e) 1 hour = _____ seconds.

II. Compare the following numbers using the correct sign (< , > or =) 4X1/2M=2M

- a) ₹646 _____ ₹ 8.46
- b) 320p + 519p _____ ₹ 9.45
- c) 2469p _____ ₹ 24.96
- d) ₹12.35 _____ ₹ 14.75 - ₹10.45

II. Answer the following questions.

5X2M =10M

1. Write the time in two ways.



2. Write the given amount in long form.


- a) ₹ 73.87 =
- b) ₹ 316.25 =

3. Arrange in columns and add.

$$₹ 856.56 + ₹ 127.78$$

4. Draw hour and minute hand to show the given time.

20 minutes to 8



5. Divide and write the quotient and the remainder .

$$₹ 55.60 \div 8$$

III. Answer the following.

1X3M =3M

1. Mala buys a pen for ₹28 and a notebook for ₹ 54. How much money does she get back if she gives a ₹ 200 note to the shopkeeper?



Jindal Vidya Mandir, JSW Hill Side Township

Term-2, Weekly Test -12 (2025-26)

Class IV
Subject: Hindi

Duration: 45 min
Max marks:20

आवश्यक निर्देश : (1) सभी प्रश्नों को हल करना अनिवार्य है ।

(2) प्रश्नों की कुल 4 संख्या है ।

प्रश्न (I) प्रश्नों को ध्यान पूर्वक पढ़कर दिए गए विकल्पों में से सही विकल्प चुनकर लिखिए-

5X1=5

1) 'मत' शब्द के दो भिन्नार्थक शब्द बताइए -

(क) समान और नहीं (ख) वोट और नहीं (ग) पूर्व और उत्तर (घ) रंग और वोट

2) 'मगर' शब्द के दो भिन्नार्थक शब्द बताइए -

(क) मगरमच्छ और परंतु (ख) परंतु और लेकिन (ग) फूल और कली (घ) जवाब और दिशा

3) 'हम कल शिमला जाएँगे' इस वाक्य में काल का भेद बताइए -

(क) भूतकाल (ख) भविष्य काल (ग) वर्तमान काल (घ) इनमें से कोई नहीं

4) 'राधिका भोजन कर रही है' इस वाक्य में काल का भेद बताइए -

(क) भूतकाल (ख) भविष्य काल (ग) वर्तमान काल (घ) इनमें से कोई नहीं

5) 'चूहा सारी रोटी खा गया' इस वाक्य में काल का भेद बताइए -

(क) भूतकाल (ख) भविष्य काल (ग) वर्तमान काल (घ) इनमें से कोई नहीं

प्रश्न (II) नीचे दिए गए वाक्यों में सही विराम चिन्ह लगाकर वाक्यों को पुनःलिखिए -

3X1=3

1) आप लोग कहाँ जा रहे हैं

2) अंकुर नेहा सोनू और प्रिया खेल रहे हैं ।

3) पं.जवाहरलाल नेहरू देश के पहले प्रधानमंत्री थे

प्रश्न (III) नीचे दिए प्रश्नों के उत्तर दीजिए -

4X2=8

1) हुदहुद को कहीं 'हजामिन' चिड़िया और कहीं 'पदुबया' के नाम से पुकारते हैं। क्यों ?

2) सुलेमान किस पर बैठकर जा रहे थे ?

3) हुदहुदों का वंश समाप्त होने के करीब क्यों पहुँच गया था ?

4) हुदहुद पक्षी की कोई दो विशेषता बताइए -

प्रश्न (IV) गृहकार्य को लेकर माँ और पुत्र के बीच के होने वाले संवाद को 30 से 40 शब्दों में लिखिए-1X4=4





Jindal Vidya Mandir, JSW Hill Side Township

Weekly Test -12(Term-II -2025-26)

Class: IV

Sub- Kannada(II Language)

Max Marks: 20

Duration : 45 minutes

**ಸೂಚನೆಗಳು:-ಪ್ರತಿಯೊಂದು ಪ್ರಶ್ನೆಗಳನ್ನು ಸರಿಯಾಗಿ ಓದಿಕೊಂಡು ಉತ್ತರಿಸಿರಿ.
ಪ್ರಶ್ನೆ ಮತ್ತು ಉಪ ಪ್ರಶ್ನೆಗಳ ಸಂಖ್ಯೆ ಯನ್ನು ಸರಿಯಾಗಿ ಬರೆಯಿರಿ.**

I. ಈ ಕೆಳಗಿನ ಪಠ್ಯೇತರ ಗದ್ಯಭಾಗವನ್ನು ಓದಿ, ಕೊಟ್ಟಿರುವ ಪ್ರಶ್ನೆಗಳಿಗೆ ಉತ್ತರಿಸಿರಿ.

4x1=4

ಡಾ. ರಾಜಕುಮಾರ್ ಅವರು 1929ರ ಏಪ್ರಿಲ್ 24ರಂದು ಜನಿಸಿದರು. ಚಾಮರಾಜನಗರದಿಂದ 12 ಮೈಲಿ ದೂರದಲ್ಲಿರುವ ತಾಳವಾಡಿ ಪಕ್ಕದ ಗಾಜುನೂರು ಇವರ ಹುಟ್ಟೂರು. ಗಾಜುನೂರು ಲಕ್ಷ್ಮಮ್ಮನವರ ತವರೂರು. ಸಿಂಗನಲ್ಲೂರು ಪುಟ್ಟಸ್ವಾಮಿಯವರ ಮೂಲ ಸ್ಥಳ. ಸುಪ್ರಸಿದ್ಧ ರಂಗಭೂಮಿಯ ನಟರಾದ ಸಿಂಗನಲ್ಲೂರು ಶ್ರೀ ಪುಟ್ಟಸ್ವಾಮಯ್ಯ ಇವರ ತಂದೆ. ತಾಯಿ ಶ್ರೀಮತಿ ಲಕ್ಷ್ಮಮ್ಮನವರು. ರಾಜಕುಮಾರ್ ಅವರ ಮೂಲನಾಮ ಮುತ್ತುರಾಜು. ರಂಗಭೂಮಿಯು ಇವರ ಮೊದಲ ಆಡಂಬೊಲ.ಗುಬ್ಬಿ ವೀರಣ್ಣನವರ ನಾಟಕ ಕಂಪನಿಯಲ್ಲಿ ಬಾಲ ಕಲಾವಿದನಾಗಿ, ಅವರ ವೃತ್ತಿಜೀವನ ಆರಂಭ ಮಾಡಿದರು.

ಪ್ರಶ್ನೆಗಳು:

- 1) ಡಾ. ರಾಜಕುಮಾರ್ ಅವರು ಎಷ್ಟರಲ್ಲಿ ಜನಿಸಿದರು?
- 2) ಡಾ. ರಾಜಕುಮಾರ್ ಅವರ ತಂದೆಯ ಹೆಸರೇನು?
- 3) ಡಾ. ರಾಜಕುಮಾರ್ ಅವರ ತಾಯಿಯ ಹೆಸರೇನು?
- 4) ಡಾ.ರಾಜಕುಮಾರ್ ಅವರ ಹುಟ್ಟೂರು ಯಾವುದು?

II. ಈ ಕೆಳಗಿನ ವಾಕ್ಯಗಳನ್ನು ಗಮನಿಸಿ ಸರಿಪಡಿಸಿ ಬರೆಯಿರಿ.

2x1=2

1. ಪುಟ್ಟುವು ಎಳೆತದ ಬಿದ್ದು ರಭಸಕ್ಕೆ.
2. ಬಾವಿಗೆ ಎಂದು ಚಂದ್ರನು ಬಿದ್ದನು

III. ನಿಮ್ಮ ಊರಿನ ಜಾತ್ರಾ ಮಹೋತ್ಸವದ ಕಾರಣ ಎರಡು ದಿನ ರಜೆ ಕೋರಿ, ನಿಮ್ಮ ತರಗತಿ ಶಿಕ್ಷಕರಿಗೆ ಒಂದು ಪತ್ರ ಬರೆಯಿರಿ.

1x4=4

IV. ಈ ಕೆಳಗಿನ ಪ್ರಶ್ನೆಗಳಿಗೆ ಒಂದು ವಾಕ್ಯದಲ್ಲಿ ಉತ್ತರ ಬರೆಯಿರಿ.

4x1=4

1. ರೈಲು ಯಾವ ಶಬ್ದ ಮಾಡುತ್ತಾ ಚಲಿಸುತ್ತದೆ?
2. ರೈಲ್ವೆ ನಿಲ್ದಾಣದಲ್ಲಿ ಮಕ್ಕಳು ಯಾರ ಜೊತೆ ಸಂವಾದ ನಡೆಸಿದರು?
3. ಕೊಕ್ಕೆಯನ್ನು ಏಕೆ ತಂದರು?
4. ಗೋಪಿ ಪುಟ್ಟು ಬಾವಿಯಲ್ಲಿ ಏನು ನೋಡಿದರು?

V. ಈ ಕೆಳಗಿನ ಮಾತುಗಳನ್ನು ಸಂದರ್ಭ ಸಹಿತ ವಿವರಿಸಿರಿ.

2x3=6

1. ನಿಮ್ಮದು ಯಾವೂರು ಮಕ್ಕಳೇ?
2. ಬೆಟ್ಟ ಹತ್ತುವಾಗ ನಿಮಗೆ ಕಷ್ಟ ಅನಿಸಲಿಲ್ಲವೇ?

Jr. Sivaleela



Jindal Vidya Mandir, JSW Hill Side Township
Term-II Weekly Test-12 (2025-26)

Class: V/ Sec: _____

Duration: 45mins

Sub: English

Max Marks: 20

General Instructions:

-
- This question paper consists of 2 pages and 6 main questions.
 - All the questions are compulsory.
-

I. Read the poem and answer the given questions.

4X1=4

A shadow came one afternoon, soft footsteps on the floor,

It took away all colours and quietly shut the door.

The red from every flower, the blue from sky so wide,

The yellow from the sunshine, the rainbow tried to hide.

The world turned dull and grey that day,

Nothing looked bright or gay.

Answer the following questions

Q1. What did the shadow take away?

Q2. Name any two colours mentioned in the poem.

Q3. How did the world look after the colours were gone?

Q4. Why do you think colours are important in our life?

II. Write a biographical sketch of Kalpana Chawla (in about 40-60 words)

1X4=4

Name: Kalpana Chawla

Born: 17 March 1962, Karnal, Haryana

Education: Studied aeronautical engineering

Profession: Astronaut

Achievement: First Indian woman in space

Qualities: Brave, hardworking, determined

III. Complete the sentences by adding a suitable predicate in these sentences. 2X1=2

1. The alert pilot _____.

2. The Indian flag _____.

IV. Add another clause to complete each sentence.

2X1=2

1. Let us leave immediately or _____.

2. The rain has stopped, but _____.

V. Write these sentences as compound sentences by using the conjunctions in brackets.

2X1=2

1. The pans are not washed. The plates are not washed. (nor)

2. I am not well. I am going to school. (yet)

VI. Answer the following questions.

2X3=6

Q1. Who seemed mightier than a rock? Why?

Q2. What was wrong with the king?

Q3. Why were the messengers asked to look for a happy man in a place one would not expect to find one?



Jindal Vidya Mandir, JSW Hill Side Township
Weekly Test - 12 (2025-26)

Class: VI
Subject: Mathematics

Duration: 45 minutes
Max. Marks: 20

General Instructions: -

- 1) This question paper is printed in 1 page.**
- 2) All the questions are compulsory.**

I. Fill in the blanks.

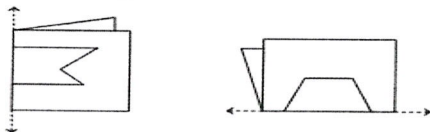
6 X 1M = 6M

1. The shape of a _____ remains the same when rotated by any angle.
2. A figure with no line of symmetry is called an _____ figure.
3. The alphabet 'S' has _____ line of symmetry.
4. The _____ is the point around which a figure is rotated in rotational symmetry.
5. _____ is an integer which is neither positive nor negative.
6. The number of integers lying between -5 and 5 is _____.

II. Do as directed

7 X 2M = 14M

7. Given below are figures of a few folded sheets and designs drawn about the fold. In each case, draw a rough diagram of the complete figure that would be seen when the design is cut off.



8. A boy scored -60 marks in one competitive test and he scored + 90 marks in second competitive test. What was his final score?
9. Suppose Pooja start with 0 rupees in the bank account and then she debited ₹ 10, ₹ 50, ₹ 90, ₹ 5 and ₹ 250, and then credited ₹ 500. What is her bank amount now?
10. Write 5 English letters which have horizontal line of symmetry.
11. Can we have a figure with rotational symmetry whose smallest angle of symmetry is: a. 40° ? b. 18°
12. Complete the additions using tokens: a. $(+ 6) + (+ 3)$ b. $(- 4) + (- 2)$
13. The sum of two integers is 30. If one of them is -2, then find the other integer.





Jindal Vidya Mandir, JSW Hill Side Township
Term-2 Weekly Test-12 (2025-26)

Class: VII
Sub: Hindi (II Lang)

Duration: 45 min.
Max Marks: 20

सामान्य निर्देश:-

- सभी प्रश्नों के उत्तर देना अनिवार्य है-
- प्रश्नों में दिए गए शब्द सीमा का विशेष ध्यान दें-

प्रश्न I. निम्नलिखित पठित गद्यांश को पढ़कर प्रश्नों के नीचे दिए गए विकल्पों से सही विकल्प चुनकर लिखिए- 4×1=4

वीरता की अभिव्यक्ति अनेक प्रकार से होती है। लड़ना-मरना, खून बहाना, तोप-तलवार के सामने न झुकना ही नहीं कर्ण की भाँति याचक को खाली हाथ न लौटाना या बुद्ध की भाँति गूढ़ तत्वों की खोज में सांसारिक सुख त्याग देना भी वीरता ही है। वीरता तो एक अंतःप्रेरणा है। वीरता देश-काल के अनुसार संसार में जब भी प्रकट हुई, तभी अपना एक नया रूप लेकर आई और लोगों को चकित कर गई। वीर कारखानों में नहीं ढलते, न खेतों में उगाए जाते हैं, वे तो देवदार के वृक्ष के समान जीवनरूपी वन में स्वयं उगते हैं, बिना किसी के पानी दिए, बिना किसी के दूध पिलाए बढ़ते हैं। वीर का दिल सबका दिल और उसके विचार सबके विचार हो जाते हैं। उसके संकल्प सबके संकल्प हो जाते हैं। औरतों और समाज का हृदय वीर के हृदय में धड़कता है।

1. वीरता के प्रकार हैं
(क) लड़ाई (ख) याचक को खाली हाथ न जाने देना
(ग) ज्ञान की खोज में संसार-त्याग (घ) उपर्युक्त सभी
2. उपयुक्त शीर्षक दीजिए
(क) वीरता (ख) वीरों का उद्भव
(ग) वीरता का महल (घ) कोई नहीं
3. वीर कहाँ उत्पन्न होते हैं?
(क) वे देवदार के वृक्ष के समान स्वयं उगते हैं तथा बड़े होते हैं। (ख) कारखानों में
(ग) खेतों में (घ) कोई नहीं
4. वीर पुरुष की क्या पहचान है?
(क) वह सबका चहेता होता है। (ख) उसके संकल्प समाज के संकल्प होते हैं।
(ग) (क) व (ख) (घ) कोई नहीं।

प्रश्न II. स्वर संधि पर आधारित प्रश्नों के उत्तर दीजिए —

4×1=4

1. 'वधूर्मि' शब्द में किस संधि का नियम लागू हुआ है ?
2. 'देवार्चन' शब्द का संधि विच्छेद क्या होगा ?
3. 'देव + इंद्र' शब्द का संधिपद क्या होगा ?
4. संधि में यदि स्वर 'अ' और 'इ' मिलते हैं तो कौन-से स्वर का निर्माण करते हैं ?

प्रश्न III. निम्नलिखित प्रश्नों के उत्तर 30 से 35 शब्दों में लिखिए --

4×2= 8

1. मीरा के पद के आधार पर ब्रज की भोर का वर्णन कीजिए।
2. सांप्रदायिक सन्दाव में कुँवर सिंह की गहरी आस्था थी- पाठ के आधार पर कथन की पुष्टि कीजिए।
3. कुँवरसिंह को बचपन में किन कामों में मजा आता था? क्या उन्हें उन कामों से स्वतंत्रता सेनानी बनने में कुछ मदद मिली ?
4. कृष्ण को 'गिरधर' क्यों कहा जाता है ? इसके पीछे कौन-सी कथा है ? बताइए।

प्रश्न IV. विद्यालय में एडमिशन शुरू होने की जानकारी देने के लिए एक विज्ञापन लिखिए।

1×4=4

Jindal Vidya Mandir, JSW Hill Side Township

Weekly Test -12 Term - II (2025- 26)

Class; VII

M.Marks:20

Subject: Kannada (II Language)

Duration:45 min

I.ಈ ಕೆಳಗಿನ ವ್ಯಾಕರಣಾಂಶದ ಪ್ರಶ್ನೆಗಳಿಗೆ ಸೂಚನೆಯಂತೆ ಉತ್ತರಿಸಿರಿ.

5X1=5

1. “ಅಪರಂಜಿ” ಈ ಪದವನ್ನು ಸ್ವಂತ ವಾಕ್ಯದಲ್ಲಿ ಬರೆ.
2. “ಬಿಸಿಲು ಮಚ್ಚು” ಪದದ ಅರ್ಥ_____
3. “ರಾಜ” ಈ ಪದದ ತದ್ಭವ ರೂಪ_____
4. “ದೇವಾಲಯ” _____ ಸಂಧಿಗೆ ಸೇರಿದ ಪದವಾಗಿದೆ.
5. “ಸಪ್ತಸ್ವರಗಳು” _____ ಸಮಾಸಕ್ಕೆ ಸೇರಿದ ಪದವಾಗಿದೆ.

II.ಈ ಕೆಳಗಿನ ಪ್ರಶ್ನೆಗೆ ಸಂದರ್ಭ ಸಹಿತ ವಿವರಿಸಿರಿ.

1X2=2

- 1.“ಹೌದು ಒಡೆಯ ಕ್ರೀಡಾಂಗಣಕ್ಕೆ ಇರುವುದು ಒಂದೇ ಹೆಬ್ಬಾಗಿಲು”

III.ಈ ಕೆಳಗಿನ ಯಾವುದಾದರೂ ಒಂದು ವಿಷಯಕ್ಕೆ ಪ್ರಬಂಧ ರಚಿಸಿರಿ.

1X3=3

“ವೀರ ಅಭಿಮನ್ಯು “

ಅಥವಾ

“ ಗಣರಾಜ್ಯೋತ್ಸವ”

IV. ಪತ್ರಲೇಖನ :-


1X4=4

ನಿಮ್ಮ ಊರಿಗೆ ಬಸ್ ಸಂಚಾರ ವ್ಯವಸ್ಥೆ ಸರಿಪಡಿಸುವಂತೆ ಕೋರಿ, ಗ್ರಾಮ ಪಂಚಾಯಿತಿ ಅಧ್ಯಕ್ಷರಿಗೆ ಒಂದು ಮನವಿ ಪತ್ರ ಬರೆಯಿರಿ.

V.ಈ ಕೆಳಗಿನ ಪ್ರಶ್ನೆಗಳಿಗೆ 4 - 5 ವಾಕ್ಯದಲ್ಲಿ ಉತ್ತರಿಸಿರಿ.

2X3=6

1. ಕೃಷ್ಣನನ್ನು ಕೊಲ್ಲಲು ದುರ್ವಿಧ ಶೈಲಿಕರು ಮಾಡಿದ ಮಾರ್ಪಾಡುಗಳೇನು?
2. ಅಭಿಮನ್ಯುವಿನ ಮಾತನ್ನು ಕೇಳಿ ಧರ್ಮರಾಯ ಏನು ಹೇಳುತ್ತಾನೆ?



Jindal Vidya Mandir, JSW Hill Side Township
Weekly Test-12, Term – II (2025 -26)

Class: VIII
Subject : English

Duration: 45 Min
Max Marks: 20

General Instructions:

- This question paper is printed in 1 page. It consists of 4 main questions.
 - All questions are compulsory.
-

1. Write a letter to the Editor complaining about poor sanitation and garbage disposal in your locality and suggesting ways to improve cleanliness. **(1×5 = 5M)**

2. **Report the dialogue –** **(2×3 = 6M)**

a. Riku : I have not collected the box.

Titin : Did you forget?

Riku : No.

b. Ayan : What is your favourite subject?

Riktanu : I love science.

Ayan : Study other subjects too.

3. **Answer any one question of the following : (100-120 words)** **(1×6 = 6M)**

a. What is a true bargain? Why does the poet not consider any other bargain as worthwhile?

b. What role does the **fight** play in developing the friendship between Ranji and Suraj?

4. **Answer any one question of the following : (40-50 words)** **(1×3 = 3M)**

a. Why was Princess September unhappy at the beginning of the story?

b. How insecurity and jealousy can destroy relationship ? Write in the context of Princess September.



Duration: 45 minutes

Max Marks: 20

- This question paper consists of 2 pages and 12 questions.
- All the questions are compulsory.

I. Choose the correct answer.

$$5 \times 1 = 5$$

- ### Section- B

II. Answer the following very short questions.

$$2 \times 1 = 2$$

6. Who appoints the Judges of Supreme Court?
7. Which state in the country has the largest number of food insecure people?

II. Answer the following short questions.

3X2=6

8. How are the Council of Ministers categorised?
9. What are the dimensions of 'food security'?
10. Which are the methods used by the Nazi regime to establish total control over German society after Hitler became Chancellor.

III. Answer the following long question.

1X3=3

11. What is 'buffer stock'? Why was it created by the government?
or

What are the primary functions and powers of Parliament in a democratic country like India? List at least five major roles.

IV. Answer the following very long question.

1X4=4

12. Analyze the powers and functions of President of India.

or

Critically analyse the argument that the rise of Nazi Germany could be partly traced back to the German experience at the end of the First World War.
