



Jindal Vidya Mandir, JSW Hill Side Township

Term-II Examination (2025-26)

Set - A

Class: II/ Sec: _____

Sub: English

Name: _____

Invigilator's Signature: _____

Max Marks: 40

Duration: 2Hrs

Roll no: _____

Date: _____

General Instructions:

- This paper consists 8 pages.
- Question paper is divided in four sections, Section A(Reading), Section B (Writing), Section C (Grammar), Section D(Literature)
- All the questions are compulsory.

Section –A (Reading) (6 Marks)

I-A. Read the passage and answer the questions.

6X $\frac{1}{2}$ =3

In a colourful garden, there lived a busy little bee named Benny. Benny flew from flower to flower, collecting nectar to make honey. He worked hard every day, buzzing happily as he went about his tasks. One day, Benny noticed that some flowers were wilting because they needed water. He quickly flew to his friend, the butterfly, and asked for help. Together, they found some raindrops and sprinkled them on the flowers. Soon, the flowers perked up and bloomed brightly again.

1. Fill in the blanks.

- a) Benny is a busy little _____.
- b) Benny is collecting _____ to make honey.

2. Write 'T' for true and 'F' for false sentences:

- a) Benny worked hard every day and was always buzzing happily. _____
- b) Benny did not notice that some flowers were wilting. _____


3. Find any two action words from the passage:

- a) _____ b) _____

II-B. Look at the picture and write three sentences by using the words from the help box.

sunny, girl, children, kite, dog, little, fly

1X3=3



1. _____.
2. _____.
3. _____.

Section- C (Grammar) (16 Marks)

III-A. Underline the “common nouns” and circle the “proper nouns”.

1X2=2

1. Harry went out to play in the park.
2. Rahul presented a guide book to his brother.

III-B. Join the main verb in column B with the words from column A and C to make any ‘four’ meaningful sentences.

½X4=2

| A | B | C |
|-------|------|------------------|
| They | is | absent yesterday |
| I | was | lovey |
| Sahil | were | dancing |
| Roses | am | going to market |

1. _____
2. _____
3. _____
4. _____

III-C. Complete the sentences using a helping verb and the correct form of the main verb given in the bracket.

½X4=2

1. My parents _____ (work) in the same bank.
2. I _____ (watch) my baby brother play.
3. Bunty _____ (talk) to her friend on the phone yesterday
4. Last year, He _____ (sing) for the competition at this time.

III-D. Fill in the blanks with ‘has’, ‘have’ or ‘had’.

½X2=1

1. Robert _____ a new dress. (Present time)
2. The boys _____ a cricket match yesterday. (Past time)

III-E. Underline the “main verbs” in these sentences.

½X4=2

1. Last night we watched a film.
2. Suhas will buy a new bat.
3. My father walks in the park.
4. I read the newspaper daily.

III-F. Fill in the blanks by changing the adjectives given in the brackets into ‘Adverbs’.

1. They finished building the house _____ (quick). **½X2=1**
2. Anu spoke _____ (kind) to him.

III-G. Fill in the blanks with the correct “personal pronouns”.

½X2=1

1. I will go and tell her that _____ needs to sleep well before exam.
2. Show me your new book, _____ want to see it.

III-H. Join the sentences using suitable “conjunctions”.

½X3=1½

1. Amit bought a new shirt. Amit bought a pair of shoes.

Ans: _____

2. It was dark and cloudy. It did not rain.

Ans: _____

3. We could play cricket. We could play football.


Ans: _____

III-I. Write “S” statements, “Q” for questions and “E” for exclamatory sentences.

1. Ouch! You stepped on my foot! _____ **½X3=1½**
2. Don't worry, your mother will clean it. _____
3. Why are you not in bed yet? _____

III-J. Look at the picture and fill in the blanks with 'in', 'on' or 'under'.

½X2=1



1. The clock is _____ the wall.
2. The books are _____ the table.

III-K. Rewrite these sentences using the correct "punctuation marks".

½X2=1

1. mumbai is the financial capital of india

Ans: _____

2. can you pass me some sugar

Ans: _____

Section-D (Literature) (11 Marks)

IV-A. Read the poem extract and answer the questions.

1X2=2

"We must be in time," said they,
"First, we study, then we play.
That is how we keep the rule,
When we froggies go to school."

1. Name the poem of the above extract.

Ans. _____

2. How do the froggies keep the rule in school?

Ans. _____

IV-B. Write who said these words to whom.

1X2=2

1. "None of your pairs is any good. You are a cheat!"

Ans. _____ to _____

- 2 "If I had known that Osaka was only copy of Kyoto, I would never come all the way"

Ans. _____ to _____

IV-C. Read the poem extract and answer the questions.

1X2=2

"What makes you laugh, my little lass,
From morning until noon?"
"I saw a dappled donkey
Throwing kisses at the moon."

1. What made the girl laugh?

Ans. _____

2. Write a pair of rhyming word from the extract.

Ans. _____

IV-D. Answer the following questions.

1X5=5

1. What did Ramappa sell in his shop?

Ans: _____

2. How is the tree useful for the living things in the nature?

Ans: _____

3. What did Carla collect in the sack?

Ans: _____

_____.

4. Where were the homes of the two frogs?

Ans: _____

_____.

5. Why did Ramappa fetch an alphabet on the board?

Ans: _____

_____.

Jindal Vidya Mandir, JSW Hill Side Township

Term II Examination (2025-26)

Class : II /Sec:

Set-B

Max.Marks: 40

Sub : Hindi (II Language)

Duration : 2 hrs

Name : _____

Roll No.: _____

Invigilator's Sign _____

Date: _____

General Instructions:

- 1) सभी प्रश्नों को हल करना अनिवार्य है।
- 2) कुल प्रश्न संख्या 10 है।

प्रश्न। गद्यांश को पढ़कर प्रश्नों के सही उत्तर लिखो -

5X1=5

नीना के घर के पीछे एक छोटा बगीचा है। उस बगीचे में बहुत सारे पेड़ और फूल हैं। हर सुबह नीना वहाँ पानी डालती है। उसे गुलाब के फूल सबसे ज़्यादा पसंद हैं। कभी-कभी वहाँ एक छोटी गिलहरी भी खेलने आती है। नीना उसे दाने खिलाती है।

(1) नीना के घर के पीछे क्या है?

(क) मैदान (ख) बगीचा (ग) स्कूल (घ) नदी

उत्तर-----

(2) बगीचे में क्या-क्या हैं?

(क) पेड़ और फूल (ख) झूले और गेंद (ग) पत्थर और मिट्टी (घ) किताबें

उत्तर-----

(3) नीना रोज क्या करती है?

(क) स्कूल जाती है (ख) बगीचे में पानी डालती है (ग) खाना बनाती है (घ) झूला

झूलती है

उत्तर-----

(4) नीना को कौन-से फूल पसंद हैं?

(क) कमल (ख) गुलाब (ग) सूरजमुखी (घ) गेंदा

उत्तर-----

(5) बगीचे में कौन खेलने आता है?

(क) कुत्ता (ख) बिल्ली (ग) गिलहरी (घ) तोता

उत्तर-----

प्रश्न II) दिए गए शब्दों के लिए सही विशेषण शब्द चुनकर लिखो - $2 \times 1 = 2$

1) ----- गाजर (लाल , आलसी)

2) ----- सेब (लाल , आलसी)

प्रश्न III) दिए गए शब्दों के समानलय वाले शब्द लिखो - $4 \times 1 = 4$

1) माली - ----- ख) चुगना - -----

ग) सरदी - ----- घ) मीत - -----

प्रश्न IV) नुक्ता वाले शब्द लिखिए ।

2X1=2

क) ज़ - -----

ख) फ़ - -----

प्रश्न V) नीचे दिए गए शब्दों के लिंग बदल कर लिखिए ।

3X1=3

क) धोबी - ----- (धोबिन , बहन)

ख) माता - ----- (पिता, माँ)

ग) लड़की - ----- (भैया , लड़का)

प्रश्न VI) नीचे दिए गए प्रश्नों के उत्तर एक वाक्य में दीजिये-

4X1=4

1) दादाजी को बाज़ार से क्या लाना था ?

उत्तर-----

2) चिड़िया दूर-दूर तक क्यों जाती है ?

उत्तर-----

3) आम से बनने वाली चार चीजों के नाम लिखो ?

उत्तर-----

4) तितली से बच्चा क्या चाहता है ?

उत्तर-----

प्रश्न VII) नीचे दिए गए प्रश्नों के उत्तर दो तीन वाक्यों में दीजिये -

3x2=6

क) शेरूदा शिकार क्यों नहीं करता था ?

उत्तर-----

ख) अपना थैला साथ लेकर जाना क्यों ज़रूरी है ?

उत्तर-----

ग) क्या मिनी की बात चाँद तक पहुँच सकती थी ?

उत्तर-----

प्रश्न VIII) दिए गए बिंदुओं को चुनकर कहानी पूरी करो -

4x1=4

भाई, पीला, परेशानी, धीरे-धीरे, पूरी, जीभ, माफ़ी, गले

लालू और पीलू दो ----- थे। लालू को लाल रंग पसंद था और पीलू को -----

रंग। एक दिन उनकी माँ ने उन्हें गरम-गरम ----- दी। लालू ने जल्दी-जल्दी खाई और

उसकी ----- जल गई। पीलू ने धीरे-धीरे खाई, इसलिए उसे कोई ----- नहीं

हुई। माँ ने कहा - "देखो बच्चों, खाना हमेशा ----- खाना चाहिए।" लालू ने माँ से

----- माँगी और बोला - "अब मैं धीरे-धीरे खाऊँगा।" माँ मुस्कुराई और दोनों को

----- लगाया।


प्रश्न IX) दिए गए विषय पर पाँच पंक्तियों में अनुच्छेद लिखें।

5X1=5

अपना मनपसंद मौसम

प्रश्न x) नीचे दिए गए चित्र को देख कर 5 वाक्यों में वर्णन करें-

5X1=5





Jindal Vidya Mandir,JSW Hill Side Township
Term II Examination (2025-2026)

Set-B

Class:II / Sec _____

Subject: Kannada (II Language)

Name: _____

Invigilator's sign: _____

Max.Marks : 40

Duration: 2 Hours

Roll.No _____

Date: _____

ಸೂಚನೆಗಳು:

- * ಈ ಪ್ರಶ್ನೆ ಪತ್ರಿಕೆಯು ಎ, ಬಿ, ಸಿ ಮತ್ತು ಡಿ ಎಂಬ ಭಾಗಗಳನ್ನು ಒಳಗೊಂಡಿರುತ್ತದೆ.
- * ಈ ಪ್ರಶ್ನೆ ಪತ್ರಿಕೆಯು ಒಟ್ಟು 12 ಮುಖ್ಯ ಪ್ರಶ್ನೆಗಳನ್ನು ಹಾಗೂ 6 ಪುಟಗಳನ್ನು ಒಳಗೊಂಡಿದೆ.
- * ಪ್ರತಿಯೊಂದು ಪ್ರಶ್ನೆಗಳು ಕಡ್ಡಾಯವಾಗಿದ್ದು, ಸೂಚನೆಗಳನ್ನು ಸರಿಯಾಗಿ ಓದಿಕೊಂಡು ಉತ್ತರಿಸಿರಿ.

| | | |
|-------|---------------------------------|-----------------|
| ಭಾಗ-A | ವಾಚನ ಗ್ರಹಿಕ ಕೌಶಲ್ಯ | 10 ಅಂಕಗಳು |
| ಭಾಗ-B | ಅನ್ವಯಿಕ ವ್ಯಾಕರಣ | 8 ಅಂಕಗಳು |
| | ಬಹು ಆಯ್ಕೆ ಪ್ರಶ್ನೆ ಪಠ್ಯಗಳ ಅಧ್ಯಯನ | 2 ಅಂಕಗಳು |
| ಭಾಗ-C | ಬರವಣಿಗೆ ಕೌಶಲ್ಯ | 10 ಅಂಕಗಳು |
| ಭಾಗ-D | ಪಠ್ಯಗಳ ಅಧ್ಯಯನ | 10 ಅಂಕಗಳು |
| | ಒಟ್ಟು ಅಂಕಗಳು | 40 ಒಟ್ಟು ಅಂಕಗಳು |

(ಭಾಗ- A ವಾಚನ ಗ್ರಹಿಕ ಕೌಶಲ್ಯ)

I. ಈ ಕೆಳಗೆ ಕೊಟ್ಟಿರುವ ಪಠ್ಯೇತರ ಗದ್ಯ ಭಾಗವನ್ನು ಓದಿಕೊಂಡು, ಕೆಳಗಿನ ಪ್ರಶ್ನೆಗಳಿಗೆ

ಉತ್ತರಿಸಿರಿ.

5x1=5

ಭಾರತ ಬ್ರಿಟಿಷರ ಆಡಳಿತಕ್ಕೆ ಸೇರಿದ್ದ ಕಾಲ. ಅವರ ಆಡಳಿತದಿಂದ ಬಿಡಿಸಿಕೊಂಡು ಭಾರತವನ್ನು ಸ್ವತಂತ್ರವಾದ ದೇಶವನ್ನಾಗಿ ಮಾಡಲು ಹಲವಾರು ಭಾರತೀಯರು ಹೋರಾಟ ಮಾಡುತ್ತಿದ್ದರು. ಹಾವೇರಿ ಜಿಲ್ಲೆಯಲ್ಲಿ ಮೋಟೆಬೆನ್ನೂರು ಎಂಬ ಒಂದು ಹಳ್ಳಿ ಇತ್ತು. ಆ ಹಳ್ಳಿಯಲ್ಲಿ ದೇಶಭಕ್ತರೊಬ್ಬರು ಭಾಷಣ ಮಾಡುತ್ತಿದ್ದರು. "ವಿದೇಶಿ ವಸ್ತ್ರಗಳನ್ನು ತ್ಯಜಿಸಿ ನಮ್ಮ ದೇಶದಲ್ಲೇ ತಯಾರು ಮಾಡಿದ ಬಟ್ಟೆಗಳನ್ನು ತೊಡಬೇಕು" ಎಂದು ಹೇಳುತ್ತಿದ್ದರು. ಆ ಮಾತು ಕೇಳುತ್ತಿದ್ದ ಎಂಟು ವರ್ಷದ ಒಬ್ಬ ಬಾಲಕ ತನ್ನ ತಲೆ ಮುಟ್ಟಿ ನೋಡಿದ. ತಲೆಯ ಮೇಲೆ ವಿದೇಶಿ ಟೊಪ್ಪಿಗೆ ಇತ್ತು. ಕೂಡಲೇ ಟೊಪ್ಪಿಗೆಯನ್ನು ತೆಗೆದು ನೆಲಕ್ಕೆ ಎಸೆದ. ಹೀಗೆ ತಪ್ಪಿಗೆ ನೆಲಕ್ಕುಳಿಸಿದ ಹುಡುಗನ ಹೆಸರು ಮೈಲಾರ ಮಹದೇವ. ಮೈಲಾರ ಮಹದೇವ ಅವರು ೮ ಜೂನ್ ೧೯೧೧ ರಂದು ಮೋಟೆ ಬೆನ್ನೂರಿನಲ್ಲಿ ಜನಿಸಿದರು. ಇವರ ತಂದೆ ಮಾರ್ತಾಂಡಪ್ಪ, ತಾಯಿ ಬಸಮ್ಮ. ಬಸಮ್ಮ ಕೂಡ ಬ್ರಿಟಿಷರೊಂದಿಗೆ ಹೋರಾಡಿ ಜೈಲುವಾಸವನ್ನು ಅನುಭವಿಸಿದ್ದರು.

ಪ್ರಶ್ನೆಗಳು :

1. ಟೊಪ್ಪಿಗೆಯನ್ನು ತೆಗೆದು _____ ಎಸೆದ.

(i) ಮರಕ್ಕೆ

(ii) ನೆಲಕ್ಕೆ

(iii) ಆಕಾಶಕ್ಕೆ

(iv) ಕಲ್ಲಿನ ಮೇಲೆ

2. _____ ಜಿಲ್ಲೆಯಲ್ಲಿ ಮೋಟೆಬೆನ್ನೂರು ಎಂಬ ಹಳ್ಳಿ ಇತ್ತು.

(i) ಬಳ್ಳಾರಿ

(ii) ಗದಗ

(iii) ಹಾವೇರಿ

(iv) ಧಾರವಾಡ

3. ನಮ್ಮ ದೇಶದಲ್ಲಿ ತಯಾರು ಮಾಡಿದ _____ ತೋಡಬೇಕು.

- (i) ಬಳೆಗಳನ್ನು (ii) ಗೆಜ್ಜೆಯನ್ನು (iii) ಬಟ್ಟೆಗಳನ್ನು (iv) ಆಭರಣಗಳನ್ನು

4. ಆ ಹಳ್ಳಿಯಲ್ಲಿ _____ ರೊಬ್ಬರು ಭಾಷಣ ಮಾಡುತ್ತಿದ್ದರು.

- (i) ನಾಯಕ (ii) ದೇಶಭಕ್ತ (iii) ಪ್ರಜೆ (iv) ರಾಜಕಾರಣಿ

5. ಮೈಲಾರ ಮಹದೇವ ಅವರ ತಾಯಿಯ ಹೆಸರು _____.

- (i) ಬಸಮ್ಮ (ii) ಗಿರಿಜಮ್ಮ (iii) ತಾಯಮ್ಮ (iv) ಹೊಸಮ್ಮ

II. ಈ ಕೆಳಗೆ ಕೊಟ್ಟಿರುವ 'ಮೂರು ಕಲ್ಪಗಳು' ಪಠ್ಯ ಗದ್ಯಭಾಗವನ್ನು ಓದಿಕೊಂಡು, ಕೆಳಗಿನ ಪ್ರಶ್ನೆಗಳಿಗೆ ಉತ್ತರಿಸಿರಿ. 3x1=3

ಶಿಲ್ಪಿ ಕತ್ತಿದ ಸುಂದರ ಕಲ್ಲಿನ ಮೂರ್ತಿಯನ್ನು ನೋಡಲು ಜನರು ಸಾಲು ಸಾಲಾಗಿ ಬರತೊಡಗಿದರು. ಅವರು ಮೂರ್ತಿಯ ಸೌಂದರ್ಯವನ್ನು ನೋಡಿ ಆನಂದಿಸಿದರು. ಅವರೆಲ್ಲರೂ ಶಿಲ್ಪಿಯನ್ನು ಬಾಯಿ ತುಂಬಾ ಹೊಗಳುತ್ತಿದ್ದರು. ಇದನ್ನು ಮೊದಲ ಎರಡು ಕಲ್ಪಗಳು ಗಮನಿಸಿದವು. ಜನರ ಹೊಗಳಿಕೆಯನ್ನು ಕೇಳಿ ತಾವು ಹಾಗೆ ಆಗಬೇಕೆಂದು ಆಸೆ ಪಟ್ಟವು. ಕೊನೆಗೆ ಅವರೊಡನೆ "ನಾವು ಶಿಲ್ಪಿಯ ಏಟುಗಳನ್ನು ತಾಳಲಾರದೆ ಹೋದವು ನಮ್ಮ ಗೆಳೆಯ ಪೆಟ್ಟುಗಳನ್ನು ತಡೆದುಕೊಂಡನು. ಆದ್ದರಿಂದ ಇಂದು ಸುಂದರ ಮೂರ್ತಿಯಾಗಿದ್ದಾನೆ, ಅದನ್ನು ನೋಡಲು ಪ್ರತಿನಿತ್ಯ ಜನರು ಬರುತ್ತಿದ್ದಾರೆ. ನಾವೂ ಏಟನ್ನು ಸಹಿಸಿಕೊಳ್ಳುತ್ತೇವೆ. ನಮ್ಮನ್ನೂ ಸಹ ಸುಂದರ ಮೂರ್ತಿಗಳನ್ನಾಗಿ ಮಾಡು ಎಂದು ಶಿಲ್ಪಿಯನ್ನು ಕೇಳಿಕೊಳ್ಳೋಣ" ಎಂದು ತೀರ್ಮಾನಿಸಿದವು.

ಪ್ರಶ್ನೆಗಳು :

1. ಜನರು ಶಿಲ್ಪಿಯನ್ನು ಬಾಯಿ ತುಂಬಾ _____.

- (i) ಹೊಗಳುತ್ತಿದ್ದರು (ii) ಶಪಿಸುತ್ತಿದ್ದರು (iii) ಹಾಡುತ್ತಿದ್ದರು (iv) ಬೈಯುತ್ತಿದ್ದರು

2. ಜನರು ಸುಂದರ _____ ಮೂರ್ತಿಯನ್ನು ನೋಡಲು ಸಾಲು ಸಾಲಾಗಿ ಬರತೊಡಗಿದರು.

- (i) ಮಣ್ಣಿನ (ii) ಕಟ್ಟಿಗೆಯ (iii) ಉಸುಕಿನ (iv) ಕಲ್ಲಿನ.

3. ನಮ್ಮನ್ನೂ ಸಹ ಸುಂದರ ಮೂರ್ತಿಯನ್ನಾಗಿ ಮಾಡು ಎಂದು _____ ಕೇಳಿಕೊಳ್ಳೋಣ ಎಂದು ತೀರ್ಮಾನಿಸಿದವು.

- (i) ಶಿಲ್ಪಿಯನ್ನು (ii) ದೇವರನ್ನು (iii) ಕಲ್ಪನ್ನು (iv) ಜನರನ್ನು

III. ಈ ಕೆಳಗೆ ಕೊಟ್ಟಿರುವ 'ತಾಯಿ' ಪಠ್ಯ ಪದ್ಯಭಾಗವನ್ನು ಓದಿಕೊಂಡು, ಕೆಳಗಿನ ಪ್ರಶ್ನೆಗಳಿಗೆ ಉತ್ತರಿಸಿರಿ. 2x1=2

ಮಗುವು ತನ್ನ ಕರುಳ ಕುಡಿಯು
ಎಂದು ಬಗೆವಳು
ಮಗುವಿನೊಡನೆ ದಿನದ ಕೆಲಸ
ಮಾಡಿ ಬಿಡುವಳು||

ಮಗು ಅಳಲು ನೊಂದು ತಾನು
ಮನದಿ ಕನಲುವಳು
ತನ್ನ ಮಗುವ ನೋಡಿ
ಎಲ್ಲ ಮರೆವಳು||

ಮಗುವೆ ನಾಳೆ ನಾಡ ಪ್ರಜೆಯು
ಎಂದು ನೆನೆವಳು
ಜಗಕೆ ಮಗುವ ಕೊಟ್ಟು ತಾನು
ತಾಯಿ ಆದಳು||

ಪ್ರಶ್ನೆಗಳು :

1. ಮಗುವೆ ನಾಳೆ _____ ಪ್ರಜೆಯು ಎಂದು ನೆನೆವಳು.
(i) ನಾಡ (ii) ಕಾಡ (iii) ಊರ (iv) ದೇಶದ
2. ಮಗುವು ತನ್ನ _____ ಕುಡಿಯು ಎಂದು ಬಗೆವಳು.
(i) ಜೀವದ (ii) ಕರುಳ (iii) ದೇಹದ (iv) ಅಂಗದ

(ಭಾಗ- B ಅನ್ವಯಿಕ ವ್ಯಾಕರಣ)

IV. ಈ ಕೆಳಗೆ ಕೊಟ್ಟಿರುವ ಪ್ರತಿಯೊಂದು ಪ್ರಶ್ನೆಗಳಿಗೆ ನಾಲ್ಕು ಉತ್ತರಗಳನ್ನು ಕೊಡಲಾಗಿದೆ, ಅವುಗಳಲ್ಲಿ ಸರಿಯಾದ ಪದವನ್ನು ಆರಿಸಿ ಬರೆಯಿರಿ. 6X1=6

1. ಮಾತು ಬಲ್ಲವನಿಗೆ _____, ಊಟ ಬಲ್ಲವನಿಗೆ ರೋಗವಿಲ್ಲ. (ಈ ಗಾದೆ ಮಾತನ್ನು ಪೂರ್ಣಗೊಳಿಸಿರಿ)
(i) ಲಾಭವಿಲ್ಲ (ii) ಸಂಪತ್ತಿಲ್ಲ (iii) ಜಗಳವಿಲ್ಲ (iv) ಋಷಿಯಿಲ್ಲ
2. ವ್ಯವಸ್ಥೆ X _____ (ಈ ಪದದ ವಿರುದ್ಧಾರ್ಥಕ ಪದವನ್ನು ಬರೆಯಿರಿ)
(i) ನವ್ಯವಸ್ಥೆ (ii) ನಿವ್ಯವಸ್ಥೆ (iii) ಅವ್ಯವಸ್ಥೆ (iv) ವ್ಯವಸ್ಥೆಸಹಿತ
3. ಪ್ರಜೆ = _____ (ಈ ಪದದ ಸಮಾನಾರ್ಥಕ ಪದವನ್ನು ಬರೆಯಿರಿ)
(i) ನಾಗರಿಕ (ii) ಜನ (iii) ರಾಜ (iv) ಸೈನಿಕ
4. ಮಮತೆಯಿಂದ = _____ (ಈ ಪದವನ್ನು ಬಿಡಿಸಿ ಬರೆಯಿರಿ)
(i) ಮಮತೆ+ಯಿಂದ (ii) ಮಮತೆಯ +ಇಂದ (iii) ಮಮತ + ಇಂದ (iv) ಮಮತೆ+ಇಂದ
5. ಮೂರ್ತಿ+ ಅನ್ನು= _____ (ಈ ಪದವನ್ನು ಕೂಡಿಸಿ ಬರೆಯಿರಿ)
(i) ಮೂರ್ತಿಯೇ ಆಗಿ (ii) ಮೂರ್ತಿಗಾಗಿ (iii) ಮೂರ್ತಿತಾಗಿ (iv) ಮೂರ್ತಿಯನ್ನು
6. ಬಾಲಕ- _____ (ಈ ಪದದ ಲಿಂಗವನ್ನು ಬದಲಿಸಿ ಬರೆಯಿರಿ)
(i) ಬಾಲಕರು (ii) ಬಾಲಿಕೆ (iii) ಬಾಲಕಿ (iv) ಹಿಂಬಾಲಕರು

V. ಈ ಕೆಳಗೆ ಕೊಟ್ಟಿರುವ ಪ್ರಶ್ನೆಗಳಿಗೆ ಸೂಚನೆಗಳಿಗೆ ಅನುಸಾರವಾಗಿ ಉತ್ತರವನ್ನು ಬರೆಯಿರಿ. 2X1=2

1. ಈ ಕೆಳಗೆ ಕೊಟ್ಟಿರುವ ಪದ್ಯದಲ್ಲಿ ಬರುವ ಒಂದು ಪ್ರಾಸ ಪದವನ್ನು ಆರಿಸಿ ಬರೆಯಿರಿ.

ಹೂವಿನ ತೋಟಕೆ
ಜನ ಕಾದಾಟ
ಹಣ್ಣಿನ ತೋಟಕೆ
ನರಿ ನುಗ್ಗಾಟ

2. ಈ ಕೆಳಗೆ ಕೊಟ್ಟಿರುವ ಪದವನ್ನು ಸ್ವಂತ ವಾಕ್ಯದಲ್ಲಿ ಉಪಯೋಗಿಸಿ ಬರೆಯಿರಿ.

ಅನುಕೂಲ - _____

VI. ಈ ಕೆಳಗೆ ಕೊಟ್ಟಿರುವ ಬಿಟ್ಟುಸ್ಥಳಗಳನ್ನು ಸೂಕ್ತ ಪದದಿಂದ ತುಂಬಿರಿ.

2X1=2

1. ತೆರೆತೆರೆಯಾಗಿ _____ ಹೊನಲು.

2. ಕೈಯಲ್ಲೇತಕೆ _____ ಆಗದೆ ಎಂದಿತು ಇನ್ನೊಂದು.

(ಭಾಗ-C ಬರವಣಿಗೆ ಕೌಶಲ್ಯ)

VII. ಈ ಕೆಳಗೆ ಕೊಟ್ಟಿರುವ ಚಿತ್ರವನ್ನು ಗಮನಿಸಿ, ನಾಲ್ಕು ವಾಕ್ಯಗಳನ್ನು ಬರೆಯಿರಿ.

1X4=4



VIII. ಈ ಕೆಳಗೆ ಕೊಟ್ಟಿರುವ ಯಾವುದಾದರೂ ಒಂದು ವಿಷಯವನ್ನು ಕುರಿತು, ನಾಲ್ಕು ವಾಕ್ಯಗಳನ್ನು ಬರೆಯಿರಿ.

1X4=4

“ಮರಗಳ ಉಪಯೋಗ ” ಅಥವಾ “ಕಾವೇರಿ ”

IX. ಈ ಕೆಳಗೆ ಬಿಟ್ಟಿರುವ ಕನ್ನಡ ಅಂಕಿಗಳನ್ನು ಪೂರ್ಣಗೊಳಿಸಿರಿ.

2X1=2

- ಹನ್ನೊಂದು , _____, ಹದಿಮೂರು, ಹದಿನಾಲ್ಕು , _____, ಹದಿನಾರು, ಹದಿನೇಳು, _____ ಹತ್ತೊಂಭತ್ತು, _____.
- _____, _____, ಮೂವತ್ತೂರು, ಮೂವತ್ತಾಲ್ಕು, _____, ಮೂವತ್ತಾರು, ಮೂವತ್ತೇಳು _____, ಮೂವತ್ತೊಂಭತ್ತು, ನಲವತ್ತು.

X. ಈ ಕೆಳಗೆ ಕೊಟ್ಟಿರುವ ಪ್ರಶ್ನೆಗಳಿಗೆ ಒಂದು ವಾಕ್ಯದಲ್ಲಿ ಉತ್ತರಿಸಿರಿ.

4X1=4

1. ರಾಜನ ಸೇವಕರು ಎಲ್ಲಿಗೆ ಬಂದರು?

ಉ: _____

2. ಕಾವೇರಿ ನದಿ ಹರಿದು ಕೊನೆಗೆ ಎಲ್ಲಿಗೆ ಸೇರುತ್ತದೆ?

ಉ: _____

3. ಸಮಾರಂಭದಲ್ಲಿ ಯಾರನ್ನು ಸನ್ಮಾನಿಸಲಾಯಿತು?

ಉ: _____

4. ಭೂಮಿಯನ್ನು ಉಳುವುದರಿಂದ ಏನು ಪ್ರಯೋಜನ?

ಉ: _____

XI. ಈ ಕೆಳಗೆ ಕೊಟ್ಟಿರುವ ಮಾತನ್ನು ಯಾರು - ಯಾರಿಗೆ ಹೇಳಿದರು? ಬರೆಯಿರಿ.

1X2=2

1. "ಎಲ್ಲರ ಹಿತ ಕಾಪಾಡುವುದು ನನ್ನ ಕರ್ತವ್ಯ."

* ಯಾರು ಹೇಳಿದರು? _____

* ಯಾರಿಗೆ ಹೇಳಿದರು? _____

XII. ಈ ಕೆಳಗೆ ಕೊಟ್ಟಿರುವ ಪ್ರಶ್ನೆಗಳಿಗೆ ಎರಡು ವಾಕ್ಯಗಳಲ್ಲಿ ಉತ್ತರಿಸಿರಿ.

2X2=4

1. ಸತ್ಯವಂತ ಬಾಲಕನ ಹೆಸರೇನು? ಗುರುಗಳಿಗೆ ಅಚ್ಚರಿ ಮತ್ತು ಆನಂದ ಏಕಾಯಿತು?

ಅಥವಾ

ಮರಿ ಕಪಿ ಏನು ಹೇಳಿತು? ಮಂಗಳ ಉಪವಾಸವನ್ನು ಹೇಗೆ ಮುಗಿಸಿದವು?

ಉ: _____

2. ಕವಿಯತ್ತಿ ಎಲ್ಲಿಗೆ ಹೋಗುವ ಬಾ ಎಂದು ಕರೆಯುತ್ತಿದ್ದಾರೆ? ಕಡಲಿನ ತೀರದಲ್ಲಿ ಯಾವ ರಾಶಿ ಹರಡಿರುತ್ತದೆ?

ಅಥವಾ

ಅಜ್ಜಿಗೆ ತುಂಬಾ ಕೋಪ ಬರಲು ಕಾರಣವೇನು?

ಉ: _____



Jindal Vidya Mandir,JSW Hill Side Township
Term II Examination (2025-2026)

Set-B

Class: II / Sec _____

Subject: Kannada (III Language)

Name: _____

Invigilator's sign: _____

Max.Marks :30

Duration: 1Hour

Roll.No _____

Date: _____

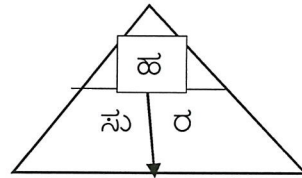
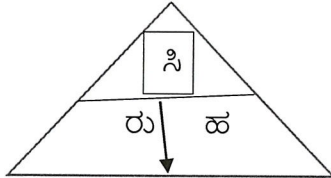
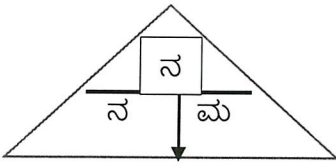
General Instructions:

- This paper contains 11 mains 4 pages.
- All questions are compulsory. Read the instructions carefully and answer.

I. ಈ ಕೆಳಗೆ ಕೊಟ್ಟಿರುವ ಅಕ್ಷರಗಳನ್ನು ಬಳಸಿ, 3 ಅರ್ಥಪೂರ್ಣ ಪದಗಳನ್ನು ಬರೆಯಿರಿ.

3X1=3

(Using the given letters, write three meaningful words)



1. _____ 2. _____ 3. _____

II. ಈ ಕೆಳಗೆ ಕೊಟ್ಟಿರುವ ಪ್ರಾಣಿಗಳ ಹೆಸರನ್ನು ಗುರುತಿಸಿ, ಸಾಕುಪ್ರಾಣಿಗಳು ಹಾಗೂ ಕಾಡುಪ್ರಾಣಿಗಳು ಎಂದು ವಿಂಗಡಿಸಿ ಬರೆಯಿರಿ:

6X1=6

(Identify the names of the following animals and classify them as domestic animals and wild animals. Write them down).

ಜಿಂಕೆ, ಮೇಕೆ, ಚಿರತೆ, ಕುರಿ,
ಜಿರಾಫೆ, ಮೊಲ,

| ಸಾಕುಪ್ರಾಣಿಗಳು | ಕಾಡುಪ್ರಾಣಿಗಳು |
|---------------|---------------|
| 1. | 1. |
| 2. | 2. |
| 3. | 3. |

III. ಈ ಕೆಳಗೆ ಕೊಟ್ಟಿರುವ ಗುಣಿತಾಕ್ಷರಗಳನ್ನು ಪೂರ್ಣಗೊಳಿಸಿರಿ.

3X1=3

(Complete the given Gunithaksharas)

| | | | | | | | | | | | | | | |
|---|----|--|----|----|--|-----|--|----|----|--|----|----|----|----|
| ಚ | ಚಾ | | ಚೀ | ಚು | | ಚ್ಯ | | ಚೇ | ಚೈ | | ಚೋ | ಚೌ | ಚಂ | ಚಃ |
|---|----|--|----|----|--|-----|--|----|----|--|----|----|----|----|

| | | | | | | | | | | | | | | |
|---|----|----|----|----|----|-----|----|----|----|----|----|----|----|----|
| ತ | | ತಿ | ತೀ | ತು | ತೂ | | ತೆ | ತೇ | | ತೊ | ತೋ | | ತಂ | ತಃ |
| | ಶಾ | ಶಿ | | | ಶೂ | ಶ್ಯ | ಶೆ | | ಶೈ | ಶೊ | ಶೋ | ಶೌ | ಶಂ | ಶಃ |

IV. ಈ ಕೆಳಗೆ ಕೊಟ್ಟಿರುವ ವ್ಯಕ್ತಿಗಳ ಜನ್ಮ ದಿನಾಚರಣೆಯನ್ನು ಏನೆಂದು ಆಚರಿಸಲಾಗುತ್ತದೆ? ಎಂದು ಬರೆಯಿರಿ. 2X1=2

(Write what celebrations are held on the birthdays of the given great persons)

(ಅಂಬೇಡ್ಕರ್ ಜಯಂತಿ , ಗಾಂಧಿ ಜಯಂತಿ , ಮಕ್ಕಳ ದಿನಾಚರಣೆ , ಶಿಕ್ಷಕರ ದಿನಾಚರಣೆ)

1.

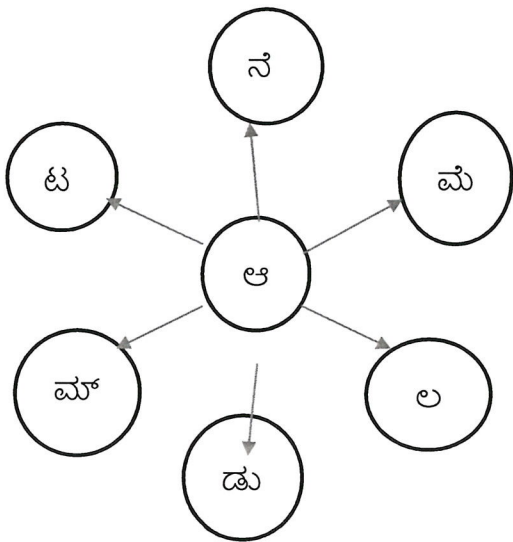


2.



V. ಈ ಕೆಳಗೆ ಕೊಟ್ಟಿರುವ ಒತ್ತಕ್ಷರಗಳನ್ನು ಉಪಯೋಗಿಸಿ, 3 ಪದಗಳನ್ನು ಬರೆಯಿರಿ. 3X1=3

(Using given Ottaksharas, write 3 words)



1. _____

2. _____

3. _____

VI. ಈ ಕೆಳಗೆ ಕೊಟ್ಟಿರುವ ಅಕ್ಷರಗಳಿಂದ ಆರಂಭವಾಗುವ ಒಂದು ಪದವನ್ನು ಬರೆಯಿರಿ. 2X1=2

(Write a word begins with the given letters)

1. ಪ - _____

2. ರ - _____

VII. ಈ ಕೆಳಗೆ ಕೊಟ್ಟಿರುವ ಪದಗಳಿಗೆ ವಿರುದ್ಧ ಪದಗಳನ್ನು ಬರೆಯಿರಿ. 2X1=2

(Write opposite words for given words below)

(ನಲಿವು, ಅಪಾಯ, ಅಭಯ, ಅಪಕಾರ)

1. ಭಯ X _____

2. ಉಪಕಾರ X _____

VIII. ಈ ಕೆಳಗೆ ಕೊಟ್ಟಿರುವ ಕನ್ನಡ ಅಂಕಿಗಳನ್ನು ಅಕ್ಷರಗಳೊಂದಿಗೆ ಹೊಂದಿಸಿ ಬರೆಯಿರಿ 3X1=3

(Match the following numbers with the number names)

1. ೧೦೦ a. ಎಪ್ಪತ್ತು ()

2. ೭೦ b. ಮೂವತ್ತು ()

3. ೨೦ c. ನೂರು ()

IX. ಈ ಕೆಳಗೆ ಕೊಟ್ಟಿರುವ ಕನ್ನಡ ಪದಗಳನ್ನು ಇಂಗ್ಲೀಷ್ ನಲ್ಲಿ ಬರೆಯಿರಿ. 2X1=2

(Write the given below words meaning in English)

1. ಸೂರ್ಯ - _____ 2. ಚಂದ್ರ - _____

X. ಈ ಕೆಳಗೆ ಕೊಟ್ಟಿರುವ ಪದ್ಯದಿಂದ ಒಂದು ಪ್ರಾಸ ಪದವನ್ನು ಆರಿಸಿ ಬರೆಯಿರಿ. 1X1=1

(Write a rhyming word from given extract)

ಹಗಲಿನ ಸಮಯದಿ ಕಾಣುವನು

ಶಾಖವ ಕೊಡುತಲಿ ಸಾಗುವನು

ಪಶ್ಚಿಮ ದಿಕ್ಕಿಗೆ ಮುಳುಗುವನು

ಸಂಜೆಯ ಸೊಬಗನು ಸಾರುವನು

1. _____

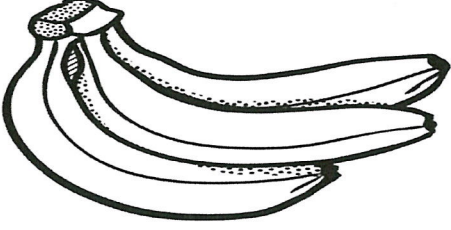
XI. ಈ ಕೆಳಗೆ ಕೊಟ್ಟಿರುವ ಹಣ್ಣಿನ ಚಿತ್ರಗಳ ಹೆಸರನ್ನು ಬರೆಯಿರಿ

3X1=3

(Write the names of the pictures,with the help box given below)

(ಕಿತ್ತಳೆ, ಬಾಳೆ, ದ್ರಾಕ್ಷೆ, ಸೇಬು, ಮಾವಿನ ಹಣ್ಣು, ದಾಳಿಂಬೆ)

1.



2.



3.





Jindal Vidya Mandir, JSW Hill Side Township
Term – II Examination (2025-26)

Class/Sec: II/ _____

Duration :1 Hour

Sub: Hindi (III Language)

Max Marks: 30M

Name : _____

Roll No. : _____

Date : _____

SET- B

Invigilator's Sign. : _____





General Instructions:


- सभी प्रश्न अनिवार्य हैं।
- कुल 7 प्रश्न हैं।

प्रश्न 1) चित्र पहचान कर नाम पूरा कीजिए।

(5X1M=5M)

(Identify the picture and complete its name.)






| | | |
|------|---|--------------|
| i. |  | ड+म+ _____ |
| ii. |  | ____+ल+गा+डी |
| iii. |  | ख+र+ ____ +श |
| iv. |  | ____+र+ण |

| | | |
|----|---|-----------|
| v. |  | पौ+ _____ |
|----|---|-----------|

प्रश्न2) चित्रों को उनके सही नाम से मिलाइए।

(5X1M=5M)

(Match the pictures with their correct names.)

| | | |
|------|---|----------|
| i. |  | कंगन |
| ii. |  | बैलगाड़ी |
| iii. |  | पाँव |
| iv. |  | फौजी |
| v. |  | टोपी |

प्रश्न 3) दिए गए शब्दों को उनकी सही मात्रा के साथ मिलाइए।

(5X1M=5M)

(Match the given words with their correct vowel sign.)

| | | |
|------|-------|-----|
| i. | कौआ | (ौ) |
| ii. | करेला | (ृ) |
| iii. | रूपया | (ौ) |
| iv. | कृषक | (ू) |
| v. | भोर | (े) |

प्रश्न 4) अंकों को उनके नाम से मिलाइए।

(5X1M=5M)

(Match the numbers with their names.)

| | | |
|------|----|------|
| i. | १६ | पांच |
| ii. | ७ | सोलह |
| iii. | ३ | सात |
| iv. | १० | तीन |
| v. | ५ | दस |

प्रश्न 5) दिए गए शब्द का चित्र बनाकर रंग भरिए।

(1X2M=2M)

(Draw picture of the given word and colour it.)

| |
|-------|
| कैमरा |
| |

प्रश्न 6) अक्षर और मात्राओं को मिलाकर शब्द बनाओ।
(Combine the letters and vowel signs to form words.)

(4X1M=4M)

| | | |
|------|------------|-------|
| i. | ह+थ+े+ल+ी= | _____ |
| ii. | र+ु+च+ी= | _____ |
| iii. | अ+ख+र+ो+ट | _____ |
| iv. | म+े+द+ा+न | _____ |

प्रश्न 7) दिए गए शब्दों के अंग्रेजी शब्द लिखो।
(Translate the given words into English.)

(4X1M=4M)

- i. मृग _____
- ii. सेब _____
- iii. रसोई _____
- iv. औषधि _____



Jindal Vidya Mandir, JSW Hill Side Township
Term – II Examination (2025-26)

Class/Sec: II/ _____

Duration :2 Hour

Sub: Mathematics

Max Marks: 40M

Name : _____

Roll No. : _____

Date : _____

SET-A

Invigilator's Sign. : _____

General Instructions:

- This question paper is printed in pages 5 and has 29 questions.
- It consists of two sections A and B . Section A is objective type and section B is subjective type.
- All questions are compulsory.

Section A

I. Choose the correct option.

(5X1M=5M)

1. If 8 apples are shared among 4 friends, each friend gets _____.

- a) 1 apple b) 2 apples c) 3 apples d) 4 apples

2. Which shape can roll?

- a) cube b) cuboid c) cylinder d) square

3. The minute hand takes _____ to complete one round.

- a) 12 minutes b) 60 minute c) 1 minute d) 24 hours

4. Which coin has the highest value?

- a) ₹ 1 b) ₹ 5 c) ₹ 10 d) 50 paisa

5. In the multiplication $4 \times 3 = 12$, the number 12 is called the _____

- a) multiplier b) multiplicand c) product d) factor

II. Fill in the blank:**(5X1M=5M)**

6. 6 times 0 is equal to _____.
7. 1000 grams = _____ kilogram.
8. A square has _____ equal sides.
9. The symbol of rupee is _____.
10. There are _____ hours in one day.

III. Write whether the statement is true or false.**(5X1M=5M)**

11. Dividing any number by 1 gives the same number. ()
12. Weight is measured in litres. ()
13. A cone can roll and slide. ()
14. We use money to measure time. ()
15. Data means collection of information. ()

IV. Match the following:**(5X1M=5M)**

| S no. | Column A | Column B | Answer |
|-------|--|------------------------------------|--------|
| 16) | Rule used in 0,4,8,12 | i) 1 metre | |
| 17) | 100 centimetre equals to | ii) Multiply by 4 | |
| 18) | The plane surface of solid shape is called | iii) Quotient | |
| 19) | The answer in division is called | iv) Thirty four rupees fifty paise | |
| 20) | ₹ 34.50 | v) Face | |

Section B

V. Do as directed:

(7X2M=14M)

21) Divide 65 by 5 using the long division method and state the quotient.

Quotient: _____

22) Choose the correct unit of measurement for:

| | | |
|------------|--------------------|-------------|
| i. | Water in a bathtub | L/mL |
| ii. | Length of pencil | cm/m |

23) Draw a rectangle. Write the number of its sides and corners.

i. Numbers of sides _____

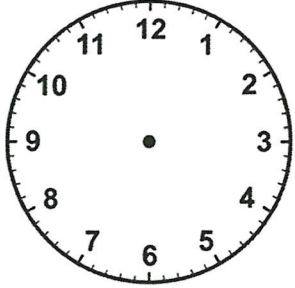
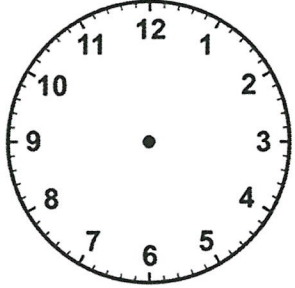
ii. Numbers of Corners _____

24) Continue the pattern by writing the next number.

i. 15 , 13, 11 ,09,-----,-----,-----


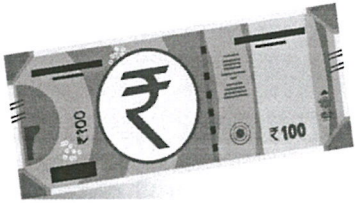
ii. 120, 115, 110, 105 , -----,-----,-----

25) Mark the hour and minute hands on the given clock and show the time mentioned.

| | |
|---|--|
|  |  |
| Half past 1 | 4:00 |

26) Use ₹1 and ₹2 coins to make ₹5 in two different ways. Write them.

27) Manjeet purchased a burger for ₹52. He paid the shopkeeper ₹100. How much change should he get back?

| | | |
|---|---|-------------------------------------|
|  ₹ 52 | Money he gave:  | The Money is to be returned to him: |
|---|---|-------------------------------------|

VI. Solve the following:

(2X3M= 6M)

28) Use the same colour to match each problem flashcard with its answer flashcard.

18 35 36

9X2= 12X3= 7X5=

29) Check Mahira's book's collection listed below and answer the following questions based on list:

| S no. | Types of books | Number of books |
|-------|----------------|-----------------|
| a) | Poetry Books | 3 |
| b) | Story Books | 4 |
| c) | Drawing Books | 6 |
| d) | Comic Books | 5 |

i. How many more drawing books does Mahira have than poetry book?

ii. How many fewer story books does Mahira have than comic book?

iii. How many books does Mahira have in all?



Jindal Vidya Mandir, JSW Hill Side Township
Term-II Examination (2025-26)

Set- A

Class: II/ Sec: _____

Max Marks: 40

Sub: EVS

Duration: 2 Hrs

Name: _____

Roll No: _____

Invigilator's Signature: _____

Date: _____

General Instructions:

- This question paper contains 4 pages and 33 questions.
- It consists of two sections A and B. Section A is objective type questions and section B is subjective type questions.
- All the questions are compulsory.

Section-A

I. Choose the correct word from the box to fill in the blanks.

5X1=5M

groundwater letters lake Earth spring

1. Flowers bloom during _____ season.
2. The sun is the main source of heat and light on the _____.
3. When water collects in a large area of land, it is called a _____.
4. We can send _____ through the post office.
5. Wells and hand pumps are sources of _____.

II. State whether the following sentences are true or false.

5X1=5M

- 6. We eat mangoes and melons in winter. ()
- 7. Sundial is a device used indoors. ()
- 8. Small streams join to form a big river. ()
- 9. Factories should be built near residential area. ()
- 10. An astronaut's uniform is known as a spacesuit. ()

III. Circle the odd one out.

5X1=5M

- 11. bricks stones cement straw
- 12. bus ship boat yacht
- 13. behind front left east
- 14. valley mountain sea forest
- 15. crescent gibbous full moon sun

IV. Match the following.

5X1=5M

- 16. a house on wheel a. low land
- 17. silk b. caravan
- 18. plains c. silkworm
- 19. flooded d. petrol
- 20. fuel e. heavy rain

Section-B

V. Answer the following questions in two sentences.

4X2=8M

21. Define the term "directions".

22. Write any two ways to keep house clean.

23. Why should we use bicycles or walk for short distances instead of using cars or bikes?

24. Write any two things you enjoy doing in the rainy season?

VI. Name the following.

4X1=4M

25. Biggest planet. _____

26. The landform that receive very little to no rainfall. _____

27. The mixture of gasses that surrounds the Earth. _____

28. Trains that carry only goods. _____

VII. Give any two examples for each of the following.

4X1= 4M

29. Sources of water- _____, _____

30. Plant fibres - _____, _____

31. Clocks- _____, _____

32. Uses of air- _____, _____

33. Draw, name and colour any two means of transport.

2X2= 4M

| | |
|--|--|
| | |
|--|--|

SET-A

Class II/Sec: _____

Max Marks: 30

Subject: Information Technology

Duration: 1Hr

Name: _____

Roll No: _____

Invigilator's signature: _____

Date: _____

General Instructions:

i) This question paper contains 6 main questions in 3 pages.

ii) All questions are compulsory.

I. Choose the correct answer.

6X1M=6M

| | | | | | |
|-------|-----------|--------|----------|-----------|--------|
| wheel | red light | eraser | Ctrl + O | magnifier | ribbon |
|-------|-----------|--------|----------|-----------|--------|

- 1) The optical mouse glows with a _____.
- 2) _____ is the shortcut key to open a file.
- 3) I can enlarge my picture using the _____ tool.
- 4) You can find pencils, brushes and other drawing tools in the _____.
- 5) I need to use the _____ tool to remove a part of the drawing.
- 6) The _____ in a mouse helps to scroll a document up or down.

II. State whether the given statements are True or False.

7X1M=7M

- 1) We cannot draw our own shapes in Paint window.
- 2) We need to click on Shapes group to access different shapes.
- 3) Close command is used to exit paint window.
- 4) Title bar contains the maximise, minimize and restore icons.
- 5) To draw a shape with equal sides we press CTRL Key.
- 6) Fill with colour tool helps to fill colour in the closed shapes only.
- 7) CTRL+ Alt + Del opens the lock screen option.

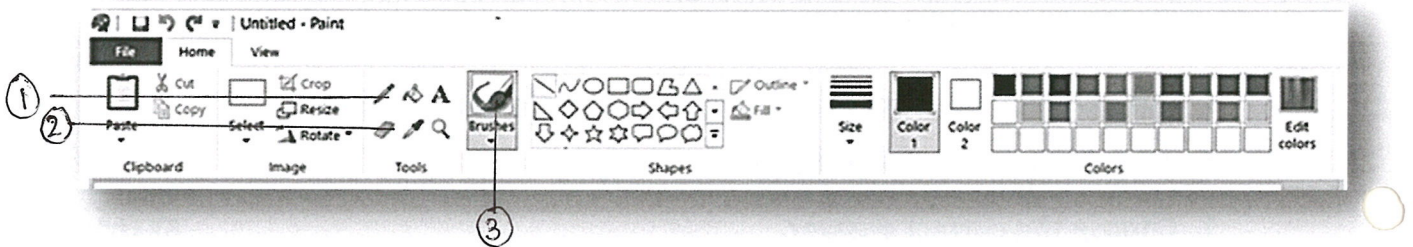
III. Match the following.

5X1M=5M

| Column A | Column B | Answers |
|------------------|---|----------------|
| 1. Left click | a. Closed figure with three or more sides. | [] |
| 2. Drawing Area | b. It is used to draw and colour in a computer. | [] |
| 3. Paint program | c. Where we draw in Paint. | [] |
| 4. Text tool | d. It is used to select an item. | [] |
| 5. Polygon | e. It helps to type text in the Drawing. | [] |

IV. Identify and label the marked image of Paint window.

3X1M=3M



1. _____
2. _____
3. _____

V. Answer the questions.

4X1M=4M

1) What are cursor control keys?

2) Which tool is used to make free hand drawing?

3) What is the wordpad?

4) What is the use of curve tool?

VI. Name any 5 components of Paint window.

5X1M=5M

Ans. _____



**Jindal Vidya Mandir, JSW Hill Side Township
Term-II Examination (2025-26)**

Set- B

Class: II / Sec: _____

Max Marks: 30

Sub: GK

Duration: 1 Hr.

Name: _____

Roll No: _____

Invigilator's Signature: _____

Date: _____

General Instructions:

-
- This question paper is printed in 3 pages and 24 questions.
 - All the questions are compulsory.
-

I. Choose the correct answer.

5X1=5M

1. In the word DINOSAUR how many vowels are there?

- a. 2 b. 3 c. 4 d. 5

2. What is the colour of the belt of highest order in Karate?

- a. red b. black c. white d. yellow

3. Which of the following is a part of Winter Olympics?

- a. judo b. ice hockey c. wrestling d. boxing

4. Which year did the Modern Olympic games begin?

- a. 1896 b. 2000 c. 1990 d. 1600

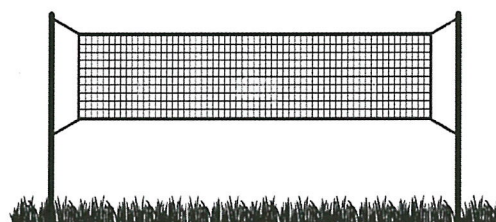
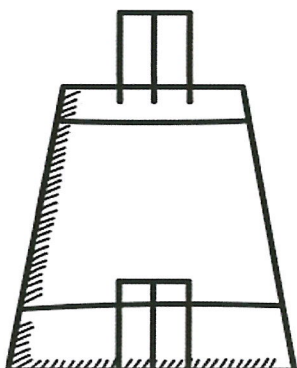
5. The number of squares on the chessboards are _____.

- a. 84 b. 64 c. 74 d. 54

II. Use the help box to identify the sport.

4X1=4M

| | | | |
|------------|---------|-----------|--------|
| Basketball | Cricket | Badminton | Hockey |
|------------|---------|-----------|--------|



III. Match the following.

5X1=5M

- | | | |
|--------------|------------|-----|
| 6. fish | a. army | () |
| 7. lion | b. school | () |
| 8. ant | c. pride | () |
| 9. butterfly | d. pack | () |
| 10. wolve | e. flutter | () |

III. Fill in the blanks.

5X1=5M

11. Ludo is inspired from the ancient Indian game of _____. (Pachisi / Kabaddi)
12. Snakes and Ladders is a game for _____. (One player /More than one player)
13. A carom board is a shape of _____. (Square / Rectangle)
14. The antonym of fragrant is _____. (Smelly /Aromatic)
15. The antonym of wise is _____. (foolish / knowledgeable)

IV. Answer the following questions

4X1=4M

16. Which century does the year 1947 belong to?

Ans. _____

17. How many months have 28 days?

Ans. _____

18. What is the sum of smallest three-digit number + smallest two-digit number?

Ans- _____

19. Who is the prime minister of India.

Ans- _____

V. Write plural forms of these nouns.

4X1=4M

20. Carrot- _____

22. Horse- _____


21. Bottle- _____

23. Walnut- _____

VI. Calculate and draw the hands of the clock.

3X1=3M

24. Soham has to board a train at 6 p.m. He reached the railway station half an hour early.



Ans- _____



JINDAL VIDYA MANDIR, JSW HILL SIDE TOWNSHIP
Term-II Examination (2025-2026)

Class/Sec: II ___

SET-A

Max. Marks: 30

Subject: Music

Duration: 1 Hour

Student's Name: _____

Roll no: _____

Invigilator's Sign: _____

Date: _____

General Instructions:

- ❖ This question paper contains of 3 pages and has 5 questions.
 - ❖ The question paper comprises two sections:
Section A (Objective Type Questions) and
Section B (Subjective Type Questions).
 - ❖ All questions are compulsory.
-

Section-A

I. Choose the correct answer for the following.

10×1M =10M

1. Alankar helps to improve. _____

- a) drawing b) singing c) dancing d) playing

2. How many sarali swaras are there in Classical music? _____

- a) 5 b) 6 c) 7 d) 8

3. The song "Jingle Bells" is usually sung during _____.

- a) Dasara b) Diwali c) Christmas d) Holi

4. How many seconds does it take to sing the "National anthem"? _____

- a) 48 sec b) 62 sec c) 52 sec d) 72 sec

5. 'Sa Re Ga Ma Pa Dha ' are called? _____

a) bol b) taal c) song d) swaras

6. Which instrument has keys? _____

a) tabla b) piano c) flute d) sitar

7. Which swara comes after 'Re'? _____

a) ma b) ga c) pa d) sa

8. Who wrote the state anthem of Karnataka? _____

a) Lata Mangeshkar b) Kuvempu c) Rabindranath Tagore d) Zakir Hussain

9. Harmonium is played using? _____

a) fingers b) feet c) sticks d) spoon

10. In which language was Karnataka's state anthem written.

a) English b) Kannada c) Bengali d) Hindi

II. Fill in the blanks using the words given in the help box.

1X5M=5M

(snow, tanujaate, clap, laugh, nose)

1. "If you're happy and you know it, _____ your hands".

2. Jaya bharaat jananiya _____.

3. "If you're sad and you know it touch your _____".

4. Dashing through the _____.

5. Her class is fun, we learn and _____.

Q.III.Match the Following

5×1M =5M

| A | B | Answer |
|------------|----------------------|---------|
| 1. guitar | a) song | (_____) |
| 2. singing | b) playing | (_____) |
| 3. tabla | c) string instrument | (_____) |
| 4. drums | d) seven | (_____) |
| 5. swaras | e) sticks | (_____) |

Q.IV Write the answer for the questions given below.

3×2M =6M

1. How do you feel when you sing your favorite song?

Ans: _____

2. Write the Aaroh and Avaroh of the second sarali swaras?


Ans: _____

3. Write two examples of body percussion?

Ans: _____

Q.V. Draw a flute instrument and color it.

4×1M =4M



JINDAL VIDYA MANDIR, JSW HILL SIDE TOWNSHIP
Term-II Examination (2025-26)

SET - B

Class: II/Sec: _____

Max.Marks:30

Subject: Yoga

Duration :1 hour

Student Name: _____

Roll No: _____

Invigilator's Signature: _____

Date : _____

General Instructions: This question paper has 4 pages and it has 30 questions and 6 mains.

All questions are compulsory.

I. Fill in the blanks with the options given in the help box.

6X1M=6M

[nature, five , ahimsa , Aparigraha , truthfull, vrikshasana]

1. _____ means being happy with what you have.
2. _____ asana resembles tree.
3. Yama has _____ Special rules being good.
4. Being _____ helps you be a good friend.
5. We should care of _____ by not littering.
- 6 .The word _____ means we should be kind and not hurt any living thing.

II. Match the following.

5X1M=5M

A

- 1) Shaucha
- 2) Satya
- 3) Tadasana
- 4) Sun salutation
- 5)Brahmacharya

B

- a) Mountain Pose
- b) Surya Namaskar
- c) using your energy wisely.
- d) Telling truth always.
- e) wearing clean cloth everyday.

III. Choose the correct answer.

5X1M=5M

1) Satya means _____.

- a) Being very quite b) Telling the truth
c) Running very fast d) Sharing your snacks.

2) Yama in yoga is like having

- (a) Fun games to play. (b) Five special rules for being good.
(c) Exercises to make your body strong. (d) Stories to listen to

3) Cleanliness of a body is termed as _____

- a) Asana b) Saucha
c) Pranayama d) Shwasa

4) Not hurting others termed as _____

- a) Satya b) yoga
c) Ahimsa d) Tyaga

5) Svadhyaya means _____

- a) Learning about ourself b) Trying hard c) Being clean d) All of these

IV. State 'T' for True and 'F' for False Statement.

7X1M=7M

1. After Yoga, reading a book can help your mind - ()
2. Niyama tells about rules of the games - ()
3. Can practicing yoga regularly have long-term benefit- ()
4. Asteya is all about Keeping the body strong- ()
5. Yama is only about doing yoga poses- ()
6. Saying kind words to our friends is a part of practicing inner cleanliness-()
7. Surya Namaskar help you stand up straighter- ()

V. Write the name of the asanas with given help box.

4X1M=4M

[Tadasana, Vrikshasana, Virabhadrasana, Surya Namaskara,]

a.



b.



c.



d.



VI. Answer the following in one word.

3X1M=3M

1) Define the term Surya Namaskar?

2) What do you mean by yama ?

3) Define Sathya?



JINDAL VIDYA MANDIR, JSW HILL SIDE TOWNSHIP
Term – II Examination (2025-26)

Class : II ____

Set – A

Roll No. ____

Date : _____

Subject : Art

Name : _____

Max Marks : 50

Invigilator's Sign _____

Duration : 1 Hour

Theme : Forest (lion)

- | | |
|---|--|
| 1. Drawing Skills (10 Marks) | 2. Creativity & Originality (10 Marks) |
| 3. Coloring / Shading / Painting (10 Marks) | 4. Composition & Layout (10 Marks) |
| 5. Neatness & Presentation (5 Marks) | 6. Theme Relevance (5 Marks) |

Look at the picture given below, Fill the colors of your choice.



