



Jindal Vidya Mandir, JSW Hill Side Township  
Term-II Examination (2025-26)  
Set-B

Class: - III/Sec: - \_\_\_\_\_  
Subject: - Kannada (III Language)  
Student Name: - \_\_\_\_\_  
Invigilator's Sign: \_\_\_\_\_

Max. Marks: - 30  
Duration: - 1Hr  
Roll No: - \_\_\_\_\_  
Date: - \_\_\_\_\_

General Instruction: -This question paper contains 3 pages and 8 main questions.

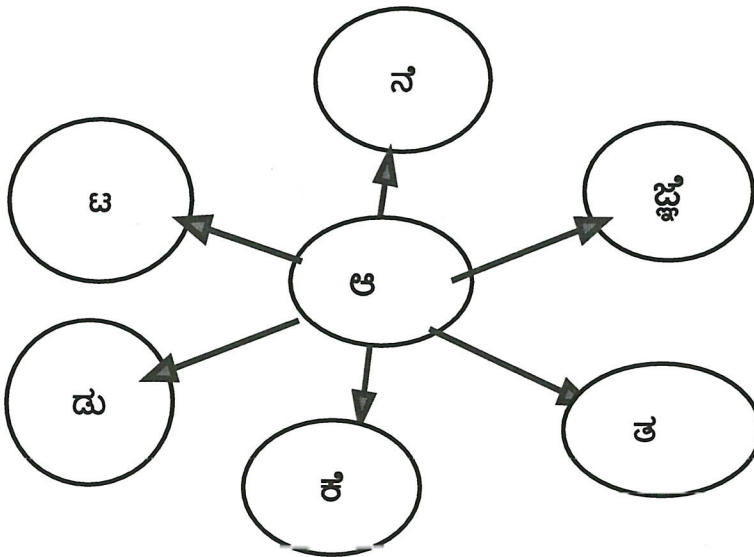
I. ಹೊಂದಿಸಿ ಬರೆಯಿರಿ . (Match the following)

5X1=5

'ಅ'	'ಆ'	
1. ಮೋಸ	ಅ) ಗುಡಿಸಿನ ದೀರ್ಘ(ಈ)	_____
2. ಹಾರ	ಆ) ಕೊಂಬು (ಉ)	_____
3. ಕರ	ಇ) ದೀರ್ಘ(ಆ)	_____
4. ಕುರಿ	ಈ) ತಲೆಕಟ್ಟು (ಅ)	_____
5. ನೀರು	ಉ) ಓತ್ವದ ದೀರ್ಘ	_____

II. ಈ ಕೆಳಗಿನ ವೃತ್ತದಲ್ಲಿರುವ ಅಕ್ಷರಗಳ ಸಹಾಯದಿಂದ ಐದು ಪದಗಳನ್ನು ರಚಿಸಿರಿ.  
(Using the letters in the circle below, form five words)

5x1=5



1. \_\_\_\_\_ 2. \_\_\_\_\_ 3. \_\_\_\_\_ 4. \_\_\_\_\_ 5. \_\_\_\_\_

III. ಈ ಕೆಳಗಿನ ಪದಗಳಿಗೆ ಸುಲಿವಿನ ಸಹಾಯದಿಂದ ವಿರುದ್ಧಪದ ಗುರುತಿಸಿ ಬರೆಯಿರಿ:  
(With the help of the given clues, identify and write the opposites of the following words.)

2×1=2

(ಅಶುದ್ಧ, ಅಹಿತ, ತುಂಬಾ, ಕಡಿಮೆ)

1. ಶುದ್ಧ x \_\_\_\_\_ 2. ಹೆಚ್ಚು x \_\_\_\_\_

IV. ಈ ಕೆಳಗಿನ ಪದಗಳನ್ನು ಕೂಡಿಸಿ ಬರೆಯಿರಿ.  
(Combine the following words and write)

3X1=3

1. ಶಾಲೆ+ ಗೆ= \_\_\_\_\_ 2. ಜಾತ್ರೆ+ಅಲ್ಲಿ= \_\_\_\_\_ 3. ಊರು+ ಇಗೆ= \_\_\_\_\_

V. ಈ ಕೆಳಗಿನ ಗುಣಿತಾಕ್ಷರಗಳನ್ನು ಪೂರ್ಣಗೊಳಿಸಿರಿ:  
(Complete the following Gunitakshara.)

2×2=4

1. ವ \_\_\_\_\_ ವಿ ವೀ \_\_\_\_\_ ವು ವ್ಯ \_\_\_\_\_ ವೇ ವೈ ವೋ \_\_\_\_\_ ವಂ ವಃ

2. ನ ನಾ ನಿ \_\_\_\_\_ ನು \_\_\_\_\_ ನ್ಯ ನೆ \_\_\_\_\_ ನೈ ನೋ ನೋ \_\_\_\_\_ ನಂ ನಃ

VI. ಈ ಕೆಳಗಿನ ಪದ್ಯದಲ್ಲಿ ಬರುವ ಪ್ರಾಸಪದಗಳನ್ನು ಗುರುತಿಸಿ ಬರೆಯಿರಿ.  
(Identify and write the rhyming words that appear in the following poem)

2×2=4

ಗಾಂಧಿ ತಾತ ರಾಷ್ಟ್ರಪಿತ  
ಭಾರತಕ್ಕೆ ಜೀವದಾತ  
ನಗೆಯ ಅಸ್ತ್ರ ಬೀರೆ ನೇತ  
ಬಿಳಿಯ ದೊರೆ ತಾನು ಸೋತ

1. \_\_\_\_\_ - \_\_\_\_\_ 2. \_\_\_\_\_ - \_\_\_\_\_

VII. ಈ ಕೆಳಗಿನ ತರಕಾರಿಗಳ, ಸೊಪ್ಪುಗಳ ಹೆಸರನ್ನು ಗುರುತಿಸಿ, ತರಕಾರಿ ಹಾಗೂ ಸೊಪ್ಪುಗಳಾಗಿ  
ವಿಂಗಡಿಸಿ ಬರೆಯಿರಿ:

6X ½ =3

(Identify the following vegetable and leafy-green names, and classify them into vegetables and leafy greens)

{ಮೆಣಸಿನಕಾಯಿ, ಬದನೆಕಾಯಿ, ಸಬ್ಬಸಿಗೆ ಸೊಪ್ಪು, ಕೊತ್ತಂಬರಿ ಸೊಪ್ಪು, ಕುಂಬಳಕಾಯಿ, ಮೆಂತ್ಯ ಸೊಪ್ಪು}

ತರಕಾರಿಗಳು	ಸೊಪ್ಪುಗಳು
1	1
2	2
3	3

VIII .ಈ ಕೆಲಗಿನ ಪ್ರಾಣಿ- ಪಕ್ಷಿಗಳ ಚಿತ್ರಗಳನ್ನು ಗುರುತಿಸಿ , ಸರಿಯಾದ ಪ್ರಾಣಿ-ಪಕ್ಷಿಗಳ ಹೆಸರನ್ನು ಆರಿಸಿ ಬರೆಯಿರಿ:

(Identify the following pictures of animals and birds and choose and write the correct names of the animals and birds)

4×1=4


ಮೀನು, ಝೇಬ್ರಾ, ಪಾರಿವಾಳ, ಹಾವು

1.



\_\_\_\_\_

2.




\_\_\_\_\_

3.



\_\_\_\_\_

4.



\_\_\_\_\_





**Jindal Vidya Mandir, JSW Hill Side Township**  
**Term-II Examination (2025-26)**

**Set B**

**Class: III / Sec: \_\_\_\_**

**Sub: Mathematics**

**Name: \_\_\_\_\_**

**Invigilator's Signature: \_\_\_\_\_**

**Duration: 3 hrs**

**Max Marks: 80**

**Roll no: \_\_\_\_\_**

**Date: \_\_\_\_\_**

**General Instructions:**

- This question paper contains 9 main questions in 8 pages.
- All questions are compulsory.

**Section A**

**I. Circle the odd one out.**

**10X1M=10M**

- |             |               |            |           |
|-------------|---------------|------------|-----------|
| 1) Triangle | Square        | Circle     | Sphere    |
| 2) Cube     | Cuboid        | Triangle   | Cylinder  |
| 3) Half     | Twenty        | One-fourth | One-fifth |
| 4) 2461     | 1211          | 5488       | 6733      |
| 5) g        | Add           | kg         | cm        |
| 6) ₹        | Paise         | Currency   | Product   |
| 7) January  | March         | Sunday     | February  |
| 8) Radius   | Circumference | Minus      | Diameter  |
| 9) 4        | 8             | 12         | 25        |
| 10) 9999    | 10            | 999        | 99        |

**II. Fill in the blanks.**

**10X1M=10M**

- 1) Face value of 9 in 8971 is \_\_\_\_\_
- 2) 12 1122 111222 \_\_\_\_\_ 1111122222
- 3) The capacity of a swimming pool will be measured in \_\_\_\_\_.
- 4) \_\_\_\_\_ shapes have length, breadth and height.
- 5) 4 km = \_\_\_\_\_ m
- 6) ₹ 8 = \_\_\_\_\_ paise
- 7) \_\_\_\_\_ months have 31 days in a year.
- 8) Quarter past 12 can also be written as \_\_\_\_\_
- 9)  $\frac{6}{9}$  can also be written as \_\_\_\_\_
- 10) An \_\_\_\_\_ means a period between two events.

**III. State whether the following statements are true or false.**

**8X1M=8M**

- 1) Litre is the unit to measure distances \_\_\_\_\_
- 2) 7 kg = 7000 g \_\_\_\_\_
- 3) A slant line is an oblique line. \_\_\_\_\_
- 4) There are 31 days in the month of January. \_\_\_\_\_
- 5) A cuboid has only 1 flat face. \_\_\_\_\_
- 6) 690,620,550,480 is a pattern. \_\_\_\_\_
- 7) A bill without date and signature of the shopkeeper is valid. \_\_\_\_\_
- 8) Cone is a solid shape. \_\_\_\_\_

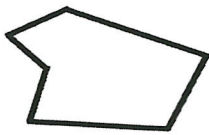
IV. Do as directed.

1) Draw a ray of 10 cm and name it .

1M

2) Tick the images which are not symmetrical.

2M



V. Match the following.

9X1M=9M

Sl no.	Column A	Column B	Answer
1.	Make biggest number using 5 , 4 ,2 ,8	i) 4 kg 500 g	
2.	$\frac{1}{4}$ hour	ii) ₹ 24 and 69 paise	
3.	₹ 24.69	iii) leap year	
4.	Letter V	iv) 19/06/2003	
5.	4 kg 300 g+ 200 g	v) facts about a situation	
6.	366 days	vi) 15 minutes	
7.	Date/Month/Year	vii) has one line of symmetry	
8.	Information	viii) even number	
9.	2222	ix)8542	

Section B

VI. Do as directed.


10X2M=20M

1)Write the following numbers in words.

a) 7612=\_\_\_\_\_

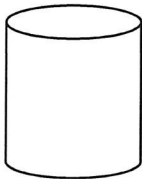
b) 3082=\_\_\_\_\_

2) Shade  $\frac{1}{3}$  of the 6 shapes shown below.



$\frac{1}{3}$  of 6 = 


3) Write the number of faces ,edges and vertices of the given shape.



Faces = \_\_\_\_\_

Edges = \_\_\_\_\_

Vertices = \_\_\_\_\_

4. Add 4 km 412 m and 3 km 110 m

---

---

---

5. How many months have names starting with the letter M? Name them.

---

---

---

6. Complete the pattern.

R 5,S 9,T 13 , \_\_\_\_\_ , \_\_\_\_\_

7. Divide ₹16.80 by 4 and find the quotient and remainder.

Quotient= \_\_\_\_\_, Remainder = \_\_\_\_\_

8. Mahi had 10 candies and she ate 8 of them. What fraction of candies is left with her?

---


---

---

9. Read the activities listed below and write a.m or p.m next to each one to show the correct time of the day.

- a) When the sun rises at 5 \_\_\_\_\_, it looks beautiful.
- b) I sleep at 9:30 \_\_\_\_\_.
- c) Neha wakes up at 6 \_\_\_\_\_ in morning.
- d) Rahul plays at 5 \_\_\_\_\_ in evening.

10. Complete the following figure by drawing on other side of the line of symmetry and colour it .




Section C

VII) Solve.

$$4 \times 3M = 12M$$

1) Draw the hour hand and minute hand to show the given time on the clock.



20 minutes to 6

2) Add 3m 15cm ,4 m 20 cm ,2 m 40 cm

---

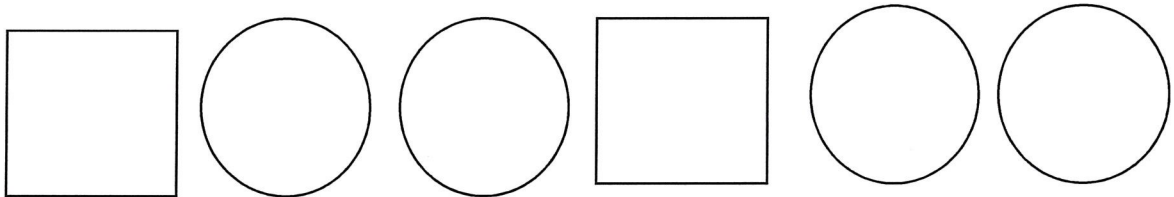
---

---

---

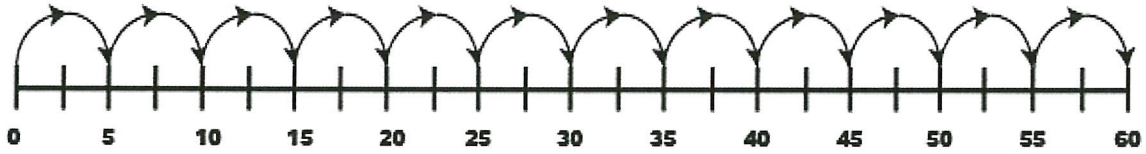
---

3) Identify the pattern below and express them using the letter A and B. Use letter A for square, letter B for circle.



Ans- \_\_\_\_\_

4) Study the number line shown below and answer the question that follow



a) How many minutes does the number line show? \_\_\_\_\_

b) 15 minutes is what part of an hour? \_\_\_\_\_

c) How many minutes are there in  $\frac{1}{2}$  hour? \_\_\_\_\_


Section D

2X4M=8M

VIII) Shally went to a shop and bought 2 colour boxes for ₹6 each ,5 pencils for ₹2 each, 3 rulers for ₹10.50 each and 2 erasers for ₹4 each. How much money does she need to pay? Prepare a bill for the same.

Ans- \_\_\_\_\_

IX) The following bar graph shows types of flowers in a garden. Study it carefully and answer the given questions.



- a) Which flower is most in number? \_\_\_\_\_
- b) How many more roses are there than tulips? \_\_\_\_\_
- c) Which flower is least in number? \_\_\_\_\_
- d) How many flowers are there in all? \_\_\_\_\_



**Jindal Vidya Mandir, JSW Hill Side Township**  
**Term-II Examination (2025-26)**  
**SET A**

**Class: III**

**Sub: EVS**

**Name: \_\_\_\_\_**

**Invigilator's Signature: \_\_\_\_\_**

**Max Marks: 80**

**Duration: 3 hrs**

**Roll no: \_\_\_\_\_**

**Date: \_\_\_\_\_**

**General Instructions:**

- 
- This question paper consists of 10 pages and 55 questions .
  - The question paper is divided into 2 sections - section A is objective type and section B is subjective type questions
  - All the questions are compulsory.
- 

**Section A**

**I) Choose the correct option**

**10 X 1 = 10**

1. \_\_\_\_\_ is an old device/machine used in the kitchen.  
(a) a blender      (b) an oven      (c) a grinding stone      (d) an egg beater
2. Which of the following types of houses are found in Arctic regions?  
(a) tents      (b) igloos      (c) builder flats      (d) multistorey building
3. Which of the following is a means of mass communication?  
(a) Radio      (b) Newspaper      (c) Television      (d) All of these
4. A place in a desert where some water is found is called \_\_\_\_\_.  
(a) An oasis      (b) a lake      (c) rainwater      (d) a pond
5. Which of the following is a means of road transport  
(a) Helicopter      (b) Ferry      (c) Boat      (d) Bike
6. Which of the following is/are the gaseous state of water?  
(a) Water vapour      (b) Snow      (c) Ice      (d) Both b and c

7. A person living in the same country can be reached through  
(a) ISD      (b) STD      (c) PIN      (d) SDI
8. Which of the following is a type of oven used to bake pottery?  
(a) Milk      (b) Kiln      (c) Cream      (d) Brick
9. Which of the following methods uses wooden blocks to create patterns on cloth?  
(a) Vegetable printing      (b) Block printing      (c) Tie and dye      (d) Embroidery
10. A tree grows from a small seed into a big tree. What does this show?  
(a) Trees do not change      (b) Trees can grow  
(c) Trees are man-made      (d) Trees cannot make food

**II) Fill in the blanks**

**10 X 1 = 10**

11. A stone cannot move or grow because it is \_\_\_\_\_ .
12. A \_\_\_\_\_ is a pictorial chart of an area, drawn on a flat surface like a paper or board.
13. Caravans are houses on \_\_\_\_\_ .
14. \_\_\_\_\_ is the oldest way of cooking food known to humans.
15. The process by which water changes into water vapour is called \_\_\_\_\_ .
16. Police officers use police vans during \_\_\_\_\_ .
17. We drink water in its \_\_\_\_\_ form.
18. We can listen to \_\_\_\_\_ to get news from all over the world.
19. We can talk to people to far off cities using the \_\_\_\_\_ dialing.
20. Earthen cups and pots are made using wet \_\_\_\_\_ .

**III) Match the following**

**5 X 1 = 5**

**Column A**

**Column B**

- |                        |                     |         |
|------------------------|---------------------|---------|
| 21. Copper             | (a) north           | - _____ |
| 22. Cardinal direction | (b) natural feature | - _____ |
| 23. River              | (c) metal           | - _____ |
| 24. Octopus            | (d) air transport   | - _____ |
| 25. Aeroplane          | (e) aquatic animal  | - _____ |

**IV) Write True (T) or False (F)**

**5 X 1 = 5**

26. Reuse is not a part of 5R's. - \_\_\_\_\_
27. Stilt houses are commonly found in Mizoram. - \_\_\_\_\_
28. Bellary has railway network known as MRTS - \_\_\_\_\_
29. All living things can grow and change during their life. - \_\_\_\_\_
30. A telephonic connection is used to send fax messages through a stamp machine - \_\_\_\_\_

**V) Give one word for the following**

**5 X 1 = 5**

31. Valuable and useful chemical formed under the ground - \_\_\_\_\_
32. A flat floating surface travelling across water - \_\_\_\_\_
33. An area where a ship arrives and leaves - \_\_\_\_\_
34. Water which is fit for drinking - \_\_\_\_\_
35. Different methods of communication are called - \_\_\_\_\_

**VI) Circle the odd one out and write the word in the blanks**

**5 X 1 = 5**

36. Cycle , Ambulance , Golf cart , Fire engine

- \_\_\_\_\_

37. Television , Letter , Telephone , Email

- \_\_\_\_\_

38. Postcard, Envelope , Internet , Stamp

- \_\_\_\_\_

39. Pot, Vase, Cup, Spoon

- \_\_\_\_\_

40. Shirt, Frock, Saree , Pant

- \_\_\_\_\_

**Section B**

**VII) Answer the following in two to three sentences.**

**5 X 2 = 10**

41. Write any two differences between steaming and frying?

Ans-

---

---

---

---

42. What are the materials used to build a kutcha house ?

Ans-

---

---

---

---

43. What is a map? How is it useful to us ?

Ans-

---

---

---

---

44. How do plants keep the surroundings cool?

Ans-

---

---

---

---

---

45. Why do we need different means of transport to travel to different places?

Ans-

---

---

---

---

---

**VIII) Give reason for the following**

**5 X 2 = 10**

46. It is important to save water and use it wisely.

Ans-

---

---

---

---

---

47. Every means of communication is useful in its own way.

Ans-

---

---

---

---

---

48. We should protect our clothes from silver fish.

Ans-

---

---

---

---

49. We should not throw chemicals in soil.

Ans-

---

---

---

---

50. Water is stored in earthen pots during summer

Ans-

---

---

---

---

**IX) Answer the following in brief**

**4 x 3 = 12**

51. Explain the process involved in making pottery.

Ans-

---

---

---

---

---

---

---

---

---

---

52. Write the steps to show how a letter reaches us from the sender to the receiver.

Ans-

---

---

---

---

---

---

---

---

---

---

53. Explain the 5 R's that help us to protect our environment.

Ans-

---

---

---

---

---

---

---

---

---

---

---

---

---

54. Write any three differences between stitched and unstitched clothes.

Ans-

---

---

---

---

---

---

---

---

---

---

---

---

---

---

---

---

---

---

---

---

---

---


---

---


X) 55. Draw a neat labelled diagram of the following.

2 X 4 = 8

A) Water cycle



**B) Purification of water**



\*\*\*\*\*



**Jindal Vidya Mandir, Hill Side Township**

**Term -II Examination (2025-26)**

**Set B**

**Class III/Sec: \_\_\_\_\_**

**Duration: 1 Hr**

**Subject: Information technology**

**M. Marks: 30**

**Name: \_\_\_\_\_**

**Roll No: \_\_\_\_\_**

**Invigilator's signature: \_\_\_\_\_**

**Date: \_\_\_\_\_**

---

**General Instructions: This question paper contains 5 main questions in 3 pages.**

**All questions are compulsory.**

---

**I. Fill in the blanks using the options in the help box.**

**5X1M=5M**

<b>Ctrl+S</b>	<b>delete</b>	<b>erase</b>	<b>backward</b>	<b>UNDO</b>
---------------	---------------	--------------	-----------------	-------------

- a) The \_\_\_\_\_ command is used to move the turtle backward with the specified number of steps.
- b) The PENERASE command is used to \_\_\_\_\_ the unwanted lines.
- c) Press Ctrl+ Z to \_\_\_\_\_
- e) To delete a paragraph ,select the paragraph and then press \_\_\_\_\_ key.
- f) We press \_\_\_\_\_ to save a document.

**II. State whether the given statement are true or false.**

**5X1M=5M**

- a) There are 4 scroll bars in MS Word \_\_\_\_\_
- b) We can print multiple copy of a document. \_\_\_\_\_
- c) The ruler shows the page margin \_\_\_\_\_
- d) The PENUP command is used to erase the unwanted lines. \_\_\_\_\_

e) The SETSCREENCOLOR command is used to change the background colour of the screen. \_\_\_\_\_

**III. Match the following.**

**5X1M=5M**

SL No.	Column A	Column B	Answer
a)	PENDOWN Command	i)To open a document	
b)	HIDETURTLE Command	ii) maximize button	
c)	LEFT Command	iii)To paste the document	
d)	Title bar	iv)hide the turtle	
e)	Ctrl + V	v)To move the turtle toward its left	

**IV. Answer the following questions in two or three sentences. 5X2M=10M**

**a) Write down the steps to open an existing document in word 2016?**

---

---

---

---

---

---

**b) Why do you need to select text?**

---

---

---

---

---

**c) Explain any 2 components of a Microsoft Word window?**

---

---

---

---

---

d) Write down the steps to print a document.

---

---

---

---

---

e) Why do we use the PENERASE command?

---

---

---

---

---

V. Find 5 MS word 2016 commands in the given word maze.

5X1M=5M

A	L	R	G	O
C	O	P	Y	S
U	R	E	D	O
T	P	A	S	T
U	N	D	O	Z

1. \_\_\_\_\_ 2. \_\_\_\_\_ 3. \_\_\_\_\_  
4. \_\_\_\_\_ 5. \_\_\_\_\_





**Jindal Vidya Mandir, JSW Hill Side Township**  
**Term -II Examination (2025-26)**

**Set-A**

**Class: III/ Sec: \_\_\_\_\_**

**Max.Marks:30**

**Sub: General Knowledge**

**Duration: 1Hr**

**Name of the Student: \_\_\_\_\_**

**Roll No: \_\_\_\_\_**

**Invigilator's Signature: \_\_\_\_\_**

**Date: \_\_\_\_\_**

**General Instructions:**

- This question paper contains 4 pages and 27 questions.
- All the questions are compulsory.

**I. Fill in the blanks.**

**[5 × 1 = 5 M]**

1. The Australian Open is a famous \_\_\_\_\_ tournament.
2. In the 2018 Commonwealth Games, India won a total of \_\_\_\_\_ medals
3. The number which cannot be represented by a Roman Numeral is \_\_\_\_\_.
4. If 31<sup>st</sup> March falls on Thursday, what will be the day on 7 April?  
\_\_\_\_\_
5. We are happy that we live in a town with such wonderful \_\_\_\_\_(whether/weather)

**II. Match the country with its designated national sports. [5 × 1 = 5 M]**

(Country)

(Sport)

6. Australia

a. Hockey [ ]

7. Bangladesh

b. Volleyball [ ]

8. India

c. Table Tennis [ ]

9. Sri Lanka

d. Kabaddi [ ]

10. China

e. Cricket [ ]

**III. Tick the correct option and fill in the blanks.**

**[5 × 1 = 5 M]**

11. Which of the following is not among the core values of the games?

\_\_\_\_\_.

- a. humanity      equality      c. destiny      d. competition

12. In the 2014 games, Abhinav Bindra won a: \_\_\_\_\_.

- a. gold      b. silver      c. bronze      d. no medal

13. Who painted the famous artwork, Mona Lisa? \_\_\_\_\_

- a. Michelangelo    b. Pablo Picasso    c. Leonardo da Vinci    d. R.K.Laxman

14. Rabindranath Tagore received the Nobel Prize for: \_\_\_\_\_.

- a. painting    b. singing    c. writing    d. composing music

15. If your clothes catch fire, you should not: \_\_\_\_\_

- a. drop and roll, if near grass    b. beat clothes if you find a wooden stick.  
c. splash water, if near a source    d. hold his hand and pull

**IV. In the following sets of words, circle the action words.**

**[4 × 1 = 4 M]**

16. Skip

Sky

Silver

17. Wash

Juicer

Jug

18. High

Chocolate

Hunt

19. Sharpen

Smooth

Book

**V. Answer in one sentence.**

**[5 × 1 = 5 M]**

20. Who is India's Present Prime Minister?

Ans. \_\_\_\_\_

21. "Kalamkari" is used to make beautiful prints on fabrics, which state does this art belong to?

Ans. \_\_\_\_\_

22. How many sides does a hexagon have?

Ans. \_\_\_\_\_

23. What is the story involving interaction between humans and Gods is called?

Ans. \_\_\_\_\_

24. Who was a gifted musician who played the piano and violin?

Ans. \_\_\_\_\_

**VI. Choose the correct word from the given word pairs to complete the**

**sentence.**

**[2 × 1 = 2 M]**

25. I love to keep a \_\_\_\_\_ of my daily activities. (Dairy/Diary)

26. If you don't eat well, you will feel \_\_\_\_\_ (Week/Weak)


VII. Identify the images and write their names.

[4 × 1 = 4 M]

27. a)



b)




c)



d)





**Jindal Vidya Mandir, JSW Hill Side Township**  
**Term-II Examination (2025-2026)**

**Class/Sec: III \_\_\_**

**SET-B**

**Max. Marks: 30**

**Subject: Music**

**Duration: 1Hour**

**Student's Name: \_\_\_\_\_**

**Roll no: \_\_\_\_\_**

**Invigilator's Sign: \_\_\_\_\_**

**Date: \_\_\_\_\_**

**General Instructions:**

- ❖ This question paper contains of 4 pages and has 6 main questions.
- ❖ Read the following instructions carefully and follow them:
- ❖ The question paper comprises two sections:  
Section A (Objective Type Questions) and  
Section B (Subjective Type Questions).
- ❖ All questions are compulsory.

**Section-A**

**I. Choose the correct answer for the following.**

**5×1M =5M**

1. Which notes are NOT used in Raag Bhoop? \_\_\_\_\_

- a) sa and pa      b) ma and ni      c) re and dha      d) ga and ni

2. What is another name of raag bhoop?

- a) yaman      b) bhairav      c) bhoopali      d) kalyan

3. Who wrote the state anthem of Karnataka? \_\_\_\_\_

- a) champaa      b) G.s.shivarudrappa      c) kuvempu      d) Da.raa.bendre

4. How many matras (beats) are there in Dadra Taal? \_\_\_\_\_

- a) 6      b) 10      c) 7      d) 12

5. How many notes are used in Raag Bhoop?

- a) 6                  b) 7                  c) 5                  d) 4

**II. Answer in one sentence.**

**5x1M=5M**

Q6. What is the vadi of Raag Bhoop?

Ans. \_\_\_\_\_

Q7. Name one musical instrument that you have to blow air into.

Ans. \_\_\_\_\_

Q8. What is the time for singing Raag Bhoop?

Ans. \_\_\_\_\_

Q9. Why do we have music in celebrations?

Ans. \_\_\_\_\_

Q10. Which rasa (mood) does Raag Bhoop creates?

Ans. \_\_\_\_\_

**Q.III. Write True or False:**

**5x1M =5M**

11. "Soundarya tera tu ek hi hai" means god's beauty has many forms \_\_\_\_\_

12. Raag Bhoop is sung in the morning \_\_\_\_\_

13. We play tabla with a stick \_\_\_\_\_

14. The harmonium has keys like dholak \_\_\_\_\_

15. The flute is a type of drums instrument \_\_\_\_\_

**Q.IV.Match the Following**

**5×1M =5M**

A	B	Answer
16.Sagar se utha	a) Vruksha vishal bana	(_____)
17.Flute	b) 16 Beats	(_____)
18. Parvat	c) Badal banke	(_____)
19.Pa means	d) wind	(_____)
20.Teen taal	e)Pancham	(_____)

**Q.V Write the answer for the questions given below**

**3×2M =6M**

21. What is the Aaroh(ascending) and Avaroh(descending) of Raag Bhop?

**Ans:** \_\_\_\_\_

\_\_\_\_\_

\_\_\_\_\_

Q22. Where tabla is mostly played?

**Ans:** \_\_\_\_\_

\_\_\_\_\_

\_\_\_\_\_

Q23. Write down any five-string instruments?

**Ans:** \_\_\_\_\_

\_\_\_\_\_

\_\_\_\_\_

**Q.VI. Draw a tanpura instrument and color it.**

**4x1M=4M**

Class: III/\_\_\_

Max Marks: 30

Sub: Yoga

Duration: 1 Hour

Name: \_\_\_\_\_

Roll No: \_\_\_\_\_

Invigilator's Sign: \_\_\_\_\_

Date: \_\_\_\_\_

**General Instructions:**

Read the following instructions carefully and follow them:

This question paper contains 30 questions. All questions are compulsory.

**I. Choose the correct option**

**10X1M=10M**

1. Tadasana is also known as the pose. \_\_\_\_\_  
a) warrior b) mountain c) tree d) camel
2. Vrikshasana helps mainly in improving \_\_\_\_\_.  
a) digestion b) balance c) speed d) sleep
3. Virabhadrasana-I is also called \_\_\_\_\_.  
a) tree Pose b) camel Pose c) warrior Pose d) triangle Pose
4. Halasana is also known as \_\_\_\_\_.  
a) plough pose b) boat pose c) cobra pose d) bow pose
5. Surya Namaskar improves \_\_\_\_\_.  
a) anger b) flexibility c) laziness d) fever
6. Ustrasana is also called \_\_\_\_\_.  
a) camel pose b) tree pose c) warrior pose d) hero pose
7. Trikonasana helps in stretching the \_\_\_\_\_.  
a) nose b) side waist c) fingers d) toes
8. Saucha means \_\_\_\_\_.  
a) anger b) cleanliness c) running d) sleeping
9. Inner Saucha means keeping our \_\_\_\_\_ clean.  
a) shoes                      b) mind                      c) bag                      d) classroom

10. Which yama means non-violence?  
a) satya b) ahimsa c) asteya d) saucha

**II. Fill in the blanks by choosing the correct answer from the help box**

Legs,	circulation,	clean,	camel,	posture
-------	--------------	--------	--------	---------

**5X1M=5M**

11. Tadasana helps to improve our \_\_\_\_\_ and alignment.  
12. Vrikshasana strengthens the \_\_\_\_\_ and ankles.  
13. Surya Namaskar improves blood \_\_\_\_\_.  
14. Ustrasana is also known as the \_\_\_\_\_ pose.  
15. Saucha teaches us to keep surroundings \_\_\_\_\_.

**III. State whether the following statement is true or false**

**5X1M=5M**

16. Halasana resembles a plough. ( )  
17. Virabhadrasana-1 weakens the legs. ( )  
18. Trikonasana increases flexibility. ( )  
19. Saucha is only about cleaning the body. ( )  
20. Surya Namaskar improves posture ( )

**IV. Answer the following questions in one sentence/word**

**5X1M=5M**

21. What does "Tada" mean in Tadasana?

---

---

22. Name one benefit of Vrikshasana

---

---

23. Name one benefit of Ustrasana.

---

---

24. What is Saucha?

---

---

25. What does Satya teach us?

---

---

**V. Match the Following**

**5X1M=5M**

**A**

**B**

26. Tadasana

a) Tree Pose

( )

27. Vrikshasana

b) Camel Pose

( )

28. Ustrasana

c) Mountain Pose

( )

29. Trikonasana

d) Plough Pose

( )

30. Halasana

e) Triangle Pose

( )

\*\*\*\*\*





**JINDAL VIDYA MANDIR, JSW HILL SIDE TOWNSHIP**  
**Term – II Examination (2025-26)**

Class : III \_\_\_\_

Set – B

Roll No. \_\_\_\_

Date : \_\_\_\_\_

Subject : Art

Name : \_\_\_\_\_

Max Marks : 50


Invigilator's Sign \_\_\_\_\_

Duration : 1 Hour

**Theme : Landscape (home)**

- |   |  |
|---|--|
| 1. Drawing Skills (10 Marks)                | 2. Creativity & Originality (10 Marks) |
| 3. Coloring / Shading / Painting (10 Marks) | 4. Composition & Layout (10 Marks)     |
| 5. Neatness & Presentation (5 Marks)        | 6. Theme Relevance (5 Marks)           |

Look at the picture given below, complete the line drawing and make different patterns with color sketch pens as shown in the figure.







Jindal Vidya Mandir, JSW Hill Side Township

Term-II Examination (2025-26)

SET-A

Class: III/ Sec: \_\_\_\_\_

Sub: English

Student Name: \_\_\_\_\_

Invigilator's Signature: \_\_\_\_\_

Max Marks: 80

Duration: 3Hrs

Roll no: \_\_\_\_\_

Date: \_\_\_\_\_

**General Instructions:**

- **Instructions:** This question paper contains 10 pages and has 6 main questions.
- **It is divided into 4 Sections:**

Section A - Reading	Section B- Writing
Section C - Grammar	Section D- Literature
- **All the questions are compulsory.**

**Section: A (Reading)**

**I. Read the passage and answer the following questions.**

**8X1=8**

The Earth is a beautiful place filled with trees, animals, and people. To keep it clean and healthy, everyone must do their part. When we plant trees, they give us fresh air and shade. Clean surroundings make our homes and streets look bright and pleasant. We should always throw garbage in the dustbin and use cloth bags instead of plastic ones. Water and electricity should never be wasted, as many living things depend on them. Even small actions, like watering a plant or turning off a tap, help the Earth stay happy and green. Let us all do our bit to take care of our planet and make it a better place for everyone to live in.



Q1. Why should water and electricity never be wasted?

Ans. \_\_\_\_\_  
\_\_\_\_\_

Q2. What should everyone do to make the planet a better place?

Ans. \_\_\_\_\_  
\_\_\_\_\_

Q3. What makes our homes and streets look bright and pleasant?

Ans. \_\_\_\_\_  
\_\_\_\_\_

**4. Fill in the blanks with suitable prepositions:**

- a. The birds live \_\_\_\_\_ the trees.
- b. Throw the garbage \_\_\_\_\_ the dustbin.

**5. Join the sentences using a suitable conjunction.**

- a. We should plant more trees. We should keep our surroundings clean.

**Ans.** \_\_\_\_\_

**6. Underline the subject and circle the predicate in the given sentence.**

- a. People should save water every day.

**7. Add a suitable interjection to this sentence.**

- a. \_\_\_\_\_! The park looks so clean after the cleanup.

**8. Change into plural forms:**

- a. tree- \_\_\_\_\_
- b. animal - \_\_\_\_\_

**II. Read the passage and answer the following questions.**

**7X1=7**

Droupadi Murmu is the 15th President of India and the first tribal woman to hold this high position. She was born on June 20, 1958, in a small village called Uparbeda in Odisha. Her early life was not easy, but she was always hardworking and determined. She loved studying and later became a teacher to help other children learn.



Before becoming the President, she worked as the Governor of Jharkhand. People respect her because she is humble, kind, and believes in helping others. She has faced many challenges in her life but never gave up. Droupadi Murmu inspires everyone, especially girls, to dream big and work hard to achieve their goals. She teaches us that no dream is too big if we have courage and patience. Her story reminds us that with honesty, education, and dedication, we can serve our country and make a difference in the world.

Q1. Name one quality of Droupadi Murmu.

**Ans.** \_\_\_\_\_

Q2. What was her profession before becoming President?

**Ans.** \_\_\_\_\_

Q3. What does she teach us?

Ans. \_\_\_\_\_  
\_\_\_\_\_

Q4. Why do people respect her?

Ans. \_\_\_\_\_  
\_\_\_\_\_

**\* Choose the correct answer:**

Q5. Droupadi Murmu is the \_\_\_\_\_ President of India.

- a. 10<sup>th</sup>      b. 15<sup>th</sup>      c. 12<sup>th</sup>      d. 20<sup>th</sup>

Q6. In which state was Droupadi Murmu born?

- a. Gujrat      b. Odisha      c. Jharkhand      d. Bihar

Q7. She was born on \_\_\_\_\_.

- a. June 20, 1958      b. August 20, 1958      c. June 21, 1958      d. July 4, 1957


**III. Read the poem and answer the questions accordingly.**

**5X1=5**

Hands that guide us, day and night,  
Holding us steady, keeping us right.  
Hearts that worry, minds that care,  
Always with love, always there.

They plant the seeds, we grow tall,  
Catching us gently whenever we fall.  
Words of wisdom, stories they share,  
Showing the world with love and care.

Listen closely, follow their way,  
Cherish their guidance every day.  
Respect is small, yet shines so bright,  
A gift for parents, a guiding light.



Q1. Who guides and cares for us in the poem?

Ans. \_\_\_\_\_  
\_\_\_\_\_

Q2. Name two ways parents show their love according to the poem.

Ans. \_\_\_\_\_  
\_\_\_\_\_

Q3. Write any two ways you show respect to your parents?

Ans. \_\_\_\_\_  
\_\_\_\_\_

Q4. Find a word from the poem that means the same as:

a. affection: \_\_\_\_\_

Q5. Suggest a suitable title for the above poem.

Ans. \_\_\_\_\_

**Section: B (Creative Writing)**

**IV.A. You visited your best friend's house. Write a dialogue between you and your friend about school and your favorite subject. (In 5 sets) 5X1=5**

\_\_\_\_\_

\_\_\_\_\_

\_\_\_\_\_

\_\_\_\_\_

\_\_\_\_\_

\_\_\_\_\_

\_\_\_\_\_

\_\_\_\_\_

\_\_\_\_\_

\_\_\_\_\_

\_\_\_\_\_

\_\_\_\_\_

\_\_\_\_\_

\_\_\_\_\_

\_\_\_\_\_

\_\_\_\_\_

\_\_\_\_\_

\_\_\_\_\_

\_\_\_\_\_

\_\_\_\_\_

\_\_\_\_\_

\_\_\_\_\_





**V.C. Fill in the blanks with suitable interjections.**

**4X½=2**

1. \_\_\_\_\_! I forgot to bring my homework.
2. \_\_\_\_\_! The teacher is coming.
3. \_\_\_\_\_! The floor is dirty.
4. \_\_\_\_\_! That was a funny joke.

**V.D. Fill in the blanks with 'in', 'on' or 'at' to form meaningful sentences.**

**4X½=2**

1. The students completed the group activity \_\_\_\_\_ exactly 15minutes.
2. My flight lands \_\_\_\_\_ 6:20 p.m., so please reach the airport early.
3. The teacher placed the model \_\_\_\_\_ the table for everyone to see.
4. The mural painted \_\_\_\_\_ the school wall represents unity and diversity.

**V.E. Rewrite these sentences by capitalizing and using correct punctuation where necessary.**

**2X1=2**

1. mr das is our new english teacher

Ans. \_\_\_\_\_

2. my cousin studies in st josephs school

Ans. \_\_\_\_\_

**V.F. Identify the types of sentences --- declarative, interrogative, imperative or exclamatory.**

**4X1=4**

1. Wow! This view is breathtaking. \_\_\_\_\_
2. Can you recommend any good restaurant? \_\_\_\_\_
3. Pacific Ocean is the largest ocean. \_\_\_\_\_
4. Sit down right now. \_\_\_\_\_

**V.G. Change the sentences into negative or affirmative sentences accordingly.**

**2X1=2**

1. They don't have a meeting on Wednesday.

Ans. \_\_\_\_\_

2. I have a blue pen.

Ans. \_\_\_\_\_

**V.H. Read the sentences and underline the subject and circle the predicate.**

**2X1=2**

1. Japan is known as the country of the rising sun.

2. We did a science experiment in the laboratory.

**Section: D (Literature)**

**VI.A. Read the poem and answer the questions.**

**4X1=4**

Bless the farmers for our food  
By their hands we are fed.  
Bless the farmers for our wheat  
That makes our daily bread.  
Bless the farmers for our milk.  
That makes our children strong.  
Bless the farmers for their strength  
And for working all day long.  
Bless the farmers for being there.



Q1. What do farmers do for us?

Ans. \_\_\_\_\_

Q2. What will happen to the rest of us if the farmers stop growing crops one day?

Ans. \_\_\_\_\_

Q3. What kind of treatment do the farmers deserve?

Ans. \_\_\_\_\_

Q4. Name some other professions where a person requires a lot of physical strength.

Ans. \_\_\_\_\_

**VI.B. Answer the given questions in one line.**

**5X1=5**

Q1. What is a snorkel?

Ans. \_\_\_\_\_

Q2. What did the Lepcha find around the lake?

Ans. \_\_\_\_\_

Q3. What did the sea want to do?

Ans. \_\_\_\_\_

Q4. Why Raja's trousers always had pockets in them?

Ans. \_\_\_\_\_

Q5. What did the Lepcha learn about the old couple?

Ans. \_\_\_\_\_

**VI.C Answer the following questions in two or three lines.**

**5X2=10**

Q1. Why was Meena annoyed at the sight of books?

Ans. \_\_\_\_\_

\_\_\_\_\_

Q2. Books are patient and comforting. Explain how.

Ans. \_\_\_\_\_

\_\_\_\_\_

Q3. What does Penny's communication with sea lions tell you about the relationship between human beings and animals?

Ans. \_\_\_\_\_

\_\_\_\_\_

Q4. Miss Maya's problems were solved by Raja's collection. How do you think she would have felt?

Ans. \_\_\_\_\_

\_\_\_\_\_

\_\_\_\_\_

Q5. He pressed on and then, at long last, he reached a lush green valley surrounded by tall mountain.

a. Who is he?

Ans. \_\_\_\_\_

\_\_\_\_\_

b. Where had he reached? Describe the place.

Ans. \_\_\_\_\_

\_\_\_\_\_

**VI.D. Answer the questions in 40-50 words. 3X2=6**

Q1. What trick did the rich merchant play on the farmer?

Ans. \_\_\_\_\_

\_\_\_\_\_

\_\_\_\_\_

\_\_\_\_\_

\_\_\_\_\_

\_\_\_\_\_

\_\_\_\_\_

\_\_\_\_\_

\_\_\_\_\_

Q2. Do you think Raja's hobby was a good one? Explain why?

Ans. \_\_\_\_\_

\_\_\_\_\_

\_\_\_\_\_

\_\_\_\_\_

\_\_\_\_\_

\_\_\_\_\_

\_\_\_\_\_

\_\_\_\_\_



**Jindal Vidya Mandir, JSW Hill Side Township**  
**Term -II Examination (2025-26)**

**SET-A**

**Class: III/ Sec: \_\_\_\_\_**

**Maximum Marks: 80**

**Subject: Hindi ( II Lang )**

**Duration: 3 Hrs**

**Name: \_\_\_\_\_**

**Roll No: \_\_\_\_\_**

**Invigilator's Signature: \_\_\_\_\_**

**Date: \_\_\_\_\_**

**सामान्य निर्देश:**

- प्रश्न-पत्र के 2 खंड हैं - वस्तुनिष्ठ और विवरणात्मक ।
- दोनों खंडों के प्रश्नों के उत्तर देना अनिवार्य है।

**खंड 'क' - वस्तुनिष्ठ प्रश्न (20 अंक)**

**प्रश्न 1. निम्नलिखित अपठित गद्यांश को ध्यानपूर्वक पढ़कर नीचे दिए गए प्रश्नों के उत्तर लिखिए- (5×2=10)**

(क) गाँव के किनारे एक छोटी सी नदी बहती थी। नदी का पानी साफ और ठंडा था। नदी के पास एक बड़ा पीपल का पेड़ था जिस पर पक्षी और गिलहरियाँ रहती थीं। गर्मियों में गाँव के बच्चे नदी के पास खेलते, पत्थर पर बैठकर बातें करते और ठंडी हवा का आनंद लेते। पर एक साल बहुत कम बरसात हुई — नदी का पानी कम होने लगा और मछलियाँ परेशान दिखीं। तब गाँव के लोग मिलकर पानी बचाने की योजना बनाने लगे। बच्चे भी हाथ में बाल्टी लेकर पेड़ के नीचे पानी जमा करने और पौधों को पानी देने लगे। उनकी मेहनत से धीरे-धीरे नदी में फिर जान आने लगी। अब गाँव वाले नदी की कद्र करते हैं और उसे साफ रखने की जिम्मेदारी महसूस करते हैं।

(१) बताइए कि नदी में मछलियों के परेशान होने का मुख्य कारण क्या था ?

- (i) पानी का गंदा होना (ii) बहुत ज्यादा मछलियाँ होना (iii) बरसात का कम होना (iv) नाव का आना

उत्तर=-----

(२) गाँव वालों ने नदी को बचाने के लिए क्या किया?

- (i) नदी को सीधा खोदा (ii) पानी इकट्ठा करके पौधों को पानी दिया और मिलकर योजना बनाई (iii) नदी को बंद कर दिया (iv) शहर वालों से मदद मांगी और वहाँ से पानी लाया

उत्तर=-----

(३) नदी कहाँ बहती थी ?

- (i) खेतों के किनारे (ii) गाँव के किनारे (iii) शहर के किनारे (iv) कहीं नहीं

उत्तर=-----

(४) नदी के पास किसका पेड़ था ?

- (i) आम का । (ii) पीपल का। (iii) अमरुद का (iv) नीम का

उत्तर=-----

(५) नदी में पानी कम होने लगा तो कौन परेशान होने लगे ?

- (i) लोग। (ii) बच्चे। (iii) मछलियाँ। (iv) पक्षी

उत्तर=-----

(ख) आरव एक जिज्ञासु बच्चा था। एक दिन वह अपने दादाजी के पुराने स्टोर रूम में गया। वहाँ उसे एक धूल से भरा पीतल का दीपक मिला। दीपक पर कुछ अजीब-सा चिह्न बना हुआ था। आरव ने जिज्ञासावश उसे रगड़ा, और अचानक कमरे में हल्की चमक फैल गई। दीपक से एक छोटा-सा चमकीला प्राणी निकला, जिसने अपना नाम “दीपू” बताया। दीपू ने कहा कि वह किसी भी इच्छा को पूरा नहीं कर सकता, लेकिन वह दुनिया के बारे में अद्भुत ज्ञान दे सकता है।

(१) एक दिन आरव कहाँ गया ?

- (i) राजा के दरबार में (ii) दादाजी के स्टोर रूम में (iii) स्कूल में (iv) घरवालों के पास

उत्तर=-----

(२) आरव को क्या मिला?

- (i) दो हीरे (ii) धूल से भरा पीतल का दीपक (iii) किताब (iv) ईनाम

उत्तर=-----

(३) दीपक से क्या निकला?

- (i) पानी (ii) चमकील प्राणी (iii) तेल (iv) घी

उत्तर=-----

(४) आरव कैसा बच्चा था ?

- (i) बदमाश । (ii) शैतान । (iii) जिज्ञासु। (iv) भोला- भाला

उत्तर=-----

(५) दीपक ने आरव को अपना क्या नाम बताया ?

- (i) मिठू (ii) दीपू (iii) सोनू (iv) रोमी

उत्तर=-----

प्रश्न 2. व्याकरण भाग से लिए गए निम्नलिखित प्रश्नों के सही उत्तर विकल्पों में से चुनकर लिखिए- (16x1=16)

(i) लिखकर भाव एवं विचार व्यक्त करने वाली भाषा को \_\_\_\_\_ कहते हैं ?

- क) सांकेतिक भाषा ख) लिखित भाषा ग) मौखिक भाषा घ) कोई भी नहीं

उत्तर -----

(ii) हिंदी भाषा की लिपि है-

- (क) फारसी (ख) गुरुमुखी (ग) देवनागरी (घ) रोमन

उत्तर -----

(iii) वचन कितने प्रकार के होते हैं ?

- (क) तीन (ख) दो (ग) चार (घ) एक

उत्तर -----

(iv) 'हवा से बातें करना' मुहावरे का अर्थ लिखो -

उत्तर-----

(v) फूलों का समूहवाची शब्द क्या होगा ?

- (क) भीड़ (ख) गुच्छा (ग) गुलदस्ता (घ) टीम

उत्तर -----

(vi) नीचे लिखे शब्दों से सर्वनाम शब्द छाँटकर लिखें-

- (क) आप (ख) दौड़ना (ग) गीता (घ) इनमें से कोई नहीं

उत्तर -----

(vii) वाक्य को सही क्रम में लिखें-

रानी हार का है सुंदर बहुत।

उत्तर-----

(viii) 'दर्जी कपड़े सील रहा है ----- कपड़े रख रही है।' रिक्त स्थान में उचित लिंग शब्द भरिए-

- (क) दर्ज़िन (ख) वीरांगना (ग) पंडिताइन (घ) धोबिन

उत्तर -----

(ix) 'संसार' का पर्यायवाची शब्द क्या है?

- (क) दुनिया (ख) दिन (ग) धरती (घ) आदमी

उत्तर -----

(x) तोता हरी मिर्च खा रहा है। वाक्य में क्रिया शब्द क्या है?

- (क) तोता (ख) मिर्च (ग) हरी (घ) खा रहा है

उत्तर -----

(xi) 'देखने वाला' के लिए एक शब्द क्या होगा ?

- (क) डाकिया (ख) श्रोता (ग) दर्शक (घ) विदेशी

उत्तर -----

(xii) जो खेती करता है।-

- (क) ग्रामीण (ख) किसान (ग) मूर्तिकार (घ) स्वदेशी

(xiii) 'सरल' शब्द का विलोम शब्द क्या है ?

- (क) बाहर (ख) कठिन (ग) उदास (घ) जीत

उत्तर -----

(xiv) 'अमीर' शब्द का विलोम शब्द होगा -

- (क) नीचे (ख) गरीब (ग) झूठ (घ) जिंदगानी

उत्तर -----

(xv) 'तालाब' शब्द का पर्यायवाची है-

- (क) पोखर (ख) दिवस (ग) जलज (घ) जलद

उत्तर -----

(xvi) रंग- बिरंगी तितलियाँ उड़ रही हैं। वाक्य में विशेषण शब्द क्या है ?

- (क) तितलियाँ (ख) रंग- बिरंगी (ग) है (घ) उड़

उत्तर -----

प्रश्न 3. पठित पद्यांश को ध्यानपूर्वक पढ़कर पूछे गए प्रश्नों के उचित उत्तर लिखें-

(5+2=7)

क) एक पिटारा हमने खोला,  
उसमें से निकला गप्पू गोला।  
गोले पर जब बाँधी सुतली,  
लगा नाचने बन कठपुतली।  
उन ऊँटों पर हुई सवारी,  
मिली राह में एक सुपारी।

(क) गप्पू गोला किस मे से निकला?

- (क) संदूक से (ख) पिटारे से (ग) जेब से (घ) इनमें से कोई नहीं

उत्तर -----

(ख) गोले पर क्या बाँधी ?

- (क) धागा (ख) कमीज (ग) सुतली (घ) इनमे से कोई नहीं

उत्तर -----

(ग) सवारी किन पर हुई ?

- (क) ऊँटों पर (ख) घोड़ों पर (ग) शेर पर (घ) दीवार पर

उत्तर -----

(घ) यह पद्यांश किस कविता से लिया गया है ?

- (क) रस्साकशी (ख) बया हमारी चिड़िया रानी (ग) कितने पैर (घ) एक जादुई पिटारा

उत्तर -----

(ड) राह में क्या मिली ?

(क) गोली (ख) सुपारी (ग) नारियल (घ) चॉकलेट

उत्तर -----

ख) खींचो, खींचो, जोर लगाओ,  
पैर गड़ाकर, पीठ अड़ाओ,  
आड़ी- तिरछी चाल भिड़ाओ।

(क) बच्चे कौन सा खेल खेल रहे हैं ?

(क) खो-खो (ख) क्रिकेट (ग) लूडो (घ) रस्साकशी

उत्तर-----

(ख) यह पद्यांश किस कविता से लिया गया है ?

(क) रस्साकशी (ख) एक जादुई पिटारा (ग) सुनो गप्प सुनो शप्प (घ) इनमे से कोई नहीं

उत्तर-----

प्रश्न 4. पठित गद्यांश को ध्यानपूर्वक पढ़कर पूछे गए प्रश्नों के उचित उत्तर लिखें- (5+2=7)

क) एक जंगल में खरनखर नाम का एक सिंह रहता था। एक दिन उसे बहुत भूख लगी वह आहार की खोज में पूरे जंगल में घूमता रहा, पर एक चूहा तक हाथ नहीं लगा। इस खोज में ही शाम हो गई। अंधेरा हो रहा था। इसी समय उसे एक माँद दिखाई दी। रात काटने के लिए वह उसी में घुस गया।

(१) सिंह का क्या नाम था ?

(क) शेरू (ख) शेरूदा (ग) खूंखारू (घ) खरनखर

उत्तर -----

(२) एक दिन सिंह को क्या लगी थी ?

(क) प्यास (ख) भूख (ग) गरमी (घ) सर्दी

उत्तर -----

(३) यह गद्यांश किस पाठ से लिया गया है ?

(क) आम का पेड़ (ख) बीरबल की खिचड़ी (ग) बोलने वाली माँद (घ) चतुर गीदड़

उत्तर -----

(४) सिंह किसकी खोज में घूमता रहा ?

(क) खेलने की खोज में (ख) आहार की खोज में (ग) सोने की खोज में (घ) कुछ नहीं

उत्तर -----

(५) रात बिताने के लिए सिंह कहाँ घुस गया ?

(क) जंगल में (ख) झाड़ियों में (ग) माँद में (घ) घर में

उत्तर -----

ख) बहुत अच्छा प्रश्न, शाबाश आपको पता है जो मशीन चाँद पर उतरी, उसका नाम 'विक्रम लैंडर' है।

(१) चाँद पर उतरने वाली मशीन का क्या नाम है ?

(क) प्रज्ञान (ख) रॉकेट (ग) विक्रम लैंडर (घ) इनमे से कुछ नहीं

उत्तर -----

(२) यह गद्यांश किस पाठ से लिया गया है ?

(क) चंद्रयान (ख) मित्र को पत्र (ग) चतुर गीदड़ (घ) तीखे

उत्तर -----

खंड 'ख' - विवरणात्मक प्रश्न (20 अंक)

प्रश्न 5. नीचे दिए गए प्रश्न का उत्तर एक वाक्य में लिखें-

(1x1=1)

(१) चंद्रयान क्या है ?

उत्तर -----

प्रश्न 6. निम्नलिखित प्रश्नों के उत्तर 20 से 30 शब्दों में दीजिए-

(2x3=6)

(क) सिमरन को चिड़िया का काम सरल क्यों लगा ?

उत्तर-----

-----

-----

(ख) थिमक्का को भारत सरकार ने कब और कैसे सम्मानित किया ?

उत्तर-----

-----

-----

-----

(ग) किसान ने भालू से बचने के लिए उससे क्या कहा ?

उत्तर-----

-----

.....  
.....  
प्रश्न 7 . निम्नलिखित प्रश्न का उत्तर 30 से 40 शब्दों में अपने विचारों के अनुरूप लिखिए-

(3x3=9)

(क) आप अपने देश का यश कैसे बढ़ाएँगे ?

उत्तर-----  
.....  
.....  
.....  
.....  
.....  
.....  
.....

(ख) कठिन समय में बुद्धि काम आती है या शक्ति? लिखिए -

उत्तर-----  
.....  
.....  
.....  
.....  
.....  
.....  
.....

(ग) कविता में हम अनेक किंतु एक का क्या अर्थ है ?

उत्तर-----  
.....  
.....  
.....  
.....  
.....  
.....

प्रश्न 8. निम्नलिखित प्रश्न का उत्तर 40 से 50 शब्दों में अपने विचारों के अनुरूप लिखिए-

(1×4=4)

प्रश्न- भारत किन-किन बातों में विविध है ?

उत्तर-----

-----

-----

-----

-----

-----

प्रश्न 9. 'जब मैंने एक सपना देखा' विषय पर लगभग 70-80 शब्दों में अनुच्छेद लिखिए।

(1×5=5)

उत्तर-----

-----

-----

-----

-----

-----

-----

-----

-----

-----

-----

-----

-----

-----

-----

-----

-----

-----

प्रश्न 10. अपने मित्र को जन्मदिन का निमंत्रण देते हुए पत्र लिखिए -

(1×5=5)

-----

-----

-----

-----

-----

-----

-----

-----

-----

-----

-----

-----

-----

-----

-----

-----

-----

-----

-----

-----

-----

-----

प्रश्न 11. दो मित्रों के बीच 6 से 7 वाक्यों में संवाद लिखो

(1×5=5)

-----

-----

-----

-----

-----

-----

-----

-----

-----

-----

-----

प्रश्न-12. नीचे दिए गए दृश्य को देखकर 5 से 7 वाक्यों में चित्र वर्णन करें-

5x1=5



उत्तर

\*\*\*\*\*



**Jindal Vidya Mandir, JSW Hill Side Township**  
**Term-I Examination (2025-26)**

Class/Sec : III/\_\_\_\_\_

Set – B

Max.Marks: 80

Subject: Kannada (II Language)

Duration: 3 Hours.

Name : \_\_\_\_\_

Roll No.: \_\_\_\_\_

Invigilator's Sign: \_\_\_\_\_

Date : \_\_\_\_\_

ಸೂಚನೆಗಳು:

- \* ಪತ್ರಿಕೆಯು A ಮತ್ತು B ಎಂಬ ಎರಡು ಭಾಗಗಳನ್ನು ಒಳಗೊಂಡಿರುತ್ತದೆ.
- \* ಪ್ರಶ್ನೆ ಪತ್ರಿಕೆಯಲ್ಲಿ ಒಟ್ಟು 15 ಮುಖ್ಯ ಪ್ರಶ್ನೆಗಳು ಇರುತ್ತವೆ ಮತ್ತು 13 ಪುಟಗಳನ್ನು ಹೊಂದಿದೆ.
- \* ಪ್ರತಿಯೊಂದು ಪ್ರಶ್ನೆಗಳ ಸೂಚನೆಗಳನ್ನು ಸರಿಯಾಗಿ ಓದಿಕೊಂಡು ಉತ್ತರಿಸಿ.

ಭಾಗ- A (40 ಅಂಕಗಳು)	ವಾಚನ ಮತ್ತು ಗ್ರಹಿಕಾ ಕೌಶಲ್ಯ	20 ಅಂಕಗಳು
	ಅನ್ವಯಿಕ ವ್ಯಾಕರಣ	15 ಅಂಕಗಳು
	ಬಹುಆಯ್ಕೆ ಪಠ್ಯಗಳ ಅಧ್ಯಯನ	5 ಅಂಕಗಳು
ಭಾಗ- B (40 ಅಂಕಗಳು)	ಬರವಣಿಗೆ ಕೌಶಲ್ಯ	12 ಅಂಕಗಳು
	ಪಠ್ಯಗಳ ಅಧ್ಯಯನ	28 ಅಂಕಗಳು
	ಒಟ್ಟು ಅಂಕಗಳು	80 ಅಂಕಗಳು

**ಭಾಗ - A ( 40 ಅಂಕಗಳು)**

(ವಾಚನ ಮತ್ತು ಗ್ರಹಿಕಾ ಕೌಶಲ್ಯ)-20 ಅಂಕಗಳು

I. ಈ ಕೆಳಗಿನ ಪಠ್ಯೇತರ ಗದ್ಯಭಾಗವನ್ನು ಓದಿಕೊಂಡು, ಕೊಟ್ಟಿರುವ ಪ್ರಶ್ನೆಗಳಿಗೆ ಬಹು ಆಯ್ಕೆ ಉತ್ತರಗಳ ಸಹಾಯದಿಂದ ಉತ್ತರಿಸಿರಿ.

**5x1=5M**

ಭಾರತದ ದಕ್ಷಿಣ ಭಾಗದ ಇತಿಹಾಸದಲ್ಲಿ ಅತ್ಯಂತ ಪ್ರಮುಖ ರಾಜವಂಶಗಳಲ್ಲಿ ಹೊಯ್ಸಳ ವಂಶ ಒಂದಾಗಿದೆ. ಈ ವಂಶವು ಕರ್ನಾಟಕದ ಸಾಂಸ್ಕೃತಿಕ, ರಾಜಕೀಯ ಮತ್ತು ಕಲೆ-ಸಾಹಿತ್ಯ ಕ್ಷೇತ್ರಗಳಲ್ಲಿ ಅಪಾರವಾದ ಸಾಧನೆಗಳನ್ನು ಮಾಡಿದೆ. ಹೊಯ್ಸಳರ ಕಾಲವನ್ನು ಕನ್ನಡ ಸಂಸ್ಕೃತಿಯ 'ಚಿನ್ನದಯುಗ' ಎಂದು ಕರೆಯಬಹುದು. ಹೊಯ್ಸಳ ವಂಶದ ಸ್ಥಾಪಕ ಸಳ. ಪುರಾಣದ ಪ್ರಕಾರ ಜೈನ ಗುರುಗಳು ಒಂದು ಕಬ್ಬಿಣದ ಸಲಾಕೆಯನ್ನು ಕೊಟ್ಟು 'ಹೊಯ್ ಸಳ' ಎಂದು ಹೇಳಿದಾಗ ಸಳನು ಅವರ ಆಶೀರ್ವಾದದಿಂದ ಹುಲಿಯನ್ನು ಕೊಂದು ರಾಜನಾದನು. ಹೊಯ್ಸಳರ ಮೊದಲ ರಾಜಧಾನಿ ಬೇಲೂರು, ನಂತರ ಹಳೇಬೀಡು. ಹೊಯ್ಸಳರು 10ನೇ ಶತಮಾನದಿಂದ 14ನೇ ಶತಮಾನದವರೆಗೆ ಸುಮಾರು ನಾಲ್ಕು ನೂರು ವರ್ಷಗಳ ಕಾಲ ಆಳ್ವಿಕೆ ನಡೆಸಿದರು. ಹೊಯ್ಸಳ ವಂಶದ ಪ್ರಸಿದ್ಧ ದೊರೆ ವಿಷ್ಣುವರ್ಧನ. ಇವರು ಸುಂದರ

ದೇವಾಲಗಳ ನಿರ್ಮಾಣಕ್ಕೆ ಕಾರಣರಾದರು. ಹೊಯ್ಸಳರು ಕೇವಲ ಶಿಲ್ಪಕಲೆಯಲ್ಲ, ಕನ್ನಡ ಸಾಹಿತ್ಯಕ್ಕೂ ಬಹು ಕೊಡುಗೆ ನೀಡಿದ್ದಾರೆ.

ಪ್ರಶ್ನೆಗಳು:

1. ಹೊಯ್ಸಳರ ಕಾಲವನ್ನು ಕನ್ನಡ ಸಂಸ್ಕೃತಿಯ \_\_\_\_\_ಯುಗ ಎಂದು ಕರೆಯಬಹುದು.

(i) ತಾಮ್ರದ (ii) ಚಿನ್ನದ (iii) ಬೆಳ್ಳಿಯ (iv) ಕಂಚಿನ

2. \_\_\_\_\_ ಗುರುಗಳು ಕಬ್ಬಿಣದ ಸಲಾಕೆ ಕೊಟ್ಟು "ಹೊಯ್ ಸಳ" ಎಂದು ಹೇಳಿದರು.

(i) ಜೈನ (ii) ಬೌದ್ಧ (iii) ಹಿಂದೂ (iv) ಕ್ರೈಸ್ತ

3. ಹೊಯ್ಸಳ ವಂಶದ ಸ್ಥಾಪಕ \_\_\_\_\_

(i) ಸಳ (ii) ರಾಮ (iii) ಕೃಷ್ಣ (iv) ಮನ

4. ಹೊಯ್ಸಳರ ಮೊದಲ ರಾಜಧಾನಿ \_\_\_\_\_

(i) ಸವಣೂರು (ii) ಆಲೂರು (iii) ಬೇಲೂರು (iv) ಹಳೇಬೀಡು

5. ಹೊಯ್ಸಳ ವಂಶದ ಪ್ರಸಿದ್ಧ ದೊರೆ \_\_\_\_\_

(i) ಹರ್ಷವರ್ಧನ (ii) ವಿಷ್ಣುವರ್ಧನ (iii) ಗೌರಿನಂದನ (iv) ಸಳ

II. ಈ ಕೆಳಗಿನ ಪಠ್ಯೇತರ ಗದ್ಯಭಾಗವನ್ನು ಓದಿಕೊಂಡು, ಕೊಟ್ಟಿರುವ ಪ್ರಶ್ನೆಗಳಿಗೆ ಬಹು ಆಯ್ಕೆ ಉತ್ತರಗಳ ಸಹಾಯದಿಂದ ಉತ್ತರಿಸಿರಿ. **5x1=5M**

ಭಾರತದ ಸ್ವಾತಂತ್ರ್ಯ ಹೋರಾಟದ ಇತಿಹಾಸದಲ್ಲಿ ತುಂಬಾ ಹೆಸರು ಮಾಡಿರುವವರು ಭಗತ್ ಸಿಂಗ್. ಅವರು ದೇಶಕ್ಕಾಗಿ ತಮ್ಮ ಪ್ರಾಣವನ್ನೇ ತ್ಯಾಗ ಮಾಡಿದರು. ಇವರ ಧೈರ್ಯ ಮತ್ತು ದೇಶಭಕ್ತಿ ಭಾರತೀಯ ಯುವಕರಿಗೆ ಸ್ಫೂರ್ತಿಯಾಗಿದೆ. ಭಗತ್ ಸಿಂಗ್ ಅವರು 28 ಸೆಪ್ಟೆಂಬರ್ 1907ರಲ್ಲಿ ಪಂಜಾಬಿನಲ್ಲಿ ಜನಿಸಿದರು. ಇವರ ತಂದೆ ಕಿಶನ್ ಸಿಂಗ್ ಮತ್ತು ತಾಯಿ ವಿದ್ಯಾವತಿ. ಬಾಲ್ಯದಿಂದಲೇ ಅವರು ದೇಶದ ಸ್ವಾತಂತ್ರ್ಯ ಹೋರಾಟದ ಬಗ್ಗೆ ಆಸಕ್ತಿ ಹೊಂದಿದ್ದರು. 1919ರಲ್ಲಿ ನಡೆದ 'ಜಲಿಯನ್ ವಾಲಾಬಾಗ್' ಹತ್ಯಾಕಾಂಡವು ಭಗತ್ ಸಿಂಗ್ ಅವರ ಮನಸ್ಸಿನಲ್ಲಿ ಪ್ರಭಾವ ಬೀರಿತು. ಅಂದಿನಿಂದಲೇ ಇವರು ಬ್ರಿಟಿಷರ ವಿರುದ್ಧ ಹೋರಾಡಬೇಕೆಂದು ತೀರ್ಮಾನಿಸಿದರು.

ಪ್ರಶ್ನೆಗಳು:

1. ಭಗತ್ ಸಿಂಗ್‌ರವರು ದೇಶಕ್ಕಾಗಿ ತಮ್ಮ ಪ್ರಾಣವನ್ನೇ \_\_\_\_\_ ಮಾಡಿದರು.

(i) ತ್ಯಾಗ (ii) ಖರೀದಿ (iii) ಮನೆ (iv) ಮಾರಾಟ

2. ಇವರ ತಂದೆ \_\_\_\_\_ ಮತ್ತು ತಾಯಿ ವಿದ್ಯಾವತಿ.

(i) ರಾಮ ಸಿಂಗ್ (ii) ಕಿಶನ್ ಸಿಂಗ್ (iii) ಜಾನಕಿ ಸಿಂಗ್ (iv) ಸುಂದರ ಸಿಂಗ್

3. ಭಗತ್ ಸಿಂಗ್ ಅವರು 28 ಸೆಪ್ಟೆಂಬರ್ 1907ರಲ್ಲಿ \_\_\_\_\_ನಲ್ಲಿ ಜನಿಸಿದರು.

(i) ಕೇರಳ (ii) ಗುಜರಾತ್ (iii) ಪಂಜಾಬಿ (iv) ಉತ್ತರ ಪ್ರದೇಶ

4. ಬಾಲ್ಯದಿಂದಲೇ ಅವರು ದೇಶದ \_\_\_\_\_ಹೋರಾಟದ ಬಗ್ಗೆ ಆಸಕ್ತಿ ಹೊಂದಿದ್ದರು.

(i) ಸ್ವಾತಂತ್ರ್ಯ (ii) ಕಾಮಿಕರ (iii) ಮಕ್ಕಳ (iv) ಮಹಿಳೆಯರ

5. \_\_\_\_\_ರಲ್ಲಿ ನಡೆದ 'ಜಲಿಯನ್ ವಾಲಾಬಾಗ್' ಹತ್ಯಾಕಾಂಡವು.

(i) 1910 (ii) 1919 (iii) 1819 (iv) 1909

III. ಈ ಕೆಳಗಿನ 'ಜಾತ್ರೆ' ಗದ್ಯಭಾಗವನ್ನು ಓದಿಕೊಂಡು, ಕೊಟ್ಟಿರುವ ಪ್ರಶ್ನೆಗಳಿಗೆ ಉತ್ತರಿಸಿರಿ.

5x1=5

ಕಂಸಾಳಿಯವರು ಮುಂದೆ ಹೋಗುತ್ತಿದ್ದಂತೆ ಡಬ್ ಡಬ್ ಸದ್ದು ಮಾಡುತ್ತಾ ಬಂದ ತಂಡವನ್ನು ಕಮಲ ಕುತೂಹಲದಿಂದ ನೋಡಿದಳು. ಆ ತಂಡದ ಬಗ್ಗೆ ತಿಳಿಯಲು ಆಸೆಯಿಂದ "ತಾತ ಅವರು ಯಾರು?" ಎಂದು ಕೇಳಿದಳು. ಅದಕ್ಕೆ ತಾತ, "ಅವರು ಬೀರ ದೇವರ ಭಕ್ತರು. ಅವರು ಡೊಳ್ಳನ್ನು ಬಡಿಯುತ್ತಾ ನೃತ್ಯ ಮಾಡುತ್ತಿದ್ದಾರೆ. ಡೊಳ್ಳು ಎಂದರೆ ಅದು ಒಂದು ಬಗೆಯ ಚರ್ಮ ವಾದ್ಯ. ಅದರ ಭಾರವೂ ಹೆಚ್ಚು, ಹಾಗೆಯೇ ನಾದವೂ ಹೆಚ್ಚು. ನೋಡು! ಅವರು ಕೋಲಿನಿಂದ ಡೊಳ್ಳನ್ನು ಬಾರಿಸುತ್ತಾ ಹೇಗೆ ಬೇರೆ ಬೇರೆ ಭಂಗಿಗಳಲ್ಲಿ ನೃತ್ಯ ಮಾಡುತ್ತಿದ್ದಾರೆ. ಈ ನೃತ್ಯವನ್ನು ಜಾತ್ರೆ, ಉತ್ಸವ, ಕಲಾ ಮೇಳ, ಹಬ್ಬ ಮುಂತಾದ ಸಂದರ್ಭಗಳಲ್ಲಿ ಮಾಡುತ್ತಾರೆ. ಉತ್ತರ ಕರ್ನಾಟಕ ಜಿಲ್ಲೆಗಳಲ್ಲಿ ಈ ಕಲೆ ಹೆಚ್ಚಾಗಿ ಕಂಡುಬರುತ್ತದೆ" ಎಂದರು. ಅವರೆಲ್ಲ ಮೆರವಣಿಗೆಯ ಜೊತೆಯಲ್ಲೇ ಮುಂದೆ ಮುಂದೆ ಬರುತ್ತಿದ್ದಂತೆ ದೂರದಲ್ಲಿ ಬಯಲಾಟದ ದೃಶ್ಯ ಕಂಡಿತು. ಒಡನೆಯೇ ರಾಜು, ತಾತ ಅದೇನದು ಅಲ್ಲಿ ಕಾಣುತ್ತಿರುವುದು? ನಾವು ಅಲ್ಲಿಗೆ ಹೋಗೋಣ" ಎಂದನು. ಅದಕ್ಕೆ ತಾತ, "ಅದು ಯಕ್ಷಗಾನ ಬಯಲಾಟ. ಬನ್ನಿ ನಾವೆಲ್ಲ ಅಲ್ಲಿಗೆ ಹೋಗೋಣ ಎಂದು ಜನರ ನಡುವೆ ದಾರಿ ಮಾಡಿಕೊಂಡು ರಂಗಸ್ಥಳದ ಮುಂದೆ ಬಂದರು.

ಪ್ರಶ್ನೆಗಳು:

1. ಡೊಳ್ಳು ಎಂದರೇನು?

---

2. ಡೊಳ್ಳು ಕುಣಿತದವರು ಯಾರ ಭಕ್ತರು?

---

3. ಯಾವ ಜಿಲ್ಲೆಗಳಲ್ಲಿ ಡೊಳ್ಳು ಕುಣಿತ ಹೆಚ್ಚಾಗಿ ಕಂಡುಬರುತ್ತದೆ?

---

4. ಕಮಲ ಯಾವುದನ್ನು ಕುತೂಹಲದಿಂದ ನೋಡಿದಳು?

---

5. ಅವರು ಡೊಳ್ಳು ಬಡಿಯುತ್ತಾ ಏನು ಮಾಡುತ್ತಿದ್ದಾರೆ?

---

IV. ಈ ಕೆಳಗಿನ 'ರಾಜನ ಸುಪ್ರಭಾತ' ಪದ್ಯಭಾಗವನ್ನು ಓದಿಕೊಂಡು, ಕೊಟ್ಟಿರುವ ಪ್ರಶ್ನೆಗಳಿಗೆ ಉತ್ತರಿಸಿರಿ.

5x1=5M

ಶೂಗಳನು ಕಟ್ಟಿಕೋ ಚೀಲವನು ಎತ್ತಿಕೋ

ಶಾಲೆಕಡೆ ಹೆಜ್ಜೆಯಿಡು ರಾಜಾ ನಮ್ಮ ರಾಜಾ

ನಿಜವೆಂದ್ರೆ ನನ್ನವ್ವ ಇವತ್ತು ರವಿವಾರ

ಶಾಲೆಗೆ ರಜಾ ಎನುವ ರಾಜಾ ನಮ್ಮ ರಾಜಾ

ಅಕಟಕಟ! ವಾರಕ್ಕೆ ಒಂದೆ ರವಿವಾರಕಣ

ಅದು ನಿನ್ನೆಗಾಯಿತ್ತು ರಾಜಾ ನಮ್ಮ ರಾಜಾ!

ಕೆ.ವಿ. ತಿರುಮಲೇಶ್

ಪ್ರಶ್ನೆಗಳು:

1. ರಾಜಾ ಏನನ್ನು ಕಟ್ಟಿಕೊಳ್ಳಬೇಕು?

---

2. ರಾಜಾ ಯಾವ ಕಡೆಗೆ ಹೆಜ್ಜೆ ಇಡಬೇಕು?

---

3. ಶಾಲೆಗೆ ಯಾವ ವಾರ ರಜಾ ಇದೆ?

---

4. ವಾರಕ್ಕೆ ಎಷ್ಟು ರವಿವಾರ ಬರುತ್ತವೆ?

---

5. ಈ ಪದ್ಯದವನ್ನು ಬರೆದ ಕವಿಯ ಹೆಸರೇನು?

---

(ಅನ್ವಯಿಕ ವ್ಯಾಕರಣ)-15 ಅಂಕಗಳು

V. ಈ ಕೆಳಗಿನ ಪ್ರಶ್ನೆಗಳಿಗೆ ಸೂಚಿಸಿದಂತೆ ಸರಿಯಾದ ಉತ್ತರವನ್ನು ಆರಿಸಿ, ಬರೆಯಿರಿ. 10x1=10M

1. ಶಕ್ತಿಗಿಂತ \_\_\_\_\_ (ಈ ಗಾದೆಯನ್ನು ಪೂರ್ಣಗೊಳಿಸಿ)

(i) ಆಸ್ತಿ ಮೇಲು (ii) ಯುಕ್ತಿ ಮೇಲು (iii) ಬಲ ಮೇಲು (iv) ಚಂದ ಮೇಲು

2. 'ಹಳ್ಳ' ಈ ಪದದ ಜೋಡುನುಡಿ \_\_\_\_\_

(i) ಕೊಳ್ಳ (ii) ತರೋಣ (iii) ಸುಳ್ಳು (iv) ಕೆರೆ

3. 'ತಳ್ಳೋದು' - \_\_\_\_\_ (ಈ ಪದದ ಗ್ರಾಂಥಿಕ ರೂಪ ಬರೆಯಿರಿ)

(i) ತರುವುದು (ii) ತಂದ (iii) ತಳ್ಳುವುದು (iv) ತಂದರು

4. ದೊಡ್ಡದು x \_\_\_\_\_ (ಈ ಪದದ ವಿರುದ್ಧ ಪದ ಬರೆಯಿರಿ)

(i) ಚಿಕ್ಕದು (ii) ಪ್ರಥಮ (iii) ದಡ್ಡದು (iv) ಬದಲು

5. 'ಸೂರ್ಯ' ಈ ಪದದ ಸಮಾನಾರ್ಥಕ ಪದ \_\_\_\_\_

(i) ನೆಲ (ii) ಮಗು (iii) ಅಮ್ಮ (iv) ರವಿ

6. ಗೆಳತಿ - \_\_\_\_\_ (ಈ ಪದದ ಪುಲ್ಲಿಂಗ ರೂಪ)

(i) ಹುಡುಗ (ii) ಗೆಲೆಯ (iii) ಸ್ನೇಹಿತೆ (iv) ಹಾಳು

7. ಗೆದ್ದನು - \_\_\_\_\_ (ಈ ಪದವನ್ನು ಭವಿಷ್ಯತ್ ಕಾಲದಲ್ಲಿ ಬರೆಯಿರಿ)

(i) ಗೆಲ್ಲುವನು (ii) ಗೆಲ್ಲುತ್ತಾನೆ (iii) ಗೆಲುವು (iv) ಗೆಲ್ಲು

8. ಕಣ್ಣು - \_\_\_\_\_ (ಈ ಪದದ ಪ್ರಾಸ ಪದವನ್ನು ಬರೆಯಿರಿ)

(i) ಕಣ್ಣುಗಳು (ii) ಬಣ್ಣ (iii) ಕಣ್ಣು (iv) ಕಾಣು

9. ರಭಶ - \_\_\_\_\_ (ಈ ಪದದ ಸರಿಯಾದ ರೂಪ ಬರೆಯಿರಿ)

(i) ರಭಷ (ii) ರಭಸ (iii) ರಬಸ (iv) ರಾಭಸ

10. ನಿಜ + ಅಂದ್ರೆ = \_\_\_\_\_ (ಈ ಪದವನ್ನು ಕೂಡಿಸಿ ಬರೆಯಿರಿ)

(i) ನಿಜವೆಂದ್ರೆ (ii) ನಿಜಂದ್ರೆ (iii) ನಿಜ ಅಂದ್ರೆ (iv) ನಿಜವನ್ನುವುದು

**VI. ಈ ಕೆಳಗಿನ ಪದಗಳನ್ನು ಬಳಸಿ ಸ್ವಂತ ವಾಕ್ಯಗಳನ್ನು ರಚಿಸಿರಿ.**

**2x1=2M**

1. ಅವಸರ - \_\_\_\_\_

2. ಎದೆಗುಂದು - \_\_\_\_\_

VII. ಈ ಕೆಳಗಿನ ಪದಗಳನ್ನು ಅನುಕ್ರಮವಾಗಿ ಜೋಡಿಸಿ, ಸರಿಯಾದ ವಾಕ್ಯಗಳನ್ನು ಬರೆಯಿರಿ.

3x1=3M

1. ಅವಸರ ಮಾಡಬಾರದು ಮಾಡುವಾಗ ಊಟ

2. ಈ ದೇವಾಲಯವು ನಿರ್ಮಾಣವಾಗಿದೆ ನಕ್ಷತ್ರಾಕಾರದ ಜಗಲಿಯ ಮೇಲೆ

3. ಆಡುವಾಗ ಆಟ ಎಚ್ಚರವಿರಲಿ

(ಬಹುಆಯ್ಕೆ ಪಠ್ಯಗಳ ಅಧ್ಯಯನ)-5 ಅಂಕಗಳು

VIII. ಈ ಕೆಳಗಿನ ಬಿಟ್ಟ ಸ್ಥಳಗಳಲ್ಲಿ ಸರಿಯಾದ ಉತ್ತರವನ್ನು ಆರಿಸಿ, ಬರೆಯಿರಿ.

5x1=5M

1. ಐದರ ಆನಂತರದ ಸಂಖ್ಯೆ \_\_\_\_\_

(i) ಆರು (ii) ಹಾರು (iii) ಹರು (iv) ನಾಲ್ಕು

2. ಬೆಟ್ಟದಾಚೆ ತಾ ಬೆಳೆದು ನಿಂತನು ಪಟ್ಟರಾಜ ಕವಿ \_\_\_\_\_

(i) ಸುಧಾಕರ (ii) ಪ್ರಭಾಕರ (iii) ಮನೋಹರ (iv) ಹರೋಹರ

3. ಜಾತ್ರೆಯಲ್ಲಿ ನೋಡಿದಲ್ಲೆಲ್ಲಾ \_\_\_\_\_ ನೆರೆದಿತ್ತು.

(i) ಸಾಗರವೇ (ii) ಮನ ಸಾಗರ (iii) ಜನ ಸಾಗರವೇ (iv) ಮರ ಸಾಗರವೇ

4. ಕಣ್ಣುಗಳಿದ್ದೂ ಇಲ್ಲದ ಹಾಗೆ ಬದುಕಿರುವವರು \_\_\_\_\_

(i) ಹಲವು ಜನ (ii) ಬಹಳ ಜನ (iii) ಎಲ್ಲ ಜನ (iv) ಕೆಲವು ಜನ

5. ಯಕ್ಷಗಾನ ಬಯಲಾಟದ ಅಂದಿನ ಪ್ರಸಂಗ \_\_\_\_\_

(i) ಶ್ರೀ ದೇವೀ ಮಹಾತ್ಮೆ (ii) ರಾಧೆ ಮಹಾತ್ಮೆ (iii) ಜೀವ ಮಹಾತ್ಮೆ (iv) ಕೃಷ್ಣ ಮಹಾತ್ಮೆ







(ಪಠ್ಯಗಳ ಅಧ್ಯಯನ)-28 ಅಂಕಗಳು

XII. ಈ ಕೆಳಗಿನ ಪ್ರಶ್ನೆಗಳಿಗೆ ಎರಡು ವಾಕ್ಯಗಳಲ್ಲಿ ಉತ್ತರಿಸಿರಿ.

4x2=8M

1. ಭಗೀರಥ ಯಾರಿಗೆ ಸ್ವರ್ಗ ಸಿಗಬೇಕೆಂದು ಚಿಂತಿಸುತ್ತಿದ್ದನು? ಗಂಗೆ ಹರಿಯುವ ರಭಸವನ್ನು ತಡೆದವರು ಯಾರು?

ಉ: \_\_\_\_\_  
\_\_\_\_\_  
\_\_\_\_\_

2. ಜನರು ಸಳನನ್ನು ತಮ್ಮ ದೊರೆ ಎಂದು ಒಪ್ಪಲು ಕಾರಣವೇನು?

ಉ: \_\_\_\_\_  
\_\_\_\_\_  
\_\_\_\_\_

3. ಕೊನೆಯ ಚೌಕಕ್ಕೆ ಬಂದ ಮೇಲೆ ಏನು ಮಾಡಬೇಕೆಂದು ಪ್ರಮೀಳ ಹೇಳಿದಳು?

ಉ: \_\_\_\_\_  
\_\_\_\_\_  
\_\_\_\_\_

4. ಗವಾಯಿಯವರು ಮಾಡಿದ ಸಾಧನೆಗಳು ಯಾವುವು?

ಉ: \_\_\_\_\_  
\_\_\_\_\_  
\_\_\_\_\_

XIII. ಈ ಕೆಳಗಿನ ಪ್ರಶ್ನೆಗಳಿಗೆ ಮೂರು ವಾಕ್ಯಗಳಲ್ಲಿ ಉತ್ತರಿಸಿರಿ.

2x3=6M

1. ಸೂಚನಾ ಫಲಕಗಳೆಂದರೇನು? ಸೂಚನಾ ಫಲಕವನ್ನು ಏಕೆ ಹಾಕುತ್ತಾರೆ?

ಉ: \_\_\_\_\_  
\_\_\_\_\_  
\_\_\_\_\_

---

---

---

2. ಡಾ. ಜೀಬ್ರಾ ಕಾಯಿಲೆ ಬಿದ್ದ ಕಾಡಿನ ರಾಜ ಸಿಂಹವನ್ನು ಹೇಗೆ ಪರೀಕ್ಷಿಸಿತು? ಸಿಂಹವು ಏನು ಮಾಡಿತು?

ಉ: \_\_\_\_\_

---

---

---

---

**XIV. ಈ ಕೆಳಗಿನ ಮಾತನ್ನು ಯಾರು-ಯಾರಿಗೆ ಹೇಳಿದರು? ಬರೆಯಿರಿ.**

**2x3=6M**

1. “ಈ ವೀರನನ್ನು ನೀವು ನಿಮ್ಮ ದೊರೆಯನ್ನಾಗಿ ಮಾಡಿಕೊಳ್ಳಿ.”

ಆಯ್ಕೆ - \_\_\_\_\_

ಯಾರು? \_\_\_\_\_

ಯಾರಿಗೆ? \_\_\_\_\_

2. “ನಿನ್ನ ಇಚ್ಛೆಯಂತೆ ನಾನು ಭೂಮಿಗೆ ಧುಮುಕುತ್ತೇನೆ.”

ಆಯ್ಕೆ - \_\_\_\_\_

ಯಾರು? \_\_\_\_\_

ಯಾರಿಗೆ? \_\_\_\_\_

**XV. ಈ ಕೆಳಗಿನ ಪ್ರಶ್ನೆಗಳಿಗೆ ನಾಲ್ಕು ವಾಕ್ಯಗಳಲ್ಲಿ ಉತ್ತರಿಸಿರಿ.**

**2x4=8M**

1. ಭಿತ್ತಿಪತ್ರದ ಕುರಿತು ಬರೆಯಿರಿ? ನೀರನ್ನು ಮಿತವಾಗಿ ಬಳಸಬೇಕು ಏಕೆ?

**ಅಥವಾ**

ಪ್ರಮೀಳ ಯಾವ ಆಟವನ್ನು ಆಡಲು ತಯಾರಾಗಿದ್ದಳು? ಮೊದಲ ಮೂರು ಚೌಕಗಳನ್ನು ಬಿಲ್ಲಿ ತಳ್ಳುತ್ತಾ ಸಾಗಿದ ಅನಂತರ ಏನು ಮಾಡಬೇಕು?

ಉ: \_\_\_\_\_

\_\_\_\_\_

\_\_\_\_\_

\_\_\_\_\_

\_\_\_\_\_

\_\_\_\_\_

\_\_\_\_\_

\_\_\_\_\_

2. ಕಾಡಿನರಾಜ ಸಿಂಹವು ವೃಥೆಪಡಲು ಕಾರಣವೇನು? ಮತ್ತು ಜಾಣ ವೈದ್ಯ ನರಿ ಕಾಯಿಲೆ ಬಿದ್ದ ಕಾಡಿನ ರಾಜ ಸಿಂಹವನ್ನು ಹೇಗೆ ಪರಿಕ್ಷಿಸಿತು?

**ಅಥವಾ**

ಸಳನ ಮನೆತನಕ್ಕೆ ಹೊಯ್ಯಳ ಎಂಬ ಹೆಸರು ಹೇಗೆ ಬಂತು? ಹೊಯ್ಯಳರಿಂದ ನಿರ್ಮಾಣಗೊಂಡ ದೇವಾಲಯಗಳು ಯಾವುವು?

ಉ: \_\_\_\_\_

\_\_\_\_\_

\_\_\_\_\_

\_\_\_\_\_

\_\_\_\_\_

\_\_\_\_\_

\_\_\_\_\_

\_\_\_\_\_



**Jindal Vidya Mandir, JSW Hill Side Township**

**Term-II Examination (2025-26)**

Class/Sec: III/\_\_\_\_\_

Max. Marks: 30

Sub: Hindi( III Language)

Duration: 1Hrs.

Name : \_\_\_\_\_

Roll No. : \_\_\_\_\_

Date : \_\_\_\_\_

Set-B

Invigilator's Sign. : \_\_\_\_\_

**General Instructions:**

- 1) सभी प्रश्नों को हल करना अनिवार्य है।
- 2) कुल प्रश्न संख्या 7 है।

**प्रश्न 1) शब्दों के सही अर्थ चुनकर लिखो- ( word meaning) 2X1=2**

क) अनुकूल = \_\_\_\_\_ ( अनुसार, केवल)

ख) दाढ़ी = \_\_\_\_\_ ( ठोड़ी के बाल, मुँछ)

**प्रश्न 2) खाली स्थान भरों - ( choose the correct answer and fill in the blank) 4X1=4**

क) माँ ने रूही को \_\_\_\_\_ पहनाई। ( टीशर्ट,स्वेटर )

ख) \_\_\_\_\_ लोग बल्लेबाजी करो। (तुम, वे,में )

ग) गुड़ खाते ही लालू के मुँह की \_\_\_\_\_ ठीक हो गई। (जलन,लाल )

घ) उसने गुड़ का एक ----- लालू को दिया। ( टुकड़ा/कट्टा )

**प्रश्न3) दिए गए शब्दों के उलटे अर्थवाले शब्द लिखिए [opposite words]-5X1=5**

क) रोना ----- ( पुराने , हँसना )

ख) अंदर ----- ( बाहर , गंध )

ग) जाना ----- ( बंद , आना )

घ) सच्चा ----- ( झूठा , निडर )

ड) उतरना ----- ( उपर , चढना )

**प्रश्न4) नीचे दिए गए प्रश्नों के सही उत्तर पर सही का निशान लगाओ-( Tick the correct answer )** **5X1=5**

i ) लालू को कैसी चीजें पसंद थी ?

क) पीली      ख) लाल      ग) हरी      घ) काली

ii) बिल्ली किससे बोली ?

क ) शेर से      ख) भेड़ से      ग) कुत्ते से      घ) बंदर से

iii) माँ ने रूही को कैसा दूध पिलाया ?

क ) ठंडा      ख) मीठा      ग) गरम      घ) फीका

iv) सोना टीम को कौनसा पहलू दिया ?

क ) हिरन      ख) शेर      ग) भालू      घ) कोई नहीं

v) पीली चीज किसे पसंद थी ?

क) पीलू को    ख) शेर को    ग) लालू को    घ) बंदर को

प्रश्न 5) दिए गए शब्दों में से क्रिया शब्द छाँटकर लिखो -(Find and write the action words) 4X1=4

लिखना, तुम, हँसना, राधा,  
गाना, खाना,

-----  
प्रश्न 6) दिए गए प्रश्नों के उत्तर दो – ( write answers )

5X1=5

क ) भेड़ ने क्या पहना था?

उत्तर-----

ख ) लालू और पीलू कौन थे?

उत्तर-----

ग ) दोनों टीमों के नाम लिखो ।

उत्तर-----

घ ) रूही कहाँ जाकर बैठी?

उत्तर-----

ड़) सब लोग मिलकर पिकनिक कहाँ गए ?

उत्तर-----

प्रश्न 7) इन अक्षरों से एक-एक शब्द बनाओ - ( Make words from the given letters) 5X1=5

क) प- -----

ख) क- -----

ग) झ- -----

घ) श- -----

ड़) फ- -----

\*\*\*\*\*