



Jindal Vidya Mandir, Hill Side Township
Term -II Examination 2025-26

Set-B

Class: IV / Sec: _____

Subject: _____

Name : _____

Invigilator's Sign: _____

Max Marks: 80

Duration:3Hrs

Roll No: _____

Date: _____

General Instructions:

- This question paper contains 9 pages and has 4 questions.
- It is divided into 4 Sections:

Section A - Reading

Section C- Writing

Section B- Grammar

Section D- Literature

SECTION A - Reading

IA. Read the following passage and answer the given questions: 10x1=10M

Bhagat Singh was one of India's greatest freedom fighters. He was born on 28th September 1907 in Punjab. From a young age, he was brave and loved his country deeply. He was inspired by great leaders who fought against British rule. Bhagat Singh believed that freedom was the birthright of every Indian. He joined the struggle for independence and encouraged young people to stand up for truth and justice. He took part in many movements to make India free. Even though he was very young, he showed great courage and never feared death. On 23rd March 1931, he was hanged by the British. His bravery and sacrifice made him a hero of India. Every Indian remembers him with love and respect.

1. When and where was he born?

2. What inspired Bhagat Singh?

3. Who was Bhagat Singh?

4. What did he encourage young people to do?

5. What did Bhagat Singh believe in?

6. What made Bhagat Singh a hero of India?

7. When did Bhagat Singh die?

8. What did he encourage the youth to do?

9. Pick out the nouns from the passage a. _____ b. _____

10. Write the antonyms of a. young X _____ b. afraid X _____

IB. Read the following poem and answer the following questions given below:

Books are friends that never end,
On every page, new worlds they send.
They make us laugh, they make us dream,
And fill our minds with thoughts that gleam.

5X1=5M

We read them slow, we read them fast,
Their stories stay, they always last.
So keep them safe and treat them right,
Books bring knowledge, pure delight!

1. What do books make us do?

2. How should we treat books?

3. What do books bring us?

4. Find two rhyming words from the poem.

5. Write two verbs from the poem.

IC. Read the following poem and answer the following questions given below:

A little flower, bright and sweet,
Smiles at everyone it meets.
It sways gently in the breeze,
Dancing softly with the trees.

5X1=5M

Bees come buzzing all around,
Where its lovely petals are found.
It spreads joy both far and near,
A tiny bloom we all hold dear.

1. What does the flower do when it meets someone?

2. Who comes buzzing around the flower?

3. What does the flower do in the breeze?.

4. What feeling does the flower spread?

5. Write two adjectives from the given poem.

SECTION C - GRAMMAR

III A. Circle the adverbs of frequency and underline the adverbs of degree in these sentences: **4x1/2=2M**

1. We are rarely out on a Sunday.
2. I am extremely happy today.
3. Soni always goes to school by bus.
4. You are absolutely right.

III B. Complete the sentences with suitable interrogative pronouns:3x1=3M

1. _____ do you do for a living?
2. _____ do you know better?
3. _____ is your residential address?

IIIC. Join the sentences by using 'for' or 'and' **3X1=3M**

1. She baked me a cake .He bought me a gift.

2. I offered him some water.He was very thirsty.

3. I wake up early every day. I practice some sums.

IIID. Circle the subject and underline the predicate in each sentences:3X1=3M

1. Steven lived on a farm.
2. Mohita cooked an exotic dish for dinner.
3. New Delhi is the capital of India.

IIIE. Change these positive sentences into negative sentences:3X1=3M

1. My father is working from home today.

2. They knew the multiplication tables.

3. She may know the way

III F. Choose the correct coordinating conjunctions from the brackets: 3X1=3M

(but , and ,for, yet, so)

1. You can read a book _____ write a short story.
2. Shirish helped the lady _____ he fell down.
3. I broke my ankle _____ I could not play cricket.

III G. Underline the incorrect prepositions and rewrite the sentences with correct prepositions: 3X1=3M

1. We have no rains here at summer.

2. My friends are meeting me at the evening,

3. I have English and Science in Monday morning.

III H. Punctuate these sentences by placing the quotation marks correctly:

1. What a marvellous country this is!exclaimed the tourist. **2x1=2M**

2. Rawat said,Please lend me your grammar textbook.

III I. Fill in the blanks with correct adverbs from the given brackets: 3X1=3M

1. Priya is sitting on the sofa _____(comfortable).
2. Ritesh can do the sums _____(easy).
3. Kavitha called the doctor _____(quick).

Section D -Literature

IVA. Answer the following in 2-3 sentences: 4X2=8M

1. What is the Olympic motto and what does it imply?

2. How do you think the narrator felt when Tinker Bell was being taken away by the cook?

3. Who was Mr Wang ? How did he treat Tian?

4. Why do you feel that Akbar took a hasty decision?

IVB. Read these sentences from the story and answer the following questions:

1. " I have come to test the people" **3x2=6M**

a. Who said this and to whom?

b. How did the speaker test the people?

2. "We only have three months' time"

a. Who said this?

b. To whom was it said?

3. "How can I ever repay you, old man?"

a. Who said this and to whom?

b. What did the old man tell the speaker?

IVC. Answer the following in 4-5 sentences (any 3)

3X2=6M

1. What was the announcement made in the town marketplace?

3. What kind of effort did Irah put in to fulfil her dream?

4. What do the colours of the rings symbolize in the Olympic symbol?



Jindal Vidya Mandir, JSW Hill Side Township

Term-II Examination 2025-26

Set-B

Class/Sec: IV / _____

Subject: Hindi (II Language)

Student Name: _____

Invigilator's sign: _____

Max.Marks: 80

Duration: 3 Hrs

Roll No: _____

Date: _____

आवश्यक निर्देश 1) सभी प्रश्नों को हल करना अनिवार्य है।

2) प्रश्नों की कुल संख्या 10 है।

3) इस प्रश्न पत्र के दो खंड हैं (अ) और (ब)।

खंड- अ (40 अंक)

प्रश्न (1) दिए गए अपठित गद्यांश को पढ़कर नीचे लिखे प्रश्नों के सही उत्तर विकल्पों में से चुनकर लिखिए

5x1=5

झाँसी की रानी लक्ष्मीबाई को घुडसवारी के साथ-साथ घोड़ों की भी अच्छी परख थी। एक बार घोड़ों का एक व्यापारी रानी के दरबार में आया। उसके पास एक जैसे दिखने वाले दो घोड़े थे। उसे विश्वास था कि रानी दोनों घोड़ों का एक दाम लगाएँगी, मगर रानी ने कुछ देर देखने के पश्चात एक घोड़े का दाम एक हजार रुपये और दूसरे घोड़े का दाम मात्र पचास रुपये लगाया। व्यापारी ने आश्चर्यचकित होकर रानी से पूछा रानी जी, दोनों घोड़ों की शक्ल, रंग, कद-काठी में कोई फर्क नहीं है, फिर भी आपने दाम में इतना फर्क क्यों कर दिया?" रानी ने कहा, 'जिस घोड़े का दाम मैंने एक हजार रुपये लगाया है. वह उत्तम कोटी का स्वस्थ घोड़ा है, और जिस घोड़े का दाम मैंने पचास रुपये लगाया है, वह किसी रोग का शिकार है और उसकी उम्र भी कम है।' रानी की सूझ-बूझ और बुद्धिमानी को देखकर व्यापारी बहुत प्रभावित हुआ।

1. व्यापारी क्या लेकर दरबार में आया ?

(क) हाथी

(ख) दो घोड़े

(ग) संदूक

(घ) शस्त्र

उत्तर: _____

2. रानी ने दूसरे घोड़े का दाम लगाया ?

(क) पच्चीस रुपये

(ख) पचास रुपये

(ग) सौ रुपये

(घ) एक हजार रुपये

उत्तर: _____

3. पहले घोड़े में क्या खास बात थी ?

(क) निम्न कोटी का स्वस्थ घोड़ा

(ख) उच्च कोटी का स्वस्थ घोड़ा

(ग) उच्च कोटी का अस्वस्थ घोड़ा

(घ) उत्तम घोड़ा

उत्तर: _____

4. गद्यांश के लिए उचित शीर्षक छाँटिए-

(क) दो घोड़े

(ख) घोड़ों की सूझ-बूझ

(ग) रानी की सूझ-बूझ

(घ) घुड़सवार रानी

उत्तर: _____

5. रानी की सूझ-बूझ और बुद्धिमानी को देखकर कौन बहुत प्रभावित हुआ ?

(क) बादशाह

(ख) घोड़े

(ग) व्यापारी

(घ) घुड़सवार

उत्तर: _____

ख) दिए गए अपठित गद्यांश को पढ़कर नीचे लिखे प्रश्नों के सही उत्तर विकल्पों में से चुनकर लिखिए -
जल और जीवन में गहरा सम्बंध है। बड़े-बड़े नगर नदियों के किनारे ही बसे हुए हैं। आजकल मनुष्य नदियों और झीलों में तैरकर अपना मनोरंजन करता है। प्राचीनकाल में मनुष्य तैरकर ही नदियों को पार करता था। तैराकी अपने आप में कला के साथ-साथ अच्छा व्यायाम है। आजकल तैराकी के कई प्रकार प्रचलित हैं।

5×1=

1) जल और जीवन का आपस में कैसा संबंध है ?

क) सच्चा

ख) अच्छा

ग) गहरा

घ) सुंदर

उत्तर: _____

2) बड़े-बड़े नगर कहाँ बसे हुए हैं ?

क) समुद्र के किनारे

ख) नदियों के किनारे

ग) मैदानों के किनारे

घ) पहाड़ के नीचे

उत्तर: _____

3) तैराकी अपने आप में क्या है ?

क) व्यायाम ख) मनोरंजन ग) कला और व्यायाम घ) शौक

उत्तर:_____

4) प्राचीन काल में मनुष्य किस प्रकार नदियों को पार करता था ?

क) नाव से ख) जहाज़ से ग) तैरकर घ) इनमें से कोई नहीं

उत्तर:_____

5) इस गद्यांश का आप क्या शीर्षक देना चाहेंगे ?

क) जल और जीवन ख) तैराकी ग) मनोरंजन घ) नदियाँ

उत्तर:_____

प्रश्न (II) निम्नलिखित वस्तुनिष्ठ प्रश्नों के उत्तर विकल्पों में से छाँटकर लिखिए -

16x1=16

1. 'धरती' शब्द का विलोम शब्द है -

क) जमीन ख) आकाश ग) स्वच्छता घ) प्रदूषण

उत्तर:_____

2. 'लेखक' शब्द का लिंग बदलिए -

क) लेखिका ख) विद्वान ग) युवती घ) विदुषी

उत्तर:_____

3. 'बाग' शब्द का पर्यायवाची शब्द है -

क) फूल और कली ख) वृक्ष और पेड़ ग) बगीचा और उपवन घ) बगिया और पेड़

उत्तर:_____

4. 'माला' शब्द का बहुवचन है -

क) मालायॉ ख) मालाओ ग) मालाएँ घ) माले

उत्तर:_____

5. 'हमारा शहर बहुत छोटा है' रेखांकित पद में संज्ञा का भेद बताइए -

क) व्यक्तिवाचक संज्ञा ख) जातिवाचक संज्ञा ग) भाववाचक संज्ञा घ) इनमें से कोई नहीं

उत्तर:_____

6. 'मूर्ति बनाने वाला' वाक्य का समस्तपद बताइए -

क) किसान ख) मजदूर ग) नेता घ) मूर्तिकार

उत्तर:_____

7. 'शहर में रहने वाला' वाक्य का समस्तपद बताइए -

क) स्वदेश ख) शहरी ग) पर्यटक घ) घूमने वाला

उत्तर:_____

8. 'मेरा कल जन्मदिन था' यहाँ काल का कौन-सा भेद है -

(क) भूतकाल (ख) भविष्य काल (ग) वर्तमान काल (घ) इनमें से कोई नहीं

उत्तर:_____

9. _____ पाठ याद कर लिया ?' उचित सर्वनाम शब्द लिखकर रिक्त स्थान की पूर्ति कीजिए-

(क) मैं (ख) तुमने (ग) उसका (घ) तुम्हारा

उत्तर:_____

10. 'आम' शब्द के दो अर्थ बताइए-

क) आम और केला। ख) साधारण और फल। ग) फल और फली। घ) इनमें से कोई नहीं

उत्तर:_____

11. 'पर' शब्द के दो अर्थ बताइए -

क) लेकिन और पंख। ख) पक्षी और पंख। ग) परी और लेकिन। घ) लेकिन और परंतु

उत्तर:_____

12. 'पत्ता-पता' शब्द का अर्थ है -

(क) पेड़ का पता और किसी के रहने का स्थान

(ख) घर और मकान

(ग) पेड़ और वृक्ष।

(घ) इनमें से कोई नहीं

उत्तर:_____

13. 'ग्रह-गृह' शब्द का अर्थ है -

(क) नक्षत्र और अक्षत

(ख) नक्षत्र और घर

(ग) घर और अक्षत

(घ) इनमें से कोई नहीं

उत्तर:_____

14. 'सुधा कहाँ रहती है' उचित विराम चिन्ह लगाकर वाक्य को पुनःलिखिए -

क) ,

ख) ।

ग) " "

घ) ?

उत्तर:_____

15. 'चाबियों का समूह' के लिए उचित समूहवाचक शब्द बताइए -

क) टुकड़ी।

ख) गुलदस्ता।

ग) नक्षत्र

घ) गुच्छा

उत्तर:_____

16. 'फूलों का समूह' के लिए उचित समूहवाचक शब्द बताइए -

क) टुकड़ी।

ख) गुलदस्ता।

ग) छत्ता

घ) गुच्छा

उत्तर:_____

प्रश्न (III) निम्नलिखित पठित गद्यांश को पढ़कर प्रश्नों के उत्तर विकल्पों में से ढूँढकर लिखिए - 5x1=5

सुनीता कुछ सोचने लगी। उसने अपनी पहिया कुर्सी आगे की ओर खिसकाई। अमित भी उसके साथ-साथ चलने लगा। सड़क पार करते समय सुनीता को फरीदा फिर नज़र आई। इस बार फरीदा ने कोई सवाल नहीं पूछा। अमित झट से सुनीता की पहिया कुर्सी के पीछे चढ़ गया। फिर दोनों पहिया कुर्सी पर सवार होकर जी से सड़क पर आगे बढ़े। फरीदा भी उनके साथ-साथ दौड़ी। इस बार भी लोगों ने उन्हें घूरा, परंतु अब सुनीता को उनकी परवाह नहीं थी।

1. सड़क पार करते समय सुनीता को कौन नजर आया ?

(क) फरीदा की माँ (ख) फरीदा (ग) अमित (घ) मेहमान

उत्तर:_____

2. सुनीता की पहिया-कुर्सी पर कौन चढ़ गया ?

(क) पुजारी (ख) अमित (ग) फरीदा (घ) मेहमान

उत्तर:_____

3. उनके साथ कौन दौड़ा ?

(क) लोग (ख) अमित (ग) फरीदा (घ) सुनीता

उत्तर:_____

4. सुनीता को अब किसकी परवाह नहीं थी ?

(क) लोग (ख) मित्तल (ग) फरीदा (घ) फरीदा की माँ

उत्तर:_____

5. यह गद्यांश कौन-से पाठ से लिया गया है ?

(क) दोस्त की पोशाक (ख) स्वतंत्रता की ओर (ग) दान का हिसाब (घ) सुनीता की पहिया कुर्सी

उत्तर:_____

ख) निम्नलिखित गद्यांश को पढ़कर प्रश्नों के उत्तर दीजिये -

2x1=2

मादा हुदहुद तीन से दस तक अंडे देती है। जब तक बच्चे अंडे से बाहर नहीं निकल जाते, वह अंडों पर बैठी रहती है, हटती नहीं। नर वहीं भोजन लाकर उसे खिला जाता है। पर दोनों में से कोई भी घोंसले की सफाई नहीं करता।

1. उसे भोजन लाकर कौन खिलाता है ?

(क) बच्चे (ख) अंडे (ग) नर हुदहुद (घ) मादा हुदहुद

उत्तर:_____

2. मादा हुदहुद कितने अंडे देती है ?

(क) दस से बीस (ख) पाँच से दस (ग) तीन से दस (घ) पाँच से आठ

उत्तर:_____

प्रश्न. IV) दिए गए पठित पद्यांश को पढ़कर प्रश्नों के उत्तर विकल्पों में से चुनकर लिखिए - 1x5=-5

किसने बटन हमारे कुतरे ? किसने स्याही को बिखराया ?

कौन चट कर गया दुबक कर, घर-भर में अनाज बिखराया ?

दोना खाली रखा रह गया, कौन ले गया उठा मिठाई ?

दो टुकड़े तसवीर हो गई, किसने रस्सी काट बहाई ?

किसने जिल्द काट डाली है ? बिखर गए पोथी के पन्ने

1. पद्यांश में 'कौन' शब्द किसके लिए आया है ?

(क) घोड़ा (ख) रेल (ग) चूहा (घ) ऊँट

उत्तर:_____

2. दोने में क्या रखा था ?

(क) मिठाई (ख) फूल (ग) पोथी (घ) अनाज

उत्तर:_____

3. दो टुकड़े किसके हो गए ?

(क) फूल के (ख) तसवीर के (ग) पोथी के (घ) अनाज के

उत्तर:_____

4. चूहे ने घर भर में क्या फैला दिया ?

(क) अनाज (ख) खाना (ग) रोटी (घ) पन्ने

उत्तर:_____

5. यह पद्यांश किस कविता से लिया गया है ?

(क) दान का हिसाब (ख) कविता कौन ? (ग) पढ़क्कू की सूझ (घ) थप्प रोटी थप्प दाल

उत्तर: _____

- (ख) एक पढ़क्कू बड़े तेज थे, तर्कशास्त्र पढ़ते थे. 2x1=2
जहाँ न कोई बात, वहाँ भी नई बात गढ़ते थे।
एक रोज वे पड़े फ़िक्र में, समझ नहीं कुछ पाए."
बैल घूमता है कोल्हू में, कैसे बिना चलाए ?"

1. कौन तेज था ?

- (क) बैल (ख) पढ़क्कू (ग) कोल्हू (घ) चुन्नू और टिंकू

उत्तर: _____

2. पढ़क्कू क्या पढ़ते थे ?

- (क) दर्शनशास्त्र (ख) रामायण (ग) महाभारत (घ) तर्कशास्त्र

उत्तर: _____

खंड-ब (40 अंक)

प्रश्न V) निम्नलिखित प्रश्नों के उत्तर एक से दो वाक्य में लिखिए -

4x2=8

(1) सुनीता को सब लोग गौर से क्यों देख रहे थे ?

उत्तर: _____

(2) हुदहुदों का वंश समाप्त होने के करीब क्यों पहुँच गया ?

उत्तर: _____

(3) मालिक को कैसे पता चलता है कि बैल घूम रहा है या नहीं ?

उत्तर: _____

(4) बिल्ली बनी नीना को रोटी कैसी लगी ?

उत्तर: _____

प्रश्न VI) निम्नलिखित प्रश्नों के उत्तर तीन से चार वाक्य में लिखिए-

4x3=12

1) हुदहुद को कहीं ' हजामिन' चिड़िया और कहीं ' पदुबया' के नाम से पुकारते हैं। क्यों ?

उत्तर: _____

2) मुन्नी अम्मा से क्या लाई थी और क्यों ? बच्चों ने खाने-पीने की चीज़ें छीकें में क्यों रखी ?

उत्तर: _____

3) क्या भीखूभाई को नारियल सच में मुफ्त में मिला ? क्यों ?

उत्तर: _____

4) धनी ने गांधी जी से सुबह के समय बात करना क्यों ठीक समझा होगा ?

उत्तर: _____



Jindal Vidya Mandir, JSW Hill Side Township
Term-II Examination (2025-26)

Set- B

Class: IV/Sec _____

Max. Marks: 80

Subject: Kannada(II Language)

Duration: 3Hrs

Student Name: _____

Roll No. _____

Invigilator's Sign: _____

Date: _____

ಸೂಚನೆಗಳು:

- ಈ ಪ್ರಶ್ನೆ ಪತ್ರಿಕೆಯು A ಮತ್ತು B ಎಂಬ ಎರಡು ಭಾಗಗಳನ್ನು ಒಳಗೊಂಡಿರುತ್ತದೆ.
- ಈ ಪ್ರಶ್ನೆ ಪತ್ರಿಕೆಯಲ್ಲಿ ಒಟ್ಟು 15 ಮುಖ್ಯ ಪ್ರಶ್ನೆಗಳು ಮತ್ತು 12 ಪುಟಗಳು ಇರುತ್ತವೆ.
- ಪ್ರತಿಯೊಂದು ಸೂಚನೆಗಳನ್ನು ಸರಿಯಾಗಿ ಓದಿಕೊಂಡು ಉತ್ತರಿಸಿರಿ.

ಭಾಗ- A (40 ಅಂಕಗಳು)	(ವಾಚನ ಮತ್ತು ಗ್ರಹಿಕಾ ಕೌಶಲ್ಯ)	20 ಅಂಕಗಳು
	(ಅನ್ವಯಿಕ ವ್ಯಾಕರಣ)	15 ಅಂಕಗಳು
	(ಬಹುಆಯ್ಕೆ ಪಶ್ನೆ-ಪಠ್ಯಗಳ ಅಧ್ಯಯನ)	5 ಅಂಕಗಳು
ಭಾಗ- B (40 ಅಂಕಗಳು)	ಬರವಣಿಗೆ ಕೌಶಲ್ಯ	12 ಅಂಕಗಳು
	ಪಠ್ಯಗಳ ಅಧ್ಯಯನ	28 ಅಂಕಗಳು
	ಒಟ್ಟು ಅಂಕಗಳು	80 ಅಂಕಗಳು

ಭಾಗ -A (40 ಅಂಕಗಳು) -(ವಾಚನ ಮತ್ತು ಗ್ರಹಿಕಾ ಕೌಶಲ್ಯ)- 20 ಅಂಕಗಳು

I. ಈ ಕೆಳಗೆ ಕೊಟ್ಟಿರುವ ಪಠ್ಯೇತರ ಗದ್ಯಭಾಗವನ್ನು ಓದಿಕೊಂಡು, ಕೊಟ್ಟಿರುವ ಪ್ರಶ್ನೆಗಳಿಗೆ ಉತ್ತರಿಸಿರಿ. 5x1=5M

ಈಶ್ವರ ಚಂದ್ರ ವಿದ್ಯಾಸಾಗರ ಅವರು ಭಾರತದ ಮಹಾನ್ ಸಮಾಜ ಸೇವಕರಲ್ಲೊಬ್ಬರು. ವಿದ್ಯಾಸಾಗರ ಎಂಬ ಪದದ ಅರ್ಥ ಜ್ಞಾನದ ಸಾಗರ. ಅವರು ೧೮೨೦ ರಲ್ಲಿ ಪಶ್ಚಿಮ ಬಂಗಾಳದ ಬಿರ್ಹೂಂ ಜಿಲ್ಲೆಯ ಬಿಸಿಂಗ್ ಹಳ್ಳಿಯಲ್ಲಿ ಜನಿಸಿದರು. ಅವರ ತಂದೆಯ ಹೆಸರು ಠಾಕೂರ್ಡಸ್ ಭಟ್ಟಾಚಾರ್ಯ ಮತ್ತು ತಾಯಿಯ ಹೆಸರು ಭಗೀರಥಿದೇವಿ. ವಿದ್ಯಾಸಾಗರವರು ಮಹಿಳಾ ಶಿಕ್ಷಣವನ್ನು ಉತ್ತೇಜಿಸುವಲ್ಲಿ ಪ್ರಮುಖ ಪಾತ್ರ ವಹಿಸಿದರು. ಸಮಾಜದಲ್ಲಿ ವಿಧವೆಯರ ಮೇಲೆ ನಡೆಯುತ್ತಿದ್ದ ಅನ್ಯಾಯವನ್ನು ತಡೆಯಲು ಅವರು ಹೋರಾಟ ನಡೆಸಿದರು. ಅವರ ಪ್ರಯತ್ನದಿಂದ 'ವಿಧವೆಯರ ಮರುಮದುವೆ ಕಾಯ್ದೆ' ೧೮೫೬ ರಲ್ಲಿ ಅಂಗೀಕೃತವಾಯಿತು. ಅವರು ಕೇವಲ ಶಿಕ್ಷಕರಲ್ಲ, ನಿಜವಾದ ಮಾನವತಾವಾದಿ. ೧೮೯೧ ರಲ್ಲಿ ನಿಧನರಾದರು. ಆದರೆ ಅವರ ಚಿಂತನೆಗಳು ಮತ್ತು ಸೇವೆ ಇಂದಿಗೂ ಜನರಿಗೆ ಪ್ರೇರಣೆಯಾಗಿದೆ.

ಪ್ರಶ್ನೆಗಳು:-

1. ಈಶ್ವರ ಚಂದ್ರ ವಿದ್ಯಾಸಾಗರವರು _____ ರಲ್ಲಿ ಜನಿಸಿದರು.
(i) ೧೮೧೦ (ii) ೧೮೨೦ (iii) ೧೮೩೦ (iv) ೧೮೪೦
2. ಈಶ್ವರ ಚಂದ್ರ ವಿದ್ಯಾಸಾಗರವರ ಜನ್ಮಸ್ಥಳ _____
(i) ಕರ್ನಾಟಕ (ii) ಪಶ್ಚಿಮಬಂಗಾಳ (iii) ಒಡಿಶಾ (iv) ಬಿಹಾರ
3. ಈಶ್ವರ ಚಂದ್ರ ವಿದ್ಯಾಸಾಗರವರ ತಂದೆ _____
(i) ರಾಮಚಂದ್ರ (ii) ಮುಖರ್ಜಿ (iii) ಭಗೀರಥಿ (iv) ತಾಕೂರ್ದಾಸ್ ಭಟ್ಟಾಚಾರ್ಯ
4. ವಿದ್ಯಾಸಾಗರ ಪದದ ಅರ್ಥ _____
(i) ಜ್ಞಾನದ ಸಾಗರ (ii) ವಿದ್ಯೆಯ ಪರ್ವತ (iii) ವಿದ್ಯೆಯ ಮಹಾ ಪರ್ವ (iv) ಸರ್ವಜ್ಞ
5. ವಿದ್ಯಾಸಾಗರವರ ಪ್ರಯತ್ನದಿಂದ _____ ಕಾಯ್ದೆ ಅಂಗೀಕೃತವಾಯಿತು.
(i) ವಿಧವೆಯರ ಮರುಮದುವೆ (ii) ಸತಿಸಹಗಮನ (iii) ಬಾಲ್ಯವಿವಾಹ (iv) ಬಾಲಕಾರ್ಮಿಕ

II. ಈ ಕೆಳಗೆ ಕೊಟ್ಟಿರುವ ಪಠ್ಯೇತರ ಗದ್ಯಭಾಗವನ್ನು ಓದಿಕೊಂಡು, ಕೊಟ್ಟಿರುವ ಪ್ರಶ್ನೆಗಳಿಗೆ ಉತ್ತರಿಸಿರಿ. 5x1=5M

ಕನ್ನಡನಾಡು ನಮ್ಮೆಲ್ಲರ ಪ್ರೀತಿಯ ನಾಡಾಗಿದೆ. ಇದು ಭಾರತದ ದಕ್ಷಿಣ ಭಾಗದಲ್ಲಿದೆ. ಕರ್ನಾಟಕ ರಾಜ್ಯವು ಹಸಿರು ಕಾಡುಗಳು, ಪರ್ವತಗಳು, ನದಿಗಳು ಮತ್ತು ಇತಿಹಾಸಿಕ ಸ್ಥಳಗಳಿಂದ ಪ್ರಸಿದ್ಧವಾಗಿದೆ. ಇಲ್ಲಿ ಅನೇಕ ರಾಜರು, ವೀರರು, ಮತ್ತು ಕವಿಗಳು, ಜನಿಸಿದ್ದಾರೆ. ವಿಜಯನಗರ ಸಾಮ್ರಾಜ್ಯ, ಹೊಯ್ಸಳ ಸಾಮ್ರಾಜ್ಯ, ಚಾಲುಕ್ಯರು, ರಾಷ್ಟ್ರಕೂಟರು, ಮುಂತಾದವರು ಕನ್ನಡ ನಾಡಿನ ಇತಿಹಾಸವನ್ನು ಮಹಿಮೆಗೊಳಿಸಿದ್ದಾರೆ. ಕನ್ನಡ ಭಾಷೆಯು ಶ್ರೀಮಂತ ಸಾಹಿತ್ಯವನ್ನು ಹೊಂದಿದೆ. ಪಂಪ, ರನ್ನ, ಜನ್ನ, ಬಸವಣ್ಣ, ಅಕ್ಕಮಹಾದೇವಿ, ಕುಮಾರವ್ಯಾಸ, ಮುಂತಾದ ಕವಿಗಳು ಕನ್ನಡ ನುಡಿಗೇ ಕೀರ್ತಿ ತಂದಿದ್ದಾರೆ. ಜಯ ಭಾರತ ಜನನಿಯ ತನುಜಾತೆ- ನಾಡಗೀತೆಯನ್ನು ಕುವೆಂಪುರವರು ರಚಿಸಿದ್ದಾರೆ. ಕನ್ನಡ ನುಡಿಯ ಸೌಂದರ್ಯ ಅದರ ಮೃದು ಉಚ್ಚಾರಣೆ, ಮಧುರ ಶಬ್ದಗಳು ಮತ್ತು ಅರ್ಥಪೂರ್ಣ ಪದ್ಯಗಳಲ್ಲಿ ಇದೆ.

ಪ್ರಶ್ನೆಗಳು:-

1. ಕನ್ನಡ ನಾಡು ಭಾರತದ _____ ಭಾಗದಲ್ಲಿದೆ.
(i) ಉತ್ತರ (ii) ದಕ್ಷಿಣ (iii) ಪೂರ್ವ (iv) ಪಶ್ಚಿಮ
2. ಕರ್ನಾಟಕವು _____ ಸ್ಥಳಗಳಿಂದ ಪ್ರಸಿದ್ಧಿಯಾಗಿದೆ.
(i) ಕಾರ್ಖಾನೆಯ (ii) ಕಾಡುಗಳು, ಪರ್ವತಗಳು, ಇತಿಹಾಸಿಕ (iii) ಪ್ರವಾಸಿ (iv) ಸ್ವಚ್ಛತಾ
3. ಕನ್ನಡ ನಾಡಿನ ಇತಿಹಾಸವನ್ನು ಮಹಿಮೆಗೊಳಿಸಿದ ಸಾಮ್ರಾಜ್ಯ _____
(i) ಚಾಲುಕ್ಯಸಾಮ್ರಾಜ್ಯ (ii) ಹೊಯ್ಸಳ ಸಾಮ್ರಾಜ್ಯ (iii) ವಿಜಯನಗರ ಸಾಮ್ರಾಜ್ಯ (iv) ಇವೆಲ್ಲವು
4. ಜಯ ಭಾರತ ಜನನಿಯ ತನುಜಾತೆ - ಈ ಗೀತೆ ಬರೆದವರು _____
(i) ತೇಜಸ್ವಿ (ii) ಶಿವರಾಮ ಕಾರಂತ (iii) ಬೇಂದ್ರೆ (iv) ಕುವೆಂಪು

5. ಕನ್ನಡ ನುಡಿಯ ಸೌಂದರ್ಯ ಅದರ _____ ಗಳಲ್ಲಿ ಇದೆ

(i) ಮೃದು ಉಚ್ಚಾರಣೆ (ii) ಮಧುರ ಶಬ್ದಗಳು (iii) ಅರ್ಥಪೂರ್ಣ ಪದ್ಯಗಳಲ್ಲಿ (iv) ಇವೆಲ್ಲಾವು

III. ಈ ಕೆಳಗೆ ಕೊಟ್ಟಿರುವ 'ಮಹಿಳಾ ದಿನಾಚರಣೆ' ಗದ್ಯಭಾಗವನ್ನು ಓದಿಕೊಂಡು, ಕೊಟ್ಟಿರುವ ಪ್ರಶ್ನೆಗಳಿಗೆ ಉತ್ತರಿಸಿರಿ.

ಸ್ವಾತಂತ್ರ್ಯ ಹೋರಾಟದಲ್ಲಿ ರುಾನಿರಾಣಿ ಲಕ್ಷ್ಮೀಬಾಯಿ, ಕಿತ್ತೂರು ರಾಣಿ ಚೆನ್ನಮ್ಮ, ಒನಕೆಓಬವ್ವ, ಬೆಳವಡಿಮಲ್ಲಮ್ಮ, ರಾಣಿ ಅಬ್ಬಕ್ಕ ಹೀಗೆ ಅನೇಕರ ಹೆಸರು ಸ್ಮರಣೀಯ ಶಿಕ್ಷಣದಲ್ಲಿ ಮಾತೆ ಸಾವಿತ್ರಿಬಾಯಿ ಫುಲೆ ಅವರ ಹೆಸರು ಅಚ್ಚಳಿಯದೆ ಉಳಿದಿರುವಂತೆ, ಸಾಮಾಜಿಕ ಸೇವಾ ಕ್ಷೇತ್ರದಲ್ಲಿ ಮದರ್ ತೆರೇಸಾ, ಕಮಲಾದೇವಿ ಚೆಟ್ಟೋಪಾಧ್ಯಾಯ ಹೀಗೆ ಮೊದಲಾದವರ ಸಾಧನೆ ನೆನಪಿನಲ್ಲಿ ಇರುವಂತಹುದು. ರಾಜಕೀಯ ಕ್ಷೇತ್ರದಲ್ಲಿ ಸರೋಜಿನಿ ನಾಯ್ಡು, ಸುಚೇತಾ ಕೃಪಲಾನಿ, ವಿಜಯಲಕ್ಷ್ಮೀ ಪಂಡಿತ್ ಮುಂತಾದವರನ್ನು ನೆನೆಯಬಹುದು. ಸಾಹಿತ್ಯ ಕ್ಷೇತ್ರದಲ್ಲಿ ಮಹಿಳೆಯರ ಸಾಧನೆ ಹಿರಿದಾದದ್ದು. ಅಕ್ಕಮಹಾದೇವಿ, ಸಂಚಿಹೊನ್ನಮ್ಮ, ತಿರುಮಲಾಂಬ, ಎಂ.ಕೆ. ಇಂದಿರಾ, ಅರುಂಧತಿಯಾ, ಕಮಲಾ ಹಂಪನಾ, ಸಾ. ರಾ. ಅಬೂಬಕ್ಕರ್ ಮುಂತಾದವರ ಕೊಡುಗೆ ಅಪಾರ. ಸಂಗೀತ ಕ್ಷೇತ್ರದಲ್ಲಿ ಎಂ. ಎಸ್. ಸುಬ್ಬಲಕ್ಷ್ಮೀ, ಗಂಗೂಬಾಯಿ ಹಾನಗಲ್, ಲತಾ ಮಂಗೇಶ್ಕರ್ ಮುಂತಾದವರು ದಂತಕಥೆ ಎನಿಸುವ ಸಾಧಕಿಯರಾಗಿದ್ದಾರೆ.

ಪ್ರಶ್ನೆಗಳು:-

5x1=5M

1) ಸ್ವಾತಂತ್ರ್ಯ ಹೋರಾಟಗಾರ್ತಿಯರನ್ನು ಹೆಸರಿಸಿರಿ?

2) ಶಿಕ್ಷಣ ಕ್ಷೇತ್ರದಲ್ಲಿ ಸಾಧನೆ ಮಾಡಿದವರು ಯಾರು?

3) ಸಾಹಿತ್ಯ ಕ್ಷೇತ್ರದ ಸಾಧಕಿಯರು ಯಾರು ಯಾರು ?

4) ಸಾಮಾಜಿಕ ಕ್ಷೇತ್ರದ ಸಾಧಕರು ಯಾರು ಯಾರು?

5) ಸಂಗೀತ ಕ್ಷೇತ್ರದ ಸಾಧಕಿಯರನ್ನು ಹೆಸರಿಸಿ?

IV. ಈ ಕೆಳಗೆ ಕೊಟ್ಟಿರುವ 'ಬಾವಿಯಲ್ಲಿ ಚಂದ್ರ' ಪದ್ಯಭಾಗವನ್ನು ಓದಿಕೊಂಡು, ಕೊಟ್ಟಿರುವ ಪ್ರಶ್ನೆಗಳಿಗೆ ಉತ್ತರಿಸಿರಿ.

ಹಗ್ಗದ ಕೊಕ್ಕೆಯು ಕಲ್ಲಿಗೆ ಸಿಕ್ಕಿ
ಪುಟ್ಟುವು ಚಂದ್ರನು ಸಿಕ್ಕೇ ಸಿಕ್ಕಿ
ಎನ್ನುತ ತುಂಬಾ ಬಲದಿಂದೆಳೆಯೆ
ಹಗ್ಗವು ತುಂಡಾಯ್ತು
ಎಳೆತದ ರಭಸಕ್ಕೆ ಪುಟ್ಟುವು ಬಿದ್ದ
ಮೆಲ್ಲನೆ ಮನೆ ಕಡೆ ನೋಡುತಲೆದ್ದ
ತಂಗಿಗೆ ಆಗಸ ತೋರುತಲೆಂದ
ಗೋಪೀ ನೋಡಲಿ!

ಚಂದ್ರನ ಮೇಲೆ ಏರಿಸಿ ಬಿಟ್ಟೆ
ನಮ್ಮಯ ದೇವರ ಬದುಕಿಸಿಕೊಟ್ಟೆ
ಅಮ್ಮಗೆ ಗೊತ್ತಾದರೆ ನಾ ಕೆಟ್ಟೆ
ಎಂದೋಡಿದ ಪುಟ್ಟು

ಪ್ರಶ್ನೆಗಳು:-

5x1=5M

1) ಪುಟ್ಟುವು ಏಕೆ ಬಿದ್ದನು?

2) ತಾಯಿಗೆ ಪುಟ್ಟುವು ಏಕೆ ಅಂಜಿದನು?

3) ಹಗ್ಗದ ಕೊಕ್ಕೆ ಎಲ್ಲಿಗೆ ಸಿಕ್ಕಿಕೊಂಡಿತ್ತು?

4) ಪುಟ್ಟುವಿನ ತಂಗಿಯ ಹೆಸರೇನು ?

5) ಬಾವಿಗೆ ಕೊಕ್ಕೆ ಇಳಿಸಿ ಎಳೆದಾಗ ಏನಾಯಿತು?

(ಅನ್ವಯಿಕ ವ್ಯಾಕರಣ) - 15 ಅಂಕಗಳು

V. ಈ ಕೆಳಗೆ ಕೊಟ್ಟಿರುವ ಪ್ರತಿಯೊಂದು ಪ್ರಶ್ನೆಗಳಿಗೆ ನಾಲ್ಕು ಉತ್ತರವನ್ನು ಕೊಡಲಾಗಿದೆ, ಅವುಗಳಲ್ಲಿ ಸೂಕ್ತವಾದ ಪದವನ್ನು ಆರಿಸಿ ಬರೆಯಿರಿ .

10x1=10M

1. 'ಭಯ' ಪದದ ವಿರುದ್ಧ ಪದ _____

(i) ಹಭಯ (ii) ನಿರ್ಭಯ (iii) ಸಮಯ (iv) ಸುಭಯ

2. 'ಆಡಿಸು' ಈ ಪದವನ್ನು ಬಿಡಿಸಿ ಬರೆದಾಗ _____

(i) ಅಡು+ ಈಸು (ii) ಆಡು+ಇಸು (iii) ಹಡು+ಇಸು (iv) ಆಡು + ಇಸು

3. 'ಚಿಕ್ಕಮ್ಮ' ಈ ಪದದ ಸ್ತ್ರೀಲಿಂಗ ರೂಪ _____

(i) ಚಿಕ್ಕಮ್ಮೆ (ii) ಚಿಕ್ಕಮ್ಮೋ (iii) ಚಿಕ್ಕಮ್ಮೆ (iv) ಚಿಕ್ಕಮ್ಮ

4. ' ರೋಗಿ' ಪದದ ಬಹುವಚನ ರೂಪ _____

(i) ರೋಗಿದಿರು (ii) ರೋಗಿದಿರು (iii) ರೋಗಿಗಳು (iv) ರೋಗಿಯು

5. 'ಕಸುಬು' ಪದದ ಅರ್ಥ _____

- (i) ಉದ್ಯೋಗ (ii) ಕಸ (iii) ಉಸುಬು (iv) ಅರಿ

6. ಸೂರ್ಯ, ರವಿ, ಆರ್ಯ, ದಿನಕರ (ಗುಂಪಿಗೆ ಸೇರದ ಪದ) _____

- (i) ಸೂರ್ಯ (ii) ರವಿ (iii) ಆರ್ಯ (iv) ದಿನಕರ

7. ಸ್ವರಗಳ ಸಹಾಯದಿಂದ ಉಚ್ಚರಿಸುವ ಅಕ್ಷರಗಳೇ _____

- (i) ಸ್ವರಗಳು (ii) ವರ್ಣಮಾಲೆ (iii) ವ್ಯಂಜನಗಳು (iv) ಅನುಸ್ವಾರ

8. 'ಬೆಳಗಿಸುವೆ' ಈ ಪದಕ್ಕೆ ಸರಿಹೊಂದುವ ಪ್ರಾಸಪದ _____

- (i) ತವಕಿಸುವೆ (ii) ಬಾರಿಸು (iii) ಬಂದರಂತೆ (iv) ಬಾಳಿಸು

9. ಗುಣ + ವಂತ' ಕೂಡಿಸಿ ಬರೆದಾಗ _____

- (i) ಗುಣಂತ (ii) ಗುನಂತ (iii) ಗುಣವಂತ (iv) ಗುಣವನ್ನು ಹೊಂದಿರುವವನು

10. ಮಕ್ಕಳು ಮೈದಾನದಲ್ಲಿ ಆಟ ಆಡುತ್ತಿದ್ದಾರೆ. ಈ ವಾಕ್ಯದಲ್ಲಿ ಕೆಲಸ ಸೂಚಕಪದ _____

- (i) ಆಡುತ್ತಿದ್ದಾರೆ (ii) ಮೈದಾನದಲ್ಲಿ (iii) ಮಕ್ಕಳು (iv) ಆಟ

VI. ಈ ಕೆಳಗೆ ಕೊಟ್ಟಿರುವ ಪ್ರತಿಯೊಂದು ಪ್ರಶ್ನೆಗಳಿಗೆ ಸೂಚಿಸಿದಂತೆ ಉತ್ತರಿಸಿರಿ.

5x1=5M

1. 'ಜೋರಾಗಿ' (ಈ ಪದವನ್ನು ಬಳಸಿ ಸ್ವಂತ ವಾಕ್ಯ ರಚಿಸಿರಿ)

2. ನಾಳೆ ನಮ್ಮ ಶಾಲೆಯಲ್ಲಿ ಕನ್ನಡ ಪರೀಕ್ಷೆ ನಡೆಯಲಿದೆ. (ಪ್ರಶ್ನಾರ್ಥಕ ವಾಕ್ಯ ರಚಿಸಿರಿ)

3. ಅಯ್ಯೋ ಕರಡಿ ಕರಡಿ ಎಲ್ಲರೂ ಓಡಿ ಹೋಗಿ (ಸೂಕ್ತವಾದ ಲೇಖನ ಚಿಹ್ನೆಗಳನ್ನು ಬಳಸಿ ಪುನಃ ಬರೆಯಿರಿ)

4. 'ಹರಸು' ಈ ಪದದ ಅರ್ಥ ಬರೆಯಿರಿ.

5. ಕೇಳಿ ಕಲಿ ಕಾರ್ಯಕ್ರಮ ನನಗೆ ಎಂದರೆ ಅಚ್ಚುಮೆಚ್ಚು(ವಾಕ್ಯ ಸರಿಪಡಿಸಿ ಪುನಃ ಬರೆಯಿರಿ)

VII. ಈ ಕೆಳಗೆ ಕೊಟ್ಟಿರುವ ಸ್ಥಳಗಳಲ್ಲಿ ಸೂಕ್ತವಾದ ಪದವನ್ನು ಆರಿಸಿ ಬರೆಯಿರಿ.

5x1=5M

1. ಕಂಬಿಗಳ ಮೇಲೆ _____ ಚಲಿಸುತ್ತವೆ.
(i) ರೈಲು (ii) ವಿಮಾನ (iii) ಬಸ್ಸು (iv) ಆಟೋ
2. ಮೀನನ್ನು ಹಿಡಿಯಲು _____ ಬಳಸುತ್ತಾರೆ.
(i) ಬಲೆ (ii) ಬಳೆ (iii) ಮರ (iv) ಚೀಲ
3. ಹುಬ್ಬಳ್ಳಿಯ ಜನತೆಗೆ ಪ್ರಮುಖವಾದ ದಿನ _____
(i) ಆಗಸ್ಟ್ ೧೫ (ii) ಆಗಸ್ಟ್ ೧೪ (iii) ಆಗಸ್ಟ್ ೧೩ (iv) ಆಗಸ್ಟ್ ೧೨
4. ಅಬ್ದುಲ್ ಕಲಾಂರವರ ತಂದೆ _____
(i) ಜೈನುಲಾಬ್ದೀನ್ ಮರಕಯಾರ್ (ii) ಆಶಿಯಮ್ಮ (iii) ಹುಸೇನ್ (iv) ಅಬ್ದುಲ್
5. ಪ್ರಾಣಿ ಪಕ್ಷಿಗಳ ಸಭೆಯನ್ನು _____ ಕರೆಯಿತು.
(i) ಸಿಂಹವು (ii) ಚಿರತೆಯು (iii) ಆನೆಯು (iv) ನಾಯಿಯು

ಭಾಗ- B (40 ಅಂಕಗಳು)

(ಬರವಣಿಗೆ ಕೌಶಲ್ಯ)- 12 ಅಂಕಗಳು

VIII. ನೀವು ಜಿಲ್ಲಾಮಟ್ಟದ ಪ್ರಬಂಧ ಸ್ಪರ್ಧೆಯಲ್ಲಿ ಭಾಗವಹಿಸುವ ಕಾರಣ ನೀಡಿ ೫ ದಿನಗಳ ಕಾಲ ರಜೆ ಕೋರಿ, ನಿಮ್ಮ ಶಾಲೆಯ ಪ್ರಾಂಶುಪಾಲರಿಗೆ ಒಂದು ಪತ್ರ ಬರೆಯಿರಿ.

ಅಥವಾ

1x4=4M

ನಿಮ್ಮ ಶಾಲೆಯಲ್ಲಿ ಆಚರಿಸಿದ ಮಕ್ಕಳ ದಿನಾಚರಣೆ ಕುರಿತು, ನಿಮ್ಮ ಗೆಲೆಯ/ತಿಗೆ ಒಂದು ಪತ್ರ ಬರೆಯಿರಿ.

IX. ಈ ಕೆಳಗೆ ಕೊಟ್ಟಿರುವ ಚಿತ್ರವನ್ನು ಗಮನಿಸಿ, ಖಿ-೬ ವಾಕ್ಯಗಳನ್ನು ಬರೆಯಿರಿ:

1x4=4M



X. ಈ ಕೆಳಗೆ ಕೊಟ್ಟಿರುವ ಯಾವುದಾದರೂ ಒಂದು ವಿಷಯವನ್ನು ಕುರಿತು ಪ್ರಬಂಧ ಬರೆಯಿರಿ.

1x4=4M

1. ಪ್ರಾಣಿ ಸಂರಕ್ಷಣೆ

2. ನಾರಾಯಣ ಮಹಾದೇವ ದೋನಿ

3. ಮೇರಿಕೋಮ್

(ಪಠ್ಯಗಳ ಅಧ್ಯಯನ)- (28 ಅಂಕಗಳು)

XI. ಈ ಕೆಳಗೆ ಕೊಟ್ಟಿರುವ ಪ್ರಶ್ನೆಗಳಿಗೆ 2-3 ವಾಕ್ಯಗಳಲ್ಲಿ ಉತ್ತರಿಸಿರಿ.

4x2=8M

1.ಕಲಾಂರವರಿಗೆ ಬಂದ ಪ್ರಶಸ್ತಿಗಳು ಯಾವುವು?

ಉ: _____

2.ವೈದ್ಯರ ಹೃದಯ ತುಂಬಿ ಬಂದಿತು, ಏಕೆ?

ಉ: _____

3. ಆಶುಭಾಷಣ ಸ್ಪರ್ಧೆಯಲ್ಲಿ ಯಾರು ಯಾರು ಭಾಗವಹಿಸಿದರು?

ಉ: _____

4. ನೇಗಿಲನ್ನು ಹೇಗೆ ಮಾಡುವರು ?

ಉ: _____

XIII.ಈ ಕೆಲಗೆ ಕೊಟ್ಟಿರುವ ಮಾತುಗಳನ್ನು ಸಂದರ್ಭದೊಂದಿಗೆ ವಿವರಿಸಿರಿ.

2x3=6M

1. “ ಅಬ್ಬಾ! ಚೀಟಿಯಲ್ಲಿ ನನಗೆ ಇಷ್ಟವಾದ ವಿಷಯ ರೇಡಿಯೋ ಬಂದಿದೆ”

ಅಥವಾ

“ಕನಸು ಕಾಣಿರಿ”

ಉ: _____

2. “ಇವರ ಕಷ್ಟವನ್ನು ನಿವಾರಿಸಲು ನಿಮ್ಮಿಂದ ಸಾಧ್ಯವಿಲ್ಲವೆ!”

ಅಥವಾ

“ ಬೆಟ್ಟ ಹತ್ತುವಾಗ ನಿಮಗೆ ಕಷ್ಟ ಅನಿಸಲಿಲ್ಲವೇ”

ಉ: _____

XIV. ಈ ಕೆಳಗೆ ಕೊಟ್ಟಿರುವ ಪ್ರಶ್ನೆಗಳಿಗೆ 5-6 ವಾಕ್ಯಗಳಲ್ಲಿ ಉತ್ತರಿಸಿರಿ.

1x4=4M

1. ಧರ್ಮರಾಯ ಚಿಂತಾಕ್ರಾಂತನಾಗಲು ಕಾರಣವೇನು?

ಅಥವಾ

ರೈಲು ಪ್ರಯಾಣದ ಬಗೆಗೆ ಚಿರತೆ ಅಭಿಪ್ರಾಯವೇನು?

ಉ:

XV. ಈ ಕೆಳಗೆ ಕೊಟ್ಟಿರುವ ಪ್ರಶ್ನೆಗಳಿಗೆ 5-6 ವಾಕ್ಯಗಳಲ್ಲಿ ಉತ್ತರಿಸಿರಿ.


1x4=4M

1. ಸುಭದ್ರೆ ಅಭಿಮನ್ಯುವನ್ನು ಏನೆಂದು ಹರಸಿದಳು?

ಅಥವಾ

ರೇಡಿಯೋದಲ್ಲಿ ನಾವು ಪ್ರತಿದಿನ ಯಾವ ಯಾವ ಕಾರ್ಯಕ್ರಮ ಕೇಳಬಹುದು? ವಿವರಿಸಿರಿ.

ಉ:



Jindal Vidya Mandir, JSW Hill Side Township
Term-II Examination (2025-26)

Set- A

Class: IV/Sec_____

Subject: Kannada(III Language)

Student Name: _____

Invigilator's Sign: _____

Max. Marks: 30

Duration: 1Hr


Roll No. _____

Date:- _____

ಸೂಚನೆಗಳು: ಈ ಪ್ರಶ್ನೆಪತ್ರಿಕೆಯು 3 ಪುಟಗಳಿಂದ ಕೂಡಿದ್ದು, 7 ಮುಖ್ಯ ಪ್ರಶ್ನೆಗಳನ್ನು ಒಳಗೊಂಡಿದೆ.
ಈ ಕೆಳಗಿನ ಎಲ್ಲಾ ಪ್ರಶ್ನೆಗಳಿಗೆ ಕಡ್ಡಾಯವಾಗಿ ಉತ್ತರಿಸಿರಿ.

I. ಈ ಕೆಳಗಿನ ಚಿತ್ರಗಳನ್ನು ಗಮನಿಸಿ, ಅವುಗಳ ಹೆಸರು ಬರೆಯಿರಿ.
(Identify the given pictures and write their names)


5X1=5




1) _____



2) _____



3) _____



4) _____



5) _____

II. ಈ ಕೆಳಗೆ ಕೊಟ್ಟಿರುವ 'ಅ' ಪಟ್ಟಿಯನ್ನು 'ಬ' ಪಟ್ಟಿಯೊಂದಿಗೆ ಹೊಂದಿಸಿ ಬರೆಯಿರಿ.

(Match the following with opposite words)

4X1=4

ಅ	ಬ	
i) ಶುದ್ಧ	a. ದ್ರವ	_____
ii) ಘನ	b. ಅಶುದ್ಧ	_____
iii) ಶಕ್ತಿ	c. ಮುಕ್ತಾಯ	_____
iv) ಆರಂಭ	d. ನಿಶಕ್ತಿ	_____

III. ಈ ಕೆಳಗಿನ ಗುಂಪಿಗೆ ಸೇರದ ಪದವನ್ನು ಗುರುತಿಸಿ ಬರೆಯಿರಿ.

(Identify and write the word that does not belong to the group)

4X1=4

1. ಅಡವಿ, ಕಾಡು, ನದಿ, ಅರಣ್ಯ (_____)
2. ರಾಜ, ಮಂತ್ರಿ, ಅರಸ, ದೊರೆ (_____)
3. ಕೋಳಿ, ಕೋಗಿಲೆ, ಸಮುದ್ರ, ಪಾರಿವಾಳ (_____)
4. ದಾರಿ, ಬೀದಿ, ಮನೆ, ರಸ್ತೆ (_____)

IV. ಈ ಕೆಳಗಿನ ಪದಗಳಿಗೆ ಲಿಂಗ ಬದಲಿಸಿ ಬರೆಯಿರಿ.

(Change the gender of the following words and write them)

5X1=5

1. ಹೆಂಡತಿ _____
2. ಹುಡುಗ _____
3. ಬಾಲಕ _____
4. ಅಜ್ಜ _____
5. ಯುವತಿ _____

V. ಈ ಕೆಳಗಿನ ಪದಗಳ ಬಹುವಚನ ರೂಪ ಬರೆಯಿರಿ.

(Write the plural form of the given words)

4X1=4

1. ಅಣ್ಣ _____
2. ಕುರಿ _____

3. ಮರ _____

4. ಜನ _____

VI. ಈ ಕೊಟ್ಟಿರುವ ಪದ್ಯವನ್ನು ಓದಿಕೊಂಡು ಸೂಕ್ತವಾದ ನಾಲ್ಕು (4) ಪ್ರಾಸ ಪದಗಳನ್ನು ಬರೆಯಿರಿ.

(Read the poem and write rhyming words)

4X1=4

ಬನ್ನಿ ಗೆಲೆಯರೇ! ಬನ್ನಿ ಗೆಲೆಯರೇ!

ದೇಶವೊಂದನ್ನು ಕಟ್ಟುವ.

ಕನ್ನಡಾಂಬೆಯ ಮಡಿಲ ಸೇರುತ

1. _____ . _____

ಭಾರತಾಂಬೆಯ ಮೆರೆಸುವ.

ಗೆಲೆಯರೆಲ್ಲರೂ ಕೂಡಿ ಜೊತೆಯಲ್ಲಿ

2. _____ . _____

ನಾಡತೇರನು ಎಳೆಯುವ!

ಸಣ್ಣ ಮಕ್ಕಳು ನಾವೇ ನಾಳಿನ

3. _____ . _____

ಪ್ರಜೆಗಳಾಗಿಯೇ ಉಳಿಯುವ

ನಮಗೆ ಜಾತಿಯ ಸ್ವರ್ಶವಿಲ್ಲದೆ

4. _____ . _____

ಒಂದೇ ಎನ್ನುತ ನಡೆಯುವ.

ಗಂಡು ಹೆಣ್ಣಿನ ಭೇದ ತೋರದೆ

ಹೆಜ್ಜೆ ಹಾಕುತ ಸಾಗುವ.

VII. ಅವರಣದಲ್ಲಿ ಕೊಟ್ಟಿರುವ ಪದಗಳಲ್ಲಿ ಸೂಕ್ತವಾದ ಪದ ಆರಿಸಿ ಬಿಟ್ಟ ಸ್ಥಳದಲ್ಲಿ ತುಂಬಿರಿ.

(Choose the appropriate word from the words given in brackets and fill in the blanks)

4X1=4

(ಮಳೆಯ ಧಾರೆ, ಕರಿಯಪ್ಪ, ಕೋಳಿಮರಿಯ, ಬೆಟ್ಟವನ್ನೇರುವ)

1. ಕುರಿ ಕಾಯುವವನ ಹೆಸರು _____.

2. ನಾವು _____ ಜಟ್ಟಿಗಳು.

3. ಮರದ ಎಲೆಯು _____ ತಲೆಯ ಮೇಲೆ ಬಿದ್ದು ಬಿಟ್ಟಿತು.

4. ಮೋಡವಾಗಿ ತಂಪು ತಗಲಿ _____ ಸುರಿಸುವುದು.



**Jindal Vidya Mandir, JSW Hill Side Township
Term-II Examination (2025-26)**

Class/sec: IV__

Set-A

Max Marks:30

Subject: Hindi (III Lang)

Duration-1Hr

Student Name:_____

Roll No:_____

Date:_____

Invigilator's Sign: _____

आवश्यक निर्देश- 1) सभी प्रश्नों को हल करना अनिवार्य है ।
2) प्रश्नों की कुल संख्या 6 है।

प्रश्न.1) नीचे दिये गए शब्दों के लिंग बदलिए -

5X1M=5M

(Change the gender of the following words)

1) राजा = _____

2) भाई = _____

3) दादा = _____

4) मामा = _____

5) शेर = _____

प्रश्न II) नीचे दिये गए शब्दों के वचन बदलिए -

5X1M=5M

(Write the plurals of the following words)

1) मिठाई = _____

2) चटाई = _____

3) टोली = _____

P.T.O

4) लड़की = _____

5) कली = _____

प्रश्न III) सही (✓) या गलत (X) का निशान लगाइए -

5X1M=5M

State whether the following statements are True or False.

- 1) आम फलों का राजा है । ()
- 2) तेनाली रामा मूर्ख था । ()
- 3) केले के पत्ते बड़े-बड़े होते हैं । ()
- 4) रमजान के बाद होली आती है । ()
- 5) सुभाष चंद्र बोस महान देशभक्त थे । ()

प्रश्न IV) सही विलोम शब्दों को मिलाइए -

5X1M=5M


(Match the opposite words)

क्रम संख्या	(क)	(ख)	उत्तर
1	दिन	जाना	()
2	ऊपर	दूर	()
3	हँसना	नीचे	()
4	पास	रोना	()
5	आना	रात	()

प्रश्न V) नीचे दिए गए चित्रों का सही शब्द के साथ मिलान कीजिए -
(Match the given pictures with the correct word)


5X1M=5M

(क)




मोर

(ख)




चीता

(ग)




कबूतर

(घ)



सूरज

(ङ)



कुर्सी

प्रश्न VI) निम्नलिखित प्रश्नों के उत्तर लिखिए -

5X1M=5M

(Answer the following questions in one sentence)

1) कोई पाँच फलों के नाम लिखिए -

उत्तर- _____

2) किस फल को चाट में भी डालते हैं ?

उत्तर- _____

3) ईद का मुख्य पकवान क्या है ?

उत्तर- _____

4) नमाज़ के बाद लोग एक दूसरे से गले मिलकर क्या कहते हैं ?

उत्तर- _____

5) सुभाषचंद्र का जन्म कहाँ हुआ था ?

उत्तर- _____



Jindal Vidya Mandir, JSW Hill Side Township
Term II Examination (2025-26)

Set-B

Class: IV/Sec: _____

Max.Marks:80

Subject: Mathematics

Duration :3 hours

Student Name: _____

Roll No: _____

Invigilator's Signature: _____

Date : _____

General Instructions: This question paper has 9 pages and it has 58 questions and IX mains.

All questions are compulsory.

PART -A

I. Fill in the blanks.

10X1M=10M

- 1.The length of the boundary of a circle is called _____
- 2.1km = _____ m
- 3.The surface occupied by a shape is called _____
- 4.A polygon with 6 sides figure is called _____
- 5.If the radius of a circle is 10cm then its diameter will be _____
6. $\frac{1}{4}$ of 1kg = _____ g
7. A cone has one _____ face and one _____ face.
- 8.1 day 5 hours= _____ hours.
9. Two hours before 2:25 am is _____
- 10.Short form of $4,00,000+30000+ 800 +2$ is _____

II. Choose the correct answer.

10X1M=10M

11) What will you do to convert metre to millimetre?

- a) $\times 100$ b) $\div 100$ c) $\times 1000$ d) $\div 1000$

12) $\text{₹}23.50 + \text{₹}18.20 =$ _____

- a) $\text{₹}41.70$ b) $\text{₹}101.10$ c) $\text{₹}103.70$ d) $\text{₹}201.70$

13) If Anika goes to school at 9a.m and returns from there at 2:30p.m, how much time does she spend in school?

- a) 5h 30 min b) 7h 30 min c) 4h 30 min d) 6h 30 min

14) The perimeter of a square ABCD is _____

- a) Sum of its Sides b) $4 \times \text{Side}$ c) $AB+BC+CD+AD$ d) All of these

15) The letter D has _____ line of Symmetry.

- a) one b) Two c) Three d) four.

16) If a centimetre is divided into _____ equal parts, then each part is called a millimetre.

- a) 2 b) 6 c) 8 d) 10

17) A bag contains 12kg of wheat. If 1 kg 300g has been used, How much weight left in the bag?

- a) 10kg 700g b) 9kg 700g c) 11kg 700g d) None of these.

18) Which group of letters represents the given pattern 12231223.

- a) ABBCABBC b) ABCCABCC c) AABCAABC d) ABCABCAB

19) Identify the largest 6-digit number in which no digits are repeated _____



- a) 987654 b) 999999 c) 102345 d) 987600

20) How many days are there in February 2027 ?

- a) 30 days b) 31 days c) 28 days d) 29 days.

III. Match the following.

6X1M=6M

Sr NO	Column A	Column B	Answer
21.	Predecessor of 9,08,000	a. Ray	
22.	₹72.50x2	b. 9:15 am	
23.		c. 49	
24.	Quarter past 9 in the morning	d. Pentagon	
25.	XLIX	e. 9,07,999	
26.		f. ₹145,00	

IV. Compare the following number by using sign >, < or =

4 X $\frac{1}{2}$ M = 2M

27. 7,83,085 7,38,805

28. ₹190.06 ₹126.35 + ₹186.35

29. XIX + V LV

30. 4 kg 345g 4345g.



V. State whether the following statements are True or False.

8x1M=8M

- 31. Cube and cuboid both have 6-flat faces - ()
- 32. In a bar graph, there is no gap between the bars - ()
- 33. A centimetre is smaller than a millimetre - ()
- 34. There is no line of symmetry in the letter X - ()
- 35. If the cost of 5 chocolates is ₹200, then the cost of 1chocolate is ₹40- ()
- 36. To represent the ages of children in a family using a bar graph .it is convenient to take one unit length to represent two years - ()
- 37. 6045 kg is equal to 6 kg 450g - ()
- 38. 10 minutes = 1000 seconds - ()

VI . Complete the following.

4x1M=4M

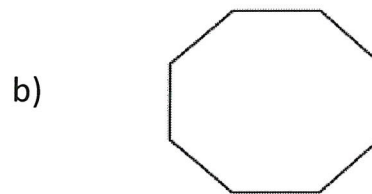
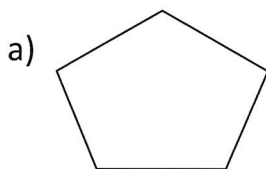
- 39.  _____
- 40.  _____
- 41. 195, 191, 187, _____
- 42. 212, 218, 224, _____

PART-B

VII. Do as directed.

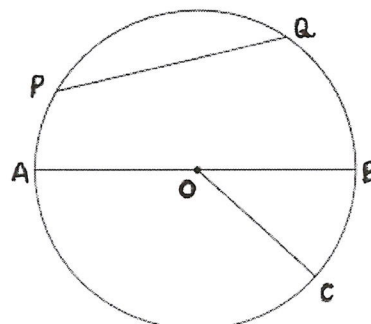
10X2M=20M

- 43. Name the given polygons.



- 44. Name the following.

- a) Centre
- b) Radius
- C) Diameter
- d) Chord




45. Convert into Centimetre.

3m 12 cm

46. Draw the mirror image of the following along the dotted line.

a)



b)



47. Divide and find the quotient and remainder.

$$₹9976.50 \div 9$$

48. Find the duration between 12 noon and 11:30 pm

49. Convert into rupees.

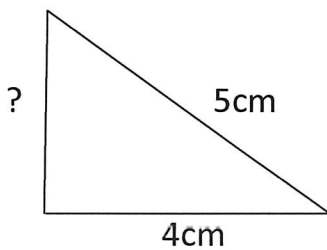
725P

50. Write in the expanded form.

a) 17,654 =

b) 8,97,653 =

51. The perimeter of a triangle is 12 cm .Find the missing length of triangle.



52. Change 24 hour clock to 12hours clock.

24-hour clock system	12-hour clock system
21:30 hours	
8:10 hours	

VIII. Answer the following.

4X3M=12M

53. Represent the number 8,56,432 on the place value chart and write its number name.

Number name _____

54. Complete the given Magic Squares it's Sum is 34.

7		6	14
2	13		
		10	5
9			4

55. A train left Chennai railway station at 16:30 hours on Sunday for Delhi. It reached Delhi Station after 28 hours. At what time did it reach Delhi?

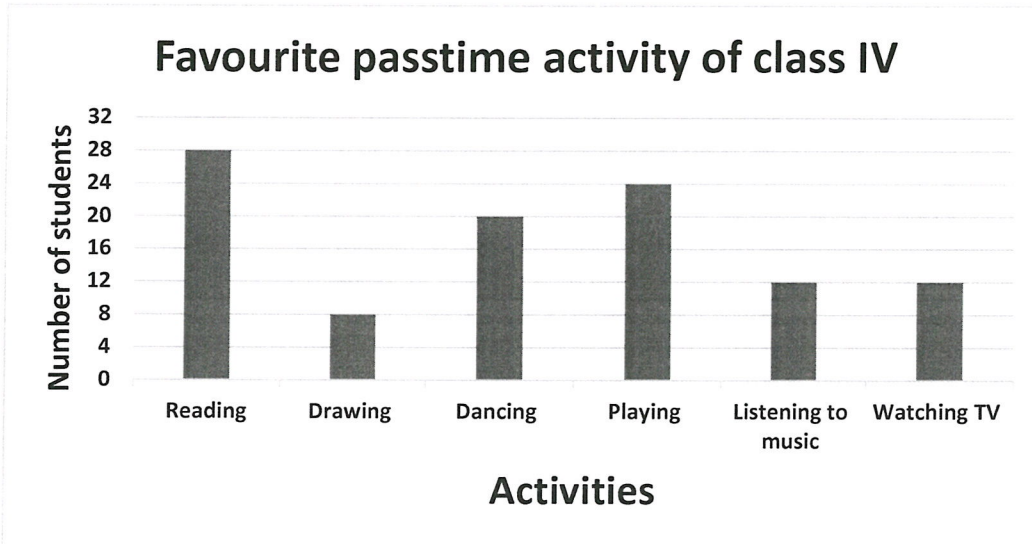
56. a) Add : 32km 397m and 14 km 102 m.

b) Subtract : 9g 361mg - 5g 498mg.

IX. Answer the following.

2X4M=8M

57. Observe the bar graph given below and answer the following questions.



- a. How many students have reading as their favourite pastime? _____
- b. Which activity is liked by the least number of students? _____
- c. How many more students like playing than drawing? _____
- d. Find the total number of students whose favourite pastime activity is listening to music and watching TV. _____

58. A container had 58 l 900 ml of cooking oil. Out of this, 18 l 500 ml was used up on the first day and 30 l 100 ml was used up on the second day. What quantity of cooking oil remains in the container?

6. What is a house with lots of flats in a single building called? _____
 a) multistorey building b) bungalow c) penthouse
7. Which of the following animals aestivates? _____
 a) woodchuck b) polar bear c) frog
8. Political maps give us information about _____.
 a) cities and counties b) hills c) valleys
9. Which of the following is a main source of water? _____
 a) rainfall b) surface water c) ground water
10. Water is _____.
 a) colourless b) odourless c) both a and b

II. Fill in the blanks.

5X1=5M

11. The _____ plateau is the largest and highest plateau in the world.
 12. A compass is an instrument used to find _____.
 13. A place where ships and boats can shelter is called a _____.
 14. The symbol of Indian currency is _____.
 15. A Municipal Corporation is a local body in a _____.

III. Match the following.

5X1=5M

- | Column - A | Column - B | |
|-----------------|----------------------------------|-----|
| 16. Carpenter | a. paints the house | () |
| 17. Plumber | b. connects the electrical wires | () |
| 18. Mason | c. makes furniture | () |
| 19. Painter | d. builds walls | () |
| 20. Electrician | e. fits pipelines | () |

IV. Give one example for the following.

10X1=10M

21. Sources of water: _____
 22. Unwanted organisms: _____
 23. Amphibians: _____

24. Types of maps: _____
25. Pack animals: _____
26. Aerial animals: _____
27. Types of bridges: _____
28. Building materials for pucca house: _____
29. Pollutants of water: _____
30. Biodegradable waste: _____

V. State whether the following statements are true or false.

5X1=5M

31. The seat tied to the back of the horse is called a bridle. ()
32. Most plateaus are in the dry region. ()
33. Plains are formed by deposition of mud. ()
34. Polluted water is fit for drinking. ()
35. The head of the Gram Panchayat is called the panch. ()

VI. Circle the odd one out.

5X1=5M

36. cough, jaundice, cholera, diarrhoea
37. east, besides, south, west
38. purification, bucket, pot, drum
39. hangar, aeroplane, road, airways
40. cattle, valleys, hills, plateau

Section-B

VII. Answer the following questions.

5X2=10M

41. How does water get polluted?

42. Write the causes of land pollution.

43. Describe the houses of the olden times.

44. How are islands different from mountains?

45. Define community and democracy.

VIII. Give reasons for the following statements.

5X2=10M

46. It is important to read the map.

47. Biodegradable waste is useful for plants.

48. We build temporary bridges in many places.

49. We have to buy tickets before boarding a train.

50. Freshwater animals are different from marine animals.

IX. Answer the questions in brief.

4X3=12M

51. Give an example of a master builder animal. Explain briefly.

52. Define desalination.

53. How do animals survive in different environmental conditions? Give examples.


54. How have villages developed with advancements in science and technology?

X. Draw and label the following.

2X4=8M


55. Draw a map of your neighborhood, showing the way from your home to the nearest playground.

(4M)



56. Draw and label the water cycle.

(4M)





JINDAL VIDYA MANDIR, JSW HILL SIDE TOWNSHIP
Term-II Examination: (2025-26)
Set-A

Class IV/Sec: _____
Subject: Information Technology
Student Name: _____
Invigilator's Signature: _____

Duration: 1 Hr.
Max. Marks: 30
Roll No: _____
Date: _____

General Instructions:

- ❖ This question paper consists of 4 pages, VI main questions with 25 sub questions.
- ❖ All questions are compulsory.

I. Fill in the blanks with the help of the given words.

5 X 1M =5M

(F5, .pptx Router, search engine, internet.)

1. Google is the most popular _____.
2. Press the function key _____ to start the slide show.
3. _____ is a device used to transfer information between computer networks.
4. Vinton Gray Cerf is known as the Father of the _____.
5. _____ is the extension of the file saved in Microsoft PowerPoint.

II. Match the columns

5 X 1M =5M

Q.No	Column-A	Column-B	Answer
6	Animation	a) Changes appearance of text	
7	Thumbnails	b) Insert decorative text in a document	
8	Website	c) Adds movement	
9	Font color	d) Small preview images	
10	WordArt	e)Group of webpages	

III. State whether the following statements are True or False.

4 X 1M =4M

11. Font size decides the colour of the text. ()

12. URL is the address of a webpage. ()

13. The first slide of a presentation is called the Title Slide. ()

14. Animation effects are applied to slides only. ()

IV. Read the statement and answer the question.

2X 1½M =3M

15. You are creating a presentation about your pet and have completed the title slide. Which button should you click to add a new slide showing your pet's favorite foods?

Ans: _____

_____.

16. Your teacher asks you to display your presentation on the big screen for the class. Which function key (F- key) is used as a shortcut to start the slideshow from the beginning?

Ans: _____

_____.

V. Give one word for the following: -

3 X 1M=3M

17. A collection of linked webpages.

Ans: _____
_____.

18. The command used to remove formatting mistakes.

Ans: _____

_____.

19. A file created in PowerPoint.

Ans: _____
_____.

VI. Answer any Five - questions

5X 2M=10M

20. Write four uses of the Internet.

Ans: _____

_____.

21. What is the purpose of a placeholder?

Ans: _____

_____.

22. What is the presentation? Why do you think it is important?

Ans: _____

_____.

23. What are the different options of running a slide show?

Ans: _____
_____.

24. List four web browsers used to access the internet.

Ans: _____

_____.

25. When is numbered list used? Give an example.

Ans: _____

_____.



Jindal Vidya Mandir, JSW Hill Side Township
Term-II Examination (2025-2026)
Set-B

Class: IV / _____

Subject: G.K

Student Name: _____

Invigilator's Signature: _____

Duration: 1 Hour

Max Marks: 30

Roll No: _____

Date: _____

General Instructions:

- This question paper consists of 4 pages and 20 questions.
- All the questions are compulsory.

Section- A

I. Fill in the blanks with the help of the given words.

6 X 1= 6M

1st June , Mary Kom , Cotton , Arunima Sinha , Kolkata, H. Boniface Prabhu)

1. The Indian sportsperson who has been awarded the Padma Bhushan, the Padma shri and the Arjuna Award for outstanding contribution to boxing is _____.
2. Where was first hockey club established in India? : _____
3. At the age of four, a faulty operation made him wheelchair bound. He become a leading India quadriplegic wheelchair tennis player and was awarded the Padma Shri in 2014. Name the inspiring sports star _____.
4. _____ material is used to make the Warangal Dhurries.
5. _____ become the first Indian amputee to scale Mount Everest in 2013 at age of 25.
6. _____ is World Milk Day observed to recognize the importance of milk as a global food.

II. Read the clue and use the help box to name the following.

6 X 1=6M

Slacklining, bouldering, Bungee jumping, Backstroke, Secret, water

7. What can you keep but cannot share and once you share it, you cannot keep it anymore? Who am I?

: _____.

8. Diving from a height with the help of a supporting rope.

Name the Sport:_____.

9. This stroke is done using your back. Arms move in a circular motion while legs go up and down, the face is out of the water.

Name the swimming stroke:_____.

10. What can you feed, but if you give it water, it will die?

:_____.

11. Climbing heights without safety equipment

Name the Sport:_____.

12. Walking across a nylon strip between two poles.

Name the sport : _____.

III. Match the following

6 X 1=6M

13. Baggravation

a. Manageable , lockable

14. Able

b. Bag arrives last on the luggage belt

15. Hungry

c. Boxing

16. Saina Nehwal

d. Anger because of extreme hunger

17. Vijender Singh

e. Underwater, underage

18. Under

f. Badminton

IV. Answer the following questions

6 X 1=6M

19. Who is youngest person to conduct skydive in South Africa?

_____.

20. When did India become eligible to play international hockey?

_____.

21. Who is first athlete win eight Olympic gold medals in sprinting?

_____.

22. Which state become India's first organic state, producing crops without harmful pesticides?

_____.

23. In which Asian city did Google launched its first Machine Learning Research Lab?

_____.

24. In whose honour is the Ranji trophy awarded?

_____.

V. Do as directed

6 X 1= 6M

Write the full forms of the following

25. UNESCO: _____

26. LCD : _____

27. NOIDA: _____

Look at the series and answer what comes next

28. 2, 1, $\frac{1}{2}$, $\frac{1}{4}$, _____ ($\frac{1}{3}$, $\frac{1}{8}$, $\frac{2}{8}$, $\frac{1}{16}$)

29. 21, 9, 21, 11, 21, 13, 21, _____ (14, 15, 21, 23)

30. 14, 25, 20, 40, 32, 64 _____ (52, 56, 96, 128)



Jindal Vidya Mandir, JSW Hill Side Township
Term-II Examination (2025-26)

Set-A

Class: IV / Sec : _____

Subject : Music

Student Name: _____

Roll no. : _____

Invigilator's Sign: _____

Max Marks: 30

Duration: 1 Hour

Date: _____

General Instructions:

- The question paper consists of 4 pages and 5 mains with 25 questions.
- All questions are compulsory.

I. Choose and write the correct answer.

5 X 1 = 5

1. The state anthem of Karnataka was written by

- a) D.R Bendre b) M.Govinda Pai c) Kuvempu d) Pampa

Ans: _____

2. What is the main subject/character addressed in the first three stanzas in folk song?

- a) Basavana b) Kumbaranna c) Shivasharana d) Naryaru

Ans: _____

3. The sounds created in Body Percussion are used to create:

- A) Melodies B) Rhythms C) Harmony D) Speeches

Ans: _____

4. Ustad Zakir Hussain is primarily known as a:

- a) Composer b) Producer c) Tabla player (Tabla icon) d) Singer

Ans: _____

5. The Spice Girls group was formed in:

- a) 1990 b) 1994 c) 1997 d) 2000

Ans: _____

II. Fill in the blanks with suitable answer.

5 X 1 = 5

6. Hottaredu Kumbaranna _____ banundana.
7. The sound made with your fingers is called a _____.
8. Numbers of notes or swaras in raag Bhoopali is _____
9. _____ album reached number one in 37 countries.
10. Ustad Zakir Hussain's fame spread internationally following four performances in the _____ and _____.

III. Match the following.

5 X 1 = 5

Coloumn-A	Coloumn -B	Answer
11. Body Percussion	a) Cool Britannia	
12. Media Nickname	b) Ustad Alla Rakha	
13. Start of Pakhawaj Lessons	c) Use of the body as a musical instrument	
14. Zakir Hussain's Father	d) "2 Become 1"	
15. Biggest Hit	e) Age 3	

IV. Answer the following questions in a word or a sentence.

5 X 1 = 5

16. What does 'madadi' mean in the context of the line "Kumbarannana madadi"?

Ans: _____

17. List the four basic examples of body percussion sounds.

Ans: _____

18. Who is referred to as "the Lord" in the first line in " Joy to the world " song ?

Ans: _____

19. How many copies did 'Spice Girls' debut album sell worldwide?

Ans: _____

20. What was the name of the special album drum project Zakir Hussain was invited to create?

Ans: _____

V. Answer the following questions in 2-3 sentences

5 X 2 = 10

21. Write the first stanza of the folk song "Munjaneddu kumbaranna".

Ans: _____

22. What is body percussion? Give two examples.

Ans: _____

23. Mention the raag and taal in which the bandish "Murali adharadhara" is composed.

Ans: _____

24. Describe the significance of the Planet Drum album.

Ans: _____

25. Complete the state anthem stanza

" Jananiya jogula _____



Jindal Vidya Mandir, JSW Hill Side Township
Term-II Examination: (2025-26)

Set - B

Class: IV/

Subject: Yoga

Name: _____

Invigilator's sign: _____

Max Marks: 30

Duration: 1 Hour

Roll.No _____

Date: _____

General Instructions:

Read the following instructions carefully and follow them:

This question paper contains 30 questions. All questions are compulsory.

I. Choose the correct option:

(5x1=5M)

1. Tadasana improves _____.
a) posture b) jumping height c) anger d) speed
2. Vrikshasana requires standing on _____.
a) two legs b) one leg c) hands d) toes only
3. Virabhadrasana-I strengthens the _____.
a) legs b) eyes c) fingers d) hair
4. Halasana helps relieve _____ pain.
a) hand b) back c) ear d) tooth
5. Surya Namaskar increases lung _____.
a) colour b) capacity c) temperature d) sound
6. Ustrasana opens the _____.
a) chest b) feet c) fingers d) eyes
7. Trikonasana improves _____.
a) balance b) height c) singing d) speed
8. Saucha keeps our mind _____.
a) dirty b) confused c) clean d) sleepy
9. Satya means _____.
a) cleanliness b) truthfulness c) balance d) Strength
10. Which yama means non-violence?
a) satya b) ahimsa c) asteya d) saucha

II. Fill in the blank by choosing the correct answer from the box. (5x1=5M)

blood camel cleanliness happy legs

- 11. _____ helps us to stay healthy and clean.
- 12. Surya Namaskar improves _____ circulation.
- 13. Ustrasana is also called pose. _____.
- 14. Trikonasana strengthens the _____.
- 15. Mahima felt after cleaning her _____ space.

III. State whether the following statements are true or false. (5 x 1M =5)

- 16. Halasana is an inversion pose. ()
- 17. Vrikshasana decreases concentration. ()
- 18. Saucha includes keeping our surroundings clean. ()
- 19. Surya Namaskar improves digestion. ()
- 20. Tadasana makes posture worse. ()

IV. Answer the following questions in one sentence/word. 5X1=5 M

21. What is Halasana also called?

_____.

22. Name one benefit of Tadasana.

_____.

23. What does Trikonasana stretch?

_____.

24. What type of cleanliness does positive thinking belong to?

25. Name one value taught by the story of Raja Harishchandra.

V.

- | | | |
|----------------------|---------------------|-----|
| 26. Surya Namaskar | a) Strengthens back | () |
| 27. Tadasana | b) Mountain Pose | () |
| 28. Ustrasana | c) Sun Salutation | () |
| 29. Vrikshasana | d) Tree Pose | () |
| 30. Virabhadrasana-1 | e) Warrior Pose I | () |



JINDAL VIDYA MANDIR, JSW HILL SIDE TOWNSHIP
Term – II Examination (2025-26)

Class : IV ____

Set – A

Roll No. ____

Date : _____

Subject : Art

Name : _____

Max Marks : 50

Invigilator's Sign _____

Duration : 1 Hour

Theme : Landscape (Nature)

- | | |
|---|--|
| 1. Drawing Skills (10 Marks) | 2. Creativity & Originality (10 Marks) |
| 3. Coloring / Shading / Painting (10 Marks) | 4. Composition & Layout (10 Marks) |
| 5. Neatness & Presentation (5 Marks) | 6. Theme Relevance (5 Marks) |

Look at the figure given below & Color the picture with pencil colors. Give dark and light effect.



