

Set - A


Class: V/\_\_\_\_  
Subject: Yoga  
Name: \_\_\_\_\_  
Invigilator's sign: \_\_\_\_\_  
Date: \_\_\_\_\_  
Roll. No \_\_\_\_\_  
Duration: 1 Hour  
Max Marks: 30

General Instructions:  
Read the following instructions carefully and follow them:  
This question paper contains 30 questions. All questions are compulsory.

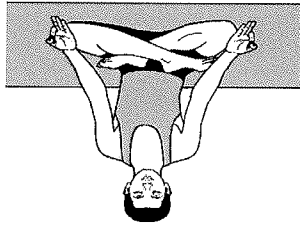
I Choose the correct option from the below MCQ's 10x1=10

1. What should be empty before practicing yoga?  
A. Stomach, bladder, and bowels  
B. School bag  
C. Brain  
D. Water bottle
2. What does yoga help with?  
A. Making toys  
B. Managing stress and anxiety  
C. Cooking  
D. Playing video games
3. How should yogic exercises be done?  
A. Fast and hard  
B. Loud and strong  
C. Slowly and comfortably  
D. With shouting
4. Which of these is NOT a style of yoga?  
A. Hatha  
B. Vinyasa  
C. Soccer  
D. Yin
5. What is the first part of the Pranayama cycle?  
A. Rechaka  
B. Kumbhaka  
C. Puraka  
D. Mantra
6. Which Pranayama balances both sides of the brain?  
A. Bhastrika  
B. Nadi Shodhan  
C. Bhramari  
D. Vinyasa


25)



23)



24)



21)



22)



Vrikhasana, Dhanurasana, Vajrasana, Gomukhasana, Padmasana

IV. Identify and name the asanas given below with help box

- 19) The Sanskrit word "prana" means "\_\_\_\_\_".
- 20) Yoga can help lower high \_\_\_\_\_ pressure.

5X1=5



Set-A

Class: V / Sec : \_\_\_\_\_  
Sub: Music  
Student Name: \_\_\_\_\_  
Invigilator's Sign: \_\_\_\_\_  
Date: \_\_\_\_\_  
Roll no : \_\_\_\_\_  
Duration: 1 Hour  
Max Marks: 30

General Instructions:

- The question paper consists of 4 pages and 5 main with 25 questions.
- All questions are compulsory.

1. Choose and write the correct answer. 5 X 1 = 5

1. What is the rasa (nature) associated with raag Bhairav?

- Ans: \_\_\_\_\_
- a) Shanta rasa      b) Karuna rasa      c) Veera rasa      d) Hasya rasa

2. What is the typical length of a bansuri?

- Ans: \_\_\_\_\_
- a) 5-10 inches      b) 12-30 inches      c) 30-40 inches      d) 4 feet

3. Which instrument is made of clay and backed with brass?

- Ans: \_\_\_\_\_
- a) Khartal      b) Duff      c) Ghatam      d) Tabla

4. Pt. Ravi Shankar was a proponent of which instrument?

- Ans: \_\_\_\_\_
- a) Guitar      b) Sitar      c) Violin      d) Piano

5. Hurricane is listed as one of the greatest hits of:

- Ans: \_\_\_\_\_
- a) Pt. Ravi Shankar      b) George Harrison      c) Bob Dylan      d) Yehudi Menuhin

---

---

---

---

Ans: \_\_\_\_\_

22. How is a bansuri made, and what are its general dimensions?

---

---

---

---

Ans: \_\_\_\_\_

21. What are the 'vadi' and 'samvadi' notes of raag Bhairav, and what is their significance?

**V. Answer the following questions in 2-3 sentences** **5 X 2 = 10**

Ans: \_\_\_\_\_

20. Name one of Pt. Ravi Shankar's greatest hits.

Ans: \_\_\_\_\_

19. Which Indian civilian award did Pt. Ravi Shankar receive?

**JINDAL VIDYA MANDIR, JSW HILL SIDE TOWNSHIP**  
**Term – I Examination (2025-26)**



Set – A

Class : V \_\_\_\_\_

Date : \_\_\_\_\_

Name : \_\_\_\_\_

Invigilator's Sign \_\_\_\_\_

Duration : 1 Hours

Max Marks : 50


Subject : Art

Roll No. \_\_\_\_\_

**Theme : Pop Art**

1. Drawing Skills (10 Marks)
3. Coloring / Shading / Painting (10 Marks)
5. Neatness & Presentation (5 Marks)
2. Creativity & Originality (10 Marks)
4. Composition & Layout (10 Marks)
6. Theme Relevance (5 Marks)

Look at the picture given below, draw the 3D letters \*ART\* in the style of pop art.



**Jindal Vidya Mandir, JSW Hill Side Township**  
**Term-I Examination (2025-26)**

Jindal Vidya Mandir

Max Marks:30

Set -A

Class/sec: V \_\_\_\_\_

Subject: Hindi (III Lang)

Duration-1Hr

Student Name: \_\_\_\_\_

Roll No: \_\_\_\_\_

Date: \_\_\_\_\_

Invigilator Sign: \_\_\_\_\_

आवश्यक निर्देश- 1) सभी प्रश्नों को हल करना अनिवार्य है।  
2) प्रश्नों की कुल संख्या 6 है।

प्रश्न.1) सही (✓) या गलत (X) का निशान लगाइए -

( Put a tick (✓) for True and a cross (X) for False )

1) रेशमा पके सेब लाई। ( )

2) सबने भीठे जार्जन मजे से खाए। ( )

3) केशव जार्जन के पेट पर चढ़ा। ( )

4) छिलके कैंडदान के भीतर डालने चाहिए। ( )

5) सुवांध्या की शादी का दिन था। ( )

प्रश्न II) शब्दों को सही क्रम से लिखकर वाक्य को दोबारा लिखो -

( Rewrite the sentence by writing the words in correct order )

1) तैयार खाना है।

2) बिछाया जान शिकारी ने।

\*\*\*\*\*

-----

----- उत्तर-

4) क्या करने से सेहत ठीक रहती है ?

-----

----- उत्तर-

3) बैना किसकी बड़ी बहन थी ?

-----

----- उत्तर-

2) हमें छिपके कहाँ जाना चाहिए ?

-----

----- उत्तर-

1) रमेश किसके पंड पर चढ़ा ?

(Answer the following questions in one sentence)

प्रश्न VI) निम्नलिखित प्रश्नों के उत्तर लिखिए -

4X2=8



Class: - V/Sec: - \_\_\_\_\_

Subject: - Kannada (III Language)

Max. Marks: - 30

Duration: - 1Hr

Roll No: - \_\_\_\_\_

Date: - \_\_\_\_\_

Student Name: - \_\_\_\_\_

Investigator's Sign: \_\_\_\_\_

General Instruction: - This question paper contains 4 pages and 8 main questions.

1. ಈ ಕೆಳಗಿನ ಗದ್ಯಭಾಗವನ್ನು, ಕೊಟ್ಟಿರುವ ಪದಗಳ ಸಹಾಯದಿಂದ ಪೂರ್ಣಗೊಳಿಸಿರಿ. 5X1=5

(Complete the following passage using the given words.)

ಮಲಗಿ, ಗುಬ್ಬಿ, ಕೋಳಿ, ತೋಟ, ಪರಿವಾಳ

ಒಂದು ಊರು, ಆ ಊರಿನ ಹಸರು \_\_\_\_\_ ಹಳ್ಳಿ. ಆ ಹಳ್ಳಿಯಲ್ಲಿ ಒಂದು \_\_\_\_\_ ಇತ್ತು.

ಆ ತೋಟದಲ್ಲಿ ಒಂದು \_\_\_\_\_ ತನ್ನ ಮರಿಗಳ ಜೊತೆ ವಾಸವಾಗಿತ್ತು. ಅದೇ ತೋಟದಲ್ಲಿ \_\_\_\_\_ ಮತ್ತು \_\_\_\_\_

\_\_\_\_\_ ವಾಸವಾಗಿದ್ದವು.

II. ಹೊಂದಿಸಿ ಬರೆಯಿರಿ . (Match the following)

5X1=5

'ಅ'

'ಆ'

1. ನೋಟು

ಅ) ರಿಪೋರ್ಟ್ (ಆ) \_\_\_\_\_

2. ತೆನೆ

ಆ) ಐತ್ಯೆ (ಐ) \_\_\_\_\_

3. ಪೈರು

ಇ) ಗುಡಿಸು (ಐ) \_\_\_\_\_

4. ಕುಟುಕು

ಈ) ಐತ್ಯೆ (ಐ) \_\_\_\_\_

5. ಕಾಳು

ಉ) ಐತ್ಯೆ (ಐ) ರಿಪೋರ್ಟ್ (ಐ) \_\_\_\_\_

III. ಈ ಕೆಳಗೆ ಕೊಟ್ಟಿರುವ ಅಕ್ಷರಗಳ ಸಹಾಯದಿಂದ 5 ಅಕ್ಷರಪೂರ್ಣ ಸರಳ ಪದಗಳನ್ನು ರಚಿಸಿರಿ. 5X1=5

(Form five meaningful words using the letters given below)

ಪ, ರ, ಮ, ಸ, ಯ, ಟ, ನ, ಯ, ಗ, ಅ, ಜ

1. \_\_\_\_\_

2. \_\_\_\_\_

3. \_\_\_\_\_

4. \_\_\_\_\_

5. \_\_\_\_\_

---

---

---

---



1X2=2

{ ಪ್ರಾಣಿ, ಕಾಡು, ಬಾಲ, ಮರ, ಹತ್ತುವೆದ, ಕೂಡಿ }

(given words)

(Observe the picture given below and construct two or three sentences using the

VIII. ಈ ಕೆಳಗಿನ ಚಿತ್ರವನ್ನು ನೋಡಿ, ಕೊಟ್ಟಿರುವ ಪದಗಳನ್ನು ಬಳಸಿ 2-3 ವಾಕ್ಯಗಳನ್ನು ರಚಿಸಿರಿ.



Jindal Vidya Mandir, JSW Hill Side Township  
Term-I Examination: 2025-26

Set-A

Max marks- 30

Class/sec : V \_\_\_\_\_

Duration-1hr.

Subject: Information Technology

Roll No. \_\_\_\_\_

Student Name: \_\_\_\_\_

Date: \_\_\_\_\_

Invigilator's sign :- \_\_\_\_\_

General Instructions :

- This question paper consists of 4 main questions.
- All the questions are compulsory.

I Choose the correct answer.

6X1=6

1. In 1888, Herman Hollerith invented the \_\_\_\_\_.  
(a) Tabulating Machine (b) Arithmetique (c) Abacus (d) Pascal
2. \_\_\_\_\_ pane shows the list of applied animation on a slide.  
(a) Strong (b) Subtle (c) Duration (d) Animation
3. There are \_\_\_\_\_ ways to create Tables in Microsoft Word 2016.  
(a) Two (b) Three (c) Four (d) Five
4. \_\_\_\_\_ is India's first supercomputer.  
(a) PARAM 8000 (b) PARAM 8080 (c) PARAM 80 (d) PRAM 8000
5. The Tabulating machine was invented by.  
(a) Charles Babbage (b) Blaise Pascaline (c) Herman Hollerith (d) Steve Jobs
6. \_\_\_\_\_ was also called the Step Reckoner.

---

---

---

---

b) Explain the purpose of header and footers in a document .

---

---

---

---

a) Differentiate between CD,DVD and Blu-ray disc with respect to their storage capacity.

**IV. Answer the following questions . 6X2=12**

f) \_\_\_\_\_ effects makes the entry of the elements on a slide attractive.

\*\*\*\*\*

---

---

---

---

e) Differentiate between rows and columns?

---

---

---

---

Class: V  
SET-A  
Max. Marks: 30  
Subject: GK  
Duration: 1 hr

**General Instructions:**

- The question paper consists of 3 pages and a total of 30 questions.
- All questions are compulsory.

**Section-A**

**I. Fill in the blanks.**

6 X 1 = 6 M

1. The \_\_\_\_\_ dam built across Kaveri river in Thanjavur district in the state of Tamil Nadu, was the first dam built in India.
2. The inventor of telephone is \_\_\_\_\_
3. Directed and produced by Dada Saheb Phalke, \_\_\_\_\_ was the first silent film made in India.
4. \_\_\_\_\_ has hidden vestigial wings and soft hair like feathers. Unlike other birds it has its nostrils on the tip of its bills, instead of at the base.
5. \_\_\_\_\_ means the manners and etiquettes one should observe while using the network.
6. Panja durries belong to \_\_\_\_\_ state.

**II. Choose the correct answer for the following.**

4 X 1 = 4 M

7. She created history when she was chosen as the first female president of Taiwan (a) Aung San Suu Kyi (b) Tsai Ing-wen (c) Mary Kom
8. CEO of Microsoft is \_\_\_\_\_ (a) Vladimir Putin (b) Satya Nadal (c) Ratan Tata
9. \_\_\_\_\_ is considered the pioneer in the field of Political Science and economics in India he is the author of the Arthashastra. (a) Chanakya (b) Aristotle (c) John Locke

Olympics. \_\_\_\_\_

V. Unscramble the letters to name these scientific and medical instruments: 3 X1=3 M

23. A \_\_\_\_\_ (EOTPHSECSO) is an instrument used by a doctor to listen to

your heartbeat.

24. \_\_\_\_\_ (EMRHTOTRMEE) is an instrument used to measure your body

temperature.

25. An \_\_\_\_\_ (CNEFOEDSO) is an instrument to inspect inside the

human body.

VI. Answer the following questions:

5 X 1 = 5 M

26. Give two examples for non-biodegradable waste.

Ans: \_\_\_\_\_

27. Name the first women who travelled into space.

Ans: \_\_\_\_\_

28. Name world's the longest and largest coral reef system.

Ans: \_\_\_\_\_

29. Deficiency of which mineral can lead to the decay of teeth ?

Ans: \_\_\_\_\_

30. Name the animal that resembles a snake but is actually a lizard.

Ans: \_\_\_\_\_



Set-A

Class V/Sec: \_\_\_\_\_

Sub: EVS

Name of the Student: \_\_\_\_\_

Invigilator's Sign: \_\_\_\_\_  
Date: \_\_\_\_\_

Roll No: \_\_\_\_\_

Duration: 3 Hrs.

Max. Marks: 80

General Instructions:

- Read the following instructions carefully and follow them:
- This question paper contains 8 pages and 55 questions.
- It is divided into two sections, A and B. Section A is objective type questions and section B is subjective type questions.
- All questions are compulsory.

Section-A

I. Fill in the blanks. [10 × 1 = 10M]

1. The movement of people from one place to another is known as \_\_\_\_\_.

2. Each one of us has some special \_\_\_\_\_.

3. The oldest traditional sport of Meghalaya is \_\_\_\_\_.

4. The work that a person does to earn a living is called a \_\_\_\_\_.

5. The long tube-like mouth of a butterfly is called \_\_\_\_\_.

6. Eggs and meat are \_\_\_\_\_ products.

7. The process of a seed changing into a seedling is called \_\_\_\_\_.

8. Planting more trees to renew a plant cover on barren land is called \_\_\_\_\_.

9. Digestion begins in the \_\_\_\_\_.

10. Growing crops and rearing animals for food is known as \_\_\_\_\_.

III. Rewrite the sentence by replacing the underlined word with the correct one.

[5 × 1 = 5M]

21. The shape of the lungs is square.

Ans. \_\_\_\_\_

22. Our mother's parents are our paternal grandparents.

Ans. \_\_\_\_\_

23. International Yoga Day is observed on 20<sup>th</sup> June every year.

Ans. \_\_\_\_\_

24. Kho-kho combines the characteristics of both wrestling and rugby.

Ans. \_\_\_\_\_

25. Swachh Bharat Abhiyan was launched on 2<sup>nd</sup> October 2016.

Ans. \_\_\_\_\_

IV. Fill in the blanks to complete the sequence.

[5 × 1 = 5M]

26. Aloe vera: medicine :: Bamboo: \_\_\_\_\_

27. Silk: silkworm :: Wool: \_\_\_\_\_

28. Root: absorbs water :: Leaf: \_\_\_\_\_

29. Pickle: salt and oil :: Milk: \_\_\_\_\_

30. Green plants: producers :: Humans: \_\_\_\_\_

V. Write two examples for each of the following.

[5 × 1 = 5M]

31. Games that need a team- \_\_\_\_\_

32. Jobs done in a village - \_\_\_\_\_

33. Food items preserved by drying- \_\_\_\_\_

34. Products we get from forests - \_\_\_\_\_


35. Animals used for transport - \_\_\_\_\_


47. What is a food chain? Explain with one example.

46. Name and describe any two steps followed to cultivate crops.

45. What is the Chipko Andolan? Which leaders were actively involved in this andolan?

44. Draw and explain the structure of a seed.





51. Explain the difference between hibernation and aestivation.

---

---

---

---

---

---

---

---

52. What do you understand by the term seed dispersal? How do peas and beans disperse their seeds?

---

---

---

---

---

---

---

---

53. What is photosynthesis? Draw a diagram to explain the process of photosynthesis.

---

---

---

---

Set-A

Max. Marks: 80

Duration: 3 Hrs.

Roll No: \_\_\_\_\_

Date: \_\_\_\_\_

Class / Sec: \_\_\_\_\_

Subject: English

Student Name: \_\_\_\_\_

Investigator's Sign: \_\_\_\_\_

Instructions:

\* This question paper contains 8 pages and has 16 main questions.

\* It has four Sections-Sections –A (Reading), Section-B (Writing),

Section-C (Grammar), Section-D (Literature).

**SECTION A- READING (20M)**

1. Read the following passage and answer the given questions: 10X1=10M

On a cool winter morning, Neha woke up early and looked out of the window. The ground was covered with fog, and everything looked quiet. She wore her warm jacket and stepped out into the garden. The flowers had tiny drops of dew on them, and the air smelled fresh.

Neha loved observing nature, so she took her notebook and started drawing what she saw. She drew the tall trees, colourful flowers, and even a small squirrel sitting on a branch. After a while, her dog Bruno ran to her, wagging his tail. Together, they played with a ball and chased each other on the grass.

Later, Neha went inside and helped her mother bake cookies. The whole house smelled sweet and warm. It turned out to be a peaceful and joyful winter day.

**A. Choose the correct answer.**

1x6=6M

a. What was the weather like in the morning?

a) rainy

c) stormy

d) windy

b) foggy

b. Why did Neha take her notebook into the garden?

a) to write a letter

b) to draw nature

c) to complete homework

d) to list animals

c. What should you wear on a cold winter morning like Neha? Application

a) a light T-shirt

b) a raincoat

c) a sleeveless shirt

d) warm clothes like a jacket

d. If you want to enjoy nature, what should you do?

a) go outside with a phone

b) watch TV

c) go out and observe plants and animals

d) sit quietly indoors

---

e. If your friend feels sad and lonely, how can your family help them feel better? ap

---

d. Pick out two pairs of rhyming words from the poem.

---

c. Describe one situation when your family helped you. How did they support you?

---

b. What does the poem say about how family behaves during hard time?

---

a. Who offers support and encouragement according to the poem.

A family is a group of people.  
It can be a group or a couple.  
A family is where,  
People care.  
They share a love for each other.  
They don't have to be a biological brother.  
They offer support and encouragement too.  
In facing life and all you do.  
You can be sure when times are hard,  
They will show up and be a safeguard.  
And when times are good,  
They share and laugh as they should.  
Without family the world can be a lonely place,  
With no one to love or to embrace.  
These relationships you should cherish,  
Your life they will enrich.

**3. Read the poem carefully and answer the following questions: 1x5=5M**

---

5. If a squirrel hides its nuts underground, how does that help it later?

---

4. Pick out two pairs of rhyming words from the poem.



---

---

b. When did Hippo and Rhino realise that they have been tricked? What did they do then?

---

---

a. "Unless you let go of me, we won't be able to make a Thunder Cake today!" Why did the speaker wish to make a Thunder Cake?

**Q15. Answer the following questions in a sentence. 2x5=10 M**

---

---

c. If your friend was struggling to finish a race, which line from the poem could you share with them and why?

---

---

b. Explain the meaning of the line "and it isn't your day."

---

a. What two things does the poet say happen when you're having a hard time? with the odds all against your courage and see the thing through.

that you're fast growing tired  
And your best doesn't measure to what is required, when you know in your heart  
When you falter and slip, and it isn't your day  
When the burden grows heavy and rough is the way,

**Q14. Read the given extracts and answer the following questions. 1x3=3M**

---

c. Can you think of a time when you needed privacy like the poem says?

---

b. What does the line "it might not let you see" mean?

---

a. What are two things "it" helps you to do?



Class: V/Sec. \_\_\_\_\_

Sub: Mathematics

Max Marks:80

Duration:3Hrs.

Invigilator Sign. \_\_\_\_\_

Student Name: \_\_\_\_\_

Roll No. \_\_\_\_\_

General Instructions:

- This question paper consists of 8 pages and IX main questions and 55 sub questions.
- This question Paper has 2 Sections A and B
- Section A is of objective type questions and Section -B is of subjective type questions.
- All questions are compulsory.

SECTION A

1. Choose the correct option and complete the statements

$8 \times 1M = 8M$

1. The expanded form of 6,34,291 is \_\_\_\_\_.
- a) 6,00,000 + 30,000 + 4,000 + 200 + 90 + 1.    b) 60,000 + 3,000 + 400 + 200 + 90 + 1
- c) 600,000 + 30,000 + 4,000 + 200 + 90 + 1    d) 6,00,000 + 3,000 + 4,000 + 200 + 90 + 1

2. The product of the number  $1,245 \times 0$  is \_\_\_\_\_.
- a) 0    b) 1,245    c) 1    d) None of these.

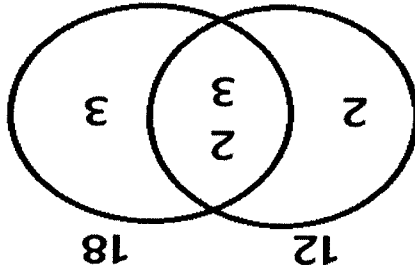
3. The value of the Roman number MIX is \_\_\_\_\_.
- a) 2009    b) 2009    c) 2019    d) 2090

4. The common factors of 11 and 12 is \_\_\_\_\_.
- a) 2    b) 5    c) 1    d) 3

5. The improper fraction of  $2\frac{5}{2}$  is \_\_\_\_\_.
- a)  $\frac{5}{15}$     b)  $\frac{5}{12}$     c)  $\frac{5}{10}$     d)  $\frac{5}{5}$

6. An angle whose measure is in between  $0^\circ$  to  $90^\circ$  is called an \_\_\_\_\_ angle.
- a) acute    b) straight.    c) right.    d) obtuse

L.C.M = \_\_\_\_\_  
 H.C.F = \_\_\_\_\_



37. In the given figure identify the L.C.M and H.C.F of the number 12 and 18

Ans. \_\_\_\_\_

36. Write the largest 8-digit number using the digits 9,0,1,5,3,8,6 and 7.

Ans. \_\_\_\_\_

The place value of 2 is 2 ones, place value of 4 is 4 thousandths.

35. Write the correct decimal numbers using clues.

$6 \times 1M = 6M.$

VI. Answer the following questions.

34.  $2,56,73,210 + 0$  \_\_\_\_\_  $2,56,73,210.$

33. The product of two numbers \_\_\_\_\_ to the product of their L.C.M and H.C.F.

32. Obtuse angle \_\_\_\_\_  $90^\circ$

31.  $\frac{9}{5}$  \_\_\_\_\_  $\frac{9}{8}$ .

30.  $3.08 + 1$  \_\_\_\_\_  $3.08 + 0$

V. Compare the following statements using appropriate symbols.  $<$ ,  $=$ ,  $>$   $5 \times 1M = 5M.$

29.  $\frac{5}{3}$  and  $\frac{10}{6}$  are equivalent fractions. ( )

28.  $14.8 \times 0.2 = 29.6$  ( )

27. The smallest multiple of any number is the number itself. ( )

---

---

---

---

---

Ans:

47. Divide  $289.44 \div 3$ .

---

---

---

---

Ans:

46. Form the smallest 8-digit number using the digits 7, 5, 0, 1, 2, 9, 8 and 4. Also write the number name of the numeral formed both in Indian System and in International System.

---

---

---

---

---

Ans:

45. Monu drank mango juice from a 500ml bottle. He found that  $\frac{5}{2}$  was remaining. How much did he drink?

---

---

---

---

Ans:

44. Find the L.C.M, if the product of two numbers is 150 and H.C.F is 5.

---

---

---

---

---

53. On a particular day, a vegetable vendor sold  $10\frac{7}{5}$  kg of onions,  $6\frac{4}{3}$  kg of spinach and  $10\frac{8}{8}$  kg of potatoes. Find the total weight of all the vegetables he sold. What skills you learned from this problem.

Ans:

---

---

---

---

---

---

---

---

---

---

52. A metallic wire of length 119.37m is cut into 15 equal pieces. What is the length of each piece?

Ans:

---

---

---

---

51. Construct the angle of measure  $105^\circ$  and identify the type of the angle.

Ans:

---

---

---

---



1) ಸಹಾ ಉರಿಯುತ್ತಿರ ಬೇಕಾದುದು ಯಾವುದು?

ಪ್ರಶ್ನೆಗಳು:-

5x1=5M

ಮುಖ್ಯನ ಅಂತ್ ಬಿಡಿಸಿದಂತೆ ಬಂತೆ ಮುಕ್ತಿ?  
ಹುಲಿಯು ಬಾಯಿ ಮೇಲೆ ಕೊಯುವಂತೆ ಧರಣಕ್ಕೆ  
ಪಡೆಯಿತದನು ಜನತೆ, ಬಾಳ ಬೆಸೆಯ ನಾಡ ಭಕ್ತಿ

ಸಹಾ ಉರಿಯುತ್ತಿರುವ ಹಾಗೆ ಸ್ವತಂತ್ರವ ಹಣತೆ  
ದಡಿಮೆ ತೈಲಪರಿಯುತ್ತಿರಲು ಬಿಡುವಿಲ್ಲದ ಜನತೆ  
ಎಂತು ಕುಂದಬಹುದು ಎನ್ನು ತಾಯ್ನಾಡಿನ ಘನತೆ

IV. ಈ ಕೆಳಗೆ ಕೊಟ್ಟಿರುವ 'ಸ್ವತಂತ್ರವ ಹಣತೆ' ಪದ್ಯಭಾಗವನ್ನು ಓದಿಕೊಂಡು, ಕೊಟ್ಟಿರುವ ಪ್ರಶ್ನೆಗಳಿಗೆ ಉತ್ತರಿಸಿರಿ.

5) ಮರ ಮತ್ತು ಕಲ್ಲು ಏನನ್ನು ಅರ್ಥಮಾಡಿಕೊಂಡವು?

4) ಕಲ್ಲು ಎಲ್ಲಿ ಬಿದ್ದಿತು?

3) ಮರ ಮತ್ತು ಕಲ್ಲು ಯಾವ ವಿಷಯವನ್ನು ತಿಳಿದುಕೊಂಡವು?

2) ರೈತ ಕಲ್ಲನ್ನು ನೋಡಿ ತನ್ನ ಮಕ್ಕಳಿಗೆ ಏನಂದು ಹೇಳಿದನು?

1) ರೈತ ಬೇವಿನ ಮರವನ್ನು ನೋಡಿ ತನ್ನ ಮಕ್ಕಳಿಗೆ ಏನಂದು ಹೇಳಿದನು?

ಪ್ರಶ್ನೆಗಳು:-

5x1=5M

ಮರ ಮತ್ತು ಕಲ್ಲು ಸ್ನೇಹಿತರಾದವು. ಹೀಗೆ ಎಲ್ಲರೂ ಒಟ್ಟಿಗೆ ಬಾಳಿದರೆ, ಎಲ್ಲರೂ ಸುಖವಾಗಿ ಇರಬಹುದು.  
ಎಂದು ಕೆಲವು ಹೇಳಿತು. ತಾನು ಇನ್ನೊಂದರಿಂದ ಸುಖವಾಗಿರುವುದು ಎಂದು ಈಗ ಎರಡಕ್ಕೂ ಅರ್ಥಮಾಡಿತು. ಬೇವಿನ  
ತಿಳಿದುಕೊಂಡವು. ರೈತ ಅತ್ತೆ ಹೋಗುವುದನ್ನು ಕಾಡಿದನು, ಕಲ್ಲು ಬರಲಾ ಎಂದು ಬೇವಿನ ಮರವನ್ನು ಕೇಳಿತು. ಮರ ಬೇಗ ಬಾ  
ನುಬಿಟ್ಟಿರನ್ನು ನಾಶಮಾಡುತ್ತಾರೆ. ಆದರಿಂದ ನಾವಿಬ್ಬರೂ ಉಳಿಯುವುದಿಲ್ಲ ಎಂಬ ವಿಷಯವನ್ನು ಮರ ಮತ್ತು ಕಲ್ಲು  
ಎಂದು ತನ್ನ ಮಕ್ಕಳಿಗೆ ಹೇಳಿದ. ಇದರಿಂದ ಮರ ಮತ್ತು ಕಲ್ಲು ನಾವಿಬ್ಬರೂ ಒಟ್ಟಿರಿಂದ ಒಬ್ಬರ ದೂರವಾಗಿದ್ದರೆ ಜನರು  
ದೂರ ಬಿದ್ದಿದ್ದ ಕಲ್ಲನ್ನು ನೋಡಿ ಈ ಕಲ್ಲನ್ನು ನಾಳೆ ಕಲ್ಲು ಒಡೆಯುವವರಿಂದ ಒಡಿಸಿದರೆ ನೇಗಲನ್ನು ಕಟ್ಟಿ ಉಳಿಸಿ ಬದುಕುವೆ  
ಮರವನ್ನು ನೋಡಿ ಇದನ್ನು ನಾಳೆ ಕಡಿಸಿ, ನೇಗಲಿನ ಚಕ್ರ ಮಾಡಿಸಿ ಎಂದು ತನ್ನ ಮಕ್ಕಳಿಗೆ ಹೇಳಿದ. ಬೇವಿನ ಮರದಿಂದ  
ಒಂದು ದಿನ ಹೂವನ್ನು ಉಳಿಸಿ ಆ ಹಕ್ಕಿಯ ರೈತ ತನ್ನ ಮಕ್ಕಳ ಜೊತೆ ಬಂದನು. ಆಮೇಲೆ ಕಲ್ಲು ಇಲ್ಲದ ಆ ಬೇವಿನ

III. ಈ ಕೆಳಗೆ ಕೊಟ್ಟಿರುವ 'ಒಟ್ಟಿಗೆ ಬಾಳುವ ಆನಂದ' ಗದ್ಯಭಾಗವನ್ನು ಓದಿಕೊಂಡು, ಕೊಟ್ಟಿರುವ ಪ್ರಶ್ನೆಗಳಿಗೆ ಉತ್ತರಿಸಿರಿ.

5x1=5M

- VII. ಈ ಕೆಳಗೆ ಕೊಟ್ಟಿರುವ ಸ್ಥಿತಿಗಳಲ್ಲಿ ಸೂಕ್ತವಾದ ಪದವನ್ನು ಆರಿಸಿ ಬರೆಯಿರಿ.
1. ಯುಕ್ತೇ ಫ್ಯೂಮೇಲೋ ದಪ್ಪದಷ್ಟೆ ಗುಳೆಗಳು ಎದ್ದು \_\_\_\_\_ ಪ್ರಾರಂಭವಾಯಿತು.
- (i) ನೋವು (ii) ತುರಿಕೆ (iii) ಸಂತೋಷ (iv) ಆಸಕ್ತಿ

5. ಮೂಡಣಕೆ ಮುಟ್ಟಿಕೊಳ್ಳುವ ರಿಪಾಕರ  
ಮುಗುಳ್ಗೆಗೆ ಬಿಡುವ ಕುಸುಮಾಕರ  
ಆಮೋದ ಆರಸುಕಿರುವ ಮಧುಕರ  
ನಗೆ ಚಲ್ಲುತ್ತಿರುವ ಪುಸ್ತುಗಳ ಕೇಸರ. ( ಈ ಪದ್ಧತಿಯವ ಪ್ರಾಸಪದಗಳನ್ನು ಗುರುತಿಸಿ ಬರೆಯಿರಿ)
4. ಆಸೆಯು ರಾಣಿಗಲ್ಲದ ಮತ್ತೊಬ್ಬ? ( ಈ ವಾಕ್ಯವನ್ನು ಲಿಂಗ ಬದಲಿಸಿ ಬರೆಯಿರಿ)

3. ಪ್ರಾಣಿಗಳು ಈ ಲಿನದ ಸಭೆಗೆ ಸಿದ್ಧವಾಗಿ ಬಂದಿದ್ದವು (ಈ ವಾಕ್ಯವನ್ನು ಪಚನ ಬದಲಿಸಿ ಬರೆಯಿರಿ)
2. 'ಅಲ್' ಈ ಪದವನ್ನು ಸ್ವರ ಮತ್ತು ವ್ಯಂಜನದೊಂದಿಗೆ ಬಿಡಿಸಿ ಬರೆಯಿರಿ.

5x1=5M

- VI. ಈ ಕೆಳಗೆ ಕೊಟ್ಟಿರುವ ಪದಗಳಿಗೆ ಸೂಚಿಸಿದಂತೆ ಉತ್ತರ ಬರೆಯಿರಿ .
1. ಕಣ್ಣನ್ನು ತೆರೆದು ( ಈ ನುಡಿಗಳನ್ನು ಸ್ವಂತ ವಾಕ್ಯದಲ್ಲಿ ಬಳಸಿ ಬರೆಯಿರಿ)

10. ಸಾಹಿತ್ಯ ಕನ್ನಡವನ್ನು ಸೂಗಿಸಾಗಿ ಬರೆಯುತ್ತಾಳೆ. ಈ ವಾಕ್ಯದಲ್ಲಿ ಗೆರೆ ಎಳೆದ ಪದ \_\_\_\_\_ ಆಗಿದೆ.
- (i) ಲೋಪ (ii) ಆಗಮ (iii) ಆದೇಶ (iv) ನಾಮಪದ
9. 'ಸವಿಗನ್ನಡ' ಈ ಪದವು \_\_\_\_\_ ಸಂಘಕ್ಕೆ ಉಪಾಹರಣೆಯಾಗಿದೆ.
- (i) ಪೂರ್ವ (ii) ಪಶ್ಚಿಮ (iii) ಉತ್ತರ (iv) ದಕ್ಷಿಣ
8. 'ಬಂಜೆ+ಅನ್ನು' ಇದರಲ್ಲಿ ಬಂಜೆ ಎಂಬ ಪದವು \_\_\_\_\_ ಪದ ಆಗಿದೆ.

---



---



---



---



---



---



---

ಪ್ರಾರಂಭಿಸಿದರು.

iv) ಭೂಗರ್ಭತಾಪದಲ್ಲಿ ಪದವಿಯನ್ನು ಪಡೆದು, ಬೆಂಗಳೂರು ವಿಶ್ವವಿದ್ಯಾಲಯದಲ್ಲಿ ಅಧ್ಯಾಪಕರಾಗಿ ಸೇವೆಯನ್ನು

ರಚಿಸಲಾರೆ.

!!! ಇವರು ಮನಸು ಗಾಂಧೀಜಿಯವರು, ನೆನಪಿನಲ್ಲಿ ಇಟ್ಟುಕೊಳ್ಳುವ, ಸುಮಾರು ೧೯೫೦ ರಲ್ಲಿ ಕೆಲಸ ಮಾಡಿದ ಕೆಲಸಗಳನ್ನು

ತಂದ ಷೇಕ್ ಹೈದರ್, ತಾಯಿ ಹಮೀದಾ ಬೇಗಂ ಎಂಬವರ ಮಗನಾಗಿ ಜನಿಸಿದರು.

!!! ಕೆ. ಎಸ್. ನಿಶಾತ್ ಅಹಮದ್ ರವರು ೫//೨/೧೯೩೬ ರಲ್ಲಿ ಬೆಂಗಳೂರು ಗ್ರಾಮಾಂತರ ಜಿಲ್ಲೆಯ ದೇವನಹಳ್ಳಿಯಲ್ಲಿ

ಗೌರವಿಸಲಾಗಿದೆ.

i) ಇವರಿಗೆ ಪಂಪ ಪ್ರಶಸ್ತಿ, ಲಾಹೋರ್ ಪ್ರಶಸ್ತಿ, ಕೇಂದ್ರ ಮತ್ತು ರಾಜ್ಯ ಸಾಹಿತ್ಯ ಅಕಾಡೆಮಿ ಪ್ರಶಸ್ತಿಗಳನ್ನು ನೀಡಿ

**IX. ಈ ಕೆಳಗೆ ಕೊಟ್ಟಿರುವ ವಾಕ್ಯಗಳನ್ನು ಓದಿಕೊಂಡು, ಘಟನಾನುಸಾರ ಕ್ರಮವಾಗಿ ಪುನಃ ಬರೆಯಿರಿ: 1x4=4M**

---



---



---



---



---



---



---



---



---



---

ಉ:

1. ಮಕ್ಕಳು ನರಿಯಲ್ಲಿ ಏಕೆ ಸ್ನಾನ ಮಾಡಿದರು? ಸ್ನಾನದ ಬಳಿಕ ಮಕ್ಕಳ ಸ್ಥಿತಿ ಏನಾಗಿತ್ತು?

XII. ಈ ಕೆಳಗೆ ಕೊಟ್ಟಿರುವ ಪ್ರಶ್ನೆಗಳಿಗೆ 4-5 ವಾಕ್ಯಗಳಲ್ಲಿ ಉತ್ತರಿಸಿ.

2x3=6M

ಉ:

4. ಡಾಕ್ಟರ್ ತೇಜೋಯ್ಯನು ಮಾರ್ಲಿನ್ ಮಲ್ಟಿಪಲ್ ಸ್ಕ್ವಿಡ್ಸ್‌ನು ಯಾವುದನ್ನು ಆವಿಷ್ಕರಿಸಿದರು? ಅವಿಷ್ಕರಿಸಿದ ಉದ್ದೇಶವೇನು?

ಉ:

3. ರೆಹಮಾನ್ ಜಲವೇಷ್ಣೆಗೆ ಏನು ಹೆಸರು?

ಉ:

2. ಆಕ್ಸಿಜನ್‌ನ ಅಣುವು ಏನು ಅಂಕಿತ ಯಾವುದು? ಅಣುವಿನಲ್ಲಿ ಸ್ಥಿತಿಬಿಂದುಗಳು ಏನು ಹೆಸರು?

ಉ:

1. ಡಾಕ್ಟರ್ ಹುಸೇನ್ ಎಂದರೇನು ?

XI. ಈ ಕೆಳಗೆ ಕೊಟ್ಟಿರುವ ಪ್ರಶ್ನೆಗಳಿಗೆ 2-3 ವಾಕ್ಯಗಳಲ್ಲಿ ಉತ್ತರಿಸಿ.

4x2=8M

(ಪಠ್ಯಗಳ ಆಧಾರದ ಮೇಲೆ) - ( 28 ಅಂಕಗಳು)



उत्तर

2. पर्वतारोहण के दौरान सबसे बड़ी चुनौती क्या हो सकती है ?

(क) भोजन की कमी (ख) ऑक्सीजन की कमी और बदलता मौसम (ग) नींद की कमी (घ) रास्ता भूल जाना

उत्तर

1. पर्वतारोहण में किन दो मुख्य गुणों की आवश्यकता होती है ?

(क) दौड़ और खोल (ख) शारीरिक शक्ति और मानसिक धैर्य (ग) धन और साधन (घ) पढ़ाई और परीक्षा

सकता है।

1. पर्वतारोहण एक रोमांचक लेकिन चुनौतीपूर्ण कार्य है। यह केवल शारीरिक शक्ति ही नहीं, बल्कि मानसिक दृढ़ता की भी माँग करता है। पर्वत पर चढ़ते समय मौसम तेजी से बदल सकता है और ऑक्सीजन की कमी का सामना भी करना पड़ता है। कई पर्वतारोहियों को कठिनाइयों के बावजूद लक्ष्य तक पहुँचने का साहस रखते हैं। वे दल में एकता बनाए रखते हुए एक-दूसरे की सहायता करते हैं। प्रसिद्ध पर्वतारोही तेनजिंग नोर्गे और एडमंड हिलेरी ने 1953 में पहली बार माउंट एवरेस्ट पर चढ़ाई कर इतिहास रचा। यह सफलता सिर्फ उनके साहस का ही नहीं, बल्कि उनकी तैयारी, आत्मविश्वास और धैर्य का भी परिणाम थी। पर्वतारोहण हमें यह सिखाता है कि कठिन परिस्थितियों में भी अगर हम प्रयास करते रहें, तो असंभव को भी संभव बनाया जा सकता है।

प्रश्न 1. निम्नलिखित गद्यांशों को पढ़कर नीचे लिखे प्रश्नों के सही उत्तर विकल्पों में से चुनकर लिखिए। 5×2= 10

खंड 'क' - वस्तिनिष्ठ भाग- (40 अंक)

- सामान्य निर्देशः
- इस प्रश्न पर 50% वस्तिनिष्ठ तथा 50% विवरणात्मक प्रश्न हैं-
  - प्रश्न पर सूक्त XII प्रश्न है, सभी प्रश्नों के उत्तर देना अनिवार्य है-
  - प्रश्नों में दिए गए शब्द सीमा का विशेष ध्यान दें-

Class/Sec: V/\_\_\_\_\_

Subject: Hindi ( II Language )

Student Name: \_\_\_\_\_

Invigilator's sign: \_\_\_\_\_

Date: \_\_\_\_\_

Roll No: \_\_\_\_\_

Duration: 3 Hrs.

Max.Marks: 80

Set - A

Jindal Vidya Mandir, JSW Hill Side Township  
Term - I Examination - (2025-26)



4. "जो बोले वही करेगा।" - जो' सर्वनाम का प्रकार क्या है ?

उत्तर-

(i) गुणवाचक (ii) सर्वनामिक विशेषण (iii) परिमाणवाचक विशेषण (iv) संख्यावाचक विशेषण

3. 'यह गुहारा बस्ता है' वाक्य कौन-से विशेषण का उदाहरण है ?

उत्तर-

(i) जालिवाचक (ii) भाववाचक (iii) व्यक्तिवाचक (iv) समुहवाचक

2. 'यह की छाया ठंडी होती है।' - वाक्य में 'छाया' किस प्रकार की संज्ञा है ?

उत्तर-

(i) परीक्षा देना (ii) कहानी पढ़ना (iii) विचारों की अभिव्यक्ति (iv) प्रतिपत्ति ज्ञान

1. भाषा का प्रमुख उद्देश्य क्या होता है ?

प्रश्न II. निम्नलिखित वस्तिनिष्ठ प्रश्नों के उत्तर निर्देशानुसार चूनाकर लिखिए-

1×16=16

उत्तर

(क) मोबाइल की कीमत पर (ख) बच्चों की तकनीकी जानकारी पर  
(ग) बच्चों के मानसिक विकास पर (घ) छुट्टियों की कमी पर

5 लेखक किस बात पर चिंतित है ?

उत्तर

(क) बच्चों को मोबाइल देना चाहिए (ख) तकनीक से दूर रखना चाहिए  
(ग) संतुलन बनाए रखना चाहिए (घ) जूटूना चाहिए

4 माता-पिता को क्या करना चाहिए ?

उत्तर

(क) खेल पर (ख) स्कूल पर (ग) नोट पर (घ) सभी पर

3 किस पर प्रभाव सबसे अधिक पड़ता है ?

(ख) युनैती में मंत्री ने क्या कहा ?  
 (i) सौ भूट बेचकर जी ला दी (ii) सौ भूट लेकर जाओ और सौ बोरे जी लाओ बिना भूटों को नुकसान पहुँचाए  
 (iii) सौ रस्सियाँ बना कर दिखाओ (iv) सौ भूट बिनामूल्य दे दी

उत्तर-  
 (i) चालाक (ii) भोला और सरल (iii) मकर (iv) हेरिफार लेकिन टीठ  
 (क) लोनपो गार का बेटा कैसा था ?  
 मैं उसने कहा कि अब अमाली युनैती है—राख की रस्सी लाना  
 उनकी उन झण्डोंकर बेचने की सलाह दी। फिर भूटों के सींग बेचकर जी खरीदा। मंत्री चकित रह गया। अब  
 भूटों को मारे या बेचें। मंत्री के बेटे के पास पैसे नहीं थे। तब एक समझदार लड़की मिली जिसने भूटों से पहले  
 ने उसे एक युनैती दी: यह दिखाओ कि तुम सौ भूट लेकर आए और सौ बोरे जी से शहर लौट आए—बिना  
 (1) तिब्बत का बत्तीसवाँ राजा लोनपो गार बहूत चालाक मंत्री था, लेकिन उसका बेटा भोला और सरल था। मंत्री  
 प्रश्न III - निम्नलिखित पठित गद्यांश को पढ़कर वस्तुनिष्ठ प्रश्नों के उत्तर विकल्पों में से चुनकर लिखिए। 5+2= 7

उत्तर-  
 (i) स्त्रीलिंग (ii) पुल्लिंग (iii) पुल्लिंग (iv) पुल्लिंग  
 16. 'सेब' शब्द का लिंग भूट है ?

उत्तर-  
 (i) श्रोत्रांश (ii) श्रोत्रावन (iii) श्रोत्रावन (iv) श्रोत्रागण  
 15. 'श्रोत्र' शब्द का बहुवचन शब्द होगा--

उत्तर-  
 (i) अनिच्छा (ii) उचित (iii) ऐच्छिक (iv) अर्जनीर्ण  
 14. "अनिर्वाप" शब्द का विलोम शब्द होगा ?

उत्तर-  
 (i) उपजा (ii) जन्मी (iii) भिनी (iv) बहने  
 13. "सहोदर" शब्द का उचित पर्यायवाची शब्द नहीं है

उत्तर-  
 (i) अकर्मक क्रिया (ii) सहोदर क्रिया (iii) सकर्मक क्रिया (iv) क्रियाविशेषण

उत्तर-

- (i) बच्चा (ii) माँ (iii) राम (iv) तपस्वी

(ख) यश कौन करता है ?

उत्तर-

- (i) राम ने (ii) बच्चे ने (iii) माँ ने (iv) भाई ने

(क) ताड़का को किसने मारा था ?

2. जंगल में जा किसी ताड़का को मारूँगा राम समान । तपस्वी यश करते, असुरों को मैं मार भगाऊँगा ।

उत्तर-

- (i) सून नहीं पाता था (ii) बोल नहीं पाता था (iii) देख नहीं पाता था (iv) इनमें से कोई नहीं

(ङ) कविता में बच्चा अन्य बच्चों की तरह था पर वह क्या नहीं कर सकता था ?

उत्तर-

- (i) उनीखा (ii) नीला (iii) होशियार (iv) सीधा

(घ) कविता में अर्जुन शब्द का अर्थ है-

उत्तर

- (i) सीम (ii) रतन (iii) राजा (iv) राजल

(ग) बच्चे का क्या नाम था ?

उत्तर-

- (i) कुँवर नारायण (ii) धारिका प्रसाद महेश्वर (iii) सिमानन्दन पल (iv) कन्हैया लाल मिश्र

(ख) इस पद्यांश के कवि का नाम क्या है ?

उत्तर-

- (i) गुरु और बेला (ii) मैं सबसे छोटी हूँ (iii) अक्षर (iv) एक माँ की बेबसी

(क) यह पद्यांश किस कविता से लिया गया है ?

देखने में हम बच्चों की तरह था  
वह भी एक बच्चा लेकिन हम  
बच्चों के लिए अर्जुन था

प्रश्न VII. निम्नलिखित प्रश्नों के उत्तर 40 से 50 शब्दों लिखिए-  
3×3= 9

(क) पृथ्वी पर कारों को किस- किस तरह की दिक्कतों का सामना करना पड़ता होगा ?

-----  
-----  
-----  
-----  
-----  
-----

उत्तर-

(ग) इला नै पुरों से कौन-कौन से काम करने सीखें ?

-----  
-----  
-----  
-----  
-----  
-----

उत्तर-

(ख) पहले की और वर्ष 2155 की पुस्तकों में क्या अंतर था ?

-----  
-----  
-----  
-----  
-----  
-----

उत्तर-

(क) सभी संगतराशों में केशव की धूम क्यों मच गई थी ?



\*\*\*\*\*

-----  
-----  
-----  
-----  
-----