

09/03/25



**Jindal Vidya Mandir, JSW, Hill Side Township**  
**Term-II Examination-2025-26**

**Class: VI**

**Set-A**

**Max.Marks:80**

**Subject: English**

**Duration: 3Hrs**

**General Instructions:**

1. This question paper has 4 sections A, B, C & D, 6 main questions and a total of 6 pages.
2. Answer all the questions.
3. Mention the correct Sl. No. of the questions.
4. Write neatly and legibly in the answer sheet.

**Section A (20 marks) READING**

**I.A. Read the given passage carefully and answer the questions. (10X1M=10M)**

Most people find their lives purposeless, wasted and worthless. That is why with an ordinary illness or some slightly unfavourable situation, the individual prays for an end to his life. In the opinion of one psychologist, every person thinks of committing suicide more than once in his life. It is a different thing that he does not develop enough courage to end his life. Even then some impulsive individuals commit suicide because of petty reasons like failing in examination, losing a job, quarrels in the family or defeat in a court of law. The number of people committing suicide because of such reasons is on the increase. Why do people commit suicide ? Psychologists give various answers to this question. Some people say that a man gets such a disappointing atmosphere everywhere around him that he does not find any solution except this.

According to some psychiatrists, people with violent tendencies who are unable to express them, destroy themselves by these tendencies. Some persons find themselves so much lonely and helpless that they find no benefit in living and they think, 'Why not to commit suicide ? After all, what is there in life ?' Some persons think of committing suicide during emotional excitement and prepare a plan for suicide during such a condition. The main reason for suicide is said to be depression due to physical illness or failure in examination, love or competition. A tendency of revenge is also said to be behind suicides. According to this opinion some people commit suicide because of a burden of feeling guilty, since they are unable to find a solution to get rid of guilty feelings. Many others commit suicide because they are fed up of old age, rejection by spouse, unemployment, court cases, etc. The reason for suicide is the experience of worthlessness of this life.

It is also true that each person-not just once but many times- thinks of his life as worthless and many times a burden. To free himself from this burden, the person thinks of self destruction. The question arises, 'Is life so worthless that on account of disappointment in small matters, one should think of ending it ?' If a self analysis is made seriously, it will be

found that every person finds many times that his life is worthless and burdensome. Whatever the reason, the worthlessness of life is felt with such intensity that by ending it, no difference is felt. Life is like a river, which keeps on flowing from its source to its merger into the sea. But oneself can become healthy, wealthy and wise if they follow proper routine in their life, by meditating, practicing yoga, and bringing up on a transformational path.

1. With what is life compared ? (1M)
2. When do people with violent tendency commit suicide? (1M)
3. When do some impulsive individuals commit suicide? (1M)
4. How do most people find their lives ? (1M)
5. What is the main reason responsible for depression ? (1M)
6. What is the opinion of one psychologist about committing suicide ? (2M)
7. Find out a synonyms from the passase: (1M)  
(a) Guilty (b)Unfavourable
8. suggest any TWO ways which can lead a healthy life? (2M)

**I.B. Read the poem given below and answer the questions that follow: (1X5M=5M)**

The wind moves softly through the trees,  
A silent song it seems to play.  
It carries secrets from the sky,  
And gently drifts them far away.

It brushes past the fields of green,  
Then dances on the river wide.  
It cools the earth with tender touch,  
And hums a tune both calm and wide.

At dusk it brings the stars to life,  
At dawn it lifts the morning sun.  
The wind, unseen, forever moves—  
A friend to all, to everyone.

1. How does the poet describe the wind's movement through the trees? (1M)
2. What does the wind "carry" from the sky? (1M)
3. Where does the wind go after passing the fields of green? (1M)
4. Find two phrases from the poem that show the wind is gentle. (1M)
5. Why does the poet call the wind "a friend to all"? Explain in your own words. (1M)

**I.C. Read the poem given below and answer the questions that follow: (1X5M=5M)**

The morning walks across the sky,  
Painting clouds in shades of gold.  
The sleepy earth begins to wake,  
As gentle winds turn soft and bold.

The rivers shine like silver threads,  
Flowing fast through fields of green.  
Birds begin their cheerful songs,  
Filling air with tones serene.

The sun climbs high to greet the world,  
Warm and bright in every way.  
Nature blooms with quiet joy,  
Welcome to the brand-new day.

1. What does the morning do to the sky in the first stanza? (1M)
2. How are the rivers described in the poem? (1M)
3. What fills the air when the birds begin their songs ? (1M)
4. What does the sun do when it climbs high? (1M)
5. Why does nature “welcome the brand-new day”? Explain in your own words. (1M)

### **Section-B (15 marks) WRITING**

**II. Answer any three questions from the following:- (3x5M=15M)**

**II.A.** Your school is organizing an Annual Sports Day. As the class monitor, you have to prepare an invitation card inviting parents to attend the event.

Write an invitation card including:

- Name of the event
- Date and time
- Venue
- A short welcoming message
- Your name (as the sender)

**II.B.** Draft a paragraph writing in about **60-80 words** on My Bharat in 2050 .

**II.C.** You are on a school trip to **Jaipur** with your classmates. Write a postcard to your **mother** describing the places you visited, what you enjoyed the most, and how you are feeling. (Write your message in **50 words**.)

**Include:**

- Date and place
- Greeting
- Short message
- Closing and name & Address on the postcard

**III.D** Write an article for your school magazine on the topic:

“The Importance of Healthy Eating for Students.” In your article, include:

- Why healthy food is important
- How it helps in studies and daily life
- Examples of healthy and unhealthy foods
- A short conclusion with your message **(Write in about 80–100 words.)**

**Section C (20 marks) – GRAMMAR**

**III. Do as directed.**

- 1. Fill in the blanks with words formed by adding the suffix- wise or ward/wards to the words and the brackets. (1M)**
  - a) the paper plane first flu \_\_\_\_ (up) and then Swift down.
  - b) the tailor cut the cloth \_\_\_\_\_ (length).
- 2. Fill in the blanks using the correct reflexive or emphasizing pronouns. (1M)**
  - a) I can take my decisions \_\_\_\_ you take yours.
  - b) The children had really tired \_\_\_\_out at the picnic.
- 3. Rewrite the sentences as exclamatory sentences using the word in brackets. (1M)**
  - a) It is very cold. (How)
  - b) The kittens look so happy. (How).
- 4. Join the sentences by using the subordinate conjunctions given in the brackets. (1M)**
  - a) Meet me. You leave. (Before)
  - b) I did not like the food. It was too oily. (Because)
- 5. Circle the prepositions and underline the objects of the prepositions. (2M)**
  - a) The fair will start from Saturday.
  - b) The organizers have asked for a space beside the lake.
- 6. Underline the noun phrases and these sentences. (2M)**
  - a) Tourists from around the world visit India.
  - b) We used the rolling escalators.
- 7. write A for sentences and active voice and P for those and passive voice. (2M)**
  - a) I often visit the dentist.
  - b) My mother teaches dance in school.

**8. Punctuate the sentences using full stops, exclamation marks or the correct places. (2M)**

- a) Drat I made a careless mistake in addition.
- b) What an extraordinary air show it was.

**9. Circle the conjunctions and underline the clause in these sentences. (2M)**

- a) My mother called when I was studying.
- b) My mother said I could go out to play after I had practiced the sitar.

**10. Identify and write C for compound sentences and CX for complex sentences. (2M)**

- a) The children picked seashells and made sandcastles.
- b) I wore a heavy jacket because I did not want to catch a chill.

**11. Tick the correct form of the verbs. (2M)**

- a) Several (has/have ) been missing in the floods.
- b) Neither the umpire nor the players (is/are) ready.

**12. Rewrite the sentences in indirect speech. (2M)**

- a) The trainer said to me, "you are very intelligent".
- b) The chef said to the guest, "I will make you a delicious pizza".

**Section-D (25 marks) - LITERATURE**

**IV. Read the extracts given below and answer the questions that follow.**

- 1. "I  
can't  
even  
catch  
my  
breath"** **(3X1M=3M)**

- (i) Is the speaker alone? Why do you say so?
- (ii) what does the pattern in the lines tell us?
- (iii) Who is the poet of this poem?

**V. Answer (any 5) of the following questions in about 20-30 words. (5X2M=10M)**

1. How did Surya's attitude differ from Prabhat?
2. What do you know about yoga?
3. What is the ek Bharat, shreshth Bharat program all about?
4. What kind of kite would you like to fly?
5. How did new independence help Ila?
6. What message does pranavs story give us?

**VI. Answer the following questions in about 30-40 words. (4X3M=12M)**

1. How can Ila's story help others to overcome challenges in their lives?
2. Explain how the title of the story, 'change of heart', is suitable.
3. Would you like to participate in this kind of festival? Why?
4. What is special about the fact the people live here in unison?





**Jindal Vidya Mandir, JSW, Hill Side Township**  
**Term-II Examination-2025-26**

**Class: VI**

**Set-B**

**Max.Marks:80**

**Subject: English**

**Duration: 3Hrs**

**General Instructions:**

- 1. This question paper has 4 sections A, B, C & D, 6 main questions and a total of 5 pages.**
- 2. Answer all the questions.**
- 3. Mention the correct Sl. No. of the questions.**
- 4. Write neatly and legibly in the answer sheet.**

**Section A (20 marks) READING**

**I.A. Read the given passage carefully and answer the questions.**

**(10X1M=10M)**

Vitamin C is an essential ingredient for human beings. It is required for the synthesis of intercellular cement "collagen", which is responsible for keeping various cells of the human body together. As an oxidant, it acts like a cop in the body, apprehending the rowdy molecules called free radicals that are naturally formed during various chemical reactions in the body and have the potential to damage. Vitamin C is also required for dentine formation in the teeth and it also aids in the absorption of iron from the body. Rats have the capacity to synthesise vitamin C with their body whereas human beings are required to provide it through diet. The richest source of vitamin C is amla . The other sources are lemon, orange, papaya, pineapple, cabbage, cauliflower, green peas and tomato. While cooking above 70 degree centigrade vitamin C gets destroyed.

Scurvy is a disease caused by the deficiency of this vitamin. Due to its deficiency, gums are swollen or bleeding, bones are weak and readily fractured, delayed wound healing and poor teeth formation in children result. A balanced diet with vitamin C is the requirement to avoid scurvy. For pregnant or lactating mothers vitamin C is the remedy. Each adult is required to consume 75 mg per day; an infant 30 mg per day; a pregnant woman 100 mg per day; a lactating mother 150 mg per day. Doctors use vitamin C for the treatment of infections, healing of ulcers, burns and trauma, quick healing of fractures, etc. However, taking vitamin C tablets on a long-term basis is not without side-effects, like the reformation of oxalates, kidney stones, diarrhoea, abnormal heart rhythm, damage to the outer layer of teeth and rebound scurvy if tablets are stopped abruptly.

Amla with honey is supertonic, particularly when treated with solar rays since honey is an ingredient that provides instant energy without consuming insulin for its absorption in the body. A newly born child in India is first provided with honey to purify his/her internal

system since it acts as an antibiotic and also without side-effects. Most of us are not aware that during World War II a lot of food material was sent to the British army fighting for and on behalf of the British Government in different parts of the world. In this food material amla was one of the main ingredients to protect fighting forces from scurvy disease since during day-time they had to live in bunkers and during night-time they had to fight. Therefore, they were generally deprived of sunlight which is a major source of vitamins for the human body. Therefore, vitamin C in the form of amla is the best for human health.

1. Why is vitamin C important for us ? (1M)
2. What are the sources of vitamin C ? (1M)
3. What is the cause of the disease scurvy ? (1M)
4. How can the disease scurvy be prevented ? (1M)
5. What are the side effects of taking vitamin C tablets on a long term basis ? (1M)
6. Why was Amla one of the main food ingredients for army people during World War II ? (2M)
7. Find out a synonyms from the passase: (1M)  
(a) Cop (b) Scurvy
8. Why amla is supertonic? (2M)

**I.B. Read the poem given below and answer the questions that follow: (1X5M=5M)**

A single cloud drifts through the sky,  
 Slowly changing shape and form.  
 It wanders where the winds may guide,  
 Across the sunlight is soft and warm.

Though all alone it seems to float,  
 It paints the heavens with its shade.  
 A silent traveler of the air,  
 On endless journeys gently made.

1. Where does the cloud travel and what guides its movement? (1M)
2. How does the poet describe the cloud's appearance changing? (1M)
3. What effect does the cloud have on the sky? (1M)
4. Find a phrase that shows the cloud moves calmly. (1M)
5. Why do you think the poet calls the cloud a "silent traveler"? (1M)

**I.C. Read the poem given below and answer the questions that follow: (1X5M=5M)**

Deep in the woods where sunlight fades,  
 The forest wakes with a rustling sound.  
 Tall trees whisper to the wind,  
 And little creatures leap around.

A stream sings softly through the leaves,  
Its silver path is both cool and bright.  
The forest holds a world of calm,  
A peaceful home in the morning light.

1. What sounds can be heard when the forest wakes? (1M)
2. How is the stream described in the poem? (1M)
3. Which line shows that the forest is active and full of life? (1M)
4. What mood does the poem create, and how? (1M)
5. Why might the poet describe the forest as “a peaceful home”? (1M)

### Section-B (15 marks) WRITING

#### II. Answer any THREE questions from the following:- (3x5M=15M)

II.A. Your school is hosting a **Tree Plantation Drive** to spread awareness about protecting the environment. As a member of the Eco Club, you are asked to prepare an **invitation card** inviting students and teachers to participate in the event.

Include the following:

- Name of the event
- Date and time
- Venue
- A short message inviting everyone
- Your name and class

II.B. Draft a paragraph writing in about **60-80 words** on A day as a Teacher .

II.C. You are on a school trip to **Goa** with your classmates. Write a postcard to your **mother** describing the places you visited, what you enjoyed the most, and how you are feeling. (Write your message in **50 words**.)

Include:

- Date and place
- Greeting
- Short message
- Closing and name & Address on the postcard

III.D Write an article for your school magazine on the topic:

“How to Keep Your Classroom Clean.” In your article, include:

- Why cleanliness is important
- Ways students can help keep the classroom neat
- Benefits of a clean learning environment
- A short concluding message (Write in about **80–100 words**.)

**Section C (20 marks) – GRAMMAR**

**III. Do as directed.**

- 1. Fill in the blanks with words formed by adding the suffix- wise or ward/wards to the words and the brackets. (1M)**
  - a) Always look \_\_\_\_ (for) while driving in the mountains to avoid sickness.
  - b) You have to wind up the toy car \_\_\_\_ (clock).
- 2. Fill in the blanks using the correct reflexive or emphasizing pronouns. (1M)**
  - a) His father had made the model aeroplane \_\_\_\_.
  - b) The teachers – did not know about the holiday.
- 3. Rewrite the sentences as exclamatory sentences using the word in brackets. (1M)**
  - a) The sun is so bright. ( How).
  - b) 4. You have a loving pet. ( What)
- 4. Join the sentences by using the subordinate conjunctions given in the brackets. (1M)**
  - a) I prepared all day for the exam. I was tired by evening. ( So)
  - b) They practiced and tried hard. They lost the match. ( Yet)
- 5. Circle the prepositions and underline the objects of the prepositions. (2M)**
  - a) There will be stalls available for selling food stuff.
  - b) Booking for the stalls will begin on 19th July.
- 6. Underline the noun phrases and these sentences. (2M)**
  - a) The crossword puzzles were quite challenging.
  - b) At the fair we saw fast moving merry-go-rounds.
- 7. write A for sentences and active voice and P for those and passive voice. (2M)**
  - a) A lot of money was donated for flood relief.
  - b) Many malls have been built in Ranchi.
- 8. Punctuate the sentences using full stops, exclamation marks or the correct places. (2M)**
  - a) What are you going to do today
  - b) Ugh an unpleasant smell
- 9. circle the conjunctions and underline the clause in these sentences. (2M)**
  - a) The blacksmiths heated the iron bar and forged a sword.
  - b) We may not have met for years, yet we are great friends.
- 10. Identify and write C for compound sentences and CX for complex sentences. (2M)**
  - a) Let me know whenever you are ready for the drive.
  - b) The river will soon get flooded, so the villagers have shifted from its bank.
- 11. Tick the correct form of the verbs. (2M)**
  - a) Not only my father but also my uncles (participate / participates) in the marathon.
  - b) Few ( manage / manages) to learn these classical dance steps.
- 12. Rewrite the sentences in indirect speech. (2M)**
  - a) You said to him, "I am waiting for the bus".
  - b) The students said, "we want to know our results".

**Section-D (25 marks) - LITERATURE**

**IV. Read the extracts given below and answer the questions that follow.**

1. "I go to... (3X1M=3M)

I play with...

The place I go to for playing

I like playing..

Sometimes I come back..."

(i) when do you go to play after school?

(ii) what do you play with?

(iii) Where do you go to play in the evening?

**V. Answer (any 5) of the following questions in about 20-30 words. (5X2M=10M)**

1. Do you think Prabhat's approach to games was healthy? Why or why not?

2. What is 21st June known for? What do we do on this day?

3. Why does Akanksha's family make Apin?

4. In dhokra why does wax come out of the small openings?

5. Why was the first state exhibition an important event in Ila's life?

6. What is special about the fact the people live here in unison?

**VI. Answer the following questions in about 30-40 words. (4X3M=12M)**

1. What does the sentence 'art has the power to rise above physical boundaries and touch the soul' tell us about the power of art?

2. What does the launch of the WHO m yoga after us about the importance of yoga?

3. Describe the kite Colors, shape, design of tail and any other detail.

4. Explain any three different asanas of yoga?





Jindal Vidya Mandir, JSW Hill Side Township  
Term- II Examination 2025-26

Subject: Hindi (II Language)

Maximum Marks: 80

Class: VI

Set- A

Duration: 3 Hrs

समान्य निर्देश: प्रश्न-पत्र के 2 खंड हैं - अ, ब।

सारे खंडों के प्रश्नों के उत्तर देना अनिवार्य है।

खंड 'अ'

प्रश्न (I) निम्नलिखित अपठित गद्यांश को ध्यानपूर्वक पढ़कर नीचे दिए गए प्रश्नों के उत्तर लिखिए-

(क) संत कबीर ने ठीक ही कहा है –“काल करे सो आज कर, आज करे सो अब,” क्योंकि समय किसी की भी प्रतीक्षा नहीं करता। जो व्यक्ति आज का काम कल के लिए टाल देता है, वह बाद में पछताता ही रह जाता है। बुद्धिमान व्यक्ति समय का मूल्य जानते हैं। वे अपने सभी कार्य समय पर करते हैं और सफलता की सीढ़ियाँ चढ़ते जाते हैं। आलसी और मूर्ख व्यक्ति कल की प्रतीक्षा करते रहते हैं, पर उनका 'कल' कभी नहीं आता। समय मुट्ठी में बंद रेत की तरह होता है, जिसे जितना पकड़ो उतना ही हाथ से फिसलता चला जाता है। समय की परवाह न करने वाले विद्यार्थी भी बाद में पछताते हैं। अतः समय का सदुपयोग करना चाहिए।

1. समय किसकी प्रतीक्षा करता है ?

3x1=3

(क) व्यक्ति की (ख) अवसर की (ग) छात्र की (घ) किसी की भी नहीं

2. कल की प्रतीक्षा कौन करते हैं ?

(क) आलसी (ख) मूर्ख (ग) उपरोक्त दोनों (घ) इनमें से कोई नहीं

3. 'काल करे सो आज कर, आज करे सो अब' यह पंक्ति किसने कही थी ?

(क) तुलसीदास जी (ख) रहीम जी (ग) गुरु नानक जी (घ) कबीर दास जी

( नीचे दिए गए प्रश्नों के उत्तर एक या दो वाक्य में दीजिए )

2x2=4

4. बुद्धिमान व्यक्ति समय का मूल्य क्यों जानते हैं ?

5. जो लोग समय का सदुपयोग नहीं करते, वे बाद में पछताते क्यों हैं ?

(ख) देवी सरस्वती को आदिकाल से ही विद्या, बुद्धि और विवेक का भंडार माना जाता है। सरस्वती की पूजा विद्यार्थियों का त्योहार है, जिसे वसंत पंचमी के दिन मनाया जाता है। इस दिन विद्या की देवी सरस्वती के सामने हाथ जोड़कर सद्गुण और उच्च शिक्षा का वरदान माँगते हैं। इनकी पूजा से हमें ज्ञान का प्रकाश मिलता है। इनकी कृपा से मनुष्य गुणवान, चरित्रवान एवं प्रतिभावान बनाता है। माँ सरस्वती के वस्त्र श्वेत हैं, उनकी सवारी हंस है और वह सदैव कमल के फूल पर आसीन रहती हैं।

3x1=3

P.T.O

1. सरस्वती को किसका भंडार माना जाता है ?

(क) विद्या (ख) बुद्धि (ग) धन (घ) विद्या, बुद्धि और विवेक

2. विद्या की देवी किसे माना जाता है ?

(क) दुर्गा (ख) लक्ष्मी (ग) सरस्वती (घ) पार्वती

3. सरस्वती पूजा का त्यौहार किस दिन मनाया जाता है ?

(क) गणेश चतुर्थी (ख) दुर्गा अष्टमी (ग) बसंत पंचमी (घ) नाग पंचमी

( नीचे दिए गए प्रश्नों के उत्तर एक या दो वाक्य में दीजिए )

2x2=4

4. माँ सरस्वती का स्वरूप कैसा बताया गया है ?

5. माँ सरस्वती की पूजा करने से मनुष्य में कौन-कौन से गुण विकसित होते हैं ?

प्रश्न (II) निम्नलिखित प्रश्नों को ध्यान पूर्वक पढ़कर दिए गए विकल्पों में से सही विकल्प चुनिए- 1X16=16

1) 'खत्म' शब्द का विलोम है -

(क) कठोर (ख) शुरु (ग) अच्छा (घ) गहरा

2) 'दल' शब्द के अन्य दो अर्थ हैं -

(क) समूह और पक्ष (ख) शेर और पक्ष  
(ग) तालाब और अध्यापक (घ) समूह और सिर

3) 'माता' शब्द का पर्यायवाची है -

(क) सम्मान, गुणवान, तिरस्कार (ख) परेशान, दर्द, गड़बड़  
(ग) जननी, माँ, अम्मा (घ) आदर्श, आदर, दानव

4) 'जो गुप्त बातों का पता लगाता है' वह कहलाता है -

(क) सैनिक (ख) गुणवान (ग) गुप्तचर (घ) ईश्वर

5) 'दरवाजे पर कौन आया है ?' इस वाक्य में कौन-सा वाक्य भेद है ?

(क) विधिवाचक (ख) निषेधवाचक (ग) प्रश्नवाचक (घ) संदेह वाचक

6) कितना सुंदर दिन है ! इस वाक्य में कौन सा वाक्य भेद है ?

(क) विस्मयादि वाचक (ख) निषेधवाचक (ग) प्रश्नवाचक (घ) संदेह वाचक

7) 'अभिनव की पुस्तक मिल गई।' रेखांकित शब्द का कारक बताइए -

(क) संबंध कारक (ख) संप्रदान कारक (ग) अधिकरण कारक (घ) कर्म कारक

8) 'शशांक रंगों से चित्र बनाता है।' रेखांकित शब्द का कारक बताइए -

(क) करण कारक (ख) अपादान कारक (ग) कर्म कारक (घ) संबंध कारक

9) 'पताका फहराना' मुहावरे का अर्थ है -

(क) विजय या उत्सव मनाना (ख) बहुत परेशान करना  
(ग) गड़बड़ होना (घ) झगड़ा करना

10) 'निधन-निर्धन' शब्दों का श्रुतिसम भिन्नार्थक होगा -

(क) मृत्यु और गरीबी (ख) गंदा और साफ  
(ग) मिलना और मिलाप (घ) इनमें से कोई नहीं

11) 'बात और वात' शब्दों का श्रुतिसम भिन्नार्थक होगा -

(क) वार्ता और वायु (ख) बात और साफ (ग) हवा और वायु (घ) काला-सफेद

12) 'अपरिचित' शब्द में उपसर्ग है -

(क) चित (ख) अ (ग) परि (घ) अप

13) 'रोशनदान' शब्द में प्रत्यय है -

(क) दान (ख) रोशन (ग) ईला (घ) इला

14) 'सेठानी' शब्द में प्रत्यय है -

(क) नी (ख) सेठ (ग) इला (घ) आनी

15) 'मुनियों ने सपना देखा..... वह चंद्रमा पर बैठी है। रिक्त स्थान में उचित अव्यय शब्द का प्रयोग कीजिए -

(क) नकि (ख) कि (ग) परंतु (घ) इसलिए

16) 'इस वर्ष फसल अच्छी नहीं हुई..... अनाज महँगा है' रिक्त स्थान में उचित अव्यय शब्द का प्रयोग कीजिए -

(क) नकि (ख) कि (ग) परंतु (घ) इसलिए

प्रश्न (III) निम्नलिखित पठित गद्यांश को ध्यानपूर्वक पढ़कर नीचे दिए गए प्रश्नों के उत्तर लिखिए।

(क) जब रियासत देवगढ़ के दीवान सरदार सुजानसिंह बूढ़े हुए तो परमात्मा की याद आई। उन्होंने जाकर महाराज से विनय की - "दीनबंधु! दास ने श्रीमान की सेवा चालीस वर्ष तक की है। अब मेरी अवस्था भी ढल गई है, राज-काज सँभालने की शक्ति नहीं रही। कहीं भूल-चूक हो जाए तो बुढ़ापे में दाग लग जाए और सारी जिंदगी की नेकनामी मिट्टी में मिल जाए। राजा साहब अपने अनुभवशील और नीतिकुशल दीवान का बड़ा आदर करते थे। बहुत समझाया, लेकिन जब दीवान साहब ने न माना, तो विवश होकर उनकी प्रार्थना स्वीकार कर ली, पर यह शर्त रखी कि रियासत के लिए नया दीवान खोजने का कार्य उन्हें स्वयं करना पड़ेगा।

5X1=5

1) सरदार सुजानसिंह किस रियासत के दीवान थे ?

क) मेवाड़ (ख) देवगढ़ (ग) उदयपुर (घ) जोधपुर

2) सुजानसिंह महाराज से क्या प्रार्थना करने आए ?

क) रियासत में बढ़ोतरी करने की (ख) पुत्र के लिए नौकरी दिलाने की  
ग) राज-काज से मुक्ति देने की (घ) सेना बढ़ाने की

3) दीवान साहब को किस बात की चिंता थी ?

क) धन कम होने की (ख) अपनी नेकनामी पर दाग लगने की  
ग) बीमार पड़ने की (घ) विदेश जाने की

4) राजा साहब ने दीवान साहब की किस बात पर शर्त रखी ?

क) उन्हें पुरस्कार मिलेगा (ख) नया दीवान वही खोजेंगे  
ग) उन्हें और काम दिया जाएगा (घ) उनका वेतन बढ़ाया जाएगा

5) राजा साहब दीवान साहब का बड़ा आदर क्यों करते थे?

क) वे बलवान थे (ख) वे नृत्य में कुशल थे (ग) वे अनुभवशील और नीतिकुशल थे (घ) वे योद्धा थे

प्रश्न (IV) निम्नलिखित पठित पद्यांश को ध्यानपूर्वक पढ़कर नीचे दिए गए प्रश्नों के उत्तर लिखिए -

5X1=5

रण-बीच चौकड़ी भर-भरकर चेतक बन गया निराला था।  
राणा प्रताप के घोड़े से पड़ गया हवा को पाला था।  
गिरता न कभी चेतक-तन पर राणा प्रताप का कोड़ा था।  
वह दौड़ रहा अरि-मस्तक पर या आसमान पर घोड़ा था।  
जो तनिक हवा से बाग हिली लेकर सवार उड़ जाता था।

(1) राणा प्रताप का घोड़ा कौन था ?

क) बादल                      ख) चेतक                      ग) कटक                      घ) मेघा

(2) चेतक कैसा घोड़ा बताया गया है ?

क) कमजोर                      ख) आलसी                      ग) रण में तेज और निराला                      घ) बीमार

(3) चेतक किनके मस्तक पर दौड़ता हुआ प्रतीत होता था ?

क) मित्रों के                      ख) शत्रुओं के                      ग) पहाड़ों के                      घ) बच्चों के

(4) राणा प्रताप का कोड़ा चेतक पर क्यों नहीं गिरता था ?

क) चेतक बहुत धीमा था                      ख) चेतक उछलता था  
ग) चेतक बहुत तेज था                      घ) राणा के पास कोड़ा नहीं था

(5) उपर्युक्त पंक्तियों के कवि नाम बताइए-

(क) सुभद्रा कुमारी चौहान                      (ख) महादेवी वर्मा  
(ग) श्याम नारायण पांडे                      (घ) साहिर लुधियानवी

### खंड 'ब' (वस्तुपरक प्रश्न)

प्रश्न V. निम्नलिखित प्रश्नों के उत्तर 20 से 30 शब्दों में लिखिए-

2×4=8

1. चेतक को देख दुश्मन क्यों दंग रह गए ?
2. "बिहू एक कृषि आधारित त्योहार है।" कैसे ?
3. यशोदा माता ने श्रीकृष्ण को हँसते हुए गले से क्यों लगा लिया ?
4. "परीक्षा" पाठ के आधार पर बताइए कि प्रेमचंद ने इस कहानी का नाम परीक्षा ही क्यों दिया होगा ?

प्रश्न VI. निम्नलिखित प्रश्नों के उत्तर 50 से 60 शब्दों में लिखिए-

3×4=12

( कोई चार प्रश्नों के उत्तर दीजिए )

1. 'जलाते चलो' कविता से आपको क्या शिक्षा मिलती है ?
2. "मधुमक्खी व तितली के साथ वृक्ष की चिरकाल से घनिष्ठता है। वे दल-बल सहित फूल देखने आती हैं।" इस पंक्ति की व्याख्या कीजिए -
3. "नैरोबी का नेशनल पार्क चिड़ियाघर नहीं है।" नेशनल पार्क और चिड़ियाघर में क्या अंतर है ?
4. दीवान के सामने क्या समस्या थी ? उन्होंने इसका क्या समाधान खोजा ?
5. शिवरात्रि के दिन मॉरीशस के हिंदू क्या-क्या करते हैं ?
6. पेड़ों के लिए फूलों की क्या भूमिका होती है ?

प्रश्न VII. प्रधानाचार्य को पत्र लिखिए जिसमें पुस्तकालय में कुछ और हिंदी पत्रिकाएँ मँगवाने के लिए निवेदन किया गया हो। 5X1=5

या

छात्रवृत्ति के लिए अपने प्रधानाध्यापक को एक पत्र लिखिए -

प्रश्न VIII. संकेत बिंदुओं के आधार पर निम्नलिखित में से किसी एक विषय पर 80 से 100 शब्दों में अनुच्छेद लिखिए -

(क) विद्यालय का वार्षिक उत्सव

5X1=5

संकेत बिंदु : भूमिका, मुख्य अतिथि, कार्यक्रम, समापन, भाषण, धन्यवाद  
या

(ख) प्रातःकाल सैर

संकेत बिंदु : आनंद, वातावरण, निरोगी, स्फूर्ति, थकावट, बीमारियों, मुक्ति

प्रश्न IX. निम्नलिखित में से किसी एक विषय पर 80 से 100 शब्दों में लघु कथा लिखिए -

5X1=5

(क) मेरा जन्मदिन

संकेत बिंदु : मेहमान, केक, नाश्ता, गुब्बारे, मित्र, मोमबत्ती, सजावट  
या

(ख) दया का फल

संकेत बिंदु : घायल, स्कूल, पिल्ला, दर्द, करुणा, सड़क, दवाई

प्रश्न X. नीचे दिए गए चित्र का वर्णन 80 से 100 शब्दों में कीजिए -

5X1=5



\*\*\*\*\*



Jindal Vidya Mandir, JSW Hill Side Township  
Term- II Examination - 2025-26

Class: VI

Maximum Marks: 80

Subject: Hindi (II Language)

Set-B

Duration: 3 Hrs

समान्य निर्देश: प्रश्न-पत्र के 2 खंड हैं - अ, ब।

सारे खंडों के प्रश्नों के उत्तर देना अनिवार्य है।

**खंड 'अ'**

प्रश्न (I) निम्नलिखित अपठित गद्यांश को ध्यानपूर्वक पढ़कर नीचे दिए गए प्रश्नों के उत्तर लिखिए -

(क) शरीर को स्वस्थ और निरोग रखने में व्यायाम का कितना महत्व है, इस पर कुछ कहने की आवश्यकता नहीं है। आज की भाग-दौड़ भरी जिंदगी ने मनुष्य को इतना व्यस्त कर दिया है कि वह यह भी भूल गया है कि इस सारी भाग-दौड़ का वह तभी तक हिस्सा है जब तक उसका शरीर स्वस्थ है। जो व्यक्ति अपने शरीर की उपेक्षा करता है, वह अपने लिए रोग, बुढ़ापा तथा मृत्यु का द्वार खोल देता है। अच्छे स्वास्थ्य के लिए संतुलित भोजन, स्वच्छ जल, शुद्ध वायु, संयम तथा नियमित जीवन सभी आवश्यक हैं; किन्तु इन सब में व्यायाम करने वाले व्यक्ति में एक ऐसी अद्भुत शक्ति आ जाती है कि वह अपने पूरे शरीर पर अधिकार पा लेता है।

3x1=3

1. व्यायाम का सबसे बड़ा लाभ क्या है ?

क) रोगों को बुलाना

ख) शरीर को आलसी बनाना

ग) शरीर को स्वस्थ और निरोग रखना

घ) मनुष्य को कमजोर बनाना

2. मनुष्य भाग-दौड़ में क्या भूल गया है ?

क) खेलना

ख) खाना

ग) उसका शरीर स्वस्थ रहना चाहिए

घ) दूसरों से मिलना

3. व्यायाम करने वाले व्यक्ति में कौन-सी शक्ति आ जाती है ?

क) थकान की

ख) आलस्य की

ग) अद्भुत शक्ति की

घ) बीमारी की

( नीचे दिए गए प्रश्नों के उत्तर एक या दो वाक्य में दीजिए )

2x2=4

4. व्यायाम का मनुष्य के जीवन में क्या महत्व है ?

5. शरीर की उपेक्षा करने वाले व्यक्ति को क्या परिणाम भुगतने पड़ते हैं ?

(ख) सच्चाई तथा ईमानदारी की भावना से भरे इस बालक गोपालकृष्ण गोखले का जन्म 9 मई 1866 को महाराष्ट्र के रत्नागिरी जिले के एक छोटे-से गाँव में हुआ था। पिता कृष्णराव गोखले तथा माता सत्यभामाबाई ने बचपन से ही गोपाल को स्वाभिमान और ईमानदारी का पाठ पढ़ाया था। माँ दिन-रात पौराणिक कहानियाँ सुनाती थीं, तो पिता वीर देशभक्तों के किस्से सुनाया करते थे। बालक गोपाल सब किस्से-कहानियाँ ध्यानपूर्वक सुना करते थे। यही बालक आगे चलकर भारत की आज़ादी के लिए लड़ने वाले स्वतंत्रता सेनानी गोपालकृष्ण गोखले बने। अंग्रेज़ सरकार की नीतियों के खिलाफ उन्होंने आवाज़ उठाई, अनेक पत्र और निःशुल्क लेख लिखे। 1885 में उन्होंने कांग्रेस की राष्ट्रीय सभा में भाषण दिया। उनके जोशीले और प्रभावशाली भाषणों ने जन-जन का

P.T.O

मन मोह लिया। अनेक पत्र और निःशुल्क लेख लिखे। 1885 में उन्होंने कांग्रेस की राष्ट्रीय सभा में भाषण दिया। उनके जोशीले और प्रभावशाली भाषणों ने जन-जन का मन मोह लिया।

3x1=3

1. गोखले जी के पिता का नाम था -

क) नानाराव                      ख) तुलाराव                      ग) कृष्णराव                      घ) रामराव

2. माँ बालक गोपाल को सुनाती थीं -

क) कविता                      ख) गीत                      ग) पौराणिक कहानियाँ                      घ) लेख

3. गोपालकृष्ण गोखले को किस बात के लिए जाना जाता है ?

क) संगीत में निपुण होने के लिए                      ख) विज्ञान के क्षेत्र में योगदान के लिए  
ग) स्वतंत्रता संग्राम में भाग लेने के लिए                      घ) चित्रकला के लिए

( नीचे दिए गए प्रश्नों के उत्तर एक या दो वाक्य में दीजिए )

2x2=4

4. गोपालकृष्ण गोखले की माँ और पिता ने उनके जीवन में क्या योगदान दिया ?

5. गोपालकृष्ण गोखले को स्वतंत्रता सेनानी क्यों कहा जाता है ?

प्रश्न (II) निम्नलिखित प्रश्नों को ध्यान पूर्वक पढ़कर दिए गए विकल्पों में से सही विकल्प चुनिए - 1X16=16

1) 'आसमान' शब्द का विलोम है -

(क) धरती                      (ख) हवा                      (ग) चाँद                      घ) गहरा

2) 'तालाब' शब्द का पर्यायवाची है -

(क) ताल, ईश्वर, नदी                      (ख) सर, सैनिक, नौका  
(ग) सरोवर, जलाशय, ताल                      (घ) चाँद, गुप्तचर, सलिल

3) 'कोई नई खोज' कहलाती है -

(क) अनुपम                      (ख) गुणवान                      (ग) आज्ञाकारी                      (घ) आविष्कार

4) 'भगवान तुम्हें दीर्घायु करे।' इस वाक्य में कौन-सा वाक्य भेद है ?

(क) विधिवाचक                      (ख) निषेधवाचक                      (ग) इच्छावाचक वाक्य                      (घ) संदेह वाचक

5) 'शायद मैं कल बाहर जाऊँ।' इस वाक्य में कौन-सा वाक्य भेद है ?

(क) विस्मयादि वाचक                      (ख) इच्छावाचक वाक्य                      (ग) प्रश्नवाचक                      (घ) संदेह वाचक

6) 'माँ ने विधु के लिए मिठाई बनाई।' रेखांकित शब्द का कारक बताइए -

(क) संबंध कारक                      (ख) संप्रदान कारक                      (ग) अधिकरण कारक                      (घ) संबोधन कारक

7) 'विपुल दुकान से खिलौने लाया।' रेखांकित शब्द का कारक बताइए -

(क) करण कारक                      (ख) अपादान कारक                      (ग) कर्म कारक                      (घ) संबंध कारक

8) 'दुम दबाकर भागना' मुहावरे का अर्थ है -

(क) डरकर भाग जाना                      (ख) सहायता करना                      (ग) धीरे-धीरे चलना                      (घ) झगड़ा करना

9) 'जलज-जलद' शब्दों का श्रुतिसम भिन्नार्थक होगा -

(क) रात और दिन                      (ख) आँधी और तूफान                      (ग) कमल और बादल                      (घ) इनमें से कोई नहीं

10) 'दिन-दीन' शब्दों का श्रुतिसम भिन्नार्थक होगा -

(क) दिवस और गरीब                      (ख) रात और दिन                      (ग) हवा और वायु                      (घ) काला और सफेद

11) 'अधपका' शब्द में उपसर्ग है -

(क) आधा                      (ख) अध                      (ग) पका                      (घ) अप

12) 'खरीददार' शब्द में प्रत्यय है -

(क) दान (ख) दार (ग) ख (घ) र

13) 'नमकीन' शब्द में प्रत्यय है -

(क) नी (ख) कीन (ग) ईन (घ) नम

14) 'आम' शब्द के अन्य दो अर्थ हैं -

(क) समूह और दिन (ख) शेर और एक फल

(ग) एक फल और मामूली (घ) मामूली और सिर

15) 'तेज चलो ..... हम समय पर पहुँच सकें।' रिक्त स्थान में उचित अव्यय शब्द का प्रयोग कीजिए-

नकि (ख) फिर भी (ग) ताकि (घ) इसलिए

16) 'बाज़ार बंद था ..... माँ घर चली आई।' रिक्त स्थान में उचित अव्यय शब्द का प्रयोग कीजिए -

ताकि (ख) कि (ग) परंतु (घ) इसलिए

प्रश्न (III) निम्नलिखित पठित गद्यांश को ध्यानपूर्वक पढ़कर नीचे दिए गए प्रश्नों के उत्तर लिखिए - 5X1=5

(क) अँधेरा हो गया था। इस मैदान से ज़रा दूर हटकर एक नाला था। उस पर कोई पुल नहीं था। पथिकों को नाले में से होकर आना पड़ता था। खेल अभी बंद ही हुआ था और खिलाड़ी लोग बैठे दम ले रहे थे कि एक किसान अनाज से भरी हुई गाड़ी लिए उस नाले में आया। लेकिन कुछ तो नाले में कीचड़ था और कुछ उसकी चढ़ाई इतनी ऊँची थी कि गाड़ी ऊपर नहीं चढ़ सकती थी। वह कभी बैलों को ललकारता, कभी पहियों को हाथ से ढकेलता, लेकिन बोझ अधिक था और बैल कमज़ोर। गाड़ी ऊपर को नहीं चढ़ती, और चढ़ती भी तो कुछ दूर चढ़कर फिर खिसककर नीचे आ जाती। किसान बार-बार ज़ोर लगाता और बार-बार झुंझलाकर बैलों को मारता, लेकिन गाड़ी उभरने का नाम नहीं लेती। बेचारा इधर-उधर निराश होकर ताकता, मगर वहाँ कोई सहायक नज़र नहीं आता। गाड़ी को अकेले छोड़कर कहीं जा भी नहीं सकता था। वह बड़ी आपत्ति में फँसा हुआ था। इसी बीच में खिलाड़ी हाथों में डंडे लिए घूमते-घामते उधर से निकले।

1) किसान की गाड़ी में क्या लदा हुआ था ?

क) लकड़ियाँ (ख) अनाज (ग) कपड़े (घ) पत्थर

2) गाड़ी ऊपर क्यों नहीं चढ़ पा रही थी ?

क) बैल सो गए थे (ख) रास्ता बहुत चिकना था

ग) नाले में कीचड़ था और चढ़ाई ऊँची थी (घ) गाड़ी टूटी हुई थी

3) किसान बार-बार बैलों को क्यों मार रहा था ?

क) बैल भाग रहे थे (ख) गाड़ी नहीं चल पा रही थी

ग) बैल बहुत तेज़ दौड़ रहे थे (घ) वह गुस्से में था

4) किसके हाथों में डंडे थे ?

क) किसानों के (ख) बच्चों के (ग) खिलाड़ियों के (घ) सैनिकों के

5) किसान गाड़ी को ऊपर चढ़ाने के लिए क्या कर रहा था ?

क) बैलों को ललकारता और पहियों को ढकेलता था (ख) गाड़ी को तोड़ रहा था

ग) बैलों को छोड़कर चला गया (घ) गाड़ी में और बोझ डाल रहा

प्रश्न (IV) निम्नलिखित पठित पद्यांश को ध्यानपूर्वक पढ़कर नीचे दिए गए प्रश्नों के उत्तर लिखिए - 5x1=5

जो तनिक हवा से बाग हिली लेकर सवार उड़ जाता था।  
राणा की पुतली फिरी नहीं तब तक चेतक मुड़ जाता था।  
कौशल दिखलाया चालों में उड़ गया भयानक भालों में।  
निर्भीक गया वह ढालों में सरपट दौड़ा करवालों में  
वैरी-समाज रह गया दंग घोड़े का ऐसा देख रंग।

(1) चेतक किसका घोड़ा था ?

क) शिवाजी का                      ख) अकबर का                      ग) राणा प्रताप का                      घ) अशोक का

(2) चेतक की चाल देखकर वैरी सेना कैसी हो गई ?

क) प्रसन्न                      ख) दंग रह गई                      ग) शांत                      घ) भाग गई

(3) चेतक की चाल देखकर राणा की पुतली कब फिरी ?

क) बहुत देर बाद                      ख) फिरी ही नहीं  
ग) फिरी, तब तक चेतक मुड़ चुका था                      घ) युद्ध के बाद

(4) 'उड़ गया भयानक भालों में' से क्या भाव प्रकट होता है ?

क) चेतक बहुत धीमा था                      ख) चेतक बहुत बहादुर था  
ग) चेतक घायल हो गया                      घ) चेतक युद्ध से डर गया

(5) उपर्युक्त पंक्तियों के आधार पर कविता के कवि नाम बताइए-

(क) सुभद्रा कुमारी चौहान                      (ख) महादेवी वर्मा  
(ग) श्याम नारायण पांडे                      (घ) साहिर लुधियानवी

### खंड 'ब' (वस्तुपरक प्रश्न)

प्रश्न V. निम्नलिखित प्रश्नों के उत्तर 20 से 30 शब्दों में लिखिए -

2x4=8

1. महाराणा प्रताप के प्रति चेतक की स्वामिभक्ति किस बात में सबसे अधिक दिखाई देती है ?
2. समय के बदलने के साथ-साथ सत्रिया नृत्य की परंपरा में क्या बदलाव आया है ?
3. जब माता यशोदा ने श्रीकृष्ण को गले से लगा लिया, तब क्या हुआ होगा ?
4. "परीक्षा" पाठ के आधार पर बताइए कि आप इस कहानी का कोई अन्य नाम क्या देना चाहेंगे और क्यों ?

प्रश्न VI. निम्नलिखित प्रश्नों के उत्तर 50 से 60 शब्दों में लिखिए-

3x4=12

( कोई चार प्रश्नों के उत्तर दीजिए )

1. जलाते चलो' कविता का मूल भाव क्या है ?
2. "इस तरह संतान के लिए अपना जीवन न्योछावर करके वृक्ष समाप्त हो जाता है" वृक्ष के समाप्त होने के बाद क्या होता है ?
3. "उस द्वीप को उन्होंने छोटा-सा हिंदुस्तान बना डाला।" भारत से गए लोगों ने मॉरिशस को हिंदुस्तान जैसा कैसे बना दिया है ?
4. "मगर उन आँखों में सत्कार था, इन आँखों में ईर्ष्या ।" किनकी आँखों में सत्कार था और किनकी आँखों में ईर्ष्या थी ? क्यों ?
5. मॉरिशस के शिवालय और मंदिरों पर एक टिप्पणी लिखिए -
6. वृक्ष बीजों का पोषण किस प्रकार करते हैं ?

प्रश्न VII. अपने विद्यालय की वाद-विवाद प्रतियोगिता में भाग लेने की अनुमति के लिए प्रधानाचार्य को प्रार्थना पत्र लिखिए । 5X1=5

या

विद्यालय छोड़ने का प्रमाण-पत्र प्रदान करने के लिए प्रधानाचार्य को प्रार्थना पत्र लिखिए ।

प्रश्न VIII. संकेत बिंदुओं के आधार पर निम्नलिखित में से किसी एक विषय पर 80 से 100 शब्दों में अनुच्छेद लिखिए ।

(क) बाल दिवस 5X1=5

संकेत बिंदु : जवाहर लाल नेहरू, विद्यालयों, उन्नति, स्नेह, कार्यक्रम, जन्मदिवस

या

(ख) भारतीय किसान

संकेत बिंदु : जीवन, परिश्रम, निर्धन, संतुष्ट, निर्वाह, अन्नदाता, हल-बैल

प्रश्न IX. निम्नलिखित में से किसी एक विषय पर 80 से 100 शब्दों में लघु कथा लिखिए - 5X1=5

(क) सच्चाई का इनाम


संकेत बिंदु : पर्स, पैसे, पहचान पत्र, पुलिसथाने, शाबाशी, ईमानदारी

या

(ख) जादुई पेंसिल

संकेत बिंदु : पुरानी पेंसिल, लालच, जादू, भविष्य, मिट्टी, गड़बड़, मेहनत

प्रश्न X. नीचे दिए गए चित्र का वर्णन 80 से 100 शब्दों में कीजिए - 5X1=5



\*\*\*\*\*





Jindal Vidya Mandir, JSW Hill Side Township  
Term-II Examination (2025-26)

SET- B

Class:VI

Max. Marks:80

Sub:Kannada (II Language)

Duration:3Hrs

ಸೂಚನೆಗಳು:

- ಈ ಪುಶ್ಚೆ ಪತ್ರಿಕೆಯಲ್ಲಿ ಒಟ್ಟು 15 ಮುಖ್ಯ ಪುಶ್ಚೆಗಳಿವೆ. 5 ಪುಟಗಳಿವೆ
- ಈ ಪುಶ್ಚೆ ಪತ್ರಿಕೆಯು ಭಾಗ 'ಎ' ಮತ್ತು ಭಾಗ 'ಬಿ' ಎಂಬ ಎರಡು ಭಾಗಗಳನ್ನು ಎ,ಬಿ,ಸಿ,ಡಿ ಎಂಬ 4 ವಿಭಾಗಗಳನ್ನು ಒಳಗೊಂಡಿರುತ್ತದೆ.
- ವಿಭಾಗ 'ಎ' ನಲ್ಲಿ 4 ಮುಖ್ಯ ಪುಶ್ಚೆಗಳು 10 ಬಹು ಆಯ್ಕೆಯ ಉಪ ಪುಶ್ಚೆಗಳು ಮತ್ತು ಬರವಣಿಗೆಯ 10 ಪುಶ್ಚೆಗಳಿವೆ.
- ಭಾಗ 'ಎ' ನ ಅನ್ವಯಿಕ ವ್ಯಾಕರಣದಲ್ಲಿ 10 ಬಹು ಆಯ್ಕೆಯ ಪುಶ್ಚೆಗಳು, 5 ಬರವಣಿಗೆಯ ಪುಶ್ಚೆಗಳು ಮತ್ತು ಪಠ್ಯಪೂರಕದ 5 ಬಹು ಪುಶ್ಚೆಗಳಿಗೆ ಉತ್ತರಿಸಬೇಕು.
- ಭಾಗ 'ಬಿ' ಯ ಬರವಣಿಗೆ ಕೌಶಲ್ಯ ಹಾಗೂ ವಿಭಾಗ 'ಸಿ' ನ ಎಲ್ಲಾ ಪುಶ್ಚೆಗಳಿಗೆ ಉತ್ತರಿಸಬೇಕು.
- ವಿಭಾಗ 'ಡಿ' ಯ ಪಠ್ಯಗಳ ಅಧ್ಯಯನ XI ರಿಂದ XV ರ ಮುಖ್ಯ ಪುಶ್ಚೆಗಳಿಗೆ ಅಲ್ಲಿ ಕೊಟ್ಟಿರುವ ಸೂಚನೆಯಂತೆ ಉತ್ತರಿಸಬೇಕು.

ಭಾಗ ೧- 40 ಅಂಕಗಳು	ವಾಚನ ಮತ್ತು ಗ್ರಹಿಕಾ ಕೌಶಲ್ಯ	20 ಅಂಕಗಳು
	ಅನ್ವಯಿಕ ವ್ಯಾಕರಣ	15 ಅಂಕಗಳು
	ಬಹು ಆಯ್ಕೆ ಪುಶ್ಚೆ ಪಠ್ಯಗಳ ಅಧ್ಯಯನ	05 ಅಂಕಗಳು
ಭಾಗ ೨ - 40 ಅಂಕಗಳು	ಬರವಣಿಗೆ ಕೌಶಲ್ಯ	12 ಅಂಕಗಳು
	ಪಠ್ಯಗಳ ಅಧ್ಯಯನ	28 ಅಂಕಗಳು
	ಒಟ್ಟು ಅಂಕಗಳು	80 ಅಂಕಗಳು

ಭಾಗ-A ವಾಚನ ಮತ್ತು ಗ್ರಹಿಕಾ ಕೌಶಲ್ಯ 20 ಅಂಕಗಳು

I. ಈ ಕೆಳಗಿನ ಪಠ್ಯೇತರ ಗದ್ಯಭಾಗವನ್ನು ಓದಿ, ಕೆಳಗೆ ಕೊಟ್ಟಿರುವ ಪುಶ್ಚೆಗಳಿಗೆ ಸರಿಯಾದ ಉತ್ತರ ಆರಿಸಿ ಬರೆಯಿರಿ. 5x1=5

ಬಿ. ಎಸ್ ಕುರ್ಕಾಲರವರು 1932 ಜುಲೈ 17 ರಂದು ಜನಿಸಿದರು. ಇವರ ನಿಜನಾಮಧೇಯ ಭುಜಂಗಶೆಟ್ಟಿ. ಇವರ ತಂದೆ ಕುರ್ಕಾಲು ಗಣಪಯ್ಯಶೆಟ್ಟಿ. ತಾಯಿ ಲಕ್ಷ್ಮಶೆಟ್ಟಿ. ಇವರ ಹುಟ್ಟೂರು ಉಡುಪಿಯ ಪಾಜಕ. ಇವರು 1966 ರಲ್ಲಿ ಹುಟ್ಟೂರನ್ನು ಬಿಟ್ಟು ಮುಂಬಯಿಗೆ ಹೋದವರು ಅಲ್ಲಿ ಶಿಕ್ಷಕ ವೃತ್ತಿ ಕೈಗೊಂಡರು. ನಟ, ನಾಟಕಕಾರ, ನಿರ್ದೇಶಕ, ಕವಿ, ಪತ್ರಿಕಾ ಸಂಪಾದಕ, ಅಂಕಣಕಾರ, ಯಕ್ಷಗಾನ ಅರ್ಥಧಾರಿ- ಹೀಗೆ ವಿವಿಧ ವಲಯಗಳಲ್ಲಿ ಅವರ ಸೇವೆ ಸಂದಿದೆ. ಇವರು ನನ್ನ ನಿನ್ನ ಅಂತರಂಗ, ಶ್ರಾವಣ ಲಹರಿ, ಬರೆಯುವೆನು ನಿನಗಾಗಿ, ರಾಗ ರಶ್ಮಿ ಮುಂತಾದ ಕವನ ಸಂಕಲನಗಳೂ ಸೇರಿದಂತೆ ಇಪ್ಪತ್ತಕ್ಕೂ ಹೆಚ್ಚು ಕೃತಿಗಳನ್ನು ರಚಿಸಿದ್ದಾರೆ. ಕನ್ನಡ ಸಾಹಿತ್ಯ ಪರಿಷತ್ತು ಹಾಗೂ ಮುಂಬಯಿ ಕರ್ನಾಟಕ ಸಂಘ ಮುಂತಾದ ಅನೇಕ ಸಂಘ ಸಂಸ್ಥೆಗಳು ಇವರಿಗೆ ಪ್ರಶಸ್ತಿಗಳನ್ನಿತ್ತು ಸನ್ಮಾನಿಸಿವೆ.

ಪುಶ್ಚೆಗಳು:

1. ಬಿ. ಎಸ್ ಕುರ್ಕಾಲರವರು \_\_\_\_\_ ರಂದು ಜನಿಸಿದರು.  
(i) 1923 ಜುಲೈ 27 ರಂದು (ii) 1932 ಜುಲೈ 17 ರಂದು (iii) 1923 ಜುಲೈ 17 ರಂದು (iv) 1922 ಜುಲೈ 17 ರಂದು
2. ಇವರ ನಿಜನಾಮಧೇಯ \_\_\_\_\_  
(i) ಭುರುಂಗ (ii) ಭುಜಂಗರಾಜ (iii) ಭುಜಂಗಶೆಟ್ಟಿ. (iv) ಭೋಜರಾಜ
3. ಇವರ ತಂದೆಯ ಹೆಸರು \_\_\_\_\_  
(i) ಕುರ್ಕಾಲು ಗಣಪಯ್ಯಶೆಟ್ಟಿ (ii) ಕುರ್ಕಾಲು ರಾಜಯ್ಯಶೆಟ್ಟಿ (iii) ಕುರ್ಕಾಲು ಗೋಪಯ್ಯಶೆಟ್ಟಿ (iv) ಕುರ್ಕಾಲು ಗಜಾನನಶೆಟ್ಟಿ

4. 1966 ರಲ್ಲಿ ಹುಟ್ಟೂರನ್ನು ಬಿಟ್ಟು ಮುಂಬಯಿಗೆ ಹೋದವರು ಅಲ್ಲಿ \_\_\_\_\_ ಕೈಗೊಂಡರು.

(i) ನಿರ್ದೇಶನ (ii) ವ್ಯಾಪಾರ (iii) ಕೈಗಾರಿಕೆ (iv) ಶಿಕ್ಷಕ ವೃತ್ತಿ

5. \_\_\_\_\_ ಹಾಗೂ ಮುಂಬಯಿ ಕರ್ನಾಟಕ ಸಂಘ ಮುಂತಾದ ಅನೇಕ ಸಂಘ ಸಂಸ್ಥೆಗಳು ಇವರಿಗೆ ಪ್ರಶಸ್ತಿಗಳನ್ನಿತ್ತು ಸನ್ಮಾನಿಸಿವೆ.

(i) ಕನ್ನಡ ಸಾಹಿತ್ಯ ಚರಿತ್ರೆ (ii) ಕನ್ನಡ ಸಾಹಿತ್ಯ ಕೋಶ (iii) ಕನ್ನಡ ಸಾಹಿತ್ಯ ಪರಿಷತ್ತು (iv) ಮಕ್ಕಳ ಕಲ್ಯಾಣ ಇಲಾಖೆ

## II. ಈ ಕೆಳಗಿನ ಪಠ್ಯೇತರ ಗದ್ಯ ಭಾಗವನ್ನು ಓದಿ, ಕೆಳಗೆ ಕೊಟ್ಟಿರುವ ಪ್ರಶ್ನೆಗಳಿಗೆ ಸರಿಯಾದ ಉತ್ತರ ಆರಿಸಿ ಬರೆಯಿರಿ. 5x1=5

ಒಂದು ಹಳ್ಳಿ ಅಲ್ಲಿ ಒಬ್ಬ ಬಡವನಿದ್ದ. ಅವನು ಸ್ವಭಾವದಲ್ಲಿ ಮಹಾ ಜಿಪುಣ. ಅವನು ಭಿಕ್ಷೆ ಬೇಡಿ ಜೀವಿಸುತ್ತಿದ್ದ. ಭಿಕ್ಷೆಯಿಂದ ಸಿಕ್ಕಿದ ಆಹಾರವನ್ನು ಒಂದು ಮಡಕೆಯಲ್ಲಿ ಹಾಕಿ, ಮಲಗುವ ಹಾಸಿಗೆ ಪಕ್ಕದಲ್ಲಿ ತೂಗು ಹಾಕುತ್ತಿದ್ದ. ಒಂದು ದಿನ ಅವನಿಗೆ ಗಾಡೆ ನಿದ್ರೆ ಬಂತು. ಆಗ ಒಂದು ಕನಸು ಬಿತ್ತು, ಅದರಲ್ಲಿ ಅವನು ಬಡವನಾಗಿರಲಿಲ್ಲ. ಒಂದು ಅಂಗಡಿಯ ಮಾಲೀಕನಾಗಿದ್ದ. ಚೆನ್ನಾಗಿ ವ್ಯಾಪಾರವಾಗುತ್ತಿತ್ತು. ಬಹುಬೇಗ ಶ್ರೀಮಂತನಾದ. ಹಲವು ಧನ ಎಮ್ಮೆಗಳನ್ನು ಕೊಂಡುಕೊಂಡ. ಅವು ಕರು ಹಾಕಿ ಹಾಲು ಕೊಡಲು ಆರಂಭಿಸಿದವು. ಹಾಲು, ಮೊಸರು, ಬೆಣ್ಣೆಗಳನ್ನು ಮಾರಲಾರಂಭಿಸಿದ. ಇನ್ನಷ್ಟು ಹಣ ಗಳಿಸಿದ. ದೊಡ್ಡ ಮನೆಯನ್ನು ಕಟ್ಟಿಸಿದ. ಮದುವೆಯಾದ. ಮಕ್ಕಳನ್ನು ಪಡೆದ. ಮಕ್ಕಳು ದಿನವೆಲ್ಲ ಗಲಾಟೆ ಮಾಡುತ್ತಾ ಆಟವಾಡುತ್ತಿದ್ದವು. ಅವನು ಮಕ್ಕಳಿಗೆ ಬೈದು ಸುಮ್ಮನಿರಲು ಹೇಳಿದ. ಮಕ್ಕಳು ಕೇಳಲಿಲ್ಲ. ಆ ಗಾಡೆ ನಿದ್ರೆಯಲ್ಲಿ ಅವನು ಕಾಲುಗಳನ್ನು ಜೋರಾಗಿ ಅಲುಗಾಡಿಸಿದ. ಹಾಗೆ ಮಾಡಿದಾಗ ಅವನ ಕಾಲು ಆಹಾರ ತುಂಬಿದ ಮಡಕೆಗೆ ತಾಗಿತ್ತು. ಅದು ಒಡೆಯಿತು, ಆಹಾರವೆಲ್ಲ ನೆಲದ ಮೇಲೆ ಬಿದ್ದು ಚೆಲ್ಲಿ ಹೋಯಿತು. ಆಗ ಬಡವನಿಗೆ ಎಚ್ಚರವಾಯಿತು. ತಾನಿನ್ನೂ ಹಾಸಿಗೆಯ ಮೇಲೆ ಇರುವನೆಂದು ಅರ್ಥವಾಯಿತು. ಮಡಕೆಯಲ್ಲಿ ಕೂಡಿಟ್ಟಿದ್ದ ಆಹಾರ ನೆಲದ ಮೇಲೆ ಹರಡಿತು. ಅದು ತಿನ್ನುವ ಹಾಗಿರಲಿಲ್ಲ. ಅವನ ಕನಸಿನ ಕಟ್ಟಡ ಕುಸಿದು ಬಿತ್ತು.

**ಪ್ರಶ್ನೆಗಳು:**

1. ಒಂದು ಹಳ್ಳಿ ಅಲ್ಲಿ ಒಬ್ಬ ಬಡವನಿದ್ದ. ಅವನು ಸ್ವಭಾವದಲ್ಲಿ ಮಹಾ \_\_\_\_\_.

(i) ವೀರ (ii) ಜಿಪುಣ (iii) ನಿಪುಣ (iv) ಕೋಪಿಷ್ಠ

2. ಒಂದು ಅಂಗಡಿಯ ಮಾಲೀಕನಾಗಿದ್ದ. ಚೆನ್ನಾಗಿ ವ್ಯಾಪಾರವಾಗುತ್ತಿತ್ತು. ಬಹುಬೇಗ \_\_\_\_\_.

(i) ಕೆಲಸಗಾರನಾದ (ii) ಮಾಲೀಕನಾದ (iii) ಬಡವನಾದ (iv) ಶ್ರೀಮಂತನಾದ

3. ಆ ಗಾಡೆ ನಿದ್ರೆಯಲ್ಲಿ ಅವನು ಕಾಲುಗಳನ್ನು \_\_\_\_\_ ಅಲುಗಾಡಿಸಿದ.

(i) ಮೆಲ್ಲಗೆ (ii) ನಿಧಾನವಾಗಿ (iii) ಜೋರಾಗಿ (iv) ದೊಡ್ಡದಾಗಿ

4. ಅವನು ಮಕ್ಕಳಿಗೆ \_\_\_\_\_ ಸುಮ್ಮನಿರಲು ಹೇಳಿದ.

(i) ಪ್ರೀತಿಯಿಂದ (ii) ಬೈದು (iii) ಕಷ್ಟದಿಂದ (iv) ಸುಮ್ಮನೆ

5. \_\_\_\_\_ ಯಲ್ಲಿ ಕೂಡಿಟ್ಟಿದ್ದ ಆಹಾರ ನೆಲದ ಮೇಲೆ ಹರಡಿತು.

(i) ಹಿತ್ತಾಳೆ ಪಾತ್ರೆ (ii) ಮಡಕೆ (iii) ಬಾಣಲೆ (iv) ಡಬ್ಬಿ

## III. ಈ ಕೆಳಗೆ ಕೊಟ್ಟಿರುವ "ಕರ್ನಾಟಕ ಏಕೀಕರಣ" ಪಾಠವನ್ನು ಓದಿಕೊಂಡು, ಅದರ ಕೆಳಗೆ ಕೊಟ್ಟಿರುವ ಪ್ರಶ್ನೆಗಳಿಗೆ ಸರಿಯಾದ ಉತ್ತರವನ್ನು ಆರಿಸಿ ಬರೆಯಿರಿ. 5x1=5

1916 ರಲ್ಲಿ ಆಲೂರು ವೆಂಕಟರಾಯರು ಗದಿಗೆಯ ಹೊನ್ನಾಪುರ ಮಠ, ಕಡಪ ರಾಜವೇಂದ್ರ ರಾಯರು ಇನ್ನು ಮುಂತಾದವರು ಸೇರಿಕೊಂಡು 'ಕರ್ನಾಟಕ ಸಂಘ' ಎಂಬ ಸಂಸ್ಥೆಯನ್ನು ಕಟ್ಟಿದರು. ಇದಕ್ಕೆ ರಾಜಕೀಯ ಬೆಂಬಲವೂ ಇತ್ತು. ಆ ಕಾಲದಲ್ಲಿ ಸ್ವಾತಂತ್ರ್ಯಕ್ಕಾಗಿ ಬ್ರಿಟೀಷರ ವಿರುದ್ಧ ಬಿರುಸಿನ ಚಳುವಳಿ ನಡೆಯುತ್ತಿತ್ತು. ಅದರ ನಡುವೆಯೂ ನಮ್ಮ ಕರ್ನಾಟಕ ಏಕೀಕರಣದ ಚಳುವಳಿಯು ಕಾವು ಪಡೆಯುತ್ತಿತ್ತು. ಈ ಹೋರಾಟದಲ್ಲಿ ಕರ್ನಾಟಕ ವಿದ್ಯಾವರ್ಧಕ ಸಂಘ ಆಗ ಮುಂಬೈ ಪ್ರಾಂತ್ಯದ ಧಾರವಾಡದಲ್ಲಿ ಕೆಲಸ ಮಾಡುತ್ತಿತ್ತು. ದಕ್ಷಿಣ ಭಾಗದಲ್ಲಿ ಅಂದಿನ ಮೈಸೂರು ಸಂಸ್ಥಾನದ ಕೆಲವು ಹಿರಿಯರು ಮಹಾರಾಜ ನಾಲ್ವಡಿ ಕೃಷ್ಣರಾಜ ಒಡೆಯರ್ ಮತ್ತು ದಿವಾನರಾಗಿದ್ದ ಸರ್ ಎಂ ವಿಶ್ವೇಶ್ವರಯ್ಯನವರು ಕನ್ನಡದ ಬಗ್ಗೆ ಚಿಂತಿಸಿದರು. 1915ರಲ್ಲಿ ಕರ್ನಾಟಕ ಸಾಹಿತ್ಯ ಪರಿಷತ್ ಎಂಬ ಸಂಸ್ಥೆಯನ್ನು ಬೆಂಗಳೂರಿನಲ್ಲಿ ಸ್ಥಾಪಿಸಿದರು. ಕನ್ನಡ ನಾಡು ನುಡಿಯ ಬೆಳವಣಿಗೆ ಸಂರಕ್ಷಣೆ ಮತ್ತು ಕರ್ನಾಟಕ ಏಕೀಕರಣವೇ ಸಾಹಿತ್ಯ ಪರಿಷತ್ತಿನ ಧ್ಯೇಯೋದ್ದೇಶವಾಯಿತು. ಪರಭಾಷೆಗಳಲ್ಲಿ ಸಿಲುಕಿದ್ದ ಜನಮನವನ್ನು ಒಗ್ಗೂಡಿಸಿ ಕನ್ನಡ ಮನೆ ಮನ ಮುಟ್ಟಲು ಕನ್ನಡ ಸಾಹಿತ್ಯ ಸಮ್ಮೇಳನಗಳನ್ನು ಆಯೋಜಿಸಲಾಯಿತು. ಕನ್ನಡಿಗರನ್ನು ಒಂದುಗೂಡಿಸಿ ಕರ್ನಾಟಕ ಏಕೀಕರಣಕ್ಕೆ ದನಿ ಎತ್ತುವ ಮೂಲಕ ಏಕೀಕರಣದ ಬೇಡಿಕೆಗೆ ವೇದಿಕೆ ಕಲ್ಪಿಸಿತು. 25.12.1924ರಂದು ಸರ್ ಸಿದ್ದಪ್ಪ ಕಂಬಳಿಯವರ ಅಧ್ಯಕ್ಷತೆಯಲ್ಲಿ ಕರ್ನಾಟಕ ಸಭೆಯ ಮೊದಲ ಕಾರ್ಯಕ್ರಮ ನಡೆಯಿತು. ಅಲ್ಲಿ ಹುಯ್ಯಗೋಳ ನಾರಾಯಣರಾಯರು ರಚಿಸಿದ 'ಉದಯವಾಗಲಿ ನಮ್ಮ ಚೆಲುವ ಕನ್ನಡ ನಾಡು' ಎಂಬ ಗೀತೆಯನ್ನು ಮೊದಲ ಬಾರಿಗೆ ಹಾಡಲಾಯಿತು. ಈ ಸಭೆಯ ಪರಿಣಾಮವಾಗಿ ಮದ್ರಾಸ್ ಮತ್ತು ಮುಂಬೈ ವಿಧಾನ ಸಭೆಗಳಲ್ಲೂ ಕರ್ನಾಟಕ ಏಕೀಕರಣದ ವಿಷಯ ಪ್ರಸ್ತಾಪಿತಗೊಂಡಿತು. ಹೀಗೆ ಚಳುವಳಿ ಮುಂದುವರಿದಿತ್ತು. 1947ರಲ್ಲಿ ದೇಶಕ್ಕೆ ಸ್ವಾತಂತ್ರ್ಯ ಬಂತು ಆನಂತರ ಭಾರತ ಸರ್ಕಾರವು ಭಾಷಾವಾರು ಪ್ರಾಂತ್ಯಗಳ ರಚನೆಗೆ ನಿರ್ಧರಿಸಿತು. ಅದರಂತೆ ಬೇರೆ ಬೇರೆ ಪ್ರಾಂತ್ಯಗಳಲ್ಲಿ ಹಂಚಿ ಹೋಗಿದ್ದ ಕನ್ನಡಿಗರು 1956ರ ನವೆಂಬರ್ 1 ರಂದು ಒಂದೇ ರಾಜ್ಯದ ಆಡಳಿತ ವ್ಯಾಪ್ತಿಗೆ ಬಂದರು. ಆಗ ಅದನ್ನು 'ಮೈಸೂರು ರಾಜ್ಯ' ಎಂದೂ ಕರೆಯಲಾಯಿತು.

**ಪ್ರಶ್ನೆಗಳು :-**

1. 1916 ರಲ್ಲಿ ಯಾರು ಯಾರು ಕರ್ನಾಟಕ ಸಭೆ ಸಂಸ್ಥೆಯನ್ನು ಸ್ಥಾಪಿಸಿದರು?
2. ಮುಂಭೈ ಪ್ರಾಂತ್ಯದ ವಿದ್ಯಾವರ್ಧಕ ಸಂಘ ಎಲ್ಲಿ ಕೆಲಸಮಾಡುತ್ತಿತ್ತು ?
3. ಕರ್ನಾಟಕ ಸಾಹಿತ್ಯ ಪರಿಷತ್ತಿನ ಧ್ಯೇಯೋದ್ದೇಶವೇನು ?
4. ಹುಯ್ಲಿಗೋಳ ನಾರಾಯಣರಾಯರು ಬರೆದ ಗೀತೆ ಯಾವುದು?
5. ಮೈಸೂರು ರಾಜ್ಯ ಎಂದು ಯಾವಾಗ ಕರೆಯಲಾಯಿತು?

**IV. ಈ ಕೆಳಗೆ ಕೊಟ್ಟಿರುವ "ಹೃದಯ ವಚನಗಳು" ಪದ್ಯ ಭಾಗವನ್ನು ಓದಿಕೊಂಡು, ಅದರ ಕೆಳಗೆ ಕೊಟ್ಟಿರುವ ಪ್ರಶ್ನೆಗಳಿಗೆ ಸರಿಯಾದ ಉತ್ತರವನ್ನು ಆರಿಸಿ ಬರೆಯಿರಿ.**

1×5=5

ನೆಗೆವ ಹುಲ್ಲೆಯಾಗುವುದೊಮ್ಮೆ ಮೊರೆವ ಹುಲಿಯಾಗುವುದೊಮ್ಮೆ  
ಕನೆದು ಕುಪ್ಪಳಿಸುವ ಕುದುರೆಯಾಗುವುದೊಮ್ಮೆ  
ಗಂಭೀರ ಗತಿಯ ಗಜ ವಾಗುವುದೊಮ್ಮೆ  
ಗುಟುರುವ ಗೂಳಿಯಾಗುವುದೊಮ್ಮೆ ಚಪಲತೆಯ ಕೋತಿಯಾಗುವುದೊಮ್ಮೆ  
ನಂಜಿನ ನಾಗವಾಗುವುದೊಮ್ಮೆ ನೀರೊಳಗೆ ನಿರಾಳವಿಹ ಮೀನಾಗುವುದೊಮ್ಮೆ  
ಹೃದಯಕನಿತು ರೂಪಗಳೊ ಬಹುರೂಪಿ ಹೃದಯೇಶ ಸೋಮೇಶಾ||  
ಏನಿತು ಭಾಷೆಗಳ ಕಲಿತಡೇನು ಹೃದಯದ ಭಾಷೆ ಕಲಿಯದನ್ನಕ?  
ಏನಿತು ನುಡಿ ಸಡಗರ ತೋರ್ದಡೇನು ಎದೆಯ ಮಿಡಿತವರಿಯದನ್ನಕ?  
ಏನಿತು ಶೋಧನೆ ಗೈದಡೇನು ಹೃದಯ ಶೋಧನೆಗೈಯ್ಯದನ್ನಕ?  
ಏನಿತು ಸಾಧನೆಗೈದಡೇನು ಹೃದಯದ ಬೆಸುಗೆ ಸಾಧಿತವಾಗದನ್ನಕ?  
ಇವೆಲ್ಲಕ್ಕೂ ಜೀವಭಾವದಾತ ನೀನೇ ಕಾಣ ಹೃದಯೇಶ ಸೋಮೇಶಾ||

**ಪ್ರಶ್ನೆಗಳು:-**

1. ನೀರೊಳಗೆ ಇರುವ ಜಲಚರ ಯಾವುದು?
2. ಕುಣಿದು ಕುಪ್ಪಳಿಸುವ ಪ್ರಾಣಿ ಯಾವುದು?
3. ನಾವು ಮೊದಲು ಯಾವ ಭಾಷೆಯನ್ನು ಕಲಿಯಬೇಕು?
4. ಹೃದಯದ ಬೆಸುಗೆ ಸಾಧಿತವಾಗುವುದು ಯಾವಾಗ?

1M  
1M  
1M  
2M

**ಅನ್ವಯಿಕ ವ್ಯಾಕರಣ- 15 ಅಂಕಗಳು.**

**V. ಈ ಕೆಳಗಿನ ಪ್ರತಿಯೊಂದು ಪ್ರಶ್ನೆಗೆ 4 ಉತ್ತರಗಳನ್ನು ಕೊಡಲಾಗಿದೆ, ಅವುಗಳಲ್ಲಿ ಸರಿಯಾದ ಪದವನ್ನು ಆರಿಸಿ ಬರೆಯಿರಿ.**

10×1=10

1. ಈ ಕೆಳಗಿನ ಪದವು ವೃದ್ಧಿಸಂಧಿಗೆ ಉದಾಹರಣೆಯಾಗಿದೆ \_\_\_\_\_  
(i) ಸುರೇಂದ್ರ (ii) ಶಿವೈಕ್ಯ (iii) ದೇವಾಸುರ (iv) ರವೀಂದ್ರ
2. 'ಮಹವಾದುನೋರದು' - ಈ ಅಕ್ಷರಗಳನ್ನು ಸರಿಯಾಗಿ ಜೋಡಿಸಿ ಬರೆದಾಗ \_\_\_\_\_  
(i) ಮನೋವಾಹರದು (ii) ಮನೋಹರವಾದುದು (iii) ಮನೋರಮವಾದ (iv) ಹರಮನೋರದುದು
3. ಗೋಪಿಯು ಆಡಲು ಹೋದನು. ಅವನು ತನ್ನ ಗೆಳೆಯರನ್ನು ಕರೆದನು..(ಈ ವಾಕ್ಯದಲ್ಲಿರುವ ಸರ್ವನಾಮ \_\_\_\_\_)  
(i) ಗೋಪಿಯು (ii) ಗೆಳೆಯರನ್ನು (iii) ಅವನು (iv) ಕರೆದನು
4. 'ಭಕ್ತಿ' ಈ ಪದದ ತದ್ಭವ ರೂಪ \_\_\_\_\_  
(i) ಬಕುತಿ (ii) ಭಾವ (iii) ಭಕ್ತೆ (iv) ಭುಕ್ತಿ
5. ಈ ಕೆಳಗಿನ ಪದಗಳು ಜೋಡಿಪದಕ್ಕೆ ಉದಾಹರಣೆಯಾಗಿದೆ. \_\_\_\_\_  
(i) ಹಣ್ಣುಹಂಪಲು (ii) ಧಳಧಳ (iii) ಬೇಗೆಬೇಗೆ (iv) ಜಳಜಳ
6. ಮಹಾತ್ಮ ಗಾಂಧೀಜಿಯವರು ಸ್ವಾತಂತ್ರ್ಯಕ್ಕಾಗಿ ಹೋರಾಡಿದರು. ( ಈ ವಾಕ್ಯದಲ್ಲಿರುವ ಕ್ರಿಯಾಪದ)  
(i) ಗಾಂಧೀಜಿ (ii) ಮಹಾತ್ಮ (iii) ಹೋರಾಡಿದರು (iv) ಸ್ವಾತಂತ್ರ್ಯಕ್ಕಾಗಿ
7. ಈ ಕೆಳಗಿನ ಪದವು ಸಂಸ್ಕೃತ ಭಾಷೆಯ ಪದಕ್ಕೆ ಉದಾಹರಣೆಯಾಗಿದೆ. \_\_\_\_\_  
(i) ಸ್ಕೂಲ್ (ii) ಸಾಬೂನು (iii) ಮನೆ (iv) ಭೂಮಿ
8. ಮಕ್ಕಳು ಹಾಲನ್ನು ಕುಡಿಯುತ್ತಾರೆ ಮತ್ತು ಹಣ್ಣನ್ನೂ ತಿನ್ನುತ್ತಾರೆ.(ಈ ವಾಕ್ಯವು \_\_\_\_\_ ವಾಕ್ಯಕ್ಕೆ ಉದಾಹರಣೆಯಾಗಿದೆ.)  
(i) ಸಾಮಾನ್ಯ ವಾಕ್ಯ (ii) ಸಂಯೋಜಿತ ವಾಕ್ಯ (iii) ಮಿಶ್ರವಾಕ್ಯ (iv) ಯಾವುದು ಅಲ್ಲ

9. ಸಮಸ್ತ ಪದಗಳನ್ನು \_\_\_\_\_ ಎನ್ನುವರು.  
 (i) ವಿಗ್ರಹವಾಕ್ಯ (ii) ಪೂರ್ವಪದ (iii) ಸಂಧಿಕಾರ್ಯ (iv) ಸಮಾಸಪದ
10. 'ಮಾತೆ' ಈ ಪದದ ಸಮಾನಾರ್ಥಕ ಪದ \_\_\_\_\_  
 (i) ಅವ್ವ (ii) ತಾಯಿ (iii) ಅಮ್ಮ (iv) ಮೇಲಿನ ಎಲ್ಲವೂ

**VI. ಈ ಕೆಳಗಿನ ಪ್ರಶ್ನೆಗಳಿಗೆ ಸೂಚಿಸಿದಂತೆ ಉತ್ತರ ಬರೆಯಿರಿ.**

5X1=5

- 'ಕುತೂಹಲ' (ಈ ಪದವನ್ನು ಸ್ವಂತ ವಾಕ್ಯದಲ್ಲಿ ಬಳಸಿ ಬರೆಯಿರಿ.)
- 'ಕೈಮುಗಿ' (ಈ ಪದವನ್ನು ವಿಗ್ರಹವಾಕ್ಯ ಮಾಡಿ ಬರೆಯಿರಿ.)
- ನಾನು ಬೇಡ ಎಂದು ಹೇಳಿದರೂ ನೀನಾಕೆ ಒಳಗೆ ಬಂದೆ ಈಗ ಎಲ್ಲಾ ಹಾಳಾಯಿತಲ್ಲಾ.  
 (ಈ ವಾಕ್ಯಕ್ಕೆ ಸೂಕ್ತ ಲೇಖನ ಚಿಹ್ನೆಗಳನ್ನು ಬಳಸಿ ಪುನಃ ಬರೆಯಿರಿ.)
- ನೀರವ್ವ ಗಂಗವ್ವ  
 ಮಳೆಯಾಗಿ ಬಾರವ್ವ  
 ಹೊಳೆಯಾಗಿ ಹರಿಯವ್ವ  
 ಒಣಗಿದ ನೆಲದಾಗ  
 ಹಸುರಾಗಿ ಹೊಳೆಯವ್ವ  
 ಕಲಕಲ ನದಿಯಾಗಿ  
 ಹನಿ ಹನಿ ಕಣ ಕಣ  
 ( ಈ ಮೇಲಿನ ಪದ್ಯದಲ್ಲಿ ಬರುವ ಅಂತ್ಯಪ್ರಾಸಪದಗಳನ್ನು ಗುರುತಿಸಿ ಬರೆಯಿರಿ )
- 'ಜಾತ್ಯಾತೀತ' (ಈ ಪದವನ್ನು ಬಿಡಿಸಿ ಬರೆದು, ಸಂಧಿ ಹೆಸರಿಸಿ)

**VII. ಈ ಕೆಳಗೆ ಕೊಟ್ಟಿರುವ ಪಠ್ಯಪೂರಕ ಭಾಗದ, ಪ್ರಶ್ನೆಗಳಿಗೆ ಸರಿಯಾದ ಉತ್ತರವನ್ನು ಆರಿಸಿ ಬರೆಯಿರಿ.**

5X1=5

- ವಿಜಿಯು ಒಂಭತ್ತು ಹೊಡೆಯುವುದರಲ್ಲಿ ಅಜಿಯು ಪಕ್ಕ \_\_\_\_\_ಯಲ್ಲಿ ಮಲಗುತ್ತಿದ್ದಳು.  
 (i) ಚಾಪೆ (ii) ಹಾಸಿಗೆ (iii) ಹೊಲ (iv) ಕೋಣೆ
- ಇರುವೆ, ಬಸ್ಸು ಇಲ್ಲದ ಊರಿಗೆ \_\_\_\_\_ ಬಂದಿದೆ.  
 (i) ಓಡಿಕೊಂಡು (ii) ಸೈಕಲ್ (iii) ವಾಹನದಲ್ಲಿ (iv) ನಡೆದುಕೊಂಡು
- ರಾಯಸಂ ಭೀಮಸೇನಾ ರಾವ್ ರವರು 1915 ರಲ್ಲಿ \_\_\_\_\_ ಜನಿಸಿದರು.  
 (i) ಕೊಪ್ಪಳ (ii) ಗಂಗಾವತಿ (iii) ಬಳ್ಳಾರಿಯಲ್ಲಿ (iv) ಹರಪನಹಳ್ಳಿಯಲ್ಲಿ
- ಹುಡುಗನ ಜೀವಿನಲ್ಲಿ \_\_\_\_\_ ಇರುವುದನ್ನು ಇರುವೆ ಕಂಡಿತು.  
 (i) ಸಕ್ಕರೆ (ii) ಹಣ (iii) ತಿಂಡಿ (iv) ಚಿಲ್ಲರೆ
- ತಮ್ಮ ಭಾಷಣದ ಕಾರ್ಯಕ್ರಮ ರದ್ದುಗೊಳಿಸಲು ಕಾರಣ \_\_\_\_\_  
 (i) ನಮ್ಮ ಆರ್ಥಿಕ ದುಃಸ್ಥಿತಿ (ii) ನಿಮ್ಮ ಆರ್ಥಿಕ ದುಃಸ್ಥಿತಿ (iii) ಊರಿನ ಆರ್ಥಿಕ ದುಃಸ್ಥಿತಿ (iv) ನನ್ನ ಆರ್ಥಿಕ ದುಃಸ್ಥಿತಿ

**ಭಾಗ -B 40 ಅಂಕಗಳು (ಬರವಣಿಗೆ ಕೌಶಲ್ಯ -12 ಅಂಕಗಳು)**

**VIII. ನಿಮ್ಮ ಊರಿನಲ್ಲಿರುವ ಮಾವನಿಗೆ ನಿಮ್ಮ ಶಾಲೆಯ ಕರ್ನಾಟಕ ರಾಜ್ಯೋತ್ಸವಕ್ಕೆ ಬರುವಂತೆ ಆಹ್ವಾನಿಸಿ ಒಂದು ಪತ್ರ ಬರೆಯಿರಿ.**

ಅಥವಾ

1x4=4

ನಿಮ್ಮ ಊರಿಗೆ ಉತ್ತಮ ರಸ್ತೆ ವ್ಯವಸ್ಥೆ ಕಲ್ಪಿಸುವಂತೆ ಕೋರಿ, ನಿಮ್ಮ ಗ್ರಾಮಪಂಚಾಯಿತಿ ಅಧ್ಯಕ್ಷರಿಗೆ ಒಂದು ಪತ್ರ ಬರೆಯಿರಿ.

**IX. ಕವಿ ಡಾ. ಅಮೃತ ಸೋಮೇಶ್ವರ ರವರ ಬಗ್ಗೆ ಕಿರು ಪರಿಚಯ ಬರೆಯಿರಿ.**

ಅಥವಾ

1x4=4

“ಆರೋಗ್ಯವೇ ಭಾಗ್ಯ” ಈ ಗಾದೆಯ ಮಾತನ್ನು ವಿಸ್ತರಿಸಿ ಬರೆಯಿರಿ.

X. ಈ ಕೆಳಗೆ ಕೊಟ್ಟಿರುವ ವಿಷಯಗಳಲ್ಲಿ ಯಾವುದಾದರೂ ಒಂದು ವಿಷಯವನ್ನು ಕುರಿತು ಪ್ರಬಂಧ ಬರೆಯಿರಿ.

1x4=4

1. ನಮ್ಮ ಕನ್ನಡ ನಾಡು                      2. ನಮ್ಮ ನಾಡಿನ ವೀರ ಮಹಿಳೆ                      3. ಜಲ ಸಂರಕ್ಷಣೆ

ಪಠ್ಯಗಳ ಅಧ್ಯಯನ -28 ಅಂಕಗಳು

XI. ಈ ಕೆಳಗಿನ ಪ್ರಶ್ನೆಗಳಿಗೆ 2-3 ವಾಕ್ಯಗಳಲ್ಲಿ ಉತ್ತರಿಸಿರಿ.

4x2=8

1. ಕುದುರೆಯು ಕತ್ತೆಯನ್ನು ಏನೆಂದು ಬೇಡಿಕೊಂಡಿತು?
2. ಶಾಲಾ ಮಕ್ಕಳು ಯಾವ ಆಟವನ್ನು ಆಡಿದರು? ಹಾಗೂ ಮಠದಲ್ಲಿ ಶಾಲೆಯ ಮಕ್ಕಳು ಯಾವ ಕಲೆಗಳನ್ನು ಮಾಡಿದರು?
3. ಹುಡುಗಿ ಕೊಠಡಿಯೊಳಗೆ ಏನು ಮಾಡುತ್ತಿದ್ದಳು?
4. ರಾಣಿ ಚೆನ್ನಮ್ಮ ಏನೆಂದು ಕನವರಿಸಿ ಹಲ್ಲು ಕಡಿದಳು?

XII. ಈ ಕೆಳಗಿನ ಪ್ರಶ್ನೆಗಳಿಗೆ 4-5 ವಾಕ್ಯಗಳಲ್ಲಿ ಉತ್ತರಿಸಿರಿ.

2x3=6

1. ಕಚ್ಚೆದಯ ಕಲಿಗಳಿಗೆ ಚೆನ್ನಮ್ಮ ಏನೆಂದು ಹೇಳಿದಳು?
2. ಯಾಣದ ಕುರಿತಾಗಿ ಇರುವ ಒಂದು ದಂತಕಥೆಯನ್ನು ಬರೆಯಿರಿ.

XIII. ಈ ಕೆಳಗಿನ ಸಂದರ್ಭವನ್ನು ಸ್ವಾರಸ್ಯದೊಂದಿಗೆ ವಿವರಿಸಿರಿ.

2x3=6

1. " ಬೇರೆಯವರ ಪತ್ರ ನಾವು ಓದಬಾರದಲ್ಲೆ".

ಅಥವಾ

" ಶ್ರೀಮಂತ ವರ್ತಕರಿಗೆ ಮಾರಿ ಬನ್ನಿ"

2. "ಒಣಗಿದ ನೆಲದಾಗ ಹಸಿರುಸಿರು ಉಳಿಸಾಕ".

ಅಥವಾ

"ಜೀವದಾ ತುಣಕಾಗಿ ಮೈಮನಸ ಹೊಲಸೆಲ್ಲ".

XIV. ಈ ಕೆಳಗಿನ ಪ್ರಶ್ನೆಗಳಿಗೆ 5-6 ವಾಕ್ಯಗಳಲ್ಲಿ ಉತ್ತರಿಸಿರಿ.

1x4=4

1. ಮಠವು ಸಮಾಜದಲ್ಲಿ ಹೇಗೆ ದಾರಿದೀಪವಾಗಿದೆ? ವಿವರಿಸಿ.

ಅಥವಾ

ಯಾಣದ ಕುರಿತು ಇಮೇಲ್ ಪತ್ರದಲ್ಲಿ ಬರೆದ ಮಾಹಿತಿಗಳನ್ನು ವಿವರಿಸಿ.

XV. ಈ ಕೆಳಗಿನ ಪ್ರಶ್ನೆಗಳಿಗೆ 5-6 ವಾಕ್ಯಗಳಲ್ಲಿ ಉತ್ತರಿಸಿರಿ.

1x4=4

1. ನೀನನಗಿದ್ದರೆ ' ಪದ್ಯದ ಸಾರಾಂಶವನ್ನು ನಿಮ್ಮದೇ ಮಾತುಗಳಲ್ಲಿ ವಿವರಿಸಿ.

ಅಥವಾ

ಗಂಗವ್ವತಾಯಿ ಪದ್ಯದ ಆಶಯವನ್ನು ನಿಮ್ಮ ಮಾತುಗಳಲ್ಲಿ ಬರೆಯಿರಿ.

\*\*\*\*\*



**ಸೂಚನೆಗಳು:**

- ಈ ಪುಸ್ತಕ ಪತ್ರಿಕೆಯಲ್ಲಿ ಒಟ್ಟು 15 ಮುಖ್ಯ ಪುಸ್ತಕಗಳಿವೆ ಮತ್ತು 5 ಪುಟಗಳಿವೆ
- ಈ ಪುಸ್ತಕ ಪತ್ರಿಕೆಯು ಭಾಗ 'ಎ' ಮತ್ತು ಭಾಗ 'ಬಿ' ಎಂಬ ಎರಡು ಭಾಗಗಳನ್ನು ಎ,ಬಿ,ಸಿ,ಡಿ ಎಂಬ 4 ವಿಭಾಗಗಳನ್ನು ಒಳಗೊಂಡಿರುತ್ತದೆ.
- ವಿಭಾಗ 'ಎ' ನಲ್ಲಿ 4 ಮುಖ್ಯ ಪುಸ್ತಕಗಳು 10 ಬಹು ಆಯ್ಕೆಯ ಉಪ ಪುಸ್ತಕಗಳು ಮತ್ತು ಬರವಣಿಗೆಯ 10 ಪುಸ್ತಕಗಳಿವೆ.
- ಭಾಗ 'ಎ' ನ ಅನ್ವಯಿಕ ವ್ಯಾಕರಣದಲ್ಲಿ 10 ಬಹು ಆಯ್ಕೆಯ ಪುಸ್ತಕಗಳು, 5 ಬರವಣಿಗೆಯ ಪುಸ್ತಕಗಳು ಮತ್ತು ಪಠ್ಯಪೂರಕದ 5 ಬಹು ಪುಸ್ತಕಗಳಿಗೆ ಉತ್ತರಿಸಬೇಕು.
- ಭಾಗ 'ಬಿ' ಯ ಬರವಣಿಗೆ ಕೌಶಲ್ಯ ಹಾಗೂ ವಿಭಾಗ 'ಸಿ' ನ ಎಲ್ಲಾ ಪುಸ್ತಕಗಳಿಗೆ ಉತ್ತರಿಸಬೇಕು.
- ವಿಭಾಗ 'ಡಿ' ಯ ಪಠ್ಯಗಳ ಅಧ್ಯಯನ XI ರಿಂದ XV ರ ಮುಖ್ಯ ಪುಸ್ತಕಗಳಿಗೆ ಅಲ್ಲಿ ಕೊಟ್ಟಿರುವ ಸೂಚನೆಯಂತೆ ಉತ್ತರಿಸಬೇಕು.

ಭಾಗ ೧- 40 ಅಂಕಗಳು	ವಾಚನ ಮತ್ತು ಗ್ರಹಿಕಾ ಕೌಶಲ್ಯ	20 ಅಂಕಗಳು
	ಅನ್ವಯಿಕ ವ್ಯಾಕರಣ	15 ಅಂಕಗಳು
	ಬಹು ಆಯ್ಕೆ ಪುಸ್ತಕ ಪಠ್ಯಗಳ ಅಧ್ಯಯನ	05 ಅಂಕಗಳು
ಭಾಗ ೨ - 40 ಅಂಕಗಳು	ಬರವಣಿಗೆ ಕೌಶಲ್ಯ	12 ಅಂಕಗಳು
	ಪಠ್ಯಗಳ ಅಧ್ಯಯನ	28 ಅಂಕಗಳು
	ಒಟ್ಟು ಅಂಕಗಳು	80 ಅಂಕಗಳು

**ಭಾಗ-A ವಾಚನ ಮತ್ತು ಗ್ರಹಿಕಾ ಕೌಶಲ್ಯ 20 ಅಂಕಗಳು**

**1. ಈ ಕೆಳಗಿನ ಪಠ್ಯೇತರ ಗದ್ಯಭಾಗವನ್ನು ಓದಿ, ಕೆಳಗೆ ಕೊಟ್ಟಿರುವ ಪ್ರಶ್ನೆಗಳಿಗೆ ಸರಿಯಾದ ಉತ್ತರ ಆರಿಸಿ ಬರೆಯಿರಿ.**

5X1=5

ಬೆಳಗಾವಿ ಜಿಲ್ಲೆಯ ಸಂಪಗಾವಿ ತಾಲ್ಲೂಕಿನ ಒಂದು ಪುಟ್ಟಹಳ್ಳಿ ಸಂಗೊಳ್ಳಿಯಲ್ಲಿ ಜನಿಸಿದ ಮಹಾನ್ ವೀರನೇ ರಾಯಣ್ಣ. 15 ಆಗಸ್ಟ್ 1798 ರಂದು ಜನಿಸಿದನು. ರಾಯಣ್ಣನ ತಂದೆಯ ಹೆಸರು ಭರಮಪ್ಪ, ತಾಯಿ ಶ್ರೀಮತಿ ಕಂಚವ್ವ. ಅಜ್ಜ-ಮುತ್ತಜ್ಜರಿಂದ ಪರಂಪರೆ ಹೊಂದಿದ್ದ ಮನೆತನ ಇವರದು. ರಾಯಣ್ಣನ ತಾತನಾದ ರಾಗಪ್ಪ ಎಂಬುವವರು ಅಂದಿನ ಕಿತ್ತೂರು ದೊರೆ ವೀರಪ್ಪ ದೇಸಾಯಿಯಿಂದ 'ಸಾವಿರ ಒಂಟೆ ಸರದಾರ' ಎಂಬ ಬಿರುದನ್ನು ಪಡೆದಿದ್ದರು. ರಾಯಣ್ಣನಿಗೆ ಸಹಜವಾಗಿಯೇ ಯೋಧನೊಬ್ಬನಿಗಿರಬೇಕಾದ ಲಕ್ಷಣಗಳೆಲ್ಲವೂ ರಕ್ತಗತವಾಗಿ ಬಂದಿದ್ದವು. ರಾಯಣ್ಣ ಕಿತ್ತೂರು ಸಂಸ್ಥಾನದ ಸಾಮಾನ್ಯ ಪ್ರಜೆಯಾಗಿದ್ದನು. ಸಂಗೊಳ್ಳಿ ಗ್ರಾಮದ ತಳವಾರಿಯಾಗಿ ನೇಮಕಗೊಂಡವನು, ಹಲವಾರು ದೇಶಭಕ್ತರೊಂದಿಗೆ ಬ್ರಿಟೀಷರ ವಿರುದ್ಧ ಹೋರಾಡಿದನೆಂಬ ಕಾರಣಕ್ಕೆ ಬ್ರಿಟೀಷ್ ಸರ್ಕಾರ ರಾಯಣ್ಣನ ಮನೆತನಕ್ಕೆ ಸೇರಿದ ಭೂಮಿಯನ್ನು ವಶಪಡಿಸಿಕೊಂಡುಬಿಟ್ಟಿತು. ಸಂಗೊಳ್ಳಿ ರಾಯಣ್ಣನ ಸಾಹಸಗಳು ಹಲವಾರು, ಕಿತ್ತೂರಿನ ರಾಣಿ ಚೆನ್ನಮ್ಮನ ದತ್ತುಪುತ್ರನಾದ ಶಿವಲಿಂಗಪ್ಪನನ್ನು ಕಿತ್ತೂರಿನ ಸಿಂಹಾಸನದಲ್ಲಿ ಕುಳಿರಿಸಲು ಮಾಡಿದ ಸಾಹಸ ಅತ್ಯಂತ ದೊಡ್ಡದು ಮತ್ತು ಮುಖ್ಯವಾದದ್ದು. ರಾಯಣ್ಣ ಬ್ರಿಟೀಷರ ನಿಗ್ರಹಕ್ಕೆ ಹಗಲಿರುಳೂ ಪ್ರಯತ್ನಿಸಿದ, ಬಲಾಢ್ಯ ಬ್ರಿಟೀಷ್ ಪಡೆಯನ್ನೇ ಚಿಂತೆಗೀಡುಮಾಡುವ ಸಿಂಹಸ್ವಪ್ನವಾಗಿ ಸಂಗೊಳ್ಳಿರಾಯಣ್ಣ ಬೆಳೆದಿದ್ದ. ಸತತವಾಗಿ ಪ್ರತಿರೋಧ ತೋರಿದ ರಾಯಣ್ಣನನ್ನು ಯುದ್ಧಮಾಡಿ ಸೆರೆಹಿಡಿಯುವುದು ಅಸಾಧ್ಯವೆಂದು ಮನಗಂಡ ಬ್ರಿಟೀಷ್ ಸರ್ಕಾರ ಕಪಟ ಜಾಲವೊಡ್ಡಿ, ದೇಶದ್ರೋಹಿಗಳ ಸಹಾಯದಿಂದ ಸೆರೆಹಿಡಿದು ವಿಚಾರಣೆಗೊಳಪಡಿಸಿತು. ವಿಚಾರಣೆ ನಡೆಸಿದ ವಿಶೇಷ ನ್ಯಾಯಾಲಯವು ಇವನನ್ನು ತಪಿತಸ್ಸನೆಂದು ಘೋಷಿಸಿದ್ದರಿಂದ ಮರಣದಂಡನೆಯನ್ನು ವಿಧಿಸಲಾಯಿತು.

**ಪ್ರಶ್ನೆಗಳು:-**

1. ರಾಯಣ್ಣನು \_\_\_\_\_ ಎಂಬ ಪುಟ್ಟಹಳ್ಳಿಯಲ್ಲಿ ಜನಿಸಿದನು.  
(i) ಸಂಗೊಳ್ಳಿ (ii) ಸಾಗರ (iii) ಸಾತನೂರು (iv) ಸೋಮವಾರಪೇಟೆ
2. ರಾಯಣ್ಣನ ತಂದೆಯ ಹೆಸರು \_\_\_\_\_.  
(i) ಶಿವಲಿಂಗಪ್ಪ (ii) ಭರಮಪ್ಪ (iii) ಸರದಾರ (iv) ಬಾಳಪ್ಪ
3. ತಾತನಾದ ರಾಗಪ್ಪ ಎಂಬುವವರು ಅಂದಿನ ಕಿತ್ತೂರು ದೊರೆ ವೀರಪ್ಪ ದೇಸಾಯಿಯಿಂದ ' \_\_\_\_\_ ' ಎಂಬ ಬಿರುದನ್ನು ಪಡೆದಿದ್ದರು.  
(i) 'ಸಾವಿರ ಕುದುರೆ ಸರದಾರ' (ii) 'ಸಾವಿರ ಸರದಾರ' (iii) 'ಸಾವಿರ ಒಂಟೆ ಸರದಾರ' (iv) 'ಸಾವಿರ ಒಂಟೆ ಸಾಹುಕಾರ'
4. ಬಲಾಢ್ಯ ಬ್ರಿಟೀಷ್ ಪಡೆಯನ್ನೇ ಚಿಂತಗೇಡುಮಾಡುವ \_\_\_\_\_ ಸಂಗೊಳ್ಳಿರಾಯಣ್ಣ ಬೆಳೆದಿದ್ದ.  
(i) ದೇವರಂತೆ (ii) ಸಿಂಹಸ್ವಪ್ನವಾಗಿ (iii) ಹುಲಿಯಂತೆ (iv) ರಾಕ್ಷಸನಂತೆ
5. ರಾಯಣ್ಣನನ್ನು ತಪ್ಪಿತಸ್ಥನೆಂದು ಘೋಷಿಸಿದ್ದರಿಂದ, \_\_\_\_\_ ವಿಧಿಸಲಾಯಿತು.  
(i) ಮರಣದಂಡನೆಯನ್ನು (ii) ಜೀವಾವಧಿ ಶಿಕ್ಷೆ (iii) ಕಾರಾಗೃಹ (iv) ಬಹಿಷ್ಕಾರ

**II. ಈ ಕೆಳಗಿನ ಪರ್ಯಂತರ ಗದ್ಯ ಭಾಗವನ್ನು ಓದಿ, ಕೆಳಗೆ ಕೊಟ್ಟಿರುವ ಪ್ರಶ್ನೆಗಳಿಗೆ ಸರಿಯಾದ ಉತ್ತರ ಆರಿಸಿ ಬರೆಯಿರಿ.**

5x1=5

ಕರ್ನಾಟಕದ ಬಾಗಲಕೋಟೆಯ ಜಿಲ್ಲೆಯಲ್ಲಿ ಬೇವೂರ ಗ್ರಾಮದವರಾದ ಸರ್.ಗುರುನಾಥ ರಾವ್ ಹಾಗೂ ರುಕ್ಮಿಣಿಬಾಯಿಯವರ ಪುತ್ರನೇ ಗೋಪಾಲರಾವ್. ಇವರು ದಿನಾಂಕ 11.8.1916 ರಂದು ಜನಿಸಿದರು. ತಂದೆಯ ಮಾರ್ಗದರ್ಶನ ತಾಯಿಯ ದೇಶಾಭಿಮಾನಿ ಭಾವನೆಗಳೊಂದಿಗೆ ಗೋಪಾಲರಾಯರು ಬೆಳೆದರು. ರಾಯಲ್ ಇಂಡಿಯನ್ ಮಿಲಿಟರಿ ಕಾಲೇಜಿನಲ್ಲಿ ಮತ್ತು ಇಂಡಿಯನ್ ಮಿಲಿಟರಿ ಅಕಾಡೆಮಿಯಲ್ಲಿ ಸೈನಿಕ ಶಿಕ್ಷಣ ಪಡೆದರು. ಶಿಸ್ತು, ಶಿಕ್ಷಣ, ಕಠಿಣ ಶ್ರಮಗಳಿಂದ ತಮ್ಮ ವಿದ್ಯಾರ್ಥಿ ಜೀವನದಲ್ಲಿಯೇ 'ಗೌರವಖಡ್ಗ' ಮತ್ತು ಚಿನ್ನದ ಪದಕಗಳನ್ನು ಪಡೆದುಕೊಂಡ ಕೀರ್ತಿ ಅವರದು. ೧೯೩೭ರಲ್ಲಿ ಬೇವೂರರು ಭಾರತೀಯ ಸೇನಾಪಡೆ ಸೇರಿದರು. ಜನರಲ್ ಜಿ.ಜಿ. ಬೇವೂರರ ಕರ್ತವ್ಯನಿಷ್ಠೆ, ದಕ್ಷ ಆಡಳಿತ ಕಂಡು ಭಾರತ ಸರ್ಕಾರವು ಅವರಿಗೆ 'ಪದ್ಮಭೂಷಣ ಪ್ರಶಸ್ತಿ' ಹಾಗೂ ಪರಮ ವಿಶಿಷ್ಟ ಸೇವಾಪದಕವನ್ನು ಕೊಟ್ಟು ಗೌರವಿಸಿತು. ಮುಂದೆ ಡಾರ್ಜಿಲಿಂಗ್‌ನಲ್ಲಿ ಕಟ್ಟಿಸಿದ ಯುದ್ಧ ಸ್ಮಾರಕ ಭವನಕ್ಕೆ ಜನರಲ್ ಜಿ.ಜಿ.ಬೇವೂರರ ಹೆಸರಿಡಲಾಯಿತು.

**ಪ್ರಶ್ನೆಗಳು:**

1. ಕರ್ನಾಟಕದ ಬಾಗಲಕೋಟೆಯ ಜಿಲ್ಲೆಯಲ್ಲಿ \_\_\_\_\_ ಗ್ರಾಮದಲ್ಲಿ ಜನಿಸಿದರು.  
(i.) ಗಾಜನೂರು (ii) ಜಾಜೂರು (iii) ಬಾವೂರು (iv) ಬೇವೂರ
2. ಸರ್. ಗುರುನಾಥರಾವ್ ಹಾಗೂ ರುಕ್ಮಿಣಿಬಾಯಿಯವರ ಪುತ್ರನೇ \_\_\_\_\_.  
(i.) ಗೋವರ್ಧನರಾವ್ (ii) ಗೋಪಿನಾಥ (iii) ಗೋಪಾಲ ಕೃಷ್ಣ (iv) ಗೋಪಾಲರಾವ್
3. ಬೇವೂರರು \_\_\_\_\_ ಅಕಾಡೆಮಿಯಲ್ಲಿ ಸೈನಿಕ ಶಿಕ್ಷಣ ಪಡೆದರು  
(i.) ಇಂಡಿಯನ್ ಮಿಲಿಟರಿ (ii) ಇಂಡಿಯನ್ ಏರ್ ಫೋರ್ಸ್ (iii) ಇಂಡಿಯನ್ ನೇವಿ (iv) ಪ್ರೋಲಿಸ್ ದಳ
4. ಬೇವೂರರಿಗೆ ಭಾರತ ಸರ್ಕಾರವು \_\_\_\_\_ ಪ್ರಶಸ್ತಿ ಕೊಟ್ಟು ಗೌರವಿಸಿತು.  
(i.) ಭಾರತರತ್ನ (ii) 'ಪದ್ಮಭೂಷಣ ಪ್ರಶಸ್ತಿ' (iii) 'ಪದ್ಮವಿಭೂಷಣ ಪ್ರಶಸ್ತಿ' (iv) ದಾದಾ ಸಾಹೇಬ ಪಾಲ್ಕೆ
5. \_\_\_\_\_ ನಲ್ಲಿ ಕಟ್ಟಿಸಿದ ಯುದ್ಧ ಸ್ಮಾರಕ ಭವನಕ್ಕೆ ಜನರಲ್ ಜಿ.ಜಿ ಬೇವೂರರ ಹೆಸರಿಡಲಾಯಿತು.  
(i.) ದುಬೈ (ii) ಡೆನ್ಮಾರ್ಕ್ (iii) ಡಾರ್ಜಿಲಿಂಗ್ (iv) ದೆಹಲಿ

**III. ಈ ಕೆಳಗೆ ಕೊಟ್ಟಿರುವ "ಕರ್ನಾಟಕ ಏಕೀಕರಣ" ಪಾಠವನ್ನು ಓದಿಕೊಂಡು, ಅದರ ಕೆಳಗೆ ಕೊಟ್ಟಿರುವ ಪ್ರಶ್ನೆಗಳಿಗೆ ಸರಿಯಾದ ಉತ್ತರವನ್ನು ಆರಿಸಿ ಬರೆಯಿರಿ.**

5x1=5

1924ರಲ್ಲಿ ಬೆಳಗಾವಿಗೆ ಮಹಾತ್ಮ ಗಾಂಧೀಜಿಯವರು ಆಗಮಿಸಿದ್ದರು. ಅವರ ಅಧ್ಯಕ್ಷತೆಯಲ್ಲಿ ರಾಷ್ಟ್ರೀಯ ಕಾಂಗ್ರೆಸ್ ನ ಮಹಾದಿವೇಶನ ನಡೆಯಿತು. ದೇಶೀಯ ಭಾಷೆಗಳನ್ನು ಆಧರಿಸಿ ಪ್ರಾಂತ್ಯಗಳ ವಿಂಗಡನೆ ಆಗಬೇಕು ಎಂಬ ಅಭಿಪ್ರಾಯ ಜನಸಾಮಾನ್ಯರಲ್ಲಿತ್ತು. ಆಗ ಸ್ವಾತಂತ್ರ್ಯಕ್ಕಾಗಿ ರಾಷ್ಟ್ರ ವ್ಯಾಪಿ ಆಂದೋಲನ ರೂಪಿಸುತ್ತಿದ್ದ ಕಾಂಗ್ರೆಸ್ ನಾಯಕರಲ್ಲಿಯೂ ಇದರ ಬಗ್ಗೆ ಒಮ್ಮತ ಮೂಡಿತ್ತು ಆ ಸಂದರ್ಭದಲ್ಲಿ ಕರ್ನಾಟಕ ಏಕೀಕರಣಕ್ಕೂ ವಿಶೇಷ ಚಾಲನೆ ದೊರೆಯಿತು. 25. 12 .1924 ರಂದು ಸರ್ ಸಿದ್ದಪ್ಪ ಕಂಬಳಿ ಅವರ ಅಧ್ಯಕ್ಷತೆಯಲ್ಲಿ ಕರ್ನಾಟಕ ಸಭೆಯ ಮೊದಲ ಕಾರ್ಯಕ್ರಮ ನಡೆಯಿತು ಅವತ್ತು ಅಲ್ಲಿ ಹುಲಿಗೋಳ ನಾರಾಯಣರಾಯರು ರಚಿಸಿದ ಉದಯವಾಗಲಿ ನಮ್ಮ ಚೆಲುವ ಕನ್ನಡ ನಾಡು ಎಂಬ ಗೀತೆಯನ್ನು ಮೊದಲ ಬಾರಿಗೆ ಹಾಡಲಾಯಿತು ಈ ಸಭೆಯ ಪರಿಣಾಮವಾಗಿ ಮದ್ರಾಸ್ ಮತ್ತು ಮುಂಬೈ ವಿಧಾನಸಭೆಗಳಲ್ಲೂ ಕರ್ನಾಟಕ ಏಕೀಕರಣದ ವಿಷಯ ಪ್ರಸ್ತಾಪಿತಗೊಂಡಿತು. ಕರ್ನಾಟಕ ಏಕೀಕರಣಕ್ಕೆ

ಉತ್ತರ ಕರ್ನಾಟಕ ಹೈದರಾಬಾದ್ ಕರ್ನಾಟಕ ಮತ್ತು ಕರಾವಳಿ ಕರ್ನಾಟಕದಿಂದಲೂ ಬೆಂಬಲ ವ್ಯಕ್ತವಾಯಿತು. ಸಮಗ್ರ ಕರ್ನಾಟಕದ ಕನಸು ಒತ್ತ ಏಕೀಕರಣ ಚಳುವಳಿ ಕೆಲವು ವರ್ಷಗಳಲ್ಲಿ ಹೊಸ ರೂಪ ಪಡೆದುಕೊಂಡಿತು ಹೋರಾಟಗಾರರ ಸಂಖ್ಯೆಯನ್ನು ಹೆಚ್ಚಿಸಿಕೊಂಡಿತು. ನಾಯಕರ ಸಂಖ್ಯೆ ನೂರಕ್ಕೂ ಮಿಕ್ಕಿತ್ತು. ಇದರ ಫಲವಾಗಿ ಮದ್ರಾಸ್ ಮತ್ತು ಮುಂದೆ ಪ್ರಾಂತ್ಯಗಳಲ್ಲಿ ಚಳುವಳಿ ಬಿರುಸುಗೊಂಡಿತು.

**ಪ್ರಶ್ನೆಗಳು :-**

1. 1924ರಲ್ಲಿ ಮಹಾತ್ಮ ಗಾಂಧೀಜಿಯವರ ಆಗಮನದಿಂದ ಬೆಳಗಾವಿಯಲ್ಲಿ ನಡೆದ ಮಹತ್ವದ ಘಟನೆ ಯಾವುದು?
2. ದೇಶೀಯ ಭಾಷೆಗಳನ್ನು ಆಧರಿಸಿ ಪ್ರಾಂತ್ಯಗಳ ವಿಂಗಡನೆ ಮಾಡಬೇಕೆಂಬ ಅಭಿಪ್ರಾಯ ಯಾರಲ್ಲಿ ಮೂಡಿತು?
3. ಕರ್ನಾಟಕ ಸಭೆಯ ಮೊದಲ ಕಾರ್ಯಕ್ರಮ ಯಾವ ದಿನಾಂಕದಲ್ಲಿ ನಡೆಯಿತು? ಮತ್ತು ಅದರ ಅಧ್ಯಕ್ಷತೆ ವಹಿಸಿದವರು ಯಾರು?
4. 'ಉದಯವಾಗಲಿ ನಮ್ಮ ಚೆಲುವ ಕನ್ನಡ ನಾಡು' ಎಂಬ ಗೀತೆ ಯಾವ ಸಂದರ್ಭದಲ್ಲಿ ಮೊದಲ ಬಾರಿ ಹಾಡಲಾಯಿತು?
5. ಕರ್ನಾಟಕ ಏಕೀಕರಣ ಚಳುವಳಿಗೆ ಬೆಂಬಲ ನೀಡಿದ ಮೂರು ಪ್ರಮುಖ ಪ್ರದೇಶಗಳು ಯಾವುವು?

**V. ಈ ಕೆಳಗೆ ಕೊಟ್ಟಿರುವ "ಹೃದಯ ವಚನಗಳು" ಪದ್ಯ ಭಾಗವನ್ನು ಓದಿಕೊಂಡು, ಅದರ ಕೆಳಗೆ ಕೊಟ್ಟಿರುವ ಪ್ರಶ್ನೆಗಳಿಗೆ ಸರಿಯಾದ ಉತ್ತರವನ್ನು ಆರಿಸಿ ಬರೆಯಿರಿ.**

1×5=5

ಗುಟುರುವ ಗೂಳಿಯಾಗುವುದೊಮ್ಮೆ ಚಪಲತೆಯ ಕೋತಿಯಾಗುವುದೊಮ್ಮೆ  
ನಂಜಿನ ನಾಗವಾಗುವುದೊಮ್ಮೆ ನೀರೊಳಗೆ ನಿರಾಳವಿಹ ಮೀನಾಗುವುದೊಮ್ಮೆ

ಹೃದಯಕೆನಿತು ರೂಪಗಳೊ ಬಹುರೂಪಿ ಹೃದಯೇಶ ಸೋಮೇಶಾ||

ಎನಿತು ಭಾಷೆಗಳ ಕಲಿತಡೇನು ಹೃದಯದ ಭಾಷೆ ಕಲಿಯದನ್ನಕ?

ಏನಿತು ನುಡಿ ಸಡಗರ ತೋರಡೇನು ಎದೆಯ ಮಿಡಿತವರಿಯದನ್ನಕ್ಕ?

ಏನಿತು ಶೋಧನೆ ಗೈದಡೇನು ಹೃದಯ ಶೋಧನೆಗೈಯ್ಯದನ್ನಕ್ಕ?

ಏನಿತು ಸಾಧನೆಗೈದಡೇನು ಹೃದಯದ ಬೆಸುಗೆ ಸಾಧಿತವಾಗದನ್ನಕ್ಕ?

ಇವೆಲ್ಲಕ್ಕೂ ಜೀವಭಾವದಾತ ನೀನೇ ಕಾಣ ಹೃದಯೇಶ ಸೋಮೇಶಾ||

**ಪ್ರಶ್ನೆಗಳು:-**

1. ಹೃದಯದ ರೂಪಗಳು ಯಾವುವು? 1M
2. ಚಪಲತೆಯಿಂದ ಕೂಡಿರುವ ಪ್ರಾಣಿ ಯಾವುದು? 1M
3. ನಾವು ಮೊದಲು ಯಾವ ಭಾಷೆಯನ್ನು ಕಲಿಯಬೇಕು? 1M
4. ಹೃದಯದ ಬೆಸುಗೆ ಸಾಧಿತವಾಗುವುದು ಯಾವಾಗ? 2M

**ಅನ್ವಯಿಕ ವ್ಯಾಕರಣ- 15 ಅಂಕಗಳು.**

**V. ಈ ಕೆಳಗಿನ ಪ್ರತಿಯೊಂದು ಪ್ರಶ್ನೆಗೆ 4 ಉತ್ತರಗಳನ್ನು ಕೊಡಲಾಗಿದೆ, ಅವುಗಳಲ್ಲಿ ಸರಿಯಾದ ಪದವನ್ನು ಆರಿಸಿ ಬರೆಯಿರಿ.**

10×1=10

1. ಈ ಕೆಳಗಿನ ಪದವು ಸರ್ವನಾಮದರ್ಶನವಾಗಿದೆ ಉದಾಹರಣೆಯಾಗಿದೆ \_\_\_\_\_

- (i) ವನೌಷಧ (ii) ಶಿವೈಕ್ಯ (iii) ದೇವಾಸುರ (iv) ದೇವೇಶ

2. 'ಸ್ನೇಹ ಸ ಗ ದ ಹ ಯಿಂ ಲಿ' - ಈ ಅಕ್ಷರಗಳನ್ನು ಸರಿಯಾಗಿ ಜೋಡಿಸಿ ಬರೆದಾಗ \_\_\_\_\_.

- (i) ಸ್ನೇಹಸಲಿಗೆಯಿಂದ (ii) ಸ್ನೇಹದಸಲಿಗೆ (iii) ಸ್ನೇಹದಿಂದಲಿ (iv) ಸ್ನೇಹಸಲಿಗೆ

3. ಕೃಷ್ಣನು ಶಾಲೆಗೆ ಹೊರಟನು. ಅವನ ಕೈಯಲ್ಲಿ ಚೀಲವಿತ್ತು. (ಈ ವಾಕ್ಯದಲ್ಲಿರುವ ಸರ್ವನಾಮ \_\_\_\_\_)

- (i) ಗೋಪಿಯು (ii) ಗೆಳೆಯರನ್ನು (iii) ಅವನು (iv) ಕರೆದನು

4. 'ಚಂದ್ರ' ಈ ಪದದ ತದ್ಭವ ರೂಪ \_\_\_\_\_.

- (i) ಚಂದಿರ (ii) ಚಂದ (iii) ಚಂದನ (iv) ಚಂದ್ರನ

5. ಈ ಕೆಳಗಿನ ಪದಗಳು ಜೋಡಿಪದಕ್ಕೆ ಉದಾಹರಣೆಯಾಗಿದೆ. \_\_\_\_\_

- (i) ನೆರೆಹೊರೆ (ii) ಥಳಥಳ (iii) ಬೇಗೆಬೇಗೆ (iv) ಜಳಜಳ

6. ಮಹಾತ್ಮ ಗಾಂಧೀಜಿಯವರು ಅಹಿಂಸೆಯನ್ನು ಪ್ರತಿಪಾದಿಸಿದರು ( ಈ ವಾಕ್ಯದಲ್ಲಿರುವ ಕ್ರಿಯಾಪದ)

- (i) ಗಾಂಧೀಜಿ (ii) ಅಹಿಂಸೆಯನ್ನು (iii) ಪ್ರತಿಪಾದಿಸಿದರು (iv) ಮಹಾತ್ಮ

7. ಈ ಕೆಳಗಿನ ಪದವು ಸಂಸ್ಕೃತ ಭಾಷೆಯ ಪದಕ್ಕೆ ಉದಾಹರಣೆಯಾಗಿದೆ. \_\_\_\_\_.

(i) ಆರ್ಯ (ii) ಸಾಬೂನು (iii) ಹೊಲ (iv) ಅನಾನಸು

8. ಕುವೆಂಪು ಅವರ ಭಾವಗೀತೆಗಳನ್ನು ಕೇಳಿ ವಿದ್ಯಾರ್ಥಿಗಳು ಮೈಮರೆತರು.

(ಈ ವಾಕ್ಯವು \_\_\_\_\_ ವಾಕ್ಯಕ್ಕೆ ಉದಾಹರಣೆಯಾಗಿದೆ.)

(i) ಸಾಮಾನ್ಯ ವಾಕ್ಯ (ii) ಸಂಯೋಜಿತ ವಾಕ್ಯ (iii) ಮಿಶ್ರವಾಕ್ಯ (iv) ಯಾವುದು ಅಲ್ಲ.

9. ಸಂಧಿ ಬಿಡಿಸುವಾಗ ಮೊದಲನೆಯ ಪದವನ್ನು \_\_\_\_\_ ಎನ್ನುವರು.

(i) ವಿಗ್ರಹವಾಕ್ಯ (ii) ಪೂರ್ವಪದ (iii) ಸಂಧಿಕಾರ್ಯ (iv) ಉತ್ತರಪದ

10. 'ನೀರು' ಈ ಪದದ ಸಮಾನಾರ್ಥಕ ಪದ \_\_\_\_\_

(i) ಜಲ (ii) ನದಿ (iii) ಸಮುದ್ರ (iv) ಮಳೆ

**VI. ಈ ಕೆಳಗಿನ ಪ್ರಶ್ನೆಗಳಿಗೆ ಸೂಚಿಸಿದಂತೆ ಉತ್ತರ ಬರೆಯಿರಿ.**

5X1=5

1. 'ಜಯಮಾಲೆ' (ಈ ಪದವನ್ನು ಸ್ವಂತ ವಾಕ್ಯದಲ್ಲಿ ಬಳಸಿ ಬರೆಯಿರಿ.)

2. 'ಹೆಮ್ಮರ' (ಈ ಪದವನ್ನು ವಿಗ್ರಹವಾಕ್ಯ ಮಾಡಿ ಬರೆಯಿರಿ.)

3. ಹುಡುಗಿ ನೀನು ನಮ್ಮಲ್ಲೇ ಇದ್ದುಬಿಡು ನಮ್ಮ ಮಗಳ ಹಾಗೆ ನೋಡೋತ್ತೇವೆ

(ಈ ವಾಕ್ಯಕ್ಕೆ ಸೂಕ್ತ ಲೇಖನ ಚಿಹ್ನೆಗಳನ್ನು ಬಳಸಿ ಪುನಃ ಬರೆಯಿರಿ.)

4. ನಿನ್ನಯ ಬೆನ್ನಿಗೆ ಹಾಕಿದನು,

ಅದಕೇ ನಿನ್ನನು ಸಾಕಿದನು,

ನೀನೇ ಹೊತ್ತುಕೊ ಬೇಗ ನಡಿ,

ದಣಿಯದೊ ಬರುವನು ಹಾದಿ ಹಿಡಿ!

( ಈ ಮೇಲಿನ ಪದ್ಯದಲ್ಲಿ ಬರುವ ಅಂತ್ಯಪ್ರಾಸಪದಗಳನ್ನು ಗುರುತಿಸಿ ಬರೆಯಿರಿ )

5. 'ನಿನ್ನುಪಕಾರ' (ಈ ಪದವನ್ನು ಬಿಡಿಸಿ ಬರೆದು, ಸಂಧಿ ಹೆಸರಿಸಿ)

**VII. ಈ ಕೆಳಗೆ ಕೊಟ್ಟಿರುವ ಪಠ್ಯಪೂರಕ ಭಾಗದ, ಪ್ರಶ್ನೆಗಳಿಗೆ ಸರಿಯಾದ ಉತ್ತರವನ್ನು ಆರಿಸಿ ಬರೆಯಿರಿ.**

5X1=5

1. ವಿಜಯು ಒಂಭತ್ತು ಹೊಡೆಯುವುದರಲ್ಲಿ \_\_\_\_\_ ಪಕ್ಕ ಹಾಸಿಗೆಯಲ್ಲಿ ಮಲಗುತ್ತಿದ್ದಳು.

(i) ಅಜ್ಜನ (ii) ಅಜ್ಜಿಯ (iii) ಅಮ್ಮನ (iv) ಅಪ್ಪನ

2. ಹಾಲಿನ ಲೋಟವು ಇರುವೆಗೆ \_\_\_\_\_ ಅಂತೆ ಕಾಣುತ್ತದೆ.

(i) ಕೊಳೆ (ii) ಬಾವಿ (iii) ಹೊಳೆ (iv) ನದಿ

3. ರಾಯಸಂ ಭೀಮಸೇನಾ ರಾವ್ ರವರು \_\_\_\_\_ ಪ್ರಸಿದ್ಧರಾಗಿದವರು.

(i) ಕಲಾವಿದರಾಗಿ (ii) ವಿದೂಷಕರಾಗಿ (iii) ಬಂಡಾಯ ಕವಿಯಾಗಿ (iv) ಹಾಸ್ಯಕವಿಯಾಗಿ

4. ಇರುವೆ \_\_\_\_\_ ಬಂಡೆ ಎಂದು ಹೇಳುತ್ತಿದೆ.

(i) ಸಕ್ಕರೆಯನ್ನು (ii) ಕಲ್ಲನ್ನು (iii) ತಿಂಡಿಯನ್ನು (iv) ಬೆಲ್ಲವನ್ನು

5. ಭಾಷಣಕಾರರ ಭಾಷಣದ ವಿಷಯ \_\_\_\_\_.

(i) ನಮ್ಮ ಆರ್ಥಿಕ ದುಃಸ್ಥಿತಿ (ii) ನಿಮ್ಮ ಆರ್ಥಿಕ ದುಃಸ್ಥಿತಿ (iii) ಊರಿನ ಆರ್ಥಿಕ ದುಃಸ್ಥಿತಿ (iv) ನನ್ನ ಆರ್ಥಿಕ ದುಃಸ್ಥಿತಿ

**ಭಾಗ - B 40 ಅಂಕಗಳು (ಬರವಣಿಗೆ ಕೌಶಲ್ಯ -12 ಅಂಕಗಳು)**

**VIII. ನಿಮ್ಮ ಊರಿನಲ್ಲಿರುವ ಅಣ್ಣನಿಗೆ ನಿಮ್ಮ ಶಾಲಾ ಗಣರಾಜ್ಯೋತ್ಸವಕ್ಕೆ ಬರುವಂತೆ ಆಹ್ವಾನಿಸಿ ಒಂದು ಪತ್ರ ಬರೆಯಿರಿ.**

**ಅಥವಾ**

1x4=4

ನಿಮ್ಮ ಊರಿಗೆ ಬೀದಿ ದೀಪ ಅಳವಡಿಸುವಂತೆ ಕೋರಿ, ನಿಮ್ಮ ಗ್ರಾಮಪಂಚಾಯಿತಿ ಅಧ್ಯಕ್ಷರಿಗೆ ಒಂದು ಪತ್ರ ಬರೆಯಿರಿ.

IX. ಕವಿ ಕಯ್ಯಾರ ಕಿಣ್ಣಣ್ಣ ರೈ ರವರ ಬಗ್ಗೆ ಕಿರು ಪರಿಚಯ ಬರೆಯಿರಿ.

ಅಥವಾ

1x4=4

“ಬೆಳೆಯುವ ಸಿರಿ ಮೂಳಕೆಯಲ್ಲಿ” ಈ ಗಾದೆಯ ಮಾತನ್ನು ವಿಸ್ತರಿಸಿ ಬರೆಯಿರಿ.

X. ಈ ಕೆಳಗೆ ಕೊಟ್ಟಿರುವ ವಿಷಯಗಳಲ್ಲಿ ಯಾವುದಾದರೂ ಒಂದು ವಿಷಯವನ್ನು ಕುರಿತು ಪ್ರಬಂಧ ಬರೆಯಿರಿ.

1x4=4

1. ರಾಣಿಚೆನ್ನಮ್ಮ

2. ನದಿಗಳು ನಾಗರಿಕತೆಯ ತೊಟ್ಟಿಲು

3. ಪ್ರಾಣಿ ಸಂರಕ್ಷಣೆ

ಪಠ್ಯಗಳ ಅಧ್ಯಯನ -28 ಅಂಕಗಳು

XI. ಈ ಕೆಳಗಿನ ಪ್ರಶ್ನೆಗಳಿಗೆ 2-3 ವಾಕ್ಯಗಳಲ್ಲಿ ಉತ್ತರಿಸಿರಿ.

4x2=8

1. ಕತ್ತೆಯು ಕುದುರೆಗೆ ಏನೆಂದು ಹೇಳಿತು?
2. ಹುಡುಗಿಯು ಪೀತಾಂಬರವನ್ನು ನೇಯುತ್ತಾ ಕೊಡಲು ಕಾರಣವೇನು?
3. ಸಿದ್ಧಾರೂಢರ ಸ್ವಾಮಿಗಳು ಮೂಲತಃ ಯಾವ ಊರಿನವರು? ಸಿದ್ಧಾರೂಢರ ಮಠವು ಯಾವ ಜಿಲ್ಲೆಯಲ್ಲಿದೆ?
4. ಚೆನ್ನಮ್ಮನಿಗೆ ನೋವಾಗಲು ಕಾರಣವೇನು?

XII. ಈ ಕೆಳಗಿನ ಪ್ರಶ್ನೆಗಳಿಗೆ 4-5 ವಾಕ್ಯಗಳಲ್ಲಿ ಉತ್ತರಿಸಿರಿ.

2x3=6

1. ಕಿತ್ತೂರ ಕೇಸರಿ ಕಣ್ಣಚ್ಚಿ ಏನೆಂದು ಬೇಡಿಕೊಂಡಳು?
2. ಸುಂದರ್ ಗುಪ್ತ ಸಂಕೇತವನ್ನು ರಾಜುವಿಗೆ ಮಾತ್ರ ಹೇಳಲು ಕಾರಣವೇನು?

XIII. ಈ ಕೆಳಗಿನ ಸಂದರ್ಭವನ್ನು ಸ್ವಾರಸ್ಯದೊಂದಿಗೆ ವಿವರಿಸಿರಿ.

2x3=6

1. "ನಮ್ಮ ಮಗಳ ಹಾಗೆ ನೋಡೋತ್ತೇವೆ".

ಅಥವಾ

"ನಾನು ನೀನು ಕಾಪಾಡಿದ ಕೊಕ್ಕರೆಯೇ"

2. "ನಲದ ಕಣಕಣದಾಗ ಮನದ ಪದಪದರಾಗ".

ಅಥವಾ

"ಹರಿಯುತ್ತ ಸುರಿಯುತ್ತ ಧೋ ಧೋ ಬಾರವ್ವ".

XIV. ಈ ಕೆಳಗಿನ ಪ್ರಶ್ನೆಗಳಿಗೆ 5-6 ವಾಕ್ಯಗಳಲ್ಲಿ ಉತ್ತರಿಸಿರಿ.

1x4=4

1. ಸಿದ್ಧಾರೂಢ ಜಾತ್ರೆಯ ತೇರಳೆಯುವ ಸಂದರ್ಭವನ್ನು ವರ್ಣಿಸಿ.

ಅಥವಾ

ಯಾಣದ ಕುರಿತ ಮಾಹಿತಿಯನ್ನು ನಿಮ್ಮ ಮಾತುಗಳಲ್ಲಿ ಬರೆಯಿರಿ.

XV. ಈ ಕೆಳಗಿನ ಪ್ರಶ್ನೆಗಳಿಗೆ 5-6 ವಾಕ್ಯಗಳಲ್ಲಿ ಉತ್ತರಿಸಿರಿ.

1x4=4

1. ನೀನನಗಿದ್ದರೆ ಪದ್ಯದ ಸಾರಾಂಶವನ್ನು ನಿಮ್ಮದೇ ಮಾತುಗಳಲ್ಲಿ ವಿವರಿಸಿ.

ಅಥವಾ

ಗಂಗವ್ಯತಾಯಿ ಪದ್ಯದ ಸಾರಾಂಶವನ್ನು ನಿಮ್ಮ ಮಾತುಗಳಲ್ಲಿ ಬರೆಯಿರಿ.

\*\*\*\*\*





**Jindal Vidya Mandir, JSW Hill Side Township**  
**Term-II, Examination (2025-26)**

Class/sec: VI\_\_  
Subject: Hindi (III Lang)

Set-A

Max Marks:30  
Duration-1Hr

**आवश्यक निर्देश- 1) सभी प्रश्नों को हल करना अनिवार्य है ।**  
**2) प्रश्नों की कुल संख्या 6 है।**

प्रश्न I) दिए गए पठित गद्यांश को पढ़कर नीचे लिखे प्रश्नों के सही उत्तर विकल्पों में से चुनकर लिखिए - 5x1=5  
( Read the passage and choose the correct option for each of the following questions.)

शेरूदा बहुत बड़ा शेर था। वह जंगल का राजा था। वह बहुत आलसी हो गया था। मेहनत नहीं करना चाहता था। इसी कारण भोजन के लिए शिकार भी नहीं करता था। जंगल के सभी पशु-पक्षी उसके लिए भोजन लेकर आते थे। एक दिन शेरूदा को बहुत भूख लग रही थी। "मुझे खाना दो, मैं भूखा हूँ." गर-र-र-र वह गुर्राया। एक छोटा खरगोश कूदता हुआ आया। "शेरूदा, एक लाल गाजर खाओगे ? खेत से अभी निकालकर लाया हूँ" उसने पूछा। "चले जाओ ! गाजर तो खरगोश खाते हैं। मुझे भोजन चाहिए। मैं भूखा हूँ, ग...र...र..." शेरूदा चिल्लाया।

1) शेरूदा कौन था ?

क) बंदर

ख) तोता

ग) चीता

घ) शेर

2) शेरूदा कैसा था ?

क) आलसी

ख) खूबसूरत

ग) अमीर

घ) मेहनती

3) शेरूदा के लिए भोजन कौन-कौन लेकर आता था ?

क) तोता

ख) पशु-पक्षी

ग) खरगोश

घ) इनमें से कोई नहीं

4) लाल गाजर कौन लेकर आया ?

क) तोता

ख) पशु-पक्षी

ग) खरगोश

घ) चीता

5) जंगल का राजा कौन था ?

क) हरा तोता

ख) शेरूदा

ग) नटखट बंदर

घ) शेरनी

प्रश्न II) 'था' या 'थे' लिखकर वाक्य पूरा कीजिए -

3X1=3

(Complete the sentence using 'था' or 'थे')

1) घर के पीछे एक बगीचा -----

2) बगीचे में आम के पेड़ -----

3) पेड़ पर चिड़िया का घोंसला -----

प्रश्न III) सही विशेषण शब्द चुनकर रिक्त स्थान की पूर्ति कीजिए -  
( Select the most appropriate adjective.)

4X1=4

( छोटा मीठा नटखट लाल )

- 1) ----- गाजर
- 2) ----- बंदर
- 3) ----- खरगोश
- 4) ----- आम

प्रश्न IV) एक के अनेक लिखिए -

4X1=4

(Write the plurals of the following words )

बस्ता जूता नाव बगीचा

प्रश्न V) निम्नलिखित प्रश्नों के उत्तर एक वाक्य में लिखिए -

5X2=10

(Answer the following questions in one sentence)

- (1) आम से बनने वाली चार चीजों के नाम लिखिए ?
- (2) मिनी ने किसको ई-मेल लिखा ?
- (3) तितली किससे बातें करती है ?
- (4) ऋचा और मधुर के घर के पीछे क्या था ?
- (5) दादी जी ने सामान लाने के लिए क्या दिया ?

प्रश्न VI) सही विलोम शब्दों को मिलाइए-

4X1=4

( Match the opposite words )

क्रम संख्या	(क)	(ख)	उत्तर
1	दूर	बुरा	( )
2	इधर	उदास	( )
3	खुश	पास	( )
4	अच्छा	उधर	( )

\*\*\*\*\*



**Jindal Vidya Mandir, JSW Hill Side Township**  
**Term-II, Examination (2025-26)**

Class/sec: VI\_\_

Subject: Hindi (III Language)

Set-B

Max Marks:30

Duration-1Hr

- आवश्यक निर्देश- 1) सभी प्रश्नों को हल करना अनिवार्य है ।**  
**2) प्रश्नों की कुल संख्या 6 है।**

प्रश्न I) दिए गए पठित गद्यांश को पढ़कर नीचे लिखे प्रश्नों के सही उत्तर विकल्पों में से चुनकर लिखिए -

(Read the passage and choose the correct option for each of the following questions.) 5x1=5

ऋचा और मधुर के घर के पीछे एक बगीचा था। उस बगीचे में आम, आड़ू, नीम और अमरूद के कुछ वृक्ष थे। तरह-तरह के पक्षी उन पेड़ों पर आकर बैठते थे। एक दिन ऋचा ने बगीचे की झाड़ियों में एक घोंसला देखा। उसमें चार छोटे-छोटे अंडे थे। वह दौड़कर मधुर को बुला लाई। दोनों बच्चे दूर से उन अंडों को देखा करते। कुछ दिनों के बाद अंडों में से चार नन्हे-नन्हे बच्चे निकले। ऋचा और मधुर ने पास जाकर देखा।

1) ऋचा और मधुर के घर के पीछे क्या था ?

- क) बाजार                      ख) बगीचा                      ग) मंदिर                      घ) स्कूल

2) बगीचे में कौन-से वृक्ष नहीं थे ?

- क) आम                      ख) आड़ू                      ग) नीम                      घ) पीपल

3) ऋचा ने झाड़ियों में क्या देखा ?

- क) झूला                      ख) घोंसला                      ग) तितली                      घ) गेंद

4) घोंसले में कितने अंडे थे ?

- क) पाँच                      ख) दो                      ग) चार                      घ) सात

5) अंडों में से कुछ दिनों बाद क्या निकले ?

- क) चार नन्हे-नन्हे बच्चे                      ख) दो बड़े पंछी                      ग) एक तितली                      घ) एक तोता

प्रश्न II) नीचे दिए गए शब्दों के लिंग बदलिए -

4X1=4

( Change the gender of words below )

दादा, भाई, शेर, पिता

प्रश्न III ) एक के अनेक लिखिए -

4X1=4

( Write the plurals of the followings words )

टुकड़ा      घोंसला      थैला      गुड़िया

प्रश्न VI) एक जैसी आवाज वाले शब्द लिखो -

3X1=3

(Write words that rhyme with the flowings.)

( कली चंचल फूल )

- 1) ----- फली
- 2) ----- अंचल
- 3) ----- झूल

प्रश्न V) निम्नलिखित प्रश्नों के उत्तर एक वाक्य में लिखिए -

5X2=10

(Answer the following questions in one sentence)

- (1) शेरूदा कौन था ?
- (2) मिनी चंदा को घर क्यों बुलाना चाहती थी ?
- (3) किसके बच्चे उड़ गए थे ?
- (4) तितली किसके मन को प्रसन्न करती है ?
- (5) सर्दी से बचाव के लिए हम क्या-क्या करते हैं ?

प्रश्न VI) सही विलोम शब्दों को मिलाइए-

4X1=4

( Match the opposite words )

क्रम संख्या	(क)	(ख)	उत्तर
1	सच्चा	पीछे	( )
2	इधर	झूठा	( )
3	उठना	बैठना	( )
4	आगे	उधर	( )

\*\*\*\*\*



**Jindal Vidya Mandir, JSW Hill Side Township**  
**Term-II Examination (2025-26)**  
**Set-A**

**Class: - VI/Sec: - \_\_\_\_\_**  
**Subject: - Kannada (III Language)**

**Max. Marks: - 30**  
**Duration: - 1Hr**

**General Instruction: -This question paper contains 2 pages and 9 main questions.**

**I. ಈ ಕೆಳಗಿನ ಗದ್ಯ ಭಾಗವನ್ನು ಓದಿ ಕೊಟ್ಟಿರುವ ಪ್ರಶ್ನೆಗಳಿಗೆ ಸರಿಯಾದ ಉತ್ತರವನ್ನು ಆರಿಸಿ ಬರೆಯಿರಿ.**

**5x1=5**

ರಾಮಣ್ಣ ಒಬ್ಬ ಉತ್ತಮ ಬೇಸಾಯಗಾರ. ಹೊಲಗದ್ದೆಗಳಲ್ಲಿ ಕಷ್ಟಪಟ್ಟು ದುಡಿಯುತ್ತಿದ್ದನು. ಹೆಚ್ಚು ಬೆಳೆಗಳನ್ನು ಬೆಳೆಯುತ್ತಿದ್ದನು. ಪ್ರತಿದಿನ ಬೆಳಿಗ್ಗೆ ಎದ್ದು ಹೊಲಕ್ಕೆ ಹೋಗಲು ಸಿದ್ಧತೆ ಮಾಡಿಕೊಳ್ಳುತ್ತಿದ್ದನು. ರಾಮಣ್ಣನ ಮಗ ಗಣೇಶನ ಶಾಲೆಗೆ ಅಂದು ರಜೆ ಇತ್ತು. ಗಣೇಶ ಅಪ್ಪನೊಡನೆ ತಾನು ಹೊಲಕ್ಕೆ ಬರುವುದಾಗಿ ಹೇಳಿದ. ರಾಮಣ್ಣ ಕರೆದುಕೊಂಡು ಹೋಗಲು ಒಪ್ಪಿದನು.

**ಪ್ರಶ್ನೆಗಳು:**

1. ರಾಮಣ್ಣ ಒಬ್ಬ ಉತ್ತಮ \_\_\_\_\_.

(i) ಬೇಸಾಯಗಾರ (ii) ಆಟಗಾರ (iii) ಕರುಣಾಳು (iv) ಸದ್ಗುಣ

2. ಪ್ರತಿದಿನ \_\_\_\_\_ ಎದ್ದು ಹೊಲಕ್ಕೆ ಹೋಗಲು ಸಿದ್ಧತೆ ಮಾಡಿಕೊಳ್ಳುತ್ತಿದ್ದನು.

(i) ರಾತ್ರಿ (ii) ಬೆಳಿಗ್ಗೆ (iii) ಮಧ್ಯಾಹ್ನ (iv) ಸಾಯಂಕಾಲ

3. ರಾಮಣ್ಣನ ಮಗನ ಹೆಸರು \_\_\_\_\_.

(i) ಕುಮಾರ (ii) ಗಜಾನನ (iii) ಗಣೇಶ (iv) ರಾಮಣ್ಣ

4. ಗಣೇಶ ಅಪ್ಪನೊಡನೆ ತಾನು \_\_\_\_\_ ಬರುವುದಾಗಿ ಹೇಳಿದ.

(i) ಶಾಲೆಗೆ (ii) ಊರಿಗೆ (iii) ಗದ್ದೆಗೆ (iv) ಹೊಲಕ್ಕೆ

5. ರಾಮಣ್ಣ ಹೆಚ್ಚು \_\_\_\_\_ ಬೆಳೆಯುತ್ತಿದ್ದನು..

(i) ಹೂವುಗಳನ್ನು (ii) ಬೆಳೆಗಳನ್ನು (iii) ತರಕಾರಿಗಳನ್ನು (iv) ಯಾವುದು ಅಲ್ಲ

**II. ಹೊಂದಿಸಿ ಬರೆಯಿರಿ .**

**4X1=4**

**'ಅ'**

**'ಆ'**

1. ಸತ್ಯವಂತ

ಅ) ಉಳಿ

2. ಮುಂದೆ

ಆ) ಮೂರು ಕಲ್ಲುಗಳು

3. ಶಿಲ್ಪಿ

ಇ) ಬಾಲಕ

4. ಸುತ್ತಿಗೆ

ಈ) ಹಿಂದೆ

**III. ಈ ಕೆಳಗಿನ ಆವರಣದಲ್ಲಿರುವ ಅಕ್ಷರಗಳನ್ನು ಬಳಸಿ ಸೂಕ್ತ ಪದ ರಚಿಸಿ.**

**3x1=3**

1. ಪ್ರಾ \_\_ ಭ. ( ರಂ, ಸಂ, ಕಂ)

2. \_\_ ಮಾಣಿಕತೆ ( ದಾ, ಪ್ರಾ, ತಾ)

3. ಸತ್ಯ \_\_ ತ ( ವಂ, ನಂ, ಗಂ)

IV. ಈ ಕೆಳಗಿನ ಬಿಟ್ಟ ಸ್ಥಳಗಳಲ್ಲಿ ಅವರಣದಲ್ಲಿ ಕೊಟ್ಟಿರುವ ಸರಿಯಾದ ಉತ್ತರವನ್ನು ಆರಿಸಿ ಬರೆಯಿರಿ.

4X1=4

( ಜಲಚರ, ಸುಳು, ತಪ್ಪಿಗೆ, ಹೊಗಳಿದರು)

1. ಕಡಲಿನ ತುಂಬಾ \_\_\_\_\_ ಪ್ರಾಣಿ
2. ಜನರು ಶಿಲ್ಪಿಯನ್ನು ಬಾಯಿ ತುಂಬಾ \_\_\_\_\_.
3. ಕಾವಲುಗಾರರಿಂದ ಆದ \_\_\_\_\_ ಕ್ಷಮೆ ಕೋರಿದರು.
4. ಬಾಲಕನಿಗೆ \_\_\_\_\_ ಹೇಳಲು ಮನಸ್ಸು ಬರಲಿಲ್ಲ.

V. ಈ ಕೆಳಗಿನ ವಾಕ್ಯಗಳನ್ನು ಸರಿಪಡಿಸಿ ಪುನಃ ಬರೆಯಿರಿ.

2X1=2

1. ಬೇಸಾಯಗಾರ /ಉತ್ತಮ/ ರಾಮಣ್ಣ
2. ಬಾಳೆಹಣ್ಣುಗಳನ್ನು /ಕೋತಿಗಳಿಗೆ/ಕೊಟ್ಟಳು/ ಅಜ್ಜಿ

VI. ಈ ಕೆಳಗಿನ ಪದಗಳನ್ನು ಕೂಡಿಸಿ ಬರೆಯಿರಿ.

2X1=2

1. ಪ್ರೀತಿ+ಇಂದ=\_\_\_\_\_
2. ಆಸೆ + ಇಂದ =\_\_\_\_\_

VII. ಈ ಕೆಳಗಿನ ಪದಗಳನ್ನು ಸ್ವಂತ ವಾಕ್ಯದಲ್ಲಿ ಬರೆಯಿರಿ.

2X1=2

1. ಸಂತೋಷ: \_\_\_\_\_
2. ಪ್ರೀತಿ: \_\_\_\_\_

VIII. ಕೆಳಗಿನ ಪ್ರಶ್ನೆಗಳಿಗೆ ಒಂದು ವಾಕ್ಯದಲ್ಲಿ/ ಒಂದು ಪದದಲ್ಲಿ ಉತ್ತರಿಸಿ.

4X1=4

1. ಅಜ್ಜಿಯು ಏನನ್ನು ಆರಿಸುತ್ತಾ ಬಂದಳು?
2. ಕಡಲಿನಾಳದಲ್ಲಿ ಯಾವ ಗಣಿ ಇದೆ?
3. ಸಮಾರಂಭದಲ್ಲಿ ಯಾರನ್ನು ಸನ್ಮಾನಿಸಲಾಯಿತು ?
4. ಗುರುಗಳು ಎಲ್ಲಿಗೆ ಬಂದರು?

IX. ಈ ಕೆಳಗಿನ ವಾಕ್ಯಗಳನ್ನು ಯಾರು ಯಾರಿಗೆ ಹೇಳಿದರು?

2X2=4

1. "ದಯಮಾಡಿ ನಮ್ಮನ್ನು ಕ್ಷಮಿಸಿ ಸ್ವಾಮಿ"  
ಯಾರು ಹೇಳಿದರು? \_\_\_\_\_  
ಯಾರಿಗೆ ಹೇಳಿದರು? \_\_\_\_\_
2. "ಇವಳಿಗೆ ಸರಿಯಾಗಿ ಹೊಟ್ಟೆಗೆ ಊಟವಿಲ್ಲ."  
ಯಾರು ಹೇಳಿದರು? \_\_\_\_\_  
ಯಾರಿಗೆ ಹೇಳಿದರು? \_\_\_\_\_



**Jindal Vidya Mandir, JSW Hill Side Township**  
**Term-II Examination (2025-26)**  
**Set-B**

**Class: - VI/Sec: - \_\_\_\_\_**  
**Subject: - Kannada (III Language)**

**Max. Marks: - 30**  
**Duration: - 1Hr**

**General Instruction: -This question paper contains 2 pages and 9 main questions.**

**I. ಈ ಕೆಳಗಿನ ಗದ್ಯ ಭಾಗವನ್ನು ಓದಿ. ಕೊಟ್ಟಿರುವ ಪ್ರಶ್ನೆಗಳಿಗೆ ಸರಿಯಾದ ಉತ್ತರವನ್ನು ಆರಿಸಿ ಬರೆಯಿರಿ.**

**5x1=5**

ಕನ್ನಡ ನಾಡಿನ ಜೀವನದಿ ಕಾವೇರಿ. ಕರ್ನಾಟಕದ ದಕ್ಷಿಣ ಭಾಗದಲ್ಲಿ ಹರಿಯುವ ಮುಖ್ಯ ನದಿ. ಇದು ಕೊಡಗು ಜಿಲ್ಲೆಯ ಬ್ರಹ್ಮಗಿರಿ ಬೆಟ್ಟಸಾಲಿನ ತಲಕಾವೇರಿಯಲ್ಲಿ ಹುಟ್ಟುತ್ತದೆ. ಕಾವೇರಿ ನದಿಯನ್ನು ಕೊಡಗಿನ ಕಾವೇರಿ ಎಂದು ಕರೆಯುತ್ತಾರೆ. ಕಾವೇರಿ ನದಿಗೆ ಕಾವೇರಿ ನದಿ ಅಣೆಕಟ್ಟಿ, ಕಟ್ಟಲಾಗಿದೆ ಈ ಅಣೆಕಟ್ಟನ್ನು ಸರ್. ಎಂ. ವಿಶ್ವೇಶ್ವರಯ್ಯ ಅವರ ಮಾರ್ಗದರ್ಶನದಲ್ಲಿ ನಿರ್ಮಿಸಲಾಯಿತು. ಇದು ಕೆ. ಆರ್. ಎಸ್ ಎಂದೇ ಪ್ರಸಿದ್ಧಿ ಪಡೆದಿದೆ.

**ಪ್ರಶ್ನೆಗಳು:**

1. ಕನ್ನಡ ನಾಡಿನ ಜೀವನದಿ \_\_\_\_\_.  
(i) ಕಪಿಲ (ii) ನೇತ್ರಾವತಿ (iii) ಕಾವೇರಿ (iv) ಗಂಗಾ
2. ಕರ್ನಾಟಕದ \_\_\_\_\_ ಹರಿಯುವ ಮುಖ್ಯ ನದಿ.  
(i) ಉತ್ತರ ಭಾಗದಲ್ಲಿ (ii) ದಕ್ಷಿಣ ಭಾಗದಲ್ಲಿ (iii) ನೈರುತ್ಯ ಭಾಗದಲ್ಲಿ (iv) ಈಶಾನ್ಯ ಭಾಗದಲ್ಲಿ
3. ಇದು ಕೊಡಗು ಜಿಲ್ಲೆಯ \_\_\_\_\_ ಬೆಟ್ಟಸಾಲಿನ ತಲಕಾವೇರಿಯಲ್ಲಿ ಹುಟ್ಟುತ್ತದೆ.  
(i) ಸಪ್ತಗಿರಿ (ii) ಬ್ರಹ್ಮಗಿರಿ (iii) ದೇವಗಿರಿ (iv) ಪುಷ್ಪಗಿರಿ
4. ಕಾವೇರಿ ನದಿಯನ್ನು \_\_\_\_\_ ಎಂದು ಕರೆಯುತ್ತಾರೆ.  
(i) ಕೊಡಗಿನ ಕಾವೇರಿ (ii) ಕೊಡಗಿನ ಜನನಿ (iii) ಕೊಡಗಿನ ಕಲ್ಪತರು (iv) ಕಾಡಿನ ನದಿ
5. ಈ ಅಣೆಕಟ್ಟನ್ನು \_\_\_\_\_ ಅವರ ಮಾರ್ಗದರ್ಶನದಲ್ಲಿ ನಿರ್ಮಿಸಲಾಯಿತು.  
(i) ಈಶ್ವರಚಂದ್ರ (ii) ವೆಂಕಯ್ಯ (iii) ಸಿ. ವಿ ರಾಮನ್ (iv) ಸರ್. ಎಂ. ವಿಶ್ವೇಶ್ವರಯ್ಯ

**II. ಹೊಂದಿಸಿ ಬರೆಯಿರಿ.**

**4X1=4**

**'ಅ'**

**'ಆ'**

- |                     |                 |
|---------------------|-----------------|
| 1. ಮೂರು             | ಅ) ಸಿಬ್ಬಂದಿ     |
| 2. ಗೋಪಾಲಕೃಷ್ಣ ಗೋಖಲೆ | ಆ) ಕಡಲು         |
| 3. ಕಾವಲು            | ಇ) ಸತ್ಯವಂತ ಬಾಲಕ |
| 4. ಒಡಲು             | ಈ) ಕಲ್ಲುಗಳು     |

**III. ಈ ಕೆಳಗಿನ ಆವರಣದಲ್ಲಿರುವ ಅಕ್ಷರಗಳನ್ನು ಬಳಸಿ ಸೂಕ್ತ ಪದ ರಚಿಸಿ.**

**3x1=3**

1. ಅ \_\_\_\_\_ ಮಾನ. ( ಭಿ, ರ, ಮಾ)
2. ಹರ \_\_\_\_\_ ( ಜು, ಪು, ಸು)
3. ಸಿ \_\_\_\_\_ ತೆ ( ತ್ರ, ದ್ವ, ತೆ)

**IV. ಈ ಕೆಳಗಿನ ಬಿಟ್ಟ ಸ್ಥಳಗಳಲ್ಲಿ ಆವರಣದಲ್ಲಿ ಕೊಟ್ಟಿರುವ ಸರಿಯಾದ ಉತ್ತರವನ್ನು ಆರಿಸಿ ಬರೆಯಿರಿ.**

**4X1=4**

( ಏಟುಗಳನ್ನು, ಶಿಕ್ಷಣ, ಈಶ್ವರ ಚಂದ್ರ, ಒಣ ಕಟ್ಟಿಗೆ, )

1. ಆ ಕಲ್ಲು ತಾಳ್ಮೆಯಿಂದ ಎಲ್ಲಾ \_\_\_\_\_ ಸಹಿಸಿಕೊಂಡಿತು.
2. ಇವರು ಮಹಿಳೆಯರಿಗೂ \_\_\_\_\_ ಬೇಕೆಂದು ಹೇಳಿದರು.
3. ಸಮಾರಂಭದಲ್ಲಿ \_\_\_\_\_ ಅವರನ್ನು ಸನ್ಮಾನಿಸಲಾಯಿತು.
4. ಅಜ್ಜಿಯು \_\_\_\_\_ ಆರಿಸುತ್ತಾ ಬಂದಳು.

V. ಈ ಕೆಳಗಿನ ವಾಕ್ಯಗಳನ್ನು ಸರಿಪಡಿಸಿ ಪುನಃ ಬರೆಯಿರಿ.

2X1=2

1. ಸ್ವಾಮಿ/ ಕ್ಷಮಿಸಿ /ನಮ್ಮನ್ನು /ದಯಮಾಡಿ
2. ತರಗತಿಗೆ/ ಬಂದರು/ ಗುರುಗಳು

VI. ಈ ಕೆಳಗಿನ ಪದಗಳನ್ನು ಕೂಡಿಸಿ ಬರೆಯಿರಿ.

2X1=2

1. ಖುಷಿ+ಇಂದ=\_\_\_\_\_
2. ಮಮತೆ + ಇಂದ = \_\_\_\_\_

VII. ಈ ಕೆಳಗಿನ ಪದಗಳನ್ನು ಸ್ವಂತ ವಾಕ್ಯದಲ್ಲಿ ಬರೆಯಿರಿ.

2X1=2

1. ಆಹಾರ: \_\_\_\_\_
2. ಕಾಪಾಡು: \_\_\_\_\_

VIII. ಕೆಳಗಿನ ಪ್ರಶ್ನೆಗಳಿಗೆ ಒಂದು ವಾಕ್ಯದಲ್ಲಿ/ ಒಂದು ಪದದಲ್ಲಿ ಉತ್ತರಿಸಿ.

4X1=4

1. ಸೇವಕರು ಯಾರಿಗೆ ಸುದ್ದಿಯನ್ನು ತಿಳಿಸಿದರು ?
2. ಕಡಲಿನ ತೀರದಲ್ಲಿ ಯಾವುದು ರಾಶಿ ಹರಡಿರುತ್ತದೆ ?
3. ಬಾಲಕನಿಗೆ ಏನು ಹೇಳಲು ಮನಸ್ಸು ಬರಲಿಲ್ಲ ?
4. ಯಾವ ಕಲ್ಲು ಸುಂದರ ಮೂರ್ತಿ ಆಯಿತು ?

IX. ಈ ಕೆಳಗಿನ ವಾಕ್ಯಗಳನ್ನು ಯಾರು ಯಾರಿಗೆ ಹೇಳಿದರು?

2X2=4

1. " ಅವರ ಕರ್ತವ್ಯ ನಿಷ್ಠೆ ಕಂಡು ನನಗೆ ಹೆಮ್ಮೆಯಾಗಿದೆ"  
ಯಾರು ಹೇಳಿದರು? \_\_\_\_\_  
ಯಾರಿಗೆ ಹೇಳಿದರು? \_\_\_\_\_
2. "ಈ ಮರವನ್ನು ಯಾರು ಕಡಿಯುವಂತಿಲ್ಲ"  
ಯಾರು ಹೇಳಿದರು? \_\_\_\_\_  
ಯಾರಿಗೆ ಹೇಳಿದರು? \_\_\_\_\_



**Jindal Vidya Mandir, JSW Hill Side Township**  
**Term-II Examination (2025-26)**

**SET-A**

**Class: VI**  
**Sub: Mathematics**

**Max Marks:80**  
**Duration:3Hrs.**

---

**General Instructions:**

- This question paper consists of 6 pages & VIII main questions.
- It contains 48 questions.
- It consists of two sections A and B. Section A is objective type and section B is subjective type.
- All the questions are compulsory.

---

**SECTION A**

**I. Choose the correct option and complete the statement. 10x1M=10M**

1. Using divisibility tests, which of the following numbers are divisible by 4?  
(a) 4096      (b) 21084      (c) 31795012      (d) All of these
2. The area of a rectangle is  $40 \text{ cm}^2$ . If its breadth is 4 cm, then its length is \_\_\_\_\_.  
(a) 20 cm      (b) 30 cm      (c) 10 cm      (d) 15 cm
3. What fraction of an hour is 35 minutes?  
(a) 1      (b)  $\frac{3}{12}$       (c)  $\frac{7}{12}$       (d)  $\frac{3}{4}$
4. Let PQ be a line of 11 cm and M is the mid-point of PQ. What is the distance of M from P?  
(a) 5.5 cm      (b) 5 cm      (c) 6 cm      (d) 7 cm
5. Which of the following figure has no line of symmetry?  
(a) Equilateral triangle      (b) Square      (c) Semi-circle      (d) Parallelogram
6. The number which is neither positive nor negative is \_\_\_\_\_.  
(a) 1      (b) 5      (c) 0      (d) 10

7. If perimeter of an equilateral triangle is 36 cm. Then the length of each side is\_\_\_\_\_.

- (a) 6 cm            (b) 12 cm            (c) 8 cm            (d) 9 cm

8. By how much  $\frac{19}{20}$  is greater than  $\frac{2}{20}$ ?

- (a)  $\frac{21}{20}$             (b)  $\frac{21}{40}$             (c)  $\frac{17}{40}$             (d)  $\frac{17}{20}$

9. A simple closed curve all of whose points are at the same distance from a fixed point is\_\_\_\_\_.

- (a) Radius            (b) Circle            (c) Square            (d) Rectangle

10. Which of the following shapes has rotational symmetry but no line of symmetry?

- (a) Circle            (b) Scalene triangle            (c) Rhombus            (d) Equilateral triangle

**II. Fill in the blanks.**

**6X1M=6M**

11. The sum of a number and its inverse is always \_\_\_\_\_.

12. Perimeter of a triangle is the sum of the lengths of \_\_\_\_\_ sides.

13. When two or more fractions represent the same share, they are called \_\_\_\_\_ fractions.

14. The distance from the center of a circle to any point on the circle is called the \_\_\_\_\_.

15. The \_\_\_\_\_ is the point around which a figure is rotated in rotational symmetry.

16. The numbers -5, -4, -3, -2, and -1 are called \_\_\_\_\_.

**III. State whether the following statements are true or false. 6X1M=6M**

- 17. Area of a square is doubled if the side of the square is doubled.
- 18. Mixed fraction  $6\frac{2}{3}$  can be written as  $\frac{11}{3}$
- 19. Rotating a square does not change its lengths and angles.
- 20. A parallelogram has no line of symmetry.
- 21. 0 is greater than -1.
- 22. The next equivalent fraction of  $\frac{1}{2}$  ..... is  $\frac{5}{15}$

**IV. Match the following. 6X1M=6M**

Column A	Column B	Answers
23) Opposite sides are equal in a	i) +₹ 1000	
24) Credit of ₹ 1000 in a bank	ii) Symmetric architecture	
25) The additive inverse of + 3	iii) Rectangle	
26) Taj Mahal	iv) -₹ 1000	
27) Debit of ₹ 1000 in a bank	v) One line of symmetry	
28) Scissor	vi) -3	

**V. Do as Directed 6x2M=12M**

- 29. Find the common factors of 56 and 12.
- 30. Find the distance walked by Mohan if he takes three rounds of a square park of side 85 m.
- 31. Compare the following fractions:  
(a)  $\frac{4}{5}$  and  $\frac{5}{6}$       (b)  $\frac{3}{4}$  and  $\frac{2}{5}$
- 32. Construct a rectangle ABCD in which side AB = 3 cm and diagonal AC = 5 cm.

33. List all the capital letters of English alphabet having rotational symmetry of order 2.

34. The sum of two integers is 30. If one of them is -2, then find the other integer.

### SECTION B

**VI. Do as directed .**

**5x2M=10M**

35. Write four pairs of prime numbers less than 20 whose sum is divisible by 5.

36. Find the perimeter of each of the following shapes:

(a) A triangle of sides 3 cm, 4 cm and 5 cm.

(b) An equilateral triangle of side 9 cm.

37. Find the sum of  $1\frac{2}{3}$  and  $3\frac{2}{5}$ .

38. Construct a square of side 6 cm.

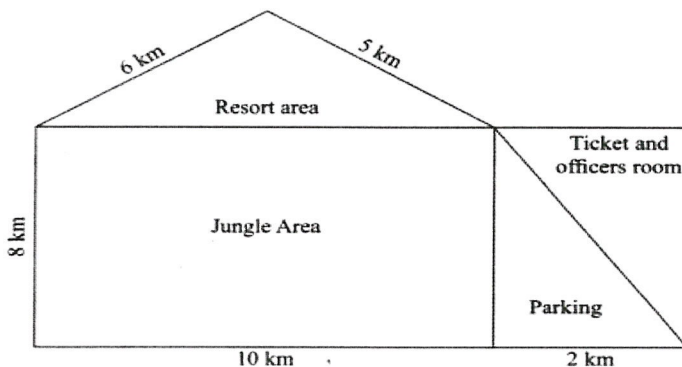
39. Complete the subtraction. (i)  $(-6)-(-9)$

(ii)  $(+5)-(-8)$

**VII. Do as directed.**

**6x3M=18M**

40. An excursion trip of students of class 6 visited the Jungle Safari. For their safety, the guide provides the map of the park to each student. The map is as given below:



Based on the above information answer the following questions.

(i) What is the perimeter of the Jungle area?

(ii) If there is fencing around the resort area for safety, find the length of the fencing.

(iii) What is the area of the parking, if the area of parking and the area of the ticket and officers room are same?

41. In a railway station, porter A carries three boxes of weights  $7\frac{3}{4}$  kg,  $8\frac{1}{2}$  kg,  $10\frac{1}{4}$  kg and porter B carries two boxes of weights  $18\frac{9}{20}$  kg and  $14\frac{1}{2}$  kg.

a) What is the total weight carried by porter A?

b) What is the total weight carried by porter B?

c) Who carries more weight?

42. Construct a rectangle in which one of the diagonals divides the opposite angles into  $45^\circ$  and  $45^\circ$ . What do you observe about the sides?

43. Can we have a figure with rotational symmetry whose smallest angle of symmetry is:

(a)  $35^\circ$

(b)  $45^\circ$

(c)  $16^\circ$

44. (a) Suppose Pooja starts with 0 rupees in the bank account and then she debited ₹ 10, ₹ 50, ₹ 90, ₹ 5 and ₹ 250, and then credited ₹ 500. What is her bank amount now?

(b) What should be added to +142 to get 838?

45. A teacher has 120 candies to distribute equally among students. She wants to ensure that each student gets the same number of candies without any leftovers.

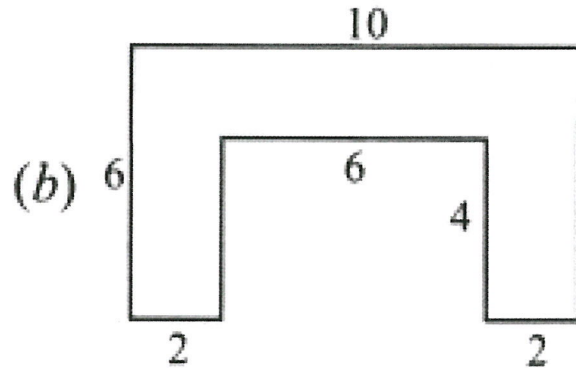
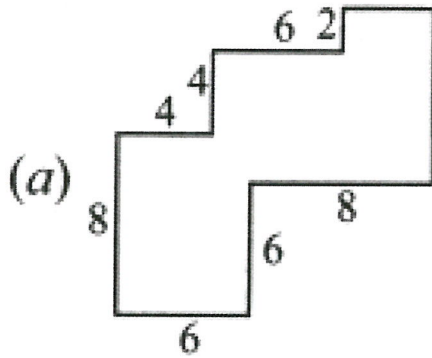
(i) Can the candies be divided among students in pairs? Explain why.

(ii) If the teacher decides to give 5 candies to each student, how many students can receive candies?

VIII. Do as directed.

3x4M=12M

46. By splitting the following figures into rectangles, find their areas.  
(The measures are given in centimetres.)



47. Construct a four sided figure with all the sides are equal in length but it should not be a square. Explain with steps.

48.(a) Write the following fractions in ascending order:  $\frac{3}{6}, \frac{2}{20}, \frac{1}{4}, \frac{4}{15}, \frac{2}{6}$

(b) Subtract  $\frac{12}{4}$  from  $\frac{8}{3}$  using Brahmagupta's method.



**Jindal Vidya Mandir, JSW Hill Side Township**  
**Term-II Examination (2025-26)**

**SET-B**

**Class: VI**  
**Sub: Mathematics**

**Max Marks:80**  
**Duration:3Hrs.**

---

**General Instructions:**

- This question paper consists of 6 pages & VIII main questions.
- It contains 48 questions.
- It consists of two sections A and B. Section A is objective type and section B is subjective type.
- All the questions are compulsory.

---

**SECTION A**

**I. Choose the correct option and complete the statement. 10x1M=10M**

1. Which of the following expression has only prime factors?

- (a)  $24 = 2 \times 3 \times 4$       (b)  $56 = 7 \times 2 \times 4$       (c)  $70 = 2 \times 5 \times 7$       (d)  $54 = 2 \times 3 \times 9$

2. Which figure encloses more area: a square of side 2 cm or a rectangle of side lengths 3 cm and 2 cm?

- (a) Square      (b) Rectangle      (c) Both have equal areas      (d) None of these

3. Which of the following fractions is greater than 1 ?

- (a)  $\frac{4}{7}$       (b)  $\frac{2}{3}$       (c)  $\frac{5}{4}$       (d)  $\frac{31}{77}$

4. A figure made by only half circles is called \_\_\_\_\_.

- (a) line      (b) rectangle      (c) wavy wave      (d) square

5. How many angles of symmetry does a square have?

- (a) 2      (b) 4      (c) 6      (d) 8

6. The set of negative numbers and whole numbers is called \_\_\_\_\_

- (a) natural numbers      (b) integers      (c) positive numbers      (d) zero

7. The side of a square is 6 cm. If its side is doubled, then its new perimeter will be \_\_\_\_\_.

- (a) 64 cm      (b) 48 cm      (c) 44 cm      (d) 56 cm

8. What fraction of an hour is 40 minutes?

- (a) 1                      (b)  $\frac{1}{3}$                       (c)  $\frac{2}{3}$                       (d)  $\frac{4}{3}$

9. When drawing a rectangle, which of the following is true about its diagonals?

- (a) They are always parallel.                      (b) They bisect each other at  $90^\circ$ .  
(c) They are equal in length.                      (d) None of these

10. Which of the following has no line of symmetry?

- (a) U                      (b) H                      (c) S                      (d) A

**II. Fill in the blanks.**

**6X1M=6M**

11. An integer between  $-4$  and  $-6$  is \_\_\_\_\_.
12. If the perimeter of a square field is  $16$  m, then the length of a side of the field is \_\_\_\_\_ m.
13. \_\_\_\_\_ fractions contain a whole number part and a fractional part.
14. The sum of all angles in a rectangle is \_\_\_\_\_ degrees.
15. The shape of a \_\_\_\_\_ remains the same when rotated by any angle.
16. The sum of successor of  $0$  and its predecessor is \_\_\_\_\_.

**III. State whether the following statements are true or false.**

**6X1M=6M**

17. If the side of a square floor is  $9$  m, then the area of the carpet needed to cover the floor of the room is  $36 m^2$ .
18.  $6$  times  $\frac{1}{8}$  is  $\frac{3}{4}$ .
19. All the sides of a rectangle are equal in length.
20. The number of angles of symmetry in a hexagon is four.
21.  $-6$  is to the right of  $-8$  on a number line.
22.  $\frac{18}{54}$  in the simplest form is  $\frac{1}{3}$

**IV. Match the following.****6X1M=6M**

Column A	Column B	Answers
23) Letter I	i) +10	
24) 10 steps to the right	ii) Horizontal and Vertical	
25) Scalene Triangle	iii) -10	
26) 10 km below sea level	iv) -₹ 1500	
27) All the sides are equal in a	v) No line of symmetry	
28) Spending ₹ 1500 on food	vi) Square	

**V. Do as Directed****6x2M=12M**

29. Find the common factors of 56 and 12.

30. Find the perimeter of each of the following shapes:

(a) A triangle of sides 3 cm, 4 cm and 5 cm.

(b) An isosceles triangle with equal sides 8 cm each and third side 6 cm.

31. Find the difference of  $4\frac{3}{6}$  and  $3\frac{2}{4}$ .

32. Construct a square of side 5 cm.

33. Evaluate the following. (i)  $(-7) - (-6)$

(ii)  $(-5) - (-3)$

34. How many lines of symmetry and angles of symmetry does Ashoka Chakra have?

## SECTION B

**VI. Do as directed .**

**5x2M=10M**

35. Find the prime factorisation of 4641.

36. Find the distance walked by Geetha if she takes four rounds of a square park of side 55 m.

37. Represent the following fractions on number line.

(a)  $\frac{1}{5}$

(b)  $\frac{3}{5}$

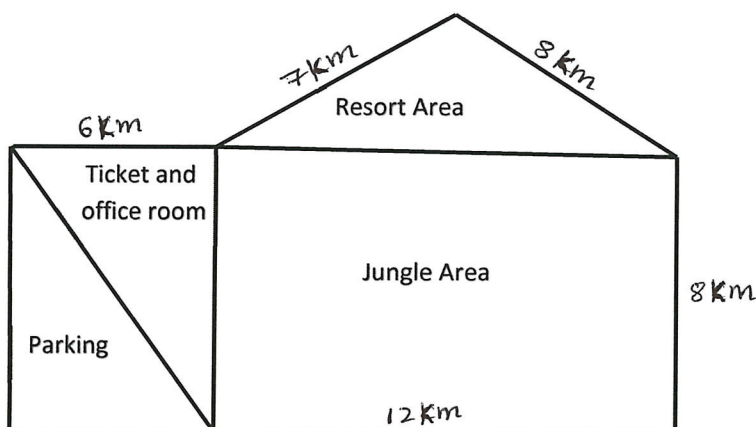
38. Construct a rectangle having adjacent sides of 6 cm and 4 cm and find its area.

39. The sum of two integers is 40. If one of them is -5, then find the other integer.

**VII. Do as directed.**

**6x3M=18M**

40. A group of Class 6 students visited the Green Valley Nature Park. For safety and easy navigation, the guide gave them a map of the park.



Based on the above information, answer the following questions:

(i) Find the perimeter of the entire Green Valley Park.

(ii) If fencing is done around the resort area, find the total length of fencing required.

(iii) Check whether the area of the parking area is equal to the area of the ticket counter room. Also find their areas.

41. Amit, Nitin and Alok are three friends, living in separate rooms in same house. Their electricity bill for a month is ₹ 6000. They decide to pay electricity bill according to their consumption, Amit agrees to pay one fourth of the total bill and Alok agrees to pay half of the total amount.

- (a) How much amount will be paid by each boy?
- (b) What values are depicted here?

42. Construct a rectangle in which one of the diagonals divides the opposite angles into  $35^\circ$  and  $55^\circ$ .

43. How many lines of symmetry does (a) a rectangle (b) a square (c) a parallelogram have?

44. A man bought pens and notebooks which costs ₹ 530. Next day he again bought pens of worth ₹ 100. He distributed pens and notebooks of worth ₹ 150 among the poor and the needy children.

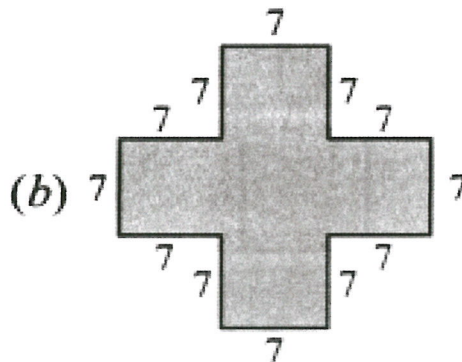
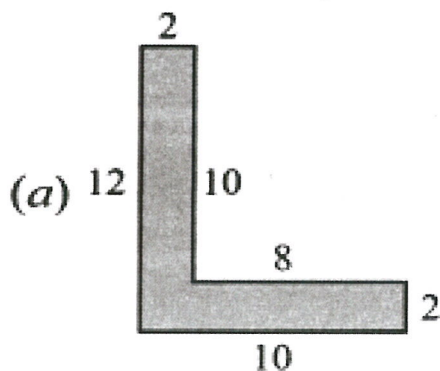
- (a) What was the cost of notebooks and pens left with him?
- (b) What values of the man are depicted here?

45. What are co-primes? Give examples of five pairs of co-prime numbers. Are co-primes always prime? If no, illustrate your answer by an example.

**VIII. Do as directed.**

**3x4M=12M**

46. split the following shapes into rectangles and find their areas. (The measures are given in centimeters.)



47. Construct a bigger house in which all the sides are of length 8 cm. Explain with steps.

48. (a) Write the following fractions in descending order  $\frac{6}{5}, \frac{2}{20}, \frac{1}{4}, \frac{4}{15}, \frac{2}{5}$

(b) Find the sum of  $\frac{15}{5}$  and  $\frac{7}{3}$  using Brahmagupta's method.



5	Why is reproduction essential for living beings? a) to grow larger                      c) for the continuity of life b) to respond to stimuli              d) for respiration	1M
6	Which method involves collecting and storing rainwater for later use? a) rainwater harvesting              c) leak prevention b) water efficient fixtures              d) efficient storage	1M
7	The components of air which are harmful to living beings are _____. a) Nitrogen and CO <sub>2</sub> c) smoke and water vapour b) dust and smoke                      d) dust and water vapour	1M
8	The process of a liquid state changing to a solid state is called _____. a) melting                                  c) condensation b) freezing                                  d) transpiration	1M
9	Which part of the flower turns into a fruit? a) ovary                                      c) sepals b) stigma                                      d) anther	1M
10	Which of these changes occur on heating water? a) water to ice                              c) water to water vapour b) water vapour to water.              d) all of these	1M
11	The time period for which an organism remains alive is called its _____. a) lifespan                                  c) excretion b) breathing                                  d) stimuli	1M
12	Which of the following cannot be called a habitat? a) a desert with camels              c) a Jungle with wild animals b) a pond with fishes              d) cultivated land with grazing cattle	1M
13	Bacteria and fungi are examples of _____. a) predators                                  c) consumers b) decomposers                              d) carnivores	1M
14	What is formed when we dissolve a substance in water? a) solute                                      c) solution b) solvent                                      d) none of these	1M

15	The heavy insoluble particles that settle down at the bottom of a solution is called _____. a) sediment      c) filtrate b) decant        d) none of these	1M
16	After harvesting, food grains are separated from the stalk by _____. a) threshing              c) winnowing b) hand picking        d) evaporation	1M
17	Assertion (A): Plants do not move from place to place like animals. Reason (R): Plants exhibit movement in response to certain stimuli. (a) Both Assertion and Reason are true and Reason is the correct explanation of Assertion. (b) Both Assertion and Reason are true, but Reason is not the correct explanation of Assertion (c) Assertion is true, but Reason is false. (d) Assertion is false, but Reason is true.	1M
18	Assertion - Proxima centauri is the closest known star to earth, exploding the sun.  Reason - Stars appear to twinkle more than planets when observed from Earth.  a) Assertion and Reason both are correct statements and reason is the correct explanation for assertion. b) Assertion and Reason both are correct statements and reason is not the correct explanation for assertion. c) Assertion is correct but the Reason is incorrect. d) Assertion is incorrect but Reason is correct	1M
19	Assertion - Evaporation increases with higher temperatures. Reason - Evaporation is <b>not</b> affected by wind conditions. a) Assertion and Reason both are correct statements and reason is the correct explanation for assertion. b) Assertion and Reason both are correct statements and reason is not the correct explanation for assertion.	1M

	<p>c) Assertion is correct but the Reason is incorrect.</p> <p>d) Assertion is incorrect but Reason is correct.</p>	
20	<p>Assertion - A laboratory thermometer is not suitable for measuring body temperature.</p> <p>Reason - The hotness or coldness of a system is <b>not</b> determined by its temperature.</p> <p>a) Assertion and Reason both are correct statements and reason is the correct explanation for assertion.</p> <p>b) Assertion and Reason both are correct statements and Reason is not the correct explanation for assertion.</p> <p>c) Assertion is correct but the Reason is incorrect.</p> <p>d) Assertion is incorrect but Reason is correct.</p>	1M
<b>II.</b>	<b>Give reasons for the following.</b>	<b>6X2=12M</b>
21	Mosquito larvae and pupae come to the water surface repeatedly.	2M
22	A digital thermometer is considered safer and more accurate than a Mercury thermometer	2M
23	Boiling water has a constant temperature even if heating continues.	2M
24	Cutting down trees on a large scale impacts the quality of the soil.	2M
25	Wet clothes placed on a clothesline get dry after some time.	2M
26	Goats found in the plains have longer legs and a shorter coat	2M
<b>III</b>	<b>Short answer questions.</b>	<b>7X3=21M</b>
27	Explain the interdependence of life forms within a forest ecosystem.	3M
28	Write the differences between evaporation on a cold day versus a hot day.	3M
29	What factors might contribute to lower body temperature of older persons as compared to young adults?	3M
30	Write any two specific features present in a deer that helps it detect the presence of predators like lions.	3M

31	During the COVID-19 pandemic, all of us wore masks. Generally what material are they made of? what is the role of these masks?	3M
32	What is the difference between reticulate and parallel leaf venation?	3M
33	Have you ever seen coconut oil getting converted into its solid state during the winter season? Explain.	3M
<b>IV</b>	<b>Case based questions.</b>	<b>3X4=12M</b>
34	During Science Week, Class 6 students attended a stargazing session. They observed patterns like Leo (the lion), Scorpius (the scorpion), and Cassiopeia (the queen). The instructor explained that these are constellations, each made up of many stars that form imaginary shapes. He also said that constellations are helpful for astronomers to locate stars and planets.	
a.	What are constellations made up of?	1M
b.	Name any two constellations you learned from this case	1M
c.	How are constellations useful to astronomers?	1M
d.	Why do constellations appear to move from east to west?	1M
35	Rohan's mother brought a packet of rice from the market. When she opened it, she found small stones and sand particles mixed with the rice.	
a	Which method should she use to remove the stones and sand?	1M
b	Why is this method suitable?	1M
c	Name any other situation where this method is commonly used.	1M
d	What will happen if the stones are not removed before cooking the rice?	1M
36	In the mountain region, Ria observed that most plants were tall, straight, and had needle-like leaves. She noticed that the trees did not shed their leaves even in winter.	
a	Why do mountain trees have needle-shaped leaves?	1M
b	Why do these trees remain green throughout the year?	1M
c	How does the cone shape of these trees help them during snowfall?	1M

d	What features of this region show it is a mountain habitat?	1M
<b>VI</b>	<b>Long answer questions.</b>	<b>3X5=15M</b>
37	Draw a neat labelled diagram of the life cycle of a frog and explain its stages.	5M
38	How does condensation play a significant role in bringing evaporator water back to the Earth's surface?	5M
39	Explain the importance of conserving natural resources and suggest practical ways to conserve both renewable and nonrenewable resources.	5M



5	Temperature tells about the _____. a) size of an object      c) colour of an object b) weight of an object   d) degree of hotness or coldness	1M
6	Which of the following components of air is present in the largest amount in the atmosphere? a) Water vapour      c) oxygen b) nitrogen      d) carbon dioxide	1M
7	What is <b>not</b> true about the air? a) it makes the windmill rotate b) it has no role in the water cycle c) birds can fly due to the presence of air d) it helps in the photosynthesis	1M
8	Any form of water that falls from the atmosphere to the Earth's surface. _____. a) precipitation      b) evaporation b) condensation      d) melting	1M
9	Separation of magnetic and non-magnetic substances by using a magnet is called _____. a) magnetic separation      c) magnetic filtration b) magnetic field      d) magnetic compass	1M
10	Obtaining Salt from seawater by _____. a) threshing      c) drying b) evaporation      d) winnowing	1M
11	A group of similar living things that can reproduce among themselves. _____. a) species      b) generation b) genes      d) organisms	1M
12	Which of the following is <b>not</b> a natural resource? a) Coal      c) Petroleum b) Plastic      d) Soil	1M
13	The surroundings where plants and animals live. _____ a) habitat      c) species b) adaptation      d) nature	1M



19	<p>Assertion - The sense of touch is a reliable method to measure the exact temperature of an object. Reason - The perception of temperature can be influenced by the surrounding temperature and the previous experience of touch</p> <p>a) Assertion and Reason both are correct statements and reason is the correct explanation for assertion. b) Assertion and Reason both are correct statements and Reason is not the correct explanation for assertion. c) Assertion is correct but the Reason is incorrect. d) Assertion is incorrect but Reason is correct.</p>	1M
20	<p>Assertion - Stars appear to twinkle more than planets when observed from Earth.</p> <p>Reason - The twinkling of stars is caused by the turbulence in Earth's atmosphere, which causes varying amounts of starlight to reach the observer</p> <p>a) Assertion and reason both are correct statements and Reason is the correct explanation for assertion. b) Assertion and Reason both are correct statements and reason is not the correct explanation for assertion. c) Assertion is correct but the Reason is incorrect. d) Assertion is incorrect but Reason is correct.</p>	1M

**Section-B**

<b>II. Give reasons for the following.</b>		<b>6X2=12M</b>
21	The piece of cloth is not used as filter paper for the purpose of filtration.	2M
22	Compressed natural gas is considered a cleaner fuel compared to petrol or diesel.	2M
23	Mountain goats have splayed hooves and broad.	2M
24	Leaf prepares food for the plants.	2M
25	Reproduction is important for living beings.	2M
26	Deodar trees are conical in shape and sloping branches.	2M

<b>III</b>	<b>Short Answer questions.</b>	<b>7X3=21M</b>
27	Give three characteristics that differentiate dicots from monocots	3M
28	Draw a neat labelled diagram of a clinical thermometer and explain.	3M
29	Explain response and stimuli with the examples.	3M
30	Write the causes and effects of deforestation.	3M
31	How do female and male mosquitoes differ in their feeding habits?	3M
32	How are states of water used in our daily life? Give two examples.	3M
33	Explain the importance of soil as a resource.	3M
<b>IV</b>	<b>Case based questions.</b>	<b>3X4=12M</b>
34	A family installed a rainwater harvesting system at home. Rainwater from the roof flows into a filter and then into a storage tank. This water is used for washing clothes, cleaning the house, and gardening.	
a.	Why is filtering the water necessary before storing it?	1M
b.	What advantage does the family get from using harvested water?	1M
c.	If the roof is dirty, how will it affect the harvested water?	1M
d.	Why is rainwater harvesting considered an eco-friendly practice?	1M
35	In a forest, many kinds of living things were found — trees, birds, insects, reptiles, and mammals. Each had its own role. The trees provided shelter and food, birds built nests, and animals helped in seed dispersal. Some animals hunted, while others grazed on plants. All were dependent on one another for survival, maintaining the balance of nature.	
a	What does the term “diversity” mean in the living world?	1M
b	How do trees help other living organisms?	1M
c	Give one example of interdependence between plants and animals.	1M
d	Name the producers from the case.	1M

36	Rohan was observing the night sky through a telescope. He saw a bright object that didn't twinkle. His teacher told him it was a planet. He also noticed the Moon, which reflected sunlight. His teacher explained that planets revolve around the Sun, and moons revolve around planets.	
a	Why do planets not twinkle like stars?	1M
b	What is the main source of light for both the planets and the Moon?	1M
c	What is the difference between a planet and a satellite?	1M
d	Name the planet that has only one natural satellite.	1M
<b>VI</b>	<b>Long answer questions.</b>	<b>3X5=15M</b>
37	Draw a neat labelled diagram of the life cycle of a mosquito and explain its stages.	5M
38	Explain the process to obtain clear water from a mixture of water and soil or sand with a neat labelled diagram.	5M
39	Describe the concept of biodiversity and explain the significance in maintaining ecological balance.	5M

**Jindal Vidya Mandir, JSW Hill Side Township**  
**Term-II Examination (2025-26)**

**Class/sec : VI \_\_\_\_**

**Set-B**

**Max marks- 30**

**Subject: Information Technology**

**Duration-1Hr.**

---

**General Instructions :**

- This question paper consist of 6 main questions.
- All the questions are compulsory.

---

**I Choose the correct answer.**

**5X1=5M**

1. Google hangouts is a free \_\_\_\_\_  
A. Portal.                      B. Web browser.                      C. Chat Service
2. Which of the following tools is used to select area that you want to focus on?  
A. Smart Patch                      B. Outline Selection                      C. Crop
3. The data type for 12.4 should be \_\_\_\_\_  
A. int                      B. float                      C. str
4. The property and it's value are collectively known as a \_\_\_\_\_  
A. Selector                      B. Attribute                      C. Declaration
5. A \_\_\_\_\_ is the name of the memory location that stores the data.  
A. Keywords                      B. variable                      C. function

**II. Whether the statement is True or False .**

**5X1=5M**

1. E-learning is less expensive than traditional learning.
2. Using the Clone tool, unwanted object can be removed from an image.
3. To evaluate an arithmetic expression, it is not necessary to use the print () function.
4. You can add an image in the background of a web page with the help of the picture tag.
5. The string values cannot be multiplied together.

**III. Fill in the blanks with suitable word or phrase.**

**5X1=5M**

1. The \_\_\_\_\_ tool let's you remove the unwanted parts or everything that is outside the selected area of your selection in a picture.

2. Python was created by \_\_\_\_\_.
3. The \_\_\_\_\_ elements include both on and off tags.
4. \_\_\_\_\_ enables people to learn any time and anywhere.
5. \_\_\_\_\_ is the founder of World Wide Web.

**IV. Answer the following questions .**

**4X2=8M**

1. Explain the different working mode of python.
2. What is Smart Patch tool?
3. What is Variable?
4. How are comments useful? What are the two ways in which you can add comments?

**V. Answer the following question in one word.**

**2X1=2M**

- i) Amazon retail website name for country America is \_\_\_\_\_
- ii) Name the HTML tags to display the text in the next line.

**VI. Write a python program for the output given below .**

**5x1=5M**

```
Enter the value of a: 45
Enter the value of b : 20
Addition of a & b is = 65
Subtraction of a & b is = 25
```

\*\*\*\*\*



Jindal Vidya Mandir, JSW Hill Side Township  
Term-II Examination (2025 -2026)

Set-B

Class: VI

Max. Marks: 30

Subject: General Knowledge

Duration: 1 hour.

General Instructions:

- The question paper consists of 2 pages and has 25 questions.
- All questions are compulsory.

I. Choose the correct option:

5X1M=5M

1. Who are the followers of Zoroastrianism?

- (a) Jews (b) Parsees (c) Christians (d) Muslims

2. Which is the religious book of Jews?

- (a) Guru Granth Sahib (b) Torah (c) Mahabharata (d) Zend Avesta

3. Who was the last of the Tirthankaras?

- (a) Buddha (b) Mahavira (c) Jesus (d) Lord Rama

4. Which of these is a main scripture of the Hindus?

- (a) The Vedas (b) The Gita (c) The Upanishads (d) All of the above

5. Which planet has a set of rings around it?

- (a) Mars (b) Jupiter (c) Saturn (d) Uranus

II. Fill in the blanks:

5X1M=5M

Clue: the Quran, 1864, Alexander Fleming, Alexander the Great, the Director

6. One who controls everything, gives order to the cast and crew, and makes sure the script is followed is\_\_\_\_\_.

7. The holy book of Islam is\_\_\_\_\_.

8. Penicillin was discovered in 1928 by\_\_\_\_\_.

9. Buchephalus belonged to\_\_\_\_\_.

10 The Red Cross was founded in\_\_\_\_\_.

III. Answer the following questions:

5X2M=10M

11. Who composed our national song?

12. In which state is the Dachigam National Park?

13. Who discovered the Rabies Vaccine?

14. How many issues of a fortnightly magazine are published in a year?

15. Name the largest fish in the world.

**IV. Match the following:**

**5X1M=5M**

**Column-A**

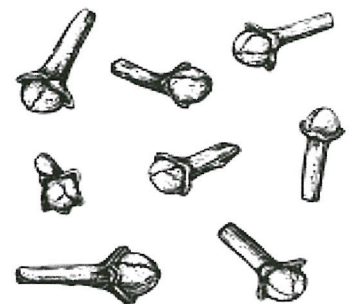

**Column-B**

- 16. World Environment Day ( )
- 17. World Laughter Day ( )
- 18. World Day for Water ( )
- 19. World Tuberculosis Day ( )
- 20. World Health Day ( )

- (a) First Sunday of May
- (b) June 5
- (c) March 24
- (d) April 7
- (e) March 22

**V. Name the following images:**



**5X1M=5M**



21. \_\_\_\_\_

22. \_\_\_\_\_

23. \_\_\_\_\_



24. \_\_\_\_\_

25. \_\_\_\_\_



**JINDAL VIDYA MANDIR, JSW HILL SIDE TOWNSHIP**  
**Term-II Examination (2025-26)**  
**Set- B**

**Class: VI**

**Max. Marks: 80**

**Subject: Social Science**

**Duration: 3 Hrs.**

**General Instructions:**

- i. Question paper comprises six Sections – A, B, C, D, E and F. There are 54 questions in the question paper. All questions are compulsory.
- ii. Section A Question no 1 to 40 are MCQs of 1 mark each.
- iii. Section B – Question no 41 to 42 are very short type questions, carrying 2 marks each.  
Answer to each question should not exceed 40 words.
- iv. Section-C -Question no 43 to 45 are short answer type questions, carrying 3 marks each.  
Answer to each question should not exceed 60 words.
- v. Section-D- Question no 46 to 47 are long answer type questions, carrying 5 marks each.  
Answer to each question should not exceed 120 words.
- vi. Section-E – Question no 48 to 50 are case based questions with three sub questions and are of 4 marks each.
- vii. Section-F- Question no 51 is map carrying 5 marks with two parts, 51 a from History (2 marks) and 52 to 54 from Geography (3 marks)
- viii. There is no overall choice in the question paper. However, an internal choice has been provided in few questions. Only one of the choices in such questions must be attempted. In addition to this, separate instructions are given with each section and question, wherever necessary.

**SECTION A**

**I. Choose the correct option from the following multiple-choice questions. 1 × 25 =25**

1. Net of latitudes and longitudes is also known as \_\_\_\_\_.  
(a) Grid      (b) Sketch      (c) Plan      (d) Report
2. Which statement best explains the link between governance and rules?  
(a) Governance means there are no rules  
(b) Governance is only about making rules  
(c) Governance helps society follow and use rules  
(d) Governance is only about enforcing rules

3. A student is researching how different early civilizations shaped India's culture. Which option should they choose?
- (a) Mix of Indus, Harappan, Saraswati cultures  
 (b) Only Vedic traditions  
 (c) Only Aryan influence  
 (d) Only Buddhism and Jainism
4. What does the term "Buddha" mean?
- (a) Immortal (b) Mortal (c) Wise One (d) Upper Vehicle
5. If a student wants to find the direction of a nearby landmark during a field trip, which tool should they use?
- (a) scale (b) map (c) symbols (d) compass
6. There are two statements marked as Assertion (A) and Reason (R). Mark your answer as per the codes provided below.
- Assertion: The Todas of the Nilgiris avoid pointing to their sacred peaks with a finger.  
Reason: They consider these peaks as residences of gods or goddesses.
- (a) Both A and R are true and R is the correct explanation of A.  
 (b) Both A and R true but R is not the correct explanation of A.  
 (c) A is true but R is false.  
 (d) A is false but R is true.
7. Which urban body acts as the highest authority in big cities like Chennai and Indore?
- (a) Nagar Panchayat (b) Municipal Corporation  
 (c) Municipal Council (d) Gram Panchayat
8. A student is studying different kinds of jobs like farming, factories, and IT services. Which term describes these groups of economic activities?
- (a) A category of similar economic activities (c) An area of government rules  
 (b) A type of financial investment (d) A kind of market research
9. There are two statements marked as Assertion (A) and Reason (R). Mark your answer as per the codes provided below.
- Assertion: The Deccan Plateau is one of the oldest plateaus in the world.  
Reason: The Deccan Plateau was formed through volcanic activity millions of years ago.
- (a) Both A and R are true and R is the correct explanation of A.  
 (b) Both A and R true but R is not the correct explanation of A.  
 (c) A is true but R is false.  
 (d) A is false but R is true.
10. What is the role of Panchayats regarding government schemes?
- (a) They create new schemes (c) They make sure benefits reach local people  
 (b) They fund national projects (d) They control state government operations

11. Which of the following is an example of a non-economic activity?

- (a) A mother helping her children with schoolwork
- (b) A person running a small business
- (c) A truck driver transporting goods for a company
- (d) A technician operating machines at a construction site

12. There are two statements marked as Assertion (A) and Reason (R). Mark your answer as per the codes provided below.

Assertion: In a democracy, all people rule directly.

Reason: Democracy means the 'rule of the people'.

- a. Both A and R are true and R is the correct explanation of A.
- b. Both A and R true but R is not the correct explanation of A.
- c. A is true but R is false.
- d. A is false but R is true.

13. A measure of the distance from the Prime Meridian is called\_\_\_\_\_.

- (a) Longitude
- (b) Latitude
- (c) Equator
- (d) Tropic

14. There are two statements marked as Assertion (A) and Reason (R). Mark your answer as per the codes provided below.

Assertion: The Vedic hymns were composed by rishis and rishikas in an early form of Sanskrit language.

Reason: The hymns were addressed in poetical form to many deities.

- a. Both A and R are true and R is the correct explanation of A.
- b. Both A and R true but R is not the correct explanation of A.
- c. A is true but R is false.
- d. A is false but R is true.

15. A large number of people live in the plains of India because these plains are formed by  
Which major river?

- (a) Nile
- (b) Amazon
- (c) Mississippi
- (d) Ganga

16. A historian is studying how the role of the Madras Corporation has changed over time. To compare its early duties with its responsibilities, she first needs to identify its original function, which option should she select?

- (a) Managing municipal taxes
- (b) Overseeing military operations
- (c) Establishing trade routes
- (d) Regulating religious practices

17. What is the fixed regular payment generally paid monthly by an employer to an employee called?

- (a) Wage
- (b) Commission
- (c) Salary
- (d) Bonus

18. There are two statements marked as Assertion (A) and Reason (R). Mark your answer as per the codes provided below.

Assertion: The tertiary sector is also known as the service sector.

Reason: It includes activities like manufacturing and construction.

- a. Both A and R are true and R is the correct explanation of A.
- b. Both A and R true but R is not the correct explanation of A.
- c. A is true but R is false.
- d. A is false but R is true.

19. Which desert in India is famous for its vibrant cultural traditions, including folk songs and legends?

- (a) Sahara Desert
- (b) Gobi Desert
- (c) Arabian Desert
- (d) Thar Desert

20. If a new law is passed and needs to be implemented in daily life, which branch of the government would be responsible for putting it into action?

- (a) Executive
- (b) Legislature
- (c) Judiciary
- (d) Administrative

21. About how many years ago was the *Arthashastra*, which mentions four administrative headquarters, written?

- (a) 2000 years ago
- (b) 2300 years ago
- (c) 2500 years ago
- (d) 2800 years ago

22. Consider the following statements about urban local bodies:

- I. They are responsible for maintaining infrastructure.
- II. They collect local taxes and fines.
- III. They implement national-level schemes.

Which of the above statements is/are correct?

- (a) I and II only
- (b) II and III only
- (c) I and III only
- (d) All of these

23. How can villagers take part in decisions about their village?

- (a) By attending Gram Sabha meetings and sharing their ideas
- (b) By ignoring village meetings and leaving decisions to officials
- (c) By only following orders from the state government
- (d) By depending solely on local landlords

24. Which of the following is true about the Lok Sabha?

- (a) It is the upper house of the Parliament where members are nominated.
- (b) It makes decisions only for the states, not the whole country.
- (c) It is the lower house of the Parliament where members are directly elected by the people.
- (d) Its members are appointed by the Prime Minister.

25. Who collects property tax, water tax, and other local taxes in a city?

- (a) Gram Panchayat (b) Municipal Corporation / Municipal Council  
 (c) State Government (d) Prime Minister's Office

**II. Match the contents of column-A with that of column-B.**

1 × 5 = 5

	Column I		Column II
26	Nandini	A	Poles
27	Axis	B	Gold and Diamond mining
28	African Plateau	C	Karnataka
29	Gram Sabha	D	Weekly fee
30	Online class instructor	E	Group of adults from a village

**III. Fill in the blanks with the help of clues.**

1x6=6

**Torrid , Consciousness , High Court, Participatory Democracy , Retail, valley**

31. A lower area between hills or mountains, often with rivers or streams flowing through it, is called a \_\_\_\_\_.
32. The \_\_\_\_\_ zone receives the highest amount of solar heat on the Earth.
33. \_\_\_\_\_ is a principle where citizens take part in decision-making of their country.
34. The quality or state of being aware is called \_\_\_\_\_.
35. Selling goods in small amounts directly to customers for their own use is called \_\_\_\_\_.
36. The \_\_\_\_\_ is the highest court at the state level that hears appeals and important cases from lower courts.

**IV. Answer the following questions with the help of clues given in the form of pictures.**

1x4=4



37. What type of payment does workers in this factory picture usually receive?

38. Look at the picture. How is the Traffic police helping people?



39. Look at the picture. What type of road is shown?

-----  
 -----

40. What is the name of this animal found in mountainous or forested regions?



**Section-B**

**V. Very short answer-based questions (30-40 words)**

**2 × 2 = 4**

41. What is Rig Veda? what does it teach us?

Or

What are Upanishads? What message do they give about life?

42. You notice that the way your town is managed is different from a nearby city in another state. How do Urban Local Bodies work differently in different states of India?

**SECTION C**

**VI. Short answer-based questions (60 - 80 words)**

**3 × 3 = 9**

43. Describe the role of primary economic activities in the economy of India.

44. Ravi lives in a mountain village. What problems might he face while living in mountainous areas, and how can they be solved?

45. You volunteer at a youth program in your town. How does this activity show the idea of non-economic activities?

Or

Describe how the example of Saahil's work demonstrates a primary economic activity.

**SECTION D**

**VII. Long answers-based questions (100-120 words)**

**2x5=10**

46. How do folk and tribal traditions influence the everyday life and culture of people in India?

Or

Based on the organization of early Vedic society, how do you think decisions were made and how were roles and responsibilities divided among people?

47. Describe how the Child friendly Panchayat initiative helped to make children more aware of the governance process.

SECTION-E

VIII.

CASE BASED QUESTIONS

3x4=12

48. Read the source given below and answer the question that follows:

The Debate of Gargi and Yājñavalkya King Janaka announced a prize for a philosophical debate. Yājñavalkya, a renowned scholar, defeated many in the king's court. Gargi, a wise rishika, asked him questions about the world and Brahman. Yājñavalkya answered with clarity and insight, impressing everyone present. Then he turned the questions to Gargi, testing her knowledge and understanding. She responded with great wisdom, showing her deep understanding of the ultimate reality. The debate continued with mutual respect, revealing the importance of knowledge, reasoning, and humility in the pursuit of truth.

- i. Who were the two main participants in the debate at King Janaka's court? 1
- ii. Why was Gargi considered wise during the debate? 1
- iii. How does the debate between Yājñavalkya and Gargi teach us about the importance of reasoning and humility in learning? 2

49. Read the source given below and answer following questions:

Hiware Bazar is a village in Maharashtra. Earlier, the village received very little rainfall, faced many droughts, and farming was poor. When Popatrao Baguji Pawar became the sarpanch, he followed Anna Hazare's ideas. He started saving rainwater, protecting the land, and planting many trees. The villagers worked together, and slowly the groundwater level increased. Within a few years, Hiware Bazar became a green and prosperous village. Popatrao Pawar received the Padma Shri award in 2020 for his excellent work.

- i. Who became the leader of Hiware Bazar? 1
- ii. What problems did Hiware bazar face earlier? 1
- iii. If your village had very little water, what idea from Hiware Bazar would you use to save water? Explain. 2

**50. Read the source given below and answer following questions:**

The sun is the best natural timekeeper because it rises and sets every day. Local time is decided by the sun, which is shortest at noon. The Earth rotates from west to east, so places east of Greenwich are ahead in time, and places to the west are behind. The Earth rotates  $360^\circ$  in 24 hours, meaning it covers  $15^\circ$  in 1 hour or  $1^\circ$  in 4 minutes. So, if it is 12 noon at Greenwich, a place  $15^\circ$  east will have 1 pm and a place  $15^\circ$  west will have 11 am.

- i. How many degrees does the Earth rotate in one hour? 1  
ii. Why are places east of Greenwich ahead of Greenwich Mean Time? 1  
iii. If it is 12 noon at Greenwich, what will be the local time at a place located  $30^\circ$  east ?  
How did you calculate it? 2

**SECTION-F**

**IX.**

**MAP SKILL BASED QUESTION**

**2 + 3 =5**

51.(a) Two places i and ii have been marked on the given political map of India.

- i. Name the place where Buddha preached his first Sermon.  
ii. Identify the place where Buddha died.

(b) On the same outline map of India locate & label the following.

52) Thar desert

53) Deccan plateau

54) Western Ghats

\*\*\*\*\*



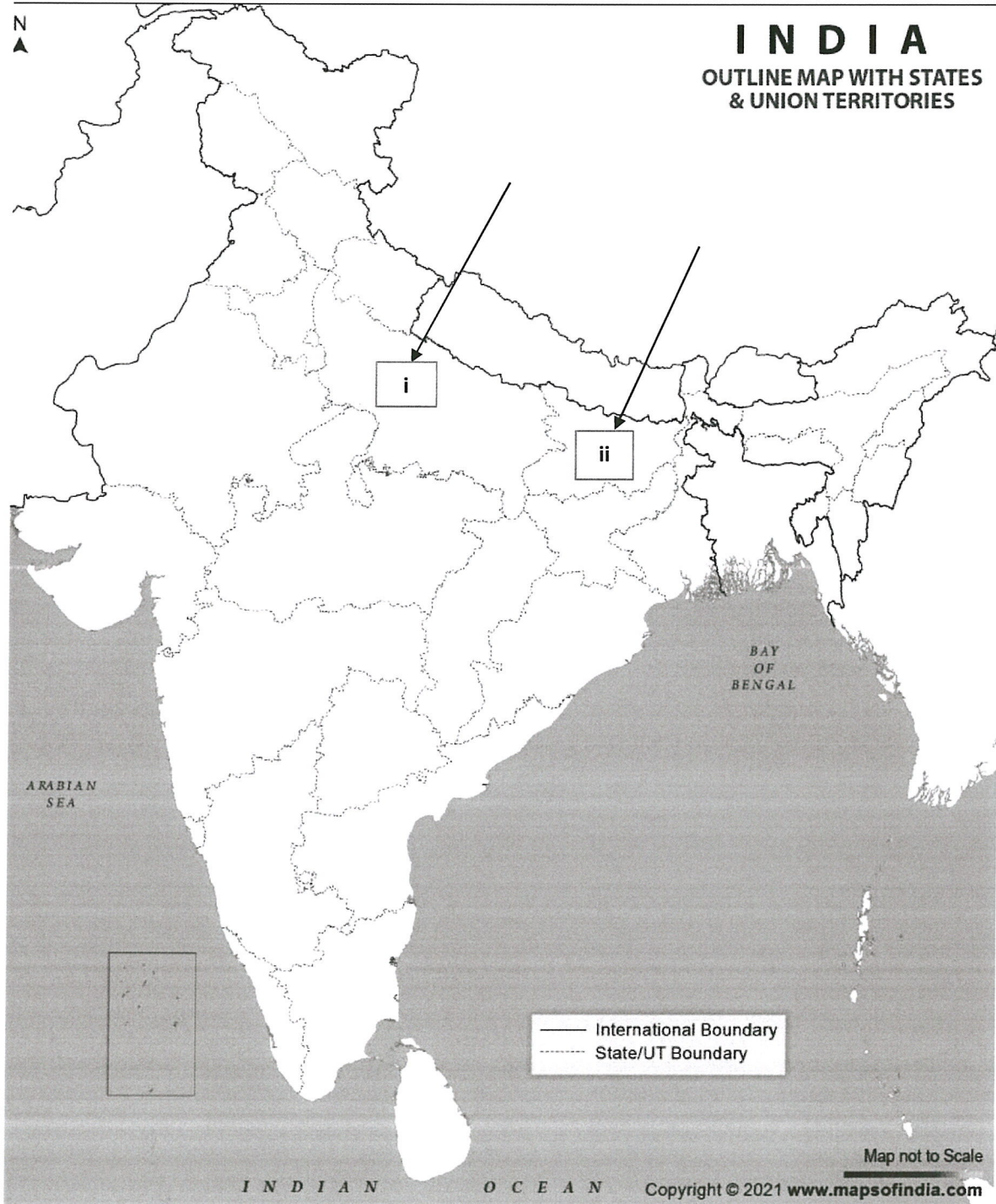
**Jindal Vidya Mandir, JSW HILL SIDE TOWNSHIP**  
**Term-II (2025-26)**  
**Set-B**

Class: VI/ Sec: \_\_\_\_\_

Subject: Social Science

Name of the student: \_\_\_\_\_

Roll No: \_\_\_\_\_







**JINDAL VIDYA MANDIR, JSW-HILL SIDE TOWNSHIP**  
**Term-II Examination (2025-26)**  
**Set- A**

**Class: VI**

**Max. Marks: 80**

**Subject: Social Science**

**Duration: 3 Hrs.**

**General Instructions:**

- i. Question paper comprises six Sections – A, B, C, D, E and F. There are 54 questions in the question paper. All questions are compulsory.
- ii. Section A Question no 1 to 40 are MCQs of 1 mark each.
- iii. Section B – Question no 41 to 42 are very short type questions, carrying 2 marks each. Answer to each question should not exceed 40 words.
- iv. Section-C -Question no 43 to 45 are short answer type questions, carrying 3 marks each. Answer to each question should not exceed 60 words.
- v. Section-D- Question no 46 to 47 are long answer type questions, carrying 5 marks each. Answer to each question should not exceed 120 words.
- vi. Section-E – Question no 48 to 50 are case based questions with three sub questions and are of 4 marks each.
- vii. Section-F- Question no 51 is map carrying 5 marks with two parts, 51 a from History (2 marks) and 52 to 54 from Geography (3 marks)
- viii. There is no overall choice in the question paper. However, an internal choice has been provided in few questions. Only one of the choices in such questions must be attempted. In addition to this, separate instructions are given with each section and question, wherever necessary.

**SECTION A**

**I. Choose the correct answer from the following multiple-choice questions. 1x25=25**

1. Which is not a component of a map?

- (a) Direction      (b) Symbol      (c) Scale      (d) Distance

2. What does the term grassroots democracy mainly focus on?

- (a) Power is kept only with national leaders  
(b) Ordinary people take part in local decisions  
(c) Elections are stopped at all levels  
(d) Local bodies are removed

3. If a historian is studying events that happened around 3,500 years ago, which approximate time range of the Rig Veda would be useful for them?

- (a) 1st to 5th century BCE  
(b) 7th to 4th millennium BCE  
(c) 6th to 1st millennium CE  
(d) 5th to 2nd millennium BCE

4. To which gana (clan) did the Buddha belong?

- (a) Bharata (b) Sakya (c) Ikashvaku (d) none of these

5. A geographer wants to study where different types of forests are found in India to plan a conservation project. Which type of map should they use?

- (a) Physical map (b) Political map  
(c) Thematic map (d) none of these.

6. There are two statements marked as Assertion (A) and Reason (R). Mark your answer as per the codes provided below.

Assertion: Tibal and Hindu belief systems have enriched each other through interactions.

Reason: They share many similar concepts, including the worship of natural elements and deities.

- a. Both A and R are true and R is the correct explanation of A.  
b. Both A and R true but R is not the correct explanation of A.  
c. A is true but R is false.  
d. A is false but R is true.

7. What is the main work of a Municipal Corporation in India?

- (a) managing city services and basic facilities  
(b) National defence  
(c) International relations  
(d) making state education policies

8. If a farmer makes cheese from milk to earn more money, this is called \_\_\_\_\_

- (a) Taking more time to work  
(b) Making something into a product that can be sold  
(c) Getting more people to help  
(d) Spending less money

9. There are two statements marked as Assertion (A) and Reason (R). Mark your answer as per the codes provided below.

Assertion: A plateau is a flat-topped landform that rises above the surrounding land.

Reason: Its height can range from a few hundred to several thousand meters.

- a. Both A and R are true and R is the correct explanation of A.  
b. Both A and R true but R is not the correct explanation of A.  
c. A is true but R is false.  
d. A is false but R is true.

10. What is the main role of the Panchayat system in villages?

- (a) Involves local people in decision-making  
(b) Centralises decisions at the state level  
(c) Eliminates local participation  
(d) Restricts village autonomy

11. If a person volunteers at a local shelter without expecting money, what is the main goal of this non-economic activity?

- (a) Financial gain  
(b) Professional advancement  
(c) Earning money through transactions  
(d) Showing love and care

12. There are two statements marked as Assertion (A) and Reason (R). Mark your answer as per the codes provided below.

Assertion: The executive head of the Central government is the President.

Reason: The President has the power to make laws.

- a. Both A and R are true and R is the correct explanation of A.
- b. Both A and R true but R is not the correct explanation of A.
- c. A is true but R is false.
- d. A is false but R is true.

13. The Indian Prime Meridian, also called Madhya Rekha, passes through which city?

- (a) Delhi
- (b) Ujjain
- (c) Mumbai
- (d) Bhopal

14. There are two statements marked as Assertion (A) and Reason (R). Mark your answer as per the codes provided below.

Assertion: The founders of Buddhism and Jainism belonged to the Royal Families.

Reason: Buddhism laid down the emphasis on the middle path in worldly matters.

- a. Both A and R are true and R is the correct explanation of A.
- b. Both A and R true but R is not the correct explanation of A.
- c. A is true but R is false.
- d. A is false but R is true.

15. The Andes Mountains are located on a continent that lies mostly in the Southern Hemisphere. Which continent is it?

- (a) Africa
- (b) North America
- (c) South America
- (d) Europe

16. If you want to find the age of the Greater Chennai Corporation, which founding year will you use?

- (a) 1792
- (b) 1688
- (c) 1700
- (d) 1857

17. Which of the following is an example of a tertiary economic activity?

- (a) Mining coal
- (b) Producing steel
- (c) Providing legal services
- (d) Farming activities

18. There are two statements marked as Assertion (A) and Reason (R). Mark your answer as per the codes provided below.

Assertion: Tertiary sector activities are not important for the economy.

Reason: They provide support to primary and secondary sector.

- a. Both A and R are true and R is the correct explanation of A.
- b. Both A and R true but R is not the correct explanation of A.
- c. A is true but R is false.
- d. A is false but R is true

19. In ancient Tamil Sangam poetry, which landform is linked with the activity of cattle rearing?

- (a) Kurinji
- (b) Mullai
- (c) Marudam
- (d) Neydal

20. What does Dr. A.P.J. Abdul Kalam's work show about his contribution to India's development?

- (a) He played a crucial role in developing India's space and missile programmes
- (b) He was a renowned economist
- (c) He was a celebrated artist
- (d) He was a prominent politician

21. Which ancient text on governance was written by Kautilya?

- (a) Manu smriti
- (b) Ramayana
- (c) Artha shastra
- (d) Panchayati Raj

22. Consider the following statements:

- I. Urban local bodies are decentralized
- II. Urban local bodies operate under a central authority.

- (a) I only
- (b) II only
- (c) Both I and II
- (d) none of these

23. If a village needs to build a new playground, which body is responsible for making decisions and planning the work?

- (a) Zila Parishad
- (b) State Government
- (c) Parliament
- (d) Gram Panchayat

24. In a representative democracy, how are decisions made for the people?

- (a) People make all decisions themselves directly
- (b) Decisions are made by village elders alone
- (c) Only government officials decide without any elections
- (d) Elected representatives make decisions on behalf of the people

25. If a city wants to improve street lighting and clean its parks, which urban local body is responsible for taking action?

- (a) Municipal Corporation / Municipal Council
- (b) Zila Parishad
- (c) State Government
- (d) Parliament

II. Match the contents of column-A with that of column-B.

1 × 5 = 5

	Column I		Column II
26	Amul	A	Conservation of forests
27	Tropic of Capricorn	B	highest rainfall in India
28	Cheerapunji	C	Trhibhuvandas Patel
29	Panchayat	D	23½° Southern Hemisphere
30	Van Mahotsav	E	Village council

III. Fill in the blanks with the help of clues.

1 × 6 = 6

decreases , factory, community service, Healer , House, Confluence

- 31. The meeting point of two or more rivers is called \_\_\_\_\_
- 32. The space between lines of longitude becomes \_\_\_\_\_ as we move closer to the poles.
- 33. The Bhil community's initiative for water conservation is an example of \_\_\_\_\_.
- 34. Someone who uses traditional methods to treat or heal diseases is called \_\_\_\_\_.
- 35. A building or group of buildings where products are made or assembled is called \_\_\_\_\_
- 36. An assembly where members meet to discuss and pass laws is called a \_\_\_\_\_.

IV. Answer the following questions with the help of clues given in the form of pictures.

1x4=4

- 37. Identify the place shown in the picture and explain its main purpose.



- 38. Look at the picture. How are soldiers helping the country?



- 39. Look at the lines carefully, identify the type of road shown here and write its name.

\_\_\_\_\_ . \_\_\_\_\_

40. What is the name of this animal found in high mountain regions?



### SECTION B

V. Very short answer-based questions (30-40 words)

2 × 2 = 4

41. What are Vedas and what message do they teach us?

Or

What do we know about life in Vedic society.?

42. Your town needs clean roads, safe drinking water, and streetlights. Which organization is responsible for providing these services, and what are its main functions?

### SECTION C

VI. Short answer-based questions (60 - 80 words)

3 × 3 = 9

43. How do secondary economic activities add value to raw materials? Give an example.

44. A mining company wants to extract minerals for industries. Explain why plateaus are called the storehouse of minerals and why they are they suitable for mining.

45. Your village has farmers, weavers, and shopkeepers. How would you classify their work into the main types of economic activities?

Or

Explain the significance of non-economic activities in community building with an example.

### SECTION D

VII. Long answers-based questions (100-120 words)

2x5=10

46. Explain a few main ideas of Buddhism and write how they can help us in daily life.

Or

Explain a few main ideas of Jainism and write how they can guide us to live a good and peaceful life.

47. How do panchayat institutions help women to take part in local decision making?

## SECTION-E

### VIII. CASE BASED QUESTIONS

3 × 4 = 12

48. Read the source given below and answer the question that follows:

Nachiketa's father was giving away his possessions in a ritual. Curious, Nachiketa asked which god they would be offered to. Angrily, his father said, "I give you to Yama," the god of death. Nachiketa went to Yama's world. After waiting, he asked Yama, "What happens after death?" Yama first hesitated, but impressed by Nachiketa's persistence, he said the Atman (self) is immortal, neither born nor dies. Nachiketa returned home with this knowledge, and his father welcomed him.

- i. Who is Yama in the story? 1
- ii. What did Yama explain about the Atman? 1
- iii. How can Nachiketa's curiosity and persistence teach us to seek knowledge in our own lives? 2

49. Read the source given below and answer the following questions:

Vandhana Bahadur Maida from the Bhil community in Khankhandvi in Madhya Pradesh, became the first woman sarpanch of her village by challenging old patriarchal rules. She encouraged other women to join village meetings and speak about important issues like education and sanitation. Her efforts brought positive changes and earned her respect from many places. Vandana's story shows how women can become strong leaders in rural India.

- i. Who became the first woman sarpanch of Kankhandvi? 1
- ii. Why did Vandhana encourage women to attend the sabha meetings? 1
- iii. How can Vandana's leadership inspire other rural women to take part in village development? Explain with an example. 2

50. Read the source given below and answer the question that follows:

Earth is not a perfect sphere- it is slightly flat at the poles and bulges at the middle. A globe is a small model of the earth that shows continents, countries, oceans in their correct size. A needle is fixed through the globe in a tilted way, this is called the axis, and the two ends are the North Pole and South Pole. The Earth also spins around its axis, but its axis is imaginary line. Another imaginary line around the middle of the globe is the equator, which divides the Earth into the Northern and Southern Hemisphere. The equator is an important line used to locate places. All lines drawn parallel to the equator are called Latitudes and they are measured in degrees.

- i What is the imaginary line that divides the Earth into two equal halves? 1
- ii. Why is the equator considered an important reference point on the globe? 1
- iii. How would you use the equator to find whether a place is in the northern or southern hemisphere? 2

**SECTION-F**

**IX. MAP SKILL BASED QUESTION**

**2 + 3 =5**

51.(a). Two places i and ii have been marked on the given political map of India.

- i) Name the place where Ellora caves are located.
- ii) Name the place in India where many Buddhist Monasteries are found.

(b) On the outline map of India locate & label the following.

52) Jog falls      53 Chhota Nagpur Plateau      54) Meghalaya Plateau

\*\*\*\*\*



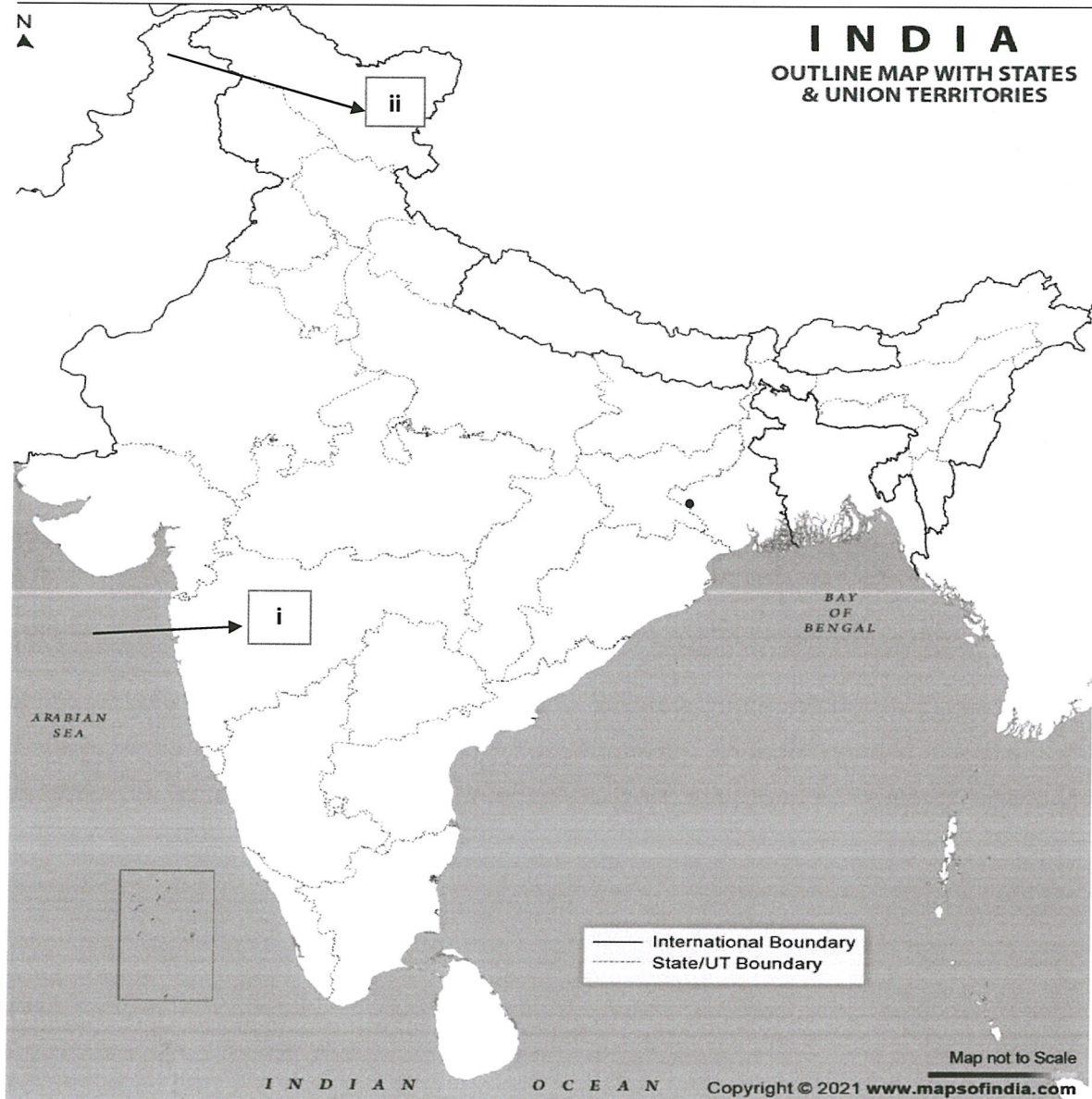
**Jindal Vidya Mandir, JSW HILL SIDE TOWNSHIP**  
**Term -II (2025-26)**  
**Set-A**

Class: VI/ Sec: \_\_\_\_\_

Subject: Social Science

Name of the student: \_\_\_\_\_

Roll No: \_\_\_\_\_







**Jindal Vidya Mandir, JSW Hill Side Township**

**Term-II Examination (2025-26)**

**Set-B**

**Class: VI**

**Max Marks: 30**

**Sub: Music**

**Duration: 1 Hour**

**General Instructions:**

- The question paper consists of 3 pages and 5 mains with 25 questions.
- All the questions are compulsory.

**I. Choose and write the correct answer.**

**5 X 1 = 5**

1. What does the phrase "Bharata Jananiya Tanujate" mean?

- a) Mother India's Victory                      b) Daughter of Mother India  
c) Land of beautiful rivers                      d) Abode of saints

2. Where are the people scattering the Jasmine flowers?

- a) In the forest                                      b) On the hill of Banasoor  
c) Near the river                                      d) Inside the temple

3. On which beat does the first Clap (Tali) of Jhaptaal occur?

- a) 3rd beat      b) 6th beat      c) 8th beat      d) 1st beat

4. Who was Louis Armstrong's mentor who invited him to join his band in Chicago in 1922?

- a) Duke Ellington      b) Joe "King" Oliver      c) Miles Davis      d) Jelly Roll Morton

5. Which two musicians started the band Metallica?

- a) Kirk Hammett and Robert Trujillo                      b) Lars Ulrich and James Hetfield  
c) Cliff Burton and Kirk Hammett                      d) James Hetfield and Robert Trujillo

**II. Fill in the blanks with suitable answer.**

**5 X 1 = 5**

6. Jaya Sundara Nadi Vanagala Naade, Jaya He \_\_\_\_\_ Beede.
7. The symbol used for the Empty beat (Khali) is \_\_\_\_\_.
8. Andada Chandada Maygara \_\_\_\_\_.
9. Metallica is a super famous American \_\_\_\_\_.
10. \_\_\_\_\_ is an example of scat singing.

**III. Match the following.**

**5 X 1 = 5**

**Coloumn-A**

**Coloumn -B**

- |                                 |   |
|---------------------------------|---|
| 11. Sundara Nadi Vanagala Naade | a) Jasmine Flower                       |
| 12. Bols of the Second Part     | b) birthplace of Jazz.                  |
| 13. New Orleans                 | c) The guitarist                        |
| 14. Mallige                     | d) Land of beautiful rivers and forests |
| 15. Kirk Hammet                 | e) Dhi Dhi Na                           |

**IV. Answer the following questions in a word or a sentence.**

**5 X 1 = 5**

16. Write the bols for the first part of taal Jhaptal (beats 1-2).
17. Name any two sages mentioned in the state anthem.
18. Who is the deity addressed as "Madappa" in folk song?
19. What instrument did Louis Armstrong primarily play?
20. Who is the co-founder of Metallica band?

**V. Answer the following questions in 2-3 sentences**

**5 X 2 = 10**

21. Draw the full Theka (Bols and Beat numbers) of Jhaptaal.

22. List the two founding members of Metallica who are still in the band today.

23. Describe Louis Armstrong's singing style.

24. Write the second stanza of the prayer song "Manasa satatam".

25 . Write the aroha and avaroha of the 5th alankar.





## Jindal Vidya Mandir, JSW Hill Side Township

### Term-II Examination (2025-26)

**Class: VI**

**SET A**

**Max Marks: 30**

**Sub: Yoga**

**Duration: 1 Hour**

#### General Instructions:

Read the following instructions carefully and follow them:

This question paper contains 23 questions. All questions are compulsory.

#### I. Choose the correct option

**10x1M=10M**

1. Yoga should be practiced in a \_\_\_\_\_ environment.  
a) noisy      b) peaceful      c) dark      d) crowded
2. Yogasana focuses mainly on the \_\_\_\_\_ aspect of yoga.  
a) mental      b) spiritual      c) physical      d) emotional
3. "Yuj" means \_\_\_\_\_.  
a) breath      b) unite      c) control      d) body
4. In asanas, the body temperature generally \_\_\_\_\_.  
a) rises      b) stays same      c) drops      d) fluctuates
5. Pranayama mainly deals with \_\_\_\_\_.  
a) running      b) breath control      c) dancing      d) exercise
6. Artistic yogasana is performed with \_\_\_\_\_.  
a) music      b) silence      c) food      d) none
7. Oxygen consumption \_\_\_\_\_ during asanas.  
a) increases      b) decreases      c) stays same      d) doubles
8. Traditional yogasana requires holding postures for \_\_\_\_\_ seconds.  
a) 5–7      b) 30–40      c) 15 or 30      d) 2–3
9. Pranayama helps reduce \_\_\_\_\_.  
a) hunger      b) stress      c) height      d) temperature
10. Yogasana was recognised as a sport in \_\_\_\_\_.  
a) 1989      b) 2020      c) 2025      d) 2010

**II. Fill in the blanks**

**3x1M=3M**

11. Yoga should be practiced on an \_\_\_\_\_ stomach.
12. Rhythmic yogasana is performed in \_\_\_\_\_ or groups.
13. In exercise, breathing rate usually \_\_\_\_\_.

**III. State whether the following statements are true or false**

**3X1M=3M**

14. Asanas are done slowly with relaxation.
15. Pranayama increases stress levels.
16. Yogasana includes artistic, rhythmic, and traditional events.

**IV. Answer the following questions in 20 to 30 words each**

**7X2M=14M**

17. Mention two differences between yoga and yogasana.
18. Write two rules to follow before practicing yoga.
19. Define artistic yogasana.
20. Explain why asanas reduce oxygen consumption.
21. Give two benefits of pranayama.
22. Why is consulting a doctor recommended before yoga for some people?
23. Explain the meaning of the word "Pranayama."

\*\*\*\*\*



**JINDAL VIDYA MANDIR, JSW HILL SIDE TOWNSHIP**  
**Term – II Examination (2025-26)**

Class : VI \_\_\_\_

Set – B

Roll No. \_\_\_\_

Date : \_\_\_\_\_

Subject : Art

Name : \_\_\_\_\_

Max Marks : 50

Invigilator's Sign \_\_\_\_\_

Duration : 1 Hour

**Theme : Landscape (Nature)**

- |   |  |
|---|--|
| 1. Drawing Skills (10 Marks)                | 2. Creativity & Originality (10 Marks) |
| 3. Coloring / Shading / Painting (10 Marks) | 4. Composition & Layout (10 Marks)     |
| 5. Neatness & Presentation (5 Marks)        | 6. Theme Relevance (5 Marks)           |

**Look at the figure given below draw & shade with pencil.**

