

**JET CENTRALISED EXAMINATION
ANNUAL EXAMINATION, 2025-26
Grade 8 : ENGLISH
(SET-2)**

Maximum Marks: 80

Time allowed: 3Hrs

Roll No:

GENERAL INSTRUCTIONS

- 1. All questions are compulsory.**
- 2. This question paper is divided into three sections:**
 - Section A: Reading**
 - Section B: Grammar and Writing**
 - Section C: Literature**
- 3. Marks are indicated against each question.**
- 4. Adhere to the word limit given in each question.**
- 5. Read all questions carefully before answering.**
- 6. Answers should be written neatly and legibly.**
- 7. Attempt all parts of a question together.**
- 8. Use the allotted time wisely and revise your answers before submission.**

SECTION A- READING

Q1. Read the following passage carefully and answer the questions that follow:

Students from Westside Middle School achieved a remarkable success by winning first place at the **National Junior Science Competition** held in Washington, D.C., from April 5 to April 6, 2025. The competition witnessed participation from more than 200 schools across the country, making the victory a proud moment for the students and their school. The winning team impressed the judges with an innovative robot designed to collect plastic waste from oceans and rivers.

The robot, named *AquaClean*, is designed to float on water surfaces and move smoothly using solar-powered motors. It is fitted with sensors that help it identify plastic waste floating on water. Once the waste is detected, the robot gathers it into a storage container attached to its body. The students explained that their idea was inspired by news reports and documentaries highlighting the growing problem of plastic pollution and its harmful impact on marine life.

The project was developed under the guidance of the school's science teacher, Mr. Johnson, who played a key role in mentoring the students. He encouraged them to apply scientific concepts practically and guided them in areas such as robotics, basic coding, and environmental science. The students often stayed back after school hours and even worked during weekends to improve the robot's design and performance.

During the final presentation, the judges praised the team for their creativity, teamwork, and clear explanation of the project. One of the judges noted that the project stood out because it addressed a real-world environmental issue with a practical and affordable solution. Along with a trophy and certificates, the team was awarded a scholarship grant to support their future education in science and technology.

Mrs. Parker shared stories of earlier times when townspeople judged time by the sun, the shadows of trees, and their own sense of responsibility. She reminded them how they had once relied on their observations, cooperation, and initiative. Her words struck a chord. People reflected on how they had allowed convenience to replace effort and how dependence on the clock had dulled their self-reliance. Slowly, murmurs of agreement spread across the crowd. Inspired, the townspeople began to organise themselves. Shopkeepers opened stores according to common sense, parents helped children track schedules, and students took responsibility for attending classes on time. People worked together to help those struggling, and a renewed sense of community emerged. Finally, Mrs. Parker repaired the clock. When it ticked again, the town had changed. The hands moved, but the people moved with newfound awareness and self-discipline. They had learned that tools, while useful, are only as valuable as the thought, care, and effort humans invest in using them wisely.

From that day on, the clock stood tall, its chimes echoing through the town square. Yet the town had gained something far greater than punctuality — they had discovered independence, mindfulness, and the importance of personal responsibility. Children learned to tell time without relying solely on the clock, and adults remembered that while tools can guide, they must never replace human thinking and judgment.

I. Choose the correct option:

(1×2 = 2 marks)

i. What caused confusion in the town?

a) A festival b) The clock stopped working c) A storm d) A meeting

ii. Who helped the town realize the real problem?

a) The mayor b) Mrs. Parker c) A shopkeeper d) Students

II. Answer the following in 25–35 words each:

(2×2 = 4 marks)

i. Why had the townspeople become overly dependent on the clock?

ii. How did Mrs. Parker guide the townspeople to regain control over their time?

III. Find words from the passage which mean the same as:

(1×2 = 2 marks)

i. Completely reliant on

ii. Calm and wise

IV. Answer the following in 40–50 words:

(2 marks)

i. What is the main lesson of the passage about tools, responsibility, and human initiative?

SECTION B: GRAMMAR & WRITING SKILLS

3. Do any **TEN** of the following questions.

(10 × 1 = 10 Marks)

I. Fill in the blank with the correct form of the verb:

Neither of the players _____ (was/were) present for practice.

II. Choose the correct modal to complete the sentence:

Students _____ follow the instructions given by the teacher. S(should / may / could)

III. Identify the adjective and state its kind:

She donated some clothes to the needy.

IV. Fill in the blank with a suitable determiner:

I do not have _____ information about the programme.

V. Underline the adverb and mention its type:

The train arrived late at the station.

VI. Fill in the blank with a suitable pronoun: This house is ours; that one is _____.

VII. Fill in the blank with an appropriate conjunction: He did not attend the meeting _____ he was ill.

VIII. Fill in the blank with the correct preposition:

The cat jumped _____ the table.

IX. Change the voice of the sentence:

The chef prepared a delicious meal.

X. Rewrite the sentence as directed:

He is too tired to continue the work. (Change into an affirmative sentence using so...that.)

XI. Identify the subordinate clause and state its type:

She will call you when she reaches home.

XII. Rewrite the sentence in indirect speech and identify the type of conditional:

He said, "If I were rich, I would help the poor."

Q4. Attempt any ONE of the following questions:

(6 Marks)

(Word limit: 100–120 words)

A. Letter Writing

You are Riya Sharma, a student of Class IX. Write a letter to the **Traffic Police**

Commissioner of your city complaining about frequent traffic jams near your school during peak hours. Mention the problems faced by students and suggest **two effective measures** to improve traffic management in the area.

OR

B. Diary Entry

You won the **Inter-School Debate Competition** and were awarded the first prize. Write a diary entry expressing your happiness, gratitude towards your teachers and parents, and your motivation to perform better in the future.

Q5. Attempt any ONE of the following questions:

(4 Marks)

A. Bio-card: Write a **bio-card** of **A. P. J. Abdul Kalam** using the details given below:

Field	Details
Name	A. P. J. Abdul Kalam
Birth	15 October 1931, Rameswaram, Tamil Nadu
Education	Aerospace Engineering
Achievements	Missile Man of India; President of India
Contribution	Strengthened India's space and defence programmes
Inspiration	Encourages students to dream big and serve the nation

OR

B. Poster Designing: Design a poster on the topic "**Say No to Plastic**" highlighting the harmful effects of plastic on the environment. (Include a suitable slogan and a message.)

SECTION C: LANGUAGE THROUGH LITERATURE

Q6. Read the Following Extracts and Answer the Questions.

(5x1=5 Marks)

Every Monday, on his way back from work, Bepin Choudhury would drop in at Kalicharan's in New Market to buy books. Crime stories, ghost stories and thrillers. He had to buy at least five at a time to last him through the week. He lived alone, was not a good mixer, had few friends, and didn't like spending time in idle chat. Today, at Kalicharan's, Bepin Babu had the feeling that someone was observing him from close quarters. He turned round and found himself looking at a round faced, meek looking man who now broke into a smile.

V. Short answer (30–40 words): How does the poet contrast nature's joy with the school boy's sadness.

Q8. Answer any four of the following questions in 40–50 words each. (4 × 3 = 12 Marks)

I. How did the loss of the fawn affect Jody emotionally? What new understanding about life did this experience give him?

II. What observations does the author make about Cambridge University? How do these details present the lifestyle and seriousness of the students?

III. What transformations in the environment does the writer notice during the monsoon in *A Short Monsoon Diary*? How do these changes influence his state of mind?

IV. In the poem *On the Grasshopper and the Cricket*, how does the poet present the sounds of the grasshopper and the cricket? How does this suggest that nature's music never ends?

V. Select any one description or incident from *A Short Monsoon Diary* or *On the Grasshopper and the Cricket* and explain how it reveals either the charm or the toughness of nature.

Q9. Answer any two of the following questions in 40–50 words each. (2 × 3 = 6 Marks)

I. How did the Giant's self-centred nature affect the children and his garden? What incident helped him realise his mistake and change his behaviour?

II. What trials or experiences does Princess September face in the story? How do her actions show her caring nature or inner strength?

III. What problem leads to the conflict in *The Fight*? How do the characters resolve it, and what lesson do they learn from the incident?

Q10. Answer any one of the following questions in 100–120 words. (1 × 6 = 6 Marks)

I. Explain how Jody felt while taking care of the fawn by himself. How did feelings of happiness, worry, and affection grow in him? What did this situation teach him about responsibility, empathy, and patience?

II. Describe Cambridge University as portrayed by the author. How did the discipline, learning environment, and enthusiasm of the students influence his thinking about education?

Q11. Answer any one of the following questions in 100–120 words. (1 × 6 = 6 Marks)

I. *Jalebis* — Describe the storyline by focusing on the choices and actions of the characters. What important message does the story convey? How are values such as honesty, patience, and self-control highlighted?

II. *Ancient Education System in India* — Explain how education was imparted in ancient India. How did the gurukul system develop moral values, discipline, and respect among students? How can these principles still guide us today?

JET CENTRALISED EXAMINATION
ANNUAL EXAMINATION, 2025-26
Grade 8: HINDI
(SET-2)

Maximum Marks: 80

Time allowed: 3Hrs

Roll No:

सामान्य निर्देश:

- इस प्रश्न पत्र में चार खंड हैं - क, ख, ग और घ
- खंड 'क' में अपठित गद्यांश से प्रश्न पूछे गए हैं, जिनके उत्तर दिए गए निर्देशों का पालन करते हुए दीजिए।
- खंड 'ख' में व्याकरण से प्रश्न पूछे गए हैं। बीस प्रश्नों में से किन्हीं सोलह प्रश्नों के उत्तर दीजिए।
- खंड 'ग' पाठ्य पुस्तक पर आधारित है, निर्देशानुसार उत्तर दीजिए।
- खंड 'घ' रचनात्मक लेखन पर आधारित है, आंतरिक विकल्प भी दिए गए हैं।
- प्रश्न पत्र में कुल 12 प्रश्न हैं सभी प्रश्न अनिवार्य हैं।
- यथासंभव सभी खंडों के प्रश्नों के उत्तर क्रमशः लिखिए।

खंड - क (अपठित बोध)

प्र.1 निम्नलिखित गद्यांश को ध्यानपूर्वक पढ़कर पूछे गए प्रश्नों के उत्तर लिखिए।

परमाणु की महाशक्ति का विध्वंसकारी रूप मनुष्य ने हिरोशिमा तथा नागासाकी में देखा और उसे चिंता हुई कि यदि उसके प्रयोग की दिशा न बदली गई तो बड़े भयावह परिणाम होंगे। भारत ने सदैव इस बात का प्रयत्न किया है कि परमाणु-ऊर्जा का प्रयोग विनाशकारी कार्यों के लिए न किया जाए, केवल लोकमंगल के लिए इसका उपयोग हो। अब परमाणु-ऊर्जा मनुष्य के कल्याणकारी उपयोग में विविध रूप में आने लगी। हल्के विस्फोट से सुरंग बनाने, खान खोदने और चट्टान तोड़ने आदि कार्यों में इसका उपयोग हो रहा है। कृषि-विज्ञान में भी परमाणु संबंधी अनुसंधान अनेक रूपों में हो रहे हैं। फलों एवं पौधों की नस्लों को संवृद्ध करके और रोगों से रक्षा करके उपज को बढ़ाने में काम लिया जा रहा है। चिकित्सा-विज्ञान ने भी इन अनुसंधानों का लाभ उठाया है। कैंसर-जैसे प्राणघाती रोग के उपचार में परमाणु-ऊर्जा से बहुत सहायता मिलती है।

1. परमाणु शक्ति का विनाशकारी रूप मनुष्य ने कहाँ देखा? 1
 (क) खेती में (ख) चिकित्सा में (ग) हिरोशिमा और नागासाकी में (घ) उद्योगों में
2. परमाणु ऊर्जा का प्रयोग किस कार्य के लिए नहीं किया जाए? 1
 (क) कल्याणकारी कार्यों के लिए (ख) विनाशकारी कार्यों के लिए
 (ग) बिजली उत्पादन के लिए (घ) चिकित्सा के लिए
3. गद्यांश के अनुसार परमाणु-विज्ञान से किस रोग के उपचार में सहायता मिलती है? 1
 (क) मलेरिया (ख) टीबी (ग) हैजा (घ) कैंसर

4. परमाणु ऊर्जा के कल्याणकारी उपयोगों का उल्लेख कीजिए। 2
5. गद्यांश में परमाणु शक्ति के विनाशकारी प्रभाव का कौन-सा उदाहरण दिया गया है? 2
- प्र.2 निम्नलिखित गद्यांश को ध्यानपूर्वक पढ़कर पूछे गए प्रश्नों के उत्तर लिखिए।

शहर से दूर एक तालाब था। तालाब के पास बहुत दलदल थी, जिसमें दो मेंढक बड़े आनंदपूर्वक रहते थे। उन्हें न किसी बात की चिंता थी न ही किसी से कोई शिकायत। बड़े संतोष और निश्चिंतता से दोनों का जीवन कट रहा था। गर्मियों के दिन आ गए। धीरे-धीरे तालाब के पास का दलदल सूखने लगा और एक दिन वह दलदल पूर्णतः सूख गया। दोनों मेंढकों को चिंता हुई कि अब वे अपना आवास कहाँ बनाएँ? दोनों विवश होकर वह स्थान छोड़कर नए आवास की तलाश में एक कुएँ के निकट पहुँचे। दोनों कुएँ के किनारे बैठे थे, उन्होंने भीतर झाँका। कुएँ में पानी ऊपर तक भरा हुआ था। पानी देखकर एक मेंढक खुशी से झूमता हुआ अपने मित्र से बोला- "देखो! कुएँ में कितना पानी है। यह हमारे लिए उचित स्थान होगा। सुरक्षित भी है। आओ! इसके भीतर चले।" दूसरा मेंढक बुद्धिमान था। उसने बुद्धिमत्ता का परिचय देते हुए कहा- "भैया! इतनी जल्दबाजी अच्छी नहीं। हमें पुराना घर दलदल सूखने पर छोड़ना पड़ा था। हम यहाँ रहने लगे और कुएँ का पानी सूख गया तो हम बाहर कैसे आएँगे?" दूसरे मेंढक की बात सुन पहला मेंढक बहुत शर्मिदा हुआ।

1. गर्मी के दिनों में ऐसा क्या हुआ कि मेंढक चिंतित हुए? 1
 (क) दलदल गीली हो गई (ख) दलदल बढ़ गई
 (ग) दलदल सूख गई (घ) उपरोक्त में से कोई नहीं
2. दोनों मेंढक कुएँ के निकट क्यों गए? 1
 (क) नए आवास की तलाश में (ख) कुआँ देखने
 (ग) चिंता के कारण (घ) भ्रमण के लिए
3. दूसरे मेंढक को कुआँ रहने के लिए उचित क्यों नहीं लगा? 1
 (क) कुएँ में बहुत पानी था (ख) कुएँ का पानी सूखने पर बाहर निकलना कठिन था
 (ग) अन्य मेंढक वहाँ आ जाते (घ) कुएँ में भोजन की समस्या होती
4. पहला मेंढक कुएँ में रहने के लिए क्यों उत्साहित हो गया? दूसरे मेंढक ने अपनी बुद्धिमत्ता से पहले मेंढक को किस प्रकार समझाया? 2
5. इस गद्यांश से हमें क्या शिक्षा मिलती है? 2

खंड - ख (व्याकरण)

प्र.3 निम्नलिखित प्रश्नों के उत्तर निर्देशानुसार लिखिए- (कोई-16)

1. मोहन तालाब में तैर रहा है। - क्रिया छाँटकर कर्म के आधार पर भेद लिखिए।
2. वैभव पत्र पढ़ रहा है। - क्रिया छाँटकर कर्म के आधार पर भेद लिखिए।
3. दिए गए समस्त पद का विग्रह करके समास का नाम लिखिए- पंचवटी
4. दिए गए समास विग्रह से समस्त पद बनाकर समास का नाम लिखिए- हवन के लिए सामग्री

5. संधि कीजिए - देव + आलय
6. संधि विच्छेद कीजिए - महर्षि
7. 'वि' उपसर्ग से दो शब्द बनाइए।
8. 'सुपुत्र' - उपसर्ग व मूल शब्द अलग कीजिए।
9. सुंदरता, मानवता, मित्रता, लघुता - इन शब्दों में कौन-सा प्रत्यय है?
10. 'कार' प्रत्यय से दो शब्द बनाइए।
11. वाक्यांश के लिए एक शब्द लिखिए- चिकित्सा करने वाला-
12. चक्र के आकार में सेना की रचना - इस वाक्यांश के लिए एक शब्द लिखिए।
13. दोस्त, सखा, साथी, सहचर आदि किसके पर्यायवाची हैं?
14. 'सूर्य' के दो पर्यायवाची शब्द लिखिए।
15. 'पीठ ठोकना' मुहावरे का अर्थ लिखिए।
16. दिए गए मुहावरे का अर्थ लिखिए- 'बात का धनी होना'
17. 'बंदर क्या जाने अदरक का स्वाद' लोकोक्ति का अर्थ लिखिए।
18. दूध का दूध पानी का पानी - दी गई लोकोक्ति का अर्थ लिखिए।
19. पिताजी आप कहाँ जा रहे हो
उचित स्थान पर विराम चिह्न लगाकर वाक्य पुनः लिखिए।
20. दिए गए विराम चिह्नों के नाम लिखिए- (-), (!)

खंड ग (पाठ्य-पुस्तक)

- प्र.4 निम्नलिखित गद्यांश को पढ़कर पूछे गए प्रश्नों के उत्तर सर्वाधिक उचित विकल्प से चुनकर लिखिए।

5

हम एक बार बड़ी ऊँची शिखर पर से कूदे और नीचे एक चट्टान पर गिरे। बेचारा पत्थर हमारे प्रहार से टूटकर खंड-खंड हो गया। यह जो तुम इतनी रेत देखते हो पत्थरों को चबा-चबा कर हमी बनाते हैं। जिस समय हम मौज में आते हैं तो कठोर से कठोर वस्तु हमारा प्रहार सहन नहीं कर सकती। अपनी विजयों से उन्मत्त होकर हम लोग इधर-उधर बिखर गए। मेरी इच्छा बहुत दिनों से समतल भूमि देखने की थी इसलिए मैं एक छोटी धारा में मिल गई। सरिता के वे दिवस बड़े मजे के थे।

1. बूँद कहाँ से चट्टान पर कूदी थी?
(क) शिखर से (ख) पेड़ से (ग) आकाश से (घ) समुद्र से
2. बूँद के प्रहार से क्या टूट गया?
(क) पेड़ (ख) पत्थर (ग) पुल (घ) किनारा
3. बूँद की इच्छा क्या देखने की थी?
(क) आकाश (ख) पहाड़ (ग) समुद्र (घ) समतल भूमि
4. बूँद किसमें मिल गई थी?
(क) प्रकाश में (ख) वायुमंडल में (ग) नदी की धारा में (घ) ज्वालामुखी में

5. पाठ के लेखक का नाम है-

(क) रामचंद्र त्रिपाठी (ख) रामचंद्र शर्मा (ग) रामचंद्र तिवारी (घ) रामचंद्र तिवारी

प्र.5 गद्य खंड पर आधारित निम्नलिखित प्रश्नों के उत्तर लगभग 25 से 30 शब्दों में लिखिए। 6

1. 'साइकिल आंदोलन' से पुडुकोट्टई की महिलाओं के जीवन में कौन-कौन से बदलाव आए हैं?

2. पंडित बिलवासी जी ने रूपयों का प्रबंध कहाँ से किया था? उनका यह तरीका सही था या गलत? अपने विवेक के आधार पर बताइए कि क्या चोरी करके किसी की सहायता करना ठीक है?

3. बाज के लिए लहरों ने गीत क्यों गया था?

प्र.6 निम्नलिखित काव्यांश को पढ़कर प्रश्नों के सर्वाधिक उपयुक्त विकल्पों का चयन कीजिए- 5

माला तो कर में फिरै, जीभि फिरै मुख माँहि।

मनुवाँ तो दहुँ दिसि फिरै, यह तौ सुमिरन नाहिं।।

1. मनुष्य का मन कहाँ-कहाँ फिरता है?

(क) घर में (ख) बाजारों में (ग) गलियों में (घ) दसों दिशाओं में

2. दोहे के अनुसार 'कर' का क्या अर्थ है?

(क) मन (ख) हाथ (ग) मस्तिष्क (घ) विचार

3. 'जीभि फिरै मुख माँहि' का क्या अर्थ है?

(क) जीभ का मुख में फिरना (ख) दाँतों के नीचे जीभ आना

(ग) जीभ चिढ़ाना (घ) इनमें से कोई नहीं

4. कवि के अनुसार असली सुमिरन कैसे होता है?

(क) माला जपकर (ख) भजन गाकर (ग) एकाग्र मन से (घ) उपवास करके

5. इस दोहे का मुख्य संदेश क्या है?

(क) माला फेरना आवश्यक है (ख) केवल वाणी से भक्ति पर्याप्त है

(ग) मन की एकाग्रता ही सच्ची भक्ति है (घ) पूजा कठिन कार्य है

प्र.7 काव्य खंड पर आधारित निम्नलिखित प्रश्नों के उत्तर लगभग 25 से 30 शब्दों में लिखिए- 6

1. अपने गाँव लौटकर जब सुदामा अपनी झोपड़ी नहीं खोज पाए तब उनके मन में क्या-क्या विचार आए? कविता के आधार पर स्पष्ट कीजिए।

2. सूरदास के दोनों पदों में से आपको कौन-सा पद अच्छा लगा और क्यों?

3. द्वारपालों ने श्री कृष्ण को सुदामा का परिचय किस प्रकार दिया?

- प्र.8 पूरक पुस्तक 'भारत की खोज' पर आधारित निम्नलिखित प्रश्नों के उत्तर लिखिए- 8
1. बंगाल के महान समाज सुधारक कौन थे?
 2. 'कैपिटेशन चार्ज' किसे कहा जाता था?
 3. अंग्रेजों ने भारत में कौन-सी प्रथा आरंभ की?
 4. आर्य समाज की स्थापना किसने की?
 5. स्वामी विवेकानंद का देहावसान कितने वर्ष की आयु में हो गया था?
 6. भारतीयों द्वारा संपादित पहला समाचार पत्र कब प्रकाशित हुआ?
 7. भारत छोड़ो प्रस्ताव कब और किसके द्वारा रखा गया?
 8. बाल गंगाधर तिलक कहाँ के नेता थे?

खंड घ (रचनात्मक लेखन)

- प्र.9 निम्नलिखित में से किसी एक विषय पर अनुच्छेद लिखिए- 5
1. मधुर वाणी
 2. वसंत
 3. समुद्र के किनारे एक शाम

- प्र.10 निम्नलिखित में से किसी एक विषय पर पत्र लिखिए- 5

आपका मित्र सुदर्शन परीक्षा में असफल हो गया है, अतः उसे प्रोत्साहित करते हुए पत्र लिखिए।

अथवा

खेलों के महत्त्व पर छोटे भाई को एक पत्र लिखिए।

- प्र.11 अध्यापक और अनुपस्थित रहने वाले छात्र रमेश के बीच हुई बातचीत को संवाद के रूप में लिखिए। 5

अथवा

अपने पुत्र को अंग्रेजी मीडियम स्कूल में दाखिला दिलाने के संबंध में माँ और पिताजी के बीच हुई बातचीत को संवाद के रूप में लिखिए।

- प्र.12 आपके शहर में ऊनी कपड़ों की सेल लगी है। उसके लिए एक विज्ञापन तैयार कीजिए। 5

अथवा

आप एक घड़ी कंपनी के मालिक हैं। अपनी घड़ी को सबसे अच्छा बताते हुए उसकी बिक्री के लिए एक सुंदर-सा विज्ञापन तैयार कीजिए।



Jindal Vidya Mandir, JSW Hill Side Township

Term-II Examination (2025-26)

Class : VIII

Max. Marks : 80

Sub : Kannada (II Language)

Set-A

Duration : 3 Hrs

ಸೂಚನೆಗಳು:-

*ಈ ಪ್ರಶ್ನೆ ಪತ್ರಿಕೆಯಲ್ಲಿ ಒಟ್ಟು 15 ಮುಖ್ಯ ಪ್ರಶ್ನೆಗಳು ಮತ್ತು 7 ಪುಟಗಳು ಇರುತ್ತವೆ.

*ಈ ಪ್ರಶ್ನೆ ಪತ್ರಿಕೆಯು ಭಾಗ ಏ ಮತ್ತು ಭಾಗ ಬಿ ಎಂಬ ಎರಡು ಭಾಗಗಳನ್ನು ಮತ್ತು ಎ, ಬಿ, ಸಿ, ಡಿ ಎಂಬ ನಾಲ್ಕು ವಿಭಾಗಗಳನ್ನು ಒಳಗೊಂಡಿರುತ್ತದೆ.

*ವಿಭಾಗ ಎ ನಲ್ಲಿ ನಾಲ್ಕು ಮುಖ್ಯ ಪ್ರಶ್ನೆಗಳು ನಾಲ್ಕು ಬಹು ಆಯ್ಕೆಯ ಉಪ ಪ್ರಶ್ನೆಗಳು ಮತ್ತು ಬರವಣಿಗೆಯ 10 ಪ್ರಶ್ನೆಗಳಿರುತ್ತವೆ.

ಭಾಗ ಎ ಅನ್ವಯಿಕ ವ್ಯಾಕರಣದಲ್ಲಿ ಐದು ಬಹು ಆಯ್ಕೆಯ ಪ್ರಶ್ನೆಗಳು 5 ಬರವಣಿಗೆಯ ಪ್ರಶ್ನೆಗಳು ಮತ್ತು ಪಠ್ಯಪೂರಕದ 5 ಬಹು ಆಯ್ಕೆ ಪ್ರಶ್ನೆಗಳಿಗೆ ಉತ್ತರಿಸಬೇಕು.

*ಭಾಗ ಬಿ ಬರವಣಿಗೆ ಕೌಶಲ್ಯ ವಿಭಾಗ ಸಿ ನ ಎಲ್ಲಾ ಪ್ರಶ್ನೆಗಳಿಗೆ ಉತ್ತರಿಸಬೇಕು.

*ಭಾಗ ಬಿ ಪಠ್ಯಗಳ ಅಧ್ಯಯನ ಅಲ್ಲಿನ ವಿಭಾಗ ಡಿ ಯಲ್ಲಿನ 10 ರಿಂದ 15 ಮುಖ್ಯ ಪ್ರಶ್ನೆಗಳಿಗೆ ಅಲ್ಲಿ ಕೊಟ್ಟಿರುವ ಸೂಚನೆಯಂತೆ ಉತ್ತರಿಸಬೇಕು.

ಭಾಗ A (40 ಅಂಕಗಳು)	ವಾಚನ ಮತ್ತು ಗ್ರಹಿಕಾ ಕೌಶಲ್ಯ	10 ಅಂಕಗಳು
	ಅನ್ವಯಿಕ ವ್ಯಾಕರಣ	15 ಅಂಕಗಳು
	ಬಹು ಆಯ್ಕೆ ಪ್ರಶ್ನೆ ಪಠ್ಯಗಳ ಅಧ್ಯಯನ	05 ಅಂಕಗಳು
ಭಾಗ B (40 ಅಂಕಗಳು)	ಬರವಣಿಗೆ ಕೌಶಲ್ಯ	12 ಅಂಕಗಳು
	ಪಠ್ಯಗಳ ಅಧ್ಯಯನ	28 ಅಂಕಗಳು
	ಒಟ್ಟು ಅಂಕಗಳು	80 ಅಂಕಗಳು

I. ಈ ಕೆಳಗಿನ ಪಠ್ಯೇತರಗದ್ಯ ಭಾಗವನ್ನು ಓದಿಕೊಂಡು ಈ ಕೆಳಗಿನ ಪ್ರಶ್ನೆಗಳಿಗೆ ಉತ್ತರ ಬರೆಯಿರಿ.

5x1=5

ಉತ್ತರ ಕರ್ನಾಟಕದಲ್ಲಿ ದೀಪಾವಳಿ ಹಬ್ಬವನ್ನು ಅತ್ಯಂತ ವಿಶೇಷವಾಗಿ ಆಚರಿಸುತ್ತಾರೆ. ಈ ಸಂದರ್ಭದಲ್ಲಿ ಹಟ್ಟಿವ್ವನ ಪೂಜೆ ಎಂಬ ವಿಶಿಷ್ಟ ಆಚರಣೆ ಇರುತ್ತದೆ. ದೀಪಾವಳಿ ಅಮಾವಾಸ್ಯೆಯ ಮರುದಿನ ಪಾಡ್ಯದಂದು ಜರುಗುತ್ತದೆ. ಹಟ್ಟಿ ಎಂದರೆ ದನ ಕರುಗಳನ್ನು ಕಟ್ಟುವ ಸ್ಥಳ ಅಥವಾ ಕೊಟ್ಟಿಗೆ. ಇದನ್ನು ಕಾಯುವ ದೇವತೆಯೇ ಹಟ್ಟಿವ್ವ. ಹಟ್ಟಿವ್ವನ ಸಾಂಕೇತಿಕ ಪ್ರತಿಮೆಗಳನ್ನು ತಯಾರಿಸಲು ಸಗಣೆ ಯನ್ನು ಬಳಸುತ್ತಾರೆ. ಎರಡು ದೊಡ್ಡ ಹಾಗೂ 40 ರಿಂದ 50 ಸಣ್ಣ ಹಟ್ಟಿವ್ವಗಳನ್ನು ತಯಾರಿಸಿ ವರ್ತುಲಾಕಾರದಲ್ಲಿ ಇರಿಸಿ ಚೆಂಡು ಹೂ, ಎಳ್ಳು ಹೂಗಳಿಂದ ಶೃಂಗರಿಸುತ್ತಾರೆ. ಈ ಎಲ್ಲಾ ವರ್ತುಲ ಆಕಾರದಲ್ಲಿ ಇರಿಸಲಾದ ಹಟ್ಟಿವ್ವಗಳ ಮೇಲೆ ಸುಣ್ಣದಲ್ಲಿ ಅದ್ದಿದ್ದ ಬೆರಳಿನ ಗುರುತುಗಳನ್ನು, ಆಕಳ ಹೆಜ್ಜೆಯ ಗುರುತುಗಳನ್ನೂ ಮಾಡುತ್ತಾರೆ. ವರ್ತುಲ

ಆಕಾರದಲ್ಲಿ ಇರಿಸಲಾದ ಹಟ್ಟಿವ್ಯಗಳ ಮೇಲೆ ಕೊಡೆಯ ಆಕಾರದಲ್ಲಿ ಜೋಳದ ದಂಟುಗಳನ್ನು ಇಲ್ಲವೇ ಕಬ್ಬನ್ನು ಇರಿಸುತ್ತಾರೆ. ಸಂಜೆ ವೇಳೆಗೆ ಈ ಹಟ್ಟಿವ್ಯಗಳನ್ನು ಮನೆಯ ಮಾಳಿಗೆಯ ಮೇಲೆ ಹಿತ್ತಲ ಬಾಗಿಲು ಮತ್ತು ಮುಂಬಾಗಿಲ ಮೇಲೆ ಸಾಲಾಗಿ ಇರಿಸುತ್ತಾರೆ. ದೊಡ್ಡ ಹಟ್ಟಿವ್ಯಗಳನ್ನು ಬಾಗಿಲ ಮೇಲೆ ಸಣ್ಣ ಹಟ್ಟಿವ್ಯಗಳ ನಡುವೆ ಇರಿಸುತ್ತಾರೆ. ಇವಿಷ್ಟು ಹಟ್ಟಿ ಹಬ್ಬದ ಆಚರಣೆ.ನಮ್ಮ ಗ್ರಾಮೀಣ ಜನರು ವಿದೇಶಿ ವಿಕೃತಿಯ ಆಕ್ರಮಣದ ನಡುವೆಯೂ ಹಟ್ಟಿವ್ಯನ ಪೂಜೆಯನ್ನು ಪ್ರತಿವರ್ಷವೂ ಆಚರಿಸುತ್ತಾರೆ. ಇದರಲ್ಲಿ ಹೆಚ್ಚಿನವರು ಮಹಿಳೆಯರೇ. ಹಳ್ಳಿಯ ಮನೆಮನೆಯ ಹಟ್ಟಿ ಕೊಟ್ಟಿಗಿಗಳಲ್ಲಿ ಹಟ್ಟಿವ್ಯ ಪೂಜೆಗೊಂಡು ಮನೆಮಾಳಿಗೆ ಶೃಂಗಾರ ಗೊಳ್ಳುತ್ತಿರುವುದು ಕೇವಲ ಅಂಧಾನುಕರಣೆ ಮೂಡನಂಬಿಕೆ ಎಂದು ಮೂಗು ಮುರಿಯುವವರು ಇಂದು ಅನೇಕರಿರಬಹುದು. ಆದರೆ ದನ ಕರುಗಳ ಸಗಣಿಯ ಮಹತ್ವವನ್ನು ಸಾರುವ ಮತ್ತು ಸಗಣಿಯ ಗೊಬ್ಬರದ ಶ್ರೇಷ್ಠತೆಯನ್ನು ಗೌರವಿಸುವ ರೀತಿಯಲ್ಲಿ ಸಗಣಿಯ ಹಟ್ಟಿವ್ಯ ದೇವತೆಯಾಗಿ ಪೂಜಿಸಲ್ಪಡುತ್ತಿದ್ದಾಳೆ ಎನ್ನುವುದು ನಮ್ಮ ಕೃಷಿ ಸಂಸ್ಕೃತಿಯ ಹಿರಿಮೆಯ ಸಂಕೇತ.

ಪ್ರಶ್ನೆಗಳು :-

1.ಹಟ್ಟಿ ಹಬ್ಬವನ್ನು----- ಆಚರಿಸಲಾಗುತ್ತದೆ.

- (i) ಉತ್ತರ ಕರ್ನಾಟಕ (ii) ದಕ್ಷಿಣ ಕರ್ನಾಟಕ (iii) ಪೂರ್ವ ಕರ್ನಾಟಕ (iv) ಪಶ್ಚಿಮ ಕರ್ನಾಟಕ

2. ಹಟ್ಟಿ ಎಂದರೆ-----

- (i) ಪೆಟ್ಟಿಗೆ (ii) ರೊಟ್ಟಿಗೆ (iii) ಕೊಟ್ಟಿಗೆ (iv) ಶೆಗಣಿ

3. ವರ್ತುಲ ಕಾರದಲ್ಲಿ ಇರಿಸಲಾಗಿರುವ ಹಟ್ಟಿವ್ಯಗಳ ಮೇಲೆ----- ಆಕಾರದಲ್ಲಿ ಜೋಳದ ದಂಟುಗಳನ್ನು ಇರಿಸುತ್ತಾರೆ.

- (i) ಕೊಡೆ (ii) ಚಂದ್ರಕಾರ (iii) ಚೌಕ ಕಾರ (iv) ವಕ್ರಕಾರ

4. ನಮ್ಮ----- ಜನರು ವಿದೇಶಿ ವಿಕೃತಿಯ ಆಕ್ರಮಣದ ನಡುವೆಯೂ ಹಟ್ಟಿವ್ಯನ ಪೂಜೆಯನ್ನು ಪ್ರತಿವರ್ಷ ಆಚರಿಸುತ್ತಾರೆ.

- (i) ಜಿಲ್ಲೆಯ (ii) ಗ್ರಾಮೀಣ (iii) ನಗರ (iv) ರಾಜ್ಯ

5.ನಮ್ಮ -----ಸಂಸ್ಕೃತಿಯ ಹಿರಿಮೆಯ ಸಂಕೇತ.

- (i) ಕ್ರೀಡೆ (ii) ಕೃಷಿ (iii) ಆರೋಗ್ಯ (iv) ಎಲ್ಲವೂ

II. ಈ ಕೆಳಗಿನ ಪಠ್ಯೇತರಗದ್ಯ ಭಾಗವನ್ನು ಓದಿಕೊಂಡು ಈ ಕೆಳಗಿನ ಪ್ರಶ್ನೆಗಳಿಗೆ ಉತ್ತರ ಬರೆಯಿರಿ. 5x1=5
ನವಂಬರ್ ಒಂದರಂದು ವಿಶ್ವವೇಗನ್ ದಿನವನ್ನಾಗಿ ಆಚರಿಸಲಾಗುತ್ತದೆ .ವೇಗನ್ ಎಂದರೇನು? ಗೊತ್ತೇ? ಸಸ್ಯಹಾರ ಎಂದರೆ ಎಲ್ಲರಿಗೂ ಗೊತ್ತು. ಸಸ್ಯ ಮೂಲಗಳಿಂದ ಬರುವ ಆಹಾರವೇ ಸಸ್ಯಹಾರ. ಆದರೆ ಬಹುತೇಕ ಭಾರತೀಯರು ಸಸ್ಯಹಾರದಲ್ಲಿ ಪ್ರಾಣಿಗಳಿಗಿಂತ ಸಿಗುವ ಉತ್ಪನ್ನಗಳಾದ ಹಾಲು, ಮೊಸರು, ತುಪ್ಪಗಳನ್ನು ಸೇರಿಸುತ್ತಾರೆ. ಜೈನ ಧರ್ಮದ ಕಟ್ಟಾ ಸಸ್ಯಹಾರಿಗಳು ಜೇನುತುಪ್ಪ ,ಈರುಳ್ಳಿ, ಬೆಳ್ಳುಳ್ಳಿಗಳನ್ನು ಮುಟ್ಟುವುದಿಲ್ಲ. ಆದರೆ ಇನ್ನೊಂದೆಡೆ ಬಂಗಾಳದ ಸಸ್ಯಹಾರಿಗಳಿಗೆ ಮೀನು ಮೆಚ್ಚಿನ ಆಹಾರ!. ಪಾಶ್ಚಾತ್ಯ ದೇಶಗಳಲ್ಲಿ ಸಸ್ಯಹಾರ ಎಂದರೆ ಅದರಲ್ಲಿ ಹಾಲು ಮಾತ್ರವೇ ಅಲ್ಲ ಮೊಟ್ಟೆ ಕೊಡೆ ಸೇರಿರುತ್ತದೆ . ಇಂಗ್ಲೆಂಡಿನ ಡೊನಾಲ್ಡ್ ವ್ಯಾಟ್ ಸನ್ ಗೆ ಕಟ್ಟಾ ಸಸ್ಯಹಾರದಲ್ಲಿ ವಿಶೇಷ ಆಸಕ್ತಿ ಇತ್ತು. ಇವರು 1944 ರಲ್ಲಿ

ಶ್ರಿಂಗಲೀ ಎಂಬುವರ ಜೊತೆ ಸೇರಿ ಇಂಗ್ಲೆಂಡಿನಲ್ಲಿ ವಿಶ್ವದ ಪ್ರಪ್ರಥಮ ಕಟ್ಟಾ ಸಸ್ಯಹಾರಿ ವೇಗನ್ ಸೊಸೈಟಿಯನ್ನು ಸ್ಥಾಪಿಸಿದರು. ವೇಗನ್ ಎಂಬುದು ವೆಜಿಟೇರಿಯನ್ ಸಸ್ಯಹಾರ ಎಂಬ ಶಬ್ದದಿಂದ ಬಂದಿತು. ಈ ಸಂಘಟನೆಯ ಸದಸ್ಯರು ಹೇಳುವಂತೆ ವೇಗನ್ ಎಂದರೆ ಸಸ್ಯಹಾರ ಬಿಟ್ಟು ಬೇರೇನೂ ಇಲ್ಲ. ಅವರು ಪ್ರಾಣಿಮೂಲಗಳಿಂದ ಬರುವ ಯಾವುದೇ ವಸ್ತುವನ್ನು ತಿನ್ನುವುದಿಲ್ಲ, ಉಡುವುದಿಲ್ಲ, ಬಳಸುವುದಿಲ್ಲ. ಮಾಂಸ, ಕೋಳಿ, ಮೀನು, ಚಿಪ್ಪು, ಮೊಟ್ಟೆ, ಹಾಲು, ತುಪ್ಪ, ಮೊಸರು, ಜೀನುತುಪ್ಪ ಮೊದಲಾದ ಪ್ರಾಣಿಜನ್ಯ ವಸ್ತುಗಳನ್ನು ಇವರು ಸೇವಿಸುವುದಿಲ್ಲ. ಚರ್ಮ ತುಪ್ಪಳ, ಉಣ್ಣೆ, ರೇಷ್ಮೆ ಮುಂತಾದ ವಸ್ತುಗಳನ್ನು ತೊಡುವುದಿಲ್ಲ. ಇಂದು ವಿಶ್ವದಾದ್ಯಂತ ಅಸಂಖ್ಯ ವೇಗನ್ ಸಂಘಟನೆಗಳಿವೆ. ಕ್ಲಿಂಟ್ ಈಸ್ಟ್ ವುಡ್, ಕೇಸೀ ಎಫೆಕ್ಟ್ ಮುಂತಾದ ಪ್ರಖ್ಯಾತ ಚಿತ್ರನಟರು ಬ್ರಿಯಾನ್ ಆಡಮ್ಸ್ ಪಾಲ್ ಮೆಕ್ ಕಾರ್ಟ್ ಮೊದಲಾದ ಸಂಗೀತಗಾರರು, ಖ್ಯಾತ ಕ್ರೀಡಾಪಟು ಕಾರ್ಲ್ ಲೂಯಿಸ್, ರಾಜಕಾರಣಿ ಮೇನಕಾ ಗಾಂಧಿ ಇವರೆಲ್ಲರೂ ಖ್ಯಾತ ವೇಗನ್ ಸದಸ್ಯರಾಗಿದ್ದಾರೆ.

ಪ್ರಶ್ನೆಗಳು:-

1.ವೇಗನ್ ಎಂಬುದು -----ಶಬ್ದದಿಂದ ಆರಿಸಿಕೊಳ್ಳಲಾಗಿದೆ.

- (i) ವಚನ್ (ii) ವಜನ್ (iii) ವೆಜಿಟೇರಿಯನ್ (iv) ವಾಯುಭಾರ;

2.ನವಂಬರ್ 1----- ದಿನಾಚರಣೆ.

- (i) ಬೇಡ (ii) ಕ್ರೀಡಾ (iii) ಪರಿಸರ ಸಂರಕ್ಷಣಾ (vi) ವಿಶ್ವ ವೇಗನ್

3.ಬಂಗಾಳದ ಸಸ್ಯಹಾರಿಗಳಿಗೆ ಮೆಚ್ಚಿನ ಆಹಾರ-----

- (i) ಕೋಳಿ (ii) ಕುರಿ (iii) ಮೀನು (iv) ಎಲ್ಲವು

4. ಇಂಗ್ಲೆಂಡಿನ -----ಗೆ ಕಟ್ಟಾ ಸಸ್ಯಹಾರದಲ್ಲಿ ವಿಶೇಷ ಆಸಕ್ತಿ ಇತ್ತು.

- (i) ಡೊನಾಲ್ಡ್ ವ್ಯಾಟ್ಸನ್ (ii) ಡಿಯೋ ಡಾನ್ (iii) ಲೆನಿನ್ (iv) ನ್ಯೂಟನ್

5.-----ರಲ್ಲಿ ಇಂಗ್ಲೆಂಡ್ನಲ್ಲಿ ವಿಶ್ವದ ಪ್ರಪ್ರಥಮ ಕಟ್ಟಾ ಸಸ್ಯಹಾರಿ ವೇಗನ್ ಸೊಸೈಟಿಯನ್ನು ಸ್ಥಾಪಿಸಿದರು.

- (i) 1988 (ii) 1946 (iii) 1944 (iv) 1922

III.ಈ ಕೆಳಗಿನ ಪಠ್ಯ ಅಮ್ಮ ಗದ್ಯಭಾಗವನ್ನು ಓದಿಕೊಂಡು ಈ ಕೆಳಗಿನ ಪ್ರಶ್ನೆಗಳಿಗೆ ಉತ್ತರ ಬರೆಯಿರಿ. 5X1=5

ಮಲೆನಾಡಿನಲ್ಲಿ ಹುಲಿ ಆಗ ನಿಜವಾದ ಹಸಿದ ಕಣ್ಣುಗಳ ಕೋರೆ ದಾಡೆಯ ಮುಖವಾಗಿತ್ತು. ನಮಗೆ ತುಂಬಾ ಭಯವಾದಾಗ ಹೇಳಿಕೊಳ್ಳಲು ಅರ್ಜುನ ಮಂತ್ರ ವಿತ್ತು ಅರ್ಜುನ: ಫಲುಣೋ ಪಾರ್ಥ: ಕಿರಿಟಿ ಶ್ವೇತ ವಾಹನ: ಇದು ನಮ್ಮ ಹೇಳಿಕೊಟ್ಟದ್ದು. ಅದನ್ನು ಹೇಳಿಬಿಟ್ಟರೆ ಭಯ ನಿವಾರಣೆ ಆಗುತ್ತೆ ಅಂತ ಹೇಳಿದ್ದರು. ಅದನ್ನು ಹೇಳುತ್ತಾ ಹೇಳುತ್ತಾ ನಾವು ನಿದ್ರೆ ಹೋಗುತ್ತಿದ್ದೆವು. ಅಮ್ಮ ಮಾತ್ರ ನಿದ್ರೆ ಮಾಡುತ್ತಿರಲಿಲ್ಲ. ಬೆಳಿಗ್ಗೆ ಎದ್ದು ಕೊಟ್ಟಿಗೆಯಲ್ಲಿ ಎಲ್ಲಾ ದನಗಳಿವೆ ಎಂದು ಗೊತ್ತಾದಾಗ ಮನಸ್ಸಿಗೆ ಸಮಾಧಾನ.ನನ್ನ ಮೊದಲ ವಿದ್ಯಾ ಗುರು ನನ್ನ ಅಮ್ಮ ಸ್ಕೂಲಿಗೆ ಹೋಗಿ ಸ್ವಲ್ಪ ಓದಿ ಬರೆಯಲು ಕಲಿತಿದ್ದಳು. ಸ್ಕೂಲಿನಲ್ಲಿ ಅವಳು ಎಸ್.ವಿ ಪರಮೇಶ್ವರ ಭಟ್ಟರ ಸಹಪಾಠಿಯಾಗಿದ್ದವಳು. ಕೆರೆ ಕೊಪ್ಪದ ಮನೆಯಲ್ಲಿದ್ದಾಗಲೇ ನನಗೆ ಅಕ್ಷರ ಅಭ್ಯಾಸ ಪ್ರಾರಂಭವಾಗಿದ್ದು. ಆಗ ಸ್ಕೂಲ್ ಹತ್ತಿರ ಇರಲಿಲ್ಲ. ಹಬ್ಬದ ದಿನ ಅದು "ಸರಸ್ವತಿ ನಮಸ್ತುಭ್ಯಂ,

ವರದೇ ಕಾಮರೂಪಿಣಿ ,ವಿದ್ಯಾರಂಭಂ ಕರಿಷ್ಯಾಮಿ ಸಿದ್ಧಿಭವತು ಮೇ ಸದಾ" ಎಂದು ಹೇಳಿ ಅಮ್ಮ ನೆಲದಲ್ಲಿ ಮರಳು ಹರಡಿ ಕೂರಿಸಿ ನನ್ನ ಬೆರಳನ್ನು ಹಿಡಿದುಕೊಂಡು ಅ ಎಂಬ ಅಕ್ಷರವನ್ನು ಬರೆಯಿಸಿದ್ದಳು. ಅಮ್ಮ ನಿತ್ಯ ಹೀಗೆ ಮಾಡಿಸುತ್ತಿದ್ದುದರಿಂದ ನಾನು ಶಾಲೆಯಲ್ಲಿ ಅಕ್ಷರ ಕಲಿಯುವುದಕ್ಕೆ ಆರಂಭಿಸುವ ಹೊತ್ತಿಗೆ ಅನೇಕ ಅಕ್ಷರಗಳನ್ನು ಕಲಿತುಬಿಟ್ಟಿದ್ದೆ.

ಪ್ರಶ್ನೆಗಳು:-

- 1.ಲೇಖಕರ ಮೊದಲ ವಿದ್ಯಾ ಗುರು ಯಾರು?
- 2.ಬಾಲ್ಯದಲ್ಲಿ ಲೇಖಕರು ಭಯವಾದಾಗ ಯಾವ ಮಂತ್ರವನ್ನು ಹೇಳುತ್ತಿದ್ದರು?
- 3.ಅಮ್ಮ ಸ್ಕೂಲಿನಲ್ಲಿ ಯಾರ ಸಹಪಾಠಿಯಾಗಿದ್ದವಳು?
4. ಲೇಖಕರ ಅಮ್ಮನಿಗೆ ಯಾವಾಗ ಮನಸ್ಸಿಗೆ ಸಮಾಧಾನ?
5. ಮಲೆನಾಡಿನಲ್ಲಿ ಹುಲಿ ಆಗ ನಿಜವಾದ ಮುಖ ಹೇಗಿತ್ತು?

IV. ಈ ಕೆಳಗೆ ಕೊಟ್ಟಿರುವ ಪರಿಚಿತ ಬಹುಮಾನ ಪದ್ಯ ಭಾಗವನ್ನು ಓದಿಕೊಂಡು ಈ ಕೆಳಗಿನ ಪ್ರಶ್ನೆಗಳಿಗೆ ಉತ್ತರಿಸಿರಿ.

ಕುಹೂ! ಕುಹೂ! ಕೋಕಿಲ ವಾಣಿ!
ಜಗ ಜುಮ್ಮೆಂದುದು ಅದ ಕೇಳಿ!
ನೀರವ ಪರ್ವತ ಕಾನನ ಶ್ರೇಣಿ
ಮರುದನಿಗೈದಿತು ಮುದ ತಾಳಿ.

ಗಾನವ ಕೇಳಿ ಮಹಾಂಬರ ಸುಮ್ಮನೆ
ಮಾತಾಡದೆ ಬಣ್ಣಿಸುತ್ತಿತ್ತು!
ಕಂದರದಲ್ಲಿದ್ದೊಂದು ಸರೋವರ
ತೆರೆಗಳ ಕೈಪರೆಯಿಕ್ಕಿತ್ತು!
ಮಾಧುರ್ಯದಿ ಪಿಕ ತನ್ನನೆ ಮರೆಯುತೆ
ಕುಹೂ ಕುಹೂ ಕೂಗಿತ್ತು!

ಕುವೆಂಪು

5x1=5

ಪ್ರಶ್ನೆಗಳು :-

- 1.ಕೋಗಿಲೆಯ ಕೂಗನ್ನು ಯಾವುದು ಮಾರ್ದನಿಸಿತು?
2. ಗಾನವ ಕೇಳಿ ಯಾವುದು ಸುಮ್ಮನೆ ಮಾತಾಡದೆ ಬಣ್ಣಿಸುತ್ತಿತ್ತು?
3. ಯಾವುದು ತನ್ನನೆ ಮರೆಯುತೆ ಕುಹೂ ಕುಹೂ ಕೂಗಿತ್ತು?
4. ಈ ಪದ್ಯವನ್ನು ಬರೆದ ಕವಿಯ ಹೆಸರೇನು?

5. ಕಂದರದಲ್ಲಿದ್ದ ಒಂದು ಸರೋವರ ತೆರೆಗಳ ಏನನ್ನು ಇಕ್ಕಿತ್ತು?

V. ಈ ಕೆಳಗೆ ಕೊಟ್ಟಿರುವ ವ್ಯಾಕರಣಾಂಶಗಳನ್ನು ಓದಿ, ಸೂಕ್ತ ಉತ್ತರವನ್ನು ಆರಿಸಿ ಬರೆಯಿರಿ.

10x1=10

1. ನಮ್ಮ ಊರಿನ ಶಾಲೆಯ ಬಳಿ ಒಂದು ಹಂಸ ಕಂಬನಿ ಇಟ್ಟಿತು. ಈ ವಾಕ್ಯದಲ್ಲಿ ಕಂಬನಿ ಎಂಬ ಪದವು -----ಸಂಧಿಗೆ ಉದಾಹರಣೆಯಾಗಿದೆ.

(i) ಆಗಮ ಸಂಧಿ (ii) ಆದೇಶ ಸಂಧಿ (iii) ಲೋಪ ಸಂಧಿ (iv) ಗುಣ ಸಂಧಿ

2. ಕರ್ನಾಟಕ ಇತಿಹಾಸದಲ್ಲಿ ಇಮ್ಮಡಿ ಪುಲಕೇಶಿಯ ಹೆಸರು ಪ್ರಸಿದ್ಧವಾಗಿದೆ. ಈ ವಾಕ್ಯದಲ್ಲಿ ಇಮ್ಮಡಿ ಎಂಬ ಪದವು----- ಸಮಾಸಕ್ಕೆ ಉದಾಹರಣೆಯಾಗಿದೆ.

(i) ಕರ್ಮಧಾರೆಯ ಸಮಾಸ (ii) ದ್ವಿಗು ಸಮಾಸ (iii) ದ್ವಂದ್ವ ಸಮಾಸ (iv) ತತ್ಪುರುಷ ಸಮಾಸ

3. ನಾಲ್ಕು + ದಸೆ = ನಾಲ್ಕೆಸೆ :: ವಯಸ್ಸಿನಲ್ಲಿ + ವೃದ್ಧ ::-----

(i) ವೈ ಆರ್ ಯುದ್ಧ (ii) ವಯೋ ವೃದ್ಧ (iii) ವಯರ್ಯುದ್ಧ (iv) ವಯಸ್ಸು ವೃದ್ಧ

4. ವಿಜ್ಞಾನ : ಬಿನ್ನಣ :: ಕಾವ್ಯ :-----

(i) ಕಾವ (ii) ಕಬಾ (iii) ಕಬ್ಬ (iv) ಕಜ್ಜ

5. ಗೌರವದಲ್ಲಿ ಈ ಪದದಲ್ಲಿರುವ ವಿಭಕ್ತಿ ಪ್ರತ್ಯಯದ ಹೆಸರು -----

(i) ಪುಥಮ (ii) ಚತುರ್ಥಿ (iii) ತೃತೀಯ (iv) ಸಪ್ತಮಿ

6. ಕರ್ಮಧಾರೆಯ ಸಮಾಸಕ್ಕೆ ಒಂದು ಉದಾಹರಣೆ -----

(i) ರಾಮ ಲಕ್ಷ್ಮಣ ಸೀತೆಯರು (ii) ಹಗಲುಗನಸು (iii) ಮುಕ್ಕಣ್ಣ (iv) ಹೆಮ್ಮರ

7. ಪಟ ಪಟ :----- :: ಹೊಟ್ಟೆ ಕಿಚ್ಚು : ನುಡಿಗಟ್ಟು

(i) ಅನುಕರಣಾವ್ಯಯ (ii) ವಿರುದ್ಧ ಪದ (iii) ದ್ವಿರುಕ್ತಿ (iv) ಜೋಡಿ ಪದ

8. ಮನೋರಮೆ ಯಾರು? ಈ ವಾಕ್ಯದ ಕೊನೆಯಲ್ಲಿ -----ಯನ್ನು ಬಳಸುತ್ತೇವೆ.

(i) ಉದ್ಧರಣ ಚಿಹ್ನೆ (ii) ಪ್ರಶ್ನಾರ್ಥಕ ಚಿಹ್ನೆ (iii) ಅರ್ಧ ವಿರಾಮಚಿಹ್ನೆ (iv) ಅಲ್ಪ ವಿರಾಮ ಚಿಹ್ನೆ

9. ಭಯ ಈ ಪದದ ವಿರುದ್ಧ ಪದ :-----

(i) ನಿರ್ಭಯ (ii) ಅಭಯ (iii) ಅಂಜಿಕೆ (iv) ತೊಂದರೆ

10. ವೈದ್ಯ ಈ ಪದವು-----ನಾಮ ಪದಕ್ಕೆ ಸೇರಿದೆ.

(i) ರೂಢ (ii) ಅಂಕಿತ (iii) ಎಲ್ಲವೂ (iv) ಅನ್ವರ್ಥ

VI. ಈ ಕೆಳಗೆ ಸೂಚಿಸಿದಂತೆ ಬರೆಯಿರಿ.

5x1=5

11. 'ನಾನೆಲ್ಲಿ' ಈ ಸಂಧಿ ಪದವನ್ನು ಬಿಡಿಸಿ ಬರೆದು ಸಂಧಿ ಹೆಸರಿಸಿರಿ.

12.. 'ಯಥೇಚ್ಛ' ಈ ಪದವನ್ನು ಸ್ವಂತ ವಾಕ್ಯದಲ್ಲಿ ಬರೆಯಿರಿ.

13. ಶಿಕ್ಷಕರು ಮಕ್ಕಳಿಗೆ ಶಿಸ್ತಿನ ಬಗ್ಗೆ ತಿಳುವಳಿಕೆ ಮೂಡಿಸಿದರು. ಈ ವಾಕ್ಯದಲ್ಲಿರುವ ಕ್ರಿಯಾಪದವನ್ನು ಬರೆಯಿರಿ.

14. "ದಾದೇರು ಗೋಗರೆದಕ್ಕೆ ಒಪ್ಪತಾಳೆ" .. ಈ ವಾಕ್ಯವನ್ನು ಗ್ರಾಂಥಿಕ ರೂಪದಲ್ಲಿ ಬರೆಯಿರಿ .

15. ಪೂರ್ವ, ಪಶ್ಚಿಮ, ಉತ್ತರ ,ದಕ್ಷಿಣ, ಈ ಪದಗಳು ಯಾವ ವಾಚಕ ಪದಗಳಾಗಿವೆ?

VII. ಈ ಕೆಳಗಿನ ಪಠ್ಯಪೂರಕ ವಸ್ತುನಿಷ್ಠ ಪ್ರಶ್ನೆಗಳಿಗೆ ನಾಲ್ಕು ಉತ್ತರಗಳನ್ನು ಕೊಡಲಾಗಿದೆ. ಸರಿಯಾದ ಉತ್ತರವನ್ನು ಆರಿಸಿ ಬರೆಯಿರಿ **5x1=5**

1. ನೀರು ಮರಕ್ಕೆ--- ಏಟು ಹಾಕಬೇಕು.

(i) ಐದು (ii) ಒಂದು (iii) ಆರು (iv) ಮೂರು

2.. ಸೀಮೆ ಪಾಠವನ್ನು ಬರೆದ ಲೇಖಕರ ಹೆಸರು---

(i) ಶಿವರಾಮ ಕಾರಂತರು (ii) ಚಂದ್ರಶೇಖರ್ ಕಂಬಾರ (iii) ಶ್ರೀಕಂಠಯ್ಯ (iv) ಶಿವರುದ್ರಪ್ಪ

3. ----- ನಟ್ಟು ಬೋಲ್ವು ಹಾಕಿಸಿಕೊಳ್ಳುವುದಕ್ಕಿಂತ ಭಗವಂತನ ಪಾದಾರವಿಂದ ಸೇರುವುದೇ ಲೇಸು.

(i) ಕೆಳಗಿನ ಎಲ್ಲವೂ (ii) ದೇಹಕ್ಕೆಲ್ಲ (iii) ತಲೆಗೆ (iv) ಮಗುವಿಗೆ

4. ಪ್ರಾರ್ಥನೆಯಿಂದ ಮಳೆ ಬರಿಸುವುದಾಗಿ ಹೇಳಿದ್ದವರು -----

(i) ವೀರ (ii) ಬಾಲ ಯೋಗಿ (iii) ಮಹಿಳೆ (iv) ಎಲ್ಲರೂ

5. ನಮ್ಮ ಸುತ್ತಲೂ ಇರುವ ಕಂದಕ-----

(i) ಮೋಡಗಳು (ii) ನನಸುಗಳು (iii) ಜಾತಿ ಮತ ಭೇದಗಳು (iv) ನಮ್ಮದೆಯ

ಬರವಣಿಗೆ ಮತ್ತು ಪಠ್ಯಗಳ ಅಧ್ಯಯನ

VIII. ನಿಮ್ಮ ಬಡಾವಣೆಗೆ ತಲುಪಬೇಕಾದ ಕಾಗದಗಳು ಸರಿಯಾಗಿ ಬಟವಾಡೆ ಆಗುತ್ತಿಲ್ಲ ಎಂದು ತಿಳಿಸುತ್ತಾ ನಿಮ್ಮ ಬಡಾವಣೆಯ ವ್ಯಾಪ್ತಿಯಲ್ಲಿ ಬರುವ ಅಂಚೆ ಕಚೇರಿಯ ವಿಭಾಗದ ಅಧಿಕಾರಿಗಳಿಗೆ ಒಂದು ಪತ್ರ ಬರೆಯಿರಿ.

ಅಥವಾ

1x4=4

ನಿಮ್ಮ ಶಾಲೆಯಲ್ಲಿ ಆಚರಿಸಿದ ವಾರ್ಷಿಕೋತ್ಸವ ಕುರಿತು ನಿಮ್ಮ ಗೆಳೆತನಿಗೆ ಒಂದು ಪತ್ರ ಬರೆಯಿರಿ.

IX. ಈ ಕೆಳಗಿನ ಗಾದೆ ಮಾತಿನ ಅರ್ಥವನ್ನು ವಿವರವಾಗಿ ಬರೆಯಿರಿ

1x4=4

1. "ತಾಳಿದವನು ಬಾಳಿಯಾನು"

ಅಥವಾ

ನಿಮ್ಮ ಶಾಲೆಯಲ್ಲಿ ಆಚರಿಸಿದ ಗಣರಾಜ್ಯೋತ್ಸವ ಕುರಿತು ಒಂದು ವರದಿಯನ್ನು ಸಿದ್ಧಪಡಿಸಿರಿ.

X. ಈ ಕೆಳಗಿನ ವಿಷಯಕ್ಕೆ ಸಂಬಂಧಿಸಿದಂತೆ ಒಂದು ಪ್ರಬಂಧವನ್ನು ಬರೆಯಿರಿ.

1x4=4

1. ಹವ್ಯಾಸಗಳು 2. ಶಿಸ್ತಿನಮಹತ್ವ 3. ಸಿರಿಧಾನ್ಯಗಳ ಮಹತ್ವ

XI. ಈ ಕೆಳಗಿನ ಪ್ರಶ್ನೆಗಳಿಗೆ ಎರಡು ವಾಕ್ಯಗಳಲ್ಲಿ ಉತ್ತರ ಬರೆಯಿರಿ.

4x2=8

1. ಅರಮನೆಗೆ ಹೂವು ಎಲ್ಲಿಂದ ಬರುತ್ತದೆಂದು ದೊರೆಮಗ ಹೇಗೆ ಕಂಡು ಹಿಡಿದನು?

2. ಕವಿಗಳಿಗೆ ಒಲಿದಿರುವ ಮಂತ್ರದ ಮಹಿಮೆ ಏನು?

3. ಗೆಲೆತನದಲ್ಲಿ ಯಾವ ದುರ್ಗುಣಗಲು ಇಲ್ಲವೆಂದು ಹೇಲಲಾಗಿದೆ?

4 ಹೂಸ ನಾಡೂಂದನ್ನು ಕಟ್ಟ ಬಯಸುವ ಕವಿ ಉತ್ಸಾಹ ಉದ್ವೇಗದಲ್ಲಿ ಹೇಲುವ ಢಾತುಗಲಾವುವು?

XII.ಃ ಕೆಲಗಿನ ಪ್ರಶ್ನೆಗಲಿಗೆ 4-5 ವಾಕ್ಯಗಲಲ್ಲಿ ಉತ್ತರ ಬರೆಯಿರಿ.

2x3=6

1. ಲೇಖಕರು "ಯುರೇಕಾ" ಎಂದು ಕೂಗಿದ ಸಂದರ್ಭವನ್ನು ನಿಮ್ಮ ಢಾತುಗಲಲ್ಲಿ ಬರೆಯಿರಿ.

2. ಶಿವಶರಣರು ಜಗವನ್ನೇ ಗೆದ್ದಿಹ ವಿಚಾರದಲ್ಲಿ ಲಿಂಗಮ್ಮನ ಅನಿಸಿಕೆಯೇನು?

XIII.ಃ ಕೆಲಗಿನ ವಾಕ್ಯಗಲಿಗೆ ಸಂದರ್ಭ ಸಹಿತ ಸ್ವಾರಸ್ಯವನ್ನು ವಿವರಿಸಿರಿ.

2x3=6

1. ಕುಲಹೀನ ನೀನು ಪ್ರತಿಷ್ಠೆ ಸುಡು ಢತಿಹೀನ ನೀನು"

ಅಥವಾ

" ಜಂಗಢ ಢುಂದೆ ನಿಂದಿದ್ದೂ ಹಂಗು ಹರಿಯಬೇಕು"

2." ಢೂಟರು ಓಡಲೂಲ್ಲದು, ಸಾರಥಿ ನಿಲ್ಲಿಸಲಾರನು"

ಅಥವಾ

" ಂಮ್ಮವರೂಂದಿರಕೆ ನಗುವ?"

XIV.ಃ ಕೆಲಗಿನ ಪ್ರಶ್ನೆಗಲಿಗೆ ಂಟು ಹತ್ತು ವಾಕ್ಯಗಲಲ್ಲಿ ಉತ್ತರ ಬರೆಯಿರಿ.

1x4=4

1 ಢುದ್ದಣ್ಣನಿಗೆ ಒಲಿದ ಢಂತ್ರವನ್ನು ತಿಲಿದುಕೂಳ್ಳುವ ವಿಚಾರದಲ್ಲಿ ಢುದ್ದಣ್ಣ ಢನೂರಢೆಯರ ಢಧ್ಯೆ ನಡೆದ ಸಂಭಾಷಣೆಯನ್ನು ನಿಮ್ಮ ಢಾತುಗಲಲ್ಲಿ ಬರೆಯಿರಿ.

ಅಥವಾ

ದೂರೆಯ ಢಗ ತನ್ನ ಹೆಂಡತಿಯನ್ನು ಹೇಗೆ ಪುನಃ ಪಡೆದನು? ವಿವರಿಸಿ.

XV.ಃ ಕೆಲಗಿನ ಪ್ರಶ್ನೆಗಲಿಗೆ ಂಟು ಹತ್ತು ವಾಕ್ಯಗಲಲ್ಲಿ ಉತ್ತರ ಬರೆಯಿರಿ.

1x4= 4.

1. ನರೆದಲಗ ಢತ್ತು ವಿಹಿಗಲ ನಡುವೆ ನಡೆದ ಸಂವಾದವನ್ನು ನಿಮ್ಮ ಢಾತುಗಲಲ್ಲಿ ವಿವರಿಸಿ?

ಅಥವಾ

ಗೆಲೆತನ ಪದ್ಯದ ಆಶಯವನ್ನು ಸಾರಾಂಶದೂಂದಿಗೆ ನಿಮ್ಮದೇ ಆದ ವಾಕ್ಯಗಲಲ್ಲಿ ಬರೆಯಿರಿ.



Jindal Vidya Mandir, JSW Hill Side Township

Term-II Examination: (2025-26)

Class: VIII

Set-A

Max. Marks: 30

Sub: HINDI (III Language)

Duration: 1 Hr.

सामान्य निर्देश:-

- प्रश्न पत्र में कुल 10 प्रश्न हैं -
- सभी प्रश्नों के उत्तर देना अनिवार्य है -

प्रश्न I. नीचे दिए गए गद्यांश को पढ़कर वस्तुनिष्ठ प्रश्नों के उत्तर विकल्पों में से चुनकर लिखिए।

(Read the following passage and give suitable answers)

5×1= 5

कार्टून की अपनी दुनिया है, ठीक मनुष्यों की दुनिया की तरह लुभावनी। कार्टून ऐसा चित्र होता है, जिसे देखकर मन खुश हो जाता है। आजकल तो कार्टूनों के माध्यम से अनेक तरह के रोचक कार्यक्रम दिखाए जाने लगे हैं। कार्टून बच्चों को ही नहीं बड़ों को भी अच्छे लगते हैं। नीरस और उबाऊ विषय भी कार्टून के द्वारा सरस व रोचक बन जाते हैं। इसलिए बच्चे कार्टून की किताब मिलते ही उस पर झपट पड़ते हैं और जब तक वह खत्म न हो जाए, पढ़ना, खेलना, सोना यहाँ तक कि खाना भी भूल जाते हैं। जब ये कार्टून दूरदर्शन पर दिखाए जाते हैं तो इन जीते-जागते, हँसते-बोलते कार्टूनों में सब खो जाते हैं।

1: कार्टून को देखकर कैसा अनुभव होता है?

- (क) डर लगता है (ख) मन खुश हो जाता है (ग) गुस्सा आता है (घ) परेशानी होती है

2: आजकल कार्टूनों के माध्यम से क्या दिखाया जाने लगा है?

- (क) केवल समाचार (ख) अनेक रोचक कार्यक्रम (ग) परीक्षाएँ (घ) खेल प्रतियोगिताएँ

3: कार्टून किसे अच्छे लगते हैं?

- (क) केवल बच्चों को (ख) केवल बुजुर्गों को (ग) बच्चों और बड़ों दोनों को (घ) केवल युवाओं को

4: नीरस और उबाऊ विषय कैसे रोचक बन जाते हैं?

- (क) कहानी से (ख) संगीत से (ग) कार्टून के द्वारा (घ) किताब पढ़कर

5: बच्चे कार्टून की किताब पाते ही क्या करते हैं?

- (क) उसे फेंक देते हैं (ख) उसे घर ले जाते हैं (ग) उस पर झपट पड़ते हैं (घ) उसे छिपा देते हैं

प्रश्न II. नीचे दिए गए वाक्यों में से विशेषण शब्द को छाँटकर लिखिए। (Find the adjective and write)

2×1= 2

- (1) कंजूस भीखूभाई मुफ्त में नारियल लेना चाहते थे ।
(2) जीवन में छोटी समस्या आती रहती है ।

प्रश्न III. नीचे दिए गए विलोम शब्दों का आपस में मिलान कीजिए। (Match the antonyms given below)

2×1= 2

- (क) ऊँची (i) परतंत्रता
(ख) सफाई (ii) धूप
(ग) स्वतंत्रता (iii) गंदगी
(घ) छाया (iv) नीची

(P.T.O.)

प्रश्न IV. नीचे लिखे शब्दों की दो अर्थ लिखते हुए वाक्य द्वारा अर्थ स्पष्ट करें-

2×1= 2

(Write two meanings of the words given below and use them in sentences to clarify the meanings.)

कर - -----

वाक्य -> -----

प्रश्न V. नीचे दिए गए शब्दों के दो - दो पर्यायवाची शब्द लिखिए। (Write two synonyms of the given words)

2×1= 2

1) मित्र - -----

2) कपड़े - -----

प्रश्न VI. नीचे दिए गए वाक्य को किसने, किससे कहा- (Write who said to whom)

2×1= 2

(1) "तुम्हारा नाम क्या है ? बेटा।"

(2) "एक महीने तक पैदल चलेंगे !"

प्रश्न VII. नीचे दिए गए शब्दों से वाक्य बनाइए- (Make sentences from the given words)

2×1= 2

(1) योजना - -----

(2) पैसा- -----

प्रश्न VIII. नीचे दिए गए प्रश्नों के उत्तर एक से दो वाक्य में लिखिए।

(Write the answers to given question in one or two sentences)

5×1= 5

1) मादा हुदहुद कितने अंडे देती है और वह कब तक अंडों पर बैठी है ?

2) भीखुभाई के गिरने का असली कारण क्या था ?

3) गांधी जी कहाँ जा रहे थे और क्यों जा रहे थे ?

4) संन्यासी ने कितने रुपए लेकर राजा को वचन मुक्त किया ?

5) सुनीता को दुकानदार का व्यवहार क्यों बुरा लगा

प्रश्न IX. नीचे दिए गए प्रश्नों के उत्तर दो से तीन वाक्य में लिखिए।

(Write the answers to given question in two or three sentences)

2×2= 4

1. हर जगह नारियल के दाम में फर्क क्यों था ?

2. 'कौन' कविता में किसकी शैतानियों की बात कही गई है और यह कैसे अनुमान लगाया गया ?

प्रश्न X. 'मेरा विद्यालय' विषय पर लगभग 40 से 50 शब्दों में एक अनुच्छेद लिखिए। (Paragraph writing)

1×4= 4



Jindal Vidya Mandir, JSW Hill Side Township

Term-II Examination: (2025-26)

Class: VIII

Set-B

Max. Marks: 30

Sub: HINDI (III Language)

Duration: 1 Hr.

सामान्य निर्देश:-

- प्रश्न पत्र में कुल 10 प्रश्न है -
- सभी प्रश्नों के उत्तर देना अनिवार्य है -

प्रश्न I. नीचे दिए गए गद्यांश को पढ़कर वस्तुनिष्ठ प्रश्नों के उत्तर विकल्पों में से चुनकर लिखिए।

(Read the following passage and give suitable answers)

5×1= 5

आज की डिजिटल दुनिया में जानकारी पाना बहुत आसान हो गया है। पहले किसी विषय के बारे में जानने के लिए लोगों को किताबों, समाचार पत्रों या अनुभवी व्यक्तियों पर निर्भर रहना पड़ता था, लेकिन अब इंटरनेट ने यह दूरी समाप्त कर दी है। बच्चे हों या बड़े, हर कोई कुछ ही सेकंड में अपनी जिज्ञासा शांत कर सकता है। हालांकि डिजिटल साधनों का उपयोग करते समय सावधानी भी आवश्यक है, क्योंकि इंटरनेट पर उपलब्ध हर जानकारी सत्य नहीं होती। इसलिए विश्वसनीय स्रोतों से ही जानकारी लेना और समय का सही उपयोग करना बहुत ज़रूरी है।

1. डिजिटल दुनिया में जानकारी पाना कैसा हो गया है ?

- (क) कठिन (ख) असंभव (ग) बहुत आसान (घ) महँगा

2. पहले जानकारी पाने के लिए लोग किस पर निर्भर रहते थे ?

- (क) फिल्में (ख) किताबें और अखबार (ग) इंटरनेट (घ) मोबाइल गेम

3. इंटरनेट ने किस दूरी को समाप्त कर दिया है ?

- (क) घर की (ख) शहरों की (ग) जानकारी पाने की (घ) खेलने की

4. कौन-कौन इंटरनेट से तुरंत जानकारी प्राप्त कर सकता है ?

- (क) केवल विद्यार्थी (ख) केवल बुजुर्ग (ग) बच्चे और बड़े दोनों (घ) केवल शिक्षक

5. इंटरनेट पर उपलब्ध हर जानकारी कैसी होती है ?

- (क) सत्य (ख) असत्य (ग) हमेशा नई (घ) आवश्यक नहीं कि सत्य हो

प्रश्न II. नीचे दिए गए वाक्यों में से क्रिया शब्द को छाँटकर लिखिए। (Find the verb and write)

2×1= 2

1. घर-भर में अनाज बिखराया।

2. रोज रात भर जागता रहता।

प्रश्न III. नीचे दिए गए विलोम शब्दों का आपस में मिलान कीजिए। (Match the antonyms given below)

2×1= 2

- (1) ताज़ा (क) दुर्जन
(2) सज्जन (ख) जाना
(3) आना (ग) अमीर
(4) गरीब (घ) बासी

(P.T.O.)

प्रश्न IV. नीचे लिखे शब्दों की दो अर्थ लिखते हुए वाक्य द्वारा अर्थ स्पष्ट करें- 2×1= 2
(Write two meanings of the words given below and use them in sentences to clarify the meanings.)

उत्तर - -----

वाक्य -> -----

प्रश्न V. नीचे दिए गए शब्दों के दो - दो पर्यायवाची शब्द लिखिए। (Write two synonyms of the given words) 2×1= 2

1. आँख- -----, -----
2. मित्र - -----, -----

प्रश्न VI. नीचे दिए गए वाक्य को किसने, किससे कहा ? (Write who said to whom) 2×1= 2

1. "तुम्हारा नाम क्या है ? बेटा।"

2. "अगर तुम मेरे साथ जाओगे तो, बिन्नी को कौन देखेगा ?" -

प्रश्न VII. नीचे दिए गए शब्दों से वाक्य बनाइए- (Make sentences from the given words) 2×1= 2

1. हिसाब- -----
2. संन्यासी- -----

प्रश्न VIII. नीचे दिए गए प्रश्नों के उत्तर एक से दो वाक्य में लिखिए।
(Write the answers to given question in one or two sentences) 5×1= 5

1. हुदहुद पक्षियों के मुखिया ने क्या इच्छा प्रकट की ?
2. हर बार भीखूभाई कम दाम क्यों देना चाहते थे ?
3. धनी कौन था और वह आश्रम में किसके साथ रहता था ?
4. 'कौन' कविता में किस तरह की चीजों का सबसे ज्यादा नुकसान हुआ ?
5. राजा को संन्यासी के आगे गिड़गिड़ाने की जरूरत क्यों पड़ी ?

प्रश्न IX. नीचे दिए गए प्रश्नों के उत्तर दो से तीन वाक्य में लिखिए।
(Write the answers to given question in two or three sentences) 2×2= 4

1. हुदहुद को कहीं 'हजामिन' चिड़िया और कहीं 'पदुबया' के नाम से पुकारते हैं क्यों ?
2. सुनीता को दुकानदार का व्यवहार क्यों बुरा लगा ?

प्रश्न X. 'मेरा भारत' विषय पर लगभग 40 से 50 शब्दों में एक अनुच्छेद लिखिए। (Paragraph writing) 1×4= 4

Jindal Vidya Mandir , JSW Hill Side Township

Term- II Examination: (2025-26)

Class:-VIII

SET- A

M.Marks:30

Subject- Kannada (III Language)

Duration:1Hrs

ಸೂಚನೆಗಳು:

- ಈ ಪ್ರಶ್ನೆ ಪತ್ರಿಕೆಯು ಒಟ್ಟು 8 ಮುಖ್ಯ ಪ್ರಶ್ನೆಗಳು ಇರುತ್ತವೆ. ಮತ್ತು 2 ಪುಟಗಳನ್ನು ಒಳಗೊಂಡಿರುತ್ತದೆ
- ಪ್ರತಿಯೊಂದು ಪ್ರಶ್ನೆಗಳ ಸೂಚನೆಗಳನ್ನು ಸರಿಯಾಗಿ ಓದಿಕೊಂಡು ಉತ್ತರಿಸಿರಿ.
- ಪ್ರಶ್ನೆ ಮತ್ತು ಉಪ ಪ್ರಶ್ನೆಗಳ ಸಂಖ್ಯೆಯನ್ನು ತಪ್ಪಿಲ್ಲದೆ ಬರೆಯಿರಿ. ಬರವಣಿಗೆ ಶುದ್ಧವಾಗಿರಲಿ.

I. ಈ ಕೆಳಗೆ ಕೊಟ್ಟಿರುವ ಗದ್ಯ ಭಾಗವನ್ನು ಓದಿ, ಕೊಟ್ಟಿರುವ ಪ್ರಶ್ನೆಗಳಿಗೆ ಸರಿಯಾದ ಉತ್ತರ ಆರಿಸಿ ಬರೆಯಿರಿ.

ಮಕ್ಕಳೆಲ್ಲರೂ ಕಾರ್ಯಕ್ರಮ ನಡೆಯುವ ಸ್ಥಳಕ್ಕೆ ಬಂದು ಆಸೀನರಾದರು. ಐದನೆಯ ತರಗತಿ ವಿದ್ಯಾರ್ಥಿ ಶೇಖರ್ ಕಾರ್ಯಕ್ರಮ ನಿರೂಪಣೆ ಮಾಡಿದನು. ಸಭೆಗೆ ಆಗಮಿಸಿದ ಅತಿಥಿಗಳಿಗೆ ತಮ್ಮ ತಮ್ಮ ಆಸನಗಳಲ್ಲಿ ಕುಳಿತುಕೊಳ್ಳಲು ವಿನಂತಿಸಿದನು. (4) ನಾಲ್ಕನೆಯ ತರಗತಿ ವಿದ್ಯಾರ್ಥಿನಿಯರಾದ ಕುಸುಮ ಮತ್ತು ಮೇರಿ ಪ್ರಾರ್ಥನೆ ಮಾಡಿದರು.ಕಾರ್ಯಕ್ರಮದಲ್ಲಿ ಭಾಗವಹಿಸಿದ ಎಲ್ಲಾ ಗಣ್ಯರನ್ನು ಸುಮತಿ ಸ್ವಾಗತಿಸಿದಳು. ಮುಖ್ಯಶಿಕ್ಷಕರು ಪ್ರಾಸ್ತಾವಿಕವಾಗಿ ಈ ದಿನದ ಮಹತ್ವವನ್ನು ಸಭೆಗೆ ತಿಳಿಸಿದರು.ಎಸ್.ಡಿ.ಎಂ.ಸಿ. ಅಧ್ಯಕ್ಷರಾದ ಶ್ರೀಮತಿ ಮಹಾಲಕ್ಷ್ಮಿಯವರು ಮಹಿಳಾ ದಿನಾಚರಣೆ ಕುರಿತು ಮಾತನಾಡಲು ಪ್ರಾರಂಭಿಸಿದರು. ಪ್ರತಿವರ್ಷ ಮಾರ್ಚ್ ೮ ರಂದು ಅಂತಾರಾಷ್ಟ್ರೀಯ ಮಹಿಳಾ ದಿನವನ್ನು ಆಚರಣೆ ಮಾಡಲಾಗುತ್ತದೆ.

ವಸ್ತುನಿಷ್ಠ ಪ್ರಶ್ನೆಗಳು:-

5×1=5

1. ಪ್ರತಿವರ್ಷ _____ ರಂದು ಅಂತಾರಾಷ್ಟ್ರೀಯ ಮಹಿಳಾ ದಿನವನ್ನು ಆಚರಣೆ ಮಾಡಲಾಗುತ್ತದೆ.
(i) ಮಾರ್ಚ್ ೮ (ii) ಮಾರ್ಚ್ ೨೮ (iii) ಮಾರ್ಚ್ ೫ (iv) ಮಾರ್ಚ್ ೧೭
2. ಎಲ್ಲಾ ಗಣ್ಯರನ್ನು _____ ಸ್ವಾಗತಿಸಿದಳು.
(i) ಪೂರ್ಣಿಮಾ (ii) ಸುಮತಿ (iii) ಹೇಮಾವತಿ (iv) ದಿವ್ಯ
3. _____ ನೆ ತರಗತಿ ವಿದ್ಯಾರ್ಥಿನಿಯರಾದ ಕುಸುಮ ಮತ್ತು ಮೇರಿ ಪ್ರಾರ್ಥನೆ ಮಾಡಿದರು.
(i) 4 (ii) 6 (iii) 7 (iv) 8
4. ಮಕ್ಕಳೆಲ್ಲರೂ ಕಾರ್ಯಕ್ರಮ ನಡೆಯುವ ಸ್ಥಳಕ್ಕೆ ಬಂದು _____ ರಾದರು..
(i) ಸ್ನೇಹ (ii) ದ್ವೇಷ (iii) ಅಸೂಹೆ (iv) ಆಸೀನ
5. ಎಸ್.ಡಿ.ಎಂ.ಸಿ. ಅಧ್ಯಕ್ಷರಾದ ಶ್ರೀಮತಿ _____ ಯವರು.
(i) ಶಿವಲೀಲಾ (ii) ಶಿಲ್ಪ (iii) ಸುಹಾಸಿನಿ (iv) ಮಹಾಲಕ್ಷ್ಮಿ

II. ಈ ಕೆಳಗೆ ಕೊಟ್ಟಿರುವ ವಾಕ್ಯಗಳನ್ನು ಗಮನಿಸಿ ಸರಿ ತಪ್ಪು ಗುರುತಿಸಿ ಸರಿಪಡಿಸಿ ಪುನಃ ಬರೆಯಿರಿ .

3×1=3

1. ಪುರುಷರ ಭಾವ ಚಿತ್ರಗಳಿಗೆ ಹೂಮಾಲೆ ಹಾಕಿ ಸಿಂಗರಿಸಿದರು.
2. ಪುನಃ ಹೋಗೋಣ ಇದು ಒಂದು ಪದ್ಯ.
3. ನಾನು 10ನೇ ತರಗತಿಯ ವಿದ್ಯಾರ್ಥಿ.

III. ಈ ಕೆಳಗಿನ ಪದವನ್ನು ಸ್ವಂತ ವಾಕ್ಯದಲ್ಲಿ ಬಳಸಿ ಬರೆಯಿರಿ.

2×1=2

1. ಪ್ರವಾಸ
2. ನಮಸ್ಕರಿಸು

IV. ಈ ಕೆಳಗೆ ಕೊಟ್ಟಿರುವ ಗುಂಪಿಗೆ ಸೇರದ ಪದ ಗುರುತಿಸಿ ಬರೆಯಿರಿ:-

4×1=4

1. ಮಹಿಳೆ, ಹೆಣ್ಣು, ಭೀಮ, ಹೆಂಗಸು,
2. ಧರ್ಮರಾಯ, ಜಯದ್ರಥ, ಅರ್ಜುನ, ಸುಭದ್ರೆ
3. ಸಬಿತ, ಸೌಜನ್ಯ, ಭೋಗೇಶ್, ಸುಜನಾ
4. ವಿಖ್ಯಾತ, ಕುಖ್ಯಾತ, ಹೆಸರುವಾಸಿ, ಪ್ರಸಿದ್ಧಿ

V. ಈ ಕೆಳಗಿನ ಬಿಟ್ಟ ಸ್ಥಳಗಳನ್ನು ಪೂರ್ಣಗೊಳಿಸಿರಿ .

5×1 =5

1. "ಸಾಧಕ" ಈ ಪದವನ್ನು ಲಿಂಗ ಬದಲಿಸಿ ಬರೆದಾಗ-----
2. "ಭೂಮಿ" ಈ ಪದದ ಆಂಗ್ಲ ಪದ -----
3. (ಮೂರು) 3 ಸಾಲಿನ ಪದ್ಯಕ್ಕೆ _____ ಎನ್ನುವರು.
4. "ಕಷ್ಟ" ಈ ಪದದ ವಿರುದ್ಧ ಪದ _____
5. "ನಾವು + ಏಕೆ" = ಈ ಪದಗಳನ್ನು ಕೂಡಿಸಿ ಬರೆದಾಗ _____

VI. ಈ ಕೆಳಗೆ ಕೊಟ್ಟಿರುವ ಪ್ರಶ್ನೆಗಳಿಗೆ ಒಂದು ವಾಕ್ಯದಲ್ಲಿ ಉತ್ತರಿಸಿರಿ.

5×1=5

1. ಸಾವಿತ್ರಿಬಾಯಿ ಪುಲೆ ಅವರು ಯಾವ ಕ್ಷೇತ್ರದಲ್ಲಿ ಸಾಧನೆ ಮಾಡಿದ್ದಾರೆ?
2. ಅಭಿಮನ್ಯುವಿನ ತಂದೆಯ ಹೆಸರೇನು?
3. ಪಾಪದ ನೆಲಗಟ್ಟು ಯಾವುದು?
4. ಚಂದ್ರನು ಎಲ್ಲಿದ್ದು?
5. ರೈಲು ಯಾವ ಶಬ್ದ ಮಾಡುತ್ತಾ ಚಲಿಸುತ್ತದೆ?

VII. ಈ ಕೆಳಗೆ ಕೊಟ್ಟಿರುವ ಪ್ರಶ್ನೆಗೆ ಎರಡು ವಾಕ್ಯಗಳಲ್ಲಿ ಉತ್ತರಿಸಿರಿ.

1×2=2

1. ಧರ್ಮರಾಯ ಚಿಂತಾಕ್ರಾಂತನಾಗಲು ಕಾರಣವೇನು?

VIII. ಈ ಕೆಳಗೆ ಕೊಟ್ಟಿರುವ ಮಾತುಗಳನ್ನು ಯಾರು ಯಾರಿಗೆ ಹೇಳಿದರು ?

2×2=4

1. "ನಿನ್ನನ್ನು ಪಡೆದ ನಾವೇ ಧನ್ಯರು"
ಯಾರು ಹೇಳಿದರು ? _____ ಯಾರಿಗೆ ಹೇಳಿದರು? _____
2. "ನಿಮ್ಮದು ಯಾವೂರು ಮಕ್ಕಳೇ?"
ಯಾರು ಹೇಳಿದರು ? _____ ಯಾರಿಗೆ ಹೇಳಿದರು? _____

ಸೂಚನೆಗಳು:

- ಈ ಪ್ರಶ್ನೆ ಪತ್ರಿಕೆಯು ಒಟ್ಟು 8 ಮುಖ್ಯ ಪ್ರಶ್ನೆಗಳು ಇರುತ್ತವೆ. ಮತ್ತು 2 ಪುಟಗಳನ್ನು ಒಳಗೊಂಡಿರುತ್ತದೆ
- ಪ್ರತಿಯೊಂದು ಪ್ರಶ್ನೆಗಳ ಸೂಚನೆಗಳನ್ನು ಸರಿಯಾಗಿ ಓದಿಕೊಂಡು ಉತ್ತರಿಸಿರಿ.
- ಪ್ರಶ್ನೆ ಮತ್ತು ಉಪ ಪ್ರಶ್ನೆಗಳ ಸಂಖ್ಯೆಯನ್ನು ತಪ್ಪಿಲ್ಲದೆ ಬರೆಯಿರಿ. ಬರವಣಿಗೆ ಶುದ್ಧವಾಗಿರಲಿ.

I. ಈ ಕೆಳಗೆ ಕೊಟ್ಟಿರುವ ಗದ್ಯ ಭಾಗವನ್ನು ಓದಿ, ಕೊಟ್ಟಿರುವ ಪ್ರಶ್ನೆಗಳಿಗೆ ಸರಿಯಾದ ಉತ್ತರವನ್ನು ಆರಿಸಿ ಬರೆಯಿರಿ. 5×1=5

ಸಾಮಾಜಿಕ ಸೇವಾ ಕ್ಷೇತ್ರದಲ್ಲಿ ಮದರ್ ತೆರೇಸಾ, ಕಮಲಾದೇವಿ ಚಟೋಪಾಧ್ಯಾಯ ಹೀಗೆ ಮೊದಲಾದವರ ಸಾಧನೆ ನೆನಪಿನಲ್ಲಿ ಇರುವಂತಹದು. ಸಾಹಿತ್ಯ ಕ್ಷೇತ್ರದಲ್ಲೂ ಮಹಿಳೆಯರ ಸಾಧನೆ ಹಿರಿದಾದದ್ದು. ಅಕ್ಕಮಹಾದೇವಿ, ಸಂಜಿ ಹೊನ್ನಮ್ಮ, ತಿರುಮಲಾಂಬ, ಎಂ.ಕೆ. ಇಂದಿರಾ, ಮುಂತಾದವರ ಕೊಡುಗೆ ಅಪಾರ. ಸಂಗೀತ ಕ್ಷೇತ್ರದಲ್ಲಿ ಎಂ.ಎಸ್. ಸುಬ್ಬಲಕ್ಷ್ಮಿ, ಗಂಗೂಬಾಯಿ ಹಾನಗಲ್, ಲತಾ ಮಂಗೇಶ್ಕರ್ ಮುಂತಾದವರು ದಂತಕಥೆ ಎನಿಸುವ ಸಾಧಕಿಯರಾಗಿದ್ದಾರೆ. ಪಿ.ಟಿ. ಉಷಾ, ಮಿಥಾಲಿರಾಜ್, ಹಿಮಾದಾಸ್, ಶೀತಲ್‌ದೇವಿ, ಮೇರಿಕೋಮ್, ಪಿ.ವಿ. ಸಿಂಧು, ಸೈನಾ ನೆಹ್ರೂ ಇವರ ಕ್ರೀಡಾಕ್ಷೇತ್ರದ ಸಾಧನೆಯು ದೇಶದ ಕೀರ್ತಿಪತಾಕೆಯನ್ನು ಮೇಲಕ್ಕೇರಿಸಿದೆ. ಇದಲ್ಲದೆ ವಿಜ್ಞಾನ, ತಂತ್ರಜ್ಞಾನ, ಬಾಹ್ಯಾಕಾಶ ಕ್ಷೇತ್ರದಲ್ಲೂ ಮಹಿಳೆಯರ ಸಾಧನೆ ಬಹು ಹೆಮ್ಮೆ ಪಡುವಂತದ್ದು. ಕಲ್ಪನಾ ಚಾವ್ಲಾ. ಸುನಿತಾ ವಿಲಿಯಮ್ಸ್ ಇವರ ಅಪ್ರತಿಮ ಧೈರ್ಯ, ಸಾಧನೆ ದೇಶದ ಪ್ರಗತಿಯ ಹಾದಿಯಲ್ಲಿ ಒಂದು ಮೈಲಿಗಲ್ಲು.

ವಸ್ತುನಿಷ್ಠ ಪ್ರಶ್ನೆಗಳು:-

1. ಸಾಹಿತ್ಯ ಕ್ಷೇತ್ರದಲ್ಲೂ -----ಸಾಧನೆ ಹಿರಿದಾದದ್ದು.

- (i) ಪುರುಷರ (ii) ಬಾಲಕಿಯರ (iii) ವಿದ್ಯಾರ್ಥಿಗಳ (iv) ಮಹಿಳೆಯರ

2. ಕಲ್ಪನಾ ಚಾವ್ಲಾ. -----ಇವರ ಅಪ್ರತಿಮ ಧೈರ್ಯ, ಸಾಧನೆ ದೇಶದ ಪ್ರಗತಿ ಹಾದಿಯಲ್ಲಿ ಒಂದು ಮೈಲಿಗಲ್ಲು.

- (i) ಮಹೇಶ್ವರಿ (ii) ಮೇಘ (iii) ಸುನಿತಾ ವಿಲಿಯಮ್ಸ್ (iv) ಚೇತನ

3. ಪಿ.ವಿ. ಸಿಂಧು, ಸೈನಾ ನೆಹ್ರೂ ಇವರ -----ಸಾಧನೆಯು ದೇಶದ ಕೀರ್ತಿ ಪತಾಕೆಯನ್ನು ಮೇಲಕ್ಕೇರಿಸಿದೆ.

- (I) ಕ್ರೀಡಾಕ್ಷೇತ್ರದ (ii) ಆರ್ಥಿಕ (iii) ಸಾಮಾಜಿಕ (iv) ರಾಜಕೀಯ

4. ಸಾಮಾಜಿಕ ಸೇವಾ ಕ್ಷೇತ್ರದಲ್ಲಿ----- ತೆರೇಸಾ ಕಮಲಾದೇವಿ ಚಟೋಪಾಧ್ಯಾಯ ಹೀಗೆ ಮೊದಲಾದವರ ಸಾಧನೆ ನೆನಪಿನದು.

- (i) ಮದರ್ (ii) ಫರಹತ್ (ii) ವಸಂತ (iv) ಶಾಲಿನಿ

5. ----- ಕ್ಷೇತ್ರದಲ್ಲಿ ಎಂ.ಎಸ್. ಸುಬ್ಬಲಕ್ಷ್ಮಿ, ಗಂಗೂಬಾಯಿ ಹಾನಗಲ್, ಲತಾ ಮಂಗೇಶ್ಕರ್ ಮುಂತಾದವರು ದಂತಕಥೆ ಎನಿಸುವ ಸಾಧಕಿಯರಾಗಿದ್ದಾರೆ.

- (I) ಸಂಗೀತ (ii) ವಿದೇಶ (ii) ಸ್ವಾತಂತ್ರ್ಯ (iv) ಆರ್ಥಿಕ

II. ಈ ಕೆಳಗೆ ಕೊಟ್ಟಿರುವ ವಾಕ್ಯಗಳನ್ನು ಗಮನಿಸಿ ಸರಿ ತಪ್ಪು ಗುರುತಿಸಿ ಸರಿಪಡಿಸಿ ಪುನಃ ಬರೆಯಿರಿ .

3×1=3

1. ಮಕ್ಕಳೆಲ್ಲರೂ ಬಹಳ ಸಡಗರ ಸಂಭ್ರಮದಿಂದ ತೇಲಾಡುತ್ತಿದ್ದರು .
2. ಕನಸುಗಾರ ಕಲಾಂ ಇದು ಒಂದು ಪದ್ಯ..
3. ನಾನು 9 ನೇ ತರಗತಿಯ ವಿದ್ಯಾರ್ಥಿ.

III. ಈ ಕೆಳಗಿನ ಪದವನ್ನು ಸ್ವಂತ ವಾಕ್ಯದಲ್ಲಿ ಬಳಸಿ ಬರೆಯಿರಿ.

2×1=2

- 1 ಜಯಶಾಲಿ
2. ಸಂಭಾಷಣೆ

IV. ಈ ಕೆಳಗೆ ಕೊಟ್ಟಿರುವ ಗುಂಪಿಗೆ ಸೇರದ ಪದ ಗುರುತಿಸಿ ಬರೆಯಿರಿ:-

4×1=4

1. ಸಾಧನೆ ,ಯಶಸ್ಸು , ಹೋರಾಟ, ಪ್ರಗತಿ
2. ಅಭಿಮನ್ಯು, ಸುಭದ್ರೆ, ಶಕುನಿ , ಕೃಷ್ಣ
3. ಕುಮಾರಸ್ವಾಮಿ ,ಲೋಕೇಶ್, ಕೊಟ್ಟೇಶ್ವರ್ ,ಸುಮಿತ್ರ
4. ಕರಿಬಸಪ್ಪ, ಅಬ್ದುಲ್ ಕಲಾಂ, ಸಿ ವಿ .ರಾಮನ್

V. ಬಿಟ್ಟ ಸ್ಥಳಗಳನ್ನು ಸೂಕ್ತ ಪದಗಳಿಂದ ಪೂರ್ಣಗೊಳಿಸಿ .

5×1 =5

1. "ವಿದ್ಯಾರ್ಥಿ" ಈ ಪದವನ್ನು ಲಿಂಗ ಬದಲಿಸಿ ಬರೆದಾಗ" _____
2. "ಮಹಿಳಾ ದಿನಾಚರಣೆ" ಈ ಪದದ ಆಂಗ್ಲ ಪದ _____
3. _____ ಸಾಲಿನ ಪದ್ಯಕ್ಕೆ ತ್ರಿಪದಿ ಎನ್ನುವರು.
4. "ಮುಕ್ತಾಯ" ಈ ಪದದ ವಿರುದ್ಧ ಪದ _____
5. "ಅದು + ಏಕೆ" =ಈ ಪದಗಳನ್ನು ಕೂಡಿಸಿ ಬರೆದಾಗ _____

VI. ಈ ಕೆಳಗೆ ಕೊಟ್ಟಿರುವ ಪ್ರಶ್ನೆಗಳಿಗೆ ಒಂದು ವಾಕ್ಯದಲ್ಲಿ ಉತ್ತರಿಸಿರಿ.

5×1=5

1. ಅಂತರಾಷ್ಟ್ರೀಯ ಮಹಿಳಾ ದಿನಾಚರಣೆಯನ್ನು ಎಂದು ಆಚರಿಸಲಾಗುತ್ತಿದೆ.?
2. ಯಾರ ಮನೆಯ ಜ್ಯೋತಿಯು ಹೀನವಲ್ಲ?
3. ಕೌರವರಿಗೂ ಪಾಂಡವರಿಗೂ ಯುದ್ಧ ಎಲ್ಲಿ ನಡೆಯಿತು?
4. ಗೋಪಿ ಪುಟ್ಟ ಬಾವಿಯಲ್ಲಿ ಏನು ನೋಡಿದನು?
5. ಮಕ್ಕಳೆಲ್ಲರೂ ಎಲ್ಲಿಗೆ ಪ್ರವಾಸ ಹೋಗಲು ಸಿದ್ಧರಾದರು?

VII. ಈ ಕೆಳಗೆ ಕೊಟ್ಟಿರುವ ಪ್ರಶ್ನೆಗೆ ಎರಡು ವಾಕ್ಯಗಳಲ್ಲಿ ಉತ್ತರಿಸಿರಿ.

1×2=2

1. ಸುಭದ್ರೆ ಅಭಿಮನ್ಯುವನ್ನು ಏನೆಂದು ಹರಿಸಿದಳು?

VIII. ಈ ಕೆಳಗೆ ಕೊಟ್ಟಿರುವ ಮಾತುಗಳನ್ನು ಯಾರು ಯಾರಿಗೆ ಹೇಳಿದರು ?

2×2=4

- 1."ದೊಡ್ಡಪ್ಪ ನೀವೇಕೆ ಇಂದು ಬಹಳ ಚಿಂತಾ ಕ್ರಾಂತರಾಗಿರುವಿರಿ"
ಯಾರು ಹೇಳಿದರು? _____ ಯಾರಿಗೆ ಹೇಳಿದರು? _____
2. "ಬೆಟ್ಟ ಹತ್ತುವಾಗ ನಿಮಗೆ ಕಷ್ಟ ಅನಿಸಲಿಲ್ಲವೇ"
ಯಾರು ಹೇಳಿದರು? _____ ಯಾರಿಗೆ ಹೇಳಿದರು? _____

Section B**2X5=10M****(This section comprises of 5 very short answer type questions carrying 2 mark each.)**

21. a) If Rohini had ₹ 600 left after spending 75% of her money, how much did she have in the beginning?

OR

b) Find CI on ₹12600 for 2 years at 10% per annum compounded annually.

22. The area of a trapezium shaped field is 480 m², the distance between two parallel sides is 15m and one of the parallel side is 20m. Find the other parallel side.23. Factorise x^2+6x+8 24. a) Find m so that $(-3)^{m+1} \times (-3)^5 = (-3)^7$ **OR**b) Find the value of m for which $5^m - 5^3 = 5^5$ 25. Find $3(t - 3) = 5(2t + 1)$ **Section C****3X6=18M****(This section comprises of 6 short answer type questions carrying 3 mark each.)**

26. a) The selling price of watch is ₹616, after allowing a discount of 12%.

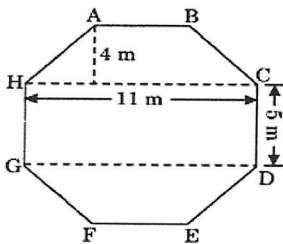
Find the i) Marked Price ii) amount of discount

OR

b) The price of a shirt is ₹800. It is sold at a discount of 15%.

Find the i) The amount of discount ii) The selling price

27. The top surface of a raised platform is in the shape of a regular octagon as shown in the figure. Find the area of the octagonal surface.

28. Simplify i) $\frac{49 \times z^3}{10 \times z^5}$ ii) $\frac{25 \times t^{-4}}{5^{-3} \times 10 \times t^{-8}}$ 29. a) If the weight of 12 sheets of thick paper is 40 grams, how many sheets of the same paper would weigh $2\frac{1}{2}$ kilograms?**OR**

b) A farmer has enough food to feed 20 animals in his cattle for 6 days. How long would the food last if there were 10 more animals in his cattle.

30. Factorise the expression and divide them as directed.

$$(m^2 - 14m - 32) \div (m+2)$$

31. Solve the linear equation: $\frac{n}{2} - \frac{3n}{4} + \frac{5n}{6} = 21$

Section-D

5X4=20M

(This section comprises of 4 long answer type questions carrying 5 mark each.)

32. a) i) Add the Following $2x^2-3y^2+4z^2$, $3y^2-4x^2-4z^2$ and $2y^2-3x^2-4z^2$
 ii) Subtract $4x-7xy+3y+12$ from $12x-9xy+5y-4$

OR

- b) i) Simplify $a(a^2 + a + 1) + 5$ and find its value for $a = -1$.
 ii) Multiply (a^2+2b^2) and $(5a-3b)$.

33. Solve as directed.

- i) Simplify and write in exponential form $2^{-3} \times 2^{-2}$
 ii) Express 0.0000000000942 in standard form.
 iii) Find the value of $(4^{-1} + 5^0) \times 2^3$
 iv) Express 9.47×10^5 in usual form.
 v) Expand 1025.63 using exponents.

34. a) Draw a line graph for the following of values, with suitable scales on the axes. Interest on deposits for a year.

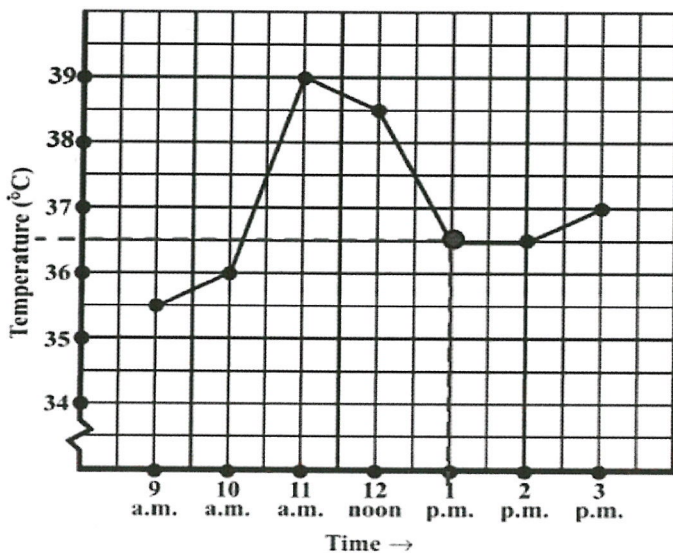
Deposit (in ₹)	1000	2000	3000	4000	5000
Simple interest (in ₹)	80	160	240	320	400

- i) Does the graph pass through the origin?
 ii) Use the graph to find the interest on ₹2500 for a year.
 iii) To get an interest of ₹280 per year, how much money should be deposited?

OR

b) The following graph shows the temperature of a patient in a hospital, recorded every hour.

- i) What was the patient's temperature at 1 p.m.?
 ii) When was the patient's temperature 38.5°C ?
 iii) The patient's temperature was the same two times during the period given. What were those two times?
 iv) What was the temperature at 1.30 p.m.? How did you arrive at your answer?
 v) During which periods did the patients' temperature showed an upward trend?



35. Express the following as in the form of (a+b) (a-b)
- i) $a^2 - 64$ (1M)
 - ii) $20a^2 - 45b^2$ (1M)
 - iii) $32x^2y^2 - 8$ (1M)
 - iv) $x^2 - 2xy + y^2 - z^2$ (1M)
 - v) $49x^2 - 1$ (1M)

Section –E **4X3=12M**

(This section comprises of 3 case based questions carrying 4 marks each with subparts. The first two case study questions have been three subparts (i),(ii), (iii) of marks 1, 1, and 2 respectively. The third case study questions has two subparts of 2 marks each)

36. The length of a rectangular garden is (x+5) m and the breadth is (x-3) m.
- i) Write the expression for the perimeter of the garden. (1M)
 - ii) Find the area of the rectangular garden (1M)
 - iii) Find the perimeter when x=10 (2M)

OR

Write the expression for twice the perimeter. (2M)

37. A cubical box has an edge of 10 cm.
- i) Find the volume of the box. (1M)
 - ii) Find the curved surface area of the box. (1M)
 - iii) Convert the volume into litres. (2M)

OR

If the cost of polishing is ₹5 per cm², find the total cost. (2M)

38. A group of 12 workers can complete a piece of work in 15 days.
Assume all workers work at the same rate.
- i) Identify whether the number of workers and time taken are in direct or inverse proportion. (1M)
 - ii) Write the relationship between workers and days. (1M)
 - iii) How many days will 20 workers take to complete the same work? (2M)

OR

How many workers are required to complete the work in 10 days? (2M)

JET CENTRALISED EXAMINATION
ANNUAL EXAMINATION ,2025-26
GRADE 8 : SCIENCE
(SET – 2)

Maximum Marks: 80
Roll No:

Time Allowed: 3 hours

General Instructions:

- (i) This question paper consists of 39 questions. All questions are compulsory.**
- (ii) Question paper is divided into five sections. Section A, B, C, D and E.**
- (iii) In Section A question number 1 to 20 are Multiple Choice Questions (MCQs) carrying 1 mark each.**
- (iv) In Section B question number 21 to 26 are Very Short Answer (VSA) type questions carrying 2 marks each. Answer to these questions should be in the range of 30 to 50 words.**
- (v) In Section C question number 27 to 33 are Short Answer (SA) type questions carrying 3 marks each. Answer to these questions should be in the range of 50 to 80 words.**
- (vi) In Section D question number 34 to 36 are Long Answer (LA) type questions carrying 5 marks each. Answer to these questions should be in the range of 80 to 120 words.**
- (vii) In Section E question number 37 to 39 are of 3 source-based/case-based units of assessment carrying 4 marks each with sub-parts.**
-

SECTION - A

Choose the most appropriate answer.

- Q1) Burning of charcoal in a closed room for long time will increase the concentration of a highly poisonous gas _____ 1M
a. Carbon dioxide b. Nitrogen dioxide c. Carbon monoxide d. All of these
- Q2) The process in which a substance burns in the presence of oxygen is called: 1M
a) Respiration
b) Combustion
c) Evaporation
d) Condensation
- Q3) Which of the following solutions will not conduct electricity? 1M
a. Salt solution
b. alcohol
c. honey
d. sodium hydroxide
- Q4) The image formed by a plane mirror is always: 1M
a. Real and inverted b. Real and erect
c. Virtual and inverted d. Virtual and erect
- Q5) Electroplating prevents 1M
a. corrosion b. passing of current
c. dissociation d. shining
- Q6) CNG and LPG are the examples of 1M
a. Solid fuels b. Gaseous fuels
c. Liquid fuels d. They are not fuels
- Q7) In human beings, the correct sequence of events during reproduction is 1M
a. gamete formation, fertilization, zygote, embryo
b. embryo, zygote, fertilization, gamete formation
c. fertilization, gamete formation, embryo, zygote
d. gamete formation, fertilization, embryo, zygote
- Q8) Reproductive age in woman starts when their 1M
a. Body weight increases
b. Height increases
c. Breasts starts developing
d. Menstruation starts

Q. No. 17 to 20 is Assertion - Reason based questions.

These consist of two statements - Assertion (A) and Reason (R). Answer these questions selecting the appropriate option given below:

- a) Both (A) and (R) are true and (R) is the correct explanation of (A).
- b) Both (A) and (R) are true, but (R) is not the correct explanation of (A).
- c) (A) is true, but (R) is false.
- d) (A) is false, but (R) is true.
- e) Both assertion and reason are incorrect

Q17) Assertion (A): Reproduction is essential for the survival of every individual. Reason (R): Reproduction ensures the continuation of similar kinds of individuals, generation after generation. 1M

Q18) Assertion (A): The presence of chemicals and impurities makes rainwater a good conductor of electricity. Reason (R): When water falls as rain drops, many impurities dissolve in it which makes it a good conductor. 1M

Q19) Assertion (A): Friction opposes the relative motion between surfaces in contact. Reason (R): Friction always acts in the direction of motion 1M

Q20) Assertion (A): We can see objects because light gets reflected from them and enters our eyes. Reason (R): Light always travels in a straight line. 1M

SECTION-B

Answer the following questions in a two or three sentences

Q21) Give reasons for the following: 2M

- a. Fire extinguishers contain carbon dioxide.
- b. Incomplete combustion produces carbon monoxide

Q22) a. List out two chemical changes that you observe when electric current is passed through a conducting solution. 2M
b. Name two conducting liquids.

Q23) Name the hormones secreted by the following glands. 2M

- a. Adrenal gland
- b. Thyroid gland
- c. Testes
- d. Pancreas

Q24) Give two differences between foetus and zygote. 2M

Q25) Mention the vibrating parts of the following musical instruments 2M

- a. Dhokla
- b. flute
- c. guitar
- d. veena

Q26) How do lubricants help to reduce friction? 2M

SECTION-C

Answer the following questions as directed.

Q27) a. Explain the three conditions under which combustion can take place. 3M
b. Water is not used to extinguish electrical fires.

Q28) a. Differentiate between sexual and asexual reproduction with examples 3M
b. Explain the asexual reproduction in hydra with diagram.

Q29) Differentiate between contact and non-contact forces with one example each. 3M

Q30) a. Mention against each of the following whether regular or diffused reflection will take place when a beam of light strikes. 3M
i. rearview mirror
ii. leaves
b. State the laws of reflection with a diagram.

Q31) Write any three secondary sexual characteristics that takes place at puberty. 3M

Q32) a. Explain with examples why objects moving in fluids must have special shapes 3M
b. Arrange in increasing order: rolling friction, static friction, sliding friction.

Q33) What is electroplating? State two uses of electroplating. 3M

SECTION-D

Explain the following questions in detail.

Q34) a. Draw and label the different zones and the byproducts released at each zone of candle flame. 5M
b. How is acid rain caused? Explain

Q35) a. What is menstruation? Explain the reproductive phase of life in humans. 5M
b. Write a note on Adam's apple.

Q36) a. What is the difference between noise and music? In what way noise pollution is harmful to humans? 5M
b. List out three measures to control noise pollution.

SECTION-E

Read the passage and answer the following questions.

Q37) The materials, which allow electric current to pass through them, are good conductors of electricity. On the other hand, materials, which do not allow electric current to pass through them easily, are poor conductors of electricity. We found that metals such as copper and aluminum conduct electricity whereas materials such as rubber, plastic and wood do not conduct electricity. Due to the heating effect of current, the filament of the bulb gets heated to a high temperature and it starts glowing. However, if the current through a circuit is too weak, the filament does not get heated sufficiently and it does not glow. Even if the current is small, the deflection of the magnetic needle can be seen. Actually, under certain conditions most materials can conduct electricity. That is why it is preferable to classify materials as good conductors and poor conductors instead of classifying as conductors and insulators. 4M

Answer the following

a. Draw a closed and an open electric circuit.

b. Why do copper and aluminum conduct electricity while rubber and wood not?

c. Why filament of the bulb gets heated to a high temperature and starts glowing?

d. Why do the magnetic needle deflect on passing current through a conducting wire?

Q38) The life cycle of a frog is a fascinating process that involves distinct stages of development from egg to adult. It consists of several distinct stages, starting from eggs in the water, progressing through the tadpole stage and finally reaching adulthood. This process showcases the fascinating transformation of a water-dwelling creature into a terrestrial frog. 4M

Answer the following

a. Name the process in which tadpoles develop into young frogs.

b. Name the hormone essential for the life cycle of frog.

c. Define the term metamorphosis.

d. What are the stages of life cycle of a frog?

Q39) Have you ever thought how we see various objects? You may say that eyes see 4M
the objects. But, can you see an object in the dark? It means that eyes alone
cannot see any object. It is only when light from an object enters our eyes that
we see the object. The light may have been emitted by the object, or may have
been reflected by it. A polished or a shiny surface can act as a mirror. A mirror
changes the direction of light that falls on it. After striking the mirror, the ray of
light is reflected in another direction.

Answer the following

a. What do you mean by reflection of light?

b. Give any one difference between regular reflection and diffused reflection?

c. Where does the image formation take place in eye?

d. Name the sensory cells present in eyes which give the sensation of sight.

4/3/26

**JET CENTRALISED EXAMINATION
ANNUAL EXAMINATION, 2025-26
GRADE 8: SOCIAL SCIENCE
(SET-2)**

Maximum Marks: 80

Time Allowed: 3 Hours

Roll No :

General Instructions:

1. There are 38 questions in the Question paper. All questions are compulsory.
2. The question paper has Three Sections – A-History, B-Geography and C- Political Science.
3. Each Section is of 25,28,27 respectively Marks and has MCQs, VSA, SA, LAs and CBQ.
4. Very Short Answer Type Questions (VSA), carry 2 marks each. Answers to each question should not exceed 40 words.
5. Short Answer Type Questions (SA), carry 3 marks each. Answers to each question should not exceed 60 words.
6. Long answer type questions (LA), carry 5 marks each. Answers to each question should not exceed 120 words.
7. There are case based questions (CBQ) with three sub questions and are of 4 marks each. Answers to each question should not exceed 100 words.
8. The map-based questions, carry 5 marks with two parts- Q13. In Section A-History (2 marks) and Q27. In Section B -Geography (3 marks).
9. There is no overall choice in the question paper. However, an internal choice has been provided in few questions. Only one of the choices in such questions must be attempted.

Sr.No	SECTION A HISTORY (25 marks)	Marks
1.	<p>What do you mean by nij and ryoti?</p> <p>(A) The two main trading centres of indigo. (B) The two main areas where indigo was cultivated in India. (C) The two important systems of indigo cultivation. (D) The two main sets of zamindars.</p>	1
2.	<p>What was the chief advantage of the Company when appointed as the Diwan of Bengal?</p> <p>(A) The Company helped the artisans to sell their goods at higher prices. (B) Agricultural production saw an increase in Bengal. (C) The Company became the chief financial administrator of the territory under its control and they could raise revenue. (D) The Company could trade to whichever country they wanted.</p>	1
3.	<p>The Company tried many experiments to increase the land revenue. Name the Settlement system introduced in the Madras and Bombay presidencies ?</p> <p>(A) Permanent Settlement System (B) British Settlement System (C) Ryotwari Settlement System (D) Mahalwari Settlement System</p>	1

4. Name the Viceroy who was responsible for partitioning Bengal in 1905? 1
 (A) Lord Curzon (B) Lord Ripon (C) Lord Mountbatten (D) William Bentinck
5. Three Englishmen were busy discovering the ancient Indian heritage and mastering Indian languages. One was William Jones and another Henry Thomas Colebrooke. Name the third person 1
 (A) Max Muller (B) Nathaniel Halhed
 (C) Warren Hastings (D) Edward
6. Name the Indian soldier who tried to rebel against the British at Barrackpore, but was arrested and hanged to death on 8th April 1857. 1
 (A) Nana Saheb (B) Bahadur Shah Zafar (C) Tantia Tope (D) Mangal Pandey
7. 'Under the Mahalwari system, the estimated revenue of each plot within a village was added up to calculate the revenue that each **mahal** had to pay.' 1
 From the given list of options, which one is closest in meaning to the word mahal?
 (A) Landlord(s) (B) Zamindar(s) (C) Tenant(s) (D) Village(s)
8. In what ways did the British change their policies as a result of the rebellion of 1857? Explain any two policies. 2
9. What rumour spread among the sepoys of the Meerut regiment about the new cartridges? 2
- 10.A. Why were people dissatisfied with British rule in the 1870s and 1880s? 3

OR

- 10.B. Discuss the various forms that the Non-Cooperation Movement took in different parts of India. How did the people understand Gandhiji?
- 11.A. Who were the Moderates? How did they propose to struggle against British rule? 5
- OR**
- 11.B. Why did Gandhiji choose to break the salt law? Write a brief note on Salt March ?

12. Read the following extract and answer the questions. (1+1+2=04) 4

Education for commerce

In 1854, the Court of Directors of the East India Company in London sent an educational despatch to the Governor-General in India. Issued by Charles Wood, the President of the Board of Control of the Company, it has come to be known as Wood's Despatch. Outlining the educational policy that was to be followed in India, it emphasised once again the practical benefits of a system of European learning, as opposed to Oriental knowledge.

One of the practical uses the Despatch pointed to was economic. European learning, it said, would enable Indians to recognise the advantages that flow from the expansion of trade and commerce, and make them see the importance of developing the resources of the country. Introducing them to European ways of life, would change their tastes and desires, and create a demand for British goods, for Indians would begin to appreciate and buy things that were produced in Europe. Wood's Despatch also argued that European learning would improve the moral character of Indians. It would make them truthful and honest, and thus supply the Company with civil servants who could be trusted and depended upon. The literature of the East was not only full of grave errors, it could also not instill in people a sense of duty and a commitment to work, nor could it develop the skills required for administration.

Following the 1854 Despatch, several measures were introduced by the British. Education departments of the government were set up to extend control over all

matters regarding education. Steps were taken to establish a system of university education. In 1857, while the sepoys rose in revolt in Meerut and Delhi, universities were being established in Calcutta, Madras and Bombay. Attempts were also made to bring about changes within the system of school education.

- 12.1- Who issued the 1854 educational despatch and what is the despatch commonly called?
 12.2- What moral and administrative benefits did Wood's Despatch say would result from teaching European learning?
 12.3- Explain two economic reasons given in the text for why European learning was promoted in India.

13. (1+1
=2)

MAP SKILL-BASED QUESTION (2 marks)

I) On the outline map of India identify and label any **ONE** of the following .

- m) Satyagraha movement against exploitative Indigo plantation.
- n) Satyagraha organized to support peasants who were unable to pay the revenue because of famine and plague epidemic.

II) On the outline map of India locate and label any **ONE** of the following with suitable symbols/pattern/colour.

- p) Center of 1857 Revolt: **Delhi**
- q) Center of 1857 Revolt: **Kanpur**

**SECTION B
GEOGRAPHY (28 marks)**

14. This type of farming is practiced in the arid and semi-arid regions of Sahara, Central Asia, and Rajasthan etc. Herdsmen move from place to place with their animals for fodder and water along defined routes due to climatic constraints and terrain. Which type of farming is being referred to ? 1

- (A) Plantation agriculture
- (B) Shifting Cultivation
- (C) Commercial Farming
- (D) Nomadic Farming

15. 1



What kind of agriculture practice that you observe in the following image. Identify and choose correct option.

- (A) Pisciculture
- (B) Shifting agriculture
- (C) Plantation agriculture
- (D) Sericulture

16. A few statements with respect to the farm in USA are given below. Pick out the one that is **NOT** True. 1

- (A) The farmer generally resides in the farm.
- (B) The farmer does not store the produce and sells even when the markets are not favourable to them.
- (C) The average size of a farm in USA is much larger than that of an Indian farm is about 25 hectares.
- (D) The farmer from time to time sends soil samples to the laboratory to check the nutrients.

17. 1



What kind of agriculture practice that you observe in the following image. Identify and choose correct option.

- (A) Commercial agriculture
- (B) Shifting agriculture
- (C) Plantation agriculture
- (D) Intensive Subsistence agriculture

18. What is cultivation of grapes called? 1
(A) Sericulture (B) Viticulture (C) Floriculture (D) Horticulture
19. Two statements are given in the question below as Assertion (A) and Reasoning (R). 1
Read the statements and choose the appropriate option.
ASSERTION (A): Agriculture is a primary activity.
REASON(R): It includes growing crops, fruits, vegetables, flowers and rearing of livestock.
- (A) Both A and R are true and R is the correct explanation of A.
(B) Both A and R are true but R is not the correct explanation of A.
(C) A is true but R is false.
(D) A is false but R is true.
20. Which one from the following refers to Census? 1
(A) The process of counting the number of states in a country.
(B) The process of taking a count of total number of people in a country.
(C) The process of counting the land area in a country.
(D) The process of counting the mountains and hilly terrains in a country.
21. Two statements are given in the question below as Assertion (A) and Reasoning (R). 1
Read the statements and choose the appropriate option.
ASSERTION (A): Large number of people may move from the rural to urban areas .
REASON(R): Cities have better opportunities of employment, education and health .
- (A) Both A and R are true and R is the correct explanation of A.
(B) Both A and R are true but R is not the correct explanation of A.
(C) A is true but R is false.
(D) A is false but R is true.
22. What is meant by population composition? 2
- 23.A. What are the causes for the uneven distribution of population in the world? 3
OR
- 23.B. What are population pyramids? How do they help in understanding about the population of a country?
24. Describe briefly the classification of industries on basis on ownership of industries . 3
- 25.A. Which are the main factors which influence the location of an industry? 5
OR
- 25.B. Distinguish between : Agro-based and mineral based industry
26. Read the following case study and answer the questions. (1+1+2=04) 4

JAMSHEDPUR

Before 1947, there was only one iron and steel plant in the country – Tata Iron and Steel Company Limited (TISCO). It was privately owned. After Independence, the government took the initiative and set up several iron and steel plants.

TISCO was started in 1907 at Sakchi, near the confluence of the rivers Subarnarekha and Kharkai in Jharkhand. Later on Sakchi was renamed as Jamshedpur. Geographically, Jamshedpur is the most conveniently situated iron and steel centre in the country.

Sakchi was chosen to set up the steel plant for several reasons. This place was only 32 km away from Kalimati station on the Bengal-Nagpur railway line. It was close to the iron ore, coal and manganese deposits as well as to Kolkata, which provided a large market.

TISCO, gets coal from Jharia coalfields, and iron ore, limestone, dolomite and manganese from Odisha and Chhattisgarh. The Kharkai and Subarnarekha rivers ensured sufficient water supply. Government initiatives provided adequate capital for its later development. In Jamshedpur, several other industrial plants were set up after TISCO. They produce chemicals, locomotive parts, agricultural equipment, machinery, tinplate, cable and wire.

- 26.1- Why was Sakchi (later Jamshedpur) considered a convenient location for setting up TISCO? Cite specific geographical and logistical reasons from the text.
- 26.2- Explain how transport and market access influenced the choice of Sakchi for the steel plant.
- 26.3- Identify two pieces of information in the passage that show both natural and human factors contributed to the success of TISCO.

27.

MAP SKILL-BASED QUESTION (3 marks)

3

On the outline map of India locate and label any **THREE** of the following with suitable symbols/pattern/colour.

- i) Major Industrial Region : **Mumbai Pune cluster**
- ii) Major Industrial Region : **Vishakhapatnam-Guntur belt**
- iii) **Maharashtra** : Cotton producing state of India.
- iv) **Assam**: Jute producing state of India.
- v) **Kerala**: Coffee producing state of India.

SECTION C

POLITICAL SCIENCE (27 marks)

28.




Mast. Z is a ten-year old boy, working at small Tea Shop. What is the term used for Mast. Z, a ten-year old child working at small Tea Shop?

1

- (A) Child labour
- (B) Factory worker
- (C) Engineer
- (D) Tea Maker

29. The aim of the following SDG is 1



Sustainable Development Goal (SDG)

- (A) to promote peaceful and inclusive societies for sustainable development, provide access to justice for all and build effective, accountable and inclusive institutions at all levels.
- (B) is about creating a world free of hunger by 2030.
- (C) is about promoting inclusive and sustainable economic growth, employment and decent work for all.
- (D) Eradicating extreme poverty for all people everywhere by 2030

30. Minimum Wages Act specifies that wages should not be below a specified minimum, whose interest is protected by this law. 1

- (A) Child (B) Owner (C) Women (D) Workers

31. Unsatisfied from which court an individual go to the Supreme Court? 1

- (A) Lok Adalats (B) Nyaya Panchayats (C) High Court (D) District Court

32. Which is the Article of Constitution that states that untouchability has been abolished? 1

- (A) Article 16 (B) Article 18 (C) Article 28 (D) Article 17

33. List two reasons why Adivasis are becoming increasingly marginalised. 2

34. In the following table format, fill and write (Answer sheet) in each tier with the judgments given by the various courts in the Sudha Goel case. 3

Levels of Courts	Judgments
Supreme Court:	
High Court:	
Lower Court :	

35. The main functions of the judiciary is ‘upholding the law and Enforcing Fundamental Rights’. Why do you think an independent judiciary is necessary to carry out this important function? 3

36.A You are participating in a debate with your friends to defend the following statements . Write a paragraph explanation to support both statement. 5

Statement I: Dadu’s story is similar to the lives of millions of Adivasis in India.

Statement II: Adivasis had a deep knowledge of, access to, as well as control over most of these vast tracts at least till the middle of the nineteenth century.

OR

36.B What were the problems faced by the Adivasis since independence? Explain any five.

37.A Why did the Safai Karamchari Andolan file a PIL in 2003? What did they complain about in their petition? What did the Supreme Court do on hearing their case in 2005? 5

OR

37.B Re-write the story on Rathnam as well as the provisions of the 1989 Scheduled Castes and Scheduled Tribes (Prevention of Atrocities) Act.

38 Read the following case study and answer the questions. (1+1+2=04) 4

Environment as a Public Facility

In recent years, while the courts have come out with strong orders on environmental issues, these have sometimes affected people's livelihoods adversely. For instance, the courts directed industries in residential areas in Delhi to close down or shift out of the city.

Several of these industries were polluting the neighbourhood and discharge from these industries was polluting the river Yamuna, because they had been set up without following the rules. But, while the court's action solved one problem, it created another. Because of the closure, many workers lost their jobs. Others were forced to go to far-away places where these factories had relocated. And the same problem now began to come up in these areas – for now these places became polluted. And the issue of the safety conditions of workers remained unaddressed.

Recent research on environmental issues in India has highlighted the fact that the growing concern for the environment among the middle classes is often at the expense of the poor. So, for example, slums need to be cleaned as part of a city's beautification drive, or as in the case above, a polluting factory is moved to the outskirts of the city. And while this awareness of the need for a clean environment is increasing, there is little concern for the safety of the workers themselves.

The challenge is to look for solutions where everyone can benefit from a clean environment. One way this can be done is to gradually move to cleaner technologies and processes in factories. The government has to encourage and support factories to do this. It will need to fine those who pollute. This will ensure that the workers livelihoods are protected and both workers and communities living around the factories enjoy a safe environment.

38.1- Why did the courts order industries in residential areas of Delhi to close down or relocate?

38.2- Moving factories to the outskirts "created another" problem. Explain in your own words what this new problem was and why it happened.

38.3- What two main problems does the passage say were caused by relocating the industries from the city?

Q No 13(History) and Q. No 27 (Geography):





General Instructions:

- I. The question paper consists of four sections: A,B,C,D and E. There are 17 questions in the question paper. All are compulsory.
- II. Section A is multiple choice based each answer carries 1 mark.
- III. Section E is picture based that carries 2 marks.
- IV. There is no overall choice in the question paper. However, an internal choice has been provided for few questions. Only one of the choices in such questions has to be attempted. In addition to this, separate instructions are given with each section and question, wherever it is necessary.

Section -A

I. Choose the correct option.

5X1=5

1. Where is the famous Chatrapati Shivaji railway terminus?
a. Pune b. Mumbai c. Nagpur d. New Delhi
2. What is the common name of *Ocimum tenuiflorum*?
a. Neem b. Mango c. Tulsi d. Peepal
3. In which state do we find Nanda Devi and Valley of Flowers National park?
a. Uttar Pradesh b. Bihar c. Uttarakhand d. West Bengal
4. Blind fold women holding balance scale symbolizes _____.
a. Queen Rule b. Justice c. Finance and measurements d. vision of future
5. _____ means 'Empty Hand' in Japanese language.
a. Karate b. Judo c. Kung Phu d. Kendo

Section -B

II. Fill in the blanks with the help of clues given in the form of jumbled words. 5X1=5

11. _____ is known as 'Bird Man of India'. (LAESME ILA)
12. It is also known as Golden Marmoset and almost in extinct stage. (GLDEON NILO)
13. Avani Lekhara won gold medal in Paralympic _____ in 2024. (TSOGOIHN)
14. _____ is a species of antelope of North Africa It is widely hunted for its meat. So it is almost extinct. (XDDAA)

15. _____ was famous as 'Melody Queen of India'. S (AUSLBKHBIM M S)

Section -C

III. Answer the following questions.

5X2=10

16. Who wrote the famous book 'The discovery of India'? What is it all about?

17. Write a short note on Pancha Tantra; the collection of stories.

Or

Which martial art is Known as Wushu? Who made it popular?

18. Write a short note on Taaj Mahal.

19. Briefly explain the Polo game.

20. List any 4 natural heritage sites in India.

Section -D

IV. Match the particulars in column A with column B.

6x1/2=3

A.

- 21. Bharata Ratna
- 22. Metro man of India
- 23. Golden Lion
- 24. Karl Lewis
- 25. Band aid
- 26. Thang Ta

B.

- a. Medical marvel
- b. Martial Art
- c. Olympian of USA
- d. Endangered
- e. E. Shreedhar
- f. M S Subbulakshmi

V. Correlate the below given words.

1x5=5

27. LIMB is to BODY as BRANCH is to : _____

28. ICE is to MELT as WATER is to : _____

29. TIME is to WATCH as AIR PRESSURE is to: _____


30. COAL is to ENGINE as WAX is to : _____

31. $\frac{1}{4}$ is to $\frac{2}{8}$ as $\frac{8}{16}$ is to : _____

Section -E

17. Write a note on the image given below 20 to 30 words

1x2=2





General Instructions:

- I. The question paper consists of four sections: A,B,C,D and E. There are 17 questions in the question paper. All are compulsory.
- II. Section A is multiple choice based each answer carries 1 mark.
- III. Section E is picture based that carries 2 marks.
- IV. There is no overall choice in the question paper. However, an internal choice has been provided for few questions. Only one of the choices in such questions has to be attempted. In addition to this, separate instructions are given with each section and question, wherever it is necessary.

Section -A

I. Choose the correct option from the below given MCQs. 5X1=5

1. Who started the ancient Olympic games?
a. Germans b. Indians c. Greeks d. None of these
2. Who invented sticking bandages?
a. Earl Dickson b. Edward Jenner c. Jeff Marshal d. Ramakant Bhatt
3. _____ is regarded as 'Melody Queen of India' ?
a. Sarojini Naidu b. M S Subbulakshmi c. Shreya Ghoshal d. Lata Mangeshkar
4. Which is the popular water adventure sports in India?
a. Boating b. Bangj Jump c. River Rafting d. All of these
5. Who is the present CJI of India?
a. R K Khanna b. B R Gavai c. Surya Kant d. None of these

Section -B

II. Fill in the blanks with the help of clues given in the form of jumbled words. 5X1=5

6. It is a martial art based on an ancient form of Japanese sword fighting called Kanjustu_____. (DOKEN)
7. The largest mammal to have lived on the earth and being hunted in Norway and Japan_____. (ELLU EHWBA)
8. Avani Lekhara won gold medal in shooting in_____ in 2024. (YPARLPIACM)
9. _____ is a species of antelope of North Africa It is widely hunted for its meat. So it is almost extinct. (XDDAA)
10. _____ was famous as ' Melody Queen of India'. S (AUSLBUKHBIM M S)

Section -C

III. Answer the following questions.

5X2=10

11. Name the book written by Jawaharlal Nehru ? What is it all about?
12. Who was called as 'Father of India's Atomic Energy Programme'?

Or

Which martial art is Known as empty hand? In which country it is famous?

13. Write a short note any one medical marvel.
14. Briefly explain the Olympic games.
15. List any 4 natural heritage sites in India.

Section -D

IV. Match the particulars in column A with column B.

6x1/2=3

A.

16. Nobel Award
17. Midnight's Children
18. Addax
19. Karl Lewis
20. Corbolic soap
21. Karate

B.

- a. Medical marvel
- b. Martial Art
- c. Olympian of USA
- d. Endangered
- e. Salman Rushdie
- f. Achievement in science

V. Correlate the below given words.

1x5=5

22. BIRD is to NEST as HORSE is to : _____
23. ROAD is to CAR as OCEAN is to : _____
24. TIME is to WATCH as AIR PRESSURE is to: _____
25. COAL is to ENGINE as WAX is to : _____
26. TEACHER is to STUDENTS as DOCTOR is to : _____

Section -E

17. Write a note on the image given below.

1x2=2





Jindal Vidya Mandir, JSW Hill Side Township
Term- II Examination (2025- 26)
SET-A

Class VIII

Duration: 1 Hr

Subject: Information Technology

Max.Marks: 30 Marks

General Instructions:

*** This question paper consists of 2 pages with V main headings.**

***All questions are compulsory.**

I. Fill in the blanks

5 X 1=5M

1. The simplest way to prevent plagiarism is _____.
2. Robots are controlled by _____ control devices.
3. The ability of a code to run on any kind of operating system is called _____.
4. _____ allow multiple HTML documents to be presented as independent windows within one browser window.
5. The _____ function is used to connect to the database.

II. State whether the following statements are true or false.

5 X 1=5M

1. You can identify the secured websites by looking at the green lock sign of https on the address bar.
2. A laptop is an example of a middle-level robot.
3. The POST method is used with the <form>tag.
4. Network DBMS supports one-to-many relationships.
5. In PHP both uppercase and lowercase letters can be used in naming an identifier.

III. Choose the correct answer.

4 X 1=4M

1. The unwanted bulk emails that come from strange sources are called _____.
a. Spam b. Trash c. Junk

2. The _____ attribute of the <audio> tag plays the audio file automatically when the web page is loaded.
 - a. a. start
 - b. autoplay
 - c. auto
3. The .webm is one of the supported file formats for the _____ file.
 - a. a. audio
 - b. video
 - c. frame
4. The tool bar consists of _____ that are frequently used while creating, editing, formatting, and debugging the code.
 - a. commands
 - b. code editor
 - c. operands

IV. Answer the following application based questions. 3 X 2 = 6M

1. Neha is confused in deciding whether the mail that she has received is a genuine one or spam. Can you help her in identifying the spam by specifying any indicative measure?
2. Rohan is creating a website in which he wants to use different images as links to the web pages. He is also interested in adding some video clips in his website. Can you suggest him the required tags to include the said elements in his website?
3. Anil is creating a DBMS that will store details of teachers and classes they are teaching. Suggest the kind of DBMS Anil should use.

V. Answer these questions. 5 X 2=10M

1. Why do you include hyperlinks in your web page? Give any two reasons.
2. How can you protect the Intellectual Property Rights from getting violated?
3. What are service robots?
4. What is the significance of variables?
5. List any four ethical guidelines that should be followed while using a computer.



Jindal Vidya Mandir, JSW Hill Side Township
Term- II Examination (2025- 26)

SET-B

Class VIII/Sec: _____

Duration: 1 Hr

Subject: Information Technology

Max.Marks:30 Marks

General Instructions:

*** This question paper consists of 2 pages with V main headings.**

***All questions are compulsory.**

I. Fill in the blanks.

5 X 1=5M

1. The_____ displays the various options that are used for performing different activities.
2. The websites that share the user data with each other are called as_____ websites.
3. _____ DBMS employs the parent-child relationship of storing data.
4. _____ allow multiple HTML documents to be presented as independent windows within one browser window.
5. An illegal intrusion into a computer system or network is known as_____.

II. State whether the following statements are true or false.

5 X 1=5M

1. Spams are unwanted bulk emails that come from strange sources.
2. Fixed robots have improved sensors and interact with humans closely.
3. The objects to be stored in the database have different attributes.
4. A digital footprint is also known as digital dossier.
5. An identifier name starts with &.

III. Choose the correct answer.

4 X 1=4M

1. In PHP, a variable name starts with a_____.
a. & b. \$ c. @
2. _____ is the process of transforming data into unreadable code.
a. Encoding b. Encryption c. Decryption

3. The tool bar consists of _____ that are frequently used while creating, editing, formatting, and debugging the code.
- a. commands b. code editor c. operands
4. The .webm is one of the supported file formats for the _____ file.
- a. audio b. video c. frame

IV. Answer the following application based questions.

3 X 2 = 6M

1. Anil is creating a DBMS that will store details of teachers and classes they are teaching. Suggest the kind of DBMS Anil should use.
2. Neha is confused in deciding whether the mail that she has received is a genuine one or spam. Can you help her in identifying the spam by specifying any indicative measure?
3. Rohan wants to divide a webpage into four sections. Which tag should he use to accomplish this?

V. Answer these questions.

5X 2=10M

1. Describe the use of anchor tag. Give syntax.
2. What is the significance of Variables?
3. List any four ethical guidelines that should be followed while using a computer.
4. What are service robots?
5. Why do you include hyperlinks in your web page? Give any two reasons.

General Instructions:

Read the following instructions carefully and follow them:

This question paper contains 23 questions. All questions are compulsory.

I. Choose the correct option

10x1M=10M

1. Yoga helps improve _____.
a) anger b) patience c) stress d) none
2. Emotional stability improves through _____.
a) yoga b) shouting c) sleeping late d) eating junk food
3. Which yoga style focuses on flow?
a) vinyasa b) yin c) resting d) none
4. Yoga strengthens _____.
a) the mind b) the muscles c) both a & b d) none
5. Good sleep is a benefit of _____.
a) stress b) yoga c) anger d) junk food
6. Meditation increases _____.
a) pressure b) concentration c) laziness d) fear
7. Yoga improves blood circulation because _____.
a) it stops movement b) it increases relaxation
c) it promotes stretching d) both b & c

8. Yoga helps in developing ____.
- a) inner peace b) stress c) confusion d) fear
9. Pranayama deals with ____.
- a) food b) meditation c) breath control d) sleeping
10. Yoga increases ____.
- a) flexibility b) stiffness c) anger d) none

II. Fill in the blanks

3x1M=3M

11. Yoga improves mental and emotional _____.
12. Meditation helps increase _____.
13. Yoga promotes _____.

III. State whether the following statements are true or false

14. Yoga improves sleep quality. **3X1M=3M**
15. Yoga should be practiced forcefully.
16. Yoga helps reduce anxiety.

IV. Answer the following questions in 20 to 30 words each

17. What is pranayama? **7X2M=14M**
18. Name two mental benefits of yoga.
19. How does yoga help improve sleep?
20. What is the role of meditation?
21. How does yoga improve emotional wellness?
22. What is self-awareness?
23. Why is flexibility important?



JINDAL VIDYA MANDIR, JSW HILL SIDE TOWNSHIP

Term – II Examination (2025-26)

Class : VIII ____

Set – B

Roll No. ____

Date : _____

Subject : Art

Name : _____

Max Marks : 50


Invigilator's Sign _____

Duration : 1 Hour

Theme : Landscape

- | | |
|---|--|
| 1. Drawing Skills (10 Marks) | 2. Creativity & Originality (10 Marks) |
| 3. Coloring / Shading / Painting (10 Marks) | 4. Composition & Layout (10 Marks) |
| 5. Neatness & Presentation (5 Marks) | 6. Theme Relevance (5 Marks) |

Look at the landscape picture given below & to find the desired result, continue the process using light to dark tones of colors.





Jindal Vidya Mandir, JSW Hill Side Township

Term-II Examination (2025-26)

Set-B

Class: VIII
Sub: Music

Max Marks: 30
Duration: 1 Hour

General Instructions:

- The question paper consists of 3 pages and 5 mains with 25 questions.
 - All the questions are compulsory.
-

I. Choose and write the correct answer.

5 X 1 = 5

1. Which notes (swaras) are not used in the aroha and avaroha of raag Bhoopali?

- a) Re and Dha b) Ma and Ni bc) Ga and Pa d) Sa and Pa

2. How many times is the phrase "Chak de ho chak de India" indicated to be repeated?

- a) Twice (x2) b) Four times (x4) c) Three times (x3) d) Only once

3. The example 'Snap' is described as a sound made with:

- a) Feet b) Hands c) Fingers d) The mouth

4. In which city was A.R. Rahman born?

- a) Mumbai b) Delhi c) Chennai (Madras) d) Bangalore

5. When was Eric Clapton born?

- a) March 30, 1960 b) March 30, 1945
c) March 13, 1945 d) March 30, 1990

II. Fill in the blanks with suitable answer.

5 X 1 = 5

6. Puchchona na galiyon mein rasan ki _____ mein.
7. Stamp is a sound made with _____.
8. A R Rahman's father was also a _____.
9. Eric Clapton started playing the guitar when he was around _____ years old.
10. Raag Kafi contains a total of _____ swaras.

III. Match the following.

5 X 1 = 5

Coloumn-A

Coloumn -B

- | | |
|-------------------------------|---|
| 11. Non-Percussion Instrument | a) Hollywood Movie |
| 12. Clap | b) Eric Clapton's band |
| 13. Slumdog Millionaire | c) Rhythm cycle |
| 14. The Yardbirds | d) not produce sound by hitting, striking |
| 15. Taal | e) hands |

IV. Answer the following questions in a word or a sentence.

5 X 1 = 5

16. Which section of the composition contains the line 'Anga suvandita mana anandita'?
17. Write the aroha of raag kafi.
18. List one percussion instrument beginning with 'D'.
19. How many times was Clapton inducted into the Rock and Roll Hall of Fame for his bands?
20. Besides piano, what other instrument did Rahman learn to play?

V. Answer the following questions in 2-3 sentences

5 X 2 = 10

21. Write the first stanza of “ Jingle bell rock ” song.
22. Write any two examples each of percussion and non-percussion instruments.
23. In addition to Indian classical music, what three types of sounds does Rahman mix to create his unique style?
24. List two original popular songs from Eric Clapton’s solo career.
- 25 . Write the lyrics of the raag Bhoopali bandish “ Albela sajana aayo re ”.

