

Section- B (Writing)

II. Look at the picture. Write the names of any 3 things you can see in the picture.

3X1=3




1. _____
2. _____
3. _____

III. Complete the sentences by choosing the correct options from the given help box.

salad, plant, tomato, round

I am a _____. I am red and _____. I grow on a small _____. I am juicy and healthy. You can put me in _____.



Section – C (Grammar)

IV. Read the sentences and underline the nouns.

4X1 =4

1. I have a ball.
2. Rohan is playing.
3. The dog runs fast.
4. The fish swims.

V. Write suitable nouns in the correct nouns' columns.

6X½=3

(ball, English, park, Mumbai, hotel, January)

Common Nouns	Proper nouns

VI. Color the Proper nouns in 'red' and Common nouns in 'blue'.

6X½ =3

John	pencil
friend	Holi
Taj Mahal	girl

Section- D (Literature)

VII. Answer the following questions.

4X1=4

Q1. Where does Manu live?

Ans. _____

Q2. Who reads book for Manu?

Ans. _____

Q3. Why do the children not want to play with Sunny?

Ans. _____

Q4. What do Manu and Amina do with other children?

Ans. _____

VIII. Complete these sentences.

3X1=3

1. Manu's mother works in _____ hospital.

2. Mita is _____ months old.

3. There are only _____ swings in the park.

IX. Read the poem and answer the following questions.

3X1=3

See my eyes

See my nose.


See my fingers.

See my toes.

See my lips.

See my knee.

Now you have seen all of me!



A. Tick the right options to complete these sentences.

1. My eyes, nose and lips are a part of _____.

a. my head

b. my face

2. My toes are a part of my _____.

a. feet

b. hand

3. My fingers are a part of my _____.

a. hand

b. head

Periodic Test-I (2025-26)

Class : I /Sec:

Set-A

Max. Marks : 30

Sub : Hindi (II Language)

Duration : 1:30 hrs

Name : _____

Roll No. : _____

Invigilator's Sign: _____

Date : _____

General Instructions:

- 1) सभी प्रश्नों को हल करना अनिवार्य है।
- 2) कुल प्रश्न संख्या 7 है।

प्रश्न 1. नीचे दिए गए वर्ण का अगला व पिछला वर्ण लिखिए-

4X1=4

----- ब -----

----- द -----

----- छ -----

----- ग -----

प्रश्न 2. उचित वर्ण छाँटकर शब्द पूरे कीजिए-

4x1=4

क) शरब----- (म ,त)

ख) अदर----- (म ,क)

ग) शह ----- (द ,क)

घ) पनघ ----- (द ,ट)

प्रश्न 3. उ और ई की मात्रा के दो - दो शब्द लिखिए-

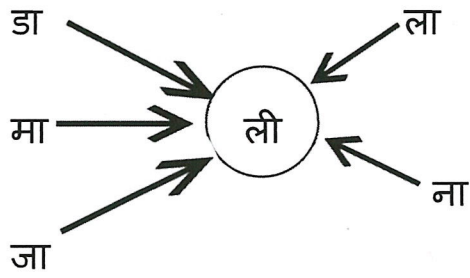
4x1=4

उ

ई


प्रश्न 4. दिए गए वर्णों को जोड़कर नए शब्द बनाइए-



5x1=5



प्रश्न 5. चित्र पहचानकर चित्र का नाम लिखिए -

4x1=4






प्रश्न 6. चित्र देखकर सही शब्द पर गोला लगाइए-


5x1=5

क)



बादल मुरगी गाजर

ख)



सितार

तबला

नाल

ग)

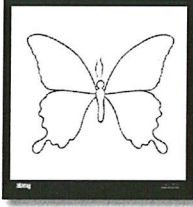


टमाटर

मटर

फल

घ)

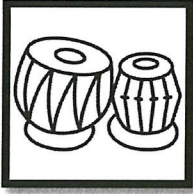


गिटार

आलू

तितली

ङ)



घोड़ा

आम

तबला

प्रश्न 7. नीचे दी गई वर्ग पहेली में से आ की मात्रा के चार शब्द ढूँढे और उन पर गोला लगाओ

4x1=4

म	छ	ली	मा	बा
ग	छा	ट	ता	ल
र	ता	ला	क	म
म	क	ज	अ	सा
च	त	ह	प	फ
छ	ब	रा	गा	ना



Jindal VidyaMandir, JSW Hill Side Township
Periodic Test – I (2025-26)

Class/Sec : I/___

Set-A

Max.Marks: 30

Subject: Kannada (II Language)

Duration: 1Hr 30 min.

Name : _____

Roll No.: _____

Invigilator's Sign: _____

Date : _____

ಸೂಚನೆಗಳು:

- * ಪತ್ರಿಕೆಯು A ಮತ್ತು B ಎಂಬ ಎರಡು ಭಾಗಗಳನ್ನು ಒಳಗೊಂಡಿರುತ್ತದೆ.
- * ಪ್ರಶ್ನೆ ಪತ್ರಿಕೆಯಲ್ಲಿ ಒಟ್ಟು 8 ಮುಖ್ಯ ಪ್ರಶ್ನೆಗಳು ಇರುತ್ತವೆ ಮತ್ತು 3 ಪುಟಗಳನ್ನು ಹೊಂದಿದೆ.
- * ಪ್ರತಿಯೊಂದು ಪ್ರಶ್ನೆಗಳ ಸೂಚನೆಗಳನ್ನು ಸರಿಯಾಗಿ ಓದಿಕೊಂಡು ಉತ್ತರಿಸಿ.

ಭಾಗ - A (15 ಅಂಕಗಳು)



(ವಾಚನ ಮತ್ತು ಗ್ರಹಿಕಾ ಕೌಶಲ್ಯ)


I. ಈ ಕೆಳಗಿನ ಪಠ್ಯೇತರ ಗದ್ಯಭಾಗವನ್ನು ಓದಿಕೊಂಡು, ಬಿಟ್ಟ ಸ್ಥಳಗಳಲ್ಲಿ ಸೂಕ್ತ ಉತ್ತರವನ್ನು ಆರಿಸಿ, ಬರೆಯಿರಿ.

(ಮರ, ಮನೆ, ಅಜ್ಜ, ನವಿಲು)

4X1=4M

ಒಂದು ಊರು ಇತ್ತು. ಆ ಊರಲ್ಲಿ ಬಹಳ  ಗಳು ಇದ್ದವು. ಮನೆಯ ಮುಂದೆ

ಅನೇಕ  ಗಳು ಇದ್ದವು. ಮರದ ಕೆಳಗೆ  ಕುಣಿಯುತ್ತಿತ್ತು.

 ಅದನ್ನು ನೋಡಿದನು.

II. ಈ ಕೆಳಗಿನ ಖಾಲಿ ಬಿಟ್ಟಿರುವ ಸ್ಥಳಗಳಲ್ಲಿ ಸೂಕ್ತ ಅಕ್ಷರವನ್ನು ಆರಿಸಿ, ಪದ ರಚಿಸಿರಿ.

4x1=4M

1. ಸ___ (ರ, ಸ, ದ)

2. ಗ___ (ಡ, ಜ, ಮ)

3. ___ಟ (ತ, ಆ, ಕ)

4. ನ___ನ (ಚ, ಪ, ಯ)

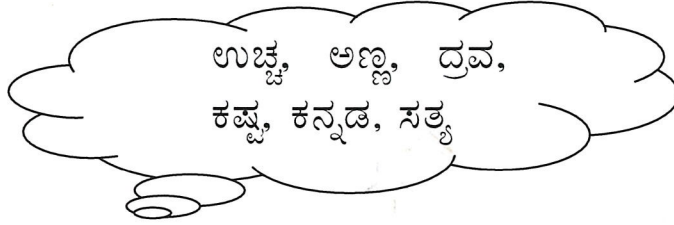
(ಅನ್ವಯಿಕ ವ್ಯಾಕರಣ)

III. ಈ ಕೆಳಗಿನ ಪ್ರಶ್ನೆಗಳಿಗೆ ಸರಿಯಾದ ಉತ್ತರವನ್ನು ಆರಿಸಿ, ಬರೆಯಿರಿ.

4x1=4M

1. ಕನ್ನಡ ವರ್ಣಮಾಲೆಯಲ್ಲಿ _____ ವಿಧಗಳಿವೆ.
(3, 9, 4, 5)
2. ಅಂ, ಅಃ ಇವು _____ಗಳು.
(ಸ್ವರ, ಯೋಗವಾಹ, ವ್ಯಂಜನ, ಒತ್ತಕ್ಷರ)
3. _____ ವರೆಗಿನ ಅಕ್ಷರಗಳು ಸ್ವರಗಳು.
(ಅ ಯಿಂದ ಔ, ಅ ಯಿಂದ ಅಂ, ಅ ಯಿಂದ ಮ, ಅ ಯಿಂದ ಳ,)
4. ಕನ್ನಡ ವರ್ಣಮಾಲೆಯಲ್ಲಿ _____ ಅಕ್ಷರಗಳಿವೆ.
(33, 49, 24, 50)

VI. ಈ ಕೆಳಗೆ ಕೊಟ್ಟಿರುವ ಒತ್ತಕ್ಷರ ಪದಗಳನ್ನು ಸಜಾತಿ/ವಿಜಾತಿ ಒತ್ತಕ್ಷರ ಪದಗಳಾಗಿ ವಿಂಗಡಿಸಿ, ಬರೆಯಿರಿ.



1X3=3M

ಸಜಾತಿ ಒತ್ತಕ್ಷರ ಪದಗಳು : _____, _____, _____

ವಿಜಾತಿ ಒತ್ತಕ್ಷರ ಪದಗಳು : _____, _____, _____

ಭಾಗ-B (15 ಅಂಕಗಳು)

(ಬರವಣಿಗೆ ಕೌಶಲ್ಯ)


V. ಈ ಕೆಳಗಿನ ಚಿತ್ರಗಳನ್ನು ಗುರುತಿಸಿ, ಅವುಗಳ ಹೆಸರನ್ನು ಬರೆಯಿರಿ.

4x1=4M

1.



2.



3.



4.



VI. ಈ ಕೆಳಗೆ ಕೊಟ್ಟಿರುವ ಗುಣಿತಾಕ್ಷರಗಳನ್ನು ಪೂರ್ಣಗೊಳಿಸಿರಿ.

2x2=4M

1. ತ, _____, ತಿ, ತೀ, _____, ತೂ, _____, ತೆ, ತೇ, _____, ತೊ, _____, ತೌ, _____, ತಃ

2. ಪ, ಪಾ, _____, ಪೀ, ಪು, _____, ಪ್ಯ, ಪೆ, _____, ಪೈ, _____, ಪೋ, _____, ಪಂ _____

VII. ಈ ಕೆಳಗಿನ ಕೋಷ್ಟಕದಲ್ಲಿ ಕೊಟ್ಟಿರುವ ಅಕ್ಷರಗಳನ್ನು ಬಳಸಿ 6 ಪದಗಳನ್ನು ಬರೆಯಿರಿ.

1x3=3M

ದೋ	ಳ	ನೇ	ತೋ	ಡು	ಗು
ಜೋ	ಮ	ಣಿ	ಟ	ಕೊ	ರಿ

1. _____ 2. _____

3. _____ 4. _____

5. _____ 6. _____

VIII. ಈ ಕೆಳಗೆ ಕೊಟ್ಟಿರುವ ಅಕ್ಷರದಿಂದ ಆರಂಭವಾಗುವ 2 ಸರಳ ಪದಗಳನ್ನು ಬರೆಯಿರಿ.

2x2=4M

1. ಕ- _____, _____

2. ಸ- _____, _____

Set A

Class I/Sec: ____

Duration: 1 Hour 30 mins

Subject: Mathematics

Max Marks: 30

Name: _____

Roll No: ____

Invigilator's signature: _____

Date: _____

General Instructions:

- i) This question paper contains 4 main questions in 4 pages.
ii) All questions are compulsory.
-

Section A

I. Choose the correct answer.

7X1M=7M

1) 1 more than 9 make _____

- A) 19 B) 9 C) 10 D) 90

2) What comes just between 10 and 12? _____

- A) 11 B) 20 C) 12 D) 10

3) What comes just before 20? _____

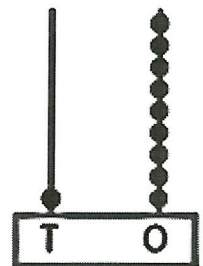
- A) 12 B) 13 C) 19 D) 11

4) 1 ten and 5 ones _____

- A) 10 B) 1 C) 5 D) 15

5) Choose the correct number shown by the following abacus. _____

- A) 21 B) 02 C) 11 D) 19



6) $15 + 3 =$ _____


- A) 15 B) 18 C) 8 D) 13

7) The number name for 14 is _____

- A) Four B) Forty C) Forty three D) Fourteen

II. Match the following.

5X1M=5M


Column A			Column B	Answers
1.	19 - 5	a.	15	
2.	Five + Four	b.	16	
3.		c.	14	
4.	The numeral for 'fifteen' is	d.	11	
5.	Number just after 10 is	e.	Nine	

Section-B

III. Do as directed.

3X1M=3M

1) Represent 5 on the abacus and write its number name.



2) Start from 19 and move backwards.

				19
--	--	--	--	-----------

3) Draw the balls and find the sum.

$6 + 2 + 1 =$

Section-C

IV. Answer the following.

1) Add the following numbers vertically.

6X2M =12

a) T O

1 4

+ 3

b) T O

1 2

+ 5

2) Subtract the following using the number strip.

$7 - 5 = \square$

0	1	2	3	4	5	6	7	8	9	10
---	---	---	---	---	---	---	---	---	---	----

3) Add by counting forward.

$16 + 4 = \square$

Start from and move forward

4) Add the following by grouping 10 mangoes as 1 ten.

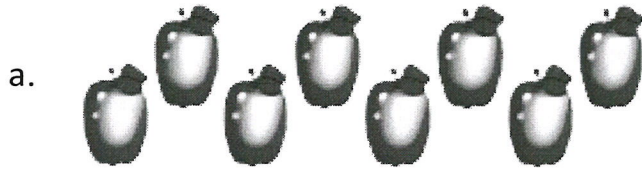


$11 + 1 = \begin{array}{|c|c|} \hline \text{T} & \text{O} \\ \hline \square & \square \\ \hline \end{array}$



___ ten + ___ ones

5) Cross out to subtract and fill in the box.



$$8 - 4 = \boxed{}$$



$$6 - 2 = \boxed{}$$

6) Arrange the numbers from the biggest to the smallest.

16, 20, 9, 14


--	--	--	--

7) A fruit basket contains 6 bananas and 4 mangoes. Find the total number of fruits in the basket. Use the number line to solve the sum. **1X3M =3M**

T O

Number of bananas in the basket		
Number of mangoes in the basket		

Total number of fruits in the basket = _____





Jindal Vidya Mandir, JSW Hill Side Township
Periodic Test-I (2025-26)

Set- A

Class: I/ Sec: _____

Max Marks: 30

Sub: EVS

Duration: 1.30 hrs

Name: _____

Roll No: _____

Invigilator's Signature: _____

Date: _____

General Instructions:

- This question paper is printed in 4 pages and 23 questions.
- It consists of two sections A and B. Section A has objective type questions and section B has subjective type questions.
- All the questions are compulsory.

Section-A

I. Choose the correct word from the box to fill in the blanks.

5X1=5M

siblings plenty of injury identity card Jindal Vidya Mandir,HST

1. The name of my school is _____.
2. Safety means staying away from _____.
3. We should drink _____ water daily.
4. A card that helps others to know you is called your _____.
5. Our brothers and sisters are our _____.

II. Write True (T) or False (F) for the following sentences.

5X1=5M

6. The things we like are called our favourite things. ()
7. Our first name is called our forename. ()
8. Germs grow in clean places. ()
9. Traffic lights are put up in parks. ()
10. We should take care of our family members. ()

III. Match the following.

5X1=5M

- | | |
|-------------------------------|--------------------------|
| 11. eyes | a. outdoor games |
| 12. exercise | b. see |
| 13. zebra crossing | c. stop |
| 14. Ria lives with her father | d. to cross the road |
| 15. red light | e. single- parent family |

Section-B

IV. Answer the following questions in one sentence.

4X1=4M

16. How do our hands help us?

17. Why should we follow good habits?

18. Why should we not touch electric switches with wet hands?

19. Who are our siblings?

V. Answer the following questions.

3X2=6M



20. Write any two habits to stay clean.

21. Write any two safety rules to be followed at home.

22. What is a small family?

23. Draw, name and colour any two sense organs.

2X2.5= 5M

 <hr data-bbox="279 1153 558 1164"/>	 <hr data-bbox="909 1153 1197 1164"/>
--	--