



Jindal Vidya Mandir, JSW Hill Side Township
Periodic Test-I (2025-26)
Set-A

Class: II/ Sec: _____

Sub: English

Name: _____

Invigilator's Signature: _____

Duration: 1hr 30mins

Max Marks: 30

Roll no: _____

Date: _____

General Instructions:

- This paper consists of 5 pages.
- It has 11 main questions.
- Section A – Reading, Section B- Writing, Section C – Grammar & Section D- Literature
- All the questions are compulsory.

Section: A (Reading)

I. Read the passage and answer the following questions.

6X½=3

It was a rainy morning. Aryan was excited because he loved the rain. He wore his raincoat and took his umbrella. He stepped outside and saw children playing in puddles. Aryan made a paper boat and placed it in the water. The boat floated away. He laughed and made another one. It was a fun rainy day.

A. Fill in the blanks.

- 1) Aryan wore his _____ and took his umbrella.
- 2) He saw children playing in _____.

B. Write 'T' for true and 'F' for false sentences:

- 1) Aryan did not like the rain. _____
- 2) Aryan made a paper boat. _____

C. Find any two nouns from the passage:

- 1) _____
- 2) _____

II. Read the poem and answer the following questions.

4X½=2

The grass is green,
The sky is blue,
The sun is yellow,
And the clouds are too.
The moon is white,
The trees are tall,
The leaves are green,
And they don't fall.

A. Choose the correct option

1. What colour are the leaves on the trees?

- (a) brown (c) yellow
(b) green (d) red

2. What colour is the sky?

- (a) white (c) orange
(b) blue (d) red

B. Write two pairs of rhyming words from the poem.

i) _____ ii) _____

Section- B (Writing)

III. Observe the picture and fill in the blanks from the clue box.

5X1=5



enjoying slide shining park flying

1. This is a scene from a _____.

2. The sun is _____ brightly in the sky.

3. A bird is _____ in the sky.

4. Two boys are playing on a _____.

5. The children are _____.

Section – C (Grammar)


IV. Underline the 'common nouns' and circle the 'proper nouns'. 2X1=2

1. The beautiful girl was called Cinderella pictures.

2. Lucy presented a video game to her brother.


V. Write the common and proper nouns on the correct side. 6X½=3

Common Nouns



- flower
- Mumbai
- teacher
- Virat
- Sunday
- tree

Proper Nouns



VI. Separate the 'countable' and 'uncountable' nouns from the box and write in the correct column. 6X½=3

desk, water, sugar, chair, rice, book

Countable Nouns	Uncountable Nouns

VII. Circle the 'countable nouns' and underline the 'uncountable nouns' in these sentences. **2X1=2**

1. The girls are playing in the snow.
2. There is enough petrol in the car.

Section- D (Literature)

VIII. Answer the following questions. **2X2=4**

Q1. When it becomes colder, what does the camel want to put inside the tent?

Ans. _____

Q2. Why do you think all the animals refuse to help Bukka?

Ans. _____

IX. Write 'T' for true and 'F' for false. **4X½=2**

1. That night, it was warm in the desert. _____
2. The trader is very kind. _____
3. The young elephants listen to their elders. _____
4. Bukka does not crush snails underfoot. _____

X. Read the poem extract and answer the given questions. **2X1=2**

Some things go to sleep in such a funny way:
Little birds stand on one leg and tuck their heads away;
Chickens do the same, standing on their perch;

Q1. What do little birds and chickens do while sleeping?

Ans. _____

Q2. Find and write a pair of rhyming words from the poem.

Ans. _____

XI. Read the poem extract and answer the given questions. 2X1=2

One rainy day on my way home from school,

I found a big worm and thought it was cool.

I picked up the worm with my bare hand,

Held it up high, thinking how grand!

Q1. Complete the sentence.

a. The child found a big worm and thought _____

Q2. Find and write a pair of rhyming words from the poem.

Ans. _____



Jindal Vidya Mandir, JSW Hill Side Township
Periodic Test-I (2025-26)

SET-A

Class : II/ Sec : _____

Subject : Kannada(II Language)

Name : _____

Invigilator's Sign : _____

Duration: 1Hr30minutes

Max. Marks :30

Roll No. : _____

Date : _____

ಸೂಚನೆಗಳು

- ಈ ಪತ್ರಿಕೆಯು A ಮತ್ತು B ಎಂಬ ಎರಡು ಭಾಗಗಳನ್ನು ಒಳಗೊಂಡಿರುತ್ತದೆ .
- ಪ್ರಶ್ನೆ ಪತ್ರಿಕೆಯು ಒಟ್ಟು 9 ಮುಖ್ಯ ಪ್ರಶ್ನೆಗಳು ಹಾಗೂ 4 ಪುಟಗಳನ್ನು ಒಳಗೊಂಡಿರುತ್ತದೆ .
- ಪ್ರತಿಯೊಂದು ಪ್ರಶ್ನೆಗಳ ಸೂಚನೆಗಳನ್ನು ಸರಿಯಾಗಿ ಓದಿಕೊಂಡು ಉತ್ತರಿಸಿ.

ಭಾಗ-A

(ವಾಚನ ಮತ್ತು ಗ್ರಹಿಕಾ ಕೌಶಲ್ಯ)

I.ಈ ಕೆಳಗಿನ ಪಠ್ಯೇತರ ಗದ್ಯಭಾಗವನ್ನು ಓದಿಕೊಂಡು, ಅದರ ಕೆಳಗೆ ಕೊಟ್ಟಿರುವ ಪ್ರಶ್ನೆಗಳಿಗೆ ಉತ್ತರಿಸಿರಿ.

4X1=4M

ಒಂದು ಚಿಕ್ಕ ಹಳ್ಳಿಯಲ್ಲಿ ರಾಜು ಎಂಬ ಹುಡುಗನಿದ್ದ. ಅವನಿಗೆ ಪ್ರತಿದಿನ ಸೂರ್ಯ ಉದಯಿಸುವುದನ್ನು ನೋಡುವುದು ಎಂದರೆ ತುಂಬಾ ಇಷ್ಟ. ಒಂದು ದಿನ, ಸೂರ್ಯ ಹುಟ್ಟುವಾಗ ಆಕಾಶದಲ್ಲಿ ಒಂದು ಸುಂದರವಾದ ಚಿಟ್ಟೆ ಹಾರಾಡುತ್ತಿತ್ತು. ರಾಜು ಅದನ್ನು ಹಿಂಬಾಲಿಸಿದ. ಚಿಟ್ಟೆ ಹಾರುತ್ತಾ, ಹಾರುತ್ತಾ ಒಂದು ದೊಡ್ಡ ಹೂವಿನ ತೋಟಕ್ಕೆ ಹೋಯಿತು. ಅಲ್ಲಿ ಅದೆಷ್ಟೋ ಬಣ್ಣಬಣ್ಣದ ಹೂಗಳು ಅರಳಿದ್ದವು. ರಾಜು ಆ ಹೂಗಳ ಸೌಂದರ್ಯಕ್ಕೆ ಮಾರುಹೋಗಿ ಅಲ್ಲೇ ನಿಂತುಬಿಟ್ಟ. ಆ ದಿನದಿಂದ ಅವನು ಪ್ರತಿದಿನ ಆ ತೋಟಕ್ಕೆ ಹೋಗಿ ಹೂಗಳ ಸುಂದರತೆಯನ್ನು ನೋಡಿ ಆನಂದಿಸತೊಡಗಿದನು. ಪ್ರತಿದಿನ ತೋಟದಿಂದ ಹೊರಡುವಾಗ, ಅವನ ಮನಸ್ಸು ಸಂತೋಷದಿಂದ ತುಂಬಿ ಹೋಗುತ್ತಿತ್ತು.

ವಸ್ತುನಿಷ್ಠ ಪ್ರಶ್ನೆಗಳು:

1. ಒಂದು ಚಿಕ್ಕ ಹಳ್ಳಿಯಲ್ಲಿ _____ ಎಂಬ ಹುಡುಗನಿದ್ದ.
(i) ವಿಜು (ii) ಸೋಮು (iii) ರಾಜು (iv) ಹನುಮ
2. ಸೂರ್ಯ ಉದಯಿಸುವಾಗ, ಆಕಾಶದಲ್ಲಿ ಒಂದು ಸುಂದರವಾದ _____ ಹಾರಾಡುತ್ತಿತ್ತು.
(i) ಪಕ್ಷಿ (ii) ಚಿಟ್ಟೆ (iii) ವಿಮಾನ (iv) ಹದ್ದು
3. ತೋಟದಲ್ಲಿ ಬಣ್ಣ ಬಣ್ಣದ _____ ಅರಳಿದ್ದವು.
(i) ಪತ್ರಗಳು (ii) ಹಣ್ಣುಗಳು (iii) ಹೂಗಳು (iv) ನಕ್ಷತ್ರಗಳು
4. ಅವನ ಮನಸ್ಸು _____ ತುಂಬಿ ಹೋಗುತ್ತಿತ್ತು.
(i) ಸಂತೋಷದಿಂದ (ii) ಸೌಂದರ್ಯದಿಂದ (iii) ಆಸೆಯಿಂದ (iv) ಕರುಣೆಯಿಂದ

II.ಈ ಕೆಳಗಿನ ಪಠ್ಯ ಪದ್ಯಭಾಗವನ್ನು ಓದಿಕೊಂಡು, ಅದರ ಕೆಳಗೆ ಕೊಟ್ಟಿರುವ ಪ್ರಶ್ನೆಗಳಿಗೆ ಉತ್ತರಿಸಿರಿ.

4X1=4M

ಹಳ್ಳಿಯ ದಾರಿಯ ಬದಿಯಲಿ
ಒಂದು ಮಾವಿನ ಮರವಿತ್ತು

ಹಲವು ಕೊಂಬೆಗಳನ್ನು ಚಾಚಿ
ತಣ್ಣೆಗಳನ್ನು ಹರಡುತ್ತಾ ||

ಹಕ್ಕಿ ಪಕ್ಷಿಗಳು ಗೂಡನ್ನು ಕಟ್ಟಿದ
ಮರಿಗಳ ಚಿಲಿಪಿಲಿ ಹಾಡಿತ್ತು.
ಎಲೆಗಳ ಜೊತೆಗೆ ಕಾಯ ತೂಗಿ
ಬಾಯಲಿ ನೀರನ್ನು ತಂದಿತ್ತು||

ವಸ್ತುನಿಷ್ಠ ಪ್ರಶ್ನೆಗಳು:

1. ಹಳ್ಳಿಯ ದಾರಿಯ ಬದಿಯಲ್ಲಿ _____ ಮರವಿತ್ತು.
(i) ದಾಳಿಂಬೆ (ii) ಸೀಬೆಯ (iii) ಮಾವಿನ (iv) ಬೇವಿನ
2. ಎಲೆಗಳ ಜೊತೆಗೆ ಕಾಯ ತೂಗಿ ಬಾಯಲಿ _____ ತಂದಿತ್ತು.
(i) ಜೇನು (ii) ಹಣ್ಣು (iii) ನೀರನ್ನು (iv) ಹಾಲನ್ನು
3. ಹಕ್ಕಿ ಪಕ್ಷಿಗಳು _____ ಕಟ್ಟಿದ.
(i) ದಾರವನ್ನು (ii) ಹಗ್ಗವನ್ನು (iii) ಎಲೆಯನ್ನು (iv) ಗೂಡನ್ನು
4. ಮರಿಗಳ _____ ಹಾಡಿತ್ತು.
(i) ಚಿಲಿಪಿಲಿ (ii) ಕಿಲಿಬಿಲಿ (iii) ಪಿಲಿಪಿಲಿ (iv) ಕುಹೂ ಕುಹೂ
(ವ್ಯಾಕರಣ ಭಾಗ)

III. ಈ ಕೆಳಗೆ ಕೊಟ್ಟಿರುವ ಪ್ರತಿಯೊಂದು ಪ್ರಶ್ನೆಗಳಿಗೆ ನಾಲ್ಕು ಉತ್ತರಗಳನ್ನು ಕೊಡಲಾಗಿದೆ ಅವುಗಳಲ್ಲಿ ಸರಿಯಾದ ಉತ್ತರವನ್ನು ಆರಿಸಿ ಬರೆಯಿರಿ.

6X1=6M

a. ಈ ಕೆಳಗೆ ಕೊಟ್ಟಿರುವ ಗಾದೆ ಮಾತುಗಳನ್ನು ಪೂರ್ಣಗೊಳಿಸಿರಿ.

1. ಆಕಳು ಕಪ್ಪಾದರೆ _____ ಕಪ್ಪೇ?
(i) ಜನ (ii) ಬಣ್ಣ (iii) ಹುಲ್ಲು (iv) ಹಾಲು
2. ಮೂರ್ತಿ ಚಿಕ್ಕದಾದರೂ ಕೀರ್ತಿ _____
(i) ದೊಡ್ಡದು (ii) ಚಿಕ್ಕದು (iii) ಅಪಾರವಾದದ್ದು (iv) ಹಬ್ಬಿದ್ದು

b. ಈ ಕೆಳಗೆ ಕೊಟ್ಟಿರುವ ಪದದ ಅರ್ಥವನ್ನು ಬರೆಯಿರಿ.

1. ರಾಜ = _____
(i) ಸೈನಿಕ (ii) ಮಂತ್ರಿ (iii) ಅರಸ (iv) ಸಲಹೆಗಾರ

C. ಈ ಕೆಳಗೆ ಕೊಟ್ಟಿರುವ ಪದಗಳ ವಚನ ಬದಲಿಸಿ ಬರೆಯಿರಿ.

1. ಕರೆ - _____
(i) ಚಿಕ್ಕಕರೆ (ii) ದೊಡ್ಡಕರೆ (iii) ಕರೆಗಳು (iv) ಕರೆಯಂದಿರು
2. ಹಳ್ಳಿ - _____
(i) ಹಳ್ಳಿಯಿಂದ (ii) ಹಳ್ಳಿಗಳು (iii) ಹಳ್ಳಿಯೇ (iv) ಎಲ್ಲವೂ

d. ಈ ಕೆಳಗೆ ಕೊಟ್ಟಿರುವ ಪದ್ಯವನ್ನು ಗಮನಿಸಿ, ಒಂದು ಪ್ರಾಸ ಪದವನ್ನು ಬರೆಯಿರಿ.

ಚುರು ಚುರು ಗುಬ್ಬಿ,
ಕೊಳೆಯಬೇಡ ಸುಬ್ಬಿ.
ತಿಂಡಿ ತಿಂದು ಹಾರುವೆ,
ನಾನು ನಿನ್ನ ಮುಬ್ಬಿ.

1. _____

IV. ಈ ಕೆಳಗೆ ಕೊಟ್ಟಿರುವ ಬಿಟ್ಟ ಸ್ಥಳವನ್ನು ತುಂಬಿರಿ.


1X1=1M

1. ಮಗಳಿಗೊಂದು ಗೊಂಬೆಯಂತೆ, ಗೊಂಬೆಗೊಂದು _____.

ಭಾಗ-B
(ಬರವಣಿಗೆ ಕೌಶಲ್ಯ)

V. ಈ ಕೆಳಗೆ ಕೊಟ್ಟಿರುವ ಚಿತ್ರವನ್ನು ಗಮನಿಸಿ, ಆರು ಪದಗಳನ್ನು ಬರೆಯಿರಿ.

6X1/2=3M



1. _____ 3. _____ 5. _____
2. _____ 4. _____ 6. _____

VI. ಈ ಕೆಳಗೆ ಕೊಟ್ಟಿರುವ ಯಾವುದಾದರೂ ಒಂದು ವಿಷಯವನ್ನು ಕುರಿತು, ಮೂರು ವಾಕ್ಯಗಳನ್ನು ಬರೆಯಿರಿ. 1X3=3M

ಬೆಂಗಳೂರು ಅಥವಾ ನನ್ನ ಪ್ರೀತಿಯ ಗೆಲೆಯ

VII. ಈ ಕೆಳಗೆ ಕೊಟ್ಟಿರುವ ಬಿಟ್ಟ ಸ್ಥಳಗಳಲ್ಲಿ ಕನ್ನಡ ಅಂಕಿಗಳನ್ನು ಪೂರ್ಣಗೊಳಿಸಿರಿ.

2X1=2M

• ೧, _____ ೨, _____ ೩, _____ ೪, _____ ೫, _____ ೬, _____ ೭, _____ ೮, _____ ೯, _____

- ೨೧, ೨೨, _____, ೨೪, ೨೫, _____, ೨೭, _____, _____, ೩೦

(ಪಠ್ಯಗಳ ಅಧ್ಯಯನ)

VIII. ಈ ಕೆಳಗೆ ಕೊಟ್ಟಿರುವ ಪ್ರಶ್ನೆಗಳಿಗೆ ಒಂದು ವಾಕ್ಯದಲ್ಲಿ ಉತ್ತರಿಸಿರಿ.

5x1=5M

1. ಮಗು ಯಾವ ಹಕ್ಕಿಯನ್ನು ಕರೆಯುತ್ತಿದೆ?

ಉ: _____

2. ಅವ್ಯ ಎಲ್ಲಿಗೆ ಹೋಗಿಹಳು?

ಉ: _____

3. ಯಾರು ಯಾರು ಒಳ್ಳೆಯ ಗೆಳೆಯರಾಗಿದ್ದರು?

ಉ: _____

4. ನಮ್ಮ ರಾಜ್ಯದ ರಾಜಧಾನಿ ಯಾವುದು?

ಉ: _____

5. ಕೆಂಪೇಗೌಡರು ಗೋಪುರವನ್ನು ಏಕೆ ಕಟ್ಟಿಸಿದರು?

ಉ: _____

IX. ಈ ಕೆಳಗೆ ಕೊಟ್ಟಿರುವ ಈ ಮಾತನ್ನು ಯಾರು- ಯಾರಿಗೆ ಹೇಳಿದರು?

1x2=2M

1. "ನಾವಿಬ್ಬರೂ ಸಮಾನರು ಅಲ್ಲವೇ? "

• ಯಾರು ಹೇಳಿದರು? _____

• ಯಾರಿಗೆ ಹೇಳಿದರು? _____

Class/Sec: II/ _____

Max. Marks: 30

Sub: Hindi(II Language)

Duration: 1.30 min

Name : _____

Roll No. : _____

Date : _____

Set-A

Invigilator's Sign. : _____

General Instructions:

- 1) सभी प्रश्नों को हल करना अनिवार्य है।
- 2) कुल प्रश्न संख्या 9 है।

प्रश्न। पठित गद्यांश को पढ़कर सही उत्तर लिखो -

5X1=5

मीठू नाम का तोता पीपल के पेड़ पर रहता था। एक बार उड़ते - उड़ते उसे आम का पेड़ दिखाई दिया। जिस पर बहुत सारे आम थे। आम के पेड़ पर कौरा नाम का कौआ रहता था। कौरा ने तोते को आम नहीं खाने दिया। मीठू ने कौरा से दोस्ती करने की तरकीब निकाली और एक गुब्बारा लेकर आया।

(क) मीठू किसके पेड़ पर रहता था ?

उत्तर ----- (पीपल , आम)

(ख) कौरा किसका नाम था ?

उत्तर ----- (तोते का , कौए का)

(ग) कौरा ने तोते को क्या नहीं खाने दिया ?

उत्तर ----- (आम , केला)

(घ) मीठू कौरा से दोस्ती करने के लिए क्या लेकर आया ?

उत्तर ----- (खिलौना , गुब्बारा)

(ङ) यह गद्यांश किस पाठ से लिया गया है ?

उत्तर ----- (फूल , मीठू और कौरा)

प्रश्न II) दिए गए शब्दों के समानलय वाले शब्द लिखिए-

2X1=2

क) लाते ----- ख) फूली -----

प्रश्न III) दिए गए शब्दों के सही विलोम शब्द चुनकर लिखिए -

2X1=2

1) छोटा X _____ (घर / बड़ा)

2) लड़का X _____ (लड़की / नीचे)

प्रश्न IV नीचे दिए गए प्रश्नों के उत्तर एक शब्द में दीजिये-

3X1=3

क) पका आम देखकर मीठू ने क्या सोचा ?

उत्तर

ख) भौंरे कहाँ गान सुनाते हैं ?

उत्तर-----

ग) साँवरी का मनपसंद खाना क्या था ?

उत्तर-----

प्रश्न V नीचे दिए गए प्रश्नों के उत्तर एक-दो वाक्य में दीजिये

3x2=6

क) खुली हवा में भागना -दौड़ना क्यों जरूरी है ?

उत्तर-----

ख) माला कैसे बनती है ?

उत्तर-----

ग) मीठू गुब्बारा लेकर क्यों आया होगा ?

उत्तर-----

प्रश्न VI) वर्ग पहेली में से ढूँढ कर कोई तीन पक्षियों के नाम लिखिए - 4X1=4

तो	च	मै	ना
ता	कौ	स	ला
ब	आ	म	ब
ल	चि	ड़ि	या

1) _____

2) -----

3) _____

4) -----

प्रश्न VII) संज्ञा शब्दों को छाँट कर लिखिए -

2X1=2

(हम , राधा , कौआ , मुझे , गिलास , आम , आप)

1) _____ 3) _____

2) _____ 4) _____

प्रश्न VIII) दिए गए विषय पर तीन वाक्य का अनुच्छेद लिखो -

3x1=3

मेरा प्रिय मित्र

प्रश्न IX नीचे दिए गए चित्र को देख कर तीन वाक्यों में वर्णन करें-

3x1=3





Jindal Vidya Mandir, JSW Hill Side Township

Periodic Test-I (2025-26)

Set A

Class: II / Sec: ____

Sub: Mathematics

Name: _____

Invigilator's Signature: _____

Duration: 1hr 30min

Max Marks: 30

Roll no: _____

Date: _____

General Instructions:

- This question paper contains 8 main questions in 3 pages.
- All questions are compulsory.

Section A

I) Choose the correct option and write the answer in the blanks. 4X1M=4M

1) The face value of 0 in 20 is _____.

- a) 1 b) 2 c) 0 d) 9

2) 79 lies between _____ and _____.

- a) 70, 71 b) 80, 81 c) 78, 80 d) 75, 76

3) In the given subtraction statement $14 - 5 = 9$, _____ is minuend.

- a) 14 b) 5 c) 9 d) 0

4) Sum of 40 and 10 is _____.

- a) 50 b) 4 c) 30 d) None of the given

II) Use $>$, $<$ or $=$ sign to compare.

3X1M= 3M

1) $22+33$ _____ 55

2) 49 _____ 47

3) 8 ones _____ 8 tens

III) Fill in the blanks.

3X1M=3M

1) $10 + 4 =$ _____ $+ 10$

2) $24 + 1 =$ _____

3) $74 +$ _____ $= 74$

IV) Write T for true and F for false statement.

3X1M=3M

- 1) $16 + 4 = 20$. _____
- 2) 5 tens is lesser than 5 ones. _____
- 3) The winner of a race got the 2nd position. _____

V) Circle the 3rd, 5th and last picture from the left.

2X1M=2M



Section B

VI) Do as directed.

4X2M=8M

1) Write the number names.

- a) 90 = _____
- b) 67 = _____

2) Here is a score list of story-telling competition of Modern High School. Arrange the CCA houses in descending order based on their scores.

Ganga = 51 , Yamuna = 87 , Saraswati = 65 Narmada = 50

Answer = _____

3) The sum of 2 odd numbers will be always an _____ number.
Verify with an example.

_____ + _____ = _____

4) Arrange in column and add.
24 and 19

	T	O
+		

VII) Solve.

2X2M=4M

a) T O

4 6

+ 1 9

--

b) T O

7 5

- 2 4

--

VIII) There are 47 students in a school bus. If 8 more students have boarded the bus, 3M

a) How many students are there in the bus ?

Ans: _____

b) Write the answer in expanded form.

Expanded form = _____



Jindal Vidya Mandir, JSW Hill Side Township
Periodic Test-I (2025-26)

Set- A

Class: II/ Sec: _____

Max Marks: 30

Sub: EVS

Duration: 1.30 Hrs

Name: _____

Roll No: _____

Invigilator's Signature: _____

Date: _____

General Instructions:

- This question paper is printed in 4 pages and 23 questions.
- It consists of two sections A and B. Section A has objective type questions and section B has subjective type questions.
- All the questions are compulsory.

Section-A

I. Choose the correct word from the box to fill in the blanks.

5X1=5M

straight	digests	first aid	standing	share
----------	---------	-----------	----------	-------

1. The stomach _____ food.
2. We should stand _____.
3. The basic medical help given to an injured person before the doctor comes is called _____.
4. Family members _____ work and responsibility.
5. Mosquitoes breed in _____ water.

II. Give any two examples of each of the following. 5X1=5M

- 6. Outdoor games- _____, _____
- 7. Activities to keep body fit- _____, _____
- 8. Road sign- _____, _____
- 9. Neighbourhood places _____, _____
- 10. Places of worship- _____, _____

III. Match the following. 5X1=5M

- | | |
|------------------|-----------------|
| 11. pumps blood | a. chemist |
| 12. joint family | b. greengrocer |
| 13. medicine | c. firefighter |
| 14. market | d. many members |
| 15. fire station | e. heart |

Section-B

IV. Answer the following questions in one sentence. 4X1=4M

16. How do limbs help us?

17. Where should you cross a road?

18. Where do doctors and nurses work?

19. What is a family?

V. Answer the following questions.

3X2=6M

20. Write any two good eating habits.

21. Write any two safety rules to be followed while riding a bicycle.

22. What is a single- parent family?

23. Draw, name and colour any two road sign.

2X2.5= 5M

<hr/>	<hr/>
-------	-------