

JINDAL VIDYA MANDIR, JSW HILL SIDE TOWNSHIP

Periodic Test-I (2025-2026)

Class: VII
Subject: English

Set-A

Max. Marks: 40
Duration: 1 hr 30 mins

General Instructions:

- The question paper consists of 3 pages and 4 total questions.
- It is divided into three sections Reading (section A), Writing & Grammar (section B) & Literature (section C).
- All questions are compulsory. Mention correct serial numbers of the questions.
- Write neatly and legibly in the answer sheet.

SECTION-A (READING)

I. A. Read the passage and answer the questions that follow: (10M)

Happiness is like the sun; it is often hidden by the clouds of thoughts, worries and desires. We have to scatter and dissolve them to experience happiness. You don't have to create happiness. All you have to do is calm your mind, because when there is inner calm and inner peace, there is happiness. Happiness is not something far away and unattainable. Happiness does not depend on circumstances, objects or events. It is an inseparable part of our consciousness, of our essence, but hidden deep within, by our thoughts, desires and worries. The mind is always in a constant race from one thought to another, from one worry to another. It constantly moves from one object or task to another, never standing still. This restlessness hides the happiness that is within you. It is like a choppy sea that hides the bottom. When the sea gets calm, you can see the bottom. In the same way, when the mind gets quiet, you sense the happiness that is within you.

You cannot see a treasure at the bottom of a stormy and muddy lake although it is there. However, when the wind stops, the water becomes still and the mud sinks, you can see the treasure. The treasure is there, whether you see it or not. So is happiness. It is always here, only hidden by thoughts, desires and worries.

You can experience more and more happiness in your life. Only your thoughts stand in the way of experiencing it. Next time you feel happy, stop for a moment and watch the state of your mind. You will be surprised to discover that it is calm, and there are almost no

thoughts in your mind. Since the mind is not accustomed to stay in this peaceful state for long, it soon becomes active again, and the sense of happiness disappears.

1. What is common between happiness and the sun? **2M**
2. How can we enjoy moments of happiness in our life? **2M**
3. How does the restlessness of our mind come in the way of our happiness? **2M**
4. How can we detect the treasure at the bottom of a stormy and mud lake? **2M**
5. The word _____ in para 1 is the synonym of 'disperse'. **½M**
6. The word _____ in para 1 means the same as 'one and the same'. **½M**
7. The word 'hidden' in para 2 is an antonym of _____. **½M**
(a) transparent (b) evident (c) obvious (d) visible
8. Which of the following words in para 3 is a synonym of 'habituated'? **½M**
(a) surprised (b) adapted (c) accustomed (d) peaceful

SECTION- B (WRITING)

II. A. Write an Email expressing your appreciation to your friend who has won the chess competition in not more than 50-70 words. **(1x5=5)**

II. B. You are Karan/ Kirti of L.M. Memorial Public School, Dwarka. Your school has adopted a village as a social responsibility. Students are being taken to teach the children of that village on a regular basis. Write a report, for your school magazine, on the various other programmes organized there in 100 – 120 words. **(1x5=5)**

SECTION-C (GRAMMAR)

III.A. Rewrite these sentences by changing the gender of the nouns denoting people and animals. **(2X1=2)**

1. The king asked the men to decorate the court.
2. My nephew had fun chasing the big red hen on our farm.

III.B. Identify the function of the underlined noun phrases in these sentences. Write S for subject, DO for direct object, IO for indirect object of the preposition. **(2x1=2)**

1. The shopping centre is overcrowded during the festivals .
2. Somebody entered the garage through the broken window.

III.C. Fill in the blanks by using the adjectives forms of verbs in the brackets.

1. It was a _____ (differ) experience listening to rock music.

(4x½=2)

2. I walked into the room taking small, _____ (hesitate) steps.

3. Sahil is quite _____ (ignore) about the events in his city.

4. My mother is quite _____ (create) in her way of laying the table.

III.D. Complete these sentences by using many or much.

(4x½=2)

1. I do not have _____ pain in my right knee today.

2. My mother has cavities in _____ teeth.

3. _____ shopkeeper has announced the mid-season sale.

4. There is _____ poverty in the rural parts of India.

SECTION D- (LITERATURE)

IV. A. Read the extract and answer the questions that follow:

(4X1=4)

When everybody stays at home and reads a book,

The rebel goes to the meeting.

When everybody says, Yes please,

The rebel says, No thank you.

When everybody says, No thank you,

The rebel says, Yes please.

It is very good that we have rebels.

You may not find it very good to be one.

1. What does the rebel do when everyone stays at home to read a book?

2. How does the rebel respond when everyone says, "Yes please"?

3. What does the rebel say when everyone says, "No thank you"?

4. Why does the poet say it's good to have rebels?

IV. B. Answer the following questions in about 20-30 words.

(4x2=8)

1. On getting Gopu Mama's Chappals, the music teacher tried not to look too happy. Why?

2. "He likes to tease and play". Who is teasing whom? How?

3. How did Gopal get inside the palace to see the king after he had bought the fish?

4. Did the wise men win the reward? If not, Why not?



Jindal Vidya Mandir, JSW Hill Side Township
Periodic Test- I (2025-26)

Class: VII

Set - A

Max.Marks: 40

Subject: Hindi (II Language)

Duration: 1 Hour 30 min

सामान्य निर्देश:

- निम्नलिखित निर्देशों को बहुत सावधानी से पढ़ते हुए उनका दृढ़ता से पालन कीजिए।
- इस प्रश्न पत्र में कुल 11 प्रश्न हैं। सभी प्रश्नों के उत्तर देना अनिवार्य हैं।
- इस प्रश्न पत्र में दो खंड हैं, खंड- क तथा ख।
- खंड 'क' में उपप्रश्नों सहित बहुविकल्पी / वस्तुपरक प्रश्न पूछे गए हैं।
- प्रश्नों में दिए गए शब्द सीमा का विशेष ध्यान दें और प्रश्न संख्या स्पष्ट रूप से लिखें-

खंड 'क'

I. निम्नलिखित अपठित गद्यांश को पढ़कर प्रश्नों के नीचे दिए गए विकल्पों से सही विकल्प चुनकर लिखिए-

गांधीजी ने दक्षिण अफ्रीका में प्रवासी भारतीयों को मानव-मात्र की समानता और स्वतंत्रता के प्रति जागरूक बनाने का प्रयत्न किया। इसी के साथ उन्होंने भारतीयों के नैतिक पक्ष को जगाने और सुसंस्कृत बनाने के प्रयत्न भी किए। गांधी जी ने ऐसा क्यों किया? इसलिए कि वे मानव-मानव के बीच काले-गोरे या ऊँच-नीच का भेद ही मिटाना प्रयाप्त नहीं समझते थे, वरन उनके बीच एक मानवीय स्वभाविक स्नेह और हार्दिक सहयोग का संबंध भी स्थापित करना चाहते थे। इसके बाद जब वे भारत आए, तब उन्होंने इस प्रयोग को एक बड़ा और व्यापक रूप दिया विदेशी शासन के अन्याय-अनीति के विरोध में उन्होंने जितना बड़ा सामूहिक प्रतिरोध संगठित किया, उसकी मिसाल संसार के इतिहास में अन्यत्र नहीं मिलती। पर इसमें उन्होंने सबसे बड़ा ध्यान इस बात का रखा कि इस प्रतिरोध में कहीं भी कटुता, प्रतिशोध की भावना अथवा कोई भी ऐसी अनैतिक बात न हो जिसके लिए विश्व-मंच पर भारत का माथा नीचा हो। ऐसा गांधी जी ने इसलिए किया क्योंकि वे मानते थे कि बंधुत्व, मैत्री, सद्भावना, स्नेह-सौहार्द आदि गुण मानवता रूप टहनी के ऐसे पुष्प हैं जो सर्वदा सुगंधित रहते हैं।

बहुविकल्पीय प्रश्न-

3×1= 3

(क) अफ्रीका में प्रवासी भारतीयों के पीड़ित होने का क्या कारण था ?

- | | |
|--|--|
| (i) निर्धनता धनिकता पर आधारित भेदभाव | (ii) रंग-भेद और सामाजिक स्तर से संबंधित भेदभाव |
| (iii) धार्मिक भिन्नता पर आश्रित भेदभाव | (iv) विदेशी होने से उत्पन्न मन-मुटाव |

(ख) गांधी जी अफ्रीकावासियों और भारतीय प्रवासियों के मध्य क्या स्थापित करना चाहते थे ?

- | | |
|-------------------------------------|--------------------------------|
| (i) सहज प्रेम एवं सहयोग की भावना | (ii) पारिवारिक अपनत्व की भावना |
| (iii) अहिंसा एवं सत्य के प्रति लगाव | (iv) विश्वबंधुत्व की भावना |

(ग) भारत में गांधीजी का विदेशी शासन का प्रतिरोध किस पर आधारित था ?

- | | |
|---------------------------------|---------------------------|
| (i) संगठन की भावना पर | (ii) नैतिक मान्यताओं पर |
| (iii) राष्ट्रियता के विचारों पर | (iv) शांति की सद्भावना पर |

लघूत्तरीय प्रश्न-

2×2= 4

(घ) गांधी जी ने ऐसा क्यों कहा कि 'टहनी के ऐसे पुष्प हैं जो सर्वदा सुगंधित रहते हैं' ?

(ङ) गांधीजी ने दक्षिण अफ्रीका में प्रवासी भारतीयों को समानता और स्वतंत्रता के प्रति जागरूक बनाने के प्रयत्न क्यों किए ?

(P.T.O)

II. निम्नलिखित भाषा, लिपि और व्याकरण पर आधारित वस्तुनिष्ठ प्रश्नों के सही विकल्प चुनकर लिखिए— 2×1=2

1. भाषा के शुद्ध रूप का ज्ञान होता है—

(क) लिखित भाषा द्वारा (ख) मौखिक भाषा द्वारा (ग) व्याकरण द्वारा (घ) बोली द्वारा

2. हिंदी भाषा की उत्पत्ति किस भाषा से हुई ?

(क) अंग्रेजी (ख) फ्रेंच (ग) उर्दू (घ) संस्कृत

III. निम्नलिखित तद्भव- तत्सम पर आधारित वस्तुनिष्ठ प्रश्नों के सही विकल्प चुनकर लिखिए— 2×1=2

3. नीचे दिए गए विकल्पों में से तत्सम शब्द का चयन कीजिए ?

(क) पड़ोसी (ख) कर्म (ग) आम (घ) काम

4. 'अश्रु' शब्द का तद्भव रूप क्या है ?

(क) आँसू (ख) आँख (ग) आसूँ (घ) आंसू

IV. निम्नलिखित वर्ण विचार पर आधारित प्रश्नों के उत्तर दीजिए- 2×1=2

5. 'पंचांग' शब्द का वर्ण विच्छेद कीजिए।

6. संयुक्त व्यंजन कौन से होते हैं लिखिए।

V. निम्नलिखित समास पर आधारित प्रश्नों के उत्तर दीजिए- 2×1=2

7. 'त्रिफला' समस्तपद कौन-सा समास भेद है ?

8. 'विद्यालय' समस्तपद का विग्रह क्या होगा ?

VI. निम्नलिखित वर्ण विचार व शब्द भंडार पर आधारित प्रश्नों के उत्तर दीजिए- 4×1=4

9. 'अनुकूल' शब्द का विपरीतार्थक शब्द लिखिए।

10. 'इच्छा' शब्द के दो पर्यायवाची शब्द लिखिए।

11. 'कमल' शब्द के दो पर्यायवाची शब्द लिखिए।

12. 'उत्तर' शब्द के दो अनेकार्थक शब्द लिखिए।

खंड 'ख'

VII. निम्नलिखित प्रश्नों का उत्तर (30 से 35) शब्दों में लिखिए- 2×2=4

1. सिंधु और ब्रह्मपुत्र की क्या विशेषताएँ बताई गई हैं ?

2. पहली कठपुतली की बात दूसरी कठपुतलियों को क्यों अच्छी नहीं लगी ?

VIII. निम्नलिखित प्रश्नों का उत्तर (30 से 35) शब्दों में लिखिए- 2×2=4

1. यह लेख 1947 में लिखा गया था। तब से हिमालय से निकलनेवाली नदियों में क्या-क्या बदलाव आए हैं ?

2. किसकी बात सुनकर मिठाईवाला भावुक हो गया था? उसने इन व्यवसायों को अपनाने का क्या कारण बताया ?

IX. निम्नलिखित प्रश्नों में से कोई एक प्रश्न का उत्तर (40 से 50) शब्दों में लिखिए- 1×3=3

1. मिठाईवाले में वे कौन से गुण थे जिनकी वजह से बच्चे तो बच्चे, बड़े भी उसकी ओर खींचे चले आते थे ?

2. विजय बाबू एक ग्राहक थे और मुरलीवाला एक विक्रेता। दोनों अपने-अपने पक्ष के समर्थन में क्या तर्क पेश करते हैं ?

X. अपने चाचा को अपने जन्मदिन समारोह में शामिल होने और आपके लिए एक अच्छा और उपयोगी उपहार लाने के लिए आमंत्रित करते हुए एक पत्र लिखें। 1×5=5

XI. निम्नलिखित विषय पर दिए गए संकेत बिंदुओं के आधार पर 100 से 120 शब्दों में एक अनुच्छेद लिखिए- 1×5=5

➤ पुस्तकें हमारी सच्ची मित्र
संकेत बिंदु-

- पुस्तकों का महत्त्व
- ज्ञान एवं मनोरंजन का भंडार
- सच्चा मनुष्य बनने में सहायक



Jindal Vidya Mandir, JSW Hill Side Township

Periodic Test- I (2025-26)

Class:VII

SET- A

Max.Marks:40

Subject:Kannada (II Language)

Duration:1:30min

ಸೂಚನೆಗಳು:

- ಈ ಪ್ರಶ್ನೆಪತ್ರಿಕೆಯು A ಮತ್ತು B ಎಂಬ ಎರಡು ಭಾಗ ಮತ್ತು ಎ ಬಿ ಸಿ ಡಿ ಎಂಬ 4 ವಿಭಾಗಗಳನ್ನು ಒಳಗೊಂಡಿರುತ್ತದೆ.
- ಪ್ರಶ್ನೆಪತ್ರಿಕೆಯಲ್ಲಿ ಒಟ್ಟು 11 ಮುಖ್ಯ ಪ್ರಶ್ನೆಗಳು ಮತ್ತು 4 ಪುಟಗಳನ್ನು ಒಳಗೊಂಡಿರುತ್ತವೆ.
- ವಿಭಾಗ ಎ ನಲ್ಲಿ ನಾಲ್ಕು ಮುಖ್ಯ ಪ್ರಶ್ನೆಗಳು ನಾಲ್ಕು ಬಹುಆಯ್ಕೆ ಉಪ ಪ್ರಶ್ನೆಗಳು ಮತ್ತು ಬರವಣಿಗೆ ಆರು ಪ್ರಶ್ನೆಗಳಿರುತ್ತವೆ
- ಭಾಗ ಎ ಅನ್ವಯಿಕ ವ್ಯಾಕರಣದಲ್ಲಿ 5 ಬಹು ಆಯ್ಕೆಯ ಪ್ರಶ್ನೆಗಳು 3 ಬರವಣಿಗೆ ಪ್ರಶ್ನೆಗಳು ಮತ್ತು ಪಠ್ಯಪೂರಕದ 2 ಬಹು ಆಯ್ಕೆ ಪ್ರಶ್ನೆಗಳು ಉತ್ತರಿಸಬೇಕು.
- ಭಾಗ ಬಿ ಬರವಣಿಗೆ ಕೌಶಲ್ಯ ವಿಭಾಗ C ಎಲ್ಲಾ ಪ್ರಶ್ನೆಗಳಿಗೆ ಉತ್ತರಿಸಬೇಕು.
- ಭಾಗ ಬಿ ಪಠ್ಯಗಳ ಅಧ್ಯಯನ ವಿಭಾಗ D ಯಲ್ಲಿನ 8 ರಿಂದ 11 ಪ್ರಶ್ನೆಗಳಿಗೆ ಅಲ್ಲಿ ಕೊಟ್ಟಿರುವ ಸೂಚನೆಯಂತೆ ಉತ್ತರಿಸಬೇಕು
- ಪ್ರತಿಯೊಂದು ಪ್ರಶ್ನೆಗಳ ಸೂಚನೆಯನ್ನು ಸರಿಯಾಗಿ ಓದಿಕೊಂಡು ಉತ್ತರಿಸಿರಿ.
- ಪ್ರಶ್ನೆ ಮತ್ತು ಉಪ ಪ್ರಶ್ನೆಗಳ ಸಂಖ್ಯೆಯನ್ನು ತಪ್ಪಿಲ್ಲದೆ ಬರೆಯಿರಿ. ಬರವಣಿಗೆ ಶುದ್ಧವಾಗಿರಲಿ.

ಭಾಗ A -20 ಅಂಕಗಳು	ವಾಚನ ಮತ್ತು ಗ್ರಹಿಕಾ ಕೌಶಲ್ಯ	10 ಅಂಕಗಳು
	ಅನ್ವಯಿಕ ವ್ಯಾಕರಣ	8 ಅಂಕಗಳು
	ಬಹು ಆಯ್ಕೆ ಪ್ರಶ್ನೆ ಪಠ್ಯಗಳ ಅಧ್ಯಯನ	2 ಅಂಕಗಳು
ಭಾಗ B -20 ಅಂಕಗಳು	ಬರವಣಿಗೆ ಕೌಶಲ್ಯ	8 ಅಂಕಗಳು
	ಪಠ್ಯಗಳ ಅಧ್ಯಯನ	12 ಅಂಕಗಳು
	ಒಟ್ಟು ಅಂಕಗಳು	40 ಅಂಕಗಳು

PART - A (20 ಅಂಕಗಳು) SECTION - A (ವಾಚನ ಮತ್ತು ಗ್ರಹಿಕಾ ಕೌಶಲ್ಯ 10 ಅಂಕಗಳು)

I. ಈ ಕೆಳಗಿನ ಪಠ್ಯೇತರ ಗದ್ಯಭಾಗವನ್ನು ಓದಿ, ಕೊಟ್ಟಿರುವ ಪ್ರಶ್ನೆಗಳಿಗೆ ಸರಿಯಾದ ಉತ್ತರವನ್ನು ಆರಿಸಿ ಬರೆಯಿರಿ.

4x1=4

ಶಂಕರಪ್ಪ ಎಂಬ ವ್ಯಕ್ತಿಗೆ ರಾಮ್ ಮತ್ತು ಶ್ಯಾಮ್ ಎಂಬ ಇಬ್ಬರು(2) ಮಕ್ಕಳು, ಇಬ್ಬರು ಮಕ್ಕಳಿಗೂ ಎಲ್ಲಾ ವಿಷಯಗಳನ್ನು

ಅಜಗಜಾಂತರ ವ್ಯತ್ಯಾಸವಿತ್ತು .ರಾಮ್ ತುಂಬಾ ಬುದ್ಧಿವಂತ. ಇವನೊಬ್ಬ ಪುಸ್ತಕದ ಹುಳುವಾಗಿದ್ದ ಓದುವುದನ್ನು ಬಿಟ್ಟರೆ ಬೇರೆಯಾವ ಚಟುವಟಿಕೆಗಳಲ್ಲಿ ಇವನು ಭಾಗವಹಿಸುತ್ತಿರಲಿಲ್ಲ. ಆದರೂ ಎಲ್ಲರೂ ಅವನನ್ನು ಹೊಗಳುತ್ತಾರೆ ಆದರೆ ಶ್ಯಾಮ್ ಶಾಲೆ, ಓದು, ಇವುಗಳಲ್ಲಿ ಆಸಕ್ತಿ ಇರಲಿಲ್ಲ. ಆದರೂ ಬೇರಲ್ಲಾ ಕೆಲಸಕಾರ್ಯಗಳಲ್ಲಿ ಶಾಲೆಯ ಇತರ ಚಟುವಟಿಕೆಗಳಲ್ಲಿ ಇವನೇ ಮುಂದಿರುತ್ತಿದ್ದ. ಇದರಿಂದ ಕಂಗಾಲಾಗಿದ್ದ ತಂದೆ-ತಾಯಿಗಳು ಬುದ್ಧಿಮಾತು ಹೇಳುತ್ತಿದ್ದರು. ಕೂಡಲೇ ಅಲ್ಲಿಂದ ಆತ ಓಡುತ್ತಿದ್ದ ಇವನಿಗೆ ಹೇಳಿದ ಬುದ್ಧಿಮಾತು ನೀರಿನ ಮೇಲೆ ಹೋಮ ಮಾಡಿದಂತಾಗುತ್ತದೆ. ತಮ್ಮ ಮಗನ ಜೀವನ ಎಲ್ಲಿ ಅಡವಿ ಪಾಲಾಗುವುದು, ಎಂದು ಗುಬ್ಬಿಯ ಮೇಲೆ ಬ್ರಹ್ಮಾಸ್ತ್ರ ಬಿಟ್ಟಂತೆ ಮಗನ ಮೇಲೆ ಬಲ ಪ್ರದರ್ಶನ ಮಾಡುತ್ತಿದ್ದರು. ಇದಕ್ಕಾಗಿ ಶ್ಯಾಮ್ ಎದೆಗುಂದಲಿಲ್ಲ ತನ್ನ ಮೇಲೆ ತನಗಿದ್ದ ವಿಶ್ವಾಸ ಹೋಗಲಿಲ್ಲ. ಆದರೂ ಪರೀಕ್ಷೆ ಬಂದಾಗ ಇವನ ಎದೆಯಲ್ಲಿ ಭಯ ಆವರಿಸಿತ್ತು. ಬರುಬರುತ್ತಾ ಓದಲು ಪ್ರಾರಂಭಿಸಿದ. ರಾಮ್ ಕೂಡ ಇತರ ಚಟುವಟಿಕೆಗಳಲ್ಲಿ ಭಾಗವಹಿಸಲು ನಿರ್ಧರಿಸಿದ. ಇಬ್ಬರೂ ತಮ್ಮ ಬದುಕನ್ನು ತಾವೇ ಕಟ್ಟಿಕೊಂಡು ತಂದೆತಾಯಿಗಳಿಗೆ ಆಸರೆಯಾಗಿ ನಿಂತರು. ಮಕ್ಕಳ ಏಳಿಗೆಯನ್ನು ಕಂಡು ಹಿರಿಯರು ತುಂಬಾ ಸಂತೋಷಪಟ್ಟರು.

ಪ್ರಶ್ನೆಗಳು:

1. ಶಂಕೃಣ್ಣನಿಗೆ -----ಮಕ್ಕಳು,

(I) 5 (ii) 4 (iii) 3 (iv) 2

2.----- ಬುದ್ಧಿವಂತ

(I) ಭೀಮ (ii) ರಾಮ (iii) ಲಕ್ಷ್ಮಣ (iv) ಭರತ

3. ಗುಬ್ಬಿಯ ಮೇಲೆ ----- ಬಿಟ್ಟಂತೆ ,

(i) ಬ್ರಹ್ಮಾಸ್ತ್ರ (ii) ಅಸ್ತ್ರ (iii) ಕರವಸ್ತ್ರ (iv) ವಸ್ತ್ರ

4 ಇದಕ್ಕಾಗಿ.----- ಎದೆಗುಂದಲಿಲ್ಲ.

(i) ಶ್ಯಾಮ್ (ii) ಬಾಬು (iii) ಧಾಮ (iv) ಭಾಮ.

II. ಈ ಕೆಳಗಿನ “ವಿ. ಗಾಯತ್ರಿ ಅವರು ಬರೆದಿರುವ ಸೀನಾ ಸೆಟ್ಟರು ನಮ್ಮ ಟೀಚರು” ಎಂಬ ಪರಿಚಿತ ಗದ್ಯ ಭಾಗವನ್ನು

ಓದಿ, ಕೆಳಗಿನ ಪ್ರಶ್ನೆಗಳಿಗೆ ಉತ್ತರಿಸಿರಿ.

3x1=3

"ಇವರು ಇವತ್ತಿನಿಂದ ನಿಮ್ಮ ಟೀಚರು. ಇವರು ನಿಮಗೆ ಏನೆಲ್ಲಾ ಕಲಿಸಿಕೊಡುತ್ತಾರೆ ನೋಡುತ್ತಾ ಇರಿ" - ಮಳೆಗಾಲ ತೀವ್ರಗೊಳ್ಳುತ್ತಿದ್ದ ಆ ದಿನ ಮಾಂಡವಿ ಹೊಸಾ ಟೀಚರನ್ನು ಮಕ್ಕಳಿಗೆ ಪರಿಚಯಿಸಿದರು. ತುಂಗಾ ಅವರನ್ನು ಸರಿಯಾಗಿ ನೋಡಿದಳು. ಮೊದಲನೆಯದಾಗಿ, ಆತ ವೇಷಭೂಷಣದಿಂದ ಟೀಚರಂತೆ ಕಾಣುತ್ತಿರಲಿಲ್ಲ. ತುಂಬಾ ಹಳೆಯದಾದ ಪಂಚೆಯೊಂದನ್ನು ಸೊಂಟಕ್ಕೆ ಸುತ್ತಿ ಮೇಲಕ್ಕೆ ಎತ್ತಿ ಕಟ್ಟಿದ್ದರು. ಒಗ್ಗದ ಚೌಕುಳಿಯ ಅಂಗಿ, ಅದಕ್ಕಿಂತ ಹಳೆಯ ಟವಲಿನಿಂದ ತಲೆಗೆ ಲಪ್ಪಟೆ ಸುತ್ತಿಕೊಂಡಿದ್ದರು. ಅವರು ಪಂಚೆ ಸುತ್ತಿರುವ ರೀತಿ ಅಭ್ಯಾಸವಿಲ್ಲದ್ದೆಂದು ಎಷ್ಟು ಚೆನ್ನಾಗಿ ಗೊತ್ತಾಗುತ್ತಿತ್ತೆಂದರೆ, ಚಡ್ಡಿಗೆ ದೊರೆತ ಪ್ರಾಮುಖ್ಯ ಪಂಚೆಗೆ ಸಿಗದೆ ಅದು ತುಂಬಾ ಅಮುಖ್ಯನಂತೆ ಮುದುರಿ ಕುಳಿತಿತ್ತು. ಮಕ್ಕಳಿಗೆಲ್ಲಾ "ಇವರೆಂತಾ ಟೀಚರಪ್ಪಾ" ಎಂದು ನಿರಾಸೆಯೂ, ಕುತೂಹಲವೂ ಆಗಿತ್ತು.

ಪ್ರಶ್ನೆಗಳು:-

1. ಸೀನಾ ಸೆಟ್ಟರು ನಮ್ಮ ಟೀಚರು ಗದ್ಯ ಭಾಗದ ಲೇಖಕಿಯ ಹೆಸರೇನು?

2. ಮಾಂಡವಿ ಟೀಚರು ಯಾರನ್ನು ಪರಿಚಯಿಸಿದರು?

3. ಯಾರಿಗೆ ಕುತೂಹಲವು ಆಗಿತ್ತು?

III. ಈ ಕೆಳಗಿನ “ಪಂಜೆ ಮಂಗೇಶ್ ರಾವ್ ಅವರು ರಚಿಸಿರುವ ಹುತ್ತರಿ ಹಾಡು” ಪರಿಚಿತ ಪದ್ಯ ಭಾಗವನ್ನು ಓದಿ, ಕೆಳಗೆ ಕೊಟ್ಟಿರುವ ಪ್ರಶ್ನೆಗಳಿಗೆ ಉತ್ತರಿಸಿರಿ.

3x1=3

ಎಲ್ಲಿ ಭೂರಮೆ ದೇವ ಸನ್ನಿಧಿ ಬಯಸಿ ಬಿಮ್ಮನೆ ಬಂದಳೋ?

ಎಲ್ಲಿ ಮೋಹನ ಗಿರಿಯ ಬೆರಗಿನ ರೂಪಿನಿಂದಲಿ ನಿಂದಳೋ?

ಎಲ್ಲಿ ಮುಗಿಲಲಿ ಮಿಂಚಿನೋಲ್ ಕಾವೇರಿ ಹೊಳೆ ಹೊಳೆ ಹೊಳೆವಳೋ?

ಎಲ್ಲಿ ನೆಲವನು ತಣಿಸಿ ಜನಮನ ಹೊಲದ ಕಳೆಕಳೆ ಕಳೆವಳೋ?

ಅಲ್ಲೆ ಆ ಕಡೆ ನೋಡಲಾ! ಅಲ್ಲೆ ಕೊಡಗರ ನಾಡಲಾ ಅಲ್ಲೆ ಕೊಡವರ ಬೀಡಲಾ!

ಪ್ರಶ್ನೆಗಳು:-

1. ಹುತ್ತರಿ ಹಾಡು ಪದ್ಯದ ಕವಿಯ ಹೆಸರೇನು?
2. ಏನನ್ನು ತಣಿಸಿ ಜನಮನ ಹೊಲದ ಕಳೆವಳು?
3. ಅಲ್ಲೇ ಇರುವ ಬೀಡು ಯಾವುದು?

IV . ಈ ಕೆಳಗಿನ ಪ್ರತಿಯೊಂದು ಪ್ರಶ್ನೆಗೆ ನಾಲ್ಕು ಉತ್ತರಗಳನ್ನು ಕೊಡಲಾಗಿದೆ. ಅವುಗಳಲ್ಲಿ ಸರಿಯಾದ ಪದವನ್ನು ಆರಿಸಿ ಬರೆಯಿರಿ.

8×1=8

A.ವಸ್ತುನಿಷ್ಠ ಪ್ರಶ್ನೆಗಳು:-

1. ಸೀತಾ :ನಾಮಪದ ::ನೀನು:----
(i) ರೂಢನಾಮ (ii) ಅಂಕಿತನಾಮ (iii) ಸರ್ವನಾಮ (iv) ಅನ್ವರ್ಥನಾಮ.
2. ಮಕ್ಕಳಿಗಾಗಿ ರಚಿತವಾದ ಹಾಡುವ ಪ್ರಾಸಯುಕ್ತ ಪದಗಳು -----ಪದಗಳು
(i) ಶಿಶು (ii) ಹಾಡ್ಕತೆ (iii) ಯಕ್ಷಗಾನ (iv) ಬಯಲಾಟ.
3. ಈ ಕೆಳಗಿನ ವಾಕ್ಯವನ್ನು ಓದಿ ಸೂಕ್ತವಾದ ಲೇಖನ ಚಿಹ್ನೆಯನ್ನು ಗುರುತಿಸಿ ಬರೆಯಿರಿ.
ಯಾರು ಬಂದರು ಯಾವಾಗ ಬಂದರು -----ಸರ್ವನಾಮ,
(i) ನಾಮಪದ (ii) ಪ್ರಶ್ನಾರ್ಥಕ (iii) ಲೇಖನ ಚಿಹ್ನೆ (iv) ವಿಭಕ್ತಿ ಪ್ರತ್ಯಯ
4. "ಸತ್ಯ" ಈ ಪದದ ಸಮನಾರ್ಥಕ ಪದ -----
(i) ನಾನು (ii) ಅವರು (iii) ಅದು (iv) ನಿಜ
5. "ಮದ್ದು" ಈ ಪದದ ಅರ್ಥ -----
(i) ಔಷಧ (ii) ಅಡುಗೆ (iii) ತರಕಾರಿ (iv) ಮೊಟ್ಟೆ

B. ಈ ಕೆಳಗಿನ ಪ್ರಶ್ನೆಗಳಿಗೆ ಸೂಚನೆಯಂತೆ ಉತ್ತರಿಸಿರಿ.

6. ಈ ಪದವನ್ನು ಸ್ವಂತ ವಾಕ್ಯದಲ್ಲಿ ಬರೆಯಿರಿ.
"ಕರಿಣ"
7. ಈ ವಾಕ್ಯದಲ್ಲಿರುವ ತಪ್ಪನ್ನು ಸರಿಪಡಿಸಿ ಪುನಃ ವಾಕ್ಯ ಬರೆಯಿರಿ.
ಅಕ್ಕಿ ಹಕ್ಕಿಯನ್ನು ತಿನ್ನುತ್ತದೆ.
8. ಈ ಕೆಳಗೆ ಆವರಣದಲ್ಲಿ ಕೊಟ್ಟಿರುವ ಪದಗಳಲ್ಲಿ ಬೇಸಾಯಕ್ಕೆ ಸಂಬಂಧಿಸಿದ ಪದಗಳನ್ನು ಪ್ರತ್ಯೇಕ ಪಟ್ಟಿ ಮಾಡಿ ಬರೆಯಿರಿ.
(ಗದ್ದೆ, ಬೆಂಚು, ಸಸಿ, ಕಪ್ಪುಹಲಗೆ, ನಾಟಿ, ಪುಸ್ತಕ, ಜಮೀನು, ಪೈರು,)

V. ಈ ಕೆಳಗೆ ಕೊಟ್ಟಿರುವ ಪಠ್ಯಪೂರಕ ಭಾಗದ ಪ್ರಶ್ನೆಗಳನ್ನು ಓದಿ, ಸರಿಯಾದ ಉತ್ತರವನ್ನು ಆರಿಸಿ ಬರೆಯಿರಿ. 2x1=2

ವಸ್ತುನಿಷ್ಠಪ್ರಶ್ನೆಗಳು :-

1. ಬಸವಣ್ಣನವರು ಬೋಧಿಸಿದ ಧರ್ಮದ ಜೀವಾಳ -----
(i) ಕಾದಂಬರಿ (ii) ನಾಟಕ (iii) ಕಥೆ (iv) ದಾನದಯೆ
2. ಬಸವಣ್ಣನವರ ತಾಯಿಯ ಹೆಸರು-----
(i) ಗಾಯತ್ರಿ (ii) ಸರೋಜಾ (iii) ಮಾದಾಂಬೆ (iv) ಅಕ್ಕಮಹಾದೇವಿ

ವಿಭಾಗ: ಬ (ಬರವಣಿಗೆ ಕೌಶಲ್ಯ)

VI. "ಹೆತ್ತ ತಾಯಿ ಹೊತ್ತ ನಾಡು ಸ್ವರ್ಗಕ್ಕಿಂತಲೂ ಮಿಗಿಲು" ಈ ಗಾದೆ ಮಾತನ್ನು ವಿಸ್ತರಿಸಿ ಬರೆಯಿರಿ.
ಅಥವಾ

1X4=4

ನಿಮ್ಮ ಶಾಲೆಯಲ್ಲಿ ಆಚರಿಸಿದ "ಶಾಲಾ ವಾರ್ಷಿಕೋತ್ಸವ" ಬಗ್ಗೆ ನಿಮ್ಮ ಗೆಲೆಯ / ಗೆಲೆತಿಗೆ ಒಂದು ಪತ್ರವನ್ನು ಬರೆಯಿರಿ,

VII. ಕೆಲಗೆ ಕೊಟ್ಟಿರುವ ಯಾವುದಾದರೂ ಒಂದು ವಿಷಯ ಕುರಿತು ಪ್ರಬಂಧ ಬರೆಯಿರಿ.

1x4=4

1. ಯೋಗ ದಿನಾಚರಣೆ
2. ರೈತ
3. ಕ್ರೀಡೆಗಳ ಮಹತ್ವ

VIII. ಈ ಕೆಲಗಿನ ಪ್ರಶ್ನೆಗೆ ಂರಡು ವಾಕ್ಯಗಳಲ್ಲಿ ಉತ್ತರ ಬರೆಯಿರಿ.

2X1=2

1.ಬಸವಣ್ಣನವರ ವಚನಗಳು ಏಕೆ ಪ್ರಸಿದ್ಧವಾಗಿವೆ ?

IX.. ಈ ಕೆಲಗಿನ ಪ್ರಶ್ನೆಗಳಿಗೆ 3-4 ನಾಲ್ಕು ವಾಕ್ಯಗಳಲ್ಲಿ ಉತ್ತರ ಬರೆಯಿರಿ

1X3=3

1. ಯುವಕ ಮನೆಯ ಮುಂದೆ ಏನು ಮಾಡಿದನು? ಯುವತಿ ಕರೆದುಕೊಂಡು ಹೋಗುತ್ತೇನೆ ಎಂದಾಗ ಚುಕ್ಕಿ ಏನು ಮಾಡಿತು?

ಅಥವಾ

2. ಕಾವೇರಿ ಹೇಗೆ ಹೊಳೆಯುತ್ತಿದ್ದಾಳೆ ? ಮತ್ತು ಕೊಡಗು ಯಾವ ಗಿರಿಯಿಂದ ಯಾವ ಗಿರಿಯ ಪರ್ಯಂತ ಬೆಲೆದಿದೆ?

X.ಈ ಕೆಲಗಿನ ಪ್ರಶ್ನೆಗಳಿಗೆ ಸಂದರ್ಭ ಸಹಿತ ವಿವರಿಸಿ.

1X3=3

1 "ಹಂಗಾರ ಸೀನಸೆಟ್ಟರು ನಮ್ಮ ಟೀಚರು".

ಅಥವಾ

2. "ಸಂಪ್ರದಾಯ ಅನಿಷ್ಟ ರೂಢಿ ನಿಯಮಗಳ ನಿರ್ಜನದ ಮರುಭೂಮಿ"

XI.ಈ ಕೆಲಗಿನ ಪ್ರಶ್ನೆಗಳಿಗೆ 5-6 ವಾಕ್ಯಗಳಲ್ಲಿ ಉತ್ತರ ಬರೆಯಿರಿ.

1X4=4

1 "ಸ್ವಾತಂತ್ರ್ಯ ಸ್ವರ್ಗ" ಪದ್ಯದ ಆಶಯವನ್ನು ನಿಮ್ಮ ಮಾತುಗಳಲ್ಲಿ ಬರೆಯಿರಿ.

ಅಥವಾ

2 .ಜಿಂಕೆಯನ್ನು ನೋಡಿದ ಯುವತಿ ಏನು ಮಾಡಿದಳು? ಯುವಕ ಚುಕ್ಕಿಯ ಬಗೆಗೆ ಯುವತಿಗೆ ಏನು ಹೇಳಿದನು?



General Instructions:

- The question paper consists of 4 pages and a total of 27 questions.
- It is divided into two sections A and B. Section A is objective type questions
Section B is subjective type of questions.
- All questions are compulsory.

Section-A

I. Answer in one word or in one sentence.

[7 × 1 = 7M]

1. What is the form of energy that flows from a hotter to a colder object?
2. Algae are green in colour. Why?
3. What is the ultimate source of energy for all living organisms?
4. What type of thermometer is used for measuring body temperature?
5. Why are the radiators in cars painted black?
6. Why do we get instant energy from glucose?
7. What is the process of heat transfer without any medium?

II. Choose the correct answer for the following.

[7 × 1 = 7 M]

8. The term that is used for the mode of nutrition in yeast, mushroom and bread mould is
 - (a) autotrophic
 - (b) host
 - (c) saprophytic
 - (d) parasitic
9. One litre of water at 30°C is mixed with one litre of water at 50°C . The temperature of the mixture will be
 - (a) 80°C
 - (b) more than 50° C but less than 80°C
 - (c) 20°C
 - (d) between 30°C and 50°C

10. Which of the following statements is/are correct?

- (i) all green plants can prepare their own food.
- (ii) most animals are autotrophs.
- (iii) carbon dioxide is not required for photosynthesis.
- (iv) oxygen is liberated during photosynthesis.

Choose the correct answer from the options below.

- (a) (i) and (iv)
- (b) (ii) only
- (c) (ii) and (iii)
- (d) (i) and (ii)

11. A wooden spoon is dipped in a cup of ice cream. Its other end.

- (a) becomes cold by the process of conduction.
- (b) becomes cold by the process of convection.
- (c) becomes cold by the process of radiation.
- (d) does not become cold.

12. Which of the following statements is not true?

- (a) saprophytes are green
- (b) dodder is an example of a parasite.
- (c) heterotrophs cannot prepare their own food
- (d) pulses, and beans, are legumes.

13. Cuscuta is an example of

- a) parasite
- b) saprotroph
- c) host
- d) autotroph

14. Grass eating animals quickly, swallow the grass and store it in a part of stomach called _____

- a) gallbladder
- b) rumen
- c) lower stomach
- d) none of these

III. Complete the analogy:

[3 × 1 = 3M]

15. Carbohydrates: Glucose :: Proteins: _____

16. Human: Buccal cavity::Amoeba: _____

17. Mouth: Saliva :: _____ : Bile

IV. The question below consists of an assertion and a Reason. Use the following key to choose the appropriate answer. [2 × 1 =2M]

- a) Both assertion and reason are correct and reason is the correct explanation of the assertion.
- b) Both assertion and reason are correct, but the reason is not the correct explanation of the assertion.
- c) Assertion is correct, but the reason is incorrect.
- d) Assertion is incorrect, but the reason is correct.

18. Assertion (A):A metallic spoon heats up quickly when placed in hot soup.
Reason (R) : Metals are good conductors of heat.

19.Assertion: Water and minerals present in soil are absorbed by roots and transported to leaves.

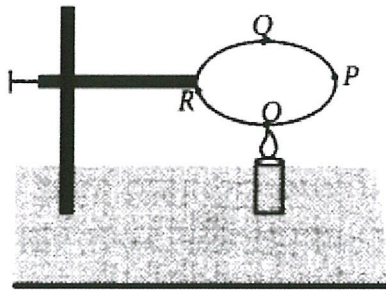
Reason (R): Carbon dioxide from air is taken through stomata present on the surface of leaves.

Section-B

V. Answer the following questions.

20. Wild animals like tiger, wolf, lion and leopard do not eat plants. [2M]
Does this mean that they can survive without plants? Provide a suitable explanation for your answer.
21. Ms.Amita got her gall bladder removed surgically as she was [2M]
diagnosed with stones in her gallbladder. After the surgery, why is she facing problems in digestion of certain food items when consumed in bulk. Suggest which kind of food items she can include in her diet ?
22. Nitrogen is an essential nutrient for plant growth. But farmers who [2M]
cultivate pulse crops like green gram, bengal gram, black gram, etc. do not apply nitrogenous fertilisers during cultivation. Why?

23. A circular metal loop is heated at point O as shown in figure.



[2M]

(i) In which direction would heat flow in the loop?

[2M]

(ii) In which order the pins at points P, Q and R fixed with the help of wax fall if points O, P, Q and R are equidistant from each other?

[1M]

24. a) For setting curd, a small amount of curd is added to warm milk.

The microbes present in the curd help in setting if the temperature of the mixture remains approximately between 35°C to 40°C. At places, where room temperature remains much below the range, setting of curd becomes difficult. Suggest a way to set curd in such a situation.

[2M]

[1M]

b) In places of hot climate it is advised that the outer walls of houses be painted white. Why?

a) Draw a neat labelled diagram of a stomata and label the

25 following parts: stomatal opening and guard cells.

b) The overall reaction for the process of photosynthesis.

26 A group of students visited a botanical garden and observed a pitcher plant. They learned that this plant traps and digests insects.

a) Why do you think the pitcher plant needs to supplement its nutrition by consuming insects?

b) What type of nutrition is exhibited by the pitcher plant?

[3M]


c) Name another type of plant that exhibits a similar mode of nutrition.

27. a) Draw a flow chart that explains about the journey of food in the human digestive system.

[3M]

b) You were blindfolded and asked to identify the drinks provided in two different glasses. You could identify drink A as lime juice and B as bitter gourd juice. How could you do it in spite of being blindfolded?

[1M]



Jindal Vidya Mandir, JSW Hill Side Township

Periodic Test-I (2025-26)

SET-A

Class: VII/ _____

Sub: Mathematics

Max Marks:40

Duration: 1Hr.30min.

General Instructions:

- This question paper consists of 3 pages VI main questions.
- It contains 28 questions.
- It consists of two sections A and B. Section A is objective type and section B is subjective type.
- All the questions are compulsory.

SECTION A

I. Choose the correct option and complete the statements.

5x1M=5M

1. Which of the following is the multiplicative identity for an integer a ?

- (a) a (b) 1 (c) 0 (d) - 1

2. The set of integers is represented by _____.

- (a) N (b) I (c) Z (d) None of these

3. $2.5 \div 1000$ is equal to

- (a) 0.025 (b) 0.0025 (c) 0.2500 (d) 25000

4. If $\frac{3}{4}$ of a number is 12, then the number is:

- (a) 9 (b) 16 (c) 18 (d) 32

5. The difference between the highest and the lowest observations in a data is its

- (a) frequency (b) width (c) range (d) mode

II. Fill in the blanks.

6x1M= 6M

6. If we multiply five positive integers and one negative integer, then the resulting integer is _____

7. When -16 is divided by _____ the quotient is 4.

8. Rama ate $\frac{3}{5}$ of the apple, The remaining part of the apple is _____.

9. The reciprocal of $\frac{2}{6}$ is _____

10. The product of $(-1) \times (-15) \times 10$ is _____.

11. In a set of observations, the observation that occurs the most often is called _____.

III. State whether the following statements are True or False.

4x1M=4M

12. All the fractions are integers. ()

13. The decimal form of $\frac{23}{4}$ is 5.75 ()

14. $4[2 + (-3)] = 4 \times 2 + 4 \times (-3)$ is called distributive property of integers. ()

15. Mean of the observations can be lesser than each of the observations. ()

IV. Match the following

5x1M=5M

Q.No.	Column A	Column B	Answer
16	$a + b = b + a$	i) 10	
17	$4 \times \frac{1}{4}$	ii) Commutative property	
18	0	iii) -a	
19	$\frac{2}{6}$ of 30	iv) Additive identity.	
20	$a \times (-1)$	v) 1	

Section B

V. Solve the following: -

4x2M= 8M

21. The length of a rectangle is 5.1 cm and its breadth is 3.5 cm. Find the area of the rectangle.

22. Rida reads $\frac{1}{4}$ part of a book in 1 hour. How much part of the book will he read in $3\frac{1}{5}$ hours?

23. Write two negative integers whose difference is 7. And how?

24. Find the mode and median of the data: 14, 18, 12, 13, 19, 12, 13, 14, 13

VI. Do as directed: -

4x3M=12M.

25. An elevator descends into a mine shaft at the rate of 6 m/min. If the descent starts from 10 m above the ground level, how long will it take to reach -350 m.

26. The table below compares the population (in hundreds) of 4 towns over two years: Study the table and answer the following questions:

Towns	A	B	C	D
2007(Year)	2900	6400	8300	4600
2009(Year)	3200	7500	9200	6300

- (a) Draw a double bar graph using appropriate scale to depict the above information.
- (b) In which town was the population growth maximum?
- (c) In which town was the population growth least?

27. Find: $3\frac{1}{8} \div 6\frac{3}{4}$ and name the fraction you got in the result.

28. The ages in years of 10 teachers of a school are: 32, 41, 28, 54, 35, 26, 23, 33, 38, 40

- (i) What is the age of the oldest teacher and the youngest teacher?
- (ii) What is the range of the ages of the teachers?
- (iii) What is the mean age of these teachers?



Jindal Vidya Mandir, JSW Hill Side Township
Periodic Test-1 (2025 - 26)
(SET – A)

Class: VII
Subject: Social Science

Marks: 40 marks
Duration: 1 hour 30 mins

General Instructions: -

- I. Question paper comprises four Sections – A, B, C and D. There are 27 main questions in the question paper.
- II. Section A – From Question 1 to 20 are 1 mark each.
- III. Section B – Question 21 to 22 are very short answer type questions, carrying 2 marks each. (Do not exceed 40 – 60 words) and Question 22 to 25 are long answers type question, carrying 3 marks each. (Do not exceed 60 – 80 words).
- IV. Section C – 26 case-based answer type questions, carrying 3 marks each.
- V. Section D – 27 is Map skilled question carrying 1 mark each.
- VI. All questions are compulsory.

(SECTION - A)

I. Choose the correct option from the following MCQs. (5x1=5M)

1. The upper layer of the earth is called _____.
(a) Crust (b) Atmosphere (c) Biosphere (d) Mantle
2. A person who prepares a map is known as _____.
(a) Geographer (b) Cartographer (c) Archaeologist (d) Geologist
3. Goods by goods is a concept of _____.
(a) Money (b) Dowery (c) Marketing (d) Barter System
4. Racial discrimination is known as _____.
(a) Inequality (b) Equality (c) Apartheid (d) Civil Right
Moment
5. Britishers have divided Indian history into _____ parts.
(a) Five Parts (b) Six Parts (c) Three Parts (d) One Part

II. Fill in the blanks: -

(5x1=5M)

6. _____ was an Arabic geographer.
7. _____ & _____ are the TWO sects of Islam.
8. _____, _____ & _____ are the interior layers of the earth.
9. The shaking of the Earth's surface due to the movement of tectonic plates or volcanic activity is known as _____.
10. Self-respect is known as _____.

III. Match the contents of column A with that of column B.

(5x1=5M)

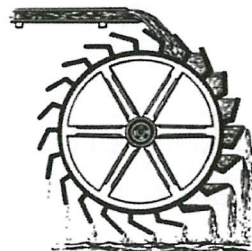
S. No	Column A	Column B
11.	The land on which we live	Article 15
12.	The interaction between biotic & abiotic	2001
13.	Father of Indian constitution	Lithosphere
14.	Mid-day meal	Ecosystem
15.	Prohibition on discrimination	Dr. B.R. Ambedkar

IV. Give title to the images: -


(5x1=5M)




16. _____



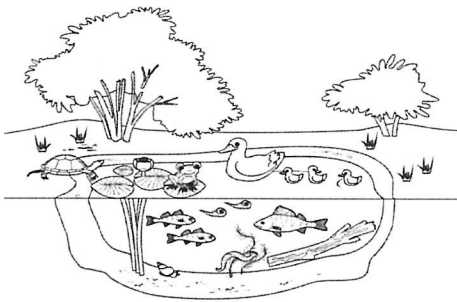
17. _____



18.



19.



20.

(SECTION- B)

V. Answer the following in 40 to 60 words. (2x2=4M)

21. On what basis people are treated unequally?
22. "The earth's crust is divided into two parts." Draw an image illustrating these TWO parts.

VI. Answer the following questions in 60 to 80 words. (3x3=9M)

23. 'We cannot reach to the interior of the earth's crust'. Give Reasons.

OR

Elucidate the rock cycle with suitable diagram.

24. How do the meaning of "Hindustan" have changed over the centuries?

OR

Describe how jatis were regulated.

25. Explain Article 15 with its sub clauses (A & B).

OR

Illustrate the incident of Roza Park.

(SECTION- C)

26. Case based question.

(3x1=3M)

You have noticed that each of these ruling dynasties was based in a specific region. At the same time, they tried to control other areas. One particularly prized area was the city of Kannauj in the Ganga valley. For centuries, rulers belonging to the Gurjara-Pratihara, Rashtrakuta and Pala dynasties fought for control over Kannauj. Because there were three “parties” in this long-drawn conflict, historians often described it as the tripartite struggle.

As we will see, rulers also tried to demonstrate their power and resources by building large temples. So, when they attacked one another’s kingdoms, they often chose to target temples, which were sometimes extremely rich. One of the best-known rulers is Sultan Mahmud of Ghazni, Afghanistan. He ruled from 997 to 1030 and extended control over parts of Central Asia, Iran and the north-western part of the subcontinent. He raided the subcontinent almost every year – his targets were wealthy temples, including that of Somnath, Gujarat. Much of the wealth Mahmud carried away was used to create a splendid capital city at Ghazni.

Answer the following questions: -

- a. List the parties who were involve in Tripartite struggle.
- b. How were rulers used to demonstrate their power?
- c. Who was Mahmud of Ghazni? How long has he rules in Central Asia?

(SECTION- D)

27. Map Skills.

(4x1=4M)

1. Who designed the map?
2. Mark Sri Lanka
3. Mark Tamil Nadu
4. Mark Indian Ocean



Jindal Vidya Mandir, JSW Hill Side Township
Periodic Test-1 (2025 - 26)
(SET – A)

Class: VII/ Sec : _____

Subject: Social Science

Name of the student _____

Roll No : _____

Medieval Map Of India

